



## PREFEITURA MUNICIPAL DE NOVA PALMEIRA - PB



### NÍVEL SUPERIOR ODONTÓLOGO

#### EXAME GRAFOTÉCNICO:

(Transcreva a frase abaixo no local indicado na sua Folha de Respostas)

**És amor, és tradição  
Avante Nova Palmeira!**

#### INSTRUÇÕES:

1. Verifique se este caderno de provas contém 40 (quarenta) questões de múltipla escolha, sendo Língua Portuguesa de 01 a 15, Raciocínio Lógico de 16 a 25 e Conhecimentos Específicos de 26 a 40.
2. Observe se há falhas ou imperfeições gráficas que causem dúvidas. Caso existam, comunique imediatamente ao Fiscal de Sala.
3. Confira seus dados na Folha de Respostas com os dados do Cartão de Inscrição.
4. Esta Prova tem duração de 4 (quatro) horas. Não é permitida a saída do candidato antes de transcorridas 2 (duas) horas completas, sob pena de eliminação.
5. É vetado, durante a prova, o intercâmbio ou empréstimo de material de qualquer natureza entre os candidatos, bem como o uso de celulares, calculadoras e/ou qualquer outro tipo de equipamento eletrônico. A fraude, ou tentativa, a indisciplina e o desrespeito às autoridades encarregadas dos trabalhos são faltas que eliminam o candidato.
6. Certifique-se de que assinou a lista de presença e que preencheu adequadamente todos os espaços da Folha de Respostas.
7. Ao finalizar a prova, entregue ao fiscal o Caderno de Prova e a Folha de Respostas, sob pena de eliminação.

# PORTUGUÊS

Leia o Texto I para responder às questões de 01 a 05.

**Texto I - Vício de adolescentes em redes sociais pode virar, oficialmente, um transtorno mental; entenda**

*Jornal o Globo*

Um grupo de cientistas está propondo que a relação nociva de alguns adolescentes com as redes sociais e a internet seja considerada, oficialmente, um novo tipo de transtorno mental.

Se a proposta ganhar impulso e for aceita, ela poderia entrar no manual de estatísticas e diagnósticos da psiquiatria, o DSM, que influencia políticas públicas no mundo todo. Segundo os proponentes, a ideia é que a condição possa também integrar a Classificação Internacional de Doenças (CID), da Organização Mundial da Saúde (OMS).

A proposta ganhou visibilidade nesta semana com a revista científica JAMA, da Associação Médica Americana, que publicou um artigo sugerindo critérios para determinar o que é o consumo exagerado de mídias sociais e a partir de que ponto ele se torna um distúrbio médico.

O trabalho foi baseado em um estudo feito com adolescentes pela Universidade de Stony Brook, em Nova York, liderado pela sanitarista Lauren Hale, que buscou avaliar o quanto o tempo excessivo de tela estava afetando a vida dos voluntários.

Inspirado em um critério gradual para avaliar gradações de alcoolismo, o pediatra Dimitri Christakis, da Universidade de Washington, propôs uma escala para avaliar a relação patológica de adolescentes com as redes de acordo com o tempo gasto nesse tipo de mídia.

Os dois cientistas afirmam que a situação é urgente. Nos Estados Unidos, onde mais de 95% dos adolescentes possuem *smartphones*, os profissionais de saúde precisam de um sistema de classificação para trabalhar com o problema. É relativamente consensual entre psicólogos e psiquiatras que os indivíduos afetados que enfrentam problemas na escola, no trabalho ou nas relações pessoais precisam de ajuda.

“Introduzir essa classificação não poderia ser mais urgente”, escrevem Hale e Christakis. “Enquanto acadêmicos se alongam em discussões abstratas sobre o assunto, mais de 6 milhões de adolescentes americanos já estão exibindo o que nós chamamos provisoriamente de consumo pesado de mídia, e uma parcela considerável deles provavelmente já sofre de transtorno de uso de mídia”.

A proposta inicial da dupla é que se definam inicialmente os limiares de tempo gasto com redes sociais e internet para identificar indivíduos com problemas. Os pesquisadores reconhecem, porém, que será preciso discutir o conteúdo consumido, porque o problema está ligado a fenômenos como o bullying e a propagação de conteúdos preconceituosos e ofensivos. “Embora o debate sobre a existência de algo como transtorno de games, vício em internet ou uso problemático de mídias sociais continue entre acadêmicos e a indústria, o tempo gasto em dispositivos envolvidos em diversas atividades está substituindo as interações do mundo real de maneira tanto sutil quanto dramática”, dizem os pesquisadores.

A OMS, por exemplo, já publicou um documento com diretrizes. A organização recomenda que o uso desses dispositivos seja evitado por crianças abaixo de 2 anos, e que para crianças de 2 a 4 anos não ultrapasse uma hora supervisionada por dia. A ideia é maximizar o tempo de interação com pessoas reais e desestimular o sedentarismo, seja pelo consumo games, desenhos animados ou qualquer atividade em tela.

Grupos de psicólogos e pediatras estão produzindo também diretrizes mais voltadas a crianças maiores e adolescentes, que têm usado também redes sociais. Para essa faixa etária acima dos 11 anos, a Academia Americana de Pediatria não estabelece um limite de tempo, por exemplo, mas pede atenção para que atividades em telas não prejudiquem sono, esportes e relações pessoais.

A Sociedade Brasileira de Pediatria segue princípios semelhantes, e recomenda que crianças menores de 13 anos não tenham seus próprios perfis em plataformas. (Esse limite já é lei nos EUA e outros países). É recomendado que entre 13 e 17 anos o uso de redes sociais seja supervisionado.

Uma recomendação mais específica é a de não deixar dispositivos dentro dos quartos das crianças e adolescentes durante a noite, e retirá-los uma a duas horas antes de dormir. Outro ponto importante é evitar acesso a telas na hora de fazer lição de casa. No mais, os pediatras pedem a pais ou responsáveis atenção para sinais problemáticos, como irritabilidade excessiva diante da restrição a *tablets* ou *smartphones*.

Em suma, o ideal é que os pais os ajudem a avaliar a qualidade do conteúdo a ser consumido na internet e evitem fontes propensas a desinformação e hostilidade. Há casos especiais que requerem mais atenção, como adolescentes com histórico de traumas ou problema de autoimagem corporal.

Fonte: VÍCIO DE ADOLESCENTES EM REDES SOCIAIS PODE VIRAR, OFICIALMENTE, UM TRANSTORNO MENTAL; ENTENDA. *Jornal O Globo*, 5 jun. 2025. Disponível em: <https://oglobo.globo.com/saude/noticia/2025/05/06/vicio-de-adolescentes-em-redes-sociais-pode- virar-oficialmente-um-transtorno-mental-entenda.ghtml>. Acesso em: 12 maio 2025. Adaptado.

---

### 1ª QUESTÃO

Considerando o que se afirma no último parágrafo do Texto I, conclui-se que:

- a) os pais devem estar atentos ao conteúdo consumido na internet pelos seus filhos, ajudando a avaliar a qualidade daquilo a que eles têm acesso.
- b) os pais devem avaliar apenas os conteúdos que trazem desinformação e hostilidade.
- c) os pais devem assumir a responsabilidade exclusiva sobre o que os seus filhos veem, sem participação do adolescente no processo de avaliação do conteúdo.
- d) há uma recomendação dos pediatras para que os pais fiquem atentos aos sinais problemáticos de seus filhos.
- e) o acesso a telas deve ser liberado sob supervisão exclusivamente para responderem às lições de casa.

### 2ª QUESTÃO

Observe o trecho do Texto I: “Outro ponto importante é evitar acesso a telas na hora de fazer lição de casa”. Sobre ele, é CORRETO afirmar que:

- a) a ausência do artigo “o” em “evitar acesso a telas” prejudica o sentido do período.
- b) o trecho “acesso a telas” está em desacordo com a norma-padrão. A escrita deveria ser “acesso à telas”.
- c) o trecho “acesso a telas” está em desacordo com a norma-padrão. A escrita adequada à norma-padrão seria “acesso as telas”.
- d) em “acesso a telas” e “lição de casa”, temos exemplos de complemento nominal e adjunto adnominal.
- e) as expressões “importante” e “de casa” desempenham papéis sintáticos distintos.

### 3ª QUESTÃO

No último parágrafo do Texto I: “**Em suma**, o ideal é que os pais os ajudem a avaliar a qualidade do conteúdo a ser consumido na internet e evitem fontes propensas à desinformação e hostilidade.”, a expressão em destaque funciona como:

- a) um elemento de coesão lexical interparágrafo.
- b) um elemento de coesão sequencial interparágrafo.
- c) um elemento de coesão referencial intraparágrafo.
- d) um elemento de coesão sequencial intraparágrafo.
- e) um elemento de coesão por elipse interparágrafo.

### 4ª QUESTÃO

Todo texto apresenta características relativas ao seu gênero e ao seu tipo textual predominante. Sobre o Texto I, analise as assertivas a seguir.

- I- É predominantemente injuntivo, dispondo de instruções sobre como o uso de telas deve ser regulado pelos pais.
- II- É extremamente subjetivo, pois se desenvolve a partir de impressões pessoais do veículo de informação.
- III- Utiliza-se de fatos científicos para subsidiar as informações sobre o assunto.
- IV- Possui informações de especialistas que tornam o texto subjetivo e inoperante.
- V- Possui informações de especialistas e dados científicos, o que dá mais credibilidade ao texto.

É CORRETO o que se afirma apenas em:

- a) II, III e IV.
- b) III e V.
- c) I e III.
- d) II e IV.
- e) I e V.

### 5ª QUESTÃO

Analisando a natureza do gênero textual apresentado no Texto I e assinale a alternativa CORRETA.

- a) Sua finalidade textual consiste em influenciar o comportamento apenas do leitor adolescente na redução do acesso a telas.
- b) É um texto com natureza multissemiótica e multimodal.
- c) É um texto do campo jornalístico, cuja principal função é a informação.
- d) Considera-se como um texto sincrético, multimodal e pertencente ao campo artístico-literário.
- e) É da esfera de circulação científica, com linguagem subjetiva, informal e inacessível ao público.

Leia os Textos II e III para responder às questões de 06 a 08.

Texto II -



Texto III -



Fonte: Disponível em: <https://www.instagram.com/p/DJMRsMnRDux/?igsh=ZnVqbGtyYWQ0ems0>. Acesso em: 12 maio 2025.

#### 6ª QUESTÃO

Os Textos II e III são multissemióticos. Sobre esta característica, é CORRETO afirmar que:

- a) pela pouca presença da escrita, os textos multissemióticos geram pouco interesse e engajamento por parte do público, que se sente pouco motivado a participar da construção do significado.
- b) os textos são compostos de elementos verbais e não-verbais que, separadamente, possuem sentidos diferentes.
- c) há sempre uma sobreposição nítida do texto verbal ao não-verbal para a produção de sentidos, visto que a comunicação humana tem por essência a escrita.
- d) os diferentes recursos usados em um texto multissemiótico são simplesmente adicionados, sem interação entre si, contribuindo, isoladamente, para a construção do sentido da mensagem.
- e) os textos são compostos de elementos verbais e não-verbais que, juntos, colaboram para a produção de sentidos.

#### 7ª QUESTÃO

Observe no Texto II os títulos “Segunda da carne” e “Carne de segunda”. Sobre o Texto II, é CORRETO afirmar que:

- a) não há mudança de sentido no uso dos títulos distintos “Segunda da carne” e “Carne de segunda”. Apenas há mudança na classificação morfológica das palavras.
- b) a palavra “segunda” é classificada no primeiro quadrinho como substantivo. Já no segundo quadrinho, como numeral, mas não provoca mudança de sentido, pois se trata da mesma carne.
- c) o fato de os quadrinhos possuírem como cenário um frigorífico não contribui para a construção de sentidos sobre o texto.
- d) no título “Carne de segunda”, há uma tentativa de propaganda positiva de um dia específico para a comercialização da carne, já que é o melhor tipo de carne que existe.
- e) a palavra “segunda” é utilizada no primeiro quadrinho como substantivo, remetendo à “segunda-feira”. Já no segundo quadrinho, como adjetivo, o que provoca mudança de sentido e o humor sobre a versatilidade da língua.

#### 8ª QUESTÃO

Sobre o Texto III, analise as assertivas.

- I- O uso das aspas em “cheia de gás” foi usado para destacar uma expressão popular no texto.
- II- As aspas sinalizam que a expressão usada não é padrão e pode ser interpretada de forma diferente do significado literal.
- III- Ao usar aspas, indica-se ao leitor que o sentido da expressão é literal.
- IV- O texto não verbal não colabora com o entendimento do uso das expressões Pessoa “cheia de gás” e Pessoa cheia de gases.

É CORRETO o que se afirma apenas em:

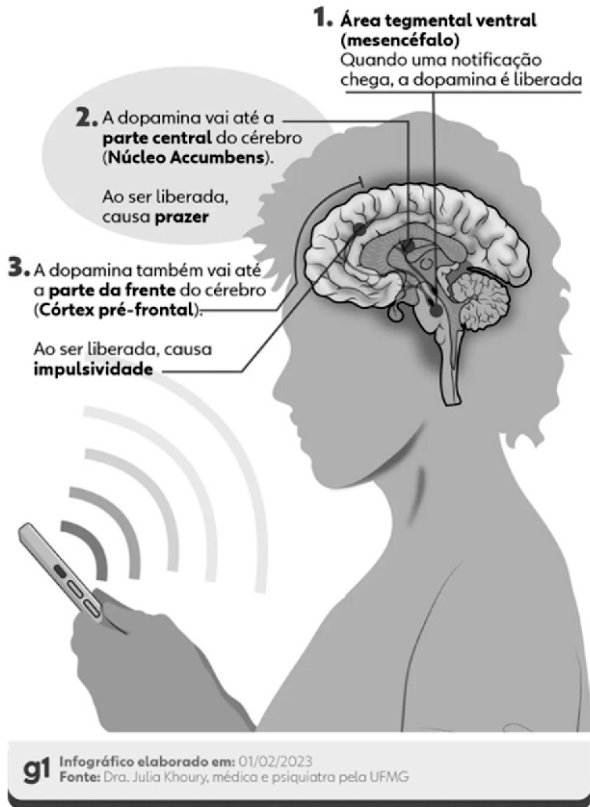
- a) I e III.
- b) I e II.
- c) II e IV.
- d) III e IV.
- e) II e III.

Leia o Texto IV para responder às questões de 09 a 12.

Texto IV – Infográfico

## Como o cérebro reage ao contato com o celular

Liberação de dopamina causa sensação de recompensa, mas afeta nosso comportamento



Fonte: Disponível em: <https://iclnoticias.com.br/atg/dependencia-digital/>. Acesso em: 12 maio 2025.

### 9ª QUESTÃO

Analise as palavras "recompensa", "reage" e "liberada" presentes no Texto IV e indique a alternativa que apresenta, CORRETA e respectivamente, os processos de formação de palavras.

- a) derivação regressiva, parassintética e parassintética.
- b) derivação sufixal, derivação sufixal e derivação prefixal.
- c) derivação prefixal, derivação regressiva e composição por justaposição.
- d) derivação regressiva, composição por aglutinação e composição por justaposição.
- e) derivação prefixal, derivação regressiva e derivação sufixal.

### 10ª QUESTÃO

Em um infográfico, os elementos visuais (recursos verbais e não verbais) formam o seu conteúdo. Considerando os elementos gráficos na composição visual do Texto IV, marque a alternativa CORRETA.

- a) As conexões são elementos gráficos relevantes no infográfico e contribuem para organizar seu conteúdo.
- b) No que se refere ao texto escrito, devem-se considerar a subjetividade, a hierarquia e a clareza de sua organização. A quantidade de texto escrito utilizada foi extremamente maior que os demais elementos gráficos.
- c) Embora relevantes, não se recomenda o uso de elementos visuais conectores das informações para fazer destaque e relação entre títulos e subtítulos.
- d) Os elementos não verbais nem sempre são complementares ao texto. Nesse caso, funcionou apenas como conteúdo divergente da publicação.
- e) A presença do celular no infográfico não tem relação com o tema tratado.

### 11ª QUESTÃO

No Texto IV, quanto à sílaba tônica das palavras “núcleo”, “córtex” e “liberada”, marque a alternativa CORRETA.

- a) Todas as palavras são paroxítonas.
- b) As palavras são, respectivamente: paroxítona, paroxítona e oxítona.
- c) Todas as palavras são proparoxítonas.
- d) As palavras são, respectivamente: oxítona, oxítona e paroxítona.
- e) As palavras são, respectivamente: proparoxítona, paroxítona e oxítona.

## 12ª QUESTÃO

Observe o trecho “Ao ser liberada, causa impulsividade”. Quanto ao recurso de coesão utilizado, marque a alternativa CORRETA.

- a) Há coesão lexical no trecho analisado.
- b) Pela ausência de elementos de coesão, o trecho ficou incoerente no texto lido.
- c) Há coesão por elipse no trecho analisado.
- d) A intencionalidade e a aceitabilidade do trecho ficaram comprometidas.
- e) A presença de conjunções e advérbios garantiu a coesão no trecho.

Para as questões de 13 a 15, leia os Textos V e VI.

Texto V



Fonte: Disponível em: [https://valoresreais.com/2021/02/15/se-eu-nao-comprar-nada-o-desconto-e-maior/#google\\_vignette](https://valoresreais.com/2021/02/15/se-eu-nao-comprar-nada-o-desconto-e-maior/#google_vignette). Acesso em: 12 maio 2025.

Texto VI



Fonte: Disponível em: <https://www.facebook.com/photo.php?fbid=1957522730959690&id=488356901209621&set=a.488361671209144>. Acesso em: 12 maio 2025.

## 13ª QUESTÃO

Quanto aos gêneros, os textos V e VI são, respectivamente, considerados como:

- a) tirinha e meme.
- b) charge e tirinha.
- c) meme e charge.
- d) meme e tirinha.
- e) charge e anúncio.

## 14ª QUESTÃO

No Texto VI, em relação aos termos da oração, o trecho “Está em promoção” possui:

- a) um sujeito composto.
- b) um sujeito inexistente.
- c) um sujeito oculto.
- d) um sujeito simples.
- e) um sujeito paciente.

## 15ª QUESTÃO

Considerando os Textos V e VI, analise as assertivas a seguir.

- I- Os textos V e VI possuem ponto de vista semelhante sobre economia em compras.
- II- Os textos V e VI são considerados multissemióticos, pois possuem texto verbal e não verbal que, juntos, produzem sentido.
- III- O texto V é considerado multissemiótico. Já o texto VI não é considerado multissemiótico.
- IV- No texto V, o conhecimento prévio do personagem pode contribuir para uma produção de sentidos ainda mais significativa.
- V- O uso do “Se” nos textos V e VI introduzem a ideia de condicionalidade.

É CORRETO o que se afirma apenas em:

- a) III, IV e V.
- b) III, e IV.
- c) I, II e V.
- d) I, II, IV e V.
- e) II, IV e V.

# RACIOCÍNIO LÓGICO

## 16ª QUESTÃO

Considere as seguintes proposições:

**P:** Todo candidato é bom em raciocínio lógico;

**Q:** Algum candidato é matemático.

Com base em **P** e **Q**, é CORRETO afirmar que:

- a) Todo matemático é bom em raciocínio lógico.
- b) Nenhum matemático é bom em raciocínio lógico.
- c) Todos os matemáticos são candidatos.
- d) Algum candidato é bom em matemática.
- e) Algum matemático é bom em raciocínio lógico.

## 17ª QUESTÃO

Considere a matriz de ordem  $3 \times 3$ , composta por números inteiros:

$$\begin{pmatrix} -2 & 6 & 6 \\ 7 & x & 7 \\ 5 & 8 & -3 \end{pmatrix}$$

Sabendo que a lógica de construção da matriz é mantida nas linhas e colunas, determine o valor de  $x$  que satisfaz essa lógica.

- a) -4.
- b) -2.
- c) 4.
- d) 2.
- e) 0.

## 18ª QUESTÃO

Considere o conjunto de nove números inteiros ordenados da seguinte forma:

$$\{a, a, b, b, b, c, d, e, f\} \text{ com } a < b < c < d < e < f.$$

Com base nesse conjunto, qual das alternativas é CORRETA?

- a) A média aritmética, a mediana e a moda são iguais.
- b) A média aritmética é menor que a moda e a mediana.
- c) A moda é menor que a mediana, que é menor que a média aritmética.
- d) A moda é igual à mediana, mas menor que a média aritmética.
- e) A média aritmética é igual à moda, e ambas são menores que a mediana.

## 19ª QUESTÃO

Considere a fórmula proposicional composta abaixo por:

$$\left[ (p \rightarrow q) \wedge \sim r \right] \vee (s \leftrightarrow t)$$

Sobre a tabela verdade completa desta fórmula, qual das alternativas indica CORRETAMENTE  $1/4$  do número de linhas que ela possui?

- a) 16.
- b) 6.
- c) 8.
- d) 32.
- e) 4.

---

**20ª QUESTÃO**

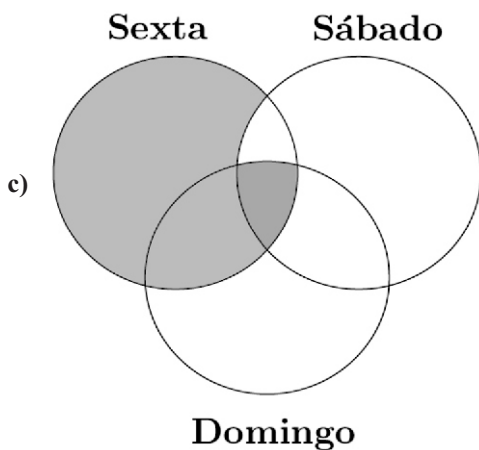
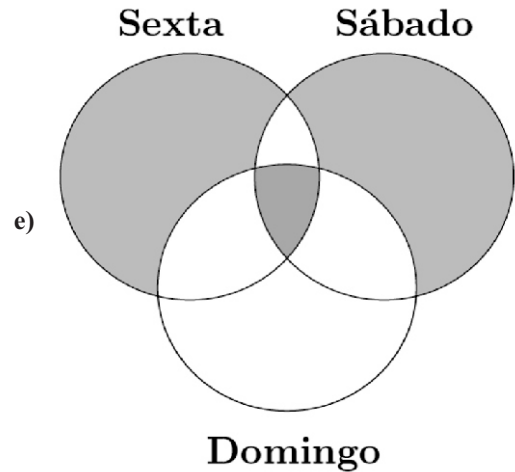
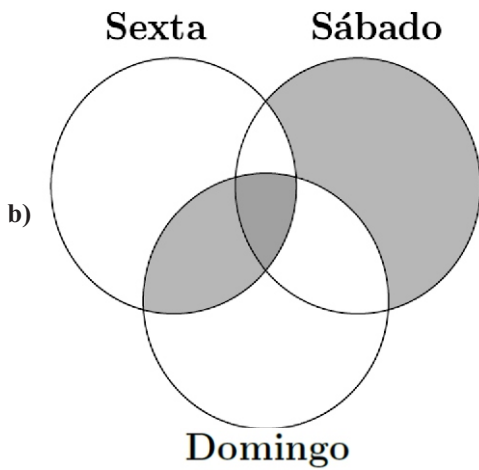
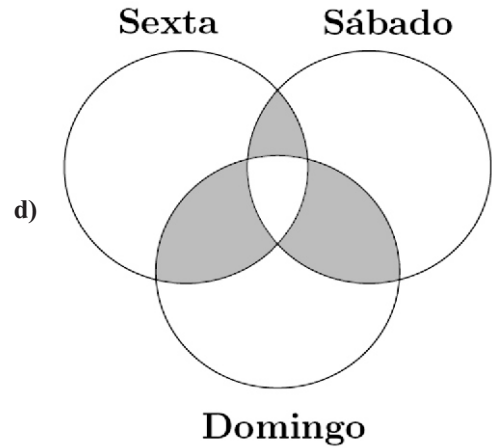
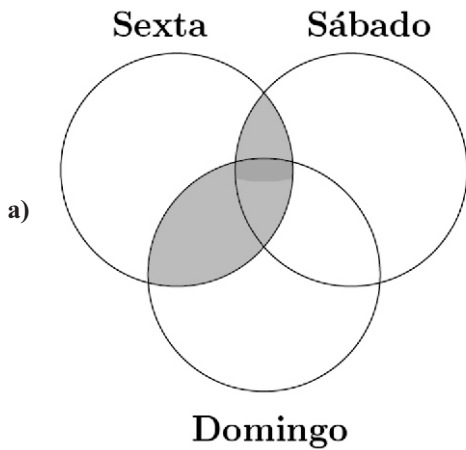
Um conjunto de candidatos participará de um concurso público cujas provas serão realizadas em três dias distintos:

- sexta-feira: prova para o ensino básico;
- sábado: prova para o ensino médio;
- domingo: prova para o ensino superior.

Três candidatos, Pedro, Paulo e Maria, farão provas em diferentes combinações de dias. Sabe-se que:

- Pedro fará prova na sexta-feira e no domingo;
- Paulo fará apenas uma prova, no mesmo dia que Pedro não fará;
- Maria fará prova em todos os dias.

Com base nessas informações, o diagrama cuja parte sombreada indica CORRETAMENTE o conjunto ao qual Pedro, Paulo e Maria pertencem é:



---

## 21ª QUESTÃO

A sequência

1, 1, 2, 3, 5, 8, 13, ...

é chamada de sequência de Fibonacci. Essa sequência tem a particularidade de que cada termo, a partir do terceiro é a soma dos dois anteriores.

Com base nos primeiros sete termos da sequência, é CORRETO afirmar:

- a) A moda da sequência é indefinida, pois todos os elementos são distintos.
- b) A média aritmética do primeiro e último termo da sequência é igual a soma da mediana e seu sucessor na sequência.
- c) A mediana equivale a quatro vezes a moda.
- d) A média aritmética da moda e mediana é igual a 2.
- e) A metade da média aritmética dos termos equivale a 2,5.

## 22ª QUESTÃO

As **Leis de Morgan** permitem transformar negações de conjunções e disjunções. Com base nesse conhecimento e nas seguintes proposições simples:

- $p$ : João é pontual.
- $q$ : Maria é responsável.
- $r$ : Anna não falta às reuniões.

Considere a proposição composta:

$$\sim [(p \wedge \sim q) \vee \sim r]$$

Qual das alternativas apresenta uma proposição logicamente equivalente à expressão acima?

- a)  $(\sim p \vee q) \wedge r$
- b)  $\sim p \wedge q \wedge r$
- c)  $(p \rightarrow q) \wedge r$
- d)  $(p \wedge q) \vee r$
- e)  $\sim p \vee \sim q \vee \sim r$

## 23ª QUESTÃO

*Modus Ponens* e *Modus Tollens* são dois principais tipos de inferência lógica válida dentro da lógica proposicional. Ambos se baseiam em proposições condicionais. O *Modus Ponens* afirma o antecedente, enquanto o *Modus Tollens* nega o conseqüente. Com base nesse conhecimento, considere os seguintes argumentos:

- I- Se o candidato fizer a prova, então ele assumirá o cargo público.  
O candidato fez a prova.  
Logo, ele assumirá o cargo público.
- II- Se a CPCON aplicar a prova, então todos os candidatos receberão o cartão de confirmação.  
Um candidato não recebeu o cartão de confirmação.  
Logo, a CPCON não aplicará a prova.

Com base na lógica proposicional, assinale a alternativa CORRETA.

- a) Ambos os argumentos são exemplos de *Modus Ponens*.
- b) O argumento I é um exemplo de *Modus Ponens*, e o argumento II é um exemplo de *Modus Tollens*.
- c) Ambos os argumentos são exemplos de *Modus Tollens*.
- d) O argumento I é inválido, e apenas o II é válido.
- e) Nenhum dos dois argumentos é logicamente válido.

## 24ª QUESTÃO

Considere as seguintes proposições simples:

- $p$ : O servidor foi nomeado.
- $q$ : O servidor tomou posse.
- $r$ : O servidor entrou em exercício.

Com base nessas proposições, avalie a seguinte sentença composta:

$$(p \rightarrow q) \wedge (q \rightarrow r)$$

Sabendo-se que o servidor **foi nomeado e entrou em exercício**, mas **não tomou posse**, assinale a alternativa CORRETA quanto ao valor lógico da proposição composta dada.

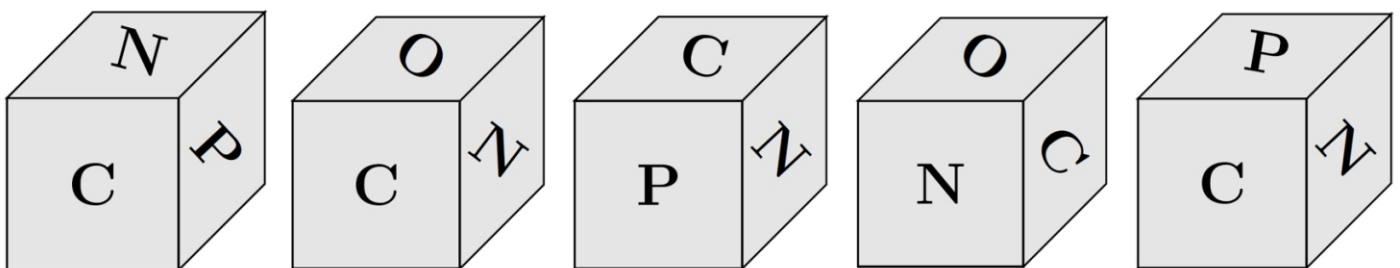
- A sentença composta é **falsa**, pois  $q$  é falso, o que invalida ambas as implicações.
- A sentença composta é **verdadeira**, pois o valor lógico de  $r$  garante a veracidade do segundo condicional.
- A sentença composta é **falsa**, pois a **primeira condicional** possui antecedente verdadeiro e consequente falso.
- A sentença composta é **verdadeira**, pois  $p \wedge r$  é verdadeiro.
- A sentença composta é **verdadeira**, pois  $(p \rightarrow q)$  é falsa, e isso não compromete a veracidade da conjunção.

## 25ª QUESTÃO

As faces de um dado foram rotuladas com as letras da palavra **CPCON**, da seguinte maneira:

- As letras **N** foram colocadas nas faces **superior** e **inferior**;
- As letras **C**, **P**, **C** e **O** foram distribuídas nas faces **frontal**, **direita**, **traseira** e **esquerda**, respectivamente.

Um candidato lançou esse dado **cinco vezes**, e as figuras abaixo mostram as posições visíveis em cada jogada.



Com base nas imagens e na construção do dado, qual foi a sequência CORRETA das letras que ficaram na **face traseira** do dado em cada jogada?

- CCPNP.
- CCPNC.
- CCONP.
- CCONN.
- CCONC.

# CONHECIMENTOS ESPECÍFICOS

## 26ª QUESTÃO

Em relação ao Código de Ética Odontológica, avalie as proposições a seguir:

- I- De acordo com o art. 3º da Resolução CFO-271, de 18 de junho de 2025, fica revogado o inciso XIII do artigo 32 do Código de Ética Odontológica, aprovado pela Resolução CFO 118/2012, que trata como infração ética a participação de cirurgiões-dentistas como proprietários, sócios, dirigentes ou consultores dos chamados cartões de descontos, assim como a comprovada associação ou referenciamento de cirurgiões-dentistas a qualquer empresa que faça publicidade de descontos sobre honorários odontológicos, planos de financiamento ou consórcio.
- II- De acordo com o Código de Processo Ético Odontológico, uma perícia não poderá ser realizada quando a prova do fato não depender de conhecimento especial, quando for desnecessária em vista de outras provas produzidas e quando a sua realização for impraticável.
- III- Constitui infração ética expedir documentos odontológicos: atestados, declarações, relatórios, pareceres técnicos, laudos periciais, auditorias ou de verificação odontolegal, sem ter praticado ato profissional que o justifique, que seja tendencioso ou que não corresponda à verdade.

É CORRETO o que se afirma em:

- a) I apenas.
- b) I, II e III.
- c) I e II apenas.
- d) II e III apenas.
- e) II apenas.

## 27ª QUESTÃO

Em relação à Política Nacional de Saúde Bucal e ao câncer de boca, avalie as proposições a seguir:

- I- A prevenção secundária envolve a detecção precoce que consiste na realização sistemática do exame físico visual e tátil da cabeça, do pescoço e da boca, sendo uma técnica essencial para a detecção precoce de desordens orais potencialmente malignas e neoplasias malignas em estágios iniciais (geralmente assintomáticas).
- II- Oferecer oportunidades de identificação de lesões bucais (busca ativa de lesões), seja em visitas domiciliares ou em momentos de campanhas específicas, são manobras previstas nas Diretrizes da Política Nacional de Saúde Bucal para a detecção precoce de lesões potencialmente malignas e o rastreio para câncer de boca.
- III- A prevenção primária inclui acompanhar casos suspeitos e com confirmação por exame histopatológico, além de estabelecer parcerias para a prevenção, diagnóstico, tratamento e recuperação do câncer bucal com Universidades e outras organizações.

É CORRETO o que se afirma apenas em:

- a) I e III.
- b) I.
- c) II e III.
- d) I e II.
- e) III.

## 28ª QUESTÃO

Em relação à anatomia dos dentes permanentes, avalie as proposições a seguir:

- I- Tomando como referência a vista frontal, a linha média divide os arcos dentais superior e inferior em hemiarcos esquerdo e direito, sendo cada hemiarco representado por um número que se segue em quadrante 1 (superior direito), quadrante 2 (superior esquerdo), quadrante 3 (inferior esquerdo) e quadrante 4 (inferior direito).
- II- A face oclusal dos dentes é dividida em seis terços, nomeados em face vestibulomesial, vestibulodistal, mesiomesial, distomediano, mesiolingual e distolingual.
- III- A partir de uma vista proximal, as bossas vestibulares estão localizadas no terço cervical e as linguais estão no terço médio dos dentes posteriores (com exceção da bossa lingual do segundo pré-molar inferior, que está no terço oclusal) e no terço cervical dos dentes anteriores.

É CORRETO o que se afirma em:

- a) I, II e III.
- b) I apenas.
- c) II e III apenas.
- d) II apenas.
- e) I e III apenas.

---

### 29ª QUESTÃO

Paciente do sexo masculino, 55 anos, tabagista há 30 anos procurou o cirurgião-dentista para avaliação de alteração no palato. Ao exame físico intra-oral observou-se extensa área esbranquiçada associada a múltiplas pápulas ligeiramente elevadas, geralmente com centros vermelhos puntiformes. Tais pápulas representam inflamação das glândulas salivares menores e seus orifícios ductais. Diante do caso clínico descrito, marque a alternativa que corresponde ao diagnóstico provável e à conduta.

- a) Estomatite Urêmica / Reavaliação do quadro renal e encaminhamento para o nefrologista.
- b) Leucoplasia Verrucosa Proliferativa / Biopsia incisional e posterior encaminhamento para exame histopatológico e posterior encaminhamento para exame histopatológico para seguimento do tratamento.
- c) Estomatite Nicotínica / Sem necessidade de tratamento devido a total regressão do quadro, porém devem ser repassadas orientações de retirada do hábito de fumar e proervação do quadro.
- d) Candidíase Hiperplásica Crônica / Coleta de material para exame microbiológico e uso de antifúngicos.
- e) Nevo Branco esponjoso / Devido à sua caracterização totalmente benigna não necessita de tratamento.

### 30ª QUESTÃO

Condição óssea assintomática descoberta em radiografias de rotina que acometem preferencialmente a porção anterior da mandíbula, em pacientes entre 30 e 50 anos, do sexo feminino e negras. Inicialmente, aparecem como áreas radiolúcidas circunscritas envolvendo o ápice de dentes vitais e com permanência do ligamento periodontal intacto. Com o tempo, as alterações adquirem um aspecto radiográfico misto, tornando-se uma área radiopaca circunscrita associada a um halo radiolúcido. Marque a alternativa CORRETA que corresponda ao caso acima:

- a) Cisto Periapical.
- b) Displasia Óssea Focal.
- c) Displasia Dentinária.
- d) Displasia Óssea Periapical.
- e) Osteomielite Esclerosante Focal (Osteíte Condensante).

### 31ª QUESTÃO

Em relação à Síndrome da Imunodeficiência Adquirida (AIDS), avalie as proposições a seguir:

- I- As lesões pelo vírus do herpes simples (HSV) é a manifestação intra-oral mais comum da infecção pelo HIV e normalmente é o sinal que leva ao diagnóstico da doença.
- II- As lesões orais mais fortemente associadas à infecção pelo HIV são Candidíase (eritematosa, pseudomembranosa e queilite angular), Leucoplasia pilosa, Sarcoma de Kaposi (SK), Linfoma Não Hodgkin (LNH) e Doenças Periodontais, como: eritema linear gengival, gengivite necrosante, periodontite necrosante.
- III- Com a introdução da terapia antirretroviral combinada (cART), a prevalência e os tipos de manifestações orais observadas nos pacientes infectados pelo HIV sofreram grandes modificações, devido à redução da carga viral e ao aumento da contagem dos linfócitos CD4+ motivada por esta terapia.

É CORRETO o que se afirma apenas em:

- a) II e III.
- b) I.
- c) I e II.
- d) II.
- e) I e III.

### 32ª QUESTÃO

Em relação aos exames laboratoriais na prática odontológica, avalie as proposições a seguir:

- I- A hemoglobina glicosilada/glicada corresponde ao nível médio de glicose no plasma correspondente às semanas 6 a 12 anteriores, tendo como valores de referência (recomendações ADA), < 5,7% para valores dentro dos padrões de normalidade, 5,7% a 6,4% para risco aumentado de diabetes melito (pré-diabetes) e 6,5% para diabetes.
- II- A hemoglobina corpuscular média (HCM) corresponde à concentração de hemoglobina por contagem de eritrócitos. Valores elevados podem representar anemias macrocíticas e valores diminuídos anemias microcíticas e normocíticas.
- III- As contagens de leucócitos referem-se ao relatório numérico do número total de leucócitos, bem como à descrição e à classificação dos componentes dos leucócitos: neutrófilos (incluindo bastões), linfócitos, monócitos, eosinófilos e basófilos.

É CORRETO o que se afirma em:

- a) I e II apenas.
- b) I apenas.
- c) I, II e III.
- d) II e III apenas.
- e) II apenas.

---

### 33ª QUESTÃO

Em relação aos princípios de interpretação radiográfica, avalie as proposições a seguir:

- I- A densidade radiográfica compreende o grau de escurecimento da imagem/estruturas vistas no filme/sensor radiográfico, enquanto o contraste radiográfico é a diferença das densidades expressas na imagem/estruturas vistas no filme/sensor radiográfico.
- II- O tamanho da área focal é um importante fator limitante na interpretação de uma imagem, em que quanto maior a área focal, melhor a nitidez e quanto menor a proximidade entre o dente e o receptor de imagem (filmes ou sensores), melhor a nitidez e menor a ampliação da imagem.
- III- A imagem panorâmica pode produzir uma discreta distorção do tamanho e forma do objeto, tornando-a pouco confiável para medições lineares ou angulares. A distorção da imagem é influenciada diretamente pela angulação do feixe de raios X, pela posição do objeto dentro da camada focal, porém fatores como a distância fonte-objeto dos raios X e o caminho do centro rotacional não demonstram ser fatores importantes.

É CORRETO o que se afirma em:

- a) I e II apenas.
- b) II apenas.
- c) I apenas.
- d) II e III apenas.
- e) I, II e III.

### 34ª QUESTÃO

Em relação aos fármacos utilizados na clínica odontológica, avalie as proposições a seguir:

- I- A amoxicilina e a ampicilina são carboxipenicilinas de atividade contra bactérias gram-negativas, que apresentam espectros de atividade muito semelhantes, porém a ampicilina exibe melhor absorção oral que a amoxicilina. A ampicilina administrada 2 vezes ao dia, equivale à mesma quantidade de amoxicilina em uma dose de 500 mg, 3 vezes ao dia.
- II- A clindamicina é recomendada para a profilaxia da endocardite em pacientes com valvopatia cardíaca específica submetidos a certos procedimentos odontológicos e com alergia significativa à penicilina.
- III- Os inibidores de betalactamase tradicionais, como o ácido clavulânico, sulbactam ou tazobactam, apresentam uma ampla e eficiente ação antibacteriana quando utilizados em sua forma isolada, em contrapartida, quando em associações fixas com penicilinas e cefalosporinas específicas apresentam uma ação antibacteriana limitada e restrita a poucos patógenos.

É CORRETO o que se afirma em:

- a) I apenas.
- b) II apenas.
- c) I e II apenas.
- d) II e III apenas.
- e) I, II e III.

### 35ª QUESTÃO

Em relação às exodontias de dentes irrompidos, avalie as proposições a seguir:

- I- Os principais instrumentais usados em exodontias de dentes irrompidos são as alavancas, auxiliando no processo de luxação e o fórceps continuando o processo por meio de expansão óssea e de rompimento dos ligamentos periodontais e finalmente a remoção do dente do alvéolo.
- II- Na exodontia do primeiro pré-molar superior, devido à bifurcação do dente em duas raízes de extremidade delgada, as forças de extração devem ser cuidadosamente controladas. Os movimentos iniciais devem ser palatinos, seguidos de movimentos vestibulares mais leves evitando a fratura da extremidade delgada da raiz vestibular. Forças rotacionais auxiliam e aceleram o processo de luxação. A remoção final do dente é feita com força de tração em direção oclusal e levemente palatina.
- III- A realização de odontossecção em dentes multirradiculares com coroas totalmente destruídas ou restaurações extensas e em dentes decíduos com o germe do dente permanente entre suas raízes ainda presentes são contraindicadas, respectivamente, devido ao risco iminente de fratura, risco de infecção e dificuldade de remoção; e de lesão ao germe do dente permanente e fratura.

É CORRETO o que se afirma em:

- a) I, II e III.
- b) II apenas.
- c) I e II apenas.
- d) II e III apenas.
- e) I apenas.

---

### 36ª QUESTÃO

Em relação aos anestésicos locais usados em Odontologia, avalie as proposições a seguir:

- I- Sobre o atendimento odontológico às gestantes, os anestésicos locais e vasoconstritores não têm efeito teratogênico sobre o feto, não sendo, portanto, contraindicados. Em contrapartida, a solução anestésica eleita deve conter vasoconstritor, prilocaína 3% com felipressina, biopressin 3%, citanest 3% e citocaína 3%.
- II- Na escolha de um anestésico para o atendimento de pacientes diabéticos deve ser considerado o efeito hiperglicemiante do vasoconstritor epinefrina. Neste sentido, para pacientes descompensados, anestésicos associados à epinefrina estão contraindicados, preferindo-se à utilização da felipressina.
- III- Nos atendimentos em odontopediatria, as principais soluções anestésicas indicadas são a bupivacaína 0,5%, associada à epinefrina 1: 200.000; à mepivacaína e à prilocaína 3% com felipressina 0,03% UI/ml, devido à duração da anestesia e à reduzida toxicidade.

É CORRETO o que se afirma em:

- a) I apenas.
- b) II apenas.
- c) I e II apenas.
- d) II e III apenas.
- e) I, II e III.

### 37ª QUESTÃO

Em relação à Política Nacional de Atenção Básica (PNAB), avalie as proposições a seguir:

- I- Considerando a pactuação na Reunião da Comissão Intergestores Tripartite de 2017 e a aprovação da Política Nacional de Atenção Básica – PNAB pela Portaria nº 2.436, de 21 de setembro de 2017, os termos Atenção Básica (AB) e Atenção Primária à Saúde (APS) são considerados equivalentes de forma a associar a ambas os princípios e as diretrizes definidas por esta portaria.
- II- Estabeleceu-se que a Atenção Básica (AB) será a principal porta de entrada e centro de comunicação da Rede de Atenção à Saúde (RAS), coordenadora do cuidado e ordenadora das ações e serviços disponibilizados na rede, sendo ofertada integralmente e gratuitamente a todas as pessoas, de acordo com suas necessidades e demandas do território, considerando os determinantes e condicionantes de saúde.
- III- São denominados como Unidade Básica de Saúde (UBS), todos os estabelecimentos de saúde que prestem ações e serviços de Atenção Básica, no âmbito do SUS e passam a ser consideradas como potenciais espaços de educação, formação de recursos humanos, pesquisa, ensino em serviço, inovação e avaliação tecnológica para a Rede de Atenção à Saúde (RAS).

É CORRETO o que se afirma em:

- a) II apenas.
- b) I apenas.
- c) I e II apenas.
- d) II e III apenas.
- e) I, II e III.

### 38ª QUESTÃO

Em relação à anatomia do periodonto, avalie as proposições a seguir:

- I- As fibras periodontais principais são agrupadas segundo sua localização e orientação em fibras transeptais, fibras da crista alveolar, fibras horizontais, fibras inter-radiculares, fibras oblíquas e as fibras apicais.
- II- O cimento desempenha funções de ancoragem e reparo, destacando a função de ancoragem, alcançada principalmente pelo cimento celular em combinação do cimento celular de fibras intrínsecas.
- III- O processo alveolar é a porção da maxila e da mandíbula que forma o alvéolo e abriga a raiz do dente composto pela placa cortical externa, osso alveolar propriamente dito (placa óssea cortical interna fina formando o alvéolo dentário), osso alveolar de suporte (osso esponjoso entre as duas placas ósseas corticais). É formado para permitir a fixação óssea das fibras do ligamento periodontal em torno da raiz e é reabsorvido quando o dente é perdido.

É CORRETO o que se afirma em:

- a) I e II apenas.
- b) I apenas.
- c) II e III apenas.
- d) I e III apenas.
- e) I, II e III.

---

### 39ª QUESTÃO

Em relação à classificação das doenças periodontais, avalie as proposições a seguir:

- I- A Gengivite Necrosante (GN), também chamada de Gengivite Ulcerativa Necrosante Aguda (GUNA) e gengivite ulcerativa necrosante (GUN), é uma infecção gengival aguda comum, geralmente causada pela presença de placa. É caracterizada por pouca associação a dor e pontos discretos de necrose e destruição tecidual.
- II- A gengivite induzida por placa, quando baseada em fatores causais e modificadores, é classificada em gengivite associada apenas ao biofilme dental bacteriano, associada à potenciais fatores modificadores de gengivite induzida por placa, como condições sistêmicas (Hormônios esteróides sexuais, Hiperglicemia, Leucemia, Tabagismo, Desnutrição) e fatores orais que aumentam o acúmulo de placa, como margens proeminentes de restauração subgengivais e hipossalivação e associada ao uso de medicamentos.
- III- As doenças periodontais necrosantes apresentam três características clínicas típicas, a necrose papilar, o sangramento gengival e a dor, representando a mais grave complicação das doenças associadas ao biofilme dentário. Reitera-se que a baixa resistência do hospedeiro à infecção é um fator significativo para o início e evolução da periodontite necrosante.

É CORRETO o que se afirma em:

- a) II e III apenas.
- b) I apenas.
- c) I e II apenas.
- d) II apenas.
- e) I, II e III.

### 40ª QUESTÃO

Em relação à abordagem conservadora de lesões cáries em dentes permanentes, avalie as proposições a seguir:

- I- As lesões de mancha branca ativa requerem abordagens não invasivas que incluem controle de dieta, desorganização do biofilme e uso de fluoretos. Contudo, de acordo com as características das lesões e/ou do paciente, a associação de métodos não invasivos com abordagens microinvasivas, como selantes ou infiltrantes resinosos pode ser indicada.
- II- Em lesões cáries ativas de cicatrículas e fissuras sem cavitação (ICDAS 1 e 2) ou com pequenas cavitações (ICDAS 3) indica-se, devido à sua anatomia particular, a abordagem microinvasiva, com o uso de selantes.
- III- As lesões cáries em superfícies lisas livres se apresentam como áreas de fácil acesso para a desorganização do biofilme. Neste sentido, mesmo as lesões cáries ativas em pacientes com maior retenção de biofilme e risco de cárie, que utilizam aparelhos ortodônticos fixos, geralmente permitem que abordagens não invasivas comuns sejam apropriadas para o controle de progressão das lesões.

É CORRETO o que se afirma em:

- a) I apenas.
- b) II apenas.
- c) I e II, apenas.
- d) II, e III apenas.
- e) I, II e III.