

Prefeitura Municipal de Seara

Processo Seletivo – 02/2025

CADERNO DE PROVA - A

Organizadora:



PROFESSOR DE GEOGRAFIA

LEIA ATENTAMENTE AS INSTRUÇÕES:

- Durante a realização da prova não será permitido ao candidato, sob pena de exclusão do Processo Seletivo:
 - a) Qualquer espécie de consulta bibliográfica, utilização de livros, manuais ou anotações;
 - b) Comunicação entre candidatos;
 - c) Uso de máquina calculadora;
 - d) Uso de relógio de qualquer tipo;
 - e) Agendas eletrônicas, telefones celulares, smartphones, MP3, notebook, palmtop, tablet, BIP, walkman, gravador ou qualquer outro receptor ou transmissor;
 - f) Uso de óculos escuros, bonés, protetores auriculares e outros acessórios similares;
 - g) Perturbar de qualquer modo a execução dos trabalhos;

- Todas as respostas do Caderno de Prova deverão ser transportadas para o Cartão Resposta;

- Não serão computadas as questões não assinaladas ou que contenham mais de uma resposta, ementa ou rasura;

- O gabarito da letra escolhida deve ser pintado de forma a completar todo o círculo. Exemplo:

Alternativas



- Para a realização da Prova Escrita, o candidato deverá utilizar caneta esferográfica de tubo transparente nas cores azul ou preta;

Não é permitido ao candidato a permanência no local de prova como também de utilizar os banheiros após a realização da prova, na entrega do caderno de provas e gabarito, o candidato deverá retirar-se do local;

- Ao terminar a prova, o candidato entregará ao fiscal o Caderno de Prova e o Cartão Resposta devidamente preenchido e assinado;
- A Prova escrita terá duração 02h30min (duas horas e trinta minutos), incluindo o tempo para preenchimento do cartão resposta. A duração mínima para realização da prova é de 30 (trinta) minutos.
- A Prova será composta por 20 questões de múltipla escolha, sendo cada questão composta de 05 alternativas (a, b, c, d, e), possuindo somente uma alternativa correta;
- Verifique se o Caderno de Provas está completo, sem falhas de impressão e se a quantidade de questões está correta;
- Você deverá transcrever as respostas das questões para o Cartão-Resposta, que será o único documento válido para a correção das provas.
- O preenchimento do Cartão Resposta é de inteira responsabilidade do candidato e não será substituído em caso de erro do candidato.

BOA PROVA!

Língua Portuguesa

Questão 01

Em uma aula de gramática, o professor apresentou algumas frases para os alunos para discutir as vozes verbais.

Assinale a alternativa que apresenta corretamente uma oração na voz passiva:

- (A) A menina pintou um belo quadro.
- (B) O aluno escreveu a redação com atenção.
- (C) O cantor apresentou uma nova canção ao público.
- (D) As provas foram corrigidas pelo professor.
- (E) O vento derrubou as folhas da árvore.

Questão 02

Em uma atividade de interpretação, a professora pediu que os alunos analisassem diferentes usos das palavras e identificassem quando estavam em sentido próprio ou em sentido figurado. Após a leitura, os estudantes deveriam julgar as seguintes afirmativas:

I. Em "O menino caiu da bicicleta e machucou o braço", a palavra *braço* está em sentido próprio, pois se refere diretamente a uma parte do corpo humano.

II. Em "Aquele político tem um braço forte no Congresso", o termo *braço* está em sentido figurado, pois designa apoio ou influência.

III. Em "O banco estava fechado durante o feriado", a palavra *banco* está em sentido figurado, pois não se refere ao objeto de sentar, mas a uma instituição financeira.

IV. Em "O banco de madeira estava quebrado", a palavra *banco* está em sentido próprio, pois nomeia diretamente o assento.

V. Em "O coração do poeta chorava de saudade", a palavra *coração* está em sentido próprio, pois designa o órgão humano responsável por bombear o sangue.

Assinale a alternativa que apresenta qual afirmativa está incorreta:

- (A) Afirmativa V.
- (B) Afirmativa IV.
- (C) Afirmativa II.
- (D) Afirmativa III.
- (E) Afirmativa I.

Raciocínio Lógico

Questão 03

Um agricultor deseja instalar um sistema de irrigação em uma horta retangular com 18 metros de comprimento e 12 metros de largura. Ele precisa saber a área exata para comprar a quantidade correta de mangueiras. Qual é a área total dessa horta em metros quadrados?

- (A) A área total da horta é de 190 m².
- (B) A área total da horta é de 144 m².
- (C) A área total da horta é de 320 m².
- (D) A área total da horta é de 256 m².
- (E) A área total da horta é de 216 m².

Questão 04

Um pedreiro está empilhando blocos em uma parede e decide aumentar o número de blocos por fileira a cada nova camada. Na primeira camada, ele usou 10 blocos; na segunda, 14; na terceira, 18, seguindo essa lógica até a 8ª camada. Quantos blocos ele usará na 8ª camada?

- (A) Ele usará 40 blocos.
- (B) Ele usará 36 blocos.
- (C) Ele usará 42 blocos.
- (D) Ele usará 38 blocos.
- (E) Ele usará 51 blocos.

Conhecimentos Gerais

Questão 05

Movimentos como a Revolta dos Malês em 1835, Diretas Já de 1983 a 1984 e tantos que hoje atuam em defesa daqueles que de alguma forma são colocados à margem da sociedade, compõem a história do povo brasileiro, destacando sua valorização e sua representatividade. Considerando essa perspectiva histórica e contemporânea, assinale a alternativa correta.

- (A) As revoltas históricas foram pacíficas e negociadas com o governo, não apresentando conflitos, o que não se compara aos violentos protestos atuais.
- (B) Os movimentos do passado tiveram repercussão histórica significativa, enquanto que os atuais são apenas a continuidade de uma luta que já se encontra desgastada no Brasil.
- (C) Os movimentos sociais dos séculos XIX e XX foram motivados exclusivamente por conflitos econômicos, o que os diferencia dos atuais que possuem exclusiva motivação política.
- (D) Os movimentos sociais contemporâneos sempre têm como foco principal as questões ambientais, independente de sua aparente bandeira, diferentemente das revoltas históricas que eram exclusivamente políticas.
- (E) Tanto os ocorridos no passado quanto os movimentos sociais contemporâneos refletem a luta por direitos, liberdade e justiça social, mostrando continuidade histórica de demandas populares no Brasil.

Questão 06

O estado de Santa Catarina é um dos lugares do Brasil onde foi constatada a presença de sítios arqueológicos consequentes da presença de grupos humanos que se instalaram na região há mais de 6 mil anos, que

efetivamente se configuraram como montes de conchas, mas que atualmente, também são encontrados diferentes tipos de sedimento, ossos de animais aquáticos e terrestres, ossos humanos e uma grande diversidade de artefatos e estruturas fabricadas, utilizadas e descartadas pelas pessoas que ocuparam estes locais. Estes sítios são chamados de:

- (A) Sambaquis.
- (B) Geoglifos.
- (C) Mitosques.
- (D) Maracatus.
- (E) Tapiris.

Informática

Questão 07

Durante a elaboração de um relatório no Microsoft Word, um servidor público precisou inserir uma tabela de dados extraída do Excel. Considerando o uso em nível de usuário dos programas do pacote Office, assinale a alternativa CORRETA.

- (A) A única forma de inserir dados do Excel no Word é colar como imagem estática, sem possibilidade de edição posterior.
- (B) O Word não permite a edição de tabelas após a inserção, limitando-se a ajustes de formatação do texto.
- (C) O Excel é compatível com o Word, mas é necessário converter a planilha em arquivo PDF antes de utilizá-la no relatório.
- (D) O pacote Office possui recursos de integração entre aplicativos distintos como o Paint e o Word, permitindo, por exemplo, que desenhos feitos no Paint sejam transformados em planilhas.
- (E) O Word permite vincular a tabela do Excel, de modo que alterações feitas na planilha sejam refletidas automaticamente no documento.

Questão 08

As ferramentas de navegação, no uso cotidiano, correspondem principalmente aos navegadores de Internet, como Chrome, Firefox, Edge ou Safari. Esses programas são a porta de entrada do usuário para a Web, permitindo acessar páginas, enviar informações, realizar transações e consumir diferentes tipos de conteúdo. Julgue as sentenças abaixo como VERDADEIRAS (V) ou FALSAS (F):

(__) O processo de navegação inicia-se quando digitamos ou clicamos em um endereço eletrônico (URL). Nesse momento, o navegador aciona mecanismos que localizam o servidor responsável pelo site por meio da resolução de nomes (DNS), estabelecem uma conexão segura quando necessário (no caso de endereços que começam com "https") e, em seguida, solicitam os recursos ao servidor, como textos, imagens, vídeos ou documentos.

(__) Os navegadores oferecem recursos que impactam diretamente a experiência do usuário: o histórico de navegação, os favoritos, os modos de privacidade e as extensões que ampliam as funções do programa. Também são responsáveis por interpretar o código que estrutura os sites, transformando linhas de instruções em interfaces visuais que podem ser compreendidas e utilizadas de forma intuitiva.

(__) A navegação moderna não se limita apenas ao acesso a páginas estáticas. Ela envolve mecanismos de busca, que ajudam a localizar informações na imensidão da rede, e ferramentas de correio eletrônico, como o Outlook ou o Gmail, que dependem da navegação para envio e recebimento de mensagens.

A sequência CORRETA é:

- (A) F, V, F.
- (B) V, F, F.
- (C) V, V, V.
- (D) V, V, F.
- (E) V, F, V.

Conhecimentos Específicos

Questão 09

O endividamento público brasileiro pode ser dividido em interno e externo, cada um com impactos distintos sobre a economia. Considerando esse contexto, analise as afirmativas a seguir:

I.O endividamento interno é contraído junto a credores nacionais, podendo afetar a política monetária e a capacidade de investimento público, já que os juros pagos competem com outros gastos do governo.

II.O endividamento externo aumenta a dependência em relação a credores internacionais, podendo gerar pressão sobre a balança de pagamentos e vulnerabilidade a variações cambiais e juros internacionais.

III.A redução do endividamento externo, mantendo o interno constante, elimina totalmente os riscos econômicos do país, incluindo crises fiscais ou monetárias.

IV.O crescimento descontrolado da dívida interna pode levar à necessidade de emissão monetária excessiva, provocando inflação, além de comprometer o orçamento público.

V.Endividamento externo e interno produzem efeitos idênticos sobre a economia, não havendo distinção entre credores nacionais e estrangeiros.

Com base nas afirmativas acima, assinale a alternativa correta:

- (A) Apenas I e II estão corretas.
- (B) Apenas III e V estão corretas.
- (C) Apenas I, II e IV estão corretas.
- (D) Apenas II, III e V estão corretas.

(E) As afirmativas I, II, III, IV e V estão corretas.

Questão 10

O serviço público municipal, enquanto componente essencial da administração pública, possui características específicas que orientam a atuação de seus servidores e a organização de seus serviços. Considerando o conjunto de atribuições do emprego público e o funcionamento do serviço público municipal, assinale a alternativa CORRETA:

- (A) A contratação de servidores municipais é realizada preferencialmente por indicação política, sendo o concurso público necessário apenas para cargos considerados de confiança, de acordo com a autonomia do município.
- (B) A descentralização administrativa no serviço público municipal implica que cada setor da prefeitura funcione de forma completamente autônoma, sem qualquer coordenação ou supervisão central, visando agilizar a prestação de serviços.
- (C) O regime jurídico do servidor público municipal é regido exclusivamente pelo Estatuto Nacional dos Servidores Públicos, que uniformiza direitos e deveres para todas as esferas do serviço público no Brasil.
- (D) O servidor público municipal, ao assumir suas funções, pode exercer atividades de interesse privado desde que não conflitem com o horário de expediente, pois a legislação municipal prioriza a liberdade individual sobre o dever funcional.
- (E) O serviço público municipal deve atender ao princípio da eficiência, garantindo que as ações da administração local promovam o interesse coletivo, sendo vedada qualquer prática que vise apenas benefícios pessoais ou grupos específicos.

Questão 11

O conceito de modo de produção, desenvolvido por Karl Marx, constitui um instrumento analítico fundamental para compreender as sociedades humanas em diferentes períodos históricos. Nesse sentido, considere as seguintes afirmações:

I.O modo de produção capitalista caracteriza-se pela propriedade privada dos meios de produção, pela produção voltada para o lucro e pela existência de uma classe trabalhadora assalariada.

II.O modo de produção escravista é marcado pela ausência de propriedade privada sobre os meios de produção e pela exploração do trabalho assalariado.

III.Nos modos de produção feudal e asiático, a economia se organiza principalmente em torno da produção agrícola e da apropriação da renda pelo senhor ou pelo Estado, mas diferem na forma de controle social e tributário sobre os camponeses.

IV.O modo de produção socialista, em sua concepção teórica marxista, busca eliminar a propriedade privada dos meios de produção e estabelecer a autogestão

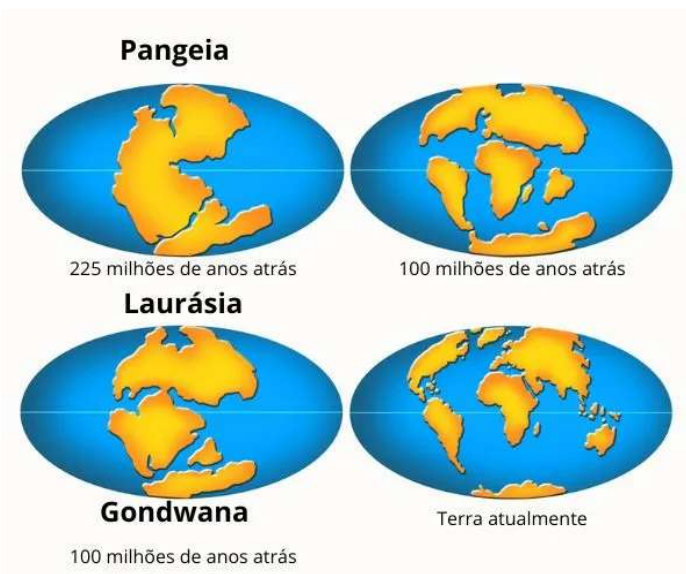
coletiva, mantendo a produção para uso e não para o lucro.

Considerando as afirmações acima, assinale a alternativa correta:

- (A) Apenas I e IV estão corretas.
- (B) Apenas II e IV estão corretas.
- (C) Apenas I, II e IV estão corretas.
- (D) Apenas I e III estão corretas.
- (E) Apenas I, III e IV estão corretas.

Questão 12

Observe a imagem abaixo:



A figura apresenta a evolução da configuração dos continentes, desde a formação do supercontinente Pangeia até a distribuição atual das massas continentais. Esse processo está diretamente relacionado à teoria da Tectônica de Placas, que explica o movimento das placas litosféricas ao longo de milhões de anos.

Considerando os processos geológicos e geográficos envolvidos nessa transformação, assinale a alternativa correta:

- (A) Os movimentos das placas tectônicas que provocaram a separação continental ocorreram exclusivamente no hemisfério Norte, mantendo o hemisfério Sul com a mesma configuração desde o Mesozóico.
- (B) O oceano Atlântico começou a se formar a partir da fragmentação de Gondwana, impulsionada pela subducção contínua entre as placas Sul-Americana e Africana.
- (C) A configuração atual dos continentes é resultado apenas de processos erosivos e sedimentares, sem influência de atividade tectônica ou vulcânica.

- (D) A deriva continental descrita por Alfred Wegener foi inicialmente rejeitada pela comunidade científica, principalmente por não apresentar um mecanismo convincente para explicar o deslocamento das massas continentais.
- (E) A separação dos continentes interrompeu totalmente o ciclo das correntes oceânicas, fazendo com que o clima global permanecesse estável desde o Mesozóico até hoje.

Questão 13

Em 2024, dados da Conferência das Nações Unidas sobre Comércio e Desenvolvimento (UNCTAD) indicaram que:

- A China manteve-se como maior parceiro comercial de diversos países da América do Sul e da África.
- A União Europeia reforçou sanções econômicas a países envolvidos em conflitos territoriais e violações ambientais, enquanto buscou acordos de transição energética com nações latino-americanas.
- O Brasil, por sua vez, aumentou exportações para a Ásia e firmou novos compromissos ambientais no âmbito da COP, além de integrar fóruns como BRICS+, G20 e acordos Mercosul-União Europeia (em negociação).

Considerando o cenário descrito e os princípios de análise da ciência geográfica, é correto afirmar que esse contexto expressa:

- (A) O fortalecimento de redes comerciais intercontinentais que articulam interesses econômicos, políticos e ambientais, revelando uma dinâmica multipolar e interdependente.
- (B) A consolidação de uma ordem geopolítica unipolar, dominada pela China, que define unilateralmente as agendas econômicas e ambientais globais.
- (C) A diminuição da importância estratégica do Brasil no cenário internacional, devido à sua posição periférica e à ausência de protagonismo em negociações multilaterais.
- (D) A formação de blocos econômicos exclusivos, nos quais apenas países do Hemisfério Norte participam de negociações comerciais e ambientais, excluindo completamente as nações emergentes.
- (E) A substituição completa da pauta de exportações brasileiras de commodities por produtos de alta tecnologia destinados aos países da União Europeia e da África.

Questão 14

Nas últimas décadas, o fenômeno da urbanização tem se intensificado globalmente, refletindo mudanças profundas na organização espacial, social e econômica das sociedades. No Brasil, por exemplo, mais de 85% da população vive atualmente em áreas urbanas, resultado

de processos históricos de industrialização, migrações internas e transformações no setor agrícola. Esse crescimento urbano acelerado, quando desordenado, influencia diretamente a qualidade de vida, a mobilidade urbana, o acesso a serviços públicos e a distribuição espacial das atividades econômicas.

Considerando os aspectos sociais, econômicos e ambientais relacionados à urbanização, assinale a alternativa CORRETA:

- (A) A urbanização se limita ao aumento da população das cidades e não interfere nas condições de habitação, mobilidade, emprego ou meio ambiente, sendo um processo apenas demográfico.
- (B) A urbanização é um fenômeno exclusivo de países industrializados e ricos, sendo pouco relevante ou inexistente em países em desenvolvimento, onde a população permanece majoritariamente rural.
- (C) O elevado grau de urbanização em um país garante automaticamente que toda a população urbana tenha acesso pleno a serviços de saúde, educação, transporte e saneamento básico.
- (D) A concentração urbana elimina as atividades agrícolas e industriais nas cidades, tornando as áreas urbanas exclusivamente residenciais e de serviços.
- (E) O crescimento urbano desordenado pode resultar em ocupações irregulares, déficit de infraestrutura, poluição ambiental e segregação socioespacial, exigindo políticas públicas integradas e planejamento urbano adequado.

Questão 15

A globalização econômica e a circulação de mercadorias criam padrões diferenciados de desenvolvimento, impactando tanto a estrutura demográfica quanto a geopolítica dos países. Considerando essas relações, analise as afirmativas:

I. Países com forte base industrial e alta densidade urbana tendem a ter menor taxa de crescimento populacional, mas maior capacidade de influência econômica e política em blocos regionais e internacionais.

II. Nações com abundância de recursos naturais estratégicos, como petróleo e minerais raros, adquirem influência geopolítica mesmo quando apresentam baixo nível de industrialização ou PIB per capita reduzido.

III. A globalização tende a homogeneizar os padrões de consumo, reduzindo as desigualdades sociais e econômicas entre países industrializados e não industrializados.

IV. A concentração de população em áreas rurais e a ausência de infraestrutura industrial garantem maior autonomia econômica e influência geopolítica aos países.

V. Países que investem simultaneamente em educação, tecnologia e infraestrutura conseguem aumentar seu poder econômico e geopolítico, mesmo em contextos de

globalização desigual.

Com base nas afirmativas acima, assinale a alternativa correta:

- (A) Apenas I e II estão corretas.
- (B) Apenas I, II e V estão corretas.
- (C) As afirmativas I, II, III, IV e V estão corretas.
- (D) Apenas I, III e IV estão corretas.
- (E) Apenas II e III estão corretas.

Questão 16

O Índice de Desenvolvimento Humano (IDH) é um indicador criado pelo Programa das Nações Unidas para o Desenvolvimento (PNUD) que visa medir o progresso de um país ou região em três dimensões essenciais: renda, educação e longevidade. Considerando suas características e aplicações, assinale a alternativa CORRETA:

- (A) Um país com elevado IDH necessariamente apresenta distribuição de renda equilibrada, baixo índice de desigualdade e acesso universal a serviços públicos de qualidade.
- (B) O IDH é um índice absoluto, no qual os valores obtidos podem ser interpretados isoladamente, sem necessidade de comparação entre regiões ou países.
- (C) O IDH é composto por três dimensões: expectativa de vida ao nascer, nível educacional (anos de estudo) e renda per capita, refletindo, de forma sintetizada, o bem-estar da população.
- (D) O IDH é um indicador exclusivamente econômico, calculado com base no Produto Interno Bruto (PIB) per capita, e não considera aspectos sociais ou de saúde da população.
- (E) Estados ou municípios com IDH elevado não apresentam problemas sociais significativos, como pobreza urbana ou déficit habitacional.

Questão 17

O Sistema Financeiro Nacional (SFN) desempenha papel central na economia brasileira, atuando na intermediação de recursos, regulação do crédito e estabilidade monetária. Considerando suas funções e componentes, analise as seguintes afirmações:

I.O Banco Central do Brasil (Bacen) é responsável exclusivamente pela emissão de moeda, não possuindo competência para regular instituições financeiras.

II.As instituições financeiras de natureza múltipla podem atuar tanto no mercado de crédito quanto no mercado de capitais, englobando bancos comerciais, de investimento e de desenvolvimento.

III.O Conselho Monetário Nacional (CMN) define diretrizes e normas da política monetária, creditícia e cambial do país, sendo composto pelo Ministro da Economia, pelo Presidente do Bacen e pelo Secretário Especial de Fazenda.

IV.As corretoras e distribuidoras de valores mobiliários

têm como função principal captar depósitos à vista e oferecer crédito à população, assim como os bancos comerciais.

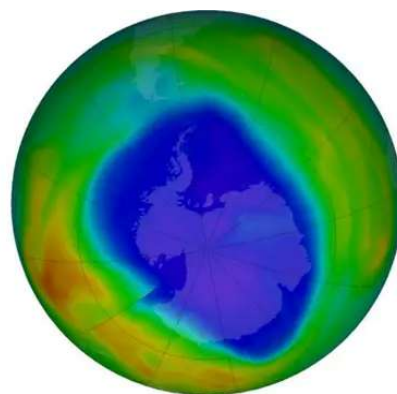
V.O Sistema Financeiro Nacional inclui instituições como bancos públicos e privados, cooperativas de crédito, bolsas de valores e órgãos normativos, com a finalidade de organizar o fluxo de recursos e garantir estabilidade econômica.

Com base nessas afirmações, assinale a alternativa correta:

- (A) Apenas I, II e IV estão corretas.
- (B) Apenas I, II e III estão corretas.
- (C) Apenas III, IV e V estão corretas.
- (D) Apenas II, III e IV estão corretas.
- (E) Apenas II, III e V estão corretas.

Questão 18

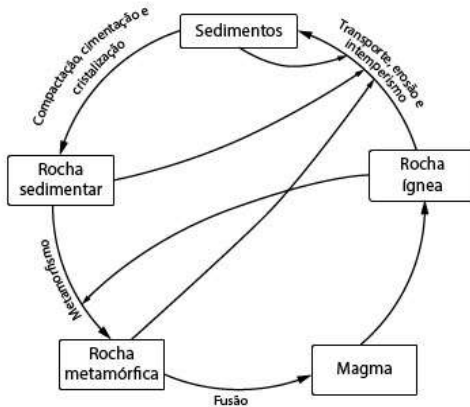
Observe a imagem abaixo:



A imagem mostra a concentração de ozônio na atmosfera sobre a Antártida, evidenciando o chamado buraco na camada de ozônio. Considerando esse fenômeno e os impactos ambientais da chuva ácida, assinale a alternativa correta:

- (A) A redução da camada de ozônio aumenta a incidência de radiação ultravioleta, afetando ecossistemas, agricultura e saúde humana, enquanto a chuva ácida, formada por óxidos de enxofre (SOx) e nitrogênio (NOx), acidifica solos, rios e lagos.
- (B) A eliminação de CFCs da atmosfera não interfere na recuperação da camada de ozônio, pois o fenômeno ocorre independentemente da ação humana.
- (C) O buraco de ozônio e a chuva ácida têm efeitos idênticos sobre o clima, aumentando a temperatura global de forma direta e uniforme.
- (D) A chuva ácida é exclusiva da região da Antártida, assim como o buraco na camada de ozônio, não afetando áreas industrializadas ou urbanas.
- (E) O buraco na camada de ozônio é causado principalmente pelo excesso de dióxido de carbono (CO₂), enquanto a chuva ácida resulta da emissão de clorofluorcarbonos (CFCs).

Questão 19



O ciclo das rochas ilustra as transformações entre rochas ígneas, sedimentares e metamórficas, impulsionadas por processos como intemperismo, sedimentação, transporte, fusão e metamorfismo. Esses processos não ocorrem isoladamente, mas interagem com fatores climáticos, características do relevo, cobertura vegetal, rede hidrográfica e dinâmicas de formação de solos.

Considerando a interdependência entre esses elementos, assinale a alternativa correta:

- (A) Em regiões tropicais úmidas, o intemperismo químico é intensificado pela elevada umidade e temperatura, favorecendo a formação de solos profundos e bem desenvolvidos, frequentemente associados a rochas sedimentares.
- (B) Em áreas de clima polar, a ausência de intemperismo físico e químico impede completamente a transformação de rochas ígneas em sedimentares.
- (C) Redes hidrográficas não influenciam no transporte e deposição de sedimentos, pois esses processos ocorrem exclusivamente por ação eólica em qualquer tipo de clima.
- (D) A cobertura vegetal densa atua como fator acelerador da erosão hídrica, pois aumenta o impacto direto das gotas de chuva sobre o solo.
- (E) O metamorfismo ocorre apenas em áreas de clima árido, onde o relevo plano facilita a pressão e o calor necessários para a transformação das rochas.

Questão 20

Com base nas transformações recentes da economia brasileira e nos fluxos econômicos globais, analise as afirmativas a seguir e marque V, para Verdadeiro, e F, para Falso:

() A redução da participação da indústria no PIB brasileiro, acompanhada do crescimento relativo do setor de serviços, caracteriza um processo de desindustrialização relativa.


() O crescimento da agropecuária no PIB brasileiro entre 2000 e 2023 está diretamente associado à expansão do agronegócio voltado à exportação de commodities, como soja, carne e milho.

() O setor de serviços no Brasil concentra atividades como comércio, transporte, turismo, tecnologia da informação e serviços financeiros, refletindo mudanças na estrutura produtiva.

() A expansão do setor agropecuário ocorreu exclusivamente pelo aumento da produção de subsistência, sem relação com o mercado externo.

Assinale a alternativa que apresenta a sequência correta:

- (A) V, V, F, F.
- (B) V, F, V, F.
- (C) F, V, V, V.
- (D) V, V, V, F.
- (E) F, V, F, F.



RASCUNHO

1		6		11		16	
2		7		12		17	
3		8		13		18	
4		9		14		19	
5		10		15		20	



BOA PROVA!