



PROFESSOR DE GEOGRAFIA

LEIA ATENTAMENTE AS INSTRUÇÕES A SEGUIR

- Os Cadernos de Prova de cada cargo possuem 4 tipos diferentes, sendo o conteúdo das questões o mesmo para todos, diferenciando-se apenas a ordem das questões e alternativas.
- Verifique acima o tipo do seu Caderno de Prova e preencha no cartão-resposta, em campo específico, o número correspondente ao tipo do seu Caderno de Prova.
- Cada questão da prova objetiva constitui-se de quatro alternativas, identificadas pelas letras A, B, C e D, das quais apenas uma é a resposta correta.
- Todas as respostas julgadas como corretas do Caderno de Prova deverão ser transportadas para o cartão-resposta, o qual será o único documento válido para a correção das provas objetivas e não será substituído em hipótese alguma.
- Faça o preenchimento do tipo de prova e da alternativa que julgar correta, conforme o exemplo a seguir: ●
- Confira se este Caderno de Prova corresponde ao cargo para o qual você se inscreveu e se o mesmo contém **20** questões, numeradas de **1 a 20**.
- Verifique no caderno de prova se faltam folhas, se a sequência de questões está correta e se há imperfeições gráficas que possam causar dúvidas. Não serão consideradas reclamações posteriores ao término da prova.
- Deixe sobre a carteira apenas documento de identificação, caneta esferográfica de tinta azul ou preta feita de material transparente e recipiente transparente com água, sem qualquer etiqueta ou rótulo.
- A interpretação das questões é parte integrante da prova, não sendo permitidas perguntas aos fiscais.
- Ao terminar sua prova, entregue o cartão-resposta devidamente **preenchido e assinado** ao fiscal de sala e retire-se imediatamente do local de aplicação das provas.

TEMPO DE PROVA


- A prova objetiva terá duração máxima de **2h30min**, incluído o tempo para preenchimento do cartão-resposta.
- O candidato somente poderá retirar-se do local de prova após 30 minutos de seu início e poderá levar o caderno de provas.
- Os 3 (três) últimos candidatos somente poderão retirar-se da sala de prova simultaneamente e devem fazê-lo após o encerramento da ata de sala.

NÃO É PERMITIDO

- Folhear o Caderno de Prova antes da autorização do fiscal.
- Qualquer tipo de comunicação entre os candidatos durante a aplicação da prova, sob qualquer forma ou alegação.
- Qualquer tipo de consulta, seja por meio de recursos didáticos, elétricos ou eletrônicos.
- Sair da sala durante a realização da prova sem o acompanhamento de um fiscal.
- Uso do banheiro após entregar seu cartão-resposta.
- A permanência de candidatos no local de realização das provas após o término e a entrega do cartão-resposta.

Conhecimentos Específicos

Questão 01



A imagem apresentada evidencia um incêndio florestal acompanhado da emissão de gases como CO₂, CH₄ e N₂O para a atmosfera. Tais eventos, cada vez mais frequentes em diversas regiões do planeta, não apenas resultam da ação antrópica, mas também retroalimentam processos de transformação ambiental em escala global.

Com base na análise da imagem e nos conhecimentos sobre mudanças ambientais globais — como aquecimento global, desmatamento, poluição atmosférica e ciclos biogeoquímicos — avalie as afirmativas a seguir:

I. Os incêndios florestais promovem a liberação massiva de gases de efeito estufa, entre eles CO₂, CH₄ e N₂O, todos com potencial para aumentar o forçamento radiativo da Terra e intensificar o aquecimento global. O N₂O, apesar de estar presente em menor concentração, possui um potencial de aquecimento mais de 250 vezes superior ao do CO₂.

II. A perda da cobertura vegetal decorrente das queimadas compromete severamente a capacidade de sequestro de carbono das florestas, agravando o balanço global de carbono e reduzindo a resiliência dos ecossistemas diante de eventos climáticos extremos, como secas prolongadas e tempestades severas.


III. O CH₄ emitido nos incêndios apresenta um tempo de residência na atmosfera muito inferior ao do CO₂, o que minimiza seu impacto sobre o efeito estufa, sendo rapidamente decomposto por processos naturais, sem consequências relevantes para o clima global.

IV. Além de contribuir para o aquecimento global, as partículas e gases liberados durante as queimadas alteram a qualidade do ar, prejudicam a saúde humana e aceleram processos de degradação do solo, intensificando fenômenos como a desertificação e a perda de fertilidade.

Assinale a alternativa correta:

- (A) Apenas as afirmativas II e IV estão corretas.
- (B) Apenas as afirmativas I, II e IV estão corretas.
- (C) As afirmativas I, II, III e IV estão corretas.
- (D) Apenas as afirmativas I, II e III estão corretas.

Questão 02



A imagem apresentada ilustra um movimento vertical de grande escala na crosta terrestre, frequentemente observado ao longo da história geológica dos continentes. Tais movimentos, conhecidos como epirogênese, desempenham papel relevante na configuração das formas do relevo e na dinâmica ambiental de vastas áreas continentais. Considerando o contexto dos processos de gênese e evolução do relevo terrestre, a análise da imagem e dos conhecimentos geográficos, avalie as proposições abaixo:

I. O processo evidenciado na imagem está relacionado à epirogênese positiva, um tipo de movimento tectônico caracterizado pelo soerguimento de grandes blocos continentais, que, ao modificar a topografia regional, pode desencadear regressão marinha e influenciar o padrão de drenagem superficial e a dinâmica dos solos.

II. Diferentemente da orogênese, que envolve movimentos horizontais, dobramentos e a formação de cadeias montanhosas em áreas de contato entre placas tectônicas, a epirogênese ocorre de maneira lenta e contínua, com movimentos verticais e raramente associada a terremotos de grande intensidade.

III. O soerguimento representado na imagem pode favorecer a erosão diferencial e a exposição de materiais geológicos mais antigos, atuando como condicionante para o desenvolvimento de diferentes tipos de paisagens, desde planaltos elevados até áreas de contato com planícies litorâneas.

IV. Embora os agentes externos (intemperismo, erosão e sedimentação) possam remodelar o relevo resultante, a gênese do processo ilustrado depende fundamentalmente das dinâmicas internas do planeta, não sendo explicada apenas pela atuação dos agentes exógenos.

Assinale a alternativa correta:

- (A) As afirmativas I, II, III e IV estão corretas.
- (B) Apenas as afirmativas II, III e IV estão corretas.
- (C) Apenas as afirmativas I, II e IV estão corretas.

(D) Apenas as afirmativas I, II e III estão corretas.

Questão 03

A respeito da evolução do pensamento geográfico desde a Antiguidade até a contemporaneidade, analise a proposição abaixo:

Ao longo do tempo, a Geografia passou por diversas reformulações epistemológicas, que refletiram mudanças no modo como o espaço era concebido, explicado e representado. Nesse sentido, identifique a alternativa que sintetiza as rupturas e permanências entre as principais correntes da Geografia desde seu surgimento até o pensamento atual.

- (A) A evolução do pensamento geográfico revela uma tensão entre permanências e rupturas, com o espaço ora concebido como cenário físico-natural (Geografia Tradicional), ora como construção social (Geografia Crítica), mantendo, contudo, a centralidade do território e da análise espacial como eixos estruturantes.
- (B) A partir da Geografia Quantitativa, no século XX, o pensamento geográfico abandonou totalmente as abordagens regionais e qualitativas, adotando exclusivamente métodos matemáticos e modelos econométricos para a explicação dos fenômenos espaciais.
- (C) A Geografia moderna, desde o século XIX, foi marcada pela substituição total das abordagens clássicas por correntes críticas e pós-modernas, rompendo com toda forma de representação cartográfica e quantitativa do espaço.
- (D) Desde a Antiguidade até a Geografia Crítica, a preocupação central da disciplina manteve-se voltada para a descrição detalhada das paisagens naturais, evidenciando a permanência da tradição corográfica nas diferentes escolas.

Questão 04

A Geografia contemporânea tem se debruçado sobre uma série de transformações socioespaciais associadas à intensificação dos fluxos econômicos, ambientais, culturais e tecnológicos. Fenômenos como a globalização, a mobilidade urbana e o debate sobre a sustentabilidade expressam dinâmicas interdependentes que moldam o espaço geográfico atual e revelam contradições entre diferentes projetos de desenvolvimento. Com base nessas temáticas, analise as afirmativas a seguir:

I.A globalização, embora marcada pela intensificação das interações espaciais e pela expansão dos fluxos de capital, informação e mercadorias, não resulta na homogeneização dos territórios, mas sim na coexistência de lógicas locais e globais, muitas vezes contraditórias.

II.A sustentabilidade tem sido apropriada por diferentes agentes sociais, desde movimentos ambientalistas até grandes corporações, o que confere ao conceito múltiplas interpretações, nem sempre compatíveis com a justiça socioambiental e os princípios de equidade

territorial.

III.A mobilidade urbana, em contextos metropolitanos periféricos, é impactada por dinâmicas socioespaciais que incluem a segregação residencial, a má distribuição de infraestrutura de transporte e a lógica centro-periferia, o que reforça desigualdades no acesso aos serviços e ao tempo urbano.

IV.A crescente integração global e a difusão de padrões urbanos universais reduziram significativamente os conflitos socioespaciais nas cidades, uma vez que os modelos de desenvolvimento se tornaram tecnicamente mais eficientes e socialmente mais inclusivos.

Assinale a alternativa correta:

- (A) Apenas as afirmativas I, III e IV estão corretas.
- (B) Apenas as afirmativas I e IV estão corretas.
- (C) Apenas as afirmativas II e IV estão corretas.
- (D) Apenas as afirmativas I, II e III estão corretas.

Questão 05



O mapa acima apresenta a distribuição dos principais tipos climáticos do Brasil, cada qual exercendo forte influência sobre os grandes conjuntos climatobotânicos e suas dinâmicas ecológicas. Considerando as inter-relações entre clima, vegetação e adaptações ambientais ao longo do território brasileiro, assinale a alternativa que apresenta uma análise adequada sobre as correspondências entre os tipos climáticos e as fitofisionomias predominantes, levando em conta aspectos estruturais e funcionais das paisagens:

- (A) A região de clima semiárido, caracterizada por baixíssimos índices pluviométricos e elevadas taxas de evaporação, apresenta como vegetação típica o cerrado, cuja morfologia inclui árvores esparsas, casca espessa e raízes profundas adaptadas ao fogo e à estação seca prolongada.
- (B) Sob influência do clima subtropical, que apresenta as menores médias térmicas anuais do país e estações bem definidas, prevalece a formação da Mata Atlântica, vegetação com elevado grau de adaptação a regimes sazonais de fogo e à fertilidade natural dos solos basaltos.
- (C) No domínio do clima equatorial, onde predominam altas temperaturas e grande regularidade de chuvas ao longo do ano, desenvolve-se uma floresta ombrófila densa, marcada pela presença de espécies perenes, árvores de grande porte e elevada diversidade biológica, além de solos frequentemente pobres em nutrientes devido à intensa lixiviação.
- (D) O clima tropical atlântico, de elevada umidade e chuvas bem distribuídas ao longo do ano, favorece o desenvolvimento da Caatinga, vegetação composta predominantemente por espécies decíduas e xerófitas, que perdem folhas para reduzir a perda de água durante os períodos secos.

Questão 06



O mapa-múndi apresentado exhibe uma divisão clássica do espaço mundial, destacando, em amarelo (acima da linha), os países desenvolvidos e, em rosa (abaixo da linha), os países subdesenvolvidos, separados por uma linha divisória. Considerando o contexto histórico da produção e organização do espaço mundial desde a Guerra Fria até a configuração da nova ordem mundial, avalie as afirmativas abaixo:

I. A divisão espacial expressa no mapa reflete o conceito clássico de "Norte desenvolvido" e "Sul subdesenvolvido", evidenciando disparidades econômicas e tecnológicas estruturais, porém desconsidera as mudanças recentes, como a ascensão de economias emergentes que desafiam tal dicotomia.

II. Durante a Guerra Fria, o mundo era polarizado em dois blocos antagônicos — capitalista e socialista —, e essa divisão não coincidia perfeitamente com a classificação de países desenvolvidos e subdesenvolvidos apresentada na imagem.

III. Na atualidade, a chamada "nova ordem mundial"

caracteriza-se pelo enfraquecimento das fronteiras ideológicas da Guerra Fria e pelo surgimento de potências econômicas no Sul Global, o que complexifica as distinções entre desenvolvido e subdesenvolvido e exige novas interpretações geopolíticas.

IV. Apesar da globalização e do crescimento econômico de alguns países do Sul, persistem marcantes desigualdades no acesso à tecnologia, saúde, educação e renda, de modo que o padrão de organização espacial mundial representado no mapa permanece inalterado desde o final do século XX.

Assinale a alternativa correta:

- (A) Apenas as afirmativas I, II e III estão corretas.
 (B) Apenas as afirmativas II, III e IV estão corretas.
 (C) As afirmativas I, II, III e IV estão corretas.
 (D) Apenas as afirmativas I, II e IV estão corretas.

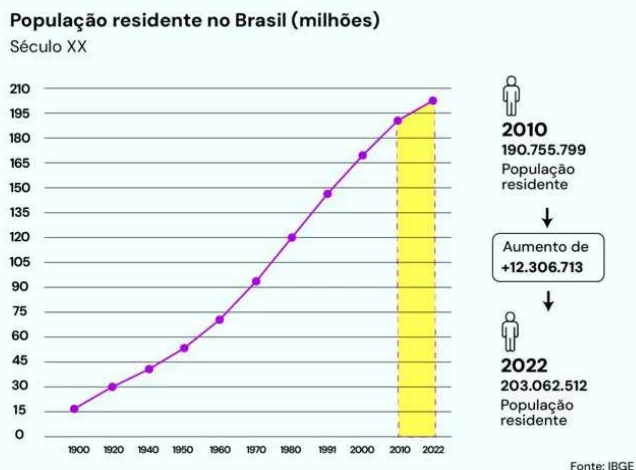
Questão 07

A Geografia, enquanto ciência do espaço, não se desenvolveu de forma linear ou homogênea, mas por meio de sucessivas reformulações teóricas que expressaram diferentes concepções sobre o mundo, o conhecimento e a relação sociedade-natureza. Tais correntes se consolidaram em contextos históricos e epistemológicos distintos, ora reforçando visões hegemônicas, ora propondo rupturas metodológicas, ontológicas e políticas. Com base nesse panorama, assinale a alternativa que apresenta uma correlação adequada entre a corrente geográfica, seu contexto teórico e sua proposta metodológica.

- (A) A Geografia Tradicional, consolidada no século XIX sob forte influência do determinismo ambiental e das ideologias coloniais europeias, priorizou o estudo dos fenômenos humanos como meras consequências de fatores naturais, estabelecendo, com base no empirismo histórico, uma abordagem dialética e crítica do espaço.
- (B) A Geografia Crítica, surgida em resposta à crise da Geografia Quantitativa, manteve a centralidade do espaço como palco de interações objetivas, excluindo as subjetividades e negando a possibilidade de múltiplas leituras do território, uma vez que sua ênfase recaía exclusivamente sobre variáveis físicas e geoeconômicas.
- (C) A Geografia Quantitativa, influenciada pela lógica formal do neopositivismo e pelas transformações tecnológicas do pós-guerra, visava à modelização do espaço e à busca por regularidades espaciais, fundamentando-se em métodos estatísticos, análises matemáticas e uma postura objetivista de neutralidade científica.

(D) A Geografia Regional, desenvolvida principalmente por meio da Escola de Berkeley e da tradição norte-americana, propôs uma ruptura com a geografia idiográfica francesa ao incorporar o marxismo como base teórica para explicar as dinâmicas regionais e a reprodução do espaço sob a lógica do capital.

Questão 08



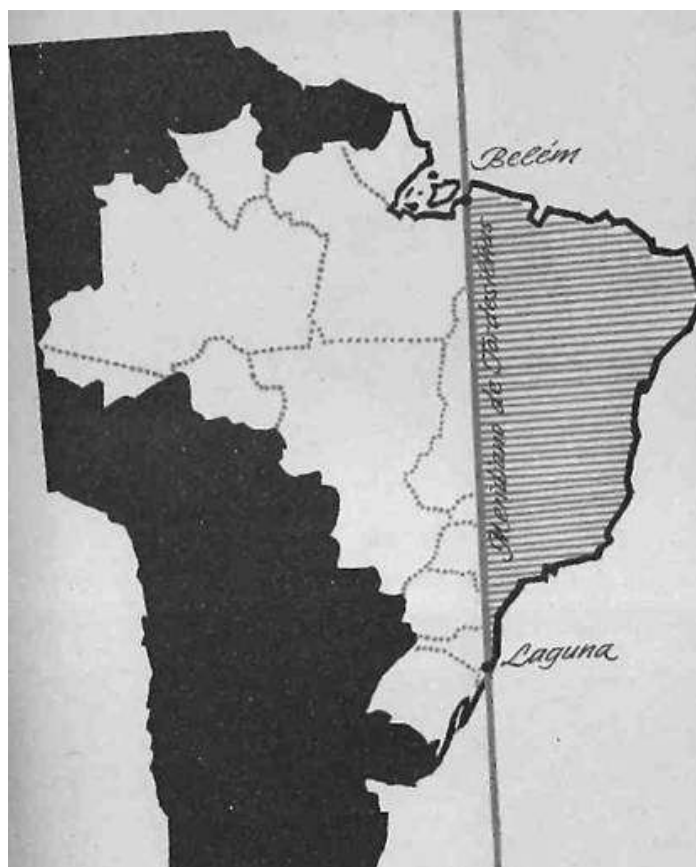
O gráfico apresentado retrata a evolução da população residente no Brasil entre 1900 e 2022. Analise as alternativas abaixo, relacionando criticamente o crescimento populacional ao longo do século XX com a formação étnica, a estrutura etária e os movimentos populacionais brasileiros:

- (A) O gráfico revela que, apesar do expressivo crescimento populacional ao longo do século XX, a participação dos grupos indígenas e afrodescendentes na formação étnica nacional permaneceu marginal, sendo que a urbanização acelerada favoreceu exclusivamente a homogeneização cultural, a redução dos movimentos migratórios internos e o rápido rejuvenescimento da população urbana.
- (B) O recente arrefecimento do crescimento populacional, visível entre 2010 e 2022, pode ser atribuído à manutenção de elevadas taxas de fecundidade nas regiões metropolitanas, ao crescimento dos fluxos migratórios internacionais de retorno (principalmente de brasileiros emigrados) e à drástica redução da expectativa de vida, fatores que reforçam o predomínio de jovens na estrutura etária e reduzem o peso relativo da população idosa.

(C) O intenso crescimento demográfico observado entre as décadas de 1940 e 1980 resultou de transformações profundas no contexto nacional: redução das taxas de mortalidade (sobretudo infantil), avanços sanitários e médicos, políticas de integração territorial e fluxos migratórios internos — como o deslocamento de nordestinos para o Sudeste e Centro-Oeste. A diversidade étnica foi ampliada pela presença de populações indígenas, afrodescendentes e sucessivas levas de imigrantes europeus, asiáticos e árabes, fenômeno que também contribuiu para a formação de grandes metrópoles multiculturais.

(D) A estrutura etária brasileira manteve-se predominantemente jovem ao longo do século XX, em virtude da ausência de políticas públicas de saúde, da baixa mobilidade populacional interna e da limitação do acesso à educação básica, o que também explica a restrita diversidade étnica observada nas regiões Norte e Centro-Oeste.

Questão 09



A imagem representa a linha de Tordesilhas, estabelecida em 1494, que separava os domínios portugueses e espanhóis na América do Sul durante o período colonial. Considerando os processos de apropriação, ocupação e valorização territorial no Brasil, analise as alternativas a seguir, relacionando a imagem à dinâmica histórica e à produção do espaço brasileiro:

- (A) O respeito rigoroso à linha de Tordesilhas garantiu, até o século XIX, a homogeneidade do espaço colonial brasileiro, assegurando que as áreas situadas a oeste da linha permanecessem sob domínio espanhol e inviabilizando a integração territorial e o desenvolvimento de atividades econômicas no interior do Brasil.
- (B) A delimitação estabelecida pela linha de Tordesilhas foi suficiente para definir as atuais fronteiras políticas do Brasil, revelando um processo de ocupação caracterizado por estabilidade territorial e ausência de conflitos entre Portugal, Espanha e populações indígenas desde o início da colonização.
- (C) A apropriação e valorização das terras a leste da linha de Tordesilhas ocorreram apenas a partir da expansão da lavoura açucareira no século XVII, enquanto as áreas a oeste permaneceram praticamente inexploradas até a independência, devido à ausência de interesse econômico e de políticas de povoamento implementadas pela Coroa portuguesa.
- (D) A linha de Tordesilhas, embora acordada formalmente entre as Coroas ibéricas, mostrou-se insuficiente para conter a pressão de expansão territorial portuguesa, impulsionada tanto por interesses econômicos (exploração de metais preciosos, atividades agropecuárias e extrativistas) quanto por mecanismos sociais como as bandeiras, os tratados internacionais posteriores e a mestiçagem, elementos que redefiniram continuamente os limites do espaço colonial e promoveram a interiorização e a diversificação das formas de apropriação do território.

Questão 10

O conceito de "espaço da natureza", conforme discutido na Geografia contemporânea, pressupõe a análise das múltiplas inter-relações entre os principais componentes do quadro natural: atmosfera, hidrosfera, biosfera e litosfera. Considere o caso do fenômeno El Niño, caracterizado pelo aquecimento anormal das águas superficiais do Oceano Pacífico Equatorial, e suas consequências ambientais. Analise as alternativas a seguir e assinale aquela que expressa a complexidade das interações entre esses quatro componentes durante a ocorrência do El Niño:

- (A) As mudanças provocadas pelo El Niño afetam diretamente a atmosfera e a hidrosfera, mas apenas indiretamente influenciam a biosfera e não possuem relação com processos da litosfera, pois a rocha matriz permanece inalterada durante o fenômeno.
- (B) O El Niño altera a temperatura das águas oceânicas (hidrosfera), modificando a circulação atmosférica (atmosfera), promovendo secas e chuvas atípicas que afetam tanto a vegetação quanto a fauna (biosfera) e provocando erosão, deslizamentos e mudanças na morfologia do solo e do relevo (litosfera).

- (C) O aquecimento das águas do oceano (hidrosfera) intensifica a evaporação e modifica padrões de ventos (atmosfera), desencadeando alterações climáticas que impactam ecossistemas terrestres e marinhos (biosfera), porém não interfere na dinâmica dos solos ou das rochas (litosfera).
- (D) O fenômeno El Niño limita-se a alterar as condições climáticas globais (atmosfera), sem influenciar significativamente os demais componentes do quadro natural, pois não há intercâmbio de matéria entre a atmosfera e os outros sistemas naturais.

Questão 11

A aplicação das teorias geográficas permite interpretar a complexidade dos processos espaciais a partir de diferentes abordagens analíticas. Correntes como o determinismo ambiental, o possibilismo, a nova geografia regional, a geografia crítica e a geografia da percepção oferecem diferentes chaves de leitura para fenômenos concretos, como a urbanização, a ocupação de territórios, as práticas de produção do espaço e as desigualdades socioambientais. Com base nisso, analise as afirmativas a seguir:

I.A interpretação determinista de desastres naturais, como enchentes em áreas urbanas, tende a culpabilizar fatores naturais (como a intensidade das chuvas) e a negligenciar os processos sociais de ocupação do solo, sendo superada por abordagens críticas que integram aspectos físicos e socioeconômicos.

II.O possibilismo geográfico contribuiu para o deslocamento do foco explicativo das condições naturais para as ações humanas, reconhecendo que diferentes grupos sociais, mesmo sob restrições ambientais, são capazes de escolher entre alternativas de uso e organização do espaço.

III.A geografia crítica, influenciada pelo materialismo histórico, permite compreender fenômenos como a segregação urbana e a expansão das fronteiras agrícolas como resultados de lógicas capitalistas de produção do espaço, evidenciando conflitos e desigualdades territoriais.

IV.A geografia da percepção e da experiência permite compreender a relação entre espaço e subjetividade, sendo útil para interpretar o pertencimento de povos tradicionais ao seu território, embora inaplicável a análises de dinâmicas espaciais urbanas complexas.

Assinale a alternativa correta:

- (A) Apenas as afirmativas II e IV estão corretas.
- (B) Apenas as afirmativas I, II e III estão corretas.
- (C) Apenas as afirmativas I, III e IV estão corretas.
- (D) Apenas as afirmativas I e III estão corretas.

Questão 12

Nas últimas décadas, o mundo tem assistido a intensas transformações políticas, expressas na formação de novas alianças, na reconfiguração de disputas entre

grandes potências e na emergência de questões étnico-nacionalistas em diversas regiões. Sobre o contexto dessas transformações e seus desdobramentos na ordem internacional, analise as alternativas abaixo:

- (A) No mundo contemporâneo, a rivalidade entre grandes potências, como Estados Unidos, China e Rússia, limita-se ao campo econômico e comercial, sem repercussões militares ou influência sobre áreas sensíveis como o Oriente Médio, o Ártico e o Sudeste Asiático.
- (B) A criação de blocos econômicos e políticos, como União Europeia, ASEAN e Mercosul, reduziu a complexidade das disputas internacionais, uma vez que os interesses nacionais foram completamente suplantados pelos objetivos coletivos das alianças, tornando os conflitos interestatais praticamente inexistentes.
- (C) A multiplicação de alianças multilaterais, como a OTAN e o G20, resultou no enfraquecimento dos mecanismos de segurança coletiva e na diminuição da capacidade de resposta internacional diante de crises humanitárias, étnicas ou territoriais.
- (D) O ressurgimento de nacionalismos étnicos em países do Leste Europeu e da Ásia Central, muitas vezes associados a conflitos territoriais e separatistas, desafia a integridade de Estados plurinacionais e pode ser agravado por intervenções de grandes potências que buscam ampliar sua influência estratégica.

Questão 13

A consolidação da Geografia como ciência implicou não apenas no acúmulo de conhecimentos empíricos sobre o mundo, mas na sistematização de categorias analíticas que permitem compreender os processos de produção, apropriação, simbolização e transformação do espaço. As categorias espaço, lugar, território e paisagem expressam diferentes dimensões da realidade geográfica e dialogam com diversas correntes teóricas ao longo do tempo. Com base nesse contexto, analise as afirmativas a seguir:

I.O espaço geográfico, enquanto categoria central da Geografia crítica, é concebido como uma totalidade concreta, resultado da articulação dialética entre estrutura social, relações de produção, técnica e natureza, rompendo com a visão fragmentada herdada das abordagens naturalistas.

II.O conceito de lugar remete à experiência vivida e à construção simbólica do espaço pela subjetividade dos indivíduos, sendo reduzido, em abordagens funcionalistas, a um mero ponto de localização, mas ressignificado, nas abordagens humanistas e culturais, como território de afetos, identidades e práticas cotidianas.

III.O território é entendido como espaço dotado de poder, juridicamente normatizado pelo Estado. No entanto, abordagens recentes ampliam esse entendimento, reconhecendo a territorialidade de grupos sociais

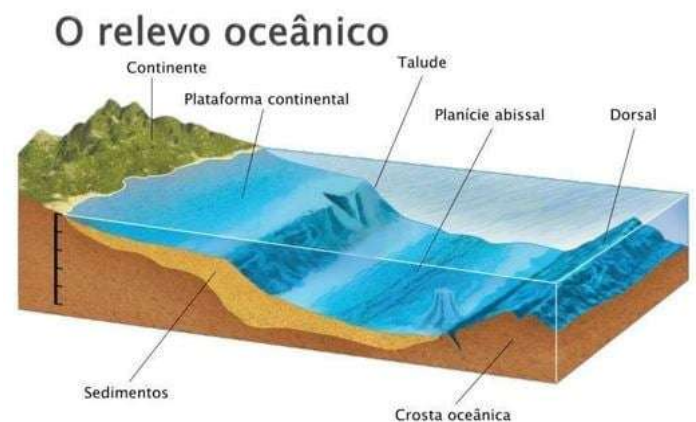
diversos, como povos indígenas, quilombolas e movimentos sociais urbanos.

IV.A paisagem, apesar de sua dimensão visível, não se limita à aparência sensorial do espaço. Enquanto expressão das ações humanas acumuladas no tempo, ela permite identificar contradições socioespaciais e revelar processos históricos ocultos, ainda que não seja considerada uma categoria analítica relevante pelas correntes críticas da Geografia.

Assinale a alternativa correta:

- (A) Apenas as afirmativas I, II e III estão corretas.
- (B) Apenas as afirmativas I, II e IV estão corretas.
- (C) Apenas as afirmativas II, III e IV estão corretas.
- (D) As afirmativas I, II, III e IV estão corretas.

Questão 14



Fonte: SILVA, Jaime C. V. F. A Plataforma Continental Portuguesa. Análise do Processo de Transformação do Potencial Estratégico em Poder Nacional. Cadernos Navais. N. 43 – Outubro-Dezembro. Lisboa: António Coelho Dias, S.A. 2012.

A imagem acima detalha os compartimentos fundamentais do relevo oceânico: plataforma continental, talude, planície abissal e dorsal oceânica, destacando a relação entre o continente e o fundo dos oceanos. Considerando os diferentes usos econômicos e os problemas ambientais associados às águas oceânicas e continentais, assinale a alternativa correta sobre a interação entre esses ambientes e os desafios socioambientais e econômicos presentes nessas áreas:

- (A) A dorsal oceânica, por sua elevação em relação ao fundo marinho e proximidade ao continente, abriga importantes áreas agrícolas submersas, funcionando como barreira natural contra poluentes e sendo foco de extração de água potável para uso doméstico e industrial.
- (B) A planície abissal, localizada logo após a plataforma continental, é altamente produtiva, sendo o principal ambiente de formação de recifes de coral e exploração de águas rasas para abastecimento humano, além de ser o local mais impactado pelo lançamento direto de resíduos industriais.

- (C) O talude continental, por sua topografia abrupta e profundidade crescente, é o principal ambiente de exploração de minerais metálicos e área prioritária para a implantação de aquicultura, sendo pouco afetado por poluentes devido à distância em relação às desembocaduras fluviais.
- (D) A plataforma continental, por ser uma área rasa e próxima ao continente, concentra atividades como pesca industrial, extração de hidrocarbonetos e implantação de parques eólicos offshore, mas também recebe grande parte dos poluentes oriundos dos rios, tornando-se um dos ambientes marinhos mais impactados por eutrofização, resíduos urbanos e contaminação por metais pesados.

Língua Portuguesa

Questão 15

O equinócio acontece quando a luz solar "incide" da mesma forma sobre os dois hemisférios, fazendo com que os dias e as noites tenham a mesma duração.

Fonte: <https://www.bbc.com/portuguese/articles/czdz14w0qwdo>.

adaptado

O verbo destacado, nesta frase, comporta-se como um verbo:

- (A) Transitivo direto.
- (B) Transitivo indireto.
- (C) Bitransitivo.
- (D) Intransitivo.

Questão 16

"A estação de transição entre o inverno e o verão começa oficialmente nesta quarta-feira" e vai até o dia 21 de junho.

Fonte: <https://www.bbc.com/portuguese/articles/czdz14w0qwdo>.

adaptado

Sintaticamente, é correto afirmar que, na oração destacada:

- (A) "a estação de transição entre o inverno e o verão" constitui o sujeito.
- (B) "oficialmente" é adjunto adnominal do predicado.
- (C) "entre o inverno e o verão" representa o objeto indireto.
- (D) o predicado é verbo-nominal, possuindo dois núcleos.

Questão 17

Quanto às estações, também não "as teríamos" e haveria um grande impacto nos padrões climáticos em todo o mundo.

Fonte: <https://www.bbc.com/portuguese/articles/czdz14w0qwdo>.

adaptado

A norma-padrão de colocação pronominal destacada na frase denomina-se:

- (A) Ênclise.
- (B) Próclise.
- (C) Anáclise.
- (D) Mesóclise.

Conhecimentos Gerais

Questão 18

A taxa Selic é um dos principais instrumentos de política monetária utilizados no Brasil. Seu aumento tem como efeito principal:

- (A) Desvalorizar a moeda nacional.
- (B) Reduzir o crédito e conter a inflação.
- (C) Incentivar o consumo das famílias.
- (D) Aumentar a inflação.

Questão 19

De acordo com a legislação que disciplina os servidores públicos, os cargos de confiança possuem caráter especial e exigem atenção quanto à forma de ocupação. Sobre esse tema, assinale a alternativa correta:

- (A) Os cargos de confiança devem ser ocupados, obrigatoriamente, por servidores efetivos concursados, não havendo exceção legal.
- (B) A lei estabelece que os cargos de confiança serão exercidos, preferencialmente, por servidores ocupantes de cargos de carreira técnica ou profissional.
- (C) Os cargos de confiança não possuem qualquer regulamentação em lei, cabendo apenas ao gestor público decidir sobre sua ocupação.
- (D) Esses cargos destinam-se exclusivamente a servidores temporários, sem vínculo estável com a Administração.

Questão 20

A história de São José do Cedro (SC) remonta ao período em que tropeiros e cargueiros percorriam a picada que ligava Vila Oeste (atual São Miguel do Oeste) a Barracão. Durante o trajeto, um ponto estratégico servia de repouso e acabou marcando a origem do município. Sobre esse processo de formação, é correto afirmar que:

- (A) O nome da cidade foi escolhido em homenagem a um santo padroeiro trazido pelos primeiros imigrantes italianos que ali se fixaram.
- (B) O município se formou a partir de um forte militar construído para proteger a fronteira, sendo esse o motivo do nome "Cedro".
- (C) A região era, inicialmente, uma colônia de exploração de erva-mate, organizada por companhias colonizadoras gaúchas.

(D) O ponto de parada situava-se próximo a um riacho, onde os viajantes descansavam à sombra de uma grande árvore, referência que deu nome ao local.