



CONCURSO PÚBLICO

001. PROVA OBJETIVA

AUXILIAR DE PROMOTORIA III – MOTORISTA
(OPÇÕES: 001 A 005)

- Você recebeu sua folha de respostas e este caderno contendo 50 questões objetivas.
- Confira seus dados impressos na capa deste caderno e na folha de respostas.
- Quando for permitido abrir o caderno, verifique se está completo ou se apresenta imperfeições. Caso haja algum problema, informe ao fiscal da sala para a devida substituição desse caderno.
- Leia cuidadosamente todas as questões e escolha a resposta que você considera correta.
- Marque, na folha de respostas, com caneta de tinta preta, a letra correspondente à alternativa que você escolheu.
- A duração da prova é de 4 horas, já incluído o tempo para o preenchimento da folha de respostas.
- Só será permitida a saída definitiva da sala e do prédio após transcorridas 3 horas do início da prova.
- Deverão permanecer em cada uma das salas de prova os 3 últimos candidatos, até que o último deles entregue sua prova, assinando termo respectivo.
- Ao sair, você entregará ao fiscal a folha de respostas e este caderno.
- Até que você saia do prédio, todas as proibições e orientações continuam válidas.

AGUARDE A ORDEM DO FISCAL PARA ABRIR ESTE CADERNO.

Nome do candidato _____

RG _____ Inscrição _____ Prédio _____ Sala _____ Carteira _____

CONHECIMENTOS GERAIS

LÍNGUA PORTUGUESA

Leia a tira a seguir para responder às questões 01 e 02:

Armandinho



PRECISAMOS
DE ALTERNATIVAS
DE TRANSPORTE
MAIS ECOLÓGICAS
E INTELIGENTES!



(Diário Catarinense, 16.03.2013)

01. As informações da tira permitem concluir corretamente que

- (A) o garoto se mostra pouco atento em relação à questão da poluição, por isso propõe uma solução absurda.
- (B) o garoto propõe alternar entre bicicletas e cavalos considerando a gravidade dos níveis de poluição constatados.
- (C) a solução do garoto para resolver a questão da poluição é vista por ele como menos ecológica e eficiente.
- (D) a preocupação ambiental do garoto o fez pensar em uma solução pouco comum nas cidades para o problema da poluição.
- (E) a proposta do garoto para reduzir a poluição inclui os cavalos, mas sem descartar os demais meios de transporte.

02. Vivemos _____ muita poluição, devido _____ excesso de carros e ônibus deficientes.

De acordo com a norma-padrão, as lacunas da frase devem ser preenchidas, respectivamente, com:

- (A) sobre ... o
- (B) sobre ... ao
- (C) ante ... a
- (D) sob ... o
- (E) sob ... ao

Leia o texto a seguir para responder às questões de **03 a 08**:

Nas férias, o alerta que vem das estradas

Com o fim das férias escolares de julho se aproximando, milhares de famílias em todo o país se preparam para enfrentar estradas cheias na volta para casa. Encontrarão muitas dessas rodovias em condições de manutenção ruins ou péssimas.

Antes de pegar a estrada, vale conferir alguns dados sobre a qualidade dos caminhos que estão pela frente, além de atentar para recomendações em relação à atitude dos condutores e às condições dos veículos. Em relação ao primeiro item, Pesquisa CNT de Rodovias 2024, da Confederação Nacional do Transporte, revela dados preocupantes: 67% dos 111.853 quilômetros da malha pavimentada avaliados no país estão em condição regular, ruim ou péssima.

Por esses caminhos muitas vezes esburacados e de traçado questionável, o pavimento é o principal problema, com 56,9% da extensão analisada pela CNT apresentando falhas. A sinalização é igualmente deficiente em 64,1% dos trechos sob avaliação, enquanto 65,2% têm geometria deficiente. Pontes e viadutos frequentemente não dispõem de acostamentos (em 73,4% dos percursos), proteção de cabeceira (em 34,3%) ou proteção lateral (em 10,9%).

Diante desse cenário, a CNT sugere a ampliação de investimentos públicos e a atração de capital privado para manutenção correta que seja capaz de eliminar os pontos críticos. Propõe, ainda, a reconstrução de 446 quilômetros de rodovias destruídas, de forma a proporcionar um sistema de transporte rodoviário mais seguro, eficiente e sustentável.

Especialmente para viagens em períodos de mais movimento, como o fim de julho, a Polícia Rodoviária Federal orienta medidas como planejar o trajeto com antecedência e fazer a revisão completa do veículo. É essencial checar o funcionamento de itens obrigatórios e conferir toda a documentação do carro e do condutor.

Além de obedecer à legislação de trânsito, respeitando limites de velocidade, é aconselhável ainda levar água potável, alimentos práticos e frutas para enfrentar possíveis imprevistos na viagem, como congestionamentos ou bloqueios de pistas — muito comuns em épocas de maior movimento e em estradas que estão a quilômetros de oferecer uma jornada sem surpresas.

(<https://www.correiobraziliense.com.br/opiniaio>,
28.07.2025. Adaptado)

- 03.** O objetivo do texto é discutir as condições das estradas brasileiras, enfatizando
- (A) os investimentos públicos, que acabaram com os perigos das rodovias no país.
 - (B) os transtornos nelas, decorrentes das viagens de volta das férias escolares.
 - (C) as dificuldades encontradas pelos motoristas pela falta de manutenção delas.
 - (D) as viagens confortáveis do retorno das férias, em rodovias modernas e seguras.
 - (E) os pontos críticos reconstruídos para o transporte seguro, eficiente e sustentável.
- 04.** De acordo com a Pesquisa CNT de Rodovias 2024, o problema de maior relevância nas estradas avaliadas é
- (A) o grande fluxo de veículos.
 - (B) a ausência de pontes e viadutos.
 - (C) o mau uso do capital privado.
 - (D) a rotina de bloqueios de pistas.
 - (E) a má condição da pavimentação.
- 05.** A conclusão do texto sugere que os motoristas
- (A) estão bastante vulneráveis a surpresas indesejadas nas viagens.
 - (B) têm a possibilidade de ignorarem as surpresas durante as viagens.
 - (C) viajam normalmente sem encontrarem surpresas perturbadoras.
 - (D) gostam de viajar porque as surpresas são comuns nessas ocasiões.
 - (E) desobedecem às leis de trânsito por comerem enquanto dirigem.

06. O termo destacado está empregado em sentido figurado na passagem:

- (A) “Com o fim das férias escolares de julho se aproximando, **milhares** de famílias em todo o país se prepararam para enfrentar estradas cheias...” (1º parágrafo)
- (B) “... a CNT sugere a ampliação de investimentos públicos e a atração de **capital** privado para manutenção correta...” (4º parágrafo)
- (C) “... muito comuns em épocas de maior movimento e em estradas que estão a **quilômetros** de oferecer uma jornada sem surpresas.” (6º parágrafo)
- (D) “... a Polícia Rodoviária Federal orienta medidas como planejar o trajeto com antecedência e fazer a revisão completa do **veículo**.” (5º parágrafo)
- (E) “É essencial checar o funcionamento de itens **obrigatórios** e conferir toda a documentação do carro e do condutor.” (5º parágrafo)

07. Na frase “**Com** o fim das férias escolares de julho se aproximando, milhares de famílias em todo o país se preparam **para** enfrentar estradas cheias na volta **para** casa.” (1º parágrafo), os termos destacados expressam, correta e respectivamente, sentidos de:

- (A) lugar; causa; finalidade.
- (B) lugar; finalidade; modo.
- (C) causa; consequência; modo.
- (D) causa; finalidade; destino.
- (E) condição; causa; destino.

08. De acordo com a Polícia Rodoviária Federal, cabe ____ todo motorista o planejamento com antecedência de sua viagem de volta. Além disso, deve-se proceder ____ revisão completa do veículo para checar o funcionamento de itens obrigatórios. Por fim, o motorista deve verificar ____ documentação – tanto a sua quanto a do veículo.

Em conformidade com a norma-padrão, as lacunas do texto devem ser preenchidas, respectivamente, com:

- (A) à ... a ... à
- (B) a ... à ... a
- (C) a ... à ... à
- (D) à ... à ... a
- (E) a ... a ... à

Leia o texto a seguir para responder às questões de 09 a 15:

Mulheres... Mulheres

Duas donas muito próximas me vieram contar a mesma estória. Paradas por um polícia de trânsito e ao indagarem se tinham feito algum erro, ouviram do agente a mesma justificação: temos de controlar os documentos, é que agora as mulheres estão a cometer muito. Temos a ideia, talvez errada, que as mulheres conduzem com mais prudência, chegando mesmo a dificultarem a fluidez do tráfego pela sua lentidão, que se não enganam quanto aos sinais e respeitam as prioridades, que nunca se enervam nem insultam os outros motoristas, etc., etc. Pois, a julgar pelo que dizem estes polícias, elas cometem cada vez mais infrações, começando por não terem carta de condução*, não usarem documentos das viaturas* e se especializarem em manobras perigosas neste já catastrófico trânsito de Luanda. Pasmei, mas eram duas testemunhas independentes.

Não tenho dados para discutir se têm aumentado os atos ilícitos ou criminalidade por parte das mulheres. Claro, conheço casos de senhoras apanhadas em tráfico de drogas nos aeroportos e homicídios praticados por elas, alguns mesmo com relevância midiática. E, de vez em quando, presencio cenas de pancadaria envolvendo as “divinas”, embora nunca em estádio de futebol, apesar de aumentar o número de assistentes femininas nos desafios. A violência no futebol parece ainda ser atributo masculino.

(Pepetela. *Crónicas Maldispostas*, 2015. Adaptado)

* **carta de condução**: carteira de habilitação.

* **viaturas**: carros.

09. De acordo com o texto, o narrador ficou surpreso porque duas mulheres lhe contaram que

- (A) foram paradas por guardas que lhes alegaram estar havendo aumento de imprudências femininas no trânsito.
- (B) cometeram infrações de trânsito, mas nem por isso concordavam com os guardas quanto à imprudência feminina.
- (C) cometeram infrações de trânsito, mas foram inocentadas graças à ideia de que as mulheres são mais prudentes.
- (D) foram advertidas pelo guarda por cometerem imprudências de trânsito, tendo elas reconhecido seus erros na ocasião.
- (E) estavam convictas de que a imprudência feminina no trânsito era uma realidade incontestável na região.

10. Considere o trecho:

“... as mulheres conduzem com mais prudência, chegando mesmo a dificultarem a fluidez do tráfego pela sua lentidão, que se não enganam quanto aos sinais e respeitam as prioridades, que nunca se enervam nem insultam os outros motoristas, etc., etc.” (1º parágrafo)

As informações contidas nesse trecho são ideias

- (A) das autoridades sobre o comportamento feminino no trânsito.
- (B) dos guardas sobre o comportamento feminino no trânsito.
- (C) postas na lei sobre o comportamento feminino no trânsito.
- (D) estrangeiras sobre o comportamento feminino no trânsito.
- (E) do senso comum sobre o comportamento feminino no trânsito.

11. Na passagem “... que as mulheres conduzem com mais **prudência**, chegando mesmo a dificultarem a fluidez do tráfego pela sua lentidão, que se não **enganam** quanto aos sinais...” (1º parágrafo), os termos destacados são, correta e respectivamente, sinônimos de:

- (A) insensatez; erram.
- (B) cautela; equivocam.
- (C) educação; distraem.
- (D) distração; atrapalham.
- (E) entusiasmo; atentam.

12. A concordância verbal está em conformidade com a norma-padrão em:

- (A) De acordo com os policiais, nos dias de hoje acontece mais infrações de trânsito por parte das mulheres.
- (B) É conhecido casos de senhoras apanhadas em tráfico de drogas nos aeroportos e homicídios praticados por elas.
- (C) Não tenho dados para discutir se aumentou ou não os atos ilícitos ou criminalidade por parte das mulheres.
- (D) Os guardas de trânsito afirmam que muitas mulheres não dispõem de carta de condução quando paradas.
- (E) As mulheres ouviram dos agentes de trânsito a justificativa de que eles têm de controlar os documentos.

13. Na frase “E, de vez em quando, **presencio** cenas de pancadaria envolvendo as ‘divinas’...” (2º parágrafo), a ação expressa pela forma verbal destacada

- (A) ocorrerá no futuro.
- (B) é uma possibilidade.
- (C) ocorreu no passado.
- (D) repete-se.
- (E) está concluída.

14. Considere as passagens do 1º parágrafo:

- ... que se não enganam quanto aos sinais e respeitam as prioridades...
- “Pasmei, **mas** eram duas testemunhas independentes.”

As conjunções destacadas exprimem, correta e respectivamente, sentidos de:

- (A) oposição e conclusão.
- (B) condição e adição.
- (C) adição e oposição.
- (D) oposição e oposição.
- (E) explicação e conclusão.

15. A colocação pronominal está em conformidade com a norma-padrão em:

- (A) Me pasmei com o que ouvi de duas donas muito próximas sobre o que ouviram de um polícia.
- (B) Afirmam os policiais de Luanda que as mulheres não comportam-se mais como boas motoristas.
- (C) As mulheres que envolvem-se em situações perigosas de trânsito põem em risco a própria vida.
- (D) Sempre disponho-me a ver os casos de senhoras apanhadas em situações ilícitas em aeroportos.
- (E) Infelizmente, ainda se veem casos de violência no futebol, na maioria das vezes pelos homens.

16. No tanque de um automóvel, foram colocados 36 litros de gasolina. Essa quantidade de gasolina corresponde a $\frac{4}{5}$ da capacidade total do tanque. A capacidade total desse tanque é
- (A) 45 litros.
(B) 60 litros.
(C) 55 litros.
(D) 50 litros.
(E) 40 litros.
17. Uma indústria fabricou determinado número de peças de um mesmo tipo. Todas essas peças serão colocadas em caixas, cada caixa com o mesmo número de peças. Desse modo, é possível colocar 12 peças em cada caixa, ou colocar 16 peças em cada caixa, e em qualquer das opções nenhuma peça ficará fora das caixas. Sabendo que o número total de peças fabricadas não chega a 50, é correto afirmar que o número de peças fabricadas por essa indústria foi
- (A) 45.
(B) 48.
(C) 42.
(D) 40.
(E) 36.
18. A central de distribuição de uma empresa tinha 250 peças de um determinado produto e enviou 60% dessas peças para a filial A. Dessas peças enviadas para a filial A, 8% apresentaram defeitos. O número de peças enviadas para a filial A, que estavam sem defeitos, era
- (A) 138.
(B) 145.
(C) 142.
(D) 140.
(E) 146.
19. No mês de abril, uma loja de automóveis vendeu 24 veículos de cor prata e determinado número de veículos de cor preta. A razão do número de veículos vendidos de cor prata para o número de veículos vendidos de cor preta, no mês de abril, foi $\frac{4}{3}$. A soma do número de veículos vendidos, de cor prata e de cor preta, nesse mês de abril, foi
- (A) 44.
(B) 42.
(C) 48.
(D) 40.
(E) 36.

20. Determinado tipo de piso é vendido em caixas. Com o piso contido em uma caixa, é possível recobrir, no máximo, uma área de 2,5 metros quadrados. Qual o menor número de caixas desse piso que precisam ser compradas para recobrir uma área de 52 metros quadrados?

- (A) 20
- (B) 22
- (C) 23
- (D) 24
- (E) 21

21. Em uma oficina mecânica, há duas latas com gasolina. Na primeira lata, há determinada quantidade de gasolina e a segunda lata tem 400 mL a mais de gasolina do que a primeira lata. Toda a gasolina dessas duas latas foi colocada em uma lata maior, que estava vazia, e que agora ficou com 2,8 litros de gasolina. A quantidade de gasolina que havia na segunda lata, em litros, era

- (A) 1,4.
- (B) 1,1.
- (C) 1,6.
- (D) 1,2.
- (E) 1,8.

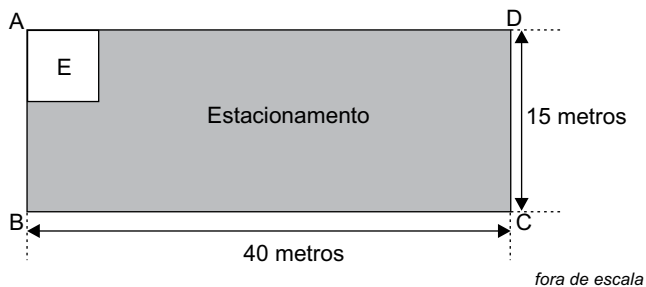
22. Um motorista fez 3 viagens. A tabela a seguir mostra o tempo gasto em duas delas:

Viagem	Tempo gasto
primeira	1 hora e 20 minutos
segunda	1 hora e 17 minutos
terceira	?

A soma dos tempos gastos nas três viagens foi igual a 5 horas e 12 minutos. Qual foi o tempo gasto na terceira viagem?

- (A) 3 horas e 25 minutos.
- (B) 3 horas e 35 minutos.
- (C) 2 horas e 55 minutos.
- (D) 2 horas e 35 minutos.
- (E) 2 horas e 45 minutos.

23. Em um terreno retangular ABCD, com 15 metros de largura por 40 metros de comprimento, foi construído um escritório (E), e o resto do terreno foi utilizado como estacionamento, conforme mostra a figura.

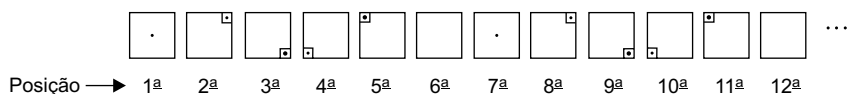


O escritório é quadrado, com área igual a 36 metros quadrados. O perímetro do estacionamento, em metros, é igual a

- (A) 110.
 (B) 102.
 (C) 98.
 (D) 86.
 (E) 74.
24. Uma estrada tem 30 quilômetros de comprimento. Desse total, $\frac{2}{5}$ ainda não foram asfaltados.

O comprimento, em quilômetros, que já foi asfaltado é

- (A) 15.
 (B) 21.
 (C) 20.
 (D) 18.
 (E) 12.
25. Observe as 12 primeiras figuras de uma sequência que se repete sempre na mesma ordem, isto é, a figura da posição 7 é igual a figura da posição 1, a figura da posição 8 é igual a figura da posição 2 e assim em diante.



A figura que estará na 47ª posição será igual a:

- (A)
- (B)
- (C)
- (D)
- (E)

26. Mariana, recentemente empossada no cargo de Auxiliar de Promotoria III (motorista) do Ministério Público, foi designada como responsável pelo transporte de pessoas e cargas vinculadas a órgãos da Administração Superior do Ministério Público.

Com base nessas informações e na Lei nº 8.625/93, é correto concluir que Mariana prestará serviços, entre outros,

- (A) ao Centro de Apoio Operacional.
- (B) à Corregedoria-Geral do Ministério Público.
- (C) a Procuradorias de Justiça.
- (D) a Promotorias de Justiça.
- (E) à Associação de Procuradores de Justiça.

27. Com base na Lei Complementar nº 1.118/2010, que dispõe sobre o Plano de Cargos e das Carreiras dos Servidores do Quadro de Pessoal do Ministério Público do Estado de São Paulo, é correto afirmar que

- (A) o servidor nomeado para provimento em cargo efetivo ficará sujeito a contrato de experiência, pelo prazo de 45 (quarenta) dias, prorrogáveis por igual período.
- (B) a Gratificação de Qualificação será concedida para os servidores que realizarem os cursos previstos em lei e serão incorporadas à remuneração mensal, para fins de aposentadoria.
- (C) os servidores pertencentes ao Quadro de Pessoal do Ministério Público do Estado de São Paulo têm direito ao auxílio-saúde, independentemente do valor da remuneração.
- (D) serão reservados, nos concursos promovidos pelo Ministério Público, no mínimo 20% (vinte por cento) dos cargos para pessoas com deficiência.
- (E) os servidores do Ministério Público se sujeitam, em regra, a jornadas de trabalho de 20 (vinte) horas semanais, salvo decisão em contrário da chefia imediata.

28. Fábio, motorista do Ministério Público do Estado de São Paulo, envolveu-se em acidente de trânsito na região central da cidade de São Paulo, enquanto voltava de diligência realizada em vara de violência doméstica. Ele havia ido ao local em veículo oficial para transportar dois membros do Ministério Público, que acompanhariam, ao longo de toda a tarde, audiências de custódia. O acidente causou danos físicos e materiais a Tereza, ciclista que circulava de maneira regular na ciclofaixa.

Com base na situação hipotética e conforme o disposto na Lei Complementar nº 734/1993, a competência para determinar a instauração do processo administrativo ou sindicância, para apurar responsabilidade em acidente com o veículo oficial, é do

- (A) Diretor-Geral.
- (B) Presidente do Conselho Superior do Ministério Público.
- (C) Chefe de Gabinete.
- (D) Corregedor-Geral do Ministério Público.
- (E) Procurador-Geral de Justiça.

29. João, Auxiliar de Promotoria III do Ministério Público, tem como atribuição realizar o transporte regular de passageiros e cargas, no interesse da instituição. Contudo, com o veículo oficial, costuma entregar bolos de festa, produzidos por sua esposa, nos horários e nos percursos que não causam prejuízo ao desempenho de suas atribuições.

Com base na situação hipotética e conforme o disposto na Lei nº 10.261/68, é correto afirmar que a conduta de João

- (A) não será irregular por não causar prejuízo ao Ministério Público.
- (B) não constituirá infração disciplinar caso ele comprove, ao tempo da sua prática, que não foi informado por superiores hierárquicos de sua ilicitude.
- (C) é irregular e o sujeita à pena de prisão administrativa.
- (D) é irregular e pode resultar, dentre outras, na pena de multa, suspensão ou demissão, a ser aplicada após processo em que se assegure o contraditório e a ampla defesa.
- (E) será regular caso, para a sua realização, haja a concordância do chefe imediato.

30. Simone é Auxiliar de Promotoria III do Ministério Público (motorista) e, na última sexta-feira, enquanto aguardava o fim de uma reunião no estacionamento, escutou um motorista de outro órgão público confessar a troca de estepe de veículo oficial, utilizado por ele na realização do serviço, pelo estepe do seu veículo privado, mais desgastado. Com base na situação hipotética, pode-se afirmar corretamente que Simone presenciou a descrição de comportamento que se enquadra, de acordo com o Código Penal Brasileiro, como crime de

- (A) corrupção ativa.
- (B) peculato.
- (C) prevaricação.
- (D) extravio.
- (E) advocacia administrativa.

CONHECIMENTOS ESPECÍFICOS

31. De acordo com o artigo 29, inciso III, do Código de Trânsito Brasileiro (CTB), quando veículos, transitando por fluxos que se cruzem, aproximarem-se de local não sinalizado, a preferência de passagem, no caso de apenas um fluxo ser proveniente de rodovia, é daquele que estiver circulando
- (A) em menor velocidade.
 - (B) pela esquerda.
 - (C) pela direita.
 - (D) em maior velocidade.
 - (E) por ela.
32. O CTB prevê que, respeitadas as normas de circulação e conduta estabelecidas em seu artigo 29, em ordem decrescente, os veículos de maior porte serão sempre responsáveis pela segurança dos menores, os motorizados pelos não motorizados e, juntos, pela
- (A) incolumidade dos pedestres.
 - (B) obediência da faixa transversal.
 - (C) preservação da via pública.
 - (D) segurança do transporte coletivo.
 - (E) desobstrução do passeio público.
33. De acordo com o artigo 40, inciso VII, parágrafo 2º, do CTB, nas rodovias de pista simples situadas fora dos perímetros urbanos, os veículos que não dispuserem de luzes de rodagem diurna deverão manter acesos os faróis,
- (A) para embarque nos acostamentos.
 - (B) ao estacionarem no acostamento.
 - (C) mesmo durante o dia.
 - (D) mesmo durante a noite.
 - (E) nas ultrapassagens.
34. A velocidade máxima permitida para a via será indicada por meio de sinalização, obedecidas suas características técnicas e as condições de trânsito e, onde não existir sinalização regulamentadora de velocidade nas vias arteriais em área urbana, a velocidade máxima será de
- (A) 40 km/h (quarenta quilômetros por hora).
 - (B) 60 km/h (sessenta quilômetros por hora).
 - (C) 30 km/h (trinta quilômetros por hora).
 - (D) 70 km/h (setenta quilômetros por hora).
 - (E) 80 km/h (oitenta quilômetros por hora).

35. Analise a imagem.



(<https://www.pulsarimagens.com.br/foto/Caminh%C3%A3o-carregado-com-carga-trafegando-na-Rodovia-BR-365>)

Ela mostra um caminhão trafegando por uma rodovia de pista simples, não sinalizada com placa de velocidade máxima permitida. Nesse caso, de acordo com o artigo 61, inciso II, do CTB, ele deverá respeitar a velocidade máxima de

- (A) 90 km/h (noventa quilômetros por hora).
 - (B) 100 km/h (cem quilômetros por hora).
 - (C) 80 km/h (oitenta quilômetros por hora).
 - (D) 60 km/h (sessenta quilômetros por hora).
 - (E) 110 km/h (cento e dez quilômetros por hora).
36. Os locais destinados a postos de gasolina, oficinas, estacionamentos ou garagens de uso coletivo deverão ter suas entradas e saídas devidamente identificadas, na forma regulamentada
- (A) pela Engenharia de Tráfego.
 - (B) pelo CIRETRAN.
 - (C) pelo DETRAN.
 - (D) pela Prefeitura.
 - (E) pelo CONTRAN.
37. Salvo em casos de emergência, a autoridade de trânsito com circunscrição sobre a via avisará a comunidade, por intermédio dos meios de comunicação social, a respeito de qualquer interdição da via, indicando os caminhos alternativos a serem utilizados, com antecedência de
- (A) 28 (vinte e oito) horas.
 - (B) 48 (quarenta e oito) horas.
 - (C) 38 (trinta e oito) horas.
 - (D) 12 (doze) horas.
 - (E) 24 (vinte e quatro) horas.

38. De acordo com o artigo 162, inciso II, do CTB, dirigir veículo com Carteira Nacional de Habilitação cassada ou com suspensão do direito de dirigir acarretará ao condutor uma infração de trânsito, que poderá gerar uma multa de
- (A) R\$ 293,47 (duzentos e noventa e três reais e quarenta e sete centavos).
 - (B) R\$ 586,94 (quinhentos e oitenta e seis reais e noventa e quatro centavos).
 - (C) R\$ 195,23 (cento e noventa e cinco reais e vinte e três centavos).
 - (D) R\$ 880,41 (oitocentos e oitenta reais e quarenta e um centavos).
 - (E) R\$ 130,16 (cento e trinta reais e dezesseis centavos).

39. Analise a imagem.



(<https://www.google.com/maps/place/Sorocaba+-+SP/>)

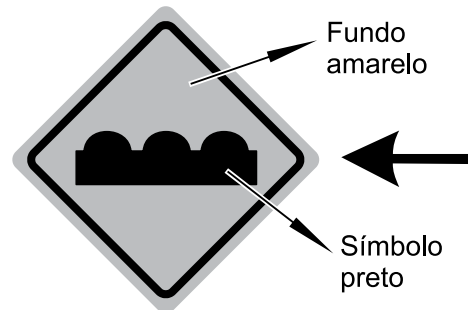
Ela mostra um veículo parado na contramão de direção. Nesse caso, o condutor poderá ser autuado com infração

- (A) gravíssima.
 - (B) grave.
 - (C) levíssima.
 - (D) leve.
 - (E) média.
40. Forçar passagem entre veículos que, transitando em sentidos opostos, estejam na iminência de passar um pelo outro ao realizar operação de ultrapassagem, é uma infração gravíssima, que poderá gerar uma penalidade de
- (A) multa (sete vezes) e apreensão da CNH.
 - (B) multa (cinco vezes) e cassação do direito de dirigir.
 - (C) multa (dez vezes) e suspensão do direito de dirigir.
 - (D) multa (cinco vezes) e suspensão do direito de dirigir.
 - (E) multa (três vezes) e suspensão do direito de dirigir.

41. Deverá ser imposta a penalidade de advertência por escrito à infração de natureza leve ou média, passível de ser punida com multa, caso o infrator não tenha cometido nenhuma outra infração nos últimos
- (A) 6 (seis) meses.
 - (B) 12 (doze) meses.
 - (C) 3 (três) meses.
 - (D) 18 (dezoito) meses.
 - (E) 24 (vinte e quatro) meses.

42. O veículo será removido nos casos previstos no CTB, para o depósito fixado pelo órgão ou entidade competente, com
- (A) circunscrição sobre a via.
 - (B) determinação da polícia de trânsito.
 - (C) autorização do DETRAN.
 - (D) acordo entre os agentes.
 - (E) autorização do CIRETRAN.

43. Considere a imagem:



(Resolução CONTRAN nº 973/2022)

De acordo com a resolução do CONTRAN nº 973, de 18 de julho de 2022, a sinalização de advertência apresentada na imagem informa ao condutor da existência de

- (A) pista irregular.
- (B) lombada.
- (C) aclive acentuado.
- (D) depressão.
- (E) pista escorregadia.

44. Assinale a alternativa correta quanto à aprovação do CONTRAN referente à Resolução nº 985, de 15 de dezembro de 2022.

- (A) Dispõe sobre os requisitos técnicos dos espelhos retrovisores de veículos.
- (B) Dispõe sobre o transporte de cargas de sólidos a granel nas vias abertas.
- (C) Altera a Resolução nº 872, de 13 de setembro de 2021.
- (D) Aprova o *Manual Brasileiro de Fiscalização de Trânsito*.
- (E) Estabelece os requisitos técnicos para o emprego de película retrorrefletiva em veículos.

45. Analise a figura.



(Arquivo pessoal; imagem usada com autorização)

Ela mostra um componente, de um veículo de tração dianteira, denominado

- (A) eixo piloto.
- (B) virabrequim.
- (C) trambulador.
- (D) comando de válvulas.
- (E) homocinética.

46. Considere que um condutor levou um veículo para a oficina, pois apresentava aquecimento fora do normal quando parava em congestionamento.

Após análise do mecânico, constatou-se que o problema estava relacionado com o componente indicado pela seta, na figura a seguir.



(Arquivo pessoal; imagem usada com autorização)

Assinale a alternativa que apresenta, corretamente, o nome desse componente.


- (A) Bomba d'água.
 - (B) Cebolão.
 - (C) Válvula termostática.
 - (D) Motor de passo.
 - (E) Esticador.
47. Para evitar ser pego pela força centrífuga ao efetuar uma curva para direita, quando estiver transitando por uma rodovia de pista simples, o condutor deverá
- (A) trafegar no meio da pista aumentando a velocidade ao iniciar a curva.
 - (B) aumentar a velocidade e manter-se à esquerda.
 - (C) aumentar a velocidade e manter-se à direita.
 - (D) trafegar pela esquerda da pista e aumentar a velocidade quando estiver iniciando a curva.
 - (E) diminuir a velocidade antes da curva e manter-se à direita.
48. A regra dos dois segundos, em direção defensiva, é utilizada para controlar
- (A) a distância de segurança.
 - (B) a aceleração.
 - (C) a desaceleração.
 - (D) o controle de tração.
 - (E) a distância de chegada.

49. As queimaduras são lesões decorrentes de agentes térmicos, químicos e elétricos capazes de produzir calor excessivo, que danificam os tecidos corporais e acarretam a morte de células do corpo.

Em face do exposto, assinale a alternativa correta a respeito de uma queimadura de 2º grau.

- (A) Queimadura na superfície com tons roxos.
- (B) Queimadura com surgimento de bolhas.
- (C) Queimadura com tons amarelados.
- (D) Queimadura em profundidade até os ossos.
- (E) Queimadura somente com pequenas manchas vermelhas.

50. A figura a seguir mostra um veículo, que colidiu contra um poste, e seu condutor, que não está passando muito bem.



(http://vias-seguras.com/documentos/documentos_temas_o_a_z/doc_socorros_em_acidentes_de_transito/nocoos_de_primeiros_socorros_no_transito)

Nesse caso, há a necessidade de acionar o Serviço de Atendimento Móvel de Urgência – SAMU, pelo telefone

- (A) 192.
- (B) 190.
- (C) 193.
- (D) 191.
- (E) 194.

