



UNIVERSIDADE ESTADUAL PAULISTA
"JÚLIO DE MESQUITA FILHO"

CÂMPUS DE MARÍLIA
FACULDADE DE FILOSOFIA E CIÊNCIAS

CONCURSO PÚBLICO

001. PROVA OBJETIVA

ASSISTENTE DE SUPORTE ACADÊMICO II

ÁREA DE ATUAÇÃO: RECURSOS AUDIOVISUAIS

- ◆ Você recebeu sua folha de respostas, este caderno, contendo 40 questões objetivas e um tema de redação a ser desenvolvido, e a folha de redação para transcrição do texto definitivo.
- ◆ Confira seus dados impressos na capa deste caderno e nas folhas de respostas e de redação.
- ◆ Quando for permitido abrir o caderno, verifique se está completo ou se apresenta imperfeições. Caso haja algum problema, informe ao fiscal da sala para a devida substituição desse caderno.
- ◆ A folha de redação deverá ser assinada apenas no local indicado; qualquer identificação ou marca feita pelo candidato no verso da folha de redação, que possa permitir sua identificação, acarretará a atribuição de nota zero à redação.
- ◆ Redija o texto definitivo e preencha a folha de respostas com caneta de tinta preta. Os rascunhos não serão considerados na correção. A ilegibilidade da letra acarretará prejuízo à nota do candidato.
- ◆ A duração das provas objetiva e de redação é de 4 horas, já incluído o tempo para o preenchimento da folha de respostas e para a transcrição do texto definitivo.
- ◆ Só será permitida a saída definitiva da sala e do prédio após transcorridas 3 horas do início das provas.
- ◆ Deverão permanecer em cada uma das salas de prova os 3 últimos candidatos, até que o último deles entregue suas provas, assinando termo respectivo.
- ◆ Ao sair, você entregará ao fiscal a folha de redação, a folha de respostas e este caderno.
- ◆ Até que você saia do prédio, todas as proibições e orientações continuam válidas.

AGUARDE A ORDEM DO FISCAL PARA ABRIR ESTE CADERNO.

Nome do candidato _____

RG _____

Inscrição _____

Prédio _____

Sala _____

Carteira _____

CONHECIMENTOS GERAIS

LÍNGUA PORTUGUESA

Leia a citação a seguir, de Gilbert Keith Chesterton, para responder às questões de 01 a 03:

O certo é certo, mesmo que ninguém o **faça**. O errado é errado, mesmo que todos **estejam** errados sobre isso.

(Disponível em: <https://www.chesterton.org>. Tradução livre)

01. Pode-se deduzir dessa citação que

- (A) as ações certas de alguns influenciam os erros de outros.
- (B) não importa o que se faça, pois haverá quem faça tudo diferente.
- (C) é inviável distinguir as ações humanas corretas das incorretas.
- (D) o certo e o errado baseiam-se em princípios socialmente estabelecidos.
- (E) todos os que estão errados evitam praticar atos errados.

02. Considere o enunciado a seguir, em que devem ser empregados os verbos destacados na citação:

Na ocasião, os técnicos recomendaram que se _____ alguma coisa para contornar as dificuldades que os usuários porventura _____ enfrentando.

Assinale a alternativa em que esses verbos preenchem as lacunas de acordo com a norma-padrão de correlação verbal.

- (A) fazia... estão
- (B) fez ... estariam
- (C) fizesse ... estivessem
- (D) faz ... estão
- (E) fizer ... estiverem

03. É correto afirmar que o trecho destacado na passagem – O errado é errado, **mesmo que todos estejam errados sobre isso**. – estabelece, no contexto, relação de sentido de

- (A) concessão e pode ser substituído, sem prejuízo ao sentido, por “apesar de todo mundo estar errado sobre isso”.
- (B) causa e pode ser substituído, sem prejuízo ao sentido, por “visto que todo mundo está errado sobre isso”.
- (C) oposição e pode ser substituído, sem prejuízo ao sentido, por “mas todo mundo está errado sobre isso”.
- (D) conclusão e pode ser substituído, sem prejuízo ao sentido, por “portanto, todo mundo está errado sobre isso”.
- (E) condição e pode ser substituído, sem prejuízo ao sentido, por “contanto que todo mundo esteja errado sobre isso”.

Leia o texto a seguir para responder às questões de 04 a 09:

O século 21, tudo indica, não será mais predominantemente norte-americano e menos ainda europeu. Com velocidade surpreendente, envelheceu a ideia de uma modernidade baseada na expansão contínua da mercantilização de todas as coisas e de todas as relações humanas. Já podemos dizer com certeza que a modernidade dita neoliberal, que se disseminou com o colapso do socialismo de Estado, pecou por déficit crescentemente intolerável de imaginação política. A interdependência entre os sistemas econômicos deu muitíssimos passos à frente, com a circulação instantânea do dinheiro, a mundialização das cadeias de valor, a mobilidade intensa de mercadorias e pessoas. E uma vasta classe média global, apesar das desigualdades, apareceu no cenário.

Tornamo-nos, existencialmente, interdependentes, até mesmo num sentido particularmente negativo, com a crise – inédita e crescente – das relações com a natureza, a disseminação de armas nucleares e a possibilidade de aplicação de inteligência artificial aos conflitos armados. De nenhum desses possíveis desastres, como é óbvio, estará a salvo qualquer povo eleito ou nação excepcional. Sem política, e deixado a si mesmo, esse movimento das coisas pareceu, e parece, dotado de uma inquietante autonomia, acontecendo fantasmagoricamente acima da consciência e da ação coletiva.

Sempre se soube que a unidade tendencial do gênero humano, este belo sonho multissecular, não se daria como um processo automático e sem turbulência, ainda que a complexidade das situações recorrentemente nos espante. O descompasso entre o mundo amplo da economia e o âmbito estritamente nacional da política terminou por produzir seus frutos daninhos na forma de uma imensa crise da globalização.

(Luiz Sérgio Henriques, “O Brasil no espelho do mundo”. Disponível em: <https://www.estadao.com.br/opinião>)

04. São aspectos críticos no século 21 apontados pelo autor:

- (A) desastres em diversas nações e políticas desatualizadas de união dos povos.
- (B) a expansão de armas nucleares e o uso da inteligência artificial em guerras.
- (C) mercantilização de relações humanas e fácil circulação de moedas e pessoas.
- (D) perda da soberania dos norte-americanos e europeus na modernidade.
- (E) falta de uma efetiva ação coletiva para consolidar a unidade do gênero humano.

05. O autor evita que sua afirmação soe como categórica e inquestionável no seguinte trecho:

- (A) Já podemos dizer com certeza... (1º parágrafo)
- (B) ... apesar das desigualdades... (1º parágrafo)
- (C) De nenhum desses possíveis desastres, como é óbvio... (2º parágrafo)
- (D) ... esse movimento das coisas pareceu, e parece, dotado... (2º parágrafo)
- (E) Sempre se soube... (3º parágrafo)

06. Observe o sentido das expressões destacadas nesta passagem do 2º parágrafo:

Tornamo-nos, existencialmente, interdependentes, **até mesmo** num sentido particularmente negativo, **com a crise** – inédita e crescente – das relações com a natureza, a disseminação de armas nucleares e a possibilidade de aplicação de inteligência artificial aos conflitos armados.

Assinale a alternativa em que essas expressões estão substituídas, respectivamente, sem prejuízo ao sentido original.

- (A) igualmente ... pela crise
- (B) além de ... junto à crise
- (C) acertadamente ... em meio à crise
- (D) de preferência ... em face da crise
- (E) inclusive ... graças à crise

07. A construção entre parênteses que substitui a destacada, de acordo com a norma-padrão de colocação pronominal, é:

- (A) ... a modernidade dita neoliberal, **que se disseminou** (a qual disseminou-se) com o colapso do socialismo...
- (B) **Tornamo-nos** (Nos tornamos), existencialmente, interdependentes...
- (C) **Sempre se soube** (Soube-se o tempo todo) que a unidade tendencial do gênero humano...
- (D) ... este belo sonho multissecular, **não se daria** (em nenhum momento daria-se) como um processo automático e sem turbulência...
- (E) ...ainda que a complexidade das situações **recorrentemente nos espante** (sempre espante-nos).

08. A expressão destacada, do 1º parágrafo, que está empregada em sentido próprio é:

- (A) ... **envelheceu** a ideia de uma modernidade...
- (B) ... a modernidade **dita** neoliberal...
- (C) ... com o **colapso** do socialismo de Estado...
- (D) ... **pecou** por déficit crescentemente intolerável...
- (E) ... apesar das desigualdades, apareceu no **cenário**.

09. A alternativa redigida de acordo com a norma-padrão de concordância nominal e verbal é:

- (A) Estão havendo sinais de enfraquecimento das ideias dos norte-americanos sobre diretriz socioeconômicas.
- (B) Sabe-se que ainda existe sinais do neoliberalismo nas economias mundiais e em bastante países.
- (C) Alguns movimentos contemporâneos podem estar mostrando sinais de enfraquecimento de valores sociais.
- (D) Já foi constatado pelo autor diversos fatores que vem levando países a desenvolver armas nucleares.
- (E) Mais de um país se encontra ameaçado pela aplicação de inteligência artificial a muitos conflitos armados.

10. Assinale a alternativa redigida de acordo com a norma-padrão de emprego do acento indicativo de crase.

- (A) Chegou à envelhecer a ideia de uma modernidade que aderira à expansão contínua da mercantilização.
- (B) A interdependência entre os sistemas econômicos foi até às últimas consequências, caminhando passo à passo.
- (C) Vamos assistir à muitos desastres, como é óbvio, e serão poucos os povos que sobreviverão à todos eles.
- (D) Sempre se soube que o gênero humano tem tendência à turbulência e que direciona suas forças à guerra.
- (E) A política muitas vezes estende frutos daninhos à uns e outros, levando as populações à uma imensa crise.

11. Com o objetivo de realizar uma reforma, Rogério reservou certa quantidade x de recursos, em reais, que prevê o custo com a mão de obra do profissional executante e o custo dos materiais, a saber: 5 latas de tinta, 1 rolo de pintura, 2 pincéis, 1 saco de argamassa e 5 lixas. Rogério contratará um profissional que cobrará, pela mão de obra, R\$ 2.500,00, e, quanto aos materiais, ele os comprou em uma loja onde os referidos itens são vendidos sob os seguintes preços unitários:

Item	Preço unitário (em R\$)
Lata de tinta	125,00
Rolo de pintura	34,20
Pincel	12,80
Saco de argamassa	16,80
Lixa	4,50

Se, depois de somados todos os custos envolvidos, sobraram ainda R\$ 175,90 do valor inicialmente reservado, é correto afirmar que x é igual a

- (A) 3.550.
(B) 3.500.
(C) 3.450.
(D) 3.400.
(E) 3.350.
12. O computador de Pedro tem um espaço de armazenamento total de 760 GB. Ele dividirá esse espaço de armazenamento em três partes, cada uma destinada a armazenar os dados de uma destas três categorias: processos judiciais, dados de cadastro e normas técnicas. Pedro fará essa divisão de maneira que cada parte desse espaço de armazenamento seja diretamente proporcional ao número estimado de arquivos de cada categoria, que são: 80 para processos judiciais, 120 para dados de cadastro e 180 para normas técnicas.

Nessas condições, serão destinados, para normas técnicas,

- (A) 320 GB.
(B) 330 GB.
(C) 340 GB.
(D) 350 GB.
(E) 360 GB.

13. A soma dos lucros líquidos de duas empresas, A e B, no mês de maio de 2025, é R\$ 70.000,00. Sabe-se que o lucro líquido da empresa B no referido mês, quando comparado ao lucro líquido da empresa A, correspondeu a um valor 50% maior.

Então, a diferença entre os lucros líquidos das empresas B e A, em maio de 2025, foi

- (A) R\$ 7.000,00.
(B) R\$ 14.000,00.
(C) R\$ 21.000,00.
(D) R\$ 28.000,00.
(E) R\$ 35.000,00.
14. Mauro está estudando a localização de 3 pontos estratégicos de sua cidade, que chamaremos de A, B e C. A figura a seguir ilustra essa situação:

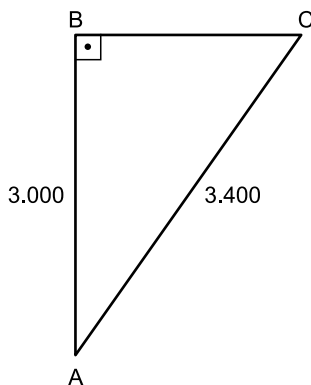


Figura fora de escala

Sabe-se que o ângulo com vértice em B é reto e que as distâncias entre os pontos A e B e entre os pontos A e C são, respectivamente, iguais a 3.000 m e 3.400 m.

A partir dessas informações, Mauro pôde concluir que a distância entre os pontos B e C é igual a

- (A) 1.600 m.
(B) 1.700 m.
(C) 1.800 m.
(D) 1.900 m.
(E) 2.000 m.
15. Pâmela presenteará seu esposo com um kit de perfumaria. Esse kit será formado pelos seguintes itens e suas quantidades: 1 perfume, 3 sabonetes e 2 loções pós-barba. Para a escolha dos itens que integrarão esse kit, existem 8 opções de perfume, 6 opções de sabonete e 5 opções de loção pós-barba, todos diferentes entre si, e Pâmela não vai repetir itens na formação do kit.
- Sabendo que, na montagem de um kit, a ordem dos itens escolhidos não importa, então o número total de kits que podem ser montados é igual a
- (A) 240.
(B) 1.440.
(C) 1.600.
(D) 9.600.
(E) 10.200.

LEGISLAÇÃO

16. Antônia é estudante universitária e, em visita à biblioteca da universidade pública a que é vinculada, pediu aos servidores públicos presentes no local acesso às informações sobre a aquisição de obras literárias integrantes do acervo especial da biblioteca, bem como à relação dos periódicos científicos internacionais dos quais a instituição possui assinatura. O acesso a essas informações foi negado de maneira simples e sem maiores explicações, mesmo após a insistência de Antônia.

Com base na situação hipotética e no disposto na Constituição Federal, é correto afirmar que Antônia

- (A) não pode adotar providências judiciais ou administrativas, pois é constitucionalmente assegurado o sigilo das informações pertencentes à administração.
 - (B) somente teria acesso às informações caso se referissem a dados relativos a sua própria pessoa.
 - (C) precisará ajuizar uma ação popular para assegurar o conhecimento de informações constantes dos registros.
 - (D) tem o direito de formalizar o pedido administrativamente no exercício do direito de petição, independentemente do pagamento de taxas.
 - (E) deve propor mandado de injunção para obter o acesso às informações, desde que exponha as razões que justificam o interesse nesses dados.
17. Flávia, assistente técnica em um *campus* universitário, estava realizando a instalação de programas de computação com a ajuda de Fábio, jovem funcionário recém-contratado por uma empresa terceirizada para prestar serviços de suporte técnico na universidade. Fábio relatou a sua insatisfação com o emprego e as condições de trabalho, pois o seu empregador estaria descumprindo várias regras constitucionais.

Com base na situação hipotética, Flávia pode confirmar que realmente viola a Constituição Federal:

- (A) a redução, em qualquer hipótese, do salário fixado no contrato de trabalho.
- (B) o pagamento de salário inferior ao mínimo, salvo aos que recebem remuneração variável.
- (C) remuneração do trabalho noturno igual ao realizado por ele no período diurno.
- (D) pagamento de salário-família ao trabalhador de baixa renda, independentemente da existência de dependentes.
- (E) autorização para o trabalho noturno a menores de vinte e um anos.

18. Com base na Constituição Federal, a respeito dos servidores públicos, assinale a alternativa correta.

- (A) Em caso de prática de improbidade administrativa, o agente será preso, perderá a função pública, terá seus direitos públicos suspensos e deverá ressarcir o erário.
- (B) Não serão computados no limite remuneratório constitucional as parcelas de caráter indenizatório expressamente previstas em lei ordinária, aprovada pelo Congresso Nacional, de caráter nacional, aplicada a todos os Poderes e órgãos constitucionalmente autônomos.
- (C) A aposentadoria concedida com a utilização de tempo de contribuição decorrente de cargo, emprego ou função pública acarretará o rompimento do vínculo que gerou o referido tempo de contribuição, salvo para os agentes vinculados ao Regime Geral de Previdência Social.
- (D) As pessoas jurídicas de direito público e as de direito privado prestadoras de serviços públicos responderão, em qualquer hipótese, pelos danos que seus agentes, nessa qualidade, causarem a terceiros, vedado o exercício do direito de regresso contra o responsável em caso de culpa.
- (E) O servidor público da administração direta, autárquica e fundacional, no exercício de mandato eletivo, investido no mandato de prefeito ou vereador, será automaticamente afastado do cargo, emprego ou função, sendo-lhe facultado optar pela sua remuneração.

CONHECIMENTOS ESPECÍFICOS

19. A respeito da ordem social, com base na Constituição Federal, assinale a alternativa correta.

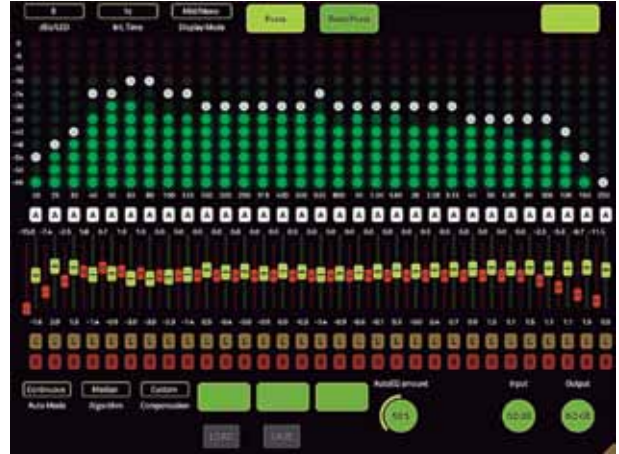
- (A) A assistência social será oferecida a quem dela demonstrar necessidade, desde que haja comprovação do pagamento de contribuição à seguridade social.
- (B) A saúde é direito de todos e dever do Estado, que a promoverá mediante a realização de políticas que restrinjam o acesso a tratamentos médicos aos que demonstrem incapacidade financeira de arcar com seus custos com recursos próprios.
- (C) A assistência à saúde é livre à iniciativa privada, e as empresas poderão atuar de maneira complementar ao Sistema Único de Saúde, desde que tenham caráter filantrópico.
- (D) As universidades gozam de autonomia didático-científica, administrativa e de gestão financeira e patrimonial e podem admitir professores, técnicos e cientistas estrangeiros, na forma da lei.
- (E) Os Estados e o Distrito Federal devem vincular cinco por cento de sua receita tributária líquida para o financiamento de programas e projetos culturais.

20. Considere que Juliano, assistente de suporte acadêmico, exerce suas atividades junto à Comissão Permanente de Avaliação (CPA) e está conversando com Mariana, que deseja entender melhor como funciona a estrutura e o funcionamento do órgão.

Com base no Regimento Geral da Unesp, Juliano poderá afirmar corretamente que

- (A) a CPA consiste em um órgão vinculado diretamente ao reitor, composto de onze membros, indicados dentre os docentes da Unesp, em exercício.
- (B) cabe à CPA decidir sobre a forma de aplicação dos regimes especiais de trabalho dos docentes, bem como sobre o regime de trabalho dos pesquisadores, seguidas as orientações do Conselho de Ensino, Pesquisa e Extensão Universitária.
- (C) cabe à CPA, entre outras atribuições, baixar normas sobre trancamento e cancelamento de matrícula, bem como assessorar o reitor sobre assuntos referentes a propriedade intelectual e inovação.
- (D) o quadro de pessoal técnico e administrativo vinculado à CPA está, também, integrado à estrutura administrativa do Conselho Universitário e ambos os órgãos são vinculados diretamente ao reitor.
- (E) a CPA é um órgão vinculado à Congregação e tem por atribuição opinar sobre propostas de admissão, transferência, dispensa ou renovação de contrato de pessoal docente, ouvido o departamento interessado.

21. Observe a imagem a seguir:



(Arquivo pessoal; imagem usada com autorização)

O módulo de software para edição de áudio apresentado na imagem é um:

- (A) gerador de efeitos.
- (B) compressor/limitador de sinais.
- (C) filtro cancelador de ruídos.
- (D) equalizador paramétrico.
- (E) equalizador gráfico de terço de oitava.

22. Considere a imagem a seguir:



(Arquivo pessoal; imagem usada com autorização)

O controle de refletores, como o apresentado na imagem, faz-se tipicamente por meio de uma mesa de comando de luzes, utilizando o protocolo

- (A) USB 3.0
- (B) RS 232
- (C) RS 489
- (D) DMX512
- (E) WiFi 5G

23. Com relação ao sistema Dropbox de armazenamento em nuvem, é correto afirmar que

- (A) apenas as versões profissionais e corporativas permitem a edição de arquivos PDF.
- (B) a versão básica gratuita oferece espaço de armazenamento com capacidade de 20 GB.
- (C) na versão Plus, para uso pessoal, arquivos de até 50 GB podem ser enviados para outras pessoas, por meio de um link.
- (D) todas as versões permitem a restauração, por até 180 dias, de arquivos deletados.
- (E) todas as versões pagas permitem a proteção dos arquivos com senhas.

24. Muitos modelos de projetores multimídia apresentam, no controle remoto, uma funcionalidade identificada como FREEZE, que ao ser ligada:

- (A) aciona o modo turbo da ventoinha para evitar superaquecimento.
- (B) produz desligamento temporário do sistema iluminante para economizar a vida útil da lâmpada.
- (C) produz um sombreamento parcial da imagem, para evitar a distração enquanto são feitos comentários.
- (D) realiza o chaveamento entre as entradas do projetor ligadas ao computador de mesa e ao notebook.
- (E) permite que o operador utilize a tela do computador, sem que a imagem seja projetada.

25. Nas instalações de sistemas de sonorização, a utilização de caixas ativas permite

- (A) o uso de conexões no nível de linha de saída das mesas de áudio ou dos *crossovers*.
- (B) minimizar a ocorrência de reverberação no ambiente.
- (C) obter melhor relação sinal/ruído do que com caixas passivas.
- (D) o uso das caixas de PA simultaneamente como caixas de retorno.
- (E) o uso de Phantom Power para alimentar os amplificadores.

26. Observe a imagem a seguir:



(Arquivo pessoal; imagem usada com autorização)

Um refletor como o da imagem apresentada se caracteriza por produzir iluminação

- (A) com foco dirigido e alta intensidade.
- (B) com foco dirigido e sombras suaves.
- (C) difusa e sem sombras.
- (D) difusa, mas com sombras profundas.
- (E) suave e com grande espalhamento.

27. A captação de imagens de vídeo em resolução 4K, mesmo quando a saída for em resolução menor, como Full HD, apresenta como vantagem

- (A) aumentar a profundidade de campo nas cenas gravadas.
- (B) a possibilidade de ajustes no enquadramento em fase de edição, sem perda de qualidade.
- (C) melhorar a qualidade da imagem com bitrates menores.
- (D) otimizar o fluxo de dados na ilha de edição.
- (E) permitir o uso de sensibilidade maior na câmera, sem aumento de ruído.

28. Analise a imagem a seguir:



(Arquivo pessoal; imagem usada com autorização)

A imagem apresentada mostra um conector de adaptação do tipo:

- (A) P2 fêmea <-> XLR macho
- (B) P2 fêmea <-> DIN macho
- (C) RCA fêmea <-> XLR macho
- (D) RCA macho <-> XLR macho
- (E) RCA fêmea <-> DIN macho

29. Veja a imagem a seguir:



(Arquivo pessoal; imagem usada com autorização)

A imagem apresentada mostra um cabo utilizado para

- (A) alimentação de microfones sem fio.
- (B) conexão de áudio digital por meio de fibra óptica.
- (C) conexão de vídeo 4K por meio de fibra óptica.
- (D) conversão de áudio analógico para digital.
- (E) conversão de vídeo analógico para digital.

30. Entre os procedimentos considerados adequados para manutenção e armazenamento de equipamentos de captação de mídia, é correto afirmar que

- (A) as baterias devem ser armazenadas carregadas, mas mantidas fora das câmeras e gravadores.
- (B) as objetivas devem ser limpas com álcool isopropílico semanalmente.
- (C) o ambiente deve ser monitorado para apresentar umidade acima de 75%.
- (D) os anéis de foco e de diafragma das objetivas devem ser lubrificados mensalmente.
- (E) os filtros e demais acessórios devem ser armazenados fora das embalagens para evitar formação de fungos.

31. Observe a imagem a seguir:




(Arquivo pessoal; imagem usada com autorização)

A imagem apresentada mostra um sistema de microfones sem fio, no qual o receptor faz uso de duas antenas para

- (A) implementar um canal de retorno para o sistema auxiliar de ponto eletrônico.
- (B) obter redundância na recepção, melhorando a estabilidade do sinal, durante movimentação dos transmissores.
- (C) operar como repetidor de um outro sistema, para aumentar a distância útil de operação.
- (D) permitir a conexão dos microfones em canais diferentes da mesa.
- (E) retransmitir o sinal para um sistema de distribuição por *streaming*.

32. Analise a imagem a seguir:



(Arquivo pessoal; imagem usada com autorização)

No menu de configuração de uma câmera fotográfica semiprofissional, o ajuste apresentado na imagem se relaciona com

- (A) a calibragem da área de foco automático.
- (B) a luminosidade do display.
- (C) a resolução da imagem.
- (D) o ajuste de equilíbrio de tons neutros na imagem.
- (E) o ganho do padrão de Bayer no sensor.

33. Eventuais instabilidades na operação de estações de trabalho dedicadas à edição de conteúdos audiovisuais, ocorrendo ao atualizar as versões de softwares utilizados, podem exigir

- (A) a atualização das versões de drivers, principalmente gráficos e de áudio.
- (B) a instalação de conexões de áudio por fibras ópticas.
- (C) a instalação de sistemas redundantes de conectividade, por WiFi ou Bluetooth.
- (D) a substituição dos discos de dados por unidades tipo SSD.
- (E) o aumento da potência do nobreak que sustenta a energia da estação.

34. Observe a imagem a seguir:

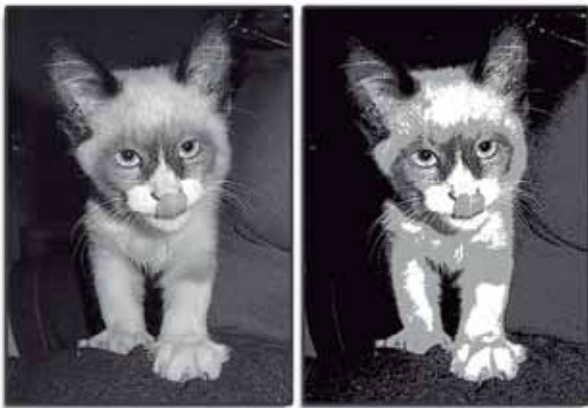


(Arquivo pessoal; imagem usada com autorização)

A imagem apresentada mostra um periférico para digitalizar sinais analógicos de áudio, que são, habitualmente, enviados a um computador por meio de uma conexão:

- (A) Bluetooth.
- (B) HDMI.
- (C) USB.
- (D) Ethernet.
- (E) WiFi.

35. Considere a imagem a seguir:



(Arquivo pessoal; imagem usada com autorização)

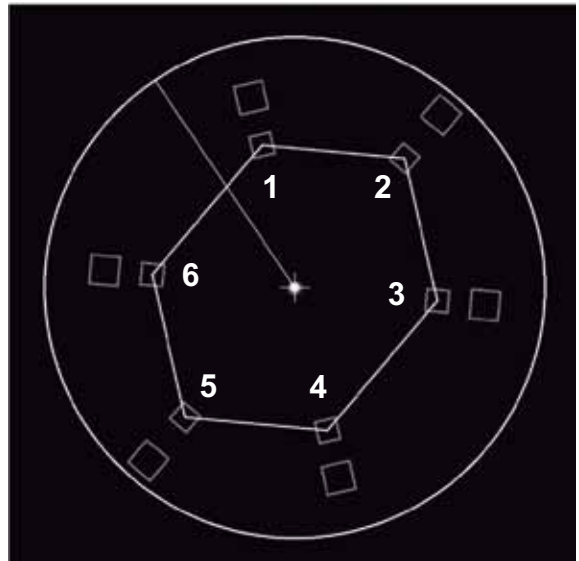
No editor de imagens digitais Adobe Photoshop, a redução de tons intermediários da imagem esquerda, produzindo o efeito apresentado na imagem do lado direito, pode ser feita por meio do menu Image -> Adjustment ->

- (A) Black & White.
- (B) Equalize.
- (C) Levels.
- (D) Posterize.
- (E) Threshold

36. Observe as imagens a seguir:



(Arquivo pessoal; imagem usada com autorização)



(Arquivo pessoal; imagem usada com autorização)

Considerando as imagens apresentadas, no instrumento Vectorscope, encontrado comumente em softwares de edição de vídeo, as regiões da imagem superior indicadas pelas setas serão apresentadas nas regiões indicadas pelos números

- (A) 1 e 2.
- (B) 1 e 5.
- (C) 3 e 4.
- (D) 3 e 5.
- (E) 4 e 6.

37. No contexto de edição de áudio, a operação que permite equilibrar os níveis de sinal de diferentes *clips* em uma *timeline*, aumentando a amplitude do sinal nos clipes (ou segmentos) com menores níveis, denomina-se

- (A) atenuação.
- (B) equalização.
- (C) limitação.
- (D) normalização.
- (E) parametrização.

38. Com relação à plataforma Zoom de videoconferências, é correto afirmar que seu primeiro plano pago (Profissional) oferece o recurso de
- (A) armazenamento em nuvem com capacidade até 50 GB.
 - (B) até 50 quadros de compartilhamento editáveis.
 - (C) até 300 participantes por reunião.
 - (D) compartilhamento de até 10 documentos.
 - (E) conferências com até 30 horas de duração.
39. Com relação ao software Adobe Lightroom, é correto afirmar que
- (A) a geração de galeria para Web deve ser feita através do software Adobe Illustrator.
 - (B) não permite, como garantia, que arquivos importados sejam apagados definitivamente dos discos.
 - (C) oferece suporte avançado para gerenciamento de arquivos e fluxos de trabalho.
 - (D) o gerenciamento de impressões deve ser feito a partir de arquivos exportados.
 - (E) utiliza operações de edição direta sobre os pixels dos arquivos importados.

40. Analise a imagem a seguir:



(Arquivo pessoal; imagem usada com autorização)

A imagem apresenta a interface Media Browser do editor de vídeo Adobe Premiere Pro, nele o acionamento da opção Ingest, indicada pela seta, permite

- (A) a geração automática de cópias de backup.
- (B) a sincronização automática dos timecodes de arquivos de diferentes câmeras.
- (C) o apagamento automático do cartão de memória.
- (D) o transporte imediato dos arquivos para a timeline do projeto.
- (E) a importação de arquivos com opções de cópia e geração de proxies.

REDAÇÃO

TEXTO 1

Narcocultura é o nome dado ao conjunto de práticas, símbolos, comportamentos e expressões artísticas que glorificam ou romantizam o universo do narcotráfico. Ela aparece em músicas, filmes, vídeos, roupas, tatuagens e postagens nas redes sociais, exaltando o poder, a riqueza e o estilo de vida dos envolvidos com o tráfico de drogas. No entanto, o termo também traz consigo a criação de uma narcoestética, responsável por idealizar um estilo de vida associado ao narcotráfico. No Brasil, o conceito é comumente relacionado a gêneros musicais como o funk ostentação e o rap, que retratam a realidade das favelas e do crime.

Representar o crime em obras artísticas não é, por si só, uma conduta criminosa. A Constituição Brasileira garante a liberdade de expressão e de criação artística (art. 5º, inciso IX). No entanto, quando a manifestação cultural defende, incentiva ou exalta publicamente práticas criminosas ou criminosos, ela pode, sim, ser enquadrada no artigo 287 do Código Penal, que trata da apologia ao crime. Nesse sentido, há uma diferença importante entre retratar a realidade do crime (como denúncia ou crítica) e glorificar o crime (como se fosse algo desejável). Muitos artistas afirmam que suas músicas ou obras apenas refletem a realidade das comunidades, denunciam a violência, a desigualdade e a ausência do Estado. Por outro lado, críticos argumentam que certas produções romantizam o crime, mostrando armas, drogas e luxo como símbolos de status.

(Layane Henrique. “O que é narcocultura e de onde surgiu este conceito?”, 04.06.2025. Disponível em: <https://www.politize.com.br/>. Adaptado)

TEXTO 2

O título do funk como patrimônio cultural imaterial do Rio de Janeiro reafirma a arte da periferia e que o preto, pobre e favelado também são construtores de cultura, memória e identidade. O estilo é uma forma de ocupar espaço e resistir, mas ainda é perseguido. Para Taísa Machado, pesquisadora do funk e fundadora do Afrofunk, o desconforto está ligado a como o formato musical é entendido, “não é tratado como um produto de cultura”, explica. “O funk não é só música, ele dá sentido à rotina de muita gente que vive à margem”, afirma a funkeira Natitude, da Zona Oeste do Rio.

No final de maio deste ano, o MC Poze do Rodo foi preso, acusado de apologia ao crime e associação ao tráfico por conta da letra de algumas músicas, o que a Polícia Civil categorizou com termo “narcocultura”. Diversos MC’s saíram em defesa de Poze. MC Cabelinho foi um deles: “quando interpretei um traficante na novela das nove, era arte. Quando um funkeiro relata a realidade, é apologia ao crime. Quem decide isso?”

Para Taísa Machado, a repressão não recai sobre qualquer tipo de funk, “a gente sabe que não é o funk que é tocado no Rock in Rio que vai ser perseguido”, fala. “Tem uma relação íntima com o baile, com o proibidão, com o jovem negro e da periferia. Quando essa linguagem incomoda, o que está sendo realmente questionado não é o som, mas quem o produz”, declara Taísa.

(Larissa Xavier. “Meu funk é grito de liberdade’: O ‘corre’ do funk entre a criminalização, resistência e reconhecimento”, 12.07.2025. Disponível em: <https://www.vozdascomunidades.com.br/>. Adaptado)

TEXTO 3

Criminosos influentes na vida dos moradores de comunidades se tornaram os donos daqueles territórios também pela capacidade de converter a violência em renda econômica. Estabelecido o controle e a influência, a violência logo se tornou tema da cultura. Segundo Alessandro Visacro, analista de segurança e defesa e autor do livro *A guerra na era da informação*, “o primeiro objetivo é a construção de um conjunto de valores e crenças coletivo desses grupos armados. Nos bailes funk, hoje, observamos dezenas de fuzis, porque o armamento faz parte dessa cultura. Isso fortalece o reconhecimento social daquele indivíduo dentro da comunidade”, analisa ele. Além disso, a cultura se torna mais um instrumento de propaganda para captação e mobilização de uma massa quase infindável de recursos humanos, que são as crianças e os jovens.

Para Felipe Curi, secretário de Polícia Civil, a difusão de músicas que “normalizam” a atuação das organizações criminosas é uma consequência da chamada “narcocultura”: “ela nada mais é do que enaltecer a ideologia de uma facção por meio de uma manifestação dita cultural. Muitos funkeiros e MCs acabam sendo um instrumento de propaganda que exalta o crime, e isso é muito lesivo, porque vai entrando na mente desses jovens e eles vão achando que aquilo ali é o correto.”, afirma.

(Roberta de Souza e Giampaolo Morgado Braga. “Narcocultura, violência arraigada no cotidiano e o vácuo do Estado nas favelas: debates que voltam à cena após o caso do MC Poze”, 15.06.2025. Disponível em: <https://oglobo.globo.com/>. Adaptado)

Com base nos textos apresentados e em seus próprios conhecimentos, escreva um texto dissertativo-argumentativo, empregando a norma-padrão da língua portuguesa, sobre o tema:

NARCOcultura: ARTE OU APOLOGIA AO CRIME?

REDAÇÃO

Os rascunhos não serão considerados na correção.

1	
2	
3	
4	
5	
6	
7	
8	
9	
10	
11	
12	
13	
14	
15	
16	
17	
18	
19	
20	
21	
22	
23	
24	
25	
26	
27	
28	
29	
30	
31	
32	
33	

RASCUNHO

NÃO ASSINE ESTA FOLHA

