

AVANÇASP



PREFEITURA MUNICIPAL DE  
CERQUILHO/SP

CONCURSO PÚBLICO  
01/2025

## BIBLIOTECÁRIO

### Leia atentamente as instruções abaixo

#### 1. PROVA E FOLHA DE RESPOSTAS

- Além deste Caderno de Prova, contendo 50 (cinquenta) questões objetivas, você receberá do Fiscal de Sala:
- 01 (uma) Folha de Respostas destinada às respostas das questões objetivas. Confira se seus dados estão corretos.

#### 2. TEMPO

- 03 (três) horas é o tempo disponível para realização da prova, já incluído o tempo para marcação da Folha de Respostas da prova objetiva;
- **01 (uma) hora** após o início da prova é possível, retirar-se da sala levando o caderno de prova;

#### 3. INFORMAÇÕES GERAIS

- As questões objetivas têm 05 (cinco) alternativas de resposta (A, B, C, D, E) e somente **uma** delas está correta;
- Verifique se seu caderno está completo, sem repetição de questões ou falhas. Caso contrário, informe imediatamente o Fiscal da Sala, para que sejam tomadas as devidas providências;
- Confira seus dados pessoais na Folha de Respostas, especialmente nome, número de inscrição e documento de identidade e leia atentamente as instruções para preenchimento;
- O preenchimento das respostas da prova objetiva é de sua responsabilidade e não será permitida a troca de Folha de Respostas em caso de erro de marcação pelo candidato;

- Marque, na folha de respostas, com caneta de tinta azul ou preta, a letra correspondente à alternativa que você escolheu.

- Reserve tempo suficiente para o preenchimento de suas respostas. Para fins de avaliação, serão levadas em consideração apenas as marcações realizadas na Folha de Respostas da prova objetiva, não sendo permitido anotar informações relativas às respostas em qualquer outro meio que não seja o caderno de prova;

- Ao se retirar, entregue a Folha de Respostas preenchida e assinada ao Fiscal de Sala.

#### SERÁ ELIMINADO do presente certame o candidato que:

- a) for surpreendido, durante as provas, em qualquer tipo de comunicação com outro candidato;
- b) portar ou usar, qualquer tipo de aparelho eletrônico (calculadoras, bips/pagers, câmeras fotográficas, filmadoras, telefones celulares, smartphones, tablets, relógios, walkmans, MP3 players, fones de ouvido, agendas eletrônicas, notebooks, palmtops ou qualquer outro tipo de computador portátil, receptores ou gravadores) seja na sala de prova, sanitários, pátios ou qualquer outra dependência do local de prova;
- c) se ausentar da sala em que se realizam as provas levando consigo o Caderno de Questões e/ou a Folha de Respostas;
- d) se recusar a entregar a Folha de Respostas, quando terminar o tempo estabelecido;
- e) não assinar a Lista de Presença e/ou a Folha de Respostas.

---

**LÍNGUA PORTUGUESA**

---

**TEXTO**

---

Leia o texto a seguir para responder às questões de 1 a 5.

**Minha terra tem palmeiras**

Vejo de minha janela uma nesga do mar verde-azul de Copacabana e me penetra uma infinita doçura. Estou de volta à minha terra... A máquina de escrever conta-me uma antiga história, canta-me uma antiga música no bater de seu teclado. Estou de volta à minha terra, respiro a brisa marinha que me afaga a pele, seu aroma vem da infância. Retomo o diálogo com a minha gente. Uma empregada mulata assoma ao parapeito defronte, o busto vazando do decote, há toalhas coloridas secando sobre o abismo vertical dos apartamentos, dá-me uma vertigem. Que doçura!

Sinto borboletas no estômago, deve ter sido o tutu com torresmo de ontem misturado ao camarão à baiana de anteontem misturado à galinha ao molho pardo de trasanteontem misturada aos quindins, papos de anjo, doces de coco do primeiro dia. Digi-ro o Brasil. Qual *canard au sang*, qual *loup flambé au fenouil*, qual *pâté Strasbourgeois*, qual nada! A calda dourada da baba de moça infiltra-se entre as papilas gustativas, elas desmaiam de prazer, tudo deságua em lentas lavas untuosas num amoroso mar de suco gástrico...

— É a brasuca! disse-me Antonio Carlos Jobim balançando a cabeça com ar convicto, enquanto empinava o seu voo em direção ao Arpodor.

MORAES, V. Minha terra tem palmeiras. In: FERRAZ, E. (Org.) *Para uma menina com uma flor*. São Paulo: Companhia das Letras, 2009, p. 96-98. Disponível em <<https://cronicabrasileira.org.br/cronicas/19891/minha-terra-tem-palmeiras>>.

---

**QUESTÃO 01**

---

Após a leitura do texto, conclui-se que o narrador:

- (A) prefere manter certa distância do seu próprio povo.
- (B) é apreciador da culinária brasileira.
- (C) não se sente satisfeito com o fato de que retornou ao Brasil.
- (D) tem mais apreço pela culinária europeia do que pela brasileira.
- (E) não se agrada com a paisagem do Rio de Janeiro.

---

**QUESTÃO 02**

---

O trecho a seguir em que predomina a figura de linguagem de personificação é:

- (A) “*Estou de volta à minha terra...*”
- (B) “*Sinto borboletas no estômago*”.
- (C) “*Digi-ro o Brasil.*”
- (D) “*A máquina de escrever conta-me uma antiga história*”.
- (E) “*Uma empregada mulata assoma ao parapeito defronte*”.

---

**QUESTÃO 03**

---

O pronome pessoal em “*elas desmaiam de prazer*” atua como um elemento de coesão referencial, que retoma, no texto:

- (A) “toalhas coloridas”.
- (B) “borboletas no estômago”.
- (C) “galinha ao molho pardo”.
- (D) “calda dourada da baba de moça”.
- (E) “papilas gustativas”.

**QUESTÃO 04**

Analise os trechos a seguir e identifique aquele em que ocorre verbo impessoal.

- (A) “*respiro a brisa marinha que me afaga a pele*”.
- (B) “*há toalhas coloridas secando sobre o abismo vertical dos apartamentos*”.
- (C) “*tudo deságua em lentas lavas untuosas*”.
- (D) “*dá-me uma vertigem*”.
- (E) “*seu aroma vem da infância*”.

**QUESTÃO 05**

As palavras em destaque em “*deve ter sido o tutu **com** torresmo **de** ontem*” pertencem à classe gramatical:

- (A) artigo.
- (B) pronome.
- (C) preposição.
- (D) conjunção.
- (E) substantivo.

**QUESTÃO 06**

Analise as sentenças a seguir, considerando os pronomes oblíquos átonos entre parênteses, ao final de cada uma:

- I. *Não parece uma boa ideia?* (lhe)
- II. *O aluno pediu ajuda para finalizar a tarefa.* (me)
- III. *Ela contaria o que está passando se estivesse segura.* (te)
- IV. *Inclinou na beira da janela.* (se)
- V. *Ainda queria bem.* (a)

Em conformidade com a norma-padrão da língua portuguesa, a sentença em que o pronome oblíquo átono deve ocorrer **obrigatoriamente** em ênclise é:

- (A) I.
- (B) II.
- (C) III.
- (D) IV.
- (E) V.

**QUESTÃO 07**

Analise as relações de regência verbal nas sentenças a seguir. Ocorre verbo transitivo indireto apenas em:

- (A) Comprei duas maçãs na feira.
- (B) Pulou do ônibus na esquina de casa.
- (C) As moscas voavam rapidamente.
- (D) Morreu tranquilo em sua casa.
- (E) Ainda tenho duas velas aromáticas.

**QUESTÃO 08**

Nas sentenças a seguir, o acento indicativo de crase deveria ocorrer **obrigatoriamente** apenas em:

- (A) Pediu a ela que não fizesse birra.
- (B) Enviou a esposa uma carta há duas semanas.
- (C) A declaração foi encaminhada a todos.
- (D) Os resultados desse trabalho só vão aparecer a longo prazo.
- (E) Não esqueça de pegar as chaves sobre a mesa.

**QUESTÃO 09**

Em “*Meu coração está partido ao meio*”, a palavra “partido” exprime sentido figurado. Essa expressão é empregada também com sentido figurado em:

- (A) Partido o pão, foram servidas taças de vinho.
- (B) A briga foi tão feia que o grupo terminou partido.
- (C) Achei que tivesse partido hoje de manhã para o Rio de Janeiro.
- (D) O vestido foi partido em dois, para que fizesse uma saia.
- (E) O ônibus já havia partido ao meio-dia.

**QUESTÃO 10**

Considere a seguinte sentença, com especial atenção à lacuna:

“ \_\_\_\_\_ quisesse se aproximar da garota, sentia que algo estava errado.”

Para que a oração inicial exprima concessão, o item gramatical que deve preencher a lacuna é:

- (A) *caso*.
- (B) *porque*.
- (C) *portanto*.
- (D) *logo*.
- (E) *embora*.

**MATEMÁTICA E RACIOCÍNIO LÓGICO**

**QUESTÃO 11**

Em um estacionamento, um valor fixo de R\$ 20,00 é cobrado para permanências de até 6 horas. Após isso, cada hora adicional gera um acréscimo de R\$ 5,00. Os minutos também são contados de forma proporcional. Neste caso, quanto pagará um cliente que deixou seu veículo estacionado por 7 horas e 30 minutos?

- (A) R\$ 25,00.
- (B) R\$ 22,50.
- (C) R\$ 27,50.
- (D) R\$ 32,50.
- (E) R\$ 27,00.

**QUESTÃO 12**

Uma torneira com um pequeno vazamento despeja uma gota a cada 3 segundos. Cada gota tem 0,05 mL. Quanto tempo levará, em horas, aproximadamente, para que o volume da água despejada seja igual a 1 litro?

- (A) 17 horas.
- (B) 14 horas.
- (C) 12 horas.
- (D) 10 horas.
- (E) 6 horas.

**QUESTÃO 13**

Estima-se que um carro convencional, cujo combustível utilizado é a gasolina, tem eficiência de 30%. Isso significa que da energia total presente no combustível, apenas 30% são utilizadas para o movimento. O restante é desperdiçado na forma de energia térmica e sonora. Suponha que um carro convencional com essa eficiência consegue percorrer 12 km utilizando um litro de combustível. Se os engenheiros produzirem novo modelo de carro, com eficiência de 40%, quantos km ele percorrerá com um litro de combustível? Sabe-se que a distância percorrida é proporcional à eficiência.

- (A) 16 km.
- (B) 13 km.
- (C) 15 km.
- (D) 14 km.
- (E) 24 km.

**QUESTÃO 14**

Quatro amigos foram a um restaurante e pediram pratos com os seguintes preços: R\$ 32,00, R\$ 28,00, R\$ 30,00 e R\$ 40,00. Quanto, em média, cada amigo gastou?

- (A) R\$ 32,00.
- (B) R\$ 33,50.
- (C) R\$ 30,00.
- (D) R\$ 33,00.
- (E) R\$ 32,50.

**QUESTÃO 15**

Em um restaurante há 5 chefes de cozinha. Sabe-se que cada chefe consegue preparar 24 pratos por hora. A gerência do restaurante demitirá 3 chefes e contratará alguns subchefes para substituí-los. Sabe-se que os subchefes conseguem preparar 18 pratos por hora. Quantos subchefes deverão ser contratados para que o número de pratos por hora produzidos pelo restaurante não se altere?

- (A) 3.
- (B) 4.
- (C) 5.
- (D) 6.
- (E) 7.

**QUESTÃO 16**

Dois amigos fizeram investimentos com o mesmo capital inicial, pelo mesmo tempo, sob o regime de juros simples, mas a taxas de juros diferentes.

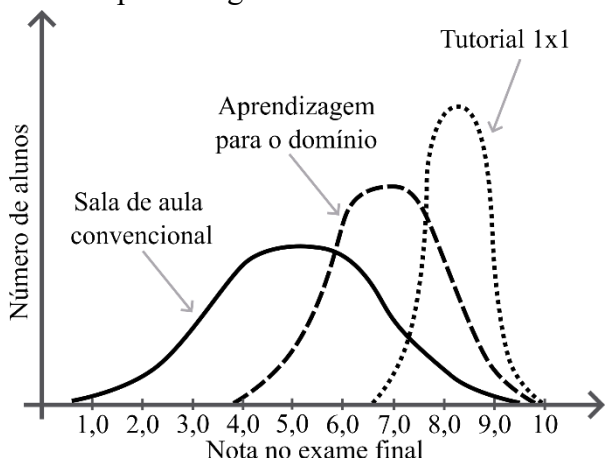
- João aplicou a 2% ao mês e recebeu R\$ 240,00 de juros.
- Maria aplicou a 3% ao mês.

Com base nas informações, qual foi o valor dos juros recebidos por Maria?

- (A) R\$ 260,00.
- (B) R\$ 300,00.
- (C) R\$ 360,00.
- (D) R\$ 420,00.
- (E) R\$ 480,00.

**QUESTÃO 17**

O gráfico abaixo mostra a relação entre o número de alunos com uma determinada nota no exame final para três modelos diferentes de processos de ensino-aprendizagem:



Analisando o gráfico, é correto afirmar que:

- (A) No modelo de sala de aula convencional, todos os estudantes obtiveram notas muito próximas da média.
- (B) No modelo de aprendizagem para o domínio, nenhum estudante obteve nota abaixo de 6,0.
- (C) A média das notas de todos os estudantes em cada modelo de ensino-aprendizagem é sempre a mesma.
- (D) A média das notas no modelo de tutorial 1x1 foi maior que as médias das notas nos outros modelos.
- (E) No modelo de tutorial 1x1, poucos estudantes obtiveram notas maiores que 7,0.

**QUESTÃO 18**

Um cofre possui uma combinação secreta formada por quatro letras distintas entre ‘A’, ‘B’, ‘C’ e ‘D’, sem repetições. As pistas para descobrir a ordem correta são:

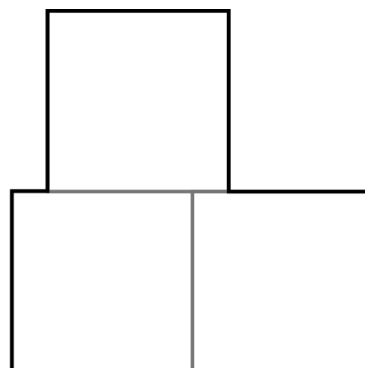
- a letra ‘B’ está à direita da letra ‘D’;
- a letra ‘C’ ocupa a 2ª posição;
- a letra ‘A’ vem antes da letra ‘C’.

Com base nessas informações, qual a sequência correta para abrir o cofre?

- (A) BCBA.
- (B) ACBD,
- (C) ACDB.
- (D) BCAB.
- (E) DCBA.

**QUESTÃO 19**

A figura abaixo foi feita a partir de 3 quadrados idênticos e de lado medindo 5 cm:



Indique o perímetro da figura (contorno mais escuro):

- (A) 100 cm.
- (B) 40 cm.
- (C) 60 cm.
- (D) 50 cm.
- (E) 45 cm.

**QUESTÃO 20**

Um sistema de monitoramento espacial envia mensagens com dados geoespaciais para uma estação na Terra a cada 10 segundos. Quantas mensagens são enviadas em uma hora?

- (A) 1000.
- (B) 6000.
- (C) 60.
- (D) 3600.
- (E) 360.

**NOÇÕES DE INFORMÁTICA****QUESTÃO 21**

Fernanda estava transferindo dados de um documento para outro, utilizando os comandos copiar (Ctrl + C) e colar (Ctrl + V). Como o conteúdo era confidencial, ela decidiu limpar o histórico da Área de Transferência por segurança. Sendo assim, qual caminho Fernanda seguiu para limpar o histórico da Área de Transferência, dentre as opções abaixo? Assinale a alternativa que representa esse caminho.

- (A) Selecionar Iniciar, acessar Configurações > Privacidade > Área de Transferência > Limpar dados da Área de Transferência e clicar em Limpar.
- (B) Em sistemas com configuração padrão, na área de trabalho, é possível clicar no botão "Limpar dados da Área de Transferência".
- (C) Selecionar Iniciar, acessar Configurações > Sistema > Área de Transferência > Limpar dados da Área de Transferência e clicar em Limpar.
- (D) Selecionar Iniciar, acessar Configurações > Sistema > Área de Trabalho Remota > Limpar dados da Área de Transferência e clicar em Limpar.
- (E) Selecionar Iniciar, acessar Transferência de Área e clicar em Limpar.

**QUESTÃO 22**

Seu supervisor solicitou para você realizar um levantamento se o nome de um dos clientes foi digitado corretamente, no Microsoft Word, em todos os campos acima do espaço reservado para o contratante e lhe mostrou um exemplo:

João da Silva  
(Contratante)

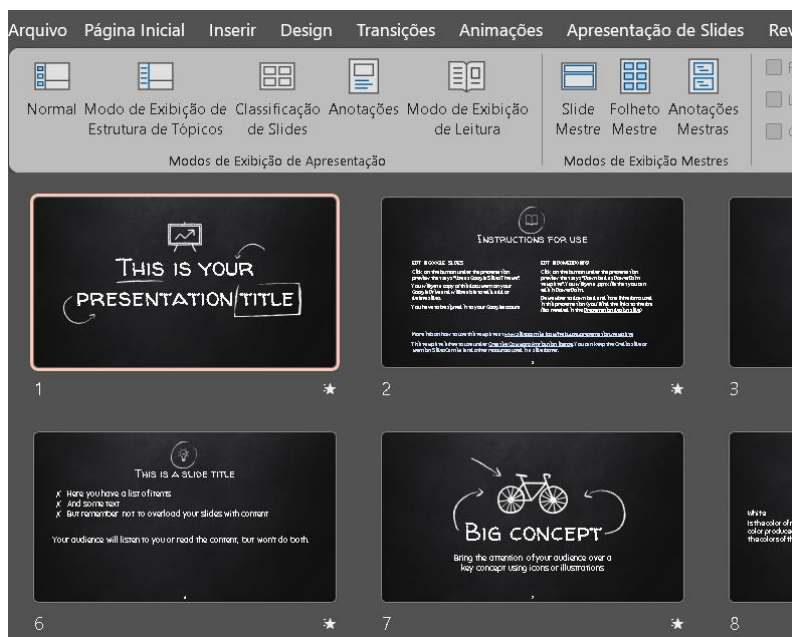
O prazo é curto e é inviável ler todo o documento de mais de mil páginas, portanto, para cumprir o prazo você deverá usar a ferramenta de localizar do Word. Considere, nesse contexto, que não há a certeza de que o nome próprio foi digitado integralmente ou de forma correta. Entretanto, considere que a palavra “(Contratante)” está correta no documento, pois é um campo padrão já validado anteriormente. Além disso, a sua ferramenta Word está com as configurações padrão.

Baseado no contexto apresentado, assinale a alternativa que apresenta o procedimento correto para realizar a tarefa da forma mais simples, precisa e eficiente entre as opções abaixo:

- (A) Ir na Guia Página Inicial, Localizar, digitar o nome “João da Silva” para encontrar todos os nomes e informar ao seu supervisor que tudo está certo.
- (B) Ir na Guia Página Inicial, Editando, Localizar, digitar “(Contratante)” e navegar inspecionando um por um para verificar se o nome do cliente foi preenchido acima desse campo e se está correto.
- (C) Ir na Guia Página Inicial, Localização Avançada e digitar “Silva^p(Contratante)” e navegar entre os resultados para verificar se todos os campos foram preenchidos e se estão corretos.
- (D) Ir na Guia Exibir, Localizar e digitar “João da Silva” e navegar entre os resultados para verificar se todos os campos foram preenchidos e se estão corretos.
- (E) Ir na Guia Revisão, Localização Avançada e digitar o nome “(Contratante)” e navegar inspecionando um por um para verificar se todos os campos foram preenchidos e se estão corretos.

**QUESTÃO 23**

Considere a imagem do Microsoft PowerPoint abaixo:



O PowerPoint dispõe de diferentes modos de exibição de apresentação, que são: Normal, Modo de Exibição de Estrutura de Tópicos, Classificação de Slides, Anotações e Modo de Exibição de Leitura. Conforme observa-se na imagem, qual é o modo de exibição de apresentação que foi escolhido? Assinale a alternativa que apresenta a resposta correta.

- (A) Normal
- (B) Modo de Exibição de Estrutura de Tópicos
- (C) Classificação de Slides
- (D) Anotações
- (E) Modo de Exibição de Leitura

**QUESTÃO 24**

Durante o envio de um e-mail profissional urgente, Joana precisa mandar um arquivo PDF para o destinatário. Qual ação ela deve realizar para anexar corretamente o arquivo? Assinale a alternativa correta.

- (A) Copiar o conteúdo do PDF e colar no corpo do e-mail, já que esse formato de arquivo não é aceito como anexo.
- (B) Inserir o PDF como imagem no campo de assinatura.
- (C) Clicar na opção “Anexar arquivo” e selecionar o documento desejado.
- (D) Colar o link do PDF no campo “Para”.
- (E) Transformar o PDF em um rascunho e enviar depois.

**QUESTÃO 25**

Você está confeccionando uma planilha chamada “Valores totais” para calcular os valores médios de algumas receitas. Em uma determinada célula dessa planilha, deseja calcular a média dos salários entre os meses de janeiro a maio, cujos dados estão localizados na planilha chamada “Receitas”, no intervalo B2:B6. Para isso, você utilizará uma fórmula que faz referência a outra planilha.

	A	B	C
1	<b>Descrição</b>	<b>Valor da Receita</b>	
2	Salário janeiro	R\$ 2.500,00	
3	Salário fevereiro	R\$ 150,00	
4	Salário março	R\$ 50,00	
5	Salário abril	R\$ 795,00	
6	Salário maio	R\$ 600,00	
7	total	R\$ 4.095,00	
8			
9			

Qual fórmula deve ser utilizada na célula da planilha “Valores totais” para calcular corretamente essa média? Assinale a alternativa correta.

- (A) =MÉDIA(B2:B6)
- (B) =MÉDIA(“Receitas!”,B2:B6)
- (C) =MÉDIA(Receitas!B2:B6)
- (D) =MÉDIA(Receitas!,B3:B6)
- (E) =MÉDIA(‘Receitas!’,B2:B6)

**CONHECIMENTOS ESPECÍFICOS**

**QUESTÃO 26**

A gestão e a coordenação de bibliotecas demandam atenção a diversos aspectos que permeiam o ambiente. Um dos principais objetivos é garantir que os usuários possam acessar de forma rápida e precisa as informações que necessitam. Esse conceito é sintetizado no termo:

- (A) Temporariedade.
- (B) Indisponibilidade.
- (C) Conhecimento.
- (D) Acessibilidade.
- (E) Interação.

**QUESTÃO 27**

A transformação do texto original de uma obra, para ajustá-lo a categorias determinadas de leitores, ou apresentá-lo sob outro gênero literário, representa uma:

- (A) Adaptação.
- (B) Correção.
- (C) Tradução.
- (D) Interpretação.
- (E) Resumo.

**QUESTÃO 28**

O tipo de biblioteca cuja principal finalidade é a preservação da memória nacional, isto é, da produção bibliográfica e documental de uma nação, é conhecida como:

- (A) Biblioteca pública.
- (B) Biblioteca privada.
- (C) Biblioteca governamental.
- (D) Biblioteca nacional.
- (E) Biblioteca presidencial.

**QUESTÃO 29**

A biblioteca, como organização, pressupõe três grandes funções. Uma função estritamente gerencial que é desenvolvida pelo profissional bibliotecário, devidamente registrado em Conselho de Classe, corresponde a:

- (A) Catalogação.
- (B) Administração.
- (C) Reprografia.
- (D) Aquisição de material.
- (E) Indexação.

**QUESTÃO 30**

Na organização e administração das bibliotecas essa atividade pode ser entendida como o trabalho de descrever a estrutura física dos objetos ou documentos que fazem parte de um acervo ou coleção. Este trabalho pode se desdobrar na elaboração de catálogos impressos ou on-line e ainda na chamada catalogação na fonte, que consiste na inserção da descrição física do documento, no próprio documento:

- (A) Catalogação.
- (B) Sintetização.
- (C) Classificação.
- (D) Aquisição.
- (E) Cotação.

**QUESTÃO 31**

Os documentos produzidos em formato datilografado dentro de uma biblioteca, ou seja, aqueles criados por meio de máquina de escrever, recebem uma denominação específica. Esse tipo de documento é conhecido como:

- (A) Documento digital.
- (B) Documento impresso.
- (C) Texto revisado.
- (D) Datiloscrito.
- (E) Manuscrito.

**QUESTÃO 32**

No contexto dos artefatos de produção audiovisual de uma biblioteca, há um tipo específico de documento que detalha, de forma minuciosa, cada sequência, plano e cena, além de descrever os diálogos e as indicações técnicas necessárias para a realização de um projeto. Esse documento é conhecido como:

- (A) Relatório técnico.
- (B) Decupagem.
- (C) Storyboard.
- (D) Edição.
- (E) Esboço de produção.

**QUESTÃO 33**

A transformação de registros qualitativos ou quantitativos, após serem organizados, agrupados, categorizados e padronizados adequadamente, resulta em algo essencial para a tomada de decisões e geração de conhecimento. O resultado dessa transformação tem a denominação de:

- (A) Dado.
- (B) Sistema.
- (C) Biometria.
- (D) Tecnologia.
- (E) Internet.

**QUESTÃO 34**

Em meio à crescente necessidade de preservar documentos importantes, uma ciência se destaca por estudar os princípios e métodos que garantem a conservação de registros documentais. Essa ciência permite assegurar a manutenção dos direitos, interesses, conhecimento e memória de indivíduos e organizações. Assinale a alternativa que corresponde a essa ciência:

- (A) Conservação.
- (B) Biblioteconomia.
- (C) Arquivologia.
- (D) Documentologia.
- (E) Biologia.

**QUESTÃO 35**

Qual foi um dos primeiros sistemas automatizados de recuperação da informação, criado em 1953 por Mortimer Taube, que consistia na indexação de documentos por termos únicos retirados do título ou do resumo?

- (A) MARC.
- (B) OPAC.
- (C) DDC.
- (D) UNITERM.
- (E) LCC.

**QUESTÃO 36**

O Comut, criado em 1980 pelo Ministério da Educação, tem como principal finalidade:

- (A) Promover a publicação de periódicos científicos.
- (B) Facilitar o acesso à informação para fins acadêmicos e de pesquisa.
- (C) Coordenar a formação de professores em instituições de ensino.
- (D) Regulamentar as atividades das bibliotecas públicas.
- (E) Incentivar a pesquisa científica no setor privado.

**QUESTÃO 37**

Assinale a alternativa que completa corretamente a lacuna do texto a seguir, referente aos principais sistemas de informação automatizados, nacionais e internacionais, na área da biblioteconomia:

Com sua origem em 1942, a \_\_\_\_\_ é uma iniciativa pioneira na criação de uma rede de catalogação cooperativa no Brasil, constituindo uma base integrada de bibliotecas com o objetivo de promover a difusão dos acervos bibliográficos do país, de acesso público, e que dissemina mais de 2.000.000 de títulos e reúne, em suas listas de autoridades, mais de 250.000 registros de nomes e assuntos.

- (A) Rede de Acervo Documental.
- (B) Rede de Arquivologia.
- (C) Rede de Arquivação.
- (D) Rede Documentária.
- (E) Rede Bibliodata.

**QUESTÃO 38**

Os Sistemas de Gerenciamento de Serviços de Bibliotecas devem apresentar funções básicas, tais como o registro de:

- (A) PPCP.
- (B) Desvio padrão.
- (C) Estatísticas de vendas.
- (D) Publicações Seriadas.
- (E) Kardex de itens.

**QUESTÃO 39**

O que é um ISSN?

(A) O Número Padrão Internacional para Publicação Seriada é um identificador aceito internacionalmente para individualizar o título de uma publicação seriada, tornando-o único e definitivo.

(B) Publicação periódica, com intervalos regulares, que contém informações sobre diferentes ramos do conhecimento.

(C) Item não seriado, isto é, item completo, constituído de uma só parte, ou que se pretende completar em um número preestabelecido de partes separadas.

(D) Publicação em qualquer tipo de suporte, editada em unidades físicas sucessivas, com designações numéricas e/ou cronológicas, destinada a ser continuada indefinidamente.

(E) Conjunto padronizado de elementos descritivos, retirados de um documento, que permite sua identificação individual.

**QUESTÃO 40**

No contexto da elaboração de referências bibliográficas, existem normas específicas que garantem a padronização e a clareza na apresentação dos elementos. Com base nas regras gerais de apresentação, assinale a alternativa que descreve corretamente um dos princípios fundamentais para a formatação das referências:

(A) As referências podem ser apresentadas em qualquer ordem, desde que incluam todos os elementos essenciais.

(B) As referências devem ser alinhadas à margem direita do texto e separadas por espaço simples.

(C) As referências devem ser apresentadas em sequência padronizada, alinhadas à margem esquerda e separadas por espaço duplo.

(D) As referências devem ser centralizadas no texto para destacar a informação.

(E) Não há necessidade de seguir um padrão específico, desde que as informações sejam compreensíveis.

**QUESTÃO 41**

Com base nas definições de referências de monografia e nos elementos essenciais que a compõem, assinale a alternativa que apresenta corretamente a lista desses elementos:

- (A) Autor, título, resumo, local, editora e data de publicação.
- (B) Autor, título, edição, local, editora e data de publicação.
- (C) Autor, título, conteúdo, local, editora e ano de criação.
- (D) Autor, nome do projeto, edição, local, editora e data de publicação.
- (E) Autor, título, tema, local, editora e data de lançamento.

**QUESTÃO 42**

O processo de Recuperação da Informação (RI) é fundamental para atender às necessidades de informação dos usuários em um Sistema de Recuperação de Informação (SRI). Esse processo envolve a identificação de documentos relevantes dentro de um conjunto de dados. Em relação a esse processo, assinale a alternativa correta:

- (A) O SRI deve focar apenas na recuperação de dados isolados.
- (B) O usuário busca apenas títulos de documentos, sem se preocupar com seu conteúdo.
- (C) O SRI deve representar o conteúdo dos documentos de forma a facilitar a seleção pelos usuários.
- (D) A expressão de busca é irrelevante para o processo de recuperação de informação.
- (E) O SRI não necessita apresentar os documentos de forma organizada para o usuário.

**QUESTÃO 43**

No contexto da organização de informações em bibliotecas e livrarias, a correta referência de uma coleção de títulos de periódicos é indispensável para facilitar a localização e o acesso às publicações. Essa referência deve ser precisa e seguir normas estabelecidas, garantindo que todos os elementos essenciais sejam incluídos. Um dos componentes que NÃO faz parte dessa referência é:

- (A) Título.
- (B) Subtítulo.
- (C) Editora.
- (D) Local de publicação.
- (E) Destinatário.

**QUESTÃO 44**

O Modelo Booleano é amplamente utilizado em Recuperação da Informação (RI) e se baseia na lógica binária, originada a partir da álgebra booleana. Em relação ao Modelo Booleano, assinale a alternativa correta:

- (A) O Modelo Booleano permite a combinação de múltiplos valores, como 0, 1 e 2.
- (B) A lógica desse modelo é fundamentada na álgebra aritmética, que inclui operações como adição e subtração.
- (C) O Modelo Booleano utiliza a lógica binária, onde apenas dois valores são possíveis: verdadeiro ou falso.
- (D) O modelo foi desenvolvido por Alan Turing, um dos pioneiros da computação.
- (E) A lógica booleana é complexa e não é aplicável à recuperação de informação.

---

**QUESTÃO 45**

---

A catalogação é uma parte fundamental da biblioteconomia, pois permite que as informações sobre as obras sejam organizadas de forma acessível. O Código de Catalogação Anglo-Americano (AACR) fornece diretrizes que ajudam na padronização dessa organização. As descrições são divididas em várias áreas, cada uma com sua finalidade específica.

De acordo com o Código de Catalogação Anglo-Americano, a descrição das obras é organizada em diferentes áreas. Uma dessas áreas é:

- (A) O título e a indicação de responsabilidade.
- (B) O datilógrafo.
- (C) A modalidade de venda.
- (D) A modalidade de leitura.
- (E) O tópico principal do documento.

---

**QUESTÃO 46**

---

No âmbito da biblioteconomia, a catalogação é uma atividade relacionada a organização e recuperação da informação. O Código de Catalogação Anglo-Americano estabelece diferentes níveis de detalhamento para a descrição de obras. Cada nível apresenta componentes que devem ser considerados para a correta catalogação. Identifique, a seguir, qual dos seguintes elementos pertence ao primeiro nível da descrição:

- (A) Segundo editor.
- (B) Número de cópias publicadas.
- (C) Local de venda.
- (D) Local de concepção.
- (E) Título principal.

---

**QUESTÃO 47**

---

De acordo com o Art. 3º da legislação que regula o exercício da profissão de Bibliotecário, quem pode exercer essa profissão de forma privativa?

- (A) Profissionais com diploma de Ensino Médio em qualquer área.
- (B) Portadores de diploma de Bacharel em Biblioteconomia de instituições reconhecidas.
- (C) Portadores de diploma de graduação em áreas afins, como História ou Letras.
- (D) Estudantes de Biblioteconomia que ainda não concluíram o curso.
- (E) Profissionais com experiência em bibliotecas, independentemente da formação acadêmica.

---

**QUESTÃO 48**

---

De acordo com o CAPÍTULO X da legislação sobre as infrações, penalidades e recursos para Bibliotecários, o que caracteriza o exercício ilegal da profissão?

- (A) A falta de experiência profissional.
- (B) O exercício da profissão sem supervisão.
- (C) O trabalho em bibliotecas escolares.
- (D) A ausência do registro e do pagamento da anuidade.
- (E) O não cumprimento das diretrizes do Conselho Nacional.

---

**QUESTÃO 49**

---

Segundo o CAPÍTULO XI das disposições gerais e transitórias da legislação que regula o exercício da profissão de Bibliotecário, quais diplomas são considerados equivalentes para os efeitos legais?

- (A) Diploma de Biblioteconomia e Licenciatura em Educação.
- (B) Diploma de Bibliotecário e Tecnólogo em Informação.
- (C) Diploma de Biblioteconomia e Diploma de Gestão de Bibliotecas.
- (D) Diploma de Bibliotecário e Diploma de História.
- (E) Diploma de Bibliotecário, de Bacharel em Biblioteconomia e de Bacharel em Biblioteconomia e Documentação.

---

**QUESTÃO 50**

---

De acordo com o Art. 5º do Código de Ética e Deontologia do Bibliotecário brasileiro, que regulamenta a profissão de bibliotecário, qual dos seguintes deveres é explicitamente mencionado:

- (A) Realizar pesquisas independente de diretrizes.
- (B) Preservar o cunho liberal e humanista da profissão, fundamentado na liberdade da investigação científica.
- (C) Promover a publicidade de sua instituição sem restrições.
- (D) Atualizar seu cadastro no Conselho Regional apenas quando solicitado.
- (E) Ignorar as diretrizes científicas ao realizar atividades profissionais.

