

AVANÇASP



PREFEITURA MUNICIPAL DE
CERQUILHO/SP

CONCURSO PÚBLICO
01/2025

DENTISTA

Leia atentamente as instruções abaixo

1. PROVA E FOLHA DE RESPOSTAS

- Além deste Caderno de Prova, contendo 50 (cinquenta) questões objetivas, você receberá do Fiscal de Sala:
- 01 (uma) Folha de Respostas destinada às respostas das questões objetivas. Confira se seus dados estão corretos.

2. TEMPO

- 03 (três) horas é o tempo disponível para realização da prova, já incluído o tempo para marcação da Folha de Respostas da prova objetiva;
- **01 (uma) hora** após o início da prova é possível, retirar-se da sala levando o caderno de prova;

3. INFORMAÇÕES GERAIS

- As questões objetivas têm 05 (cinco) alternativas de resposta (A, B, C, D, E) e somente **uma** delas está correta;
- Verifique se seu caderno está completo, sem repetição de questões ou falhas. Caso contrário, informe imediatamente o Fiscal da Sala, para que sejam tomadas as devidas providências;
- Confira seus dados pessoais na Folha de Respostas, especialmente nome, número de inscrição e documento de identidade e leia atentamente as instruções para preenchimento;
- O preenchimento das respostas da prova objetiva é de sua responsabilidade e não será permitida a troca de Folha de Respostas em caso de erro de marcação pelo candidato;

- Marque, na folha de respostas, com caneta de tinta azul ou preta, a letra correspondente à alternativa que você escolheu.

- Reserve tempo suficiente para o preenchimento de suas respostas. Para fins de avaliação, serão levadas em consideração apenas as marcações realizadas na Folha de Respostas da prova objetiva, não sendo permitido anotar informações relativas às respostas em qualquer outro meio que não seja o caderno de prova;

- Ao se retirar, entregue a Folha de Respostas preenchida e assinada ao Fiscal de Sala.

SERÁ ELIMINADO do presente certame o candidato que:

- a) for surpreendido, durante as provas, em qualquer tipo de comunicação com outro candidato;
- b) portar ou usar, qualquer tipo de aparelho eletrônico (calculadoras, bips/pagers, câmeras fotográficas, filmadoras, telefones celulares, smartphones, tablets, relógios, walkmans, MP3 players, fones de ouvido, agendas eletrônicas, notebooks, palmtops ou qualquer outro tipo de computador portátil, receptores ou gravadores) seja na sala de prova, sanitários, pátios ou qualquer outra dependência do local de prova;
- c) se ausentar da sala em que se realizam as provas levando consigo o Caderno de Questões e/ou a Folha de Respostas;
- d) se recusar a entregar a Folha de Respostas, quando terminar o tempo estabelecido;
- e) não assinar a Lista de Presença e/ou a Folha de Respostas.

LÍNGUA PORTUGUESA**TEXTO**

Leia o texto a seguir para responder às questões de 1 a 5.

Minha terra tem palmeiras

Vejo de minha janela uma nesga do mar verde-azul de Copacabana e me penetra uma infinita doçura. Estou de volta à minha terra... A máquina de escrever conta-me uma antiga história, canta-me uma antiga música no bater de seu teclado. Estou de volta à minha terra, respiro a brisa marinha que me afaga a pele, seu aroma vem da infância. Retomo o diálogo com a minha gente. Uma empregada mulata assoma ao parapeito defronte, o busto vazando do decote, há toalhas coloridas secando sobre o abismo vertical dos apartamentos, dá-me uma vertigem. Que doçura!

Sinto borboletas no estômago, deve ter sido o tutu com torresmo de ontem misturado ao camarão à baiana de anteontem misturado à galinha ao molho pardo de trasanteontem misturada aos quindins, papos de anjo, doces de coco do primeiro dia. Digi-ro o Brasil. Qual *canard au sang*, qual *loup flambé au fenouil*, qual *pâté Strasbourgeois*, qual nada! A calda dourada da baba de moça infiltra-se entre as papilas gustativas, elas desmaiam de prazer, tudo deságua em lentas lavas untuosas num amoroso mar de suco gástrico...

— É a brasuca! disse-me Antonio Carlos Jobim balançando a cabeça com ar convicto, enquanto empinava o seu voo em direção ao Arpodador.

MORAES, V. Minha terra tem palmeiras. In: FERRAZ, E. (Org.) *Para uma menina com uma flor*. São Paulo: Companhia das Letras, 2009, p. 96-98. Disponível em <<https://cronicabrasileira.org.br/cronicas/19891/minha-terra-tem-palmeiras>>.

QUESTÃO 01

Após a leitura do texto, conclui-se que o narrador:

- (A) prefere manter certa distância do seu próprio povo.
- (B) é apreciador da culinária brasileira.
- (C) não se sente satisfeito com o fato de que retornou ao Brasil.
- (D) tem mais apreço pela culinária europeia do que pela brasileira.
- (E) não se agrada com a paisagem do Rio de Janeiro.

QUESTÃO 02

O trecho a seguir em que predomina a figura de linguagem de personificação é:

- (A) “*Estou de volta à minha terra...*”
- (B) “*Sinto borboletas no estômago*”.
- (C) “*Digi-ro o Brasil.*”
- (D) “*A máquina de escrever conta-me uma antiga história*”.
- (E) “*Uma empregada mulata assoma ao parapeito defronte*”.

QUESTÃO 03

O pronome pessoal em “*elas desmaiam de prazer*” atua como um elemento de coesão referencial, que retoma, no texto:

- (A) “toalhas coloridas”.
- (B) “borboletas no estômago”.
- (C) “galinha ao molho pardo”.
- (D) “calda dourada da baba de moça”.
- (E) “papilas gustativas”.

QUESTÃO 04

Analise os trechos a seguir e identifique aquele em que ocorre verbo impessoal.

- (A) “*respiro a brisa marinha que me afaga a pele*”.
- (B) “*há toalhas coloridas secando sobre o abismo vertical dos apartamentos*”.
- (C) “*tudo deságua em lentas lavas untuosas*”.
- (D) “*dá-me uma vertigem*”.
- (E) “*seu aroma vem da infância*”.

QUESTÃO 05

As palavras em destaque em “*deve ter sido o tutu **com** torresmo **de** ontem*” pertencem à classe gramatical:

- (A) artigo.
- (B) pronome.
- (C) preposição.
- (D) conjunção.
- (E) substantivo.

QUESTÃO 06

Analise as sentenças a seguir, considerando os pronomes oblíquos átonos entre parênteses, ao final de cada uma:

- I. *Não parece uma boa ideia?* (lhe)
- II. *O aluno pediu ajuda para finalizar a tarefa.* (me)
- III. *Ela contaria o que está passando se estivesse segura.* (te)
- IV. *Inclinou na beira da janela.* (se)
- V. *Ainda queria bem.* (a)

Em conformidade com a norma-padrão da língua portuguesa, a sentença em que o pronome oblíquo átono deve ocorrer **obrigatoriamente** em ênclise é:

- (A) I.
- (B) II.
- (C) III.
- (D) IV.
- (E) V.

QUESTÃO 07

Analise as relações de regência verbal nas sentenças a seguir. Ocorre verbo transitivo indireto apenas em:

- (A) Comprei duas maçãs na feira.
- (B) Pulou do ônibus na esquina de casa.
- (C) As moscas voavam rapidamente.
- (D) Morreu tranquilo em sua casa.
- (E) Ainda tenho duas velas aromáticas.

QUESTÃO 08

Nas sentenças a seguir, o acento indicativo de crase deveria ocorrer **obrigatoriamente** apenas em:

- (A) Pediu a ela que não fizesse birra.
- (B) Enviou a esposa uma carta há duas semanas.
- (C) A declaração foi encaminhada a todos.
- (D) Os resultados desse trabalho só vão aparecer a longo prazo.
- (E) Não esqueça de pegar as chaves sobre a mesa.

QUESTÃO 09

Em “*Meu coração está partido ao meio*”, a palavra “partido” exprime sentido figurado. Essa expressão é empregada também com sentido figurado em:

- (A) Partido o pão, foram servidas taças de vinho.
- (B) A briga foi tão feia que o grupo terminou partido.
- (C) Achei que tivesse partido hoje de manhã para o Rio de Janeiro.
- (D) O vestido foi partido em dois, para que fizesse uma saia.
- (E) O ônibus já havia partido ao meio-dia.

QUESTÃO 10

Considere a seguinte sentença, com especial atenção à lacuna:

“ _____ quisesse se aproximar da garota, sentia que algo estava errado.”

Para que a oração inicial exprima concessão, o item gramatical que deve preencher a lacuna é:

- (A) *caso*.
- (B) *porque*.
- (C) *portanto*.
- (D) *logo*.
- (E) *embora*.

MATEMÁTICA E RACIOCÍNIO LÓGICO

QUESTÃO 11

Em um estacionamento, um valor fixo de R\$ 20,00 é cobrado para permanências de até 6 horas. Após isso, cada hora adicional gera um acréscimo de R\$ 5,00. Os minutos também são contados de forma proporcional. Neste caso, quanto pagará um cliente que deixou seu veículo estacionado por 7 horas e 30 minutos?

- (A) R\$ 25,00.
- (B) R\$ 22,50.
- (C) R\$ 27,50.
- (D) R\$ 32,50.
- (E) R\$ 27,00.

QUESTÃO 12

Uma torneira com um pequeno vazamento despeja uma gota a cada 3 segundos. Cada gota tem 0,05 mL. Quanto tempo levará, em horas, aproximadamente, para que o volume da água despejada seja igual a 1 litro?

- (A) 17 horas.
- (B) 14 horas.
- (C) 12 horas.
- (D) 10 horas.
- (E) 6 horas.

QUESTÃO 13

Estima-se que um carro convencional, cujo combustível utilizado é a gasolina, tem eficiência de 30%. Isso significa que da energia total presente no combustível, apenas 30% são utilizadas para o movimento. O restante é desperdiçado na forma de energia térmica e sonora. Suponha que um carro convencional com essa eficiência consegue percorrer 12 km utilizando um litro de combustível. Se os engenheiros produzirem novo modelo de carro, com eficiência de 40%, quantos km ele percorrerá com um litro de combustível? Sabe-se que a distância percorrida é proporcional à eficiência.

- (A) 16 km.
- (B) 13 km.
- (C) 15 km.
- (D) 14 km.
- (E) 24 km.

QUESTÃO 14

Quatro amigos foram a um restaurante e pediram pratos com os seguintes preços: R\$ 32,00, R\$ 28,00, R\$ 30,00 e R\$ 40,00. Quanto, em média, cada amigo gastou?

- (A) R\$ 32,00.
- (B) R\$ 33,50.
- (C) R\$ 30,00.
- (D) R\$ 33,00.
- (E) R\$ 32,50.

QUESTÃO 15

Em um restaurante há 5 chefes de cozinha. Sabe-se que cada chefe consegue preparar 24 pratos por hora. A gerência do restaurante demitirá 3 chefes e contratará alguns subchefes para substituí-los. Sabe-se que os subchefes conseguem preparar 18 pratos por hora. Quantos subchefes deverão ser contratados para que o número de pratos por hora produzidos pelo restaurante não se altere?

- (A) 3.
- (B) 4.
- (C) 5.
- (D) 6.
- (E) 7.

QUESTÃO 16

Dois amigos fizeram investimentos com o mesmo capital inicial, pelo mesmo tempo, sob o regime de juros simples, mas a taxas de juros diferentes.

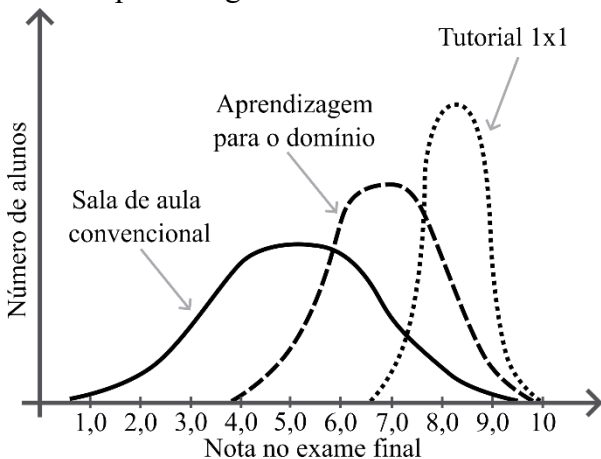
- João aplicou a 2% ao mês e recebeu R\$ 240,00 de juros.
- Maria aplicou a 3% ao mês.

Com base nas informações, qual foi o valor dos juros recebidos por Maria?

- (A) R\$ 260,00.
- (B) R\$ 300,00.
- (C) R\$ 360,00.
- (D) R\$ 420,00.
- (E) R\$ 480,00.

QUESTÃO 17

O gráfico abaixo mostra a relação entre o número de alunos com uma determinada nota no exame final para três modelos diferentes de processos de ensino-aprendizagem:



- Analisando o gráfico, é correto afirmar que:
- (A) No modelo de sala de aula convencional, todos os estudantes obtiveram notas muito próximas da média.
 - (B) No modelo de aprendizagem para o domínio, nenhum estudante obteve nota abaixo de 6,0.
 - (C) A média das notas de todos os estudantes em cada modelo de ensino-aprendizagem é sempre a mesma.
 - (D) A média das notas no modelo de tutorial 1x1 foi maior que as médias das notas nos outros modelos.
 - (E) No modelo de tutorial 1x1, poucos estudantes obtiveram notas maiores que 7,0.

QUESTÃO 18

Um cofre possui uma combinação secreta formada por quatro letras distintas entre ‘A’, ‘B’, ‘C’ e ‘D’, sem repetições. As pistas para descobrir a ordem correta são:

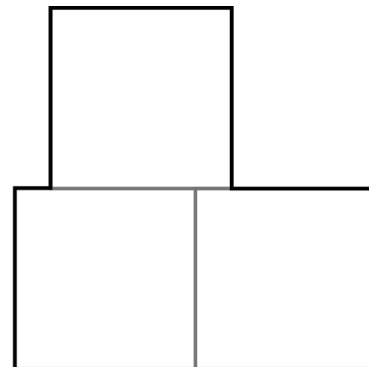
- a letra ‘B’ está à direita da letra ‘D’;
- a letra ‘C’ ocupa a 2ª posição;
- a letra ‘A’ vem antes da letra ‘C’.

Com base nessas informações, qual a sequência correta para abrir o cofre?

- (A) BCBA.
- (B) ACBD,
- (C) ACDB.
- (D) BCAB.
- (E) DCBA.

QUESTÃO 19

A figura abaixo foi feita a partir de 3 quadrados idênticos e de lado medindo 5 cm:



- Indique o perímetro da figura (contorno mais escuro):
- (A) 100 cm.
 - (B) 40 cm.
 - (C) 60 cm.
 - (D) 50 cm.
 - (E) 45 cm.

QUESTÃO 20

Um sistema de monitoramento espacial envia mensagens com dados geoespaciais para uma estação na Terra a cada 10 segundos. Quantas mensagens são enviadas em uma hora?

- (A) 1000.
- (B) 6000.
- (C) 60.
- (D) 3600.
- (E) 360.

NOÇÕES DE INFORMÁTICA**QUESTÃO 21**

Fernanda estava transferindo dados de um documento para outro, utilizando os comandos copiar (Ctrl + C) e colar (Ctrl + V). Como o conteúdo era confidencial, ela decidiu limpar o histórico da Área de Transferência por segurança. Sendo assim, qual caminho Fernanda seguiu para limpar o histórico da Área de Transferência, dentre as opções abaixo? Assinale a alternativa que representa esse caminho.

- (A) Selecionar Iniciar, acessar Configurações > Privacidade > Área de Transferência > Limpar dados da Área de Transferência e clicar em Limpar.
- (B) Em sistemas com configuração padrão, na área de trabalho, é possível clicar no botão "Limpar dados da Área de Transferência".
- (C) Selecionar Iniciar, acessar Configurações > Sistema > Área de Transferência > Limpar dados da Área de Transferência e clicar em Limpar.
- (D) Selecionar Iniciar, acessar Configurações > Sistema > Área de Trabalho Remota > Limpar dados da Área de Transferência e clicar em Limpar.
- (E) Selecionar Iniciar, acessar Transferência de Área e clicar em Limpar.

QUESTÃO 22

Seu supervisor solicitou para você realizar um levantamento se o nome de um dos clientes foi digitado corretamente, no Microsoft Word, em todos os campos acima do espaço reservado para o contratante e lhe mostrou um exemplo:

João da Silva
(Contratante)

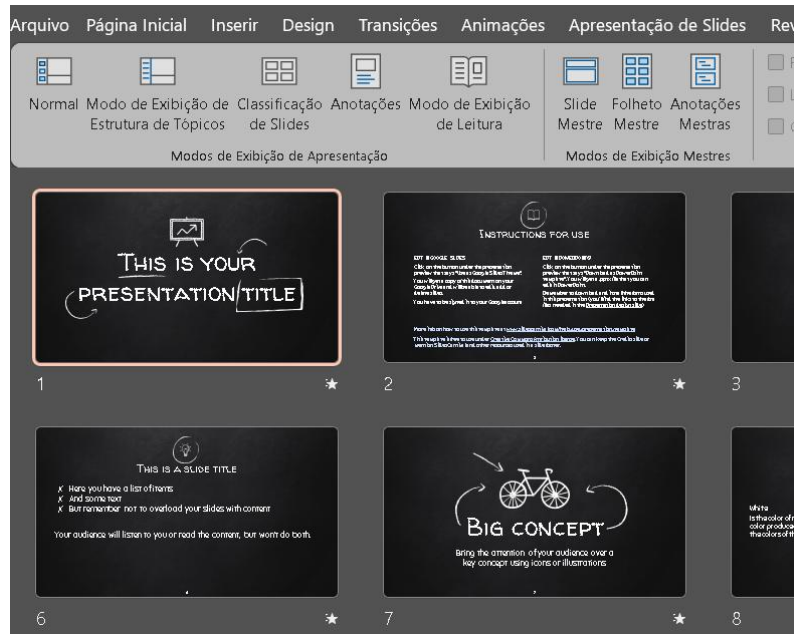
O prazo é curto e é inviável ler todo o documento de mais de mil páginas, portanto, para cumprir o prazo você deverá usar a ferramenta de localizar do Word. Considere, nesse contexto, que não há a certeza de que o nome próprio foi digitado integralmente ou de forma correta. Entretanto, considere que a palavra “(Contratante)” está correta no documento, pois é um campo padrão já validado anteriormente. Além disso, a sua ferramenta Word está com as configurações padrão.

Baseado no contexto apresentado, assinale a alternativa que apresenta o procedimento correto para realizar a tarefa da forma mais simples, precisa e eficiente entre as opções abaixo:

- (A) Ir na Guia Página Inicial, Localizar, digitar o nome “João da Silva” para encontrar todos os nomes e informar ao seu supervisor que tudo está certo.
- (B) Ir na Guia Página Inicial, Editando, Localizar, digitar “(Contratante)” e navegar inspecionando um por um para verificar se o nome do cliente foi preenchido acima desse campo e se está correto.
- (C) Ir na Guia Página Inicial, Localização Avançada e digitar “Silva^p(Contratante)” e navegar entre os resultados para verificar se todos os campos foram preenchidos e se estão corretos.
- (D) Ir na Guia Exibir, Localizar e digitar “João da Silva” e navegar entre os resultados para verificar se todos os campos foram preenchidos e se estão corretos.
- (E) Ir na Guia Revisão, Localização Avançada e digitar o nome “(Contratante)” e navegar inspecionando um por um para verificar se todos os campos foram preenchidos e se estão corretos.

QUESTÃO 23

Considere a imagem do Microsoft PowerPoint abaixo:



O PowerPoint dispõe de diferentes modos de exibição de apresentação, que são: Normal, Modo de Exibição de Estrutura de Tópicos, Classificação de Slides, Anotações e Modo de Exibição de Leitura. Conforme observa-se na imagem, qual é o modo de exibição de apresentação que foi escolhido? Assinale a alternativa que apresenta a resposta correta.

- (A) Normal
- (B) Modo de Exibição de Estrutura de Tópicos
- (C) Classificação de Slides
- (D) Anotações
- (E) Modo de Exibição de Leitura

QUESTÃO 24

Durante o envio de um e-mail profissional urgente, Joana precisa mandar um arquivo PDF para o destinatário. Qual ação ela deve realizar para anexar corretamente o arquivo? Assinale a alternativa correta.

- (A) Copiar o conteúdo do PDF e colar no corpo do e-mail, já que esse formato de arquivo não é aceito como anexo.
- (B) Inserir o PDF como imagem no campo de assinatura.
- (C) Clicar na opção “Anexar arquivo” e selecionar o documento desejado.
- (D) Colar o link do PDF no campo “Para”.
- (E) Transformar o PDF em um rascunho e enviar depois.

QUESTÃO 25

Você está confeccionando uma planilha chamada “Valores totais” para calcular os valores médios de algumas receitas. Em uma determinada célula dessa planilha, deseja calcular a média dos salários entre os meses de janeiro a maio, cujos dados estão localizados na planilha chamada “Receitas”, no intervalo B2:B6. Para isso, você utilizará uma fórmula que faz referência a outra planilha.

	A	B	C
1	Descrição	Valor da Receita	
2	Salário janeiro	R\$ 2.500,00	
3	Salário fevereiro	R\$ 150,00	
4	Salário março	R\$ 50,00	
5	Salário abril	R\$ 795,00	
6	Salário maio	R\$ 600,00	
7	total	R\$ 4.095,00	
8			
9			

Qual fórmula deve ser utilizada na célula da planilha “Valores totais” para calcular corretamente essa média? Assinale a alternativa correta.

- (A) =MÉDIA(B2:B6)
- (B) =MÉDIA(“Receitas!”,B2:B6)
- (C) =MÉDIA(Receitas!B2:B6)
- (D) =MÉDIA(Receitas!,B3:B6)
- (E) =MÉDIA(‘Receitas!’;B2:B6)

CONHECIMENTOS ESPECÍFICOS
QUESTÃO 26

A Atenção Primária à Saúde (APS) é o primeiro nível de atenção em saúde e se caracteriza por um conjunto de ações de saúde, no âmbito individual e coletivo, que abrange os seguintes aspectos, EXCETO:

- (A) A promoção e a proteção da saúde.
- (B) A prevenção de agravos e o diagnóstico.
- (C) O tratamento e a reabilitação.
- (D) O cuidado paliativo.
- (E) A redução de danos e a manutenção da saúde.

QUESTÃO 27

Conforme o Decreto nº 7.508, de 28 de junho de 2011, as portas de entrada são serviços de atendimento inicial à saúde do usuário no SUS. São portas de entrada às ações e aos serviços de saúde nas redes de atenção à saúde quais dos serviços a seguir? Analise os itens e assinale a alternativa correta:

- I. Atenção primária.
 - II. Atenção de urgência e emergência.
 - III. Atenção psicossocial.
 - IV. Serviços especiais de acesso aberto.
- (A) I, II, III e IV estão corretas.
 - (B) Apenas I, II e III estão corretas.
 - (C) Apenas II e III estão corretas.
 - (D) Apenas I e III estão corretas.
 - (E) Apenas I e IV estão corretas.

QUESTÃO 28

Segundo a Constituição Federal de 1988, as ações e os serviços públicos de saúde integram uma rede regionalizada e hierarquizada e constituem um sistema único, organizado de acordo com algumas diretrizes. Assinale a alternativa que apresenta uma dessas diretrizes:

- (A) Ações e serviços de saúde, devendo sua execução ser feita apenas pelo Poder Público.
- (B) Centralização, com direção múltipla em cada esfera de governo.
- (C) Não intervenção da comunidade nas políticas de saúde.
- (D) Atendimento integral, com prioridade para as atividades preventivas, sem prejuízo dos serviços assistenciais.
- (E) Financiamento exclusivo por meio de recursos do orçamento das contribuições de melhoria dos Municípios.

QUESTÃO 29

Em relação aos indicadores de nível de saúde da população, analise as assertivas abaixo e verifique quais são relacionados às ações desenvolvidas por equipes de Saúde Bucal na Atenção Primária à Saúde (APS) e quais não são. Classifique em verdadeiro (V) ou falso (F), em seguida, assinale a alternativa correta.

Primeira consulta odontológica programada na APS – avalia o acesso da população à primeira consulta odontológica realizada por equipes de Saúde Bucal na APS.

Tratamento odontológico concluído na APS – mede a proporção de tratamentos odontológicos finalizados em relação às primeiras consultas realizadas.

Taxa de exodontias na APS – avalia a relação entre extrações dentárias e procedimentos preventivos/ curativos realizados pela equipe.

Cuidado da pessoa com diabetes – acompanha o cuidado longitudinal e integral de pessoas com diabetes, considerando consultas, exames, visitas domiciliares e odontológicas.

Cuidado da gestante e puérpera – monitora boas práticas no pré-natal e puerpério, visando qualificar o cuidado integral e reduzir a taxa de cáries nas gestantes.

- (A) V – F – F – F – V
- (B) V – V – V – F – F
- (C) F – V – V – V – V
- (D) F – F – F – V – F
- (E) F – F – F – F – F

QUESTÃO 30

Conforme a Lei nº 8.080/1990, a saúde é um direito fundamental do ser humano, devendo o Estado prover as condições indispensáveis ao seu pleno exercício. Marque a alternativa que preenche a lacuna a seguir corretamente a respeito do tema:

“O dever do Estado de garantir a saúde consiste na formulação e execução de políticas econômicas e sociais que visem à redução de _____ e no estabelecimento de condições que assegurem acesso universal e igualitário às ações e aos serviços para a sua promoção, proteção e recuperação.”

- (A) pacientes que procuram as unidades básicas de saúde
- (B) equipamentos quebrados nos hospitais públicos
- (C) riscos de doenças e de outros agravos
- (D) oferta de flúor para a população carente
- (E) atendimentos a pessoas acidentadas

QUESTÃO 31

Associe as colunas e marque a opção correta:

- I. Ameloblastos
 - II. Pré-dentina
 - III. Dentina
 - IV. Odontoblastos
 - A. Matriz não mineralizada produzida pelos odontoblastos.
 - B. Células alongadas que depositam matriz orgânica apenas sobre a superfície dentária.
 - C. Células de origem ectodérmica.
 - D. Contém poucas fibras nervosas amielínicas.
- (A) I-B, II-A, III-D, IV-C.
 - (B) I-C, II-A, III-D, IV-B.
 - (C) I-B, II-D, III-A, IV-C.
 - (D) I-C, II-D, III-A, IV-B.
 - (E) I-D, II-A, III-C, IV-B.

QUESTÃO 32

Considere as seguintes afirmações e, em seguida, assinale a alternativa correta:

- I. A linha alba é uma alteração da mucosa jugal, geralmente bilateral.
II. A linha alba é uma condição grave que necessita de tratamento urgente.
(A) A asserção I é uma proposição falsa, e a II é uma proposição verdadeira.
(B) A asserção I é uma proposição verdadeira, e a II é uma proposição falsa.
(C) As asserções I e II são proposições verdadeiras, e a II é uma justificativa da I.
(D) As asserções I e II são proposições verdadeiras, mas a II não é uma justificativa da I.
(E) As asserções I e II são proposições falsas.

QUESTÃO 33

As varicosidades consistem em veias anormais, dilatadas e tortuosas. Sobre essa patologia, assinale a alternativa INCORRETA:

- (A) As varicosidades sublinguais se apresentam classicamente como vesículas papulares ou elevadas múltiplas, azul-purpúreas, na borda e no ventre da língua.
(B) O tipo mais comum de varicosidade oral é a variz sublingual.
(C) Ocorre em dois terços das crianças, mas são raras em idosos.
(D) As lesões são geralmente assintomáticas.
(E) As varizes podem ocorrer em outras regiões da boca como lábios e mucosa jugal.

QUESTÃO 34

Sobre o palato duro, assinale a alternativa correta:

- (A) É composto somente pelo processo palatino da maxila.
(B) É o limite anterior da cavidade oral.
(C) No processo palatino da maxila encontram-se os forames palatinos maior e menor.
(D) Seus ossos são cobertos por uma espessa túnica mucosa.
(E) Na lâmina horizontal do osso palatino encontra-se o forame incisivo.

QUESTÃO 35

São considerados princípios do Sistema Único de Saúde:

- (A) Direito à informação, às pessoas assistidas, sobre sua saúde e de outros pacientes internados, ainda que não sejam parentes seus.
(B) Igualdade da assistência à saúde, com privilégios apenas para as classes sociais mais altas.
(C) Universalidade de acesso aos serviços de saúde somente na assistência às emergências traumatológicas.
(D) Ênfase na centralização dos serviços para os municípios.
(E) Participação da comunidade e preservação da autonomia das pessoas na defesa de sua integridade física e moral.

QUESTÃO 36

O nervo alveolar superior médio está presente apenas em parte da população. Sobre esse nervo, assinale a alternativa INCORRETA:

- (A) Seu bloqueio está indicado para procedimentos em pré-molares e raiz mesiovestibular de primeiro molar superior.
(B) O ponto de referência para seu bloqueio é a prega mucovestibular acima do segundo pré-molar superior.
(C) Para seu bloqueio é recomendada agulha de calibre 27.
(D) Seu bloqueio pode ser realizado com agulha curta ou longa.
(E) Nas pessoas que não têm o nervo alveolar superior médio, o nervo alveolar superior anterior frequentemente supre a inervação sensitiva aos pré-molares.

QUESTÃO 37

São alternativas ao bloqueio do nervo alveolar inferior, EXCETO:

- (A) Técnica anestésica de Gow-Gates.
- (B) Técnica anestésica de Vazirani-Akinosi.
- (C) Bloqueio no nervo mentual para anestesia pulpar e dos tecidos moles anteriormente ao segundo molar.
- (D) Anestesia por infiltração no ligamento periodontal para anestesia pulpar de qualquer dente mandibular.
- (E) Anestesia intraóssea para anestesia pulpar e dos tecidos moles de qualquer dente mandibular, especialmente os molares.

QUESTÃO 38

Sobre o periodonto de sustentação é correto afirmar:

- (A) O cimento é semelhante ao tecido ósseo, porém os fenômenos de reabsorção e neoformação ocorrem com mais intensidade.
- (B) O osso alveolar, o osso basal e o processo alveolar são porções de mesma origem e função diferentes.
- (C) É formado pelo cimento, ligamento periodontal, osso alveolar e gengiva.
- (D) O ligamento periodontal é um tecido conjuntivo frouxo atravessado por grossos feixes colágenos.
- (E) Os restos epiteliais de Malassez permanecem até fase jovem do indivíduo.

QUESTÃO 39

Assinale a alternativa que completa corretamente as lacunas a seguir:

As artérias _____ e _____ têm origem na artéria carótida externa.

- (A) palatina ascendente e faríngea descendente.
- (B) lingual e facial.
- (C) palatina ascendente e facial.
- (D) submental e lingual.
- (E) esfenopalatina e submental.

QUESTÃO 40

Sobre os princípios do Sistema Único de Saúde e princípios organizativos, assinale a alternativa INCORRETA:

- (A) A universalização pressupõe a articulação da saúde com outras políticas públicas, para assegurar uma atuação intersetorial entre as diferentes áreas que tenham repercussão na saúde e qualidade de vida dos indivíduos.
- (B) A descentralização refere-se a redistribuir poder e responsabilidade entre os três níveis de governo. Com relação à saúde, descentralização objetiva prestar serviços com maior qualidade e garantir o controle e a fiscalização por parte dos cidadãos.
- (C) A regionalização determina que os serviços devem ser organizados em níveis crescentes de complexidade, circunscritos a uma determinada área geográfica, planejados a partir de critérios epidemiológicos e com definição e conhecimento da população a ser atendida.
- (D) A hierarquização define que se deve proceder à divisão de níveis de atenção e garantir formas de acesso a serviços que façam parte da complexidade requerida pelo caso, nos limites dos recursos disponíveis numa dada região.
- (E) A equidade significa tratar desigualmente os desiguais, investindo mais onde a carência é maior. Apesar de todas as pessoas possuírem direito aos serviços, as pessoas não são iguais e, por isso, têm necessidades distintas.

QUESTÃO 41

A respeito da oclusão, julgue as afirmativas a seguir em V (verdadeiro) ou F (falso). Em seguida, assinale a sequência correta:

() Oclusão é a disciplina que estuda o relacionamento dos dentes superiores com os inferiores, mediante o fechamento (ou seja, a oclusão) e demais movimentos mandibulares.

() A oclusão estuda a inter-relação entre os contatos dentários, os demais componentes do sistema mastigatório (músculos, articulações temporomandibulares, glândulas salivares, periodonto, ossos etc.) e o controle exercido pelo sistema nervoso central (SNC).

() A oclusão é de notável importância para a compreensão do funcionamento do sistema mastigatório e, conseqüentemente, para a prática clínica da Odontologia.

- (A) V, V, F.
- (B) F, V, V.
- (C) V, F, V.
- (D) V, V, V.
- (E) V, F, F.

QUESTÃO 42

O flúor age na prevenção da cárie. Considerando os mecanismos de ação do flúor, analise as assertivas:

- I. Aumento do pH da saliva.
- II. Inibição da desmineralização do esmalte.
- III. Aumento da resistência do esmalte ao ataque ácido.
- IV. Aumento da remineralização do esmalte.

Assinale a alternativa correta:

- (A) I, II, III e IV estão corretas.
- (B) Apenas I, II e III estão corretas.
- (C) Apenas II, III e IV estão corretas.
- (D) Apenas II e III estão corretas.
- (E) Apenas I está correta.

QUESTÃO 43

São fontes para absorção sistêmica de flúor, EXCETO:

- (A) Fluoretação da água
- (B) Fluoretação do sal
- (C) Enxaguantes bucais
- (D) Fluoretação do leite
- (E) Suplementação dietética de flúor

QUESTÃO 44

Sobre a epúlida fissurada, NÃO se pode afirmar que:

- (A) é mais comum em adultos de meia idade e em idosos.
- (B) seu tratamento consiste na remoção cirúrgica.
- (C) refazer ou corrigir a prótese mal adaptada previne a recidiva da lesão.
- (D) seu exame microscópico revela uma hiperplasia do tecido conjuntivo fibroso.
- (E) ocorre somente na maxila.

QUESTÃO 45

Associe a indicação clínica com o tipo de ionômero de vidro e assinale a alternativa correta:

- I. Cimentação de aparelhos ortodônticos.
 - II. Forramento.
 - III. Restaurações provisórias em dentes permanentes.
 - IV. Selamento de fôssulas e fissuras.
- A. Cimento do ionômero de vidro tipo I.
 - B. Cimento de ionômero de vidro tipo II.
 - C. Cimento de ionômero de vidro tipo III.
- (A) I-A; II-B; III-C; IV-B.
 - (B) I-B; II-C; III-A; IV- C.
 - (C) I-C; II-A; III-B; IV-A.
 - (D) I-B; II-A; III-C; IV-A.
 - (E) I-A; II-C, III-B, IV-C.

QUESTÃO 46

No Brasil, o Ministério da Saúde avalia as condições de saúde bucal da população através da Pesquisa Nacional de Saúde Bucal. De acordo com os dados epidemiológicos brasileiros (2023), assinale a alternativa INCORRETA:

- (A) Aproximadamente metade das crianças brasileiras não tinha experiência de cárie, ou seja, apresentavam índice ceo-d igual a zero, sendo consideradas “livres de cárie”.
- (B) Entre adultos de 35 a 44 anos, a condição periodontal mais frequente foi a presença de bolsas periodontais.
- (C) A condição periodontal mais comum entre adolescentes de 15 a 19 anos foi o cálculo dentário.
- (D) Menos de 40% dos adolescentes brasileiros possuíam um ou mais dentes com cárie dentária não tratada.
- (E) Entre os adolescentes de 12 anos, o sangramento gengival foi a condição periodontal de maior prevalência.

QUESTÃO 47

Há três níveis de prevenção que inter-relacionam atividade médica e saúde pública. O nível de prevenção secundária engloba:

- (A) A ação tomada para remover causas e fatores de risco de um problema de saúde individual ou populacional antes do desenvolvimento de uma condição clínica.
- (B) A ação realizada para detectar um problema de saúde em estágio inicial, muitas vezes em estágio subclínico, no indivíduo ou na população, facilitando o diagnóstico definitivo, o tratamento e reduzindo ou prevenindo sua disseminação e os efeitos de longo prazo.
- (C) A ação realizada para a promoção da saúde e proteção específica.
- (D) A ação implementada para reduzir em um indivíduo os prejuízos funcionais consequentes de um problema agudo ou crônico.
- (E) A detecção de indivíduos em risco de intervenções excessivas para protegê-los de novas intervenções médicas inapropriadas e sugerir-lhes alternativas eticamente aceitáveis.

QUESTÃO 48

A urgência odontológica é caracterizada por quadros clínicos que causam sofrimento intenso ao paciente e exigem tratamento odontológico rápido para alívio da dor, controle de infecção ou tratamento de traumas. Assinale a alternativa que possui apenas urgências odontológicas:

- (A) Abscesso periapical agudo e pericoronarite.
- (B) Hemorragia e celulite, ou infecções bacterianas difusas com edema, e remoção de tártaro.
- (C) Alveolite seca, cárie e traumatismo envolvendo ossos da face.
- (D) Traumatismo dentário e celulite ou linha alba.
- (E) Pulpite crônica, remoção de placa bacteriana e sangramento controlado.

QUESTÃO 49

Os agentes forradores desempenham funções, como estímulo da formação de ponte de dentina e proteção da região mais profunda da dentina contra a penetração de subprodutos dos materiais restauradores. O do hidróxido de cálcio é um agente forrador, dentre as suas propriedades, assinale a alternativa INCORRETA:

- (A) Bacteriostático.
- (B) Bactericida.
- (C) pH neutro.
- (D) Alta solubilidade.
- (E) Baixa resistência mecânica.

QUESTÃO 50

O sarcoma de Kaposi é uma neoplasia vascular que apresenta quatro apresentações clínicas, EXCETO:

- (A) tipo clássico.
- (B) tipo iatrogênico associada à imunossupressão.
- (C) tipo endêmico.
- (D) tipo relacionado à síndrome da imunodeficiência adquirida.
- (E) tipo embrionário.

