

AVANÇASP



PREFEITURA MUNICIPAL DE  
CERQUILHO/SP

CONCURSO PÚBLICO  
01/2025

## FONOAUDIÓLOGO

### Leia atentamente as instruções abaixo

#### 1. PROVA E FOLHA DE RESPOSTAS

• Além deste Caderno de Prova, contendo 50 (cinquenta) questões objetivas, você receberá do Fiscal de Sala:

• 01 (uma) Folha de Respostas destinada às respostas das questões objetivas. Confira se seus dados estão corretos.

#### 2. TEMPO

• 03 (três) horas é o tempo disponível para realização da prova, já incluído o tempo para marcação da Folha de Respostas da prova objetiva;

• **01 (uma) hora** após o início da prova é possível, retirar-se da sala levando o caderno de prova;

#### 3. INFORMAÇÕES GERAIS

• As questões objetivas têm 05 (cinco) alternativas de resposta (A, B, C, D, E) e somente **uma** delas está correta;

• Verifique se seu caderno está completo, sem repetição de questões ou falhas. Caso contrário, informe imediatamente o Fiscal da Sala, para que sejam tomadas as devidas providências;

• Confira seus dados pessoais na Folha de Respostas, especialmente nome, número de inscrição e documento de identidade e leia atentamente as instruções para preenchimento;

• O preenchimento das respostas da prova objetiva é de sua responsabilidade e não será permitida a troca de Folha de Respostas em caso de erro de marcação pelo candidato;

• Marque, na folha de respostas, com caneta de tinta azul ou preta, a letra correspondente à alternativa que você escolheu.

• Reserve tempo suficiente para o preenchimento de suas respostas. Para fins de avaliação, serão levadas em consideração apenas as marcações realizadas na Folha de Respostas da prova objetiva, não sendo permitido anotar informações relativas às respostas em qualquer outro meio que não seja o caderno de prova;

• Ao se retirar, entregue a Folha de Respostas preenchida e assinada ao Fiscal de Sala.

#### SERÁ ELIMINADO do presente certame o candidato que:

a) for surpreendido, durante as provas, em qualquer tipo de comunicação com outro candidato;

b) portar ou usar, qualquer tipo de aparelho eletrônico (calculadoras, bips/pagers, câmeras fotográficas, filmadoras, telefones celulares, smartphones, tablets, relógios, walkmans, MP3 players, fones de ouvido, agendas eletrônicas, notebooks, palmtops ou qualquer outro tipo de computador portátil, receptores ou gravadores) seja na sala de prova, sanitários, pátios ou qualquer outra dependência do local de prova;

c) se ausentar da sala em que se realizam as provas levando consigo o Caderno de Questões e/ou a Folha de Respostas;

d) se recusar a entregar a Folha de Respostas, quando terminar o tempo estabelecido;

e) não assinar a Lista de Presença e/ou a Folha de Respostas.

**LÍNGUA PORTUGUESA****TEXTO**

Leia o texto a seguir para responder às questões de 1 a 5.

**Minha terra tem palmeiras**

Vejo de minha janela uma nesga do mar verde-azul de Copacabana e me penetra uma infinita doçura. Estou de volta à minha terra... A máquina de escrever conta-me uma antiga história, canta-me uma antiga música no bater de seu teclado. Estou de volta à minha terra, respiro a brisa marinha que me afaga a pele, seu aroma vem da infância. Retomo o diálogo com a minha gente. Uma empregada mulata assoma ao parapeito defronte, o busto vazando do decote, há toalhas coloridas secando sobre o abismo vertical dos apartamentos, dá-me uma vertigem. Que doçura!

Sinto borboletas no estômago, deve ter sido o tutu com torresmo de ontem misturado ao camarão à baiana de anteontem misturado à galinha ao molho pardo de trasanteontem misturada aos quindins, papos de anjo, doces de coco do primeiro dia. Digi-ro o Brasil. Qual *canard au sang*, qual *loup flambé au fenouil*, qual *pâté Strasbourgeois*, qual nada! A calda dourada da baba de moça infiltra-se entre as papilas gustativas, elas desmaiam de prazer, tudo deságua em lentas lavas untuosas num amoroso mar de suco gástrico...

— É a brasuca! disse-me Antonio Carlos Jobim balançando a cabeça com ar convicto, enquanto empinava o seu voo em direção ao Arpodador.

MORAES, V. Minha terra tem palmeiras. In: FERRAZ, E. (Org.) *Para uma menina com uma flor*. São Paulo: Companhia das Letras, 2009, p. 96-98. Disponível em <<https://cronicabrasileira.org.br/cronicas/19891/minha-terra-tem-palmeiras>>.

**QUESTÃO 01**

Após a leitura do texto, conclui-se que o narrador:

- (A) prefere manter certa distância do seu próprio povo.
- (B) é apreciador da culinária brasileira.
- (C) não se sente satisfeito com o fato de que retornou ao Brasil.
- (D) tem mais apreço pela culinária europeia do que pela brasileira.
- (E) não se agrada com a paisagem do Rio de Janeiro.

**QUESTÃO 02**

O trecho a seguir em que predomina a figura de linguagem de personificação é:

- (A) “*Estou de volta à minha terra...*”
- (B) “*Sinto borboletas no estômago*”.
- (C) “*Digi-ro o Brasil.*”
- (D) “*A máquina de escrever conta-me uma antiga história*”.
- (E) “*Uma empregada mulata assoma ao parapeito defronte*”.

**QUESTÃO 03**

O pronome pessoal em “*elas desmaiam de prazer*” atua como um elemento de coesão referencial, que retoma, no texto:

- (A) “toalhas coloridas”.
- (B) “borboletas no estômago”.
- (C) “galinha ao molho pardo”.
- (D) “calda dourada da baba de moça”.
- (E) “papilas gustativas”.

**QUESTÃO 04**

Analise os trechos a seguir e identifique aquele em que ocorre verbo impessoal.

- (A) “*respiro a brisa marinha que me afaga a pele*”.
- (B) “*há toalhas coloridas secando sobre o abismo vertical dos apartamentos*”.
- (C) “*tudo deságua em lentas lavas untuosas*”.
- (D) “*dá-me uma vertigem*”.
- (E) “*seu aroma vem da infância*”.

**QUESTÃO 05**

As palavras em destaque em “*deve ter sido o tutu **com** torresmo **de** ontem*” pertencem à classe gramatical:

- (A) artigo.
- (B) pronome.
- (C) preposição.
- (D) conjunção.
- (E) substantivo.

**QUESTÃO 06**

Analise as sentenças a seguir, considerando os pronomes oblíquos átonos entre parênteses, ao final de cada uma:

- I. *Não parece uma boa ideia?* (lhe)
- II. *O aluno pediu ajuda para finalizar a tarefa.* (me)
- III. *Ela contaria o que está passando se estivesse segura.* (te)
- IV. *Inclinou na beira da janela.* (se)
- V. *Ainda queria bem.* (a)

Em conformidade com a norma-padrão da língua portuguesa, a sentença em que o pronome oblíquo átono deve ocorrer **obrigatoriamente** em ênclise é:

- (A) I.
- (B) II.
- (C) III.
- (D) IV.
- (E) V.

**QUESTÃO 07**

Analise as relações de regência verbal nas sentenças a seguir. Ocorre verbo transitivo indireto apenas em:

- (A) Comprei duas maçãs na feira.
- (B) Pulou do ônibus na esquina de casa.
- (C) As moscas voavam rapidamente.
- (D) Morreu tranquilo em sua casa.
- (E) Ainda tenho duas velas aromáticas.

**QUESTÃO 08**

Nas sentenças a seguir, o acento indicativo de crase deveria ocorrer **obrigatoriamente** apenas em:

- (A) Pediu a ela que não fizesse birra.
- (B) Enviou a esposa uma carta há duas semanas.
- (C) A declaração foi encaminhada a todos.
- (D) Os resultados desse trabalho só vão aparecer a longo prazo.
- (E) Não esqueça de pegar as chaves sobre a mesa.

**QUESTÃO 09**

Em “*Meu coração está partido ao meio*”, a palavra “partido” exprime sentido figurado. Essa expressão é empregada também com sentido figurado em:

- (A) Partido o pão, foram servidas taças de vinho.
- (B) A briga foi tão feia que o grupo terminou partido.
- (C) Achei que tivesse partido hoje de manhã para o Rio de Janeiro.
- (D) O vestido foi partido em dois, para que fizesse uma saia.
- (E) O ônibus já havia partido ao meio-dia.

**QUESTÃO 10**

Considere a seguinte sentença, com especial atenção à lacuna:

“ \_\_\_\_\_ quisesse se aproximar da garota, sentia que algo estava errado.”

Para que a oração inicial expresse concessão, o item gramatical que deve preencher a lacuna é:

- (A) *caso*.
- (B) *porque*.
- (C) *portanto*.
- (D) *logo*.
- (E) *embora*.

**MATEMÁTICA E RACIOCÍNIO LÓGICO**

**QUESTÃO 11**

Em um estacionamento, um valor fixo de R\$ 20,00 é cobrado para permanências de até 6 horas. Após isso, cada hora adicional gera um acréscimo de R\$ 5,00. Os minutos também são contados de forma proporcional. Neste caso, quanto pagará um cliente que deixou seu veículo estacionado por 7 horas e 30 minutos?

- (A) R\$ 25,00.
- (B) R\$ 22,50.
- (C) R\$ 27,50.
- (D) R\$ 32,50.
- (E) R\$ 27,00.

**QUESTÃO 12**

Uma torneira com um pequeno vazamento despeja uma gota a cada 3 segundos. Cada gota tem 0,05 mL. Quanto tempo levará, em horas, aproximadamente, para que o volume da água despejada seja igual a 1 litro?

- (A) 17 horas.
- (B) 14 horas.
- (C) 12 horas.
- (D) 10 horas.
- (E) 6 horas.

**QUESTÃO 13**

Estima-se que um carro convencional, cujo combustível utilizado é a gasolina, tem eficiência de 30%. Isso significa que da energia total presente no combustível, apenas 30% são utilizadas para o movimento. O restante é desperdiçado na forma de energia térmica e sonora. Suponha que um carro convencional com essa eficiência consegue percorrer 12 km utilizando um litro de combustível. Se os engenheiros produzirem novo modelo de carro, com eficiência de 40%, quantos km ele percorrerá com um litro de combustível? Sabe-se que a distância percorrida é proporcional à eficiência.

- (A) 16 km.
- (B) 13 km.
- (C) 15 km.
- (D) 14 km.
- (E) 24 km.

**QUESTÃO 14**

Quatro amigos foram a um restaurante e pediram pratos com os seguintes preços: R\$ 32,00, R\$ 28,00, R\$ 30,00 e R\$ 40,00. Quanto, em média, cada amigo gastou?

- (A) R\$ 32,00.
- (B) R\$ 33,50.
- (C) R\$ 30,00.
- (D) R\$ 33,00.
- (E) R\$ 32,50.

**QUESTÃO 15**

Em um restaurante há 5 chefes de cozinha. Sabe-se que cada chefe consegue preparar 24 pratos por hora. A gerência do restaurante demitirá 3 chefes e contratará alguns subchefes para substituí-los. Sabe-se que os subchefes conseguem preparar 18 pratos por hora. Quantos subchefes deverão ser contratados para que o número de pratos por hora produzidos pelo restaurante não se altere?

- (A) 3.
- (B) 4.
- (C) 5.
- (D) 6.
- (E) 7.

**QUESTÃO 16**

Dois amigos fizeram investimentos com o mesmo capital inicial, pelo mesmo tempo, sob o regime de juros simples, mas a taxas de juros diferentes.

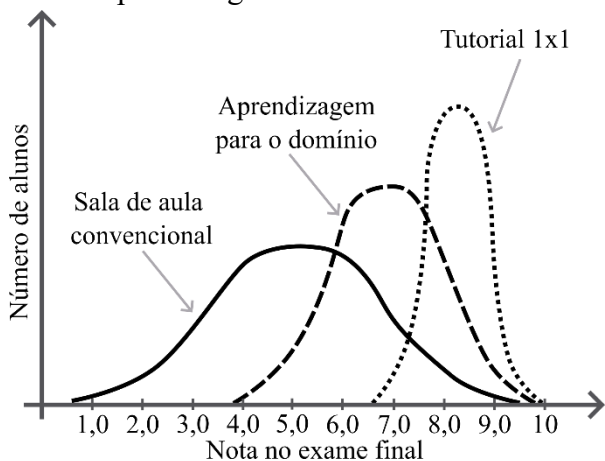
- João aplicou a 2% ao mês e recebeu R\$ 240,00 de juros.
- Maria aplicou a 3% ao mês.

Com base nas informações, qual foi o valor dos juros recebidos por Maria?

- (A) R\$ 260,00.
- (B) R\$ 300,00.
- (C) R\$ 360,00.
- (D) R\$ 420,00.
- (E) R\$ 480,00.

**QUESTÃO 17**

O gráfico abaixo mostra a relação entre o número de alunos com uma determinada nota no exame final para três modelos diferentes de processos de ensino-aprendizagem:



Analisando o gráfico, é correto afirmar que:

- (A) No modelo de sala de aula convencional, todos os estudantes obtiveram notas muito próximas da média.
- (B) No modelo de aprendizagem para o domínio, nenhum estudante obteve nota abaixo de 6,0.
- (C) A média das notas de todos os estudantes em cada modelo de ensino-aprendizagem é sempre a mesma.
- (D) A média das notas no modelo de tutorial 1x1 foi maior que as médias das notas nos outros modelos.
- (E) No modelo de tutorial 1x1, poucos estudantes obtiveram notas maiores que 7,0.

**QUESTÃO 18**

Um cofre possui uma combinação secreta formada por quatro letras distintas entre ‘A’, ‘B’, ‘C’ e ‘D’, sem repetições. As pistas para descobrir a ordem correta são:

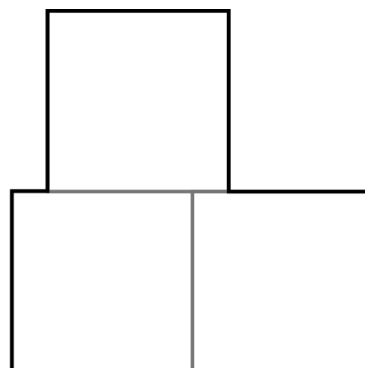
- a letra ‘B’ está à direita da letra ‘D’;
- a letra ‘C’ ocupa a 2ª posição;
- a letra ‘A’ vem antes da letra ‘C’.

Com base nessas informações, qual a sequência correta para abrir o cofre?

- (A) BCBA.
- (B) ACBD,
- (C) ACDB.
- (D) BCAB.
- (E) DCBA.

**QUESTÃO 19**

A figura abaixo foi feita a partir de 3 quadrados idênticos e de lado medindo 5 cm:



Indique o perímetro da figura (contorno mais escuro):

- (A) 100 cm.
- (B) 40 cm.
- (C) 60 cm.
- (D) 50 cm.
- (E) 45 cm.

**QUESTÃO 20**

Um sistema de monitoramento espacial envia mensagens com dados geoespaciais para uma estação na Terra a cada 10 segundos. Quantas mensagens são enviadas em uma hora?

- (A) 1000.
- (B) 6000.
- (C) 60.
- (D) 3600.
- (E) 360.

**NOÇÕES DE INFORMÁTICA****QUESTÃO 21**

Fernanda estava transferindo dados de um documento para outro, utilizando os comandos copiar (Ctrl + C) e colar (Ctrl + V). Como o conteúdo era confidencial, ela decidiu limpar o histórico da Área de Transferência por segurança. Sendo assim, qual caminho Fernanda seguiu para limpar o histórico da Área de Transferência, dentre as opções abaixo? Assinale a alternativa que representa esse caminho.

- (A) Selecionar Iniciar, acessar Configurações > Privacidade > Área de Transferência > Limpar dados da Área de Transferência e clicar em Limpar.
- (B) Em sistemas com configuração padrão, na área de trabalho, é possível clicar no botão "Limpar dados da Área de Transferência".
- (C) Selecionar Iniciar, acessar Configurações > Sistema > Área de Transferência > Limpar dados da Área de Transferência e clicar em Limpar.
- (D) Selecionar Iniciar, acessar Configurações > Sistema > Área de Trabalho Remota > Limpar dados da Área de Transferência e clicar em Limpar.
- (E) Selecionar Iniciar, acessar Transferência de Área e clicar em Limpar.

**QUESTÃO 22**

Seu supervisor solicitou para você realizar um levantamento se o nome de um dos clientes foi digitado corretamente, no Microsoft Word, em todos os campos acima do espaço reservado para o contratante e lhe mostrou um exemplo:

João da Silva

(Contratante)

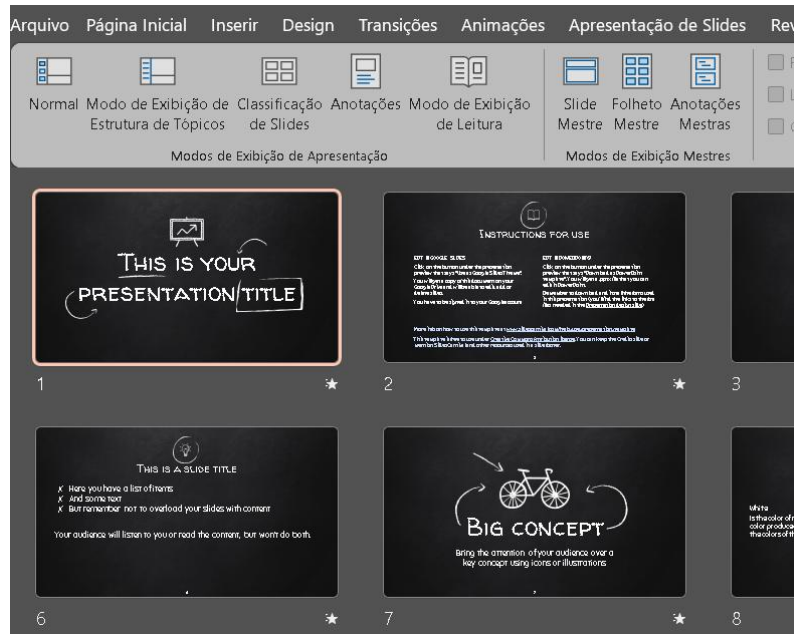
O prazo é curto e é inviável ler todo o documento de mais de mil páginas, portanto, para cumprir o prazo você deverá usar a ferramenta de localizar do Word. Considere, nesse contexto, que não há a certeza de que o nome próprio foi digitado integralmente ou de forma correta. Entretanto, considere que a palavra “(Contratante)” está correta no documento, pois é um campo padrão já validado anteriormente. Além disso, a sua ferramenta Word está com as configurações padrão.

Baseado no contexto apresentado, assinale a alternativa que apresenta o procedimento correto para realizar a tarefa da forma mais simples, precisa e eficiente entre as opções abaixo:

- (A) Ir na Guia Página Inicial, Localizar, digitar o nome “João da Silva” para encontrar todos os nomes e informar ao seu supervisor que tudo está certo.
- (B) Ir na Guia Página Inicial, Editando, Localizar, digitar “(Contratante)” e navegar inspecionando um por um para verificar se o nome do cliente foi preenchido acima desse campo e se está correto.
- (C) Ir na Guia Página Inicial, Localização Avançada e digitar “Silva^p(Contratante)” e navegar entre os resultados para verificar se todos os campos foram preenchidos e se estão corretos.
- (D) Ir na Guia Exibir, Localizar e digitar “João da Silva” e navegar entre os resultados para verificar se todos os campos foram preenchidos e se estão corretos.
- (E) Ir na Guia Revisão, Localização Avançada e digitar o nome “(Contratante)” e navegar inspecionando um por um para verificar se todos os campos foram preenchidos e se estão corretos.

**QUESTÃO 23**

Considere a imagem do Microsoft PowerPoint abaixo:



O PowerPoint dispõe de diferentes modos de exibição de apresentação, que são: Normal, Modo de Exibição de Estrutura de Tópicos, Classificação de Slides, Anotações e Modo de Exibição de Leitura. Conforme observa-se na imagem, qual é o modo de exibição de apresentação que foi escolhido? Assinale a alternativa que apresenta a resposta correta.

- (A) Normal
- (B) Modo de Exibição de Estrutura de Tópicos
- (C) Classificação de Slides
- (D) Anotações
- (E) Modo de Exibição de Leitura

**QUESTÃO 24**

Durante o envio de um e-mail profissional urgente, Joana precisa mandar um arquivo PDF para o destinatário. Qual ação ela deve realizar para anexar corretamente o arquivo? Assinale a alternativa correta.

- (A) Copiar o conteúdo do PDF e colar no corpo do e-mail, já que esse formato de arquivo não é aceito como anexo.
- (B) Inserir o PDF como imagem no campo de assinatura.
- (C) Clicar na opção “Anexar arquivo” e selecionar o documento desejado.
- (D) Colar o link do PDF no campo “Para”.
- (E) Transformar o PDF em um rascunho e enviar depois.

**QUESTÃO 25**

Você está confeccionando uma planilha chamada “Valores totais” para calcular os valores médios de algumas receitas. Em uma determinada célula dessa planilha, deseja calcular a média dos salários entre os meses de janeiro a maio, cujos dados estão localizados na planilha chamada “Receitas”, no intervalo B2:B6. Para isso, você utilizará uma fórmula que faz referência a outra planilha.

	A	B	C
1	<b>Descrição</b>	<b>Valor da Receita</b>	
2	Salário janeiro	R\$ 2.500,00	
3	Salário fevereiro	R\$ 150,00	
4	Salário março	R\$ 50,00	
5	Salário abril	R\$ 795,00	
6	Salário maio	R\$ 600,00	
7	total	R\$ 4.095,00	
8			
9			

Qual fórmula deve ser utilizada na célula da planilha “Valores totais” para calcular corretamente essa média? Assinale a alternativa correta.

- (A) =MÉDIA(B2:B6)
- (B) =MÉDIA(“Receitas!”,B2:B6)
- (C) =MÉDIA(Receitas!B2:B6)
- (D) =MÉDIA(Receitas!,B3:B6)
- (E) =MÉDIA(‘Receitas!’ ,B2:B6)

**CONHECIMENTOS ESPECÍFICOS**

**QUESTÃO 26**

Assinale a alternativa que corretamente completa a frase a seguir:

Na avaliação do sistema vestibular, o exame instrumental denominado \_\_\_\_\_ é utilizado para analisar os aspectos do nistagmo, como latência, fadigabilidade, duração e sintomas associados.

- (A) Audiometria faríngea
- (B) Eletromiografia
- (C) Eletroencefalografia
- (D) Posturografia
- (E) Vectoeletronistagmografia

**QUESTÃO 27**

Assinale a alternativa que corresponde à fissura restrita ao palato, preservando o lábio e os dentes, resultante da falha de fusão das estruturas do palato secundário.

- (A) Fissura pré-forame incisivo
- (B) Fissura pós-forame incisivo
- (C) Fissura transforame incisivo
- (D) Fissura labiopalatal
- (E) Fissura alveolar isolada

**QUESTÃO 28**

A deglutição é um processo neuromuscular que pode ser dividido em fases distintas. Assinale a alternativa que denomina a fase que é responsável pela propulsão ativa do bolo alimentar da cavidade oral em direção à faringe.

- (A) Oral
- (B) Faríngea
- (C) Esofágica
- (D) Preparatória
- (E) Reflexa

**QUESTÃO 29**

O princípio da equidade no SUS significa que o sistema deve:

- (A) Tratar todos de forma idêntica, independentemente de suas condições
- (B) Garantir prioridade a quem possui plano de saúde complementar
- (C) Tratar desigualmente os desiguais, investindo mais onde a carência é maior.
- (D) Priorizar apenas a assistência hospitalar
- (E) Manter todos os serviços de saúde uniformes em todo o território

**QUESTÃO 30**

Relacione os pares cranianos envolvidos no processo de deglutição com suas funções principais:

- I. Trigêmeo (V)
- II. Facial (VII)
- III. Glossofaríngeo (IX)
- IV. Vago (X)
- V. Hipoglosso (XII)

- ( ) Movimentação do alimento e propulsão posterior da língua.
- ( ) Inervação das amígdalas, palato mole e faringe.
- ( ) Abertura bucal (músculos miloióideo e digástrico).
- ( ) Paladar nos 2/3 anteriores da língua.
- ( ) Inervação da laringe e vísceras.

- (A) V – III – I – II – IV
- (B) II – IV – V – I – III
- (C) V – II – IV – I – III
- (D) III – V – I – II – IV
- (E) IV – III – II – V – I

**QUESTÃO 31**

Durante o período neonatal, um dos comportamentos característicos do recém-nato é:

- (A) Engatinhar de forma rudimentar
- (B) Rolar lateralmente
- (C) Elevar momentaneamente a cabeça em prono
- (D) Permanecer sentado, quando colocado
- (E) Produzir duplicidade de sílabas

**QUESTÃO 32**

A gagueira do desenvolvimento é definida como um transtorno caracterizado por:

- (A) Pausas voluntárias e bem controladas na fala.
- (B) Alterações do léxico e do vocabulário.
- (C) Perda da articulação motora da fala.
- (D) Deficiência auditiva progressiva.
- (E) Rupturas involuntárias do fluxo da fala.

**QUESTÃO 33**

Analise as afirmativas sobre a senilidade e verifique a relação entre elas.

I. As doenças relacionadas à senilidade podem comprometer tanto a capacidade física quanto a intelectual do idoso.

PORQUE

II. Essas doenças estão associadas unicamente ao processo genético, sem relação com fatores ambientais ou estilo de vida.

- (A) As duas asserções são verdadeiras, e a II justifica a I.
- (B) As duas asserções são verdadeiras, mas a II não justifica a I.
- (C) A I é verdadeira, e a II é falsa.
- (D) A I é falsa, e a II é verdadeira.
- (E) Ambas as asserções são falsas.

**QUESTÃO 34**

Na mecânica respiratória aplicada à fonação, a pressão subglótica é determinante para a produção vocal, pois resulta da ação coordenada dos músculos expiratórios. Essa pressão é diretamente responsável pelo controle da:

- (A) Frequência
- (B) Ritmo
- (C) Timbre
- (D) Intensidade
- (E) Prosódia

**QUESTÃO 35**

Na Esclerose Lateral Amiotrófica (ELA), doença neurodegenerativa de caráter crônico e progressivo, qual manifestação fonoaudiológica decorre da degeneração concomitante dos neurônios motores superiores e inferiores?

- (A) Flacidez
- (B) Espasticidade
- (C) Apraxia
- (D) Afasia
- (E) Disartria

**QUESTÃO 36**

As queimaduras de face e pescoço apresentam elevado impacto funcional e psicossocial, exigindo acompanhamento multiprofissional. Na atuação fonoaudiológica, as cicatrizes decorrentes dessas lesões podem gerar limitações motoras que comprometem funções essenciais do sistema estomatognático. Nesses casos, a finalidade da intervenção fonoaudiológica é:

- (A) Prevenção de contraturas musculares generalizadas.
- (B) Estímulo da regeneração espontânea dos tecidos dérmicos.
- (C) Recuperação das funções estomatognáticas e da mímica facial.
- (D) A preparação da musculatura para cirurgia reconstrutiva, tão somente.
- (E) Controle da dor e das alterações hemodinâmicas locais.

**QUESTÃO 37**

A respeito da disfonia, assinale a alternativa correta:

- (A) Rouquidão e disfonia são termos equivalentes e ambos representam diagnósticos clínicos.
- (B) Rouquidão é sempre resultado de patologias malignas, sendo imprescindível investigação imediata.
- (C) Disfonia é um diagnóstico, enquanto rouquidão é apenas um sintoma de alteração vocal.
- (D) O diagnóstico de disfonia depende necessariamente de exames de imagem antes da laringoscopia.
- (E) O tempo máximo fonatório não possui relevância na avaliação clínica da disfonia.

**QUESTÃO 38**

Um paciente do sexo masculino, 65 anos, tabagista e etilista, foi submetido à laringectomia total devido a um carcinoma espinocelular avançado de laringe. No pós-operatório, o fonoaudiólogo é incluído na equipe multidisciplinar para atuar na reabilitação funcional. Considerando as modalidades de reabilitação vocal pós-laringectomia total, assinale a alternativa que descreve corretamente uma das técnicas de produção de voz esofágica:

- (A) Injeção de ar no esôfago por meio de movimentos de pressão glossofaríngea ou consonantal.
- (B) Utilização de uma prótese fonatória intraoral que vibra com o movimento da língua por meio de indução.
- (C) Uso de um vibrador eletrônico aplicado sobre a região submandibular.
- (D) Estimulação elétrica transcraniana para ativação de músculos residuais da faringe.
- (E) Implantação de uma válvula de silicone na traqueia para direcionar o ar à boca.

**QUESTÃO 39**

Assinale a alternativa que corretamente completa a frase a seguir:

Na UTI Neonatal e Pediátrica, o fonoaudiólogo atua de forma interdisciplinar visando à promoção, prevenção, detecção precoce e intervenção de distúrbios da \_\_\_\_\_, da \_\_\_\_\_ oral e da \_\_\_\_\_.

- (A) voz; mastigação; visão
- (B) fala; motricidade; memória
- (C) linguagem; respiração; deglutição
- (D) comunicação; alimentação; audição
- (E) deglutição; cognição; articulação

**QUESTÃO 40**

No âmbito do Atendimento Educacional Especializado (AEE), é uma competência do fonoaudiólogo:

- (A) Realizar o diagnóstico clínico de transtornos globais do desenvolvimento.
- (B) Emitir laudos médicos para efeito de ingresso nas unidades educacionais.
- (C) Corrigir o professor em sala de aula quanto aos malfeitos no ensino das disciplinas regulares.
- (D) Sugerir estratégias, recursos e adaptações curriculares de sua competência.
- (E) Prescrever medicamentos para alunos com dificuldades de atenção.

**QUESTÃO 41**

Na Classificação Internacional de Funcionalidade e Incapacidade em Saúde - CIF, capacidade descreve:

- (A) a habilidade do indivíduo para executar uma tarefa em ambiente padronizado, representando seu nível máximo possível no domínio avaliado.
- (B) o envolvimento do indivíduo em situações de vida real, com consideração de fatores socioculturais, barreiras arquitetônicas e condições contextuais que influenciam a execução cotidiana de atividades.
- (C) o conjunto de influências contextuais externas (físicas, sociais e atitudinais), classificadas como facilitadores ou barreiras, usadas para explicar variações observadas no desempenho no ambiente habitual.
- (D) alterações nas funções fisiológicas dos sistemas orgânicos.
- (E) o nível hierárquico de detalhe das categorias na classificação.

**QUESTÃO 42**

Segundo o Decreto nº 87.218/1982, de 09 de dezembro de 1981, que dispõe sobre a regulamentação da profissão de Fonoaudiólogo; constitui infração disciplinar:

- (A) Atualizar os dados cadastrais no Conselho Regional.
- (B) Exercer atividades de docência em Fonoaudiologia.
- (C) Publicar relatórios de atividades dos Conselhos Regionais.
- (D) Participar de equipes multiprofissionais de diagnóstico.
- (E) Facilitar o exercício da profissão a não-registrados.

**QUESTÃO 43**

Constitui infração ética geral, de acordo com o Código de Ética da Fonoaudiologia:

- (A) Realizar pesquisas interdisciplinares.
- (B) Recusar atividades fora de sua competência técnica.
- (C) Assinar procedimento realizado por terceiros.
- (D) Atualizar cadastro no Conselho Regional.
- (E) Solicitar desagravo profissional.

**QUESTÃO 44**

A Lei 8.080/90 define as competências de cada esfera de governo no âmbito do SUS. Relacione a coluna da esfera governamental com a competência correta que lhe é atribuída.

- I. Direção nacional
- II. Direção estadual
- III. Direção municipal

- ( ) Acompanhar, controlar e avaliar as redes hierarquizadas do Sistema Único de Saúde.
  - ( ) Formular, avaliar e apoiar políticas de alimentação e nutrição.
  - ( ) Planejar, organizar, controlar e avaliar as ações e os serviços de saúde e gerir e executar os serviços públicos de saúde.
- A sequência correta, respectivamente, é:

- (A) I, II, III
- (B) II, I, III
- (C) III, II, I
- (D) II, III, I
- (E) I, III, II

**QUESTÃO 45**

No cuidado ao recém-nascido, qual ação preventiva é atribuição do fonoaudiólogo por lei?

- (A) Triagem auditiva neonatal universal.
- (B) Videofluoroscopia de deglutição.
- (C) Audiometria de reforço oral.
- (D) Implante coclear.
- (E) Terapia fonoarticulatória intensiva.

**QUESTÃO 46**

Relacione os instrumentos de avaliação listados com a descrição de sua aplicação ou finalidade.

- 1 - Aplicação da Escala de Integração Auditiva significativa para crianças pequenas: IT-MAIS
- 2 - Early Listening Function - ELF
- 3 - Avaliação dos Pais do Desempenho Oral - PEACH
- 4 - Aplicação do Teste de Avaliação da Capacidade Auditiva Mínima - TACAM

- ( ) Avalia a percepção da fala na avaliação de crianças candidatas ao Implante Coclear.
- ( ) Questionário para registrar como a criança está ouvindo e se comunicando com os dispositivos em casa.
- ( ) Serve para avaliar as respostas espontâneas da criança ao som do seu ambiente cotidiano.
- ( ) Contém 12 atividades de detecção auditiva para sons de fraca, média e forte intensidades.

A sequência correta é:

- (A) 4 – 2 – 1 – 3
- (B) 3 – 4 – 2 – 1
- (C) 2 – 1 – 4 – 3
- (D) 1 – 2 – 3 – 4
- (E) 4 – 3 – 1 – 2

**QUESTÃO 47**

No órgão de Corti, as principais células receptoras auditivas são:

- (A) Células ciliadas externas
- (B) Células ciliadas internas
- (C) Células de sustentação
- (D) Neurônios tipo II
- (E) Membrana tectória

**QUESTÃO 48**

Na Doença de Parkinson, a hipomimia (“face em máscara”) compromete a comunicação não verbal. Qual intervenção fonoaudiológica é indicada para preservar a tonicidade muscular orofacial e melhorar a expressividade?

- (A) Relaxamento
- (B) Respiração
- (C) Emissão
- (D) Articulação
- (E) Miofuncional

**QUESTÃO 49**

Assinale a alternativa que corretamente completa a frase a seguir:

Para a teoria chomskyana, a competência linguística deriva de princípios inatos comuns a todas as línguas, denominados \_\_\_\_\_, que fornecem a base estrutural sobre a qual as variações linguísticas particulares se manifestam.

- (A) Estruturas Formais
- (B) Estruturas Fonêmicas
- (C) Categorias Cognitivas
- (D) Regras Sintagmáticas
- (E) Gramática Universal

**QUESTÃO 50**

Esse tipo de dislalia manifesta-se por erros na produção de fonemas, unidades sonoras capazes de alterar o significado das palavras, ocorrendo substituições, omissões, distorções ou acréscimos. Por exemplo, uma criança pode pronunciar a palavra “pato” como “tato”. Esse tipo de dislalia denomina-se:

- (A) Dislalia Fonética
- (B) Dislalia Orgânica
- (C) Dislalia Fonêmica
- (D) Dislalia Funcional
- (E) Dislalia de Mistura

