



COMISSÃO PERMANENTE DE CONCURSOS



## CÂMARA MUNICIPAL DE SOUSA - PB

# NÍVEL FUNDAMENTAL INCOMPLETO

### CARGOS:

**Auxiliar de Serviços - Motorista**

### EXAME GRAFOTÉCNICO:

(Transcreva a frase abaixo no local indicado na sua Folha de Respostas)

**“Do progresso nasceu a riqueza em plena evolução, era Sousa florindo o Sertão.”**

### INSTRUÇÕES:

- 01** Verifique se este caderno de provas contém **40 (quarenta)** questões de múltipla escolha, sendo Português de **01 a 20**, Matemática de **21 a 30** e Conhecimentos Gerais de **31 a 40**.
- 02** Observe se há falhas ou imperfeições gráficas que causem dúvidas. Caso existam, comunique imediatamente ao Fiscal de Sala.
- 03** Verifique se os dados existentes na Folha de Respostas conferem com os dados do Cartão de Inscrição.
- 04** Esta Prova tem duração de **4 (quatro)** horas. Não é permitida a saída do candidato antes de esgotado o tempo mínimo de **2 (duas)** horas.
- 05** É vetado, durante a prova, o intercâmbio ou empréstimo de material de qualquer natureza entre os candidatos, bem como o uso de celulares, calculadoras e/ou qualquer outro tipo de equipamento eletrônico. A fraude, ou tentativa, a indisciplina e o desrespeito às autoridades encarregadas dos trabalhos são faltas que eliminam o candidato.
- 06** Assine a **Lista de Presença** e entregue ao Fiscal de Sala a **Folha de Respostas** devidamente assinada, bem como o **Caderno de Prova**. O candidato poderá destacar o gabarito rascunho da última folha da prova, e levá-lo para sua conferência.



CMS 2022- FUND I NCOMPLETO



# PORTUGUÊS

Leia os textos abaixo e responda às questões de 01 a 04.

## Texto I

Turismo de Sousa PB

É em Sousa que se encontra o Parque dos Dinossauros, com um dos maiores trechos de pegadas de dinossauros preservadas. Mas atualmente esta atração necessita de recursos para reformas, pois está em situação decadente. Também falta uma maior divulgação.

A localidade possui várias praças de acesso público. Um de seus maiores destaques é a festa da padroeira, realizada no mês de setembro, e o Sousafolia, grande micareta realizada geralmente no mês de maio, atraindo muitos turistas para a região. A estátua de Frei Damião também é um ponto turístico da cidade. A estátua foi construída pela grande admiração que o frade tinha pela cidade, visitando-a constantemente e sendo querido por toda a população. São muitos os devotos na cidade. É em Sousa que se encontra o Parque dos Dinossauros.

O município está incluído na área geográfica de abrangência do semiárido brasileiro, definida pelo Ministério da Integração Nacional em 2005[6]. Esta delimitação tem como critérios o índice pluviométrico, o índice de aridez e o risco de seca.

O Parque dos Dinossauros é um dos maiores sítios arqueológicos, com aproximadamente 21 sítios, de pegadas preservadas do mundo. Foram observadas pegadas fossilizadas de mais de 80 espécies, a maioria de dinossauros carnívoros. As pegadas variam entre 5 cm e 40 cm. Segundo estudos, grande parte dos vestígios encontrados eram de dinossauros voadores. Em suas trilhas, é possível observar vestígios (pegadas) também de dinossauros herbívoros, como o *Iguanodonte mantelli*, supostamente de quatro toneladas, e de carnívoros como o *Velociraptor*, com aproximadamente duas toneladas. As pegadas podem ser observadas em 13 camadas. É fato que duas pegadas do parque foram roubadas, e foram localizadas, uma em Boston (E.U.A) e a outra na França. Esses animais viveram nessa região há aproximadamente 110 milhões de anos. O parque foi descoberto pelo geólogo Luciano Jaques de Moraes. O parque, assim como seus guias, são mantidos pelos turistas. (L.C.).

Disponível em: <<https://www.achetudoeregiao.com.br/pb/sousa/turismo.htm>>. Acesso em: 09 nov. 2022. (Adaptado).

## Texto II



Disponível em:

<[https://www.google.com/search?q=charge+sobre+os+dinossauros&rlz=1C1GCEA\\_enBR936BR936&oq=charge+sobre+os+dinossauros&aqs=chrome..69i57j33i160.10197j0j4&sourceid=chrome&ie=UTF-8#imgcr=PowWtAwB5mjDUM&imgdii=21GMYLTRM07RrM](https://www.google.com/search?q=charge+sobre+os+dinossauros&rlz=1C1GCEA_enBR936BR936&oq=charge+sobre+os+dinossauros&aqs=chrome..69i57j33i160.10197j0j4&sourceid=chrome&ie=UTF-8#imgcr=PowWtAwB5mjDUM&imgdii=21GMYLTRM07RrM)>. Acesso em: 09 nov. 2022.

## 1ª QUESTÃO

Leia as afirmações abaixo acerca dos textos acima e responda ao que se pede:

- I- Não há identidade nem relação de qualquer natureza entre os textos acima.
- II- O animal que representa a inflação, no imaginário do contribuinte brasileiro, é, conforme se deduz do texto II, acima, também um dinossauro.
- III- Os textos acima estão absolutamente isentos de quaisquer tipos de denúncias.
- IV- Deduz-se, a partir de informações do texto I, que a maioria dos vestígios (pegadas) de dinossauros se constitui da espécie carnívora.
- V- Deduz-se, a partir de informações do texto I, que a maioria dos vestígios de dinossauros constitui-se da espécie voadora e não carnívora.

Está CORRETO o que se afirma apenas em:

- a) IV.
- b) IV e V.
- c) I, II e III.
- d) II e V.
- e) III e V.





### 5ª QUESTÃO

Das três palavras escritas erradamente nas imagens, pode-se afirmar que, do ponto de vista morfológico:

- a) Todas se classificam como adjetivos.
- b) Todas se classificam como substantivos.
- c) Há dois adjetivos e um substantivo.
- d) Há dois substantivos e um advérbio.
- e) Há dois substantivos e um pronome.

### 6ª QUESTÃO

Ainda em relação às placas publicitárias (Imagem I e II), julgue as afirmações abaixo e responda ao que se pede:

- I- Embora grafadas numa variante popular, marcada pelo erro de ortografia, não necessariamente, deixam de cumprir a sua função comunicativa, isto é, publicizar o produto, vender.
- II- Os erros de ortografia comprometem fortemente a sua função comunicativa, a ponto de torná-las, no contexto, ininteligíveis e, portanto, sem qualquer finalidade comercial.
- III- Os erros de ortografia, nesse tipo de publicidade, devem ser sempre perdoados. Afinal, o importante é vender. Nestas situações, o cuidado com a escrita padrão, dentro das normas gramaticais, deve ser sempre relativizado

Está CORRETO o que se afirma apenas em:

- a) I.
- b) I e III.
- c) II e III.
- d) III.
- e) II.

### 7ª QUESTÃO

A parte sublinhada em “Cortes infantis”, (Imagem), nesse contexto de uso, funciona morfológicamente como:

- a) Substantivo.
- b) Adjetivo.
- c) Pronome.
- d) Advérbio.
- e) Conjunção.

Atente às imagens abaixo para responder às questões 8 e 9.

Imagem I



Imagem II



Imagem III





### 8ª QUESTÃO

Acerca das imagens, pode-se afirmar que, gramaticalmente,

- a) haja qualquer erro de concordância, já que as falhas são apenas de ortografia.
- b) em apenas duas delas a concordância está correta.
- c) em todas a concordância está correta.
- d) em nenhuma delas a concordância está correta.
- e) em apenas uma delas a concordância está correta.

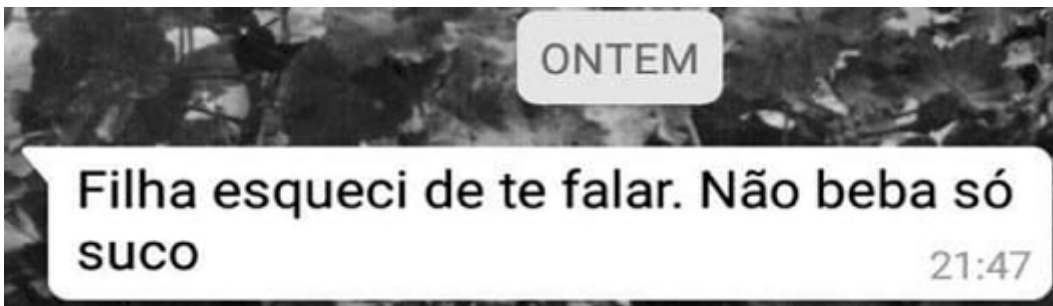
### 9ª QUESTÃO

Acerca da imagem III, pode-se afirmar que:

- a) se acumulam duas naturezas de erros: de acentuação gráfica e de concordância nominal.
- b) se acumulam duas naturezas de erros: ortográfico e de concordância verbal.
- c) se acumulam duas naturezas de erros: ortográficos e de concordância nominal.
- d) se acumulam duas naturezas de erros: de pontuação e de concordância nominal.
- e) se acumulam três naturezas de erros: de pontuação, acentuação gráfica e de concordância nominal.

Leia com atenção as imagens abaixo para responder às questões 10 e 11:

Imagem I



Disponível em: <<https://buzzfeed.com.br/post/21-imagens-que-provam-a-importancia-da-pontuacao>>. Acesso em: 10 nov. 2022.

Imagem II



Disponível em: <<https://www.superfeed.com.br/2018/02/erros-de-portugues-engracados.html>>. Acesso em: 10 nov. 2022.

### 10ª QUESTÃO

Julgue as afirmações abaixo acerca das imagens acima e responda o que se pede:

- I- É possível se inferir que na imagem I haja falhas de concordância verbal.
- II- É possível se inferir que na imagem I haja falhas de pontuação.
- III- A imagem II apresenta erros de ortografia e acentuação gráfica.
- IV- É possível se inferir que na imagem I haja falhas de concordância nominal.

Está CORRETO o que se afirma apenas em:

- a) II e III.
- b) I e II.
- c) I e III.
- d) II.
- e) III.

**11ª QUESTÃO**

Em “Filha esqueci de te falar” (Imagem I), o sujeito da oração sublinhada é:

- a) Eu (implícito).
- b) Filha.
- c) Te.
- d) Esqueci.
- e) Falar.

**Atente aos enunciados a seguir e responda às questões 12 e 13.**

- I- Certa noite, de amor quase morremos.
- II- Serei feliz, apesar de tudo.
- III- Venha hoje à noite, pelas 9h.
- IV- Ele permaneceu feliz durante a pandemia.
- V- Houve momentos felizes entre nós.

**12ª QUESTÃO**

Sobre os enunciados acima, pode-se afirmar que:

- a) Há predicado nominal apenas em IV.
- b) Há predicado nominal apenas em II.
- c) Há predicados verbais apenas em I e V.
- d) Há predicados verbais apenas em I, III e V.
- e) Não há predicados nominais em nenhum deles.

**13ª QUESTÃO**

Temos situações de sujeito inexistente apenas em:

- a) I.
- b) I e V.
- c) II e III.
- d) V.
- e) III.

**Leia com cuidado o texto que segue para responder às questões 14, 15, 16 e 17.**

O agricultor brasileiro continua sendo responsável por ajudar a suprir todo o planeta, responsabilidade que cresceu com as consequências da guerra Rússia/Ucrânia. As exportações do agronegócio brasileiro alcançaram US\$ 15,11 bilhões em maio deste ano, uma alta de 14,2% em relação ao mesmo mês de 2021.

Nos cinco primeiros meses de 2022, somaram US\$ 63,62 bilhões, com um crescimento de 29% sobre 2021, alcançado um valor histórico para o período. O recorde anterior entre janeiro e maio foi em 2021, quando as exportações registraram US\$ 49,33 bilhões.

O contingente de trabalhadores rurais é de aproximadamente 18 milhões de pessoas, número 6,2% maior que o registrado no mesmo período do ano passado, apontou pesquisa do Centro de Estudos Avançados em Economia Aplicada (Cepea), da Esalq/USP. Os números se referem ao 1º trimestre de 2022.

O setor ainda é responsável por milhares de empregos de trabalhadores em empresas que fornecem para o agro, como o setor de máquinas agrícolas ou fertilizantes, por exemplo. E ainda no comércio e serviços que abastecem as comunidades rurais espalhadas pelo País.

(Fábio de Salles Meirelles é presidente da Federação da Agricultura e Pecuária do Estado de São Paulo [FAESP]).

Disponível em: <<https://www.portaldbo.com.br/artigo-dia-do-agricultor-a-forca-e-a-resiliencia-que-vem-do-campo/>>.

Acesso em: 11 nov. 2022.

**14ª QUESTÃO**

Atente às afirmações abaixo acerca do texto e responda ao que se pede:

- I- O texto aponta para a informação de que houve aumento das exportações do agronegócio, nos primeiros cinco meses de 2022, em relação ao mesmo período de 2021, que ultrapassa a cifra de 33,68%.
- II- A informação que trata do aumento do número de trabalhadores rurais, em 2022, refere-se, segundo o texto, apenas aos de baixa qualificação, por exemplo, cortadores de cana-de-açúcar.
- III- Segundo o que aponta o texto, as estatísticas de crescimento das exportações do agronegócio em 2022 no Brasil se devem unicamente à escassez de alimento no mundo provocada pela guerra da Ucrânia/Rússia.
- IV- O que se pode deduzir do texto é que, frente à crise de abastecimento de alimentos no mundo provocada pela guerra da Ucrânia/Rússia, a agricultura brasileira teve a sua parcela positiva de contribuição.

Está CORRETO o que se afirma em:

- a) II, III e IV apenas.
- b) I, II e III apenas.
- c) I, II, III e IV.
- d) III e IV apenas.
- e) IV apenas.

**15ª QUESTÃO**

O sujeito da sentença “As exportações do agronegócio brasileiro alcançaram US\$ 15,11 bilhões em maio deste ano” classifica-se como:

- a) Composto e tem como núcleos “exportações” e “As”.
- b) Simples e tem como núcleo “agronegócio”.
- c) Simples e tem como núcleo “exportações”.
- d) Composto e tem como núcleos “exportações” e “brasileiro”.
- e) Inexistente.

**16ª QUESTÃO**

Na sentença “O setor ainda é responsável por milhares de empregos de trabalhadores em empresas que fornecem para o agro, como o setor de máquinas agrícolas ou fertilizantes”, as palavras sublinhadas classificam-se morfologicamente como:

- a) Numeral – preposição – pronome – preposição – verbo – substantivo.
- b) Artigo – preposição – preposição – pronome – verbo – adjetivo.
- c) Numeral – pronome – preposição – preposição – verbo – adjetivo.
- d) Artigo – pronome – preposição – pronome – adjetivo – verbo.
- e) Numeral – preposição – preposição – preposição – verbo – substantivo.

**17ª QUESTÃO**

A regra de acentuação gráfica de “agrícola”, “histórico”, “lâmpada” e “crédito” é a mesma de:

- a) “público”, “nevrálgico”, “tímido”, “temível” e “temido”.
- b) “transito”, “última”, “recorde”, “ininteligível” e “credito”.
- c) “bêbado”, “trafego”, “ventríloquo”, “pedículo” e “trafico”.
- d) “bêbado”, “tráfego”, “assembleia”, “pedicure” e “exequível”.
- e) “descrédito”, “trânsito”, “limítrofe”, “última”, “tráfego” e “pássaro”.

**18ª QUESTÃO**

Atente aos enunciados abaixo e responda ao que se pede

- I- Esse guarda de trânsito ama comer uma bola. Semana passada filmei uma cena dele subornando um motorista.
- II- “Essa mina quer coisa. Semana passada tava dando bola pra mim”.
- III- As asas do condor talvez sejam uma das maiores da espécie.
- IV- “Redbull te dá asas!!!”.
- V- As maiores minas de carvão do mundo estão na África.

As partes sublinhadas nos enunciados de I a IV são, respectivamente, clássicos exemplos de:

- a) Conotação – denotação – denotação – conotação – denotação – denotação.
- b) Denotação – conotação – conotação – denotação – denotação – denotação.
- c) Conotação – conotação – conotação – denotação – conotação – denotação.
- d) Conotação – denotação – denotação – conotação – conotação – conotação.
- e) Conotação – conotação – denotação – conotação – denotação – conotação.

**19ª QUESTÃO**

Em “Nunca enxerguei/ que a boa vida que sempre procurei/ sempre esteve ao meu lado/ e nunca a vi”, temos uma sequência de quatro orações separadas por barras transversais. O sujeito, nesta sequência, de cada uma delas é:

- a) Composto – Eu (Implícito) – Indeterminado – Eu (Implícito).
- b) Eu (Implícito) – Inexistente – A boa vida – Inexistente.
- c) Indeterminado – Eu (Implícito) – Indeterminado – Eu (Implícito).
- d) Eu (Implícito) – Eu (Implícito) – A boa vida – Eu (Implícito).
- e) Eu (Implícito) – Composto – Inexistente – Eu (Implícito).

Atente à tirinha abaixo para responder à questão 20.

**Vida moderna**

Baseado em uma coluna de Max Gehri

Disponível em:

<

**20ª QUESTÃO**

Julgue as afirmações abaixo acerca da tirinha e responda ao que se pede:

- I- Deduz-se, a partir das informações da tirinha, que a linguagem utilizada pelo médico faz parte do protocolo da profissão e é necessária como estratégia precoce de cura.
- II- A variante linguística utilizada pelo médico, na sua relação com o paciente, pode apontar, dentre outras questões, para uma relação de poder, tentativa de estabelecer distinção e até certa arrogância.
- III- O comportamento do paciente frente ao 'diagnóstico' do médico aponta para desespero, fragilidade, desconhecimento e insegurança.
- IV- A variante linguística utilizada pelo paciente, em sua pergunta desesperada, é popular, informal e típica de um falante analfabeto formal e/ou desprovido de qualquer nível de letramento.

Está CORRETO o que se afirma apenas em:

- a) II, III e IV.
- b) I, III e IV.
- c) II e III.
- d) I e IV.
- e) III.



# MATEMÁTICA

## 21ª QUESTÃO

Uma loja de artigos esportivos possui 80 camisas da seleção brasileira em estoque, sendo  $\frac{2}{5}$  na cor azul e o restante na cor amarela. Se durante uma semana foram vendidas  $\frac{3}{4}$  das camisas azuis e  $\frac{2}{3}$  das amarelas, qual a quantidade total de camisas da seleção vendidas nessa semana?

- a) 62.
- b) 54.
- c) 48.
- d) 56.
- e) 64.

## 22ª QUESTÃO

Uma cozinheira irá preparar um pudim de leite que deverá assar no forno por 1 hora e 20 minutos. Em seguida, ficará 30 minutos esfriando e, por fim, 4 horas gelando. Após esse processo, estará pronto para servir. Se o pudim for colocado no forno às 09h30min, que horas, no mínimo, poderá ser servido?

- a) 13h30min.
- b) 14h30min.
- c) 14h20min.
- d) 15h40min.
- e) 15h20min.

## 23ª QUESTÃO

Uma operadora de TV por assinatura oferece um pacote de canais no valor de 50 reais por mês. No entanto, o cliente pode optar pelo plano anual deste pacote, pagando antecipadamente 420 reais por 1 ano completo de assinatura. Se um cliente deseja manter a assinatura por 1 ano, qual o desconto que ele terá se optar pelo pagamento antecipado?

- a) 20%.
- b) 15%.
- c) 30%.
- d) 25%.
- e) 35%.

## 24ª QUESTÃO

Se  $A = \frac{x+5}{6}$  e  $B = \frac{3x+4}{3}$  são números reais tais que  $A + B = 1$ , então o valor de  $A - B$  é igual a:

- a)  $\frac{2}{3}$ .
- b)  $\frac{1}{3}$ .
- c)  $\frac{5}{6}$ .
- d)  $\frac{1}{2}$ .
- e)  $\frac{3}{2}$ .

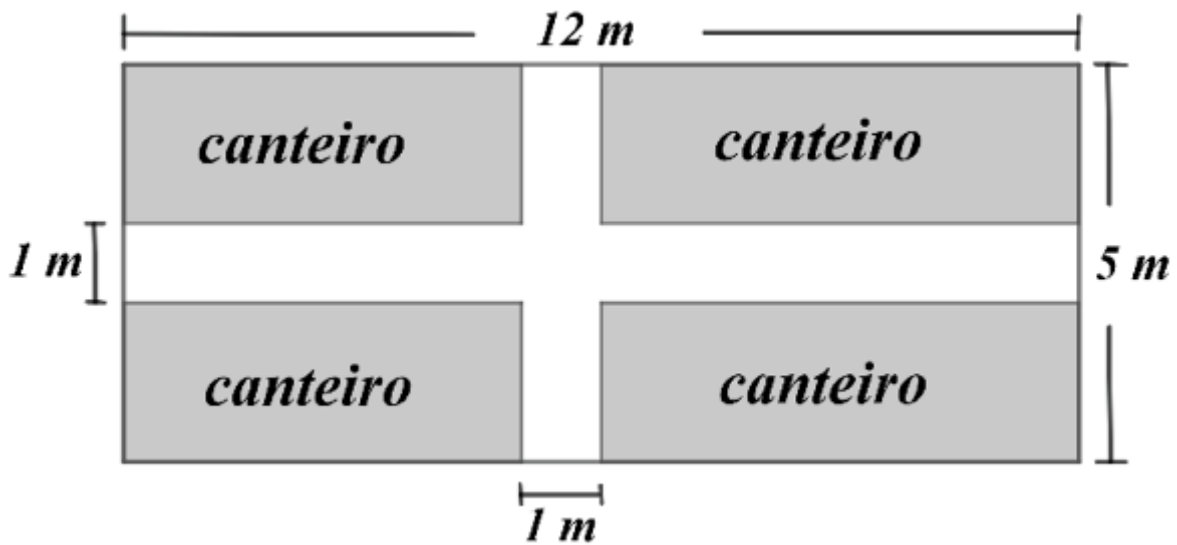
## 25ª QUESTÃO

O gramado do campo de futebol de um condomínio é regado diariamente por 6 irrigadores giratórios distribuídos pelo campo, cada um deles com vazão constante de 800 litros de água por hora. Sabendo-se que são necessários  $4 \text{ m}^3$  de água por dia para a irrigação do gramado, quanto tempo os 6 irrigadores devem ficar ligados?

- a) 35 minutos.
- b) 30 minutos.
- c) 50 minutos.
- d) 40 minutos.
- e) 45 minutos.

**26ª QUESTÃO**

Paulo possui uma horta em um terreno retangular que mede  $12\text{ m}$  de comprimento por  $5\text{ m}$  de largura. No terreno, existem 4 canteiros retangulares com um espaço de  $1\text{ m}$  entre eles, conforme representado na figura abaixo. Sabendo-se que ele pretende utilizar  $150\text{ g}$  de adubo químico por  $\text{m}^2$  de canteiro, qual a quantidade total de adubo necessária para os 4 canteiros?



- a)  $6,6\text{ kg}$ .
- b)  $6,8\text{ kg}$ .
- c)  $7,0\text{ kg}$ .
- d)  $7,4\text{ kg}$ .
- e)  $7,2\text{ kg}$ .

**27ª QUESTÃO**

Pedro e Lucas participaram de um mesmo concurso público cuja prova objetiva tinha um total de 60 questões. Se Pedro acertou exatamente  $\frac{2}{3}$  das questões e Lucas acertou  $75\%$ , é CORRETO afirmar que:

- a) Lucas errou 25 questões.
- b) Pedro errou 5 questões a mais do que Lucas.
- c) Pedro acertou 50 questões.
- d) Os dois acertaram a mesma quantidade de questões.
- e) Lucas acertou 10 questões a mais do que Pedro.

**28ª QUESTÃO**

Associe as duas colunas, relacionando o sólido geométrico à sua propriedade.

1. Pirâmide de base quadrada	( ) Possui exatamente 4 faces.
2. Cubo	( ) Possui apenas 8 arestas.
3. Prisma de base triangular	( ) Possui o total 6 vértices.
4. Pirâmide de base triangular	( ) Possui exatamente 12 arestas.

A sequência CORRETA dessa associação é:

- a) 1, 4, 3, 2.
- b) 1, 4, 2, 3.
- c) 4, 3, 1, 2.
- d) 4, 1, 3, 2.
- e) 2, 1, 4, 3.

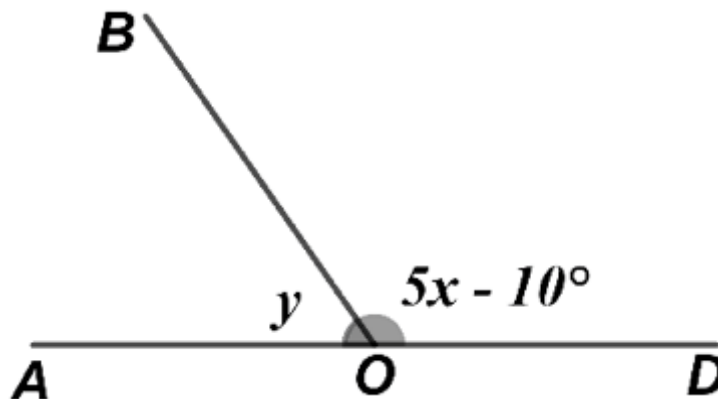
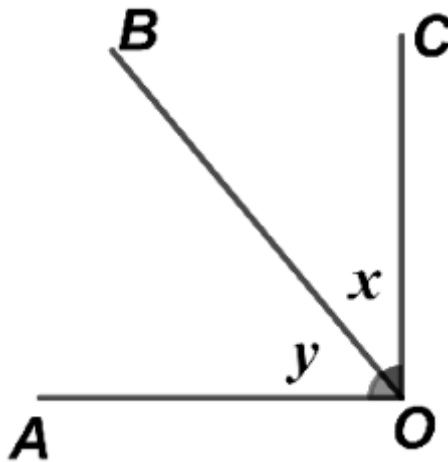
**29ª QUESTÃO**

Uma escola possui duas turmas de Educação de Jovens e Adultos (EJA), uma no turno da manhã e outra à noite, as quais possuem 25 e 30 alunos, respectivamente. A média aritmética das idades da turma da manhã é de 26 anos, e na turma da noite, a média é de 37 anos. Nestas condições, a média aritmética das idades de todos os alunos de EJA desta escola é de:

- a) 31 anos.
- b) 29 anos.
- c) 30 anos.
- d) 33 anos.
- e) 32 anos.

**30ª QUESTÃO**

Nas figuras, o ângulo  $A\hat{O}B = y$  é o complementar do ângulo  $B\hat{O}C = x$ , e é o suplementar do ângulo  $B\hat{O}D = 5x - 10^\circ$ . É CORRETO afirmar que  $y$  é igual a:



- a)  $65^\circ$
- b)  $75^\circ$
- c)  $60^\circ$
- d)  $55^\circ$
- e)  $70^\circ$



# CONHECIMENTOS GERAIS

## 31ª QUESTÃO

O estado da Paraíba é comumente dividido nas seguintes regiões, com características bem diferentes: Litoral, Agreste e Sertão. Os jornais televisivos paraibanos, quando apresentam a previsão do tempo e as temperaturas para todo o estado, sempre fazem referência a estas regiões, evidenciando suas diferenças climáticas.

Considerando as observações anteriores sobre as regiões do estado da Paraíba, suas características e diferenças, assinale a opção CORRETA:

- a) O Sertão se destaca na economia estadual com a atividade canavieira e o litoral no cultivo do algodão.
- b) No Sertão, são registradas as menores temperaturas do estado, por ser uma área com grande cobertura vegetal.
- c) Diferente do Litoral e do Sertão, o Agreste não possui cidades que apresentem importância para a economia da Paraíba.
- d) Quanto à distribuição das chuvas ao longo do ano, as três regiões apresentam os mesmos índices de chuvas.
- e) O Litoral é a região de maior importância econômica e abriga a maior parte da população do estado.

## 32ª QUESTÃO

O Brasil, conforme a Constituição de 1988, é uma República Federativa, dividida em 26 (vinte e seis) estados, 01 (um) Distrito Federal e em municípios, distribuídos e agrupados entre as cinco grandes regiões do País: Norte, Centro-Oeste, Nordeste, Sudeste e Sul.

Sobre esta divisão e distribuição dos estados brasileiros entre as regiões, assinale a alternativa CORRETA:

- a) A região Sul abriga os estados mais ricos da Federação brasileira.
- b) A região Nordeste é a que possui o maior número de estados.
- c) O Distrito Federal está localizado na região Sudeste.
- d) A região Norte, por ser a mais extensa, tem maior número de estados.
- e) O estado do Pará é o estado mais importante da região Centro-Oeste.

## 33ª QUESTÃO

Observe a charge abaixo, relacionada a aspectos da realidade urbana brasileira:



Disponível em: <<https://www.google.com.br/search?q=desigualdades+sociais+no+brasil>>. Acesso em: 07 nov. 2022.

Analisando a charge acima e considerando as desigualdades sociais no Brasil, é CORRETO afirmar:

- a) O baixo preço dos terrenos nas grandes cidades é a causa principal da multiplicação das favelas com habitações precárias.
- b) No Brasil, as desigualdades sociais entre ricos e pobres são mínimas e o padrão habitacional entre as classes sociais é igual.
- c) Apenas nas cidades existe uma separação entre os mais ricos e os mais pobres. No campo, essas diferenças não existem.
- d) No Brasil, não existem programas por parte do poder público para financiar habitações para a população de baixa renda.
- e) Nas cidades, a desigualdade entre ricos e pobres pode ser observada a partir das diferenças entre suas habitações.

### 34ª QUESTÃO

Leia o fragmento de texto abaixo:

**“Os efeitos da pandemia variam amplamente e incluem desde impactos diretos na economia e empregos até efeitos indiretos de perdas de aprendizagem entre crianças que estão fora da escola.”**

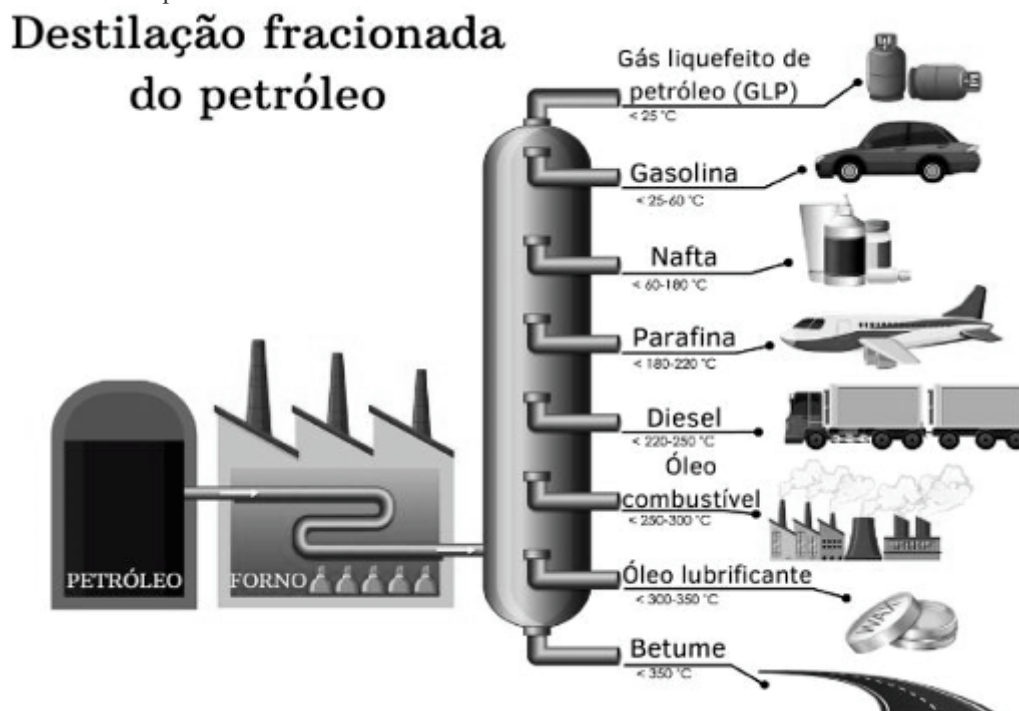
Disponível em: <<https://www.worldbank.org/pt/country/brazil/brief/impactos-da-covid19-no-brasil>>. Acesso em: 07 nov. 2022.

Sobre os efeitos da pandemia do Coronavírus no Brasil, assinale a alternativa CORRETA:

- a) A população mais jovem, por ser muito exposta, foi a mais afetada.
- b) O Brasil foi um dos países menos atingidos pelos efeitos da pandemia.
- c) Os efeitos da pandemia no Brasil foram sentidos apenas na educação.
- d) Os efeitos da pandemia atingiram mais a população que já era vulnerável.
- e) Os efeitos da pandemia atingiram igualmente toda a população.

### 35ª QUESTÃO

Observe a figura abaixo sobre o petróleo:



Disponível em: <<https://www.google.com.br/search?q=diferentes+usos+do+petroleo>>. Acesso em: 08 nov. 2022.

Analisando a figura acima sobre os diferentes usos do petróleo e considerando sua importância para o Brasil e para o mundo, assinale a alternativa CORRETA:

- a) As elevações e as diminuições no preço do barril de petróleo não interferem no funcionamento da economia.
- b) Combustíveis derivados do petróleo são utilizados por diferentes meios de transportes: automóveis, caminhões e aviões.
- c) Os derivados do petróleo são utilizados exclusivamente para mover os meios de transportes, rodoviário e ferroviário.
- d) O petróleo é fundamental para a economia brasileira, sendo o produto mais exportado pelo Brasil para outros países.
- e) Analisando a figura, pode-se perceber que as indústrias e as residências não usam os derivados do petróleo.

### 36ª QUESTÃO

O estado da Paraíba possui 223 cidades, distribuídas em suas diferentes regiões. Existem grandes diferenças entre essas cidades, no que se refere ao número de habitantes, à sua influência e à sua importância econômica. As três maiores e mais importantes cidades do Sertão paraibano são as seguintes:

- a) Sousa, Juazeirinho e Santa Luzia.
- b) Pombal, Itaporanga e São Bento.
- c) Campina Grande, Patos e Catolé do Rocha.
- d) Patos, Sousa e Cajazeiras.
- e) Cajazeiras, Soledade e Teixeira.

### 37ª QUESTÃO

Leia o texto a seguir:

“A **participação do povo nas eleições é o maior exemplo do funcionamento da democracia** em um país. Quanto maior é a sua participação, mais democrático é o governo por ele eleito. Cada país tem sua história e suas particularidades sobre os meios utilizados para garantir-se a participação do eleitor na escolha dos representantes que trabalharão nos poderes Executivo e Legislativo.”

Disponível em: <<https://mundoeducacao.uol.com.br/historiadobrasil/historia-das-eleicoes-no-brasil.htm>>. Acesso em: 08 nov. 2022.

Analisando o texto acima e considerando a realidade brasileira sobre o tema, é CORETO afirmar:

- a) No Brasil, as eleições são livres e diretas para cargos dos poderes executivo e legislativo.
- b) O Brasil não é um bom exemplo de democracia, porque as eleições são indiretas.
- c) No Brasil, o povo não tem participação na escolha dos cargos do poder legislativo.
- d) Em toda a história do Brasil, o povo sempre participou da escolha de seus representantes.
- e) A ocorrência de eleições diretas é a única causa da existência da democracia no Brasil.

### 38ª QUESTÃO

Leia, abaixo, o trecho da canção *Sampa*, de Caetano Veloso.

“Do povo oprimido nas filas, nas vilas, favelas  
 Da força da grana que ergue e destrói coisas belas  
**Da feia fumaça que sobe, apagando as estrelas**  
 Eu vejo surgir teus poetas de campos, espaços  
 Tuas oficinas de florestas, teus deuses da chuva.”


Disponível em: <<https://www.google.com/search?q=letra+de+sampa&oq=letra+de+sampa&aqs=chrome>>. Acesso em: 08 nov. 2022.

A música *Sampa* é uma composição de Caetano Veloso em homenagem à cidade de São Paulo. No trecho da música, o compositor faz referência a alguns problemas urbanos das grandes cidades, como os que ocorrem em São Paulo. A frase em destaque “Da feia fumaça que sobe, apagando as estrelas” é uma referência a qual problema ambiental?

- a) Poluição do ar.
- b) Poluição dos solos.
- c) Poluição visual.
- d) Poluição sonora.
- e) Poluição das águas.

### 39ª QUESTÃO

Observe a charge a seguir:



Disponível em: <<https://www.facebook.com/GZHDigital/photos/a.284218549955/10151669875089956/?type=3>>. Acesso em: 08 nov. 2022. Adaptado.

A charge acima faz referência a uma modalidade de trabalho que envolve, atualmente, milhões de brasileiros. É um trabalho que consiste na realização de atividades sem vínculos empregatícios, no qual o trabalhador não tem direitos trabalhistas. Como é denominado este tipo de trabalho?

- a) Emprego estável.
- b) Emprego formal.
- c) Emprego informal.
- d) Emprego qualificado.
- e) Emprego obsoleto.



**40ª QUESTÃO**

Dentre os diversos preconceitos e formas de discriminação existentes na sociedade brasileira, que devem ser combatidos e criminalizados, um ocorre contra as mulheres. É caracterizado pela repulsa, pelo ódio e pelo desprezo em relação a elas. Tal preconceito resulta, muitas vezes, em violência contra mulheres. Esta forma de preconceito e de violência, é denominado(a) de:

- a) Racismo.
- b) Xenofobia.
- c) Misoginia.
- d) Homofobia.
- e) Feminismo.

