



CÂMARA MUNICIPAL DE AQUIRAZ – CE
CONCURSO PÚBLICO
EDITAL Nº 001/2024 DE 06 DE SETEMBRO 2024

ARQUIVISTA

NOME DO CANDIDATO: _____
RG: _____ ÓRGÃO EXPEDIDOR: _____

Nº DE INSCRIÇÃO

--	--	--	--	--	--	--	--

ASSINATURA: _____

LEIA COM ATENÇÃO E SIGA RIGOROSAMENTE ESTAS INSTRUÇÕES:

1. Este caderno contém 60 (sessenta) questões de múltipla escolha, numeradas de 1 (um) a 60 (sessenta).
2. Cada uma das questões apresenta um enunciado seguido de 5 (cinco) alternativas, das quais somente uma deve ser assinalada.
3. Examine se a prova está completa com a sequência numérica das questões, se há falhas ou imperfeições gráficas que causem dúvidas. Qualquer reclamação deverá ser feita durante os 20 minutos iniciais. Após esse tempo, qualquer reclamação será desconsiderada.
4. Depois de decorridas 2 (duas) horas do início da prova, será distribuído **a folha de respostas**, o qual será o único documento válido para a correção. Ao recebê-lo, verifique se seu nome e seu número de inscrição estão corretos. Reclame imediatamente se houver discrepância.
5. A folha de respostas não pode ser dobrada, amassada, rasurada ou manchada. Exceto sua assinatura e data de nascimento, nada deve ser escrito ou registrado fora dos locais destinados às respostas. Tenha muita atenção ao marcar sua folha de respostas, pois não haverá substituição por erro do candidato. Marque sua resposta pintando completamente o espaço correspondente à alternativa de sua opção.

Ex.: A ○ B ● C ○ D ○ E ○
6. A leitora de marcas não registrará as respostas em que houver falta de nitidez, uso de corretivo, marcação a lápis ou marcação de mais de uma letra. Não serão computadas questões não assinaladas.
7. Durante a prova, é proibido o intercâmbio e o empréstimo de material de qualquer natureza entre os candidatos. A tentativa de fraude, a indisciplina e o desrespeito às autoridades encarregadas dos trabalhos são faltas que implicarão a desclassificação do candidato.
8. Qualquer forma de comunicação entre candidatos implicará a eliminação de ambos do certame.
9. Não será permitido ao candidato, durante a realização das provas, portar armas, aparelhos eletrônicos de qualquer natureza, relógios, bolsas, livros, jornais e impressos em geral; bonés, chapéus, lenço de cabelo, bandanas etc.
10. É vedado o uso de telefone celular ou de qualquer outro meio de comunicação. O candidato que for flagrado portando aparelho celular ou qualquer outro meio de comunicação, durante o período de realização da prova, e/ou o aparelho celular tocar será sumariamente eliminado do certame.
11. Em caso de dúvida, durante a prova, levante o braço para solicitar atendimento da fiscalização. Jamais pergunte em voz alta.
12. Ao terminar a resolução da prova, entregue-a ao fiscal de sala juntamente com **a folha de respostas**. Não se esqueça de **assinar a folha de respostas e a folha de frequência**.
13. O candidato que permanecer na sala de provas, por mais de 3h30min, poderá levar consigo o caderno de provas, fornecido pela **ORGANIZADORA**.
14. As provas terão duração de 4 (quatro) horas com início às 08h e término às 12h. O candidato só poderá ausentar-se da sala depois de decorridas duas horas do início das provas.
15. Os **Gabaritos Preliminares das Provas Objetivas** serão divulgados 72 (setenta e duas) horas após a realização das mesmas.

RASCUNO

CONHECIMENTOS GERAIS

Leia o texto a seguir para responder as questões de 1 a 10.

Educação antirracista: novos olhares à luz da Lei 10.639/2003

Para que a educação antirracista seja bem-sucedida, é preciso um diálogo intertemporal, envolvendo tanto as gerações mais antigas quanto as mais jovens. Isso também inclui discutir o papel do Estado como produtor de leis que organizam o mundo social

Geronilson da Silva Santos | Advogado, professor universitário, doutorando em direitos humanos e cidadania na Universidade de Brasília (UnB) | 19/10/2024

A implementação de uma educação antirracista é uma questão fundamental, e a Lei 10.639/2003 é um marco importante nesse processo. A legislação alterou a Lei de Diretrizes e Bases da Educação (LDB) e tem como objetivo resgatar a contribuição do povo negro nas áreas sociais, econômicas e políticas relacionadas à história do Brasil. Ela estabelece que temas como a luta negra no Brasil, a história da África e dos africanos, a cultura negra brasileira e o papel da população negra na formação da sociedade nacional devem ser abordados obrigatoriamente em sala de aula. No entanto, esse não é um rol taxativo. Deve ser visto como uma base para explorar outras possibilidades, como a história da ciência a partir dos negros, a pedagogia negra e os ensinamentos do saber **ANCESTRAL/ANCESTRAL**.

Esses conteúdos precisam ser integrados em todo o currículo escolar, especialmente nas áreas de educação artística, literatura e história brasileira. A LDB orienta para um ensino que considera o pluralismo de ideias e respeita a liberdade. Entretanto, recentemente, temos testemunhado ataques a obras literárias, como “O avesso da pele”, do escritor brasileiro Jeferson Tenório, _____ tentativas de censura têm raízes no racismo estrutural. Se não houver um processo crítico em resposta ao avanço de ideologias preconceituosas, aspectos da cultura podem ser restringidos dentro das escolas, tornando o ambiente educacional cada vez menos inclusivo.

Além disso, a educação não deve ser meramente um preparatório para exames vestibulares, deve proporcionar uma base para novos escritores, cientistas e pensadores. A educação formal não deve ser homogênea e generalizante. Ela deve reconhecer e abordar as diferenças culturais e a diversidade de experiências dos alunos, especialmente daqueles que enfrentam obstáculos sociais e culturais — em sua grande maioria, negros e pobres. O modelo educacional deve promover o desenvolvimento do aluno não como um recurso para a economia capitalista, mas como ser humano integral de múltiplas necessidades e **SINGULARIDADES/CINGULARIDADES**.

Para implementar uma educação antirracista eficaz, é preciso reconhecer a diversidade cultural e as necessidades sociais como parte do processo de ensino-aprendizagem. Isso requer diálogo constante com a sociedade, com educadores e com a comunidade escolar. Também é necessário fortalecer a liberdade de cátedra e oferecer uma formação adequada para os professores, com a criação de centros de desenvolvimento pedagógico para o ensino básico e superior. O recente debate no Conselho Nacional de Educação (CNE) sobre a limitação de até 50% do tempo a distância para cursos de formação de professores é um exemplo de como a qualidade do ensino e o acesso à educação superior devem ser equilibrados.

Outro aspecto essencial é promover o desenvolvimento da autonomia do estudante para compreender o mundo de maneira mais adequada, formando alunos conscientes do papel social e das realidades desafiadoras da nossa sociedade. A abordagem educacional deve ser mais transdisciplinar e promover uma função crítica, como [nos] lembra Bell Hooks, que vê o ensino como uma fusão entre espiritualidade, corpo e mente.

Para que a educação antirracista seja **BEM-SUCEDIDA/BENSUCEDIDA**, é preciso um diálogo intertemporal, envolvendo tanto as gerações mais antigas quanto as mais jovens. Isso também inclui discutir o papel do Estado como produtor de leis que organizam o mundo social. O direito afrodiáspórico deve ser apresentado como uma possibilidade de regulação que restabelece a relação entre necessidades sociais e a dinâmica do Estado. Por fim, a estrutura curricular deve ser orientada por valores que [se] opõem à cultura da competição e do litígio, típicos das sociedades capitalistas.

É crucial lembrar que a responsabilidade por uma educação antirracista não recai apenas sobre os ombros dos professores, mas é um compromisso de toda a sociedade. O panorama desafiador da evasão escolar, do crescimento da violência nas escolas e da falta de interesse de alunos pobres pelo ensino universitário de qualidade só pode ser abordado por meio de um esforço coletivo que **TRANSCEDA/TRANSCENDA** as salas de aula. O ensino, para ser eficaz e transformador, deve ir além dos muros e “grades” da escola e envolver todos os setores da sociedade entre saberes que propiciem o desenvolvimento ético.

SANTOS, Geronilson da Silva. Educação antirracista: novos olhares à luz da Lei 10.639/2003. Correio Braziliense, 19 de outubro de 2024. Disponível em: <https://www.correiobraziliense.com.br/opiniao/2024/10/6968104-educacao-antirracista-novos-olhares-a-luz-da-lei-10-639-2003.html>. Acesso em: 19 out. 2024. Adaptado.

1. Analisando sua estruturação, percebe-se que o gênero em que o texto apresentado encaixa-se é o(a)

- resenha crítica.
- artigo de opinião.
- editorial.
- ensaio acadêmico.
- carta argumentativa.

2. Ao dizer que o trabalho com a educação antirracista e com a Lei 10.639/2003 “não é um rol taxativo” (1º parágrafo), o autor argumenta que tal trabalho NÃO deve ser

- remunerado.
- taxado.
- ilimitado.
- restritivo.
- espontâneo.

3. No terceiro parágrafo do texto, foi inserida uma lacuna. Analise o contexto sintático dessa lacuna e assinale a alternativa que a preenche adequadamente.

- cujas
- cujo
- cujos os
- cujas as
- das quais

4. Observe os pares de palavras em letras maiúsculas destacados no texto. Marque a alternativa que apresenta a escrita ortográfica CORRETA de tais vocábulos.

- ANCESTRAL | CINGULARIDADES | BENSUCEDIDA | TRANSCENDA
- ANCESTRAL | SINGULARIDADES | BEM-SUCEDIDA | TRANSCEDA
- ANCESTRAL | SINGULARIDADES | BENSUCEDIDA | TRANSCEDA
- ANCESTRAL | CINGULARIDADES | BENSUCEDIDA | TRANSCENDA
- ANCESTRAL | SINGULARIDADES | BEM-SUCEDIDA | TRANSCENDA

5. Qual é a classificação do predicado da frase “A educação formal não deve ser homogênea e generalizante.” (3º parágrafo)?

- Predicado simples.
- Predicado verbal.
- Não há predicado, pois a frase é nominal.
- Predicado nominal.
- Predicado verbo-nominal.

6. Releia o trecho a seguir.

“A legislação alterou a Lei de Diretrizes e Bases da Educação (LDB) e tem como objetivo resgatar a contribuição do povo negro nas áreas sociais, econômicas e políticas relacionadas à história do Brasil.” (1º parágrafo)

Qual das afirmativas a seguir corresponde a um conteúdo pressuposto por esse trecho?

- A LDB está defasada quanto ao ensino inclusivo.
- A sociedade, a economia e a política são atrasadas no Brasil.
- O povo negro contribuiu para a história do Brasil.
- O sistema de ensino brasileiro é falho quanto à cultura negra.
- A legislação brasileira está em constante atualização.

7. No quinto e no sexto parágrafos, dois pronomes oblíquos encontram-se destacados entre colchetes. A colocação de cada um desses pronomes em relação aos verbos se justifica, considerando a norma padrão para a escrita em Língua Portuguesa, na opção

- Ambos os pronomes se encontram em próclise aos verbos, e tal posição é obrigatória devido à presença de palavras atrativas.
- Ambos os pronomes se encontram em próclise, mas podem ocorrer em mesóclise ou em ênclise, já que não iniciam frases.
- Ambos os pronomes se encontram em ênclise aos verbos, e tal posição é opcional, visto que não iniciam frases.
- Ambos os pronomes se encontram em mesóclise aos verbos, e tal posição é obrigatória devido ao uso de verbos no futuro.
- Ambos os pronomes se encontram em próclise aos verbos, e tal posição é inadequada, visto que iniciam frases.

8. Qual das alternativas a seguir apresenta a justificativa CORRETA para o uso da vírgula na frase introdutória do primeiro parágrafo do texto?

- Isolar um aposto explicativo.
- Separar termos de mesma função sintática enumerados.
- Separar orações aditivas formadas por sujeitos diferentes.
- Isolar um adjunto adverbial de grande extensão.
- Isolar um vocativo.

9. Segundo as informações explicitadas no texto: O(A)(s)

- professores são os menos culpados pelas falhas na educação antirracista.
- formação dos docentes para a educação antirracista deve ser feita a distância.
- questões do âmbito racial necessitam de atualização em meio à era digital.
- educação antirracista deve se ater às demandas capitalistas da sociedade.
- diálogo intergeracional é importante para o sucesso da educação antirracista.

10. O vocábulo “antirracista” possui, em sua escrita,

- dois dígrafos consonantais.
- um ditongo crescente e um hiato.
- um dígrafo vocálico e um consonantal.
- dois dígrafos vocálicos.
- dois ditongos decrescentes.

11. Leia a tirinha a seguir.



GONSALES, Fernando. Níquel Náusea. Folha de São Paulo, 17 de outubro de 2024. Disponível em: <https://cartum.folha.uol.com.br/quadrinhos/2024/10/17/niquel-nausea-fernando-gonsales.shtml>. Acesso em: 17 out. 2024.

A leitura dessa tirinha permite inferir que sua principal crítica tem relação com o(a)

- permanência de animais de estimação dentro das residências.
- tratamento dado por algumas pessoas aos animais de estimação.

- criação de filhos e de animais de estimação no mesmo ambiente.
- tratamento displicente dos genitores para com seus filhos.
- imersão de genitores e de filhos na cultura digital.

12. Leia o título e o subtítulo de uma matéria jornalística apresentados a seguir.

Horário de verão: uma herança alemã da Primeira Guerra Mundial

Reintrodução da medida no Brasil vem sendo debatida pelo governo Lula. Hábito de adiantar o relógio fez sua estreia mundial na Alemanha em 1916. Medida é impopular na Europa, mas não há consenso sobre como acabar com ela

(Disponível em: <https://revistaplaneta.com.br/horario-de-verao-uma-heranca-alema-da-primeira-guerra-mundial/>. Acesso em: 16 out. 2024.)

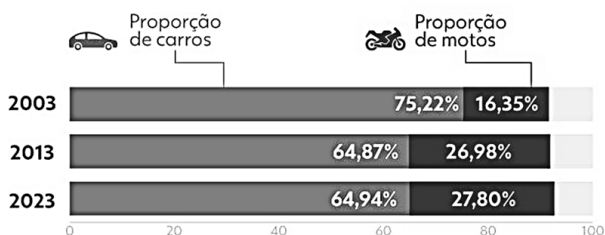
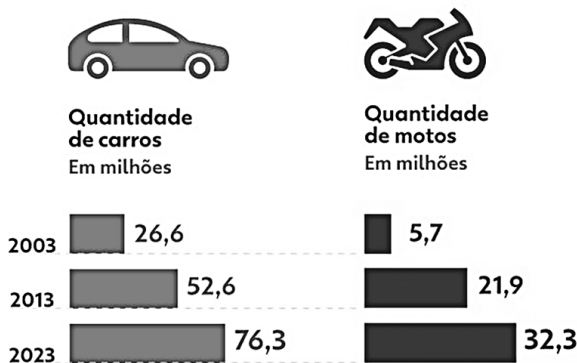
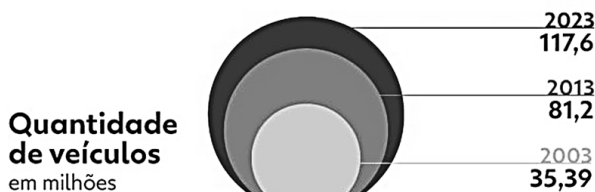
Assinale a opção cuja afirmação apresentada é um pressuposto instaurado pelo texto.

- O horário de verão não está ativo no Brasil.
- Os alemães adaptaram mal o horário de verão.
- Os europeus acostumaram-se com o horário de verão.
- A Primeira Guerra Mundial trouxe prejuízos à Europa.
- O horário de verão é impopular no Brasil.

13. Leia e analise o texto a seguir.

A evolução da frota de veículos no Brasil

Grande destaque foi a moto; que há 20 anos equivalia a 16% da frota e hoje é 27%



g1 Infográfico elaborado em: 26/12/2023

CROQUER, Gabriel. 1 em cada 3 cidades tem mais motos que carros; INFOGRÁFICO mostra a situação na sua. G1, 06 de janeiro de 2024. Disponível em: <https://g1.globo.com/carros/noticia/2024/01/06/1-em-cada-3-cidades-tem-mais-motos-que-carros-infografico-mostra-a-situacao-na-sua.ghtml>. Acesso em: 17 out. 2024.

Qual é a função da linguagem predominante no texto?

- Referencial
- Fática
- Conativa
- Metalinguística
- Emotiva

14. Leia o excerto a seguir.

“Nos últimos anos, o pistache foi de semente exótica para o ingrediente preferido de **sorveterias** e **padarias descoladas**. É a mania da vez, assim como **cupcakes**, paletas mexicanas e takis já foram um dia.”

BATTAGLIA, Rafael. A febre do pistache – e a psicologia por trás das modas gastronômicas. Superinteressante, 15 de outubro de 2024. Disponível em: <https://super.abril.com.br/sociedade/a-febre-do-pistache-e-a-psicologia-por-tras-das-modas-gastronomicas/>. Acesso em: 16 out. 2024. Adaptado.

Quais são, respectivamente, os processos de formação de palavras que originaram os vocábulos em destaque no excerto?

- Derivação prefixal | Derivação prefixal | Derivação parassintética | Empréstimo linguístico.
- Derivação parassintética | Derivação prefixal | Derivação sufixal | Onomatopeia.
- Composição por justaposição | Composição por justaposição | Onomatopeia | Derivação imprópria.
- Derivação sufixal | Derivação sufixal | Derivação prefixal e sufixal | Empréstimo linguístico.
- Composição por aglutinação | Derivação sufixal | Derivação sufixal | Composição por justaposição.

15. Leia a afirmativa a seguir.

“**Por mais que** evidências reais de vida em Marte ainda não tenham sido encontradas, um novo estudo feito por pesquisadores da Nasa sugere que a água congelada na superfície do planeta possui as condições necessárias para servir de lar para microrganismos. Usando modelos de computador, cientistas conseguiram verificar que a incidência de luz solar através da camada de gelo marciana seria suficiente para permitir a realização de fotossíntese. E, por tabela, a existência de alguma forma de vida fotossintetizante.”

ALMEIDA, Arthur. Nasa diz que chance de vida extraterrestre em Marte está abaixo de camada de gelo. Galileu, 17 de outubro de 2024. Disponível em: <https://revistagalileu.globo.com/ciencia/espaco/noticia/2024/10/nasa-diz-que-chance-de-vida-extraterrestre-em-marte-esta-abaixo-de-camada-de-gelo.ghtml>. Acesso em: 17 out. 2024. Adaptado.

Marque a alternativa que identifica o sentido conferido pela expressão no contexto em que se encontra.

- Proporção
- Condição
- Concessão
- Comparação
- Tempo

16. Leia a tirinha a seguir.



LEITE, Pedro. Desenhando nós. 22/08/2024. Disponível em: <https://sofiaeoito2.blogspot.com/2024/08/>. Acesso em: 16 out. 2024.

Qual é o fenômeno linguístico que embasa a quebra de expectativa dessa tirinha?

- Intertextualidade.
- Variações linguísticas.
- Graus de formalidade.

- Pressuposição.
- Polissemia.

17. Leia o excerto a seguir, observando o vocábulo em destaque.

“Uma equipe da Universidade Estadual de Campinas (Unicamp) criou com resíduos vegetais uma possível alternativa ao soro fetal bovino, ingrediente de alto custo usado na produção de carne a partir de células animais cultivadas. **Paralelamente**, pesquisadores do Centro Federal de Educação Tecnológica de Minas Gerais (Cefet-MG) e da Universidade Federal de Minas Gerais (UFMG) encontraram uma forma de obter carne estruturada, semelhante a um bife, usando polímeros degradáveis de origem vegetal em vez de colágeno, proteína de origem animal tradicionalmente usada com essa finalidade. [...]”

TUNES, Suzel. Proteínas vegetais aprimoram produção de carne de laboratório. Pesquisa Fapesp, 80 de outubro de 2024. Disponível em: <https://revistapesquisa.fapesp.br/proteinas-vegetais-aprimoram-producao-de-carne-de-laboratorio/>. Acesso em: 16 out. 2024. Este texto foi originalmente publicado por Pesquisa FAPESP de acordo com a licença Creative Commons CC-BY-NC-ND.

Dado o contexto em que ocorre, o vocábulo sublinhado pode veicular um sentido de

- inferioridade.
- interdependência.
- semelhança.
- discrepância.
- assincronia.

18. Três amigos, João, Marcos e Pedro, estão treinando para uma competição de ciclismo. João treina a cada 6 dias, Marcos a cada 8 dias e Pedro a cada 12 dias. Se ambos começaram a treinar no mesmo dia, em quantos dias eles treinarão juntos novamente?

- 72 dias.
- 48 dias.
- 36 dias.
- 24 dias.
- 12 dias.

19. Um arquiteto está projetando um jardim retangular. Ele quer que a área do jardim seja de 117m² e que o comprimento seja 4 metros maior que a largura. A medida do comprimento desse jardim é

- 9 metros.
- 10 metros.
- 11 metros.
- 12 metros.
- 13 metros.

20. Em um julgamento sobre danos ambientais, a acusação apresentou o dado de que os 5 fornos de uma cerâmica consumiam 50 toneladas de carbono trabalhando 10 horas diárias por 15 dias. A defesa propõe reduzir as atividades da cerâmica para 3 fornos trabalhando 6 horas diárias por 21 dias. Comparando o consumo de carbono da situação apresentada pela acusação (15 dias, 5 fornos, 10 horas diárias) com a situação proposta pela defesa (21 dias, 3 fornos, 6 horas diárias), houve uma redução do consumo de carbono, em toneladas, de

- 25,2t.
- 25t.
- 24,8t.
- 24,2t.
- 24t.

21. Assinale a sentença matemática que é uma afirmação VERDADEIRA.

- $\left(\frac{1}{5} + 1\right)\left(\frac{1}{5} - 1\right)$ é irracional e $\frac{\pi}{2}$ é racional.
- $\left(\frac{1}{5} + 1\right)\left(\frac{1}{5} - 1\right)$ é racional e $\frac{\pi}{2}$ é racional.

- c) $\left(\frac{1}{5} + 1\right)\left(\frac{1}{5} - 1\right)$ é irracional e $\frac{\pi}{2}$ é irracional.
 d) $\left(\frac{1}{5} + 1\right)\left(\frac{1}{5} - 1\right)$ é racional e $\frac{\pi}{2}$ é irracional.
 e) $\left(\frac{1}{5} + 1\right)\left(\frac{1}{5} - 1\right)$ e $\frac{\pi}{2}$ não são números reais.

22. Dona Zilda e suas quatro filhas foram a “Doceria Baobá” comer tortas de limão. Dona Zilda comeu $\frac{2}{3}$ de uma torta. A primeira filha comeu $\frac{3}{2}$ do que sua mãe havia comido. A segunda filha comeu $\frac{3}{2}$ do que a primeira filha havia comido, a terceira filha comeu $\frac{3}{2}$ do que a segunda havia comido e a quarta filha comeu $\frac{3}{2}$ do que a terceira filha havia comido. Elas compraram a menor quantidade de tortas de limão inteiras, necessárias para atender a todos. Assim, é possível calcular corretamente que a fração de uma torta de limão que sobrou foi de

- a) $\frac{2}{3}$.
 b) $\frac{5}{6}$.
 c) $\frac{5}{9}$.
 d) $\frac{5}{24}$.
 e) $\frac{7}{8}$.

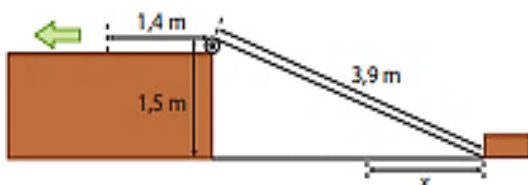
23. Numa biblioteca são lidos apenas dois tipos de revistas: Fofocas e Atualidades. 80% dos seus frequentadores leem a revista de fofoca e 60% a revista de atualidade. Sabendo-se que todo frequentador é leitor de, pelo menos, uma das revistas, a opção que corresponde ao percentual de frequentadores que leem ambas as revistas, é representado por

- a) 78%.
 b) 40%.
 c) 38%.
 d) 34%.
 e) 26%.

24. Sejam os conjuntos $A = \{1, 2\}$ e $B = \{0, 1, 2\}$. Qual a sentença matemática apresenta a afirmativa VERDADEIRA?

- a) $f: x \rightarrow 2x$ é uma função de A em B.
 b) $f: x \rightarrow x + 1$ é uma função de A em B.
 c) $f: x \rightarrow x^2 - 3x + 2$ é uma função de A em B.
 d) $f: x \rightarrow x^2 - x$ é uma função de B em A.
 e) $f: x \rightarrow x - 1$ é uma função de B em A.

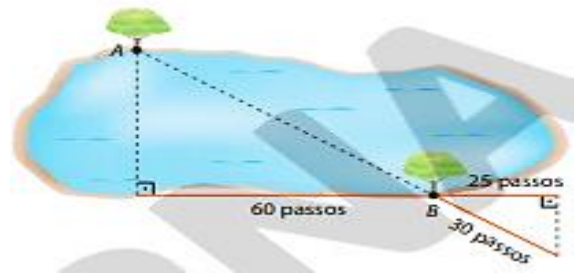
25. Uma corda de 3,9 m de comprimento conecta um ponto na base de um bloco de madeira a uma polia localizada no alto de uma elevação, conforme o esquema a seguir.



Observe que o ponto mais alto dessa polia está 1,5 m acima do plano em que esse bloco desliza. Caso a corda seja puxada 1,4 m, na direção indicada, a distância x que o bloco deslizará será de (Considere: $\sqrt{12,96} = 3,6$)

- a) 2,1 m.
 b) 1,9 m.
 c) 1,6 m.
 d) 1,3 m.
 e) 1,0 m.

26. Observe o esquema a seguir. É um procedimento usado por engenheiro para determinar a medida da distância entre as árvores A e B próximas do lago



Sabendo que a medida do comprimento do passo do Engenheiro é de 75 cm, determine a medida da distância entre essas árvores, em metro.

- a) 72 m.
 b) 64m.
 c) 60m.
 d) 56m.
 e) 54m.

27. Ana Amélia comprou um produto e pagou R\$ 384,00, já inclusos 20% de juros. Se tivesse comprado o mesmo produto, com 25% de desconto, então, Maria Amélia pagaria o valor de

- a) R\$ 288,00.
 b) R\$ 264,00.
 c) R\$ 256,00.
 d) R\$ 240,00.
 e) R\$ 236,00.

28. A OTAN, criada num cenário de transição de ordem bipolar para multipolar, continua exercendo um papel na geopolítica mundial que tem sido criticado por alguns países como

- a) Ucrânia.
 b) Estados Unidos.
 c) Rússia.
 d) Croácia.
 e) Alemanha.

29. “Se a guerra se espalhar pela Europa, a culpa será da Rússia. Mas se decidíssemos ser fracos, se decidíssemos, hoje, que não iríamos responder, já estaríamos escolhendo a derrota. E eu não quero isso”, afirmou. “A nossa segurança está em jogo na Ucrânia.”

(Fonte: Gazeta do Povo, 13 de março de 2024)

No contexto geopolítico descrito, a frase “a nossa segurança está em jogo na Ucrânia” equivale a dizer que se a Rússia sair vitoriosa do conflito com a Ucrânia,

- a) o continente europeu terá que aderir ao Socialismo.
 b) a Rússia se tornará a maior potência mundial.
 c) ocorrerá a anexação da Ucrânia pela Otan.
 d) a credibilidade da Europa poderá enfraquecer.
 e) resultará na extinção da Otan.

30. A qual grupo de países, o grupo extremista Talibã, governante do Afeganistão, solicitou participação na cúpula prevista para ser realizada no período de 22 a 24 de outubro de 2024, em Kazan, na Rússia?

- a) Brics.
 b) Apec.
 c) Mercosul.
 d) G20.
 e) União Europeia.

31. “Tão rápido como tinham chegado ao palácio, os militares armados abandonaram o recinto, deixando um enorme ponto de interrogação sobre como fica a política, que tem uma disputa eleitoral marcada para o ano que vem entre o atual presidente e seu antigo mentor, Evo Morales, que os militares revoltados querem impedir de se candidatar”.

(Fonte: CNN Brasil, 26 de junho de 2024)

O texto faz referência à tentativa de golpe ocorrida no(na)

- Venezuela.
- Bolívia.
- Chile.
- Argentina.
- Peru.

32. “Desde o início da ofensiva de Israel no Líbano, em 20 de setembro de 2023, as Forças Armadas israelenses têm emitido avisos exigindo que a população de diferentes regiões do país deixe suas casas. Os avisos são feitos em áreas que Israel pretende bombardear, principalmente no sul do país e na capital, Beirute”.

(Fonte: G1, 15 de outubro de 2024)

Uma das razões de o Líbano está sendo atacado por Israel é em função do grupo extremista

- Al-Qaeda.
- Fatah.
- Talibã.
- Hezbollah.
- Hamas.

33. “Uma imagem chamou a atenção de internautas no pódio do tênis de mesa nas Olimpíadas de Paris-2024: atletas das Coreias do Norte e do Sul posaram juntos para uma “selfie da paz” depois da definição das medalhas da modalidade”.

(Fonte: O Globo, 31 de julho de 2024 adaptado)

A expressão “selfie da paz” pode ser explicada porque

- a Coreia foi reunificada.
- a Coreia do Norte solicitou acordo de paz com a Coreia do Sul.
- as Coreias do Norte e do Sul vivem uma escalada tensão desde a divisão do país.
- as Coreias são muito competitivas.
- a Coreia do Norte impediu a participação da Coreia do Sul nas Olimpíadas.

34. Segundo informações veiculadas, o lançamento do iPhone 16, trouxe muita empolgação aos fãs de celulares, ansiosos para explorarem os novos recursos do dispositivo, diversos problemas começaram a ser relatados pelos usuários, tanto em questões de software quanto em de hardware. Mesmo com a atualização, muitas dessas falhas persistem, deixando os proprietários do novo iPhone frustrados. O referido iPhone é um smartphone fabricado pela

- Samsung.
- Apple.
- Motorola.
- Xiaomi.
- Dell.

35. Matéria publicada pela CNN Brasil, no dia 15 de outubro de 2024, informou que a Organização Mundial da Saúde aprovou a vacina contra Mpox – doença considerada emergência de saúde pública global, para o grupo etário considerado especialmente vulnerável a surtos da doença. Qual o grupo etário especificado?

- Os recém-nascidos.
- As crianças de 0 a 5 anos.
- Os adolescentes entre 12 e 17 anos.

- Os adultos acima de 45 anos.
- Os idosos acima de 70 anos.

36. O bioma do Pantanal foi um dos mais atingidos pelas recentes queimadas ocorridas no Brasil. Sobre o respectivo bioma, analise as afirmativas a seguir.

- Abrange estados de quatro regiões brasileiras.
- É considerado a maior área úmida continental do planeta.
- É caracterizado por inundações periódicas que moldam sua paisagem e biodiversidade.

Marque a opção que indica a(s) afirmativa(s) CORRETA(S).

- I – II.
- II – III.
- I – III.
- II.
- III.

37. Pesquisas apontam que as mudanças climáticas intensificam fenômenos meteorológicos, como o furacão Milton que atingiu o Estado da Flórida nos Estados Unidos, no dia 09 de outubro de 2024, porque

- o aumento da temperatura da terra influencia na atuação de furacões.
- furacões são consequências do aquecimento global.
- mudanças climáticas criam furacões e tempestades.
- fenômenos climáticos extremos são causas do aquecimento global.
- as mudanças climáticas alteram os principais movimentos da Terra.

38. Analise as afirmativas a seguir.

- O objetivo das relações humanas no trabalho é promover a colaboração e a competitividade entre todos, pois essas relações são essenciais para criarem um clima positivo e estimulante, em que as pessoas se sintam valorizadas e motivadas a alcançarem os objetivos das empresas.
- As relações humanas visam construir um ambiente baseado na confiança e no respeito mútuo, ao passo que, ao estabelecer conexões interpessoais saudáveis, a comunicação é melhorada, o trabalho em equipe é aprimorado e a resolução de problemas é facilitada.

Assinale a alternativa CORRETA.

- Apenas a afirmativa I está correta.
- Ambas as afirmativas estão corretas.
- Ambas as afirmativas estão corretas, mas tratam de temáticas divergentes.
- Apenas a afirmativa II está correta.
- Ambas as afirmativas estão incorretas.

39. A transição energética influencia a geopolítica mundial, ao passo que as áreas com maior potencial de geração de energia limpa se sobressaem no processo.

Leia as afirmativas a seguir e marque (V) para as VERDADEIRAS e (F) para as FALSAS. A afirmação está CORRETA porque a

- () redução de CO² na atmosfera somente será cumprida pelos países industrializados.
- () segurança energética é fundamental para o desenvolvimento sustentável.
- () energia se constitui como um dos instrumentos de hegemonia.

Marque a opção que apresenta a sequência CORRETA.

- F – V – F.
- F – V – V.
- V – F – F.
- V – F – V.
- F – F – V.

40. O Programa Escola em Tempo Integral, coordenado pelo Ministério da Educação, é uma estratégia para a criação de matrículas na perspectiva da educação integral.

Assim sendo, é CORRETO dizer que

- apenas a etapa da educação infantil é contemplada pelo programa.
- as modalidades EJA e Educação do Campo podem participar desde que comprovem demanda.
- o programa é desenvolvido pelo Governo Federal e entidades privadas.
- as redes públicas de ensino podem aderir ao programa.
- a adesão ao programa é obrigatória.

CONHECIMENTOS ESPECÍFICOS

41. Lei com atenção: Compete ao Conselho Nacional de Arquivos (CONARQ)

- estabelecer diretrizes para o funcionamento do Sistema Nacional de Arquivos – SINAR, visando à gestão, à preservação e ao acesso aos documentos de arquivos.
- promover o inter-relacionamento de arquivos públicos e privados com vistas ao intercâmbio e à integração sistêmica das atividades arquivísticas.
- estimular a implantação de sistemas de arquivos nos Poderes Executivo, Legislativo e Judiciário da União, dos Estados, do Distrito Federal e nos Poderes Executivo e Legislativo dos Municípios.

Marque a opção que indica a(s) afirmativa(s) CORRETA(S).

- I – II – III.
- I – II.
- I – III.
- II – III.
- II.

42. São membros conselheiros do CONARQ, EXCETO:

- o diretor-geral do Arquivo Nacional que o presidirá.
- dois representantes do Poder Executivo Federal.
- dois representantes do Poder Judiciário Federal.
- dois representantes do Poder Legislativo Federal.
- um representante dos arquivos públicos estaduais e distrital.

43. Analise as afirmações a seguir e marque (V) para as VERDADEIRAS e (F) para as FALSAS. Conforme disposto no Decreto nº 4.073/2002, fica instituída a Comissão de Avaliação de Acervos Privados, no âmbito do CONARQ, de caráter permanente, à qual compete

- () receber as propostas de declaração de interesse público e social de acervos privados e instruir o processo de avaliação.
- () convidar especialistas para análise do acervo privado, quando necessário.
- () emitir parecer conclusivo sobre o interesse público e social do acervo privado para apreciação pelo Plenário do CONARQ.
- () subsidiar o monitoramento dos acervos declarados como de interesse público e social pelo Poder Judiciário Federal.

Assinale a alternativa que apresenta a sequência CORRETA.

- F – F – V – V.
- V – F – V – F.
- F – V – V – F.
- V – V – F – V.
- V – V – V – F.

44. De acordo com o Decreto nº 4.073/2002, integram o Sistema Nacional de Arquivos (SINAR), EXCETO, a(o)(s)

- Arquivo Nacional.
- Arquivos do Poder Executivo Federal.
- Arquivos do Poder Judiciário Federal.
- Arquivos do Poder Legislativo Federal.
- Conselho Estadual de Educação.

45. As câmaras técnicas do CONARQ

- poderão ter mais de cinco membros.
- estão limitadas a cinco, operando simultaneamente.
- não poderão ter mais de dois membros.
- terão caráter temporário e duração superior a um ano.
- terão caráter temporário e duração não superior a três meses.

46. Analise as afirmações a seguir sobre o que compete aos integrantes do SINAR.

- Disseminar, em sua área de atuação, as diretrizes e normas estabelecidas pelo órgão central, zelando pelo seu cumprimento.
- Implementar a racionalização das atividades arquivísticas, de forma a garantir a integridade do ciclo documental.
- Proporcionar aperfeiçoamento e reciclagem aos técnicos da área de arquivo, garantindo constante atualização.

Marque a opção que indica a(s) afirmativa(s) CORRETA(S).

- I – II – III.
- I – II.
- I – III.
- II – III.
- III.

47. Analise as afirmações a seguir e marque (V) para as VERDADEIRAS e (F) para as FALSAS. De acordo com o Decreto nº 4.915/2003, o SIGA (Sistema de Gestão de Documentos de Arquivo) tem como finalidade

- () racionalizar a produção da documentação arquivística pública.
- () racionalizar e reduzir os custos operacionais e de armazenagem da documentação arquivística pública.
- () preservar o patrimônio documental arquivístico da administração pública federal.

Marque a opção que apresenta a sequência CORRETA.

- V – F – V.
- F – V – V.
- V – V – V.
- F – F – V.
- V – F – F.

48. Leia o trecho a seguir.

“Os arquivos privados de pessoas físicas ou jurídicas que contenham documentos relevantes para a história, a cultura e o desenvolvimento nacional podem ser declarados de interesse público e social por ato do Ministro(a) de _____.”

Marque a opção que preenche corretamente a lacuna.

- Estado da Casa Civil da Presidência da República
- Estado da Integração e do Desenvolvimento Regional
- Estado do Planejamento e Orçamento
- Estado da Justiça e Segurança Pública
- Estado das Relações Exteriores

49. São considerados arquivos públicos, de acordo com o Decreto nº 4.073/2002, os conjuntos de documentos.

- Produzidos e recebidos por órgãos e entidades públicas federais, estaduais, do Distrito Federal e municipais, em decorrência de suas funções administrativas, legislativas e judiciárias.
- Produzidos e recebidos pelas empresas públicas e pelas sociedades de economia mista.
- Tombados pelo Poder Público.

Marque a opção que indica a(s) afirmativa(s) CORRETA(S).

- I – II – III.
- I – II.
- I – III.
- II – III.
- II.

50. Leia o trecho a seguir.

“Esse princípio possui como premissa a preservação dos fundos de arquivos, sem que haja dispersão, divisão, adição ou destruição não autorizada ou indevida desses documentos.”

É CORRETO afirmar que o trecho faz referência ao princípio da

- Proveniência.
- Organicidade.
- Unicidade.
- Integridade.
- Pertinência.

51. Para a classificação da informação em grau de sigilo, deverá ser observado o interesse público da informação e utilizado o critério menos restritivo possível. Assim, o prazo máximo de classificação para informações de grau secreto é de

- 15 anos.
- 20 anos.
- 25 anos.
- 30 anos.
- 35 anos.

52. Leia o trecho a seguir.

“Este método é preferido quando o principal elemento a ser considerado no documento é a procedência ou local.”

O trecho diz respeito a um dos métodos de arquivamento, denominado

- Método Alfabético.
- Método Numérico.
- Método Ideográfico.
- Método Unitermo.
- Método Geográfico.

53. Assinale a alternativa INCORRETA.

- São Arquivos do Distrito Federal, o Arquivo do Poder Executivo, o Arquivo do Poder Legislativo e o Arquivo do Poder Judiciário.
- São Arquivos Federais, o Arquivo Nacional, os do Poder Executivo, e os Arquivos do Poder Legislativo e do Poder Judiciário. São considerados, também, do Poder Executivo os Arquivos do Ministério da Marinha, do Ministério das Relações Exteriores, do Ministério do Exército e do Ministério da Aeronáutica.
- São Arquivos Municipais, o Arquivo do Poder Executivo e o Arquivo do Poder Legislativo.
- São Arquivos Estaduais, os Arquivos do Poder Executivo, apenas.
- Os arquivos públicos dos Territórios são organizados de acordo com sua estrutura político-jurídica.

54. Qualquer pessoa, natural ou jurídica, poderá formular pedido de acesso à informação. Dessa forma, é correto afirmar que o pedido de acesso à informação deverá conter

- nome do requerente.
- número de documento de identificação válido.
- especificação, de forma clara e precisa, da informação requerida.
- endereço físico ou eletrônico do requerente, para recebimento de comunicações ou da informação requerida.

Marque a opção que apresenta as afirmativas CORRETAS.

- I – II – III – IV.
- I – II – III.
- I – II.
- II – III.
- III – IV.

55. A classificação de informação, no grau ultrassecreto, é de competência do(a)s, EXCETO

- Presidente da República.
- Vice-Presidente da República.
- Ministros de Estado.
- Comandantes da Marinha.
- Titulares de Autarquias.

56. Como é chamado o processo que consiste em fazer uma cópia de um documento e armazená-la em um microfilme?

- Digitalização.
- Angiograma.
- Tomografia.
- Microfilmagem.
- Ultrassonografia.

57. Leia as assertivas a seguir.

- Equipamento cultural obrigatório e necessário ao desenvolvimento do processo educativo, em qual um dos objetivos é disponibilizar e democratizar a informação ao conhecimento e às novas tecnologias, em seus diversos suportes.
- É uma instituição permanente, sem fins lucrativos, a serviço da sociedade que pesquisa, coleciona, conserva, interpreta e expõe patrimônio material e imaterial. Abertos ao público, acessíveis e inclusivos, os museus promovem a diversidade e a sustentabilidade. Atuam e se comunicam de forma ética, profissional e com a participação das comunidades, oferecendo experiências variadas de educação, entretenimento, reflexão e compartilhamento de conhecimento.
- Conjunto de documentos produzidos e acumulados por uma entidade coletiva, pública ou privada, pessoa ou família, no desempenho de suas atividades, independentemente da natureza do suporte.

As assertivas correspondem, respectivamente, a(à)

- Museu, Arquivo e Biblioteca.
- Biblioteca, Museu e Arquivo.
- Arquivo, Biblioteca e Museu.
- Museu, Biblioteca e Arquivo.
- Biblioteca, Arquivo e Museu.

58. Conforme apresentado no Decreto nº 10.148/2019, fica instituída, no âmbito do Arquivo Nacional, a Comissão de Coordenação do Sistema de Gestão de Documentos e Arquivos da Administração Pública Federal – Comissão de Coordenação do Siga, à qual compete

- propor diretrizes e normas relativas à gestão e à preservação de documentos e arquivos, no âmbito da administração pública federal.
- orientar os órgãos integrantes do Siga quanto às modificações necessárias ao aprimoramento dos mecanismos de gestão de documentos e arquivos.
- monitorar a aplicação das normas e seus resultados, com vistas à modernização e ao aprimoramento do Siga.

Marque a opção que indica a(s) afirmativa(s) CORRETA(S).

- I – II – III.
- I – II.
- I – III.
- II – III.
- I.

59. Leia a afirmação a seguir.

“Dados acessíveis ao público, representados em meio digital, estruturados em formato aberto, processáveis por máquina, referenciados na internet e disponibilizados sob licença aberta que permita sua livre utilização, consumo ou cruzamento, limitando-se a creditar a autoria ou a fonte.”

A afirmação refere-se a

- a) dado.
- b) dado acessível ao público.
- c) formato aberto.
- d) plano de dados abertos.
- e) dados abertos.

60. Analise as afirmações a seguir e marque (V) para as VERDADEIRAS e (F) para as FALSAS. É competência comum da União, dos Estados, do Distrito Federal e dos Municípios,

() zelar pela guarda da Constituição, das leis e das instituições democráticas e conservar o patrimônio público.

() proteger os documentos, as obras e outros bens de valor histórico, artístico e cultural, os monumentos, as paisagens naturais notáveis e os sítios arqueológicos.

() proporcionar os meios de acesso à cultura, à educação, à ciência, à tecnologia, à pesquisa e à inovação.

Assinale a alternativa que apresenta a sequência CORRETA.

- a) V – V – F.
- b) F – F – F.
- c) V – V – V.
- d) F – V – F.
- e) V – F – F.