

AVANÇASP



PREFEITURA MUNICIPAL DE
VARGINHA/MG

CONCURSO PÚBLICO
01/2025

MÉDICO – GINECOLOGISTA

Leia atentamente as instruções abaixo

1. PROVA E FOLHA DE RESPOSTAS

- Além deste Caderno de Prova, contendo 50 (cinquenta) questões objetivas, você receberá do Fiscal de Sala:
- 01 (uma) Folha de Respostas destinada às respostas das questões objetivas. Confira se seus dados estão corretos.

2. TEMPO

- 03 (três) horas é o tempo disponível para realização da prova, já incluído o tempo para marcação da Folha de Respostas da prova objetiva;
- **01 (uma) hora** após o início da prova é possível, retirar-se da sala levando o caderno de prova;

3. INFORMAÇÕES GERAIS

- As questões objetivas têm 05 (cinco) alternativas de resposta (A, B, C, D, E) e somente **uma** delas está correta;
- Verifique se seu caderno está completo, sem repetição de questões ou falhas. Caso contrário, informe imediatamente o Fiscal da Sala, para que sejam tomadas as devidas providências;
- Confira seus dados pessoais na Folha de Respostas, especialmente nome, número de inscrição e documento de identidade e leia atentamente as instruções para preenchimento;
- O preenchimento das respostas da prova objetiva é de sua responsabilidade e não será permitida a troca de Folha de Respostas em caso de erro de marcação pelo candidato;

- Marque, na folha de respostas, com caneta de tinta azul ou preta, a letra correspondente à alternativa que você escolheu.

- Reserve tempo suficiente para o preenchimento de suas respostas. Para fins de avaliação, serão levadas em consideração apenas as marcações realizadas na Folha de Respostas da prova objetiva, não sendo permitido anotar informações relativas às respostas em qualquer outro meio que não seja o caderno de prova;

- Ao se retirar, entregue a Folha de Respostas preenchida e assinada ao Fiscal de Sala.

SERÁ ELIMINADO do presente certame o candidato que:

a) for surpreendido, durante as provas, em qualquer tipo de comunicação com outro candidato;

b) portar ou usar, qualquer tipo de aparelho eletrônico (calculadoras, bips/pagers, câmeras fotográficas, filmadoras, telefones celulares, smartphones, tablets, relógios, walkmans, MP3 players, fones de ouvido, agendas eletrônicas, notebooks, palmtops ou qualquer outro tipo de computador portátil, receptores ou gravadores) seja na sala de prova, sanitários, pátios ou qualquer outra dependência do local de prova;

c) se ausentar da sala em que se realizam as provas levando consigo o Caderno de Questões e/ou a Folha de Respostas;

d) se recusar a entregar a Folha de Respostas, quando terminar o tempo estabelecido;

e) não assinar a Lista de Presença e/ou a Folha de Respostas.

LÍNGUA PORTUGUESA

TEXTO

Leia o texto a seguir para responder às questões de 1 a 5.

Meu coração

No fim, desculpe a literatura, é tudo entre nós e o nosso coração. Depois do dito e do feito, depois da paixão e da razão, depois da vida das células e da vida social e da vida cívica e das idas e das voltas, e da História e da biografia, e do que os outros fizeram conosco e nós fizemos com os outros, é tudo entre nós e ele. Segundos fora. Nós e ele. A única conversa que vale, a única intimidade que conta. O coração não tem nada a ver com nada, fora a sístole e a diástole e a sua fisiologia medíocre. Ele nem nos daria conversa, se não dependesse de nós, se não precisasse da embalagem, dos terminais e de alguém que cuide dele. Tudo que lhe atribuem, do mais romântico ao mais calhorda, é falso. Trata-se de um mero músculo, e de um músculo egoísta, que só quer saber da sua própria sobrevivência. Da qual, por uma cruel coincidência, depende a nossa.

Fala-se do “time do coração”. Mentira. O coração não tem time. O coração não se interessa por futebol. Só hoje, por exemplo, o meu se deu conta de onde estava. Paris, Nantes, Marselha ou qualquer outra cidade, é tudo o mesmo para ele, desde que ele tenha um lugar seguro onde possa bater e cuidar da sua vidinha. Mas de repente ele se deu conta e pediu satisfações. Para onde eu o tinha trazido? Expliquei. A França, a Copa, o Brasil, os jogos, a beleza dos jogos...

Meu coração não quis ouvir falar da beleza dos jogos. Ele não tem nenhum senso estético. Quis saber que história era aquela de morte súbita.

— É uma maneira nova de decidir as partidas que acabam empatadas. Há uma prorrogação e quem marcar o primeiro gol ganha.

Meu coração não quis acreditar.

— Quer dizer que, se esse time pelo qual você torce, como é mesmo o nome?

— Brasil.

— Quer dizer que, se o Brasil empatar com algum outro time, tem prorrogação com morte súbita?

— É...

— Você sabia disso quando me trouxe para cá?

— Sabia.

— Você deliberadamente me trouxe a um evento em que eu posso parar de repente, mesmo não tendo nada a ver com isso? Não era para ser um campeonato de futebol, um esporte, um divertimento, enfim, nada que me dissesse respeito?

— Desculpe. Eu tentei substituí-lo pelo distanciamento crítico, mas...

— Só me diz uma coisa. Se a prorrogação terminar sem que ninguém marque gol, o que acontece?

— Aí decidem nos pênaltis.

— Me leva pra casa. Me leva pra casa imediatamente. E pare de me envolver nos seus divertimentos. Você parece que não tem coração.

— Mas nada disso vai acontecer com o Brasil. Prorrogação, pênaltis, nada disso.

— Quase aconteceu contra a Dinamarca!

— É, mas...

— Me tira daqui!

VERISSIMO, L. F. *Verissimo antológico*: meio século de crônicas, ou coisa parecida. São Paulo: Objetiva, 2020.

QUESTÃO 01

O texto é marcado pela figura de linguagem:

- (A) eufemismo, ao referir-se à morte súbita com termos que amenizem sua gravidade.
- (B) prosopopeia, ao atribuir ao coração vontade própria e capacidade de falar.
- (C) ironia, ao expressar o apreço do coração pelo futebol com palavras depreciativas.
- (D) onomatopeia, ao fazer menção às batidas do coração.
- (E) sinestesia, ao mesclar sensações visuais e auditivas para descrever o coração.

QUESTÃO 02

Considere o seguinte excerto: “*Da qual, por uma cruel coincidência, depende a nossa.*” O pronome relativo empregado neste excerto retoma no texto o termo antecedente:

- (A) “tudo que lhe atribuem”.
- (B) “músculo egoísta”.
- (C) “sua própria sobrevivência”.
- (D) “embalagem”.
- (E) “fisiologia medíocre”.

QUESTÃO 03

Analise as sentenças a seguir, retiradas do texto:

I. *Paris, Nantes, Marselha ou qualquer outra cidade, é tudo o mesmo para ele [...]*

II. [...] *desde que ele tenha um lugar seguro onde possa bater e cuidar da sua vidinha.*

III. *Mas de repente ele se deu conta e pediu satisfações.*

O pronome pessoal “*ele*” é empregado como oblíquo apenas em:

- (A) I.
- (B) II.
- (C) III.
- (D) I e II.
- (E) II e III.

QUESTÃO 04

O excerto a seguir cuja colocação pronominal está incorreta, de acordo com a norma-padrão da língua portuguesa, é:

- (A) — Me leva pra casa.
- (B) — Desculpe. Eu tentei substituí-lo pelo distanciamento crítico, mas...
- (C) — Você sabia disso quando me trouxe para cá?
- (D) O coração não se interessa por futebol.
- (E) Trata-se de um mero músculo, e de um músculo egoísta, que só quer saber da sua própria sobrevivência.

QUESTÃO 05

O advérbio que melhor substitui “*deliberadamente*”, em “— *Você deliberadamente me trouxe a um evento em que eu posso parar de repente, mesmo não tendo nada a ver com isso?*”, é:

- (A) especificamente.
- (B) inevitavelmente.
- (C) indiscriminadamente.
- (D) imponderadamente.
- (E) resolutamente.

QUESTÃO 06

A sentença em que se verifica um substantivo próprio como complemento verbal é:

- (A) Piracicaba é uma cidade do interior de São Paulo.
- (B) As provas corrigidas eram entregues a Pedro por correspondência.
- (C) A admiração é crucial em um relacionamento amoroso.
- (D) Os escoteiros da escola de São João fizeram uma arrecadação de alimentos.
- (E) Essas velas perfumadas são invenção daquela garota.

QUESTÃO 07

Assinale a alternativa em que o elemento em destaque é um advérbio de possibilidade ou dúvida.

- (A) Há rumores de que eles **sequer** avisaram sobre as demissões.
- (B) Não gosto desse tipo de comportamento, **tampouco** de rebeldia.
- (C) Ter optado por me afastar fora, **quicá**, a minha melhor decisão.
- (D) **Muito** provavelmente aquele exame será reaplicado.
- (E) Tudo o que fizeram foi **realmente** de coração.

QUESTÃO 08

Verifica-se verbo irregular apenas em:

- (A) Não jogue plástico nos oceanos.
- (B) A cozinheira sovou o pão por aproximadamente uma hora.
- (C) Hidrate-se especialmente nos dias de calor escaldante.
- (D) Eles provaram ao juiz sua inocência.
- (E) Vimos as fotos do seu casamento nas redes sociais.

QUESTÃO 09

Não ocorre desvio ortográfico apenas em:

- (A) Desejo a você as melhores bênçãos do mundo.
- (B) A subregião da metrópole está passando por diversos problemas sanitários.
- (C) Seu desvanescimento tem a ver com a tristeza que vêm sentindo.
- (D) Esses garotos são mal-criados com seus professores.
- (E) Todas as meia-noites são estreladas no campo.

QUESTÃO 10

Considere a seguinte sentença: *“Tinha vontade de se mudar para outro país, todavia não podia fazê-lo.”* A palavra *“todavia”*, neste contexto, exprime o mesmo sentido de:

- (A) contudo.
- (B) caso.
- (C) senão.
- (D) outrossim.
- (E) consoante.

MATEMÁTICA E RACIOCÍNIO LÓGICO

QUESTÃO 11

Em uma padaria, um cliente leva 400 gramas de pão doce e 300 gramas de pão de mel, ele paga um total de R\$ 13,80. Em outro dia, o mesmo cliente leva 200 g de pão doce e 500 g de pão de mel, pagando um total de R\$ 14,60. Nesta situação, qual o preço por kg do pão de mel?

- (A) R\$ 18,50.
- (B) R\$ 21,50.
- (C) R\$ 15,50.
- (D) R\$ 22,00.
- (E) R\$ 17,00.

QUESTÃO 12

Observe as seguintes afirmativas:

I – Um losango possui os quatro lados congruentes, mas os ângulos internos não são todos congruentes entre si.

II – Um triângulo retângulo tem necessariamente os sete lados congruentes.

III – Um heptágono regular tem apenas 6 lados iguais, e todos os seus ângulos internos são congruentes.

Estão corretas:

- (A) Apenas I.
- (B) Apenas II.
- (C) Apenas III.
- (D) I e II.
- (E) I e III.

QUESTÃO 13

Numa escola, sabe-se que 45% dos funcionários falam inglês, 65% falam espanhol e 25% falam ambas as línguas. Se há 500 funcionários no total, quantos não falam nem inglês nem espanhol?

- (A) 125.
- (B) 55.
- (C) 15.
- (D) 75.
- (E) 155.

QUESTÃO 14

Uma determinada empresa multinacional de tecnologia teve um lucro líquido de 1 bilhão de reais no primeiro semestre do ano. Esta empresa pagará a cada um dos seus diretores uma fração desse lucro correspondente a 0,01%. Quanto cada diretor irá receber?

- (A) R\$ 10.000,00.
- (B) R\$ 100.000,00.
- (C) R\$ 1.000.000,00.
- (D) R\$ 10.000.000,00.
- (E) R\$ 100.000.000,00.

QUESTÃO 15

Observe a seguinte sequência lógica numérica:

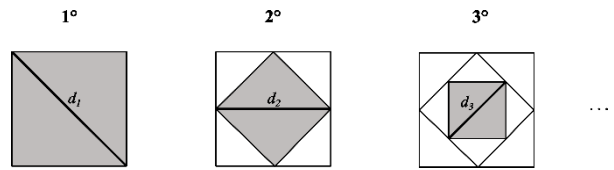
1, 1, 2, 3, 5, 8, 13, ...

Qual será o 10º elemento desta sequência?

- (A) 98.
- (B) 89.
- (C) 21.
- (D) 55.
- (E) 34.

QUESTÃO 16

Observe a seguinte sequência lógica figural:



O quadrado do primeiro elemento tem lado 1 cm e tem sua diagonal medida pela variável d_1 , conforme a figura. Os próximos elementos são sequências de quadrados que são sucessivamente inscritos a partir do quadrado inicial. A diagonal correspondente ao n -ésimo elemento é a diagonal do quadrado mais interno inscrito. Nesta situação, qual a medida da diagonal correspondente ao 4º elemento, em centímetros?

- (A) $\frac{1}{2\sqrt{2}}$.
- (B) $\frac{1}{\sqrt{2}}$.
- (C) $\frac{1}{2}$.
- (D) $\frac{\sqrt{2}}{4}$.
- (E) $\frac{2\sqrt{2}}{3}$.

QUESTÃO 17

Maria possui uma horta onde colhe 60 kg de tomates por dia, que são utilizados na fabricação de molho de tomate. Com cada 4 kg de tomate, ela fabrica 1 litro de molho. O molho fabricado é então dividido em potes de 250 ml, que são empacotados em caixas de 10 potes. Cada caixa é vendida por R\$ 50,00. Quanto Maria arrecada por dia com a venda do molho?

- (A) R\$ 900,00.
- (B) R\$ 300,00.
- (C) R\$ 1500,00.
- (D) R\$ 450,00.
- (E) R\$ 600,00.

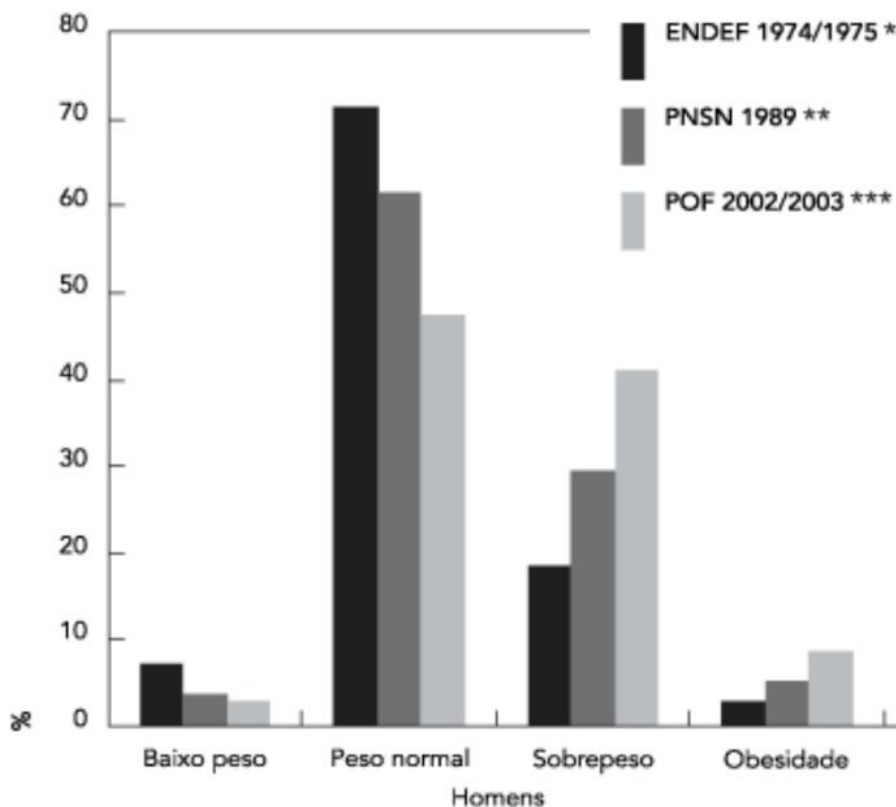
QUESTÃO 18

Seis pintores conseguem pintar 360 m² de parede em 5 dias. Em quantos dias 12 pintores conseguirão pintar 720 m² de parede supondo a mesma produtividade?

- (A) 5.
- (B) 10.
- (C) 12.
- (D) 6.
- (E) 24.

QUESTÃO 19

Observe o gráfico a seguir que mostra a evolução do estado nutricional, segundo o IMC, entre 1974/1975 e 2002/2003 de homens adultos. O eixo das ordenadas mostra a porcentagem desta população em cada condição:



Adaptado de: Batista Filho M, *et al.*. Anemia e obesidade: um paradoxo da transição nutricional brasileira. Cadernos de Saúde Pública 2008; 24(14).

Analisando o gráfico, é INCORRETO afirmar que:

- (A) Em 1974/1975, mais de 70% da população de homens adultos tinha o peso considerado normal.
- (B) Em 2002/2003, menos de 50% da população de homens adultos tinha o peso considerado normal.
- (C) A porcentagem de homens adultos com obesidade aumentou entre 1974/1975 e 2003.
- (D) A porcentagem de homens adultos com baixo peso diminuiu de 1974/1975 para 2002/2003.
- (E) Em 1989, a porcentagem de homens com peso normal era inferior à porcentagem de homens com sobrepeso.

QUESTÃO 20

Considere a seguinte argumentação:

1. Se João vai ao cinema, então ele compra pipoca.
2. Se João compra pipoca, então ele fica satisfeito.
3. João não comprou pipoca.

Com base nessas premissas, qual das conclusões abaixo pode ser logicamente inferida?

- (A) João foi ao cinema, mas não ficou satisfeito.
- (B) João não foi ao cinema.
- (C) João ficou satisfeito, mas não comprou pipoca.
- (D) João não foi ao cinema e ficou satisfeito.
- (E) Se João não compra pipoca, então ele não fica satisfeito.

**NOÇÕES DE INFORMÁTICA
QUESTÃO 21**

A área de trabalho é a principal área exibida na tela quando você liga o computador e faz logon no Windows. Nela, é possível criar novos itens, como:

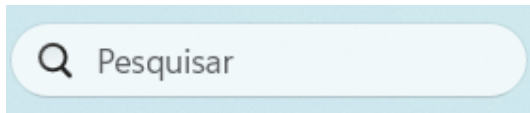
- (A) Spam.
- (B) Hardware
- (C) Periféricos de saída.
- (D) Periféricos de entrada.
- (E) Pastas.

QUESTÃO 22

Dentre as opções a seguir, qual representa um navegador amplamente utilizado para acessar e interagir com conteúdo da internet?

- (A) Oracle.
- (B) Postgres.
- (C) Java.
- (D) Google Chrome.
- (E) Winzip.

QUESTÃO 23



O Windows dispõe de ferramentas que auxiliam na interação do usuário com os recursos do sistema. O facilitador em destaque na imagem acima, que pode ser encontrado na parte inferior da área de trabalho, na barra de tarefas, tem como principal função:

- (A) Limpar a caixa de e-mail.
- (B) Bloquear o acesso a pastas e arquivos.
- (C) Limpar o cache de navegação do browser.
- (D) Pesquisar e localizar documentos, pastas, aplicativos, entre outros elementos, no computador.
- (E) Trocar a senha de acesso do sistema.

QUESTÃO 24

Utilizando o Microsoft Word para edição e formatação de textos, o atalho de teclado Ctrl+Alt+Z tem a função de:

- (A) Inserir um elemento gráfico WordArt.
- (B) Selecionar um bloco de texto vertical.
- (C) Navegar pela página de visualização quando ela está com menos zoom.
- (D) Acessar o modo de visualização de impressão.
- (E) Percorrer os locais das últimas alterações realizadas no documento.

QUESTÃO 25

Uma fórmula no Microsoft Excel é uma sequência de valores constantes, referências de células (o endereço da célula), nomes, funções ou operadores que produzem um novo valor a partir dos valores existentes. As fórmulas sempre começam com um sinal de:

- (A) Mais (+).
- (B) Igual (=).
- (C) Menos (-).
- (D) Porcentagem (%).
- (E) Divisão (÷).

CONHECIMENTOS ESPECÍFICOS**QUESTÃO 26**

A hemolinfa e a secreção glandular do inseto *Paederus*, conhecido popularmente como potó, contêm uma toxina de contato chamada pederina, com propriedades cáusticas e vesicantes. Considerando a fisiopatologia da dermatite causada por esse inseto, e os diferentes graus de severidade clínica, avalie as afirmativas abaixo:

I. A pederina atua inibindo a mitose celular por bloquear a síntese de DNA, resultando em lesões dermatológicas que podem evoluir para quadros leves, moderados ou graves, dependendo da extensão do contato.

II. A dermatite linear é assim chamada por conta das lesões alongadas, que se formam principalmente nas áreas expostas do corpo, resultantes do movimento do inseto sobre a pele.

III. O quadro clínico de dermatite grave é caracterizado, entre outros sintomas, por febre, dor local, artralgia, vômitos e eritema persistente por meses.

IV. As palmas das mãos e as plantas dos pés são comumente afetadas, devido à alta exposição dessas regiões ao inseto *Paederus*. No momento do contato, o paciente nunca sente nenhum ardor ou qualquer sensibilidade.

Assinale a alternativa que apresenta as afirmativas corretas?

- (A) Apenas I, II e IV.
- (B) Apenas I, II e III.
- (C) Apenas II e IV.
- (D) Apenas I e III.
- (E) I, II, III e IV.

QUESTÃO 27

De acordo com a Legislação Federal vigente sobre as Doenças de Notificação Compulsória, qual é a periodicidade para a notificação de um acidente de trabalho envolvendo exposição a material biológico?

- (A) Imediata
- (B) Semanal.
- (C) Mensal.
- (D) Anual.
- (E) Semestral.

QUESTÃO 28

No tratamento da insuficiência coronariana, uma das abordagens medicamentosas envolve o uso de betabloqueadores. Com base no mecanismo de ação desses fármacos, qual é o principal efeito que eles exercem no sistema cardiovascular para alcançar esse benefício terapêutico?

- (A) Aumentam a frequência cardíaca, melhorando o débito cardíaco.
- (B) Dilatam as artérias coronárias, aumentando o fluxo de sangue para o miocárdio.
- (C) Promovem a dilatação das artérias periféricas, reduzindo a pressão arterial sistêmica.
- (D) Previnem a formação de coágulos ao "afinar o sangue".
- (E) Reduzem o trabalho cardíaco ao diminuir a frequência cardíaca e aumentar o tempo de enchimento cardíaco.

QUESTÃO 29

No contexto de transplantes de órgãos, o tempo de isquemia é um fator crucial que determina a viabilidade do órgão para o sucesso do procedimento. Considerando os tempos máximos de isquemia aceitáveis para diferentes órgãos, qual dos órgãos abaixo tem o maior tempo de isquemia, permitindo uma maior margem de tempo entre a retirada do doador e o implante no receptor?

- (A) Coração.
- (B) Rim.
- (C) Pulmão.
- (D) Fígado.
- (E) Intestino.

QUESTÃO 30

Julia, paciente de 33 anos, chega ao seu consultório com os seguintes sintomas: intensa falta de ar, cianose visível nas extremidades, confusão mental e sonolência crescente. Exames complementares mostram altos níveis de dióxido de carbono (hipercapnia) no sangue. Considerando os achados clínicos, qual é o diagnóstico mais provável para essa paciente?

- (A) Crise asmática grave.
- (B) Insuficiência respiratória hipoxêmica.
- (C) Insuficiência respiratória com hipercapnia.
- (D) Embolia pulmonar.
- (E) Pneumonia grave.

QUESTÃO 31

A gasometria arterial é essencial para o diagnóstico e manejo adequado de pacientes com insuficiência respiratória e distúrbios ácido-base. Diante disso, qual das seguintes práticas é correta para garantir uma avaliação precisa e apropriada do estado respiratório e ácido-base do paciente?

- (A) A gasometria arterial deve ser realizada somente na fase aguda da doença, sem necessidade de reavaliação, desde que a ventilação mecânica esteja ajustada.
- (B) A coleta de gasometria arterial deve ser feita exclusivamente na artéria radial, e não é necessário realizar a coleta na artéria femoral.
- (C) Em caso de suspeita de intoxicação, levando a carboxihemoglobina e metemoglobinemia, e em situações de insuficiência respiratória, deve-se abordar a gasometria arterial na ventilação mecânica e colher a gasometria femoral ou radial.
- (D) A coleta de gasometria arterial não é necessária após a ventilação mecânica ser ajustada, e a análise deve ser feita apenas se houver mudanças clínicas significativas.
- (E) Em pacientes com distúrbios do equilíbrio ácido-base, a gasometria deve ser coletada antes do ajuste dos parâmetros do ventilador.

QUESTÃO 32

Considerando a previsão constitucional no que tange a Saúde, analise as proposições abaixo e assinale a alternativa que apresenta a sequência correta considerando V (Verdadeiro) e F (Falso). São competência do Sistema Único de Saúde:

- () Incrementar, em sua área de atuação, o desenvolvimento científico e tecnológico e a inovação.
 - () Fiscalizar e inspecionar alimentos, excluindo apenas o controle de seu teor nutricional, bem como bebidas e águas para consumo humano.
 - () Ordenar a formação de recursos humanos na área de saúde.
 - () Participar do controle e fiscalização da produção, transporte, guarda e utilização de substâncias e produtos psicoativos, tóxicos e radioativos.
- (A) F, V, F, V.
(B) F, V, F, F.
(C) V, F, V, F.
(D) V, F, V, V.
(E) Nenhuma das alternativas.

QUESTÃO 33

A Seguridade Social compreende um conjunto integrado de ações de iniciativa dos Poderes Públicos e da sociedade, destinadas a assegurar os direitos relativos à saúde, à previdência e à assistência social. Contudo, compete ao Poder Público, nos termos da lei, organizar a seguridade social, com base nos seguintes objetivos, **EXCETO** o que se apresenta em:

- (A) Redutibilidade do valor dos benefícios.
- (B) Equidade na forma de participação no custeio.
- (C) Seletividade e distributividade na prestação dos benefícios e serviços.
- (D) Uniformidade e equivalência dos benefícios e serviços às populações urbanas e rurais.
- (E) Universalidade da cobertura e do atendimento.

QUESTÃO 34

Lucas, uma criança de 3 anos e 11 meses, está prestes a completar 4 anos. Considerando o Calendário Nacional de vacinação, qual é a vacinação recomendada para Lucas ao completar seus 4 anos?

- (A) Vacina DTP (2º reforço) - Vacina febre amarela (1 dose reforço) e Vacina varicela (1 dose).
- (B) Vacina pneumocócica 13-valente (Pneumo 13) e Vacina Febre Amarela (atenuada) - (FA).
- (C) Vacina contra a gripe (influenza) e Vacina Febre Amarela (atenuada) - (FA).
- (D) Vacina contra a febre amarela (atenuada) - (FA) e Vacina contra o sarampo, caxumba, rubéola (tríplice viral) e Vacina contra a hepatite B.
- (E) Vacina contra a febre amarela (atenuada) - (FA) e Vacina contra a hepatite B.

QUESTÃO 35

De acordo com a Lei Federal nº 7.580/2011, as Regiões de Saúde serão instituídas pelo Estado, em articulação com os Municípios, respeitadas as diretrizes gerais pactuadas na Comissão Intergestores Tripartite - CIT. Para ser instituída, a Região de Saúde deve conter, no mínimo, ações e serviços de:

- () Atenção psicossocial
- () Atenção ambulatorial apenas em doenças autoimunes
- () Atenção primária
- (A) V, V, F.
- (B) F, F, V.
- (C) V, F, V.
- (D) F, V, F.
- (E) Nenhuma das alternativas.

QUESTÃO 36

A tuba uterina apresenta uma estrutura histológica característica, formada por três partes principais. Assinale a alternativa que indica corretamente essas camadas.

- (A) Serosa, muscular e mucosa.
- (B) Mucosa, submucosa e istmo.
- (C) Epitélio simples, muscular e conjuntivo.
- (D) Ampola, serosa e colo do útero.
- (E) Epitélio cilíndrico, muscular e cartilaginoso.

QUESTÃO 37

Analise os itens abaixo sobre analgesia e anestesia no parto e assinale a alternativa correta.

I. A anestesia geral é a abordagem preferida à analgesia durante o trabalho de parto e no parto. Ela fornece controle eficaz da dor, permite que a paciente em trabalho de parto permaneça acordada.

II. A raquianestesia (uma única injeção no espaço subaracnoideo paraespinal) tem início rápido e pode ser utilizada para cesárea para uma paciente sem catéter epidural no lugar. A raquianestesia é utilizada com menos frequência para partos vaginais porque é de curta duração.

- (A) A asserção I é uma proposição falsa, e a II é uma proposição verdadeira.
- (B) As asserções I e II são proposições verdadeiras, e a II é um complemento da I.
- (C) A asserção I é uma proposição verdadeira, e a II é uma proposição falsa.
- (D) As asserções I e II são proposições falsas.
- (E) As asserções I e II são proposições verdadeiras, mas a II não é um complemento da I.

QUESTÃO 38

No ciclo menstrual feminino, a ativação dos hormônios sexuais promove diversas transformações no organismo. Analise as alternativas abaixo e assinale a correta acerca desse processo fisiológico:

- (A) A ativação dos hormônios sexuais transforma a menina em moça, estimulando o endométrio e culminando com a primeira menstruação, conhecida como menarca, que inaugura o período reprodutivo ou menacme.
- (B) A menarca corresponde ao encerramento do período reprodutivo, pois ocorre após a regressão do endométrio e a cessação da atividade hormonal.
- (C) O período reprodutivo, chamado menacme, tem início somente após várias menstruações, sendo que a primeira menstruação não está relacionada à ativação hormonal.
- (D) A ativação hormonal ocorre somente após a menarca, momento em que o endométrio para de ser estimulado e a menina inicia a fase reprodutiva.
- (E) A primeira menstruação é um fenômeno independente dos hormônios sexuais, não apresentando relação com o estímulo do endométrio.

QUESTÃO 39

Carla, 24 anos, queixa-se de dor abdominal aguda, tipo cólica, localizada na linha média inferior do abdômen, irradiando para a região lombar inferior e parte superior das coxas. Ela também relata náuseas, vômitos, cefaleias, ansiedade, fadiga, diarreia, desmaio e sensação de timpanismo abdominal. Sente cólicas que duram geralmente menos de 24 h, mas raramente duram de 2 a 3 dias. Fora do período menstrual, o exame pélvico não apresentou alterações relevantes.

Com base nos sintomas apresentados, qual o diagnóstico mais provável para o quadro de Carla?

- (A) Endometriose
- (B) Dismenorreia
- (C) Gastroenterite aguda
- (D) Apendicite
- (E) Gravidez ectópica

QUESTÃO 40

A síndrome pré-menstrual (SPM) apresenta diversos sintomas que afetam o bem-estar físico, emocional e comportamental da mulher em um determinado período do ciclo menstrual. Sobre a SPM, analise as alternativas a seguir e assinale a correta:

- (A) A SPM consiste em um conjunto de sintomas psíquicos e comportamentais que ocorre durante 7 a 10 dias após a menstruação, sendo caracterizada por sintomas como labilidade afetiva, hipersonia ou insônia.
- (B) A SPM consiste em um conjunto de sintomas físicos, psíquicos e comportamentais que ocorre durante 7 a 10 dias que precedem a menstruação e desaparece logo no início do sangramento, sendo caracterizada por sintomas como humor depressivo, ansiedade, irritabilidade, dificuldade de concentração e alterações no apetite.
- (C) A SPM consiste em um conjunto de sintomas psíquicos e comportamentais que ocorre durante 2 a 5 dias após a menstruação, sendo caracterizada por sintomas como diminuição acentuada do apetite e dificuldade de concentração.
- (D) A SPM é uma condição constante e independente do ciclo menstrual, afetando mulheres de forma contínua desde a adolescência.
- (E) Os sintomas mais comuns da SPM incluem aumento da energia, ausência de alterações emocionais e melhora do apetite na fase pré-menstrual.

QUESTÃO 41

A gravidez ectópica é uma condição na qual o embrião implanta-se fora da cavidade endometrial, podendo ocorrer em diferentes locais. Considerando os tipos de gravidez ectópica, analise as alternativas a seguir e assinale a correta:

- (A) A gravidez ectópica pode ocorrer em diversas regiões, determinando diferentes tipos de gravidez ectópica: gravidez tubária, cervical, ovariana, cornual e abdominal.
- (B) A gravidez ectópica ocorre exclusivamente na cavidade endometrial, caracterizando um tipo específico de gestação normal.
- (C) A gestação heterotópica refere-se à implantação do embrião somente na região ovariana, sem possibilidade de outras localizações.
- (D) A gestação abdominal é um subtipo de gravidez normal, em que o embrião se implanta no peritônio de forma fisiológica, sem riscos relevantes à gestante.
- (E) A gravidez tubária é a única forma de gravidez ectópica e ocorre exclusivamente no interior do útero, na região do istmo.

QUESTÃO 42

Daiane, uma mulher de 32 anos, apresenta dismenorreia, dor pélvica crônica, dispareunia (ou dor durante as relações sexuais) e queixas intestinais e urinárias que seguem um padrão cíclico, piorando no período menstrual. Além disso, ela tem dificuldade para engravidar.

Com base nos sintomas apresentados, qual é a condição mais provável que Daiane esteja enfrentando?

- (A) Cistite bacteriana aguda
- (B) Infecção urinária
- (C) Endometriose
- (D) Mioma uterino
- (E) Sinusite crônica

QUESTÃO 43

Considerando os tipos de gravidez gemelar e os fatores envolvidos em sua ocorrência, assinale a alternativa correta:

- (A) A gestação monozigótica ocorre a partir da dupla ovulação, resultando em dois ovos diferentes e gêmeos de sexos distintos.
- (B) A gravidez dizigótica está associada à divisão de um único ovo fecundado, originando dois fetos com o mesmo sexo obrigatoriamente.
- (C) A gestação dizigótica é consequente a dupla ovulação, fornecendo, assim, fetos distintos, podendo ou não ser do mesmo sexo (gêmeos fraternos).
- (D) A consanguinidade de grau moderado reduz a ocorrência de gravidez gemelar, pois eleva a taxa de abortamentos precoces.
- (E) A gestação dizigótica é caracterizada pela divisão de um único óvulo fecundado, resultando em gêmeos geneticamente idênticos e, portanto, sempre do mesmo sexo.

QUESTÃO 44

Uma mulher de 28 anos procura atendimento ginecológico relatando o aparecimento de uma lesão indolor na vulva há aproximadamente três semanas. Ela afirma que a lesão surgiu espontaneamente, sem trauma ou coceira, e não apresenta secreção. A paciente diz que a ferida começou a regredir nos últimos dias, mesmo sem uso de medicamentos. Além disso, notou-se a presença de caroços na região da virilha. Nega febre, corrimento ou alterações menstruais, mas relata ter tido relações sexuais desprotegidas com um novo parceiro há cerca de um mês. Considerando o quadro apresentado e os mecanismos de transmissão das infecções sexualmente transmissíveis, qual o diagnóstico mais provável?

- (A) Herpes genital
- (B) Candidíase vulvovaginal
- (C) Tricomoníase
- (D) Linfogranuloma venéreo
- (E) Sífilis

QUESTÃO 45

Ana tem 48 anos e, nos últimos meses, percebeu que seus ciclos menstruais são cada vez mais irregulares, algumas vezes passando meses sem menstruar. Além disso, há ondas de calor súbitas que atingem seu rosto, pescoço e parte superior do tórax, acompanhadas de suores e palpitações. À noite, Ana sofre com suores que prejudicaram seu sono, e tem apresentado irritabilidade e sensação de cansaço constante. Também notou ressecamento vaginal, o que causou desconforto nas relações sexuais. Ela está preocupada com essas mudanças e procura orientação médica para entender o que está acontecendo.

Considerando os sintomas e a idade de Ana, qual é a condição mais provável que ela esteja enfrentando?

- (A) Infecção urinária grave
- (B) Climatério
- (C) Doença cardíaca
- (D) Depressão clínica
- (E) Hipertireoidismo

QUESTÃO 46

A genitália externa feminina é composta pelo clitóris, hímen, grandes e pequenos lábios, introito vaginal, meato uretral, monte de Vênus, glândulas de Bartholin e parauretrais.

Assinale uma alternativa que completa corretamente a frase abaixo:

O _____ encontra-se superiormente e representa um acúmulo de gordura, anterior à sínfise púbica, encoberta por pelos pubianos.

- (A) hímen
- (B) monte de Vênus
- (C) diafragma urogenital
- (D) clitóris
- (E) períneo

QUESTÃO 47

A incontinência urinária é uma condição comum entre mulheres e pode comprometer significativamente a qualidade de vida, estando também associada a elevados custos pessoais e sociais. Clinicamente, essa condição é classificada em diferentes tipos, de acordo com os mecanismos envolvidos e os sintomas predominantes. Entre as principais formas, uma está relacionada à perda involuntária de urina durante atividades como tossir, rir ou levantar peso, enquanto outra envolve perda de urina precedida por urgência miccional súbita e incontrolável. Esses dois subtipos são tão comuns que, em muitas pacientes, ocorrem simultaneamente, resultando em um quadro clínico caracterizado pela sobreposição dos sintomas associados a ambos os tipos de perda urinária. Com base nessas características clínicas, qual das alternativas abaixo associa corretamente os tipos de incontinência urinária descritos?

- (A) Incontinência funcional, incontinência neurogênica e incontinência mista.
- (B) Incontinência paradoxal, incontinência de urgência e incontinência neurogênica.
- (C) Incontinência de urgência, incontinência obstrutiva e incontinência paradoxal.
- (D) Incontinência de esforço, incontinência de urgência e incontinência mista.
- (E) Incontinência neurogênica, incontinência paradoxal e incontinência psicogênica.

QUESTÃO 48

Abortamento é definido pela Organização Mundial da Saúde (OMS) como expulsão ou extração do feto antes de 20 semanas ou pesando menos do que 500 g. Ainda que a maioria das gestações transcorra sem intercorrências, cerca de 25% das mulheres terá um abortamento espontâneo durante sua vida reprodutiva.

Julgue os itens abaixo sobre abortamento e assinale a alternativa correta.

I. Abortamento completo: é mais comum nas primeiras 10 semanas de gravidez, corresponde à expulsão completa dos produtos da concepção. Devido à contração uterina o sangramento reduz progressivamente, as cólicas diminuem e o orifício interno do colo uterino tende ao fechamento em algumas horas.

II. Abortamento retido: é a eliminação parcial do ovo. Tendo em vista que restos placentários e embrionários permanecem intraútero, o órgão não contrai com eficiência para interromper o sangramento, que persiste de forma intermitente e, muitas vezes, volumosa.

- (A) A asserção I é uma proposição falsa, e a II é uma proposição verdadeira.
- (B) As asserções I e II são proposições verdadeiras, e a II é um complemento da I.
- (C) A asserção I é uma proposição verdadeira, e a II é uma proposição falsa.
- (D) As asserções I e II são proposições falsas.
- (E) As asserções I e II são proposições verdadeiras, mas a II não é um complemento da I.

QUESTÃO 49

Sobre o Transtorno do Espectro Fetal do Álcool (FASD), assinale a alternativa correta quanto às possíveis consequências da exposição fetal ao álcool durante a gestação:

- (A) O FASD está associado unicamente a alterações físicas visíveis no recém-nascido, sem prejuízos cognitivos ou comportamentais.
- (B) Os efeitos do FASD são sempre transitórios, limitando-se aos primeiros anos de vida da criança.
- (C) A exposição fetal ao álcool resulta, predominantemente, em alterações respiratórias e cardíacas congênitas.
- (D) O FASD está relacionado a um aumento da capacidade cognitiva e motora, devido à estimulação intrauterina provocada pelo álcool.
- (E) A exposição fetal ao álcool pode resultar em déficit de atenção, atraso no desenvolvimento da linguagem, deficiência intelectual e dificuldade de coordenação motora.

QUESTÃO 50

Durante o trabalho de parto, uma situação obstétrica de urgência pode ocorrer quando uma estrutura fetal acessória se antecipa à apresentação, atravessando o canal cervical e posicionando-se entre o feto e as paredes uterinas ou vaginais. Essa condição pode ser visível externamente ou apenas detectável ao exame físico, e acarreta risco iminente à oxigenação fetal, podendo resultar em compressão vascular ou vasoespasmoprovocado por exposição a temperaturas mais baixas. Tal intercorrência exige diagnóstico rápido e conduta imediata. Com base na descrição acima, assinale a alternativa que indica corretamente essa complicação obstétrica:

- (A) Ruptura prematura de membranas
- (B) Prolapso do cordão umbilical
- (C) Inversão uterina
- (D) Placenta prévia central total
- (E) Descolamento prematuro da placenta

