

AVANÇASP



PREFEITURA MUNICIPAL DE  
VARGINHA/MG

CONCURSO PÚBLICO  
01/2025

## CONTADOR

### Leia atentamente as instruções abaixo

#### 1. PROVA E FOLHA DE RESPOSTAS

- Além deste Caderno de Prova, contendo 50 (cinquenta) questões objetivas, você receberá do Fiscal de Sala:
- 01 (uma) Folha de Respostas destinada às respostas das questões objetivas. Confira se seus dados estão corretos.

#### 2. TEMPO

- 03 (três) horas é o tempo disponível para realização da prova, já incluído o tempo para marcação da Folha de Respostas da prova objetiva;
- **01 (uma) hora** após o início da prova é possível, retirar-se da sala levando o caderno de prova;

#### 3. INFORMAÇÕES GERAIS

- As questões objetivas têm 05 (cinco) alternativas de resposta (A, B, C, D, E) e somente **uma** delas está correta;
- Verifique se seu caderno está completo, sem repetição de questões ou falhas. Caso contrário, informe imediatamente o Fiscal da Sala, para que sejam tomadas as devidas providências;
- Confira seus dados pessoais na Folha de Respostas, especialmente nome, número de inscrição e documento de identidade e leia atentamente as instruções para preenchimento;
- O preenchimento das respostas da prova objetiva é de sua responsabilidade e não será permitida a troca de Folha de Respostas em caso de erro de marcação pelo candidato;

- Marque, na folha de respostas, com caneta de tinta azul ou preta, a letra correspondente à alternativa que você escolheu.

- Reserve tempo suficiente para o preenchimento de suas respostas. Para fins de avaliação, serão levadas em consideração apenas as marcações realizadas na Folha de Respostas da prova objetiva, não sendo permitido anotar informações relativas às respostas em qualquer outro meio que não seja o caderno de prova;

- Ao se retirar, entregue a Folha de Respostas preenchida e assinada ao Fiscal de Sala.

#### SERÁ ELIMINADO do presente certame o candidato que:

- a) for surpreendido, durante as provas, em qualquer tipo de comunicação com outro candidato;
- b) portar ou usar, qualquer tipo de aparelho eletrônico (calculadoras, bips/pagers, câmeras fotográficas, filmadoras, telefones celulares, smartphones, tablets, relógios, walkmans, MP3 players, fones de ouvido, agendas eletrônicas, notebooks, palmtops ou qualquer outro tipo de computador portátil, receptores ou gravadores) seja na sala de prova, sanitários, pátios ou qualquer outra dependência do local de prova;
- c) se ausentar da sala em que se realizam as provas levando consigo o Caderno de Questões e/ou a Folha de Respostas;
- d) se recusar a entregar a Folha de Respostas, quando terminar o tempo estabelecido;
- e) não assinar a Lista de Presença e/ou a Folha de Respostas.

**LÍNGUA PORTUGUESA**

**TEXTO**

**Leia o texto a seguir para responder às questões de 1 a 5.**

**Meu coração**

No fim, desculpe a literatura, é tudo entre nós e o nosso coração. Depois do dito e do feito, depois da paixão e da razão, depois da vida das células e da vida social e da vida cívica e das idas e das voltas, e da História e da biografia, e do que os outros fizeram conosco e nós fizemos com os outros, é tudo entre nós e ele. Segundos fora. Nós e ele. A única conversa que vale, a única intimidade que conta. O coração não tem nada a ver com nada, fora a sístole e a diástole e a sua fisiologia medíocre. Ele nem nos daria conversa, se não dependesse de nós, se não precisasse da embalagem, dos terminais e de alguém que cuide dele. Tudo que lhe atribuem, do mais romântico ao mais calhorda, é falso. Trata-se de um mero músculo, e de um músculo egoísta, que só quer saber da sua própria sobrevivência. Da qual, por uma cruel coincidência, depende a nossa.

Fala-se do “time do coração”. Mentira. O coração não tem time. O coração não se interessa por futebol. Só hoje, por exemplo, o meu se deu conta de onde estava. Paris, Nantes, Marselha ou qualquer outra cidade, é tudo o mesmo para ele, desde que ele tenha um lugar seguro onde possa bater e cuidar da sua vidinha. Mas de repente ele se deu conta e pediu satisfações. Para onde eu o tinha trazido? Expliquei. A França, a Copa, o Brasil, os jogos, a beleza dos jogos...

Meu coração não quis ouvir falar da beleza dos jogos. Ele não tem nenhum senso estético. Quis saber que história era aquela de morte súbita.

— É uma maneira nova de decidir as partidas que acabam empatadas. Há uma prorrogação e quem marcar o primeiro gol ganha.

Meu coração não quis acreditar.

— Quer dizer que, se esse time pelo qual você torce, como é mesmo o nome?

— Brasil.

— Quer dizer que, se o Brasil empatar com algum outro time, tem prorrogação com morte súbita?

— É...

— Você sabia disso quando me trouxe para cá?

— Sabia.

— Você deliberadamente me trouxe a um evento em que eu posso parar de repente, mesmo não tendo nada a ver com isso? Não era para ser um campeonato de futebol, um esporte, um divertimento, enfim, nada que me dissesse respeito?

— Desculpe. Eu tentei substituí-lo pelo distanciamento crítico, mas...

— Só me diz uma coisa. Se a prorrogação terminar sem que ninguém marque gol, o que acontece?

— Aí decidem nos pênaltis.

— Me leva pra casa. Me leva pra casa imediatamente. E pare de me envolver nos seus divertimentos. Você parece que não tem coração.

— Mas nada disso vai acontecer com o Brasil. Prorrogação, pênaltis, nada disso.

— Quase aconteceu contra a Dinamarca!

— É, mas...

— Me tira daqui!

VERISSIMO, L. F. *Verissimo antológico*: meio século de crônicas, ou coisa parecida. São Paulo: Objetiva, 2020.

**QUESTÃO 01**

O texto é marcado pela figura de linguagem:

- (A) eufemismo, ao referir-se à morte súbita com termos que amenizem sua gravidade.
- (B) prosopopeia, ao atribuir ao coração vontade própria e capacidade de falar.
- (C) ironia, ao expressar o apreço do coração pelo futebol com palavras depreciativas.
- (D) onomatopeia, ao fazer menção às batidas do coração.
- (E) sinestesia, ao mesclar sensações visuais e auditivas para descrever o coração.

**QUESTÃO 02**

Considere o seguinte excerto: “*Da qual, por uma cruel coincidência, depende a nossa.*” O pronome relativo empregado neste excerto retoma no texto o termo antecedente:

- (A) “tudo que lhe atribuem”.
- (B) “músculo egoísta”.
- (C) “sua própria sobrevivência”.
- (D) “embalagem”.
- (E) “fisiologia medíocre”.

**QUESTÃO 03**

Analise as sentenças a seguir, retiradas do texto:

I. *Paris, Nantes, Marselha ou qualquer outra cidade, é tudo o mesmo para ele [...]*

II. [...] *desde que ele tenha um lugar seguro onde possa bater e cuidar da sua vidinha.*

III. *Mas de repente ele se deu conta e pediu satisfações.*

O pronome pessoal “*ele*” é empregado como oblíquo apenas em:

- (A) I.
- (B) II.
- (C) III.
- (D) I e II.
- (E) II e III.

**QUESTÃO 04**

O excerto a seguir cuja colocação pronominal está incorreta, de acordo com a norma-padrão da língua portuguesa, é:

- (A) — Me leva pra casa.
- (B) — Desculpe. Eu tentei substituí-lo pelo distanciamento crítico, mas...
- (C) — Você sabia disso quando me trouxe para cá?
- (D) O coração não se interessa por futebol.
- (E) Trata-se de um mero músculo, e de um músculo egoísta, que só quer saber da sua própria sobrevivência.

**QUESTÃO 05**

O advérbio que melhor substitui “*deliberadamente*”, em “— *Você deliberadamente me trouxe a um evento em que eu posso parar de repente, mesmo não tendo nada a ver com isso?*”, é:

- (A) especificamente.
- (B) inevitavelmente.
- (C) indiscriminadamente.
- (D) imponderadamente.
- (E) resolutamente.

**QUESTÃO 06**

A sentença em que se verifica um substantivo próprio como complemento verbal é:

- (A) Piracicaba é uma cidade do interior de São Paulo.
- (B) As provas corrigidas eram entregues a Pedro por correspondência.
- (C) A admiração é crucial em um relacionamento amoroso.
- (D) Os escoteiros da escola de São João fizeram uma arrecadação de alimentos.
- (E) Essas velas perfumadas são invenção daquela garota.

**QUESTÃO 07**

Assinale a alternativa em que o elemento em destaque é um advérbio de possibilidade ou dúvida.

- (A) Há rumores de que eles **sequer** avisaram sobre as demissões.
- (B) Não gosto desse tipo de comportamento, **tampouco** de rebeldia.
- (C) Ter optado por me afastar fora, **quicá**, a minha melhor decisão.
- (D) **Muito** provavelmente aquele exame será reaplicado.
- (E) Tudo o que fizeram foi **realmente** de coração.

---

**QUESTÃO 08**

---

Verifica-se verbo irregular apenas em:

- (A) Não jogue plástico nos oceanos.
- (B) A cozinheira sovou o pão por aproximadamente uma hora.
- (C) Hidrate-se especialmente nos dias de calor escaldante.
- (D) Eles provaram ao juiz sua inocência.
- (E) Vimos as fotos do seu casamento nas redes sociais.

---

**QUESTÃO 09**

---

**Não** ocorre desvio ortográfico apenas em:

- (A) Desejo a você as melhores bênçãos do mundo.
- (B) A subregião da metrópole está passando por diversos problemas sanitários.
- (C) Seu desvanescimento tem a ver com a tristeza que vêm sentindo.
- (D) Esses garotos são mal-criados com seus professores.
- (E) Todas as meia-noites são estreladas no campo.

---

**QUESTÃO 10**

---

Considere a seguinte sentença: *“Tinha vontade de se mudar para outro país, todavia não podia fazê-lo.”* A palavra *“todavia”*, neste contexto, exprime o mesmo sentido de:

- (A) contudo.
- (B) caso.
- (C) senão.
- (D) outrossim.
- (E) consoante.

---

**MATEMÁTICA E RACIOCÍNIO LÓGICO**

---

**QUESTÃO 11**

---

Em uma padaria, um cliente leva 400 gramas de pão doce e 300 gramas de pão de mel, ele paga um total de R\$ 13,80. Em outro dia, o mesmo cliente leva 200 g de pão doce e 500 g de pão de mel, pagando um total de R\$ 14,60. Nesta situação, qual o preço por kg do pão de mel?

- (A) R\$ 18,50.
- (B) R\$ 21,50.
- (C) R\$ 15,50.
- (D) R\$ 22,00.
- (E) R\$ 17,00.

---

**QUESTÃO 12**

---

Observe as seguintes afirmativas:

I – Um losango possui os quatro lados congruentes, mas os ângulos internos não são todos congruentes entre si.

II – Um triângulo retângulo tem necessariamente os sete lados congruentes.

III – Um heptágono regular tem apenas 6 lados iguais, e todos os seus ângulos internos são congruentes.

Estão corretas:

- (A) Apenas I.
- (B) Apenas II.
- (C) Apenas III.
- (D) I e II.
- (E) I e III.

**QUESTÃO 13**

Numa escola, sabe-se que 45% dos funcionários falam inglês, 65% falam espanhol e 25% falam ambas as línguas. Se há 500 funcionários no total, quantos não falam nem inglês nem espanhol?

- (A) 125.
- (B) 55.
- (C) 15.
- (D) 75.
- (E) 155.

**QUESTÃO 14**

Uma determinada empresa multinacional de tecnologia teve um lucro líquido de 1 bilhão de reais no primeiro semestre do ano. Esta empresa pagará a cada um dos seus diretores uma fração desse lucro correspondente a 0,01%. Quanto cada diretor irá receber?

- (A) R\$ 10.000,00.
- (B) R\$ 100.000,00.
- (C) R\$ 1.000.000,00.
- (D) R\$ 10.000.000,00.
- (E) R\$ 100.000.000,00.

**QUESTÃO 15**

Observe a seguinte sequência lógica numérica:

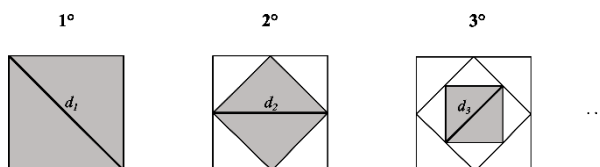
1, 1, 2, 3, 5, 8, 13, ...

Qual será o 10º elemento desta sequência?

- (A) 98.
- (B) 89.
- (C) 21.
- (D) 55.
- (E) 34.

**QUESTÃO 16**

Observe a seguinte sequência lógica figural:



O quadrado do primeiro elemento tem lado 1 cm e tem sua diagonal medida pela variável  $d_1$ , conforme a figura. Os próximos elementos são sequências de quadrados que são sucessivamente inscritos a partir do quadrado inicial. A diagonal correspondente ao  $n$ -ésimo elemento é a diagonal do quadrado mais interno inscrito. Nesta situação, qual a medida da diagonal correspondente ao 4º elemento, em centímetros?

- (A)  $\frac{1}{2\sqrt{2}}$ .
- (B)  $\frac{1}{\sqrt{2}}$ .
- (C)  $\frac{1}{2}$ .
- (D)  $\frac{\sqrt{2}}{4}$ .
- (E)  $\frac{2\sqrt{2}}{3}$ .

**QUESTÃO 17**

Maria possui uma horta onde colhe 60 kg de tomates por dia, que são utilizados na fabricação de molho de tomate. Com cada 4 kg de tomate, ela fabrica 1 litro de molho. O molho fabricado é então dividido em potes de 250 ml, que são empacotados em caixas de 10 potes. Cada caixa é vendida por R\$ 50,00. Quanto Maria arrecada por dia com a venda do molho?

- (A) R\$ 900,00.
- (B) R\$ 300,00.
- (C) R\$ 1500,00.
- (D) R\$ 450,00.
- (E) R\$ 600,00.

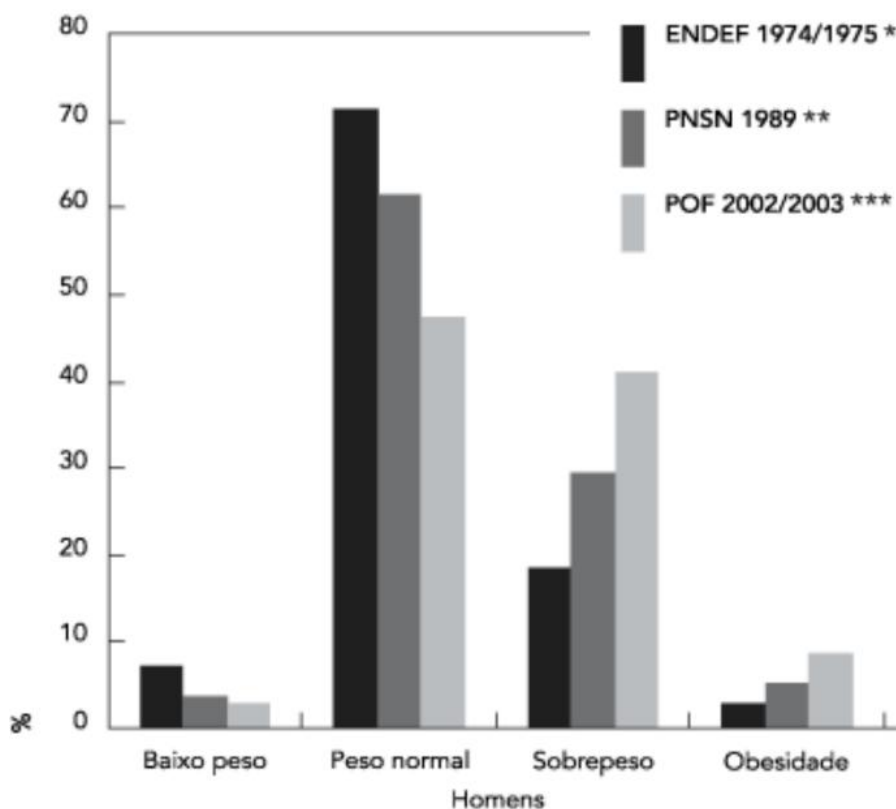
**QUESTÃO 18**

Seis pintores conseguem pintar 360 m<sup>2</sup> de parede em 5 dias. Em quantos dias 12 pintores conseguirão pintar 720 m<sup>2</sup> de parede supondo a mesma produtividade?

- (A) 5.
- (B) 10.
- (C) 12.
- (D) 6.
- (E) 24.

**QUESTÃO 19**

Observe o gráfico a seguir que mostra a evolução do estado nutricional, segundo o IMC, entre 1974/1975 e 2002/2003 de homens adultos. O eixo das ordenadas mostra a porcentagem desta população em cada condição:



Adaptado de: Batista Filho M, *et al.*. Anemia e obesidade: um paradoxo da transição nutricional brasileira. Cadernos de Saúde Pública 2008; 24(14).

Analisando o gráfico, é INCORRETO afirmar que:

- (A) Em 1974/1975, mais de 70% da população de homens adultos tinha o peso considerado normal.
- (B) Em 2002/2003, menos de 50% da população de homens adultos tinha o peso considerado normal.
- (C) A porcentagem de homens adultos com obesidade aumentou entre 1974/1975 e 2003.
- (D) A porcentagem de homens adultos com baixo peso diminuiu de 1974/1975 para 2002/2003.
- (E) Em 1989, a porcentagem de homens com peso normal era inferior à porcentagem de homens com sobrepeso.

**QUESTÃO 20**

Considere a seguinte argumentação:

1. Se João vai ao cinema, então ele compra pipoca.
2. Se João compra pipoca, então ele fica satisfeito.
3. João não comprou pipoca.

Com base nessas premissas, qual das conclusões abaixo pode ser logicamente inferida?

- (A) João foi ao cinema, mas não ficou satisfeito.
- (B) João não foi ao cinema.
- (C) João ficou satisfeito, mas não comprou pipoca.
- (D) João não foi ao cinema e ficou satisfeito.
- (E) Se João não compra pipoca, então ele não fica satisfeito.

**NOÇÕES DE INFORMÁTICA  
QUESTÃO 21**

A área de trabalho é a principal área exibida na tela quando você liga o computador e faz logon no Windows. Nela, é possível criar novos itens, como:

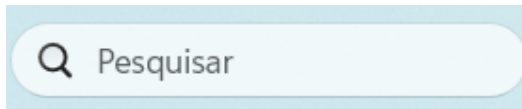
- (A) Spam.
- (B) Hardware
- (C) Periféricos de saída.
- (D) Periféricos de entrada.
- (E) Pastas.

**QUESTÃO 22**

Dentre as opções a seguir, qual representa um navegador amplamente utilizado para acessar e interagir com conteúdo da internet?

- (A) Oracle.
- (B) Postgres.
- (C) Java.
- (D) Google Chrome.
- (E) Winzip.

**QUESTÃO 23**



O Windows dispõe de ferramentas que auxiliam na interação do usuário com os recursos do sistema. O facilitador em destaque na imagem acima, que pode ser encontrado na parte inferior da área de trabalho, na barra de tarefas, tem como principal função:

- (A) Limpar a caixa de e-mail.
- (B) Bloquear o acesso a pastas e arquivos.
- (C) Limpar o cache de navegação do browser.
- (D) Pesquisar e localizar documentos, pastas, aplicativos, entre outros elementos, no computador.
- (E) Trocar a senha de acesso do sistema.

**QUESTÃO 24**

Utilizando o Microsoft Word para edição e formatação de textos, o atalho de teclado Ctrl+Alt+Z tem a função de:

- (A) Inserir um elemento gráfico WordArt.
- (B) Selecionar um bloco de texto vertical.
- (C) Navegar pela página de visualização quando ela está com menos zoom.
- (D) Acessar o modo de visualização de impressão.
- (E) Percorrer os locais das últimas alterações realizadas no documento.

**QUESTÃO 25**

Uma fórmula no Microsoft Excel é uma sequência de valores constantes, referências de células (o endereço da célula), nomes, funções ou operadores que produzem um novo valor a partir dos valores existentes. As fórmulas sempre começam com um sinal de:

- (A) Mais (+).
- (B) Igual (=).
- (C) Menos (-).
- (D) Porcentagem (%).
- (E) Divisão (÷).

**CONHECIMENTOS ESPECÍFICOS**

**QUESTÃO 26**

A empresa Alpha Soluções possui um Ativo Circulante de R\$ 33.000,00. Não apresenta Passivo Circulante, mas possui um Passivo Não Circulante de R\$ 18.000,00. Com base nessas informações, assinale a alternativa que corresponde ao valor do Capital Circulante Líquido (CCL):

- (A) 33.000,00
- (B) 8.000,00
- (C) 15.000,00
- (D) 18.000,00
- (E) 51.000,00

**QUESTÃO 27**

A empresa Salsa Green apresentou as seguintes informações contábeis:

Caixa	R\$ 54.550,00
Salários a Pagar	R\$ 28.460,00
Capital Social	R\$ 200.000,00
Clientes a Receber (Curto Prazo)	R\$ 12.000,00
Empréstimos de Longo Prazo	R\$ 50.200,00
Reservas de Lucros	R\$ 35.780,00
Imóveis	R\$ 115.000,00
Computadores	R\$ 42.000,00
Estoque de Mercadorias	R\$ 21.500,00
Móveis e Utensílios	R\$ 60.000,00
Impostos a Pagar	R\$ 23.000,00

Assinale a alternativa correta sobre o índice de liquidez imediata da empresa:

- (A) 0,92
- (B) 1,06
- (C) 0,75
- (D) 2,04
- (E) 1,32

**QUESTÃO 28**

Com base nas seguintes informações financeiras de uma empresa:

- Vendas de Mercadorias: R\$ 300.000,00
- CMV: R\$ 98.000,00
- Salários: R\$ 35.000,00
- Publicidade e Propaganda: R\$ 7.000,00
- Comissão de Vendas: R\$ 14.000,00
- Impostos sobre Vendas: R\$ 83.500,00
- Aluguéis Passivos: R\$ 10.000,00
- Depreciação Acumulada: R\$ 19.250,00

Assinale a alternativa que representa o lucro bruto:

- (A) R\$ 118.500,00
- (B) R\$ 187.000,00
- (C) R\$ 205.000,00
- (D) R\$ 192.000,00
- (E) R\$ 230.000,00

**QUESTÃO 29**

Em dezembro de 2023, uma empresa de brinquedos registrou uma receita de vendas de R\$ 600.000,00. O recebimento do montante ocorreu da seguinte forma:

- 40% à vista
- 45% a prazo, com recebimento previsto para janeiro de 2024
- 15% a prazo, com recebimento previsto para fevereiro de 2024

O custo das mercadorias vendidas relacionado a essas vendas foi de R\$ 250.000,00. A loja estima um percentual de inadimplência de 3% sobre as vendas a prazo.

Assinale a alternativa que indica o valor a ser contabilizado como “Despesa com perdas estimadas com crédito de liquidação duvidosa” em 31/12/2023:

- (A) R\$ 7.500,00
- (B) R\$ 8.400,00
- (C) R\$ 10.800,00
- (D) R\$ 12.000,00
- (E) R\$ 15.500,00

**QUESTÃO 30**

A empresa Folhas 21 produz mensalmente 3.000 unidades de cadernos. Os custos variáveis por unidade são os seguintes:

- Mão de obra direta: R\$ 70,00
- Matéria-prima: R\$ 80,00
- Outros custos variáveis: R\$ 30,00

Além disso, a empresa possui custos fixos mensais para a produção desses cadernos, totalizando R\$ 12.000,00.

Com base nas informações apresentadas, qual é o custo total unitário de cada caderno:

- (A) R\$ 153,00
- (B) R\$ 165,00
- (C) R\$ 160,00
- (D) R\$ 184,00
- (E) R\$ 152,00

**QUESTÃO 31**

A empresa Comercial ZX Ltda., encerrou suas atividades no final do exercício 2023 e apresentou os seguintes saldos em suas contas contábeis:

- Lucros acumulados: R\$ 30.000,00
- Fornecedores a pagar: R\$ 5.000,00
- Caixa: R\$ 10.000,00
- Duplicatas a receber: R\$ 7.500,00
- Capital: R\$ 45.000,00
- Máquinas e equipamentos: R\$ 41.500,00

Com base nessas informações, qual é o valor do capital de terceiros da empresa:

- (A) R\$ 2.500,00
- (B) R\$ 50.000,00
- (C) R\$ 5.000,00
- (D) R\$ 12.500,00
- (E) R\$ 41.500,00

**QUESTÃO 32**

No contexto da contabilidade de custos e conforme a legislação fiscal brasileira, qual sistema de custeio é aceito para fins de tributação:

- (A) Custeio ABC
- (B) Custeio por Absorção
- (C) Custeio Direto
- (D) Custeio por Atividade
- (E) Custeio Principal

**QUESTÃO 33**

De acordo com a Lei nº 9.430/1996, que trata da legislação tributária federal, qual das seguintes práticas é considerada omissão de receita:

- (A) Registro de receitas futuras em contas a receber para garantir a adequada manutenção do passivo e evitar a omissão de receita.
- (B) Inclusão de despesas não pagas como as receitas no balanço patrimonial.
- (C) Falta de escrituração de pagamentos realizados e manutenção de obrigações não comprovadas.
- (D) Classificação incorreta de despesas como receitas.
- (E) Registro de receitas em contas de passivo de obrigações cuja exigibilidade não seja comprovada.

**QUESTÃO 34**

De acordo com o Art. 182 da Lei nº 6.404/1976, a conta de capital social deve discriminar:

- (A) O montante integralizado e o valor dos lucros acumulados.
- (B) O montante subscrito e, por dedução, a parcela ainda não realizada.
- (C) As reservas de capital e os financiamentos para aquisição de direitos do ativo não circulante.
- (D) O valor total do patrimônio líquido e as reservas de lucros.
- (E) O capital integralizado e ativo imobilizado: os direitos que tenham por objeto bens corpóreos destinados à manutenção das atividades da companhia ou da empresa.

**QUESTÃO 35**

Sobre a Demonstração de Lucros ou Prejuízos Acumulados (DLPA) assinale a alternativa INCORRETA:

- (A) Apresenta o saldo do início do período, os ajustes de exercícios anteriores e a correção monetária do saldo inicial.
- (B) Os ajustes de exercícios anteriores serão considerados apenas os decorrentes de efeitos da mudança de critério contábil, ou da retificação de erro imputável a determinado exercício anterior.
- (C) Detalha as reversões de reservas e o lucro líquido do exercício.
- (D) Indica as transferências para reservas, os dividendos, a parcela dos lucros incorporada ao capital e o saldo ao fim do período.
- (E) Demonstra a receita bruta das vendas e serviços, as deduções das vendas, os abatimentos e os impostos.

**QUESTÃO 36**

Um dos propósitos da prestação de contas na administração pública é:

- (A) Garantir a eficiência operacional das empresas privadas e sua responsabilidade.
- (B) Assegurar a transparência e a responsabilidade na administração pública.
- (C) Facilitar o acesso ao crédito para investimentos privados.
- (D) Reduzir a carga tributária sobre os contribuintes.
- (E) Aumentar a arrecadação de impostos estaduais.

**QUESTÃO 37**

De acordo com a Lei de Responsabilidade Fiscal (LRF), como é definida a transferência voluntária:

- (A) Entrega de recursos correntes ou de capital a outro ente da Federação, a título de cooperação e que não decorra de determinação constitucional.
- (B) Reajustamento de valor do benefício ou serviço, a fim de preservar o seu valor real sem determinação constitucional.
- (C) Transferência de recursos a título de cooperação, auxílio ou assistência financeira, não obrigatória por lei ou constituição.
- (D) Destinação de recursos para despesas com pessoal e encargos.
- (E) Transferência de recursos para pagamento de dívidas de outro ente da Federação.

**QUESTÃO 38**

Conforme as disposições sobre a Lei Orçamentária, como devem ser apresentadas as receitas e despesas:

- (A) Apenas os valores líquidos, após deduções.
- (B) Com suas deduções permitidas e não permitidas.
- (C) Apenas pelos seus totais, vedadas quaisquer deduções.
- (D) Com deduções autorizadas por lei e com administração líquida.
- (E) Com ajustes para prever eventuais receitas futuras.

**QUESTÃO 39**

Conforme a Lei Orçamentária Anual (LOA), quais são os três tipos de programação de gastos governamentais que a compõem:

- (A) Orçamento de Anuidade, Equilíbrio e Publicidade.
- (B) Orçamento Fiscal, Seguridade Social e de Investimentos das Empresas Estatais.
- (C) Orçamento de Receita, Desembolso e Seguridade Social.
- (D) Orçamento de Ativo, Passivo e Exercício Anterior.
- (E) Orçamento de Equilíbrio, Receita e Desembolso.

**QUESTÃO 40**

Quando o auditor está totalmente convencido de que as demonstrações contábeis refletem adequadamente todos os aspectos relevantes, qual tipo de parecer é emitido:

- (A) parecer sem ressalva.
- (B) parecer com ressalva.
- (C) parecer adverso.
- (D) parecer com abstenção de opinião.
- (E) parecer com exceção.

**QUESTÃO 41**

Observe atentamente os itens abaixo:

- I. Despesas de Custeio.
- II. Transferências Correntes.
- III. Investimentos.
- IV. Inversões Financeiras.
- V. Transferências de Capital.

Com base nos itens acima mencionados, assinale a alternativa que faz uma afirmação correta.

- (A) Dentre os itens, apenas 02 (dois) se referem às despesas de capital.
- (B) Todos os itens se referem às despesas de capital.
- (C) Dentre os itens, apenas 03 (três) se referem às despesas correntes.
- (D) Dentre os itens, apenas 03 (três) se referem às despesas de capital.
- (E) Todos os itens se referem às despesas correntes.

**QUESTÃO 42**

São créditos adicionais as autorizações de despesas não computadas ou insuficientemente dotadas na Lei de Orçamento. Nesse contexto, os créditos adicionais classificam-se em:

- I - Suplementares, os destinados a despesas urgentes e imprevistas, em caso de guerra, comoção intestina ou calamidade pública.
- II - Especiais, os destinados a despesas para as quais não haja dotação orçamentária específica.
- III - Extraordinários, os destinados a reforço de dotação orçamentária.

É correto o que se afirma em:

- (A) I e III, apenas.
- (B) I e II, apenas.
- (C) I, II e III.
- (D) II, apenas.
- (E) Nenhuma das afirmativas.

**QUESTÃO 43**

Em conformidade com a Lei Federal n.º 4.320/1964, as receitas e despesas de capital serão objeto de um Quadro de Recursos e de Aplicação de Capital, aprovado por decreto do Poder Executivo, abrangendo, no mínimo um triênio. Diante do contexto, pode-se afirmar, corretamente, que:

- (A) O Quadro de Recursos e de Aplicação de Capital será anualmente reajustado acrescentando-se-lhe as previsões de mais um ano, de modo a assegurar a projeção contínua dos períodos.
- (B) O Quadro de Recursos e de Aplicação de Capital será mensalmente reajustado acrescentando-se-lhe as previsões de mais um mês, de modo a assegurar a projeção contínua dos períodos.
- (C) O Quadro de Recursos e de Aplicação de Capital será semestralmente reajustado acrescentando-se-lhe as previsões de mais seis meses, de modo a assegurar a projeção contínua dos períodos.
- (D) O Quadro de Recursos e de Aplicação de Capital será trimestralmente reajustado acrescentando-se-lhe as previsões de mais três meses.
- (E) O Quadro de Recursos e de Aplicação de Capital não será reajustado.

**QUESTÃO 44**

Analise atentamente o trecho abaixo:

“Na ação por improbidade administrativa poderá ser formulado, em caráter \_\_\_\_ ou \_\_\_\_, pedido de indisponibilidade de bens dos réus, a fim de garantir a integral recomposição do \_\_\_\_ ou do acréscimo patrimonial resultante de enriquecimento \_\_\_\_.”

Assinale a alternativa que não completa corretamente uma das lacunas.

- (A) Antecedente.
- (B) Erário.
- (C) Lícito.
- (D) Ilícito.
- (E) Incidente.

**QUESTÃO 45**

A ação para a aplicação das sanções previstas na Lei nº 8.429, de 2 de junho de 1992, que dispõe sobre improbidade administrativa, prescreve em:

- (A) 3 (três) anos, contados a partir da ocorrência do fato ou, no caso de infrações permanentes, do dia em que cessou a permanência.
- (B) 8 (oito) anos, contados a partir da ocorrência do fato ou, no caso de infrações permanentes, do dia em que cessou a permanência.
- (C) 5 (cinco) anos, contados a partir da ocorrência do fato ou, no caso de infrações permanentes, do dia em que cessou a permanência.
- (D) 6 (seis) anos, contados a partir da ocorrência do fato ou, no caso de infrações permanentes, do dia em que cessou a permanência.
- (E) 4 (quatro) anos, contados a partir da ocorrência do fato ou, no caso de infrações permanentes, do dia em que cessou a permanência.

**QUESTÃO 46**

No processo licitatório, observar-se-á o seguinte, exceto:

- (A) Os valores, os preços e os custos utilizados terão como expressão monetária a moeda corrente internacional.
- (B) Os atos serão preferencialmente digitais, de forma a permitir que sejam produzidos, comunicados, armazenados e validados por meio eletrônico.
- (C) A partir de documentos de formalização de demandas, os órgãos responsáveis pelo planejamento de cada ente federativo poderão, na forma de regulamento, elaborar plano de contratações anual.
- (D) O reconhecimento de firma somente será exigido quando houver dúvida de autenticidade, salvo imposição legal.
- (E) Os documentos serão produzidos por escrito, com data e local de sua realização e assinatura dos responsáveis.

**QUESTÃO 47**

O processo de licitação observará as seguintes fases:

- I - preparatória
- II - de divulgação do edital de licitação
- III - de apresentação de propostas e lances, quando for o caso
- IV - recursal
- V - de habilitação
- VI - de julgamento
- VII - de homologação

Indique a ordem correta que as fases devem ocorrer:

- (A) II; I; III; VI; V; IV; VII.
- (B) I; II; III; V; VI; IV; VII.
- (C) II; I; IV; VI; V; III; VII.
- (D) I; II; III; VI; V; IV; VII.
- (E) I; III; II; V; VI; IV; VII.

**QUESTÃO 48**

Em conformidade com a Lei Complementar n.º 101/2000, é nulo de pleno direito:

- (A) O ato de que resulte aumento da despesa com pessoal nos 200 (duzentos) dias anteriores ao final do mandato do titular de Poder.
- (B) O ato de que resulte aumento da despesa com pessoal nos 100 (cem) dias anteriores ao final do mandato do titular de Poder.
- (C) O ato de que resulte aumento da despesa com pessoal nos 180 (cento e oitenta) dias anteriores ao final do mandato do titular de Poder.
- (D) O ato de que resulte aumento da despesa com pessoal nos 150 (cento e cinquenta) dias anteriores ao final do mandato do titular de Poder.
- (E) O ato de que resulte aumento da despesa com pessoal nos 30 (trinta) dias anteriores ao final do mandato do titular de Poder.

**QUESTÃO 49**

Em conformidade com a Lei 14.133/2021, caberá à autoridade máxima do órgão ou da entidade, ou a quem as normas de organização administrativa indicarem, promover gestão por competências e designar agentes públicos para o desempenho das funções essenciais à execução da Lei, que preencham os seguintes requisitos:

- ( ) Não sejam cônjuge ou companheiro de licitantes ou contratados habituais da Administração nem tenham com eles vínculo de parentesco, colateral ou por afinidade, até o terceiro grau, ou de natureza técnica, comercial, econômica, financeira, trabalhista e civil.
- ( ) Tenham atribuições relacionadas a licitações e contratos ou possuam formação compatível ou qualificação atestada em qualquer instituição de ensino, desde que nacional.
- ( ) Sejam, exclusivamente, servidor efetivo ou empregado público dos quadros permanentes da Administração Pública.

Indique “V” para verdadeiro e “F” para falso.

- (A) V, V, V.
- (B) F, F, F.
- (C) V, V, F.
- (D) F, F, V.
- (E) V, F, F.

**QUESTÃO 50**

Ainda sobre a lei que dispõe sobre improbidade administrativa, é possível afirmar que a instauração de inquérito civil ou de processo administrativo para apuração dos ilícitos referidos na citada lei, suspende o curso do prazo prescricional por, no máximo:

- (A) 360 (trezentos e sessenta) dias corridos, recomeçando a correr após a sua conclusão ou, caso não concluído o processo, esgotado o prazo de suspensão.
- (B) 100 (cem) dias corridos, recomeçando a correr após a sua conclusão ou, caso não concluído o processo, esgotado o prazo de suspensão.
- (C) 60 (sessenta) dias corridos, recomeçando a correr após a sua conclusão ou, caso não concluído o processo, esgotado o prazo de suspensão.
- (D) 20 (vinte) dias corridos, recomeçando a correr após a sua conclusão ou, caso não concluído o processo, esgotado o prazo de suspensão.
- (E) 180 (cento e oitenta) dias corridos, recomeçando a correr após a sua conclusão ou, caso não concluído o processo, esgotado o prazo de suspensão.

