

AVANÇASP



PREFEITURA MUNICIPAL DE
VARGINHA/MG

CONCURSO PÚBLICO
01/2025

DENTISTA - ODONTOLOGIA PARA PACIENTES COM NECESSIDADES ESPECIAIS

Leia atentamente as instruções abaixo

1. PROVA E FOLHA DE RESPOSTAS

- Além deste Caderno de Prova, contendo 50 (cinquenta) questões objetivas, você receberá do Fiscal de Sala:
- 01 (uma) Folha de Respostas destinada às respostas das questões objetivas. Confira se seus dados estão corretos.

2. TEMPO

- 03 (três) horas é o tempo disponível para realização da prova, já incluído o tempo para marcação da Folha de Respostas da prova objetiva;
- **01 (uma) hora** após o início da prova é possível, retirar-se da sala levando o caderno de prova;

3. INFORMAÇÕES GERAIS

- As questões objetivas têm 05 (cinco) alternativas de resposta (A, B, C, D, E) e somente **uma** delas está correta;
- Verifique se seu caderno está completo, sem repetição de questões ou falhas. Caso contrário, informe imediatamente o Fiscal da Sala, para que sejam tomadas as devidas providências;
- Confira seus dados pessoais na Folha de Respostas, especialmente nome, número de inscrição e documento de identidade e leia atentamente as instruções para preenchimento;
- O preenchimento das respostas da prova objetiva é de sua responsabilidade e não será permitida a troca de Folha de Respostas em caso de erro de marcação pelo candidato;

- Marque, na folha de respostas, com caneta de tinta azul ou preta, a letra correspondente à alternativa que você escolheu.

- Reserve tempo suficiente para o preenchimento de suas respostas. Para fins de avaliação, serão levadas em consideração apenas as marcações realizadas na Folha de Respostas da prova objetiva, não sendo permitido anotar informações relativas às respostas em qualquer outro meio que não seja o caderno de prova;

- Ao se retirar, entregue a Folha de Respostas preenchida e assinada ao Fiscal de Sala.

SERÁ ELIMINADO do presente certame o candidato que:

a) for surpreendido, durante as provas, em qualquer tipo de comunicação com outro candidato;

b) portar ou usar, qualquer tipo de aparelho eletrônico (calculadoras, bips/pagers, câmeras fotográficas, filmadoras, telefones celulares, smartphones, tablets, relógios, walkmans, MP3 players, fones de ouvido, agendas eletrônicas, notebooks, palmtops ou qualquer outro tipo de computador portátil, receptores ou gravadores) seja na sala de prova, sanitários, pátios ou qualquer outra dependência do local de prova;

c) se ausentar da sala em que se realizam as provas levando consigo o Caderno de Questões e/ou a Folha de Respostas;

d) se recusar a entregar a Folha de Respostas, quando terminar o tempo estabelecido;

e) não assinar a Lista de Presença e/ou a Folha de Respostas.

CADERNO DE QUESTÕES

PROVA OBJETIVA

LÍNGUA PORTUGUESA

TEXTO

Leia o texto a seguir para responder às questões de 1 a 5.

Meu coração

No fim, desculpe a literatura, é tudo entre nós e o nosso coração. Depois do dito e do feito, depois da paixão e da razão, depois da vida das células e da vida social e da vida cívica e das idas e das voltas, e da História e da biografia, e do que os outros fizeram conosco e nós fizemos com os outros, é tudo entre nós e ele. Segundos fora. Nós e ele. A única conversa que vale, a única intimidade que conta. O coração não tem nada a ver com nada, fora a sístole e a diástole e a sua fisiologia medíocre. Ele nem nos daria conversa, se não dependesse de nós, se não precisasse da embalagem, dos terminais e de alguém que cuide dele. Tudo que lhe atribuem, do mais romântico ao mais calhorda, é falso. Trata-se de um mero músculo, e de um músculo egoísta, que só quer saber da sua própria sobrevivência. Da qual, por uma cruel coincidência, depende a nossa.

Fala-se do “time do coração”. Mentira. O coração não tem time. O coração não se interessa por futebol. Só hoje, por exemplo, o meu se deu conta de onde estava. Paris, Nantes, Marselha ou qualquer outra cidade, é tudo o mesmo para ele, desde que ele tenha um lugar seguro onde possa bater e cuidar da sua vidinha. Mas de repente ele se deu conta e pediu satisfações. Para onde eu o tinha trazido? Expliquei. A França, a Copa, o Brasil, os jogos, a beleza dos jogos...

Meu coração não quis ouvir falar da beleza dos jogos. Ele não tem nenhum senso estético. Quis saber que história era aquela de morte súbita.

— É uma maneira nova de decidir as partidas que acabam empatadas. Há uma prorrogação e quem marcar o primeiro gol ganha.

Meu coração não quis acreditar.

— Quer dizer que, se esse time pelo qual você torce, como é mesmo o nome?

— Brasil.

— Quer dizer que, se o Brasil empatar com algum outro time, tem prorrogação com morte súbita?

— É...

— Você sabia disso quando me trouxe para cá?

— Sabia.

— Você deliberadamente me trouxe a um evento em que eu posso parar de repente, mesmo não tendo nada a ver com isso? Não era para ser um campeonato de futebol, um esporte, um divertimento, enfim, nada que me dissesse respeito?

— Desculpe. Eu tentei substituí-lo pelo distanciamento crítico, mas...

— Só me diz uma coisa. Se a prorrogação terminar sem que ninguém marque gol, o que acontece?

— Aí decidem nos pênaltis.

— Me leva pra casa. Me leva pra casa imediatamente. E pare de me envolver nos seus divertimentos. Você parece que não tem coração.

— Mas nada disso vai acontecer com o Brasil. Prorrogação, pênaltis, nada disso.

— Quase aconteceu contra a Dinamarca!

— É, mas...

— Me tira daqui!

VERISSIMO, L. F. *Verissimo antológico*: meio século de crônicas, ou coisa parecida. São Paulo: Objetiva, 2020.

QUESTÃO 01

O texto é marcado pela figura de linguagem:

- (A) eufemismo, ao referir-se à morte súbita com termos que amenizem sua gravidade.
- (B) prosopopeia, ao atribuir ao coração vontade própria e capacidade de falar.
- (C) ironia, ao expressar o apreço do coração pelo futebol com palavras depreciativas.
- (D) onomatopeia, ao fazer menção às batidas do coração.
- (E) sinestesia, ao mesclar sensações visuais e auditivas para descrever o coração.

QUESTÃO 02

Considere o seguinte excerto: “*Da qual, por uma cruel coincidência, depende a nossa.*” O pronome relativo empregado neste excerto retoma no texto o termo antecedente:

- (A) “tudo que lhe atribuem”.
- (B) “músculo egoísta”.
- (C) “sua própria sobrevivência”.
- (D) “embalagem”.
- (E) “fisiologia medíocre”.

QUESTÃO 03

Analise as sentenças a seguir, retiradas do texto:

- I. *Paris, Nantes, Marselha ou qualquer outra cidade, é tudo o mesmo para ele [...]*
- II. *[...] desde que ele tenha um lugar seguro onde possa bater e cuidar da sua vidinha.*
- III. *Mas de repente ele se deu conta e pediu satisfações.*

O pronome pessoal “*ele*” é empregado como oblíquo apenas em:

- (A) I.
- (B) II.
- (C) III.
- (D) I e II.
- (E) II e III.

QUESTÃO 04

O excerto a seguir cuja colocação pronominal está incorreta, de acordo com a norma-padrão da língua portuguesa, é:

- (A) — Me leva pra casa.
- (B) — Desculpe. Eu tentei substituí-lo pelo distanciamento crítico, mas...
- (C) — Você sabia disso quando me trouxe para cá?
- (D) O coração não se interessa por futebol.
- (E) Trata-se de um mero músculo, e de um músculo egoísta, que só quer saber da sua própria sobrevivência.

QUESTÃO 05

O advérbio que melhor substitui “*deliberadamente*”, em “— *Você deliberadamente me trouxe a um evento em que eu posso parar de repente, mesmo não tendo nada a ver com isso?*”, é:

- (A) especificamente.
- (B) inevitavelmente.
- (C) indiscriminadamente.
- (D) imponderadamente.
- (E) resolutamente.

QUESTÃO 06

A sentença em que se verifica um substantivo próprio como complemento verbal é:

- (A) Piracicaba é uma cidade do interior de São Paulo.
- (B) As provas corrigidas eram entregues a Pedro por correspondência.
- (C) A admiração é crucial em um relacionamento amoroso.
- (D) Os escoteiros da escola de São João fizeram uma arrecadação de alimentos.
- (E) Essas velas perfumadas são invenção daquela garota.

QUESTÃO 07

Assinale a alternativa em que o elemento em destaque é um advérbio de possibilidade ou dúvida.

- (A) Há rumores de que eles **sequer** avisaram sobre as demissões.
- (B) Não gosto desse tipo de comportamento, **tampouco** de rebeldia.
- (C) Ter optado por me afastar fora, **quicá**, a minha melhor decisão.
- (D) **Muito** provavelmente aquele exame será reaplicado.
- (E) Tudo o que fizeram foi **realmente** de coração.

QUESTÃO 08

Verifica-se verbo irregular apenas em:

- (A) Não jogue plástico nos oceanos.
- (B) A cozinheira sovou o pão por aproximadamente uma hora.
- (C) Hidrate-se especialmente nos dias de calor escaldante.
- (D) Eles provaram ao juiz sua inocência.
- (E) Vimos as fotos do seu casamento nas redes sociais.

QUESTÃO 09

Não ocorre desvio ortográfico apenas em:

- (A) Desejo a você as melhores bênçãos do mundo.
- (B) A subregião da metrópole está passando por diversos problemas sanitários.
- (C) Seu desvanescimento tem a ver com a tristeza que vêm sentindo.
- (D) Esses garotos são mal-criados com seus professores.
- (E) Todas as meia-noites são estreladas no campo.

QUESTÃO 10

Considere a seguinte sentença: *“Tinha vontade de se mudar para outro país, todavia não podia fazê-lo.”* A palavra *“todavia”*, neste contexto, exprime o mesmo sentido de:

- (A) contudo.
- (B) caso.
- (C) senão.
- (D) outrossim.
- (E) consoante.

MATEMÁTICA E RACIOCÍNIO LÓGICO

QUESTÃO 11

Em uma padaria, um cliente leva 400 gramas de pão doce e 300 gramas de pão de mel, ele paga um total de R\$ 13,80. Em outro dia, o mesmo cliente leva 200 g de pão doce e 500 g de pão de mel, pagando um total de R\$ 14,60. Nesta situação, qual o preço por kg do pão de mel?

- (A) R\$ 18,50.
- (B) R\$ 21,50.
- (C) R\$ 15,50.
- (D) R\$ 22,00.
- (E) R\$ 17,00.

QUESTÃO 12

Observe as seguintes afirmativas:

I – Um losango possui os quatro lados congruentes, mas os ângulos internos não são todos congruentes entre si.

II – Um triângulo retângulo tem necessariamente os sete lados congruentes.

III – Um heptágono regular tem apenas 6 lados iguais, e todos os seus ângulos internos são congruentes.

Estão corretas:

- (A) Apenas I.
- (B) Apenas II.
- (C) Apenas III.
- (D) I e II.
- (E) I e III.

QUESTÃO 13

Numa escola, sabe-se que 45% dos funcionários falam inglês, 65% falam espanhol e 25% falam ambas as línguas. Se há 500 funcionários no total, quantos não falam nem inglês nem espanhol?

- (A) 125.
- (B) 55.
- (C) 15.
- (D) 75.
- (E) 155.

QUESTÃO 14

Uma determinada empresa multinacional de tecnologia teve um lucro líquido de 1 bilhão de reais no primeiro semestre do ano. Esta empresa pagará a cada um dos seus diretores uma fração desse lucro correspondente a 0,01%. Quanto cada diretor irá receber?

- (A) R\$ 10.000,00.
- (B) R\$ 100.000,00.
- (C) R\$ 1.000.000,00.
- (D) R\$ 10.000.000,00.
- (E) R\$ 100.000.000,00.

QUESTÃO 15

Observe a seguinte sequência lógica numérica:

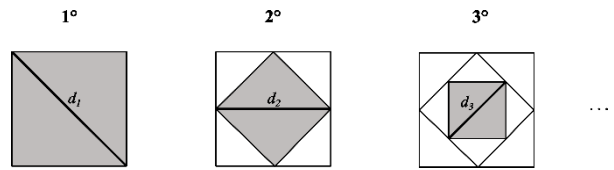
1, 1, 2, 3, 5, 8, 13, ...

Qual será o 10º elemento desta sequência?

- (A) 98.
- (B) 89.
- (C) 21.
- (D) 55.
- (E) 34.

QUESTÃO 16

Observe a seguinte sequência lógica figural:



O quadrado do primeiro elemento tem lado 1 cm e tem sua diagonal medida pela variável d_1 , conforme a figura. Os próximos elementos são sequências de quadrados que são sucessivamente inscritos a partir do quadrado inicial. A diagonal correspondente ao n -ésimo elemento é a diagonal do quadrado mais interno inscrito. Nesta situação, qual a medida da diagonal correspondente ao 4º elemento, em centímetros?

- (A) $\frac{1}{2\sqrt{2}}$.
- (B) $\frac{1}{\sqrt{2}}$.
- (C) $\frac{1}{2}$.
- (D) $\frac{\sqrt{2}}{4}$.
- (E) $\frac{2\sqrt{2}}{3}$.

QUESTÃO 17

Maria possui uma horta onde colhe 60 kg de tomates por dia, que são utilizados na fabricação de molho de tomate. Com cada 4 kg de tomate, ela fabrica 1 litro de molho. O molho fabricado é então dividido em potes de 250 ml, que são empacotados em caixas de 10 potes. Cada caixa é vendida por R\$ 50,00. Quanto Maria arrecada por dia com a venda do molho?

- (A) R\$ 900,00.
- (B) R\$ 300,00.
- (C) R\$ 1500,00.
- (D) R\$ 450,00.
- (E) R\$ 600,00.

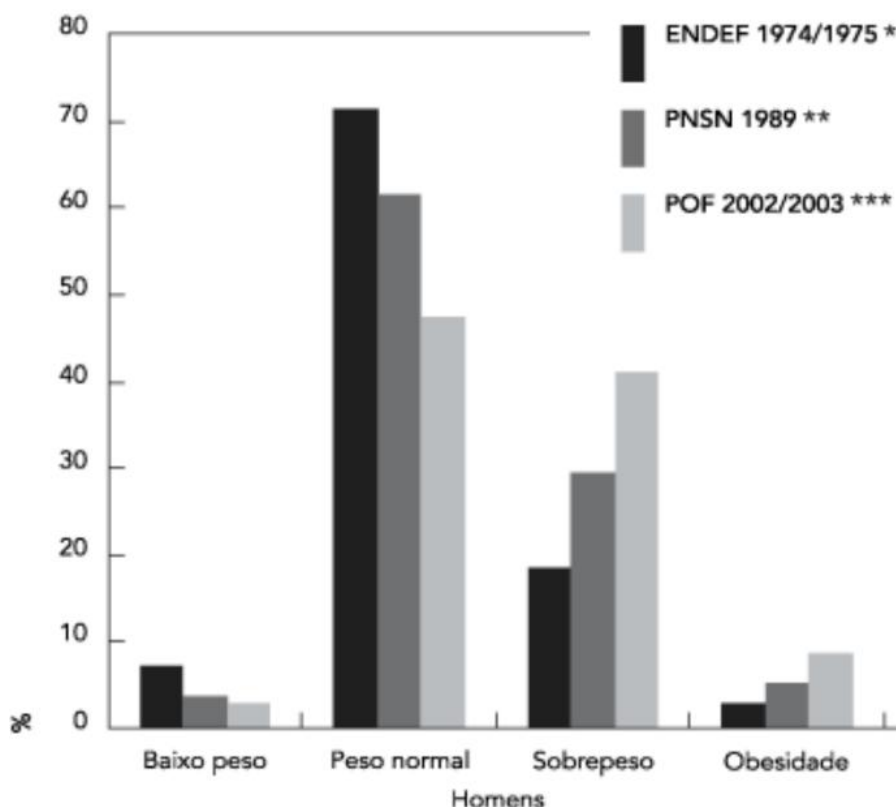
QUESTÃO 18

Seis pintores conseguem pintar 360 m² de parede em 5 dias. Em quantos dias 12 pintores conseguirão pintar 720 m² de parede supondo a mesma produtividade?

- (A) 5.
- (B) 10.
- (C) 12.
- (D) 6.
- (E) 24.

QUESTÃO 19

Observe o gráfico a seguir que mostra a evolução do estado nutricional, segundo o IMC, entre 1974/1975 e 2002/2003 de homens adultos. O eixo das ordenadas mostra a porcentagem desta população em cada condição:



Adaptado de: Batista Filho M, *et al.*. Anemia e obesidade: um paradoxo da transição nutricional brasileira. Cadernos de Saúde Pública 2008; 24(14).

Analisando o gráfico, é INCORRETO afirmar que:

- (A) Em 1974/1975, mais de 70% da população de homens adultos tinha o peso considerado normal.
- (B) Em 2002/2003, menos de 50% da população de homens adultos tinha o peso considerado normal.
- (C) A porcentagem de homens adultos com obesidade aumentou entre 1974/1975 e 2003.
- (D) A porcentagem de homens adultos com baixo peso diminuiu de 1974/1975 para 2002/2003.
- (E) Em 1989, a porcentagem de homens com peso normal era inferior à porcentagem de homens com sobrepeso.

QUESTÃO 20

Considere a seguinte argumentação:

1. Se João vai ao cinema, então ele compra pipoca.
2. Se João compra pipoca, então ele fica satisfeito.
3. João não comprou pipoca.

Com base nessas premissas, qual das conclusões abaixo pode ser logicamente inferida?

- (A) João foi ao cinema, mas não ficou satisfeito.
- (B) João não foi ao cinema.
- (C) João ficou satisfeito, mas não comprou pipoca.
- (D) João não foi ao cinema e ficou satisfeito.
- (E) Se João não compra pipoca, então ele não fica satisfeito.

**NOÇÕES DE INFORMÁTICA
QUESTÃO 21**

A área de trabalho é a principal área exibida na tela quando você liga o computador e faz logon no Windows. Nela, é possível criar novos itens, como:

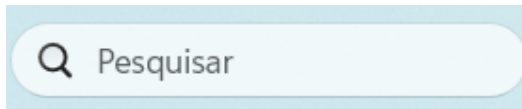
- (A) Spam.
- (B) Hardware
- (C) Periféricos de saída.
- (D) Periféricos de entrada.
- (E) Pastas.

QUESTÃO 22

Dentre as opções a seguir, qual representa um navegador amplamente utilizado para acessar e interagir com conteúdo da internet?

- (A) Oracle.
- (B) Postgres.
- (C) Java.
- (D) Google Chrome.
- (E) Winzip.

QUESTÃO 23



O Windows dispõe de ferramentas que auxiliam na interação do usuário com os recursos do sistema. O facilitador em destaque na imagem acima, que pode ser encontrado na parte inferior da área de trabalho, na barra de tarefas, tem como principal função:

- (A) Limpar a caixa de e-mail.
- (B) Bloquear o acesso a pastas e arquivos.
- (C) Limpar o cache de navegação do browser.
- (D) Pesquisar e localizar documentos, pastas, aplicativos, entre outros elementos, no computador.
- (E) Trocar a senha de acesso do sistema.

QUESTÃO 24

Utilizando o Microsoft Word para edição e formatação de textos, o atalho de teclado Ctrl+Alt+Z tem a função de:

- (A) Inserir um elemento gráfico WordArt.
- (B) Selecionar um bloco de texto vertical.
- (C) Navegar pela página de visualização quando ela está com menos zoom.
- (D) Acessar o modo de visualização de impressão.
- (E) Percorrer os locais das últimas alterações realizadas no documento.

QUESTÃO 25

Uma fórmula no Microsoft Excel é uma sequência de valores constantes, referências de células (o endereço da célula), nomes, funções ou operadores que produzem um novo valor a partir dos valores existentes. As fórmulas sempre começam com um sinal de:

- (A) Mais (+).
- (B) Igual (=).
- (C) Menos (-).
- (D) Porcentagem (%).
- (E) Divisão (÷).

CONHECIMENTOS ESPECÍFICOS

QUESTÃO 26

A anatomia bucal é composta por diversas estruturas, cada uma com funções específicas no processo de ingestão e digestão dos alimentos. Sobre essas estruturas, considere as seguintes afirmações:

I. O palato mole consiste em cinco músculos, que atuam de maneira a possibilitar a passagem de ar e do bolo alimentar para a faringe, alternadamente, impedindo refluxos indesejáveis.

II. A língua é completamente dividida por um septo mediano de tecido conjuntivo, de maneira que todos os músculos da língua são pares. Descrevem-se na língua apenas músculos intrínsecos, não havendo evidências de músculos extrínsecos.

III. Na face, lateralmente ao músculo bucinador e mais posteriormente entre este e o masseter, encontra-se localizado um espaço fascial denominado espaço bucal. A parte do corpo adiposo mastigador que preenche esse espaço é denominada corpo adiposo da bochecha (bola de Bichat).

- (A) Apenas a afirmativa II está correta.
- (B) Apenas as afirmativas II e III estão corretas.
- (C) Apenas as afirmativas I e III estão corretas.
- (D) Apenas a afirmativa III está correta.
- (E) Todas as afirmativas estão corretas.

QUESTÃO 27

Conforme estabelecido no Decreto Federal nº 7.508/2011, o espaço geográfico contínuo constituído por agrupamentos de Municípios limítrofes, delimitado a partir de identidades culturais, econômicas e sociais e de redes de comunicação e infraestrutura de transportes compartilhados, com a finalidade de integrar a organização, o planejamento e a execução de ações e serviços de saúde, é conhecido como:

- (A) Unidade Regional de Saúde.
- (B) Zona de Atenção Integral à Saúde.
- (C) Região Abrangente de Saúde.
- (D) Área Metropolitana de Saúde.
- (E) Região de Saúde.

QUESTÃO 28

Qual é o procedimento correto para o reimplante de um dente avulsionado que foi mantido fora do alvéolo por menos de 60 minutos?

- (A) Se o dente for estocado corretamente até a chegada ao dentista, reimplantar o dente imediatamente e de forma rápida, aplicar contenção semirrígida por 8 a 10 dias, sem necessidade de limpar o dente.
- (B) Ainda que o dente não tenha sido estocado corretamente até a chegada ao dentista, lavar apenas com água filtrada, realizar a curetagem e reimplantar com forte pressão digital.
- (C) Se o dente for estocado corretamente até a chegada ao dentista, este deverá anestésiar, lavar o alvéolo com solução salina, curetá-lo para remoção do coágulo, facilitando o reposicionamento, que deve ser realizado de forma lenta e com leve pressão digital, além de examiná-lo.
- (D) Lavar o alvéolo com solução salina, curetá-lo para remoção do coágulo, em seguida anestésiar e reimplantar o dente de forma brusca para melhor aderência.
- (E) Reimplantar o dente primeiro, depois fazer a curetagem, administrar antibióticos e lavar a área com solução salina para remoção do coágulo.

QUESTÃO 29

De acordo com a Constituição Federal, a Ordem Social é fundamentada em princípios específicos e visa atingir certos objetivos. Qual é a base e o objetivo da Ordem Social conforme estabelecido pela Constituição?

- (A) Tem como base o primado do trabalho, e como objetivo o bem-estar e a justiça sociais.
- (B) Tem como base a garantia de direitos humanos fundamentais, e como objetivo a equidade econômica.
- (C) Tem como base a justiça econômica e como objetivo a redução das desigualdades regionais e sociais.
- (D) Tem como base a liberdade individual e como objetivo a promoção do desenvolvimento sustentável e a integridade social.
- (E) Tem como base a liberdade individual e como objetivo a promoção do desenvolvimento sustentável.

QUESTÃO 30

Os anestésicos locais são capazes de reduzir a sensibilidade dos nociceptores, além de interromper a condução nociceptiva e, por esse motivo, aliviar a sensação dolorosa. Em relação às técnicas anestésicas em odontologia e às propriedades dos anestésicos locais, julgue em verdadeiro (V) ou falso (F) as afirmações sobre os mecanismos de ação dos anestésicos locais:

- () A condução do impulso pelo axônio do neurônio ocorre na forma de um potencial de ação.
- () A despolarização (que inicia o potencial de ação) deve-se ao rápido influxo de íons sódio para dentro da célula neuronal.
- () Os anestésicos locais não são capazes de inibir esse rápido influxo de Na⁺.
- () O início e a propagação do potencial de ação são bloqueados e, conseqüentemente, a sensação dolorosa não é transmitida do neurônio sensorial para o sistema nervoso central.

- (A) F – V – F – V
- (B) V – V – F – F
- (C) V – V – F – V
- (D) V – F – F – F
- (E) F – F – F – F

QUESTÃO 31

A aparência de uma estrutura em uma radiografia, seja radiolúcida ou radiopaca, é influenciada por vários fatores. Assinale a alternativa que descreve corretamente como esses fatores afetam a visualização das estruturas radiográficas.

- (A) Estruturas com maior número atômico e maior densidade aparecem mais radiolúcidas.
- (B) Estruturas com menor número atômico e menor densidade aparecem mais radiopacas.
- (C) Estruturas com maior número atômico, maior densidade e maior espessura aparecem mais radiopacas, enquanto estruturas com menor número atômico, menor densidade e menor espessura aparecem mais radiolúcidas.
- (D) Estruturas com menor número atômico e maior espessura aparecem mais radiopacas, enquanto estruturas com maior número atômico e menor espessura aparecem mais radiolúcidas.
- (E) A aparência radiográfica não é afetada pelo número atômico ou pela densidade do objeto, apenas pela espessura da estrutura.

QUESTÃO 32

Sobre a aplicação tópica de flúor, assinale a alternativa INCORRETA:

- (A) O conhecimento do metabolismo, mecanismo de ação e toxicidade do fluoreto é fundamental para se obter o equilíbrio entre os benefícios e os riscos decorrentes do seu uso.
- (B) Produtos fluoretados incluem-se na classe das substâncias sujeitas a controle especial e, por isso, só podem ser adquiridos com receita do cirurgião-dentista, a qual deve ser retida pela farmácia.
- (C) Quanto ao efeito anticárie, qualquer fluoreto mantido constante na cavidade bucal tem potencial de interferir com a cárie dentária.
- (D) Com relação aos riscos, qualquer fluoreto ingerido por via oral e absorvido no trato gastrointestinal tem potencial de manifestar algum efeito sistêmico no organismo.
- (E) A farmacocinética do fluoreto ingerido por via oral é dividida nas etapas de absorção, distribuição, incorporação e excreção, as quais racionalmente se sucedem.

QUESTÃO 33

Sobre os objetivos do Sistema Único de Saúde (SUS) estabelecidos no artigo 5º da Lei Federal nº 8.080/1990, assinale a alternativa que NÃO corresponde a um dos objetivos listados:

- (A) A assistência às pessoas por intermédio de ações de promoção, proteção e recuperação da saúde, com a realização integrada das ações assistenciais e das atividades preventivas.
- (B) A formulação de política de saúde destinada a promover, nos campos econômico e social, redução de riscos de doenças e de outros agravos.
- (C) A identificação e divulgação dos fatores determinantes da saúde.
- (D) A garantia de acesso universal aos serviços de saúde para todos os cidadãos.
- (E) A identificação e divulgação dos fatores condicionantes da saúde.

QUESTÃO 34

Leia com atenção o enunciado abaixo:

Conforme Lei Federal nº 8.142/1990, o Conselho de Saúde, em caráter _____ e deliberativo, órgão colegiado composto por representantes do governo, prestadores de serviço, profissionais de saúde e usuários, atua na formulação de estratégias e no controle da execução da _____ na instância correspondente, inclusive nos aspectos econômicos e financeiros, cujas decisões serão homologadas pelo _____ do poder legalmente constituído em cada esfera do _____.

Assinale a alternativa que **NÃO** completa corretamente a nenhuma das lacunas:

- (A) Permanente.
- (B) Governo.
- (C) Administração Pública.
- (D) Chefe.
- (E) Política de saúde.

QUESTÃO 35

No que tange à Saúde, analise as proposições abaixo e assinale a alternativa que apresenta a sequência correta considerando V (Verdadeiro) e F (Falso):

- () É vedada a destinação de recursos públicos para auxílios ou subvenções às instituições privadas com fins lucrativos.
 - () As instituições privadas poderão participar de forma primária e preferencial do sistema único de saúde.
 - () É vedada a participação direta ou indireta de empresas ou capitais estrangeiros na assistência à saúde no País, salvo nos casos previstos em lei.
- (A) V, F, V.
 - (B) F, F, V.
 - (C) V, V, F.
 - (D) F, V, F.
 - (E) Nenhuma das alternativas.

QUESTÃO 36

A paralisia cerebral pode comprometer diversas funções motoras, afetando a realização de atividades cotidianas e prejudicando a saúde geral, inclusive a bucal.

Assinale a alternativa que apresenta corretamente uma consequência bucal observada em pacientes com paralisia cerebral:

- (A) Aumento da regeneração óssea e resistência ao acúmulo de placa bacteriana.
- (B) Redução significativa da incidência de doenças periodontais devido à salivagem abundante.
- (C) Baixo risco de lesões de cárie devido à dieta líquida exclusiva.
- (D) Incidência mínima de cárie por causa do uso contínuo de enxaguantes bucais automáticos.
- (E) Alto índice de cárie devido à dificuldade de coordenação motora para realizar a higiene bucal.

QUESTÃO 37

Os efeitos colaterais dos antidepressivos tricíclicos têm importantes implicações no diagnóstico e no tratamento odontológico. Podem causar xerostomia, que interfere diretamente na saúde bucal.

Assinale a alternativa que corresponde corretamente à condição de **xerostomia**:

- (A) Aumento da produção de saliva, resultando em sialorreia e desconforto ao falar.
- (B) Formação de placas brancas na língua e dor de garganta sem alterações salivares.
- (C) Hipersensibilidade dentinária causada por refluxo ácido gástrico, sem alteração salivar.
- (D) Hipotonia lingual com excesso de secreção mucosa proveniente das glândulas salivares.
- (E) Redução do fluxo salivar, aumentando o risco de cáries dentárias, periodontite, candidíase oral e anormalidades orofuncionais.

QUESTÃO 38

Em relação aos efeitos da quimioterapia e à importância da saúde bucal durante o tratamento, analise os itens abaixo:

- I. A presença de cáries ativas e gengivite representa fator de proteção contra infecções durante o tratamento quimioterápico.
- II. A quimioterapia fortalece a imunidade bucal, reduzindo a necessidade de cuidados odontológicos durante o tratamento.
- III. A deficiência na higiene bucal e a presença de focos infecciosos aumentam o risco de infecções bucais em pacientes em quimioterapia.

Assinale a alternativa correta:

- (A) Apenas o item I está correto.
- (B) Apenas o item III está correto.
- (C) Apenas os itens II e III estão corretos.
- (D) Todos os itens estão corretos.
- (E) Apenas os itens I e II estão corretos.

QUESTÃO 39

A anestesia geral, embora não seja a primeira escolha para o tratamento odontológico, pode ser necessária em situações específicas. Toda vez que se pensar na utilização da anestesia geral, o binômio risco/benefício deve ser avaliado. Nos casos em que todos os recursos foram esgotados e não se conseguiu instituir o tratamento odontológico convencional, a anestesia geral é necessária. Assinale a alternativa que representa corretamente uma das indicações para a utilização da anestesia geral em pacientes com paralisia cerebral:

- (A) Aplicação de flúor em escolares durante campanhas de prevenção.
- (B) Realização de cirurgia extensa em paciente incontrolável, após esgotadas outras possibilidades de abordagem convencional.
- (C) Clareamento dental caseiro supervisionado por cirurgião-dentista.
- (D) Tratamento de rotina em consultório com paciente consciente e tranquilo.
- (E) Raspagem de tártaro em pacientes colaborativos em ambiente ambulatorial.

QUESTÃO 40

Os pacientes com síndrome de Down apresentam características sistêmicas e orais específicas que devem ser consideradas durante o atendimento odontológico. Sobre os cuidados necessários no tratamento desses pacientes, assinale a alternativa correta:

- (A) O tempo na cadeira odontológica deve ser o menor possível, evitando, assim, desgaste desnecessário do paciente e entre o paciente e o profissional.
- (B) A anamnese pode ser simplificada, visto que alterações sistêmicas são raras nesses pacientes.
- (C) O uso de dique de borracha deve ser evitado, pois pode causar agitação e insegurança.
- (D) A estabilização da cabeça e do corpo deve ser feita apenas em casos extremos, com sedação prévia.
- (E) O tempo de permanência na cadeira deve ser prolongado para permitir maior adaptação ao ambiente clínico.

QUESTÃO 41

O atendimento odontológico ao paciente com necessidades especiais requer estratégias adaptadas para favorecer sua compreensão e colaboração. Considerando esse contexto, assinale a alternativa correta:

- (A) O atendimento deve ser imediato e direto, sem etapas intermediárias, para evitar ansiedade no paciente.
- (B) A apresentação do ambiente clínico deve ocorrer apenas após a realização do primeiro procedimento invasivo.
- (C) Pacientes com déficit cognitivo não precisam de estratégias específicas, pois não compreendem o ambiente.
- (D) A adaptação ao consultório deve ocorrer de forma gradativa, com apresentação física do ambiente e uso de recursos lúdicos para favorecer a conscientização.
- (E) A comunicação deve ser exclusivamente verbal, sem o uso de instrumentos visuais ou interação lúdica, para manter o foco no procedimento.

QUESTÃO 42

Em relação à abordagem ART (Tratamento Restaurador Atraumático), analise as afirmativas e indique “V” para verdadeiro e “F” para falso.

() Inclui orientações para prevenção da cárie, controle do biofilme e importância da parceria entre paciente e profissional.

() Envolve o selamento de cicatrículas e fissuras consideradas de risco ou que apresentem lesões iniciais de cárie.

() Realiza restaurações-selantes em casos de lesões cavitadas e/ou que possam ser abertas com instrumentos manuais, com selamento das fissuras adjacentes.

Assinale a alternativa correta:

- (A) F – V – F
- (B) V – V – V
- (C) F – F – F
- (D) F – V – V
- (E) V – F – F

QUESTÃO 43

Em alguns atendimentos odontológicos, o profissional se depara com pacientes com deficiência física, especialmente usuários de cadeira de rodas. A transferência para a cadeira odontológica pode ser inviável quando não há ajuda disponível para realizar esse procedimento com segurança.

Diante dessa situação, assinale a alternativa que apresenta uma conduta adequada:

- (A) O atendimento deve ser cancelado até que o paciente consiga realizar a transferência de forma autônoma.
- (B) O atendimento só pode ocorrer com internação hospitalar e uso de anestesia geral, independentemente do caso.
- (C) O atendimento só poderá ser realizado se o paciente comparecer com, no mínimo, três familiares adultos para auxiliar na transferência.
- (D) O paciente deve ser obrigado a realizar a transferência para a cadeira odontológica, mesmo que haja risco de queda ou lesões.
- (E) O atendimento pode ser realizado na própria cadeira de rodas, quando a transferência não for possível.

QUESTÃO 44

Pacientes com Transtorno do Espectro Autista (TEA) frequentemente fazem uso de medicamentos como antipsicóticos, antidepressivos, anticonvulsivantes e psicoestimulantes. Esses fármacos podem provocar efeitos colaterais relevantes na cavidade bucal.

Assinale a alternativa que corresponde corretamente a uma possível alteração bucal associada ao uso desses medicamentos:

- (A) Formação de esmalte supercalcificado com resistência absoluta à cárie.
- (B) Hipersecreção salivar com aumento da umidificação da mucosa bucal.
- (C) Redução do fluxo salivar, sangramento gengival, ulcerações e hiperplasia gengival.
- (D) Hiperpigmentação gengival que dificulta o diagnóstico periodontal.
- (E) Melhora na resposta gengival à placa bacteriana, com menor sangramento.

QUESTÃO 45

Em relação às características odontológicas da síndrome de Down, analise os itens abaixo:

I. Os dentes mais comumente ausentes na dentição permanente em portadores da síndrome de Down são os caninos superiores e primeiros molares inferiores.

II. A incidência de agenesia dental em indivíduos com síndrome de Down é sempre baixa.

III. O atraso na erupção dentária, na dentição decídua e na dentição permanente é um problema em relação à dentição dos portadores da síndrome de Down.

Assinale a alternativa correta:

- (A) Apenas o item II está correto.
- (B) Apenas os itens I e II estão corretos.
- (C) Apenas os itens II e III estão corretos.
- (D) Apenas o item III está correto.
- (E) Todos os itens estão incorretos.

QUESTÃO 46

Em relação aos aspectos odontológicos em pacientes com depressão, analise os itens abaixo:

I. A má alimentação e a higiene bucal inadequada durante períodos de crise depressiva favorecem o surgimento de cáries e doenças periodontais.

II. O paciente deprimido tende a intensificar os cuidados com a saúde bucal como forma de aliviar os sintomas emocionais.

III. O cirurgião-dentista deve aguardar que o paciente se recupere completamente do quadro depressivo antes de iniciar qualquer orientação sobre tratamento odontológico.

Assinale a alternativa correta:

- (A) Apenas o item I está correto.
- (B) Apenas os itens I e II estão corretos.
- (C) Apenas os itens II e III estão corretos.
- (D) Todos os itens estão corretos.
- (E) Nenhum dos itens está correto.

QUESTÃO 47

Na odontologia, a definição de paciente com necessidades especiais envolve a identificação de condições que exigem adaptações no atendimento clínico. Essas necessidades podem ter diferentes naturezas e influenciar a forma como os procedimentos são conduzidos pelo cirurgião-dentista.

Assinale a alternativa que corresponde corretamente a uma situação que caracteriza um paciente com necessidades especiais:

- (A) Pessoa com limitação física, mental, sensorial, emocional ou médica, que exige adaptações no atendimento odontológico.
- (B) Apenas pacientes com transtorno de ansiedade generalizada, que apresentam crises emocionais durante a consulta odontológica.
- (C) Indivíduo com dentição completa e higiene impecável, sem doenças ou limitações.
- (D) Paciente idoso sem comorbidades, em acompanhamento odontológico preventivo.
- (E) Pessoa sem qualquer limitação física ou mental, mas com medo moderado de ir ao dentista.

QUESTÃO 48

O cuidado à saúde bucal da pessoa com deficiência pode ser favorecido pelo uso de técnicas de manejo comportamental durante o atendimento odontológico. Tais técnicas visam promover um ambiente acolhedor, reduzir a ansiedade e melhorar a colaboração do paciente.


Assinale a alternativa que apresenta corretamente uma dessas estratégias de manejo:

- (A) Reforçar os limites do paciente com comandos duros e linguagem autoritária.
- (B) Utilizar comunicação clara, reforço positivo, distração, controle de voz e a técnica do “dizer-mostrar-fazer”.
- (C) Evitar qualquer forma de comunicação visual, reduzindo estímulos externos.
- (D) Ignorar sinais não verbais do paciente, concentrando-se apenas na execução clínica do procedimento.
- (E) Utilizar termos técnicos constantemente, sem pausas ou explicações para evitar distrações.

QUESTÃO 49

No atendimento odontológico a pacientes que apresentam estresse, o cirurgião-dentista deve adotar cuidados específicos devido às reações psíquicas e orgânicas que o estresse pode provocar. Assinale a alternativa que apresenta uma conduta adequada no atendimento odontológico de pacientes com estresse:

- (A) Delegar o atendimento a outro profissional sempre que o paciente apresentar sinais de estresse.
- (B) Aplicar anestesia local sem aviso prévio para reduzir a ansiedade antecipatória.
- (C) Tratar o estresse como um exagero emocional do paciente e minimizar suas queixas.
- (D) Fazer uma abordagem suave, buscando tranquilizar o paciente com relação ao tratamento e ao prognóstico.
- (E) Agendar o paciente apenas em horários de maior fluxo, para distraí-lo com o movimento do ambiente.

QUESTÃO 50

Fonte: (UFPE, 2013)

A imagem mostra duas crianças com restrição controlada de movimentos, utilizando faixas acolchoadas, em posição segura para a realização de procedimentos. Essa técnica resume-se em restringir a liberdade dos movimentos dos pacientes durante o procedimento odontológico. Assinale a alternativa que indica corretamente o nome dessa técnica.

- (A) Técnica de dessensibilização gradual.
- (B) Contenção farmacológica.
- (C) Estabilização protetora.
- (D) Imobilização química.
- (E) Sedação consciente.

