

AVANÇASP



PREFEITURA MUNICIPAL DE
VARGINHA/MG

CONCURSO PÚBLICO
01/2025

MÉDICO – PSIQUIATRA

Leia atentamente as instruções abaixo

1. PROVA E FOLHA DE RESPOSTAS

- Além deste Caderno de Prova, contendo 50 (cinquenta) questões objetivas, você receberá do Fiscal de Sala:
- 01 (uma) Folha de Respostas destinada às respostas das questões objetivas. Confira se seus dados estão corretos.

2. TEMPO

- 03 (três) horas é o tempo disponível para realização da prova, já incluído o tempo para marcação da Folha de Respostas da prova objetiva;
- **01 (uma) hora** após o início da prova é possível, retirar-se da sala levando o caderno de prova;

3. INFORMAÇÕES GERAIS

- As questões objetivas têm 05 (cinco) alternativas de resposta (A, B, C, D, E) e somente **uma** delas está correta;
- Verifique se seu caderno está completo, sem repetição de questões ou falhas. Caso contrário, informe imediatamente o Fiscal da Sala, para que sejam tomadas as devidas providências;
- Confira seus dados pessoais na Folha de Respostas, especialmente nome, número de inscrição e documento de identidade e leia atentamente as instruções para preenchimento;
- O preenchimento das respostas da prova objetiva é de sua responsabilidade e não será permitida a troca de Folha de Respostas em caso de erro de marcação pelo candidato;

- Marque, na folha de respostas, com caneta de tinta azul ou preta, a letra correspondente à alternativa que você escolheu.

- Reserve tempo suficiente para o preenchimento de suas respostas. Para fins de avaliação, serão levadas em consideração apenas as marcações realizadas na Folha de Respostas da prova objetiva, não sendo permitido anotar informações relativas às respostas em qualquer outro meio que não seja o caderno de prova;

- Ao se retirar, entregue a Folha de Respostas preenchida e assinada ao Fiscal de Sala.

SERÁ ELIMINADO do presente certame o candidato que:

a) for surpreendido, durante as provas, em qualquer tipo de comunicação com outro candidato;

b) portar ou usar, qualquer tipo de aparelho eletrônico (calculadoras, bips/pagers, câmeras fotográficas, filmadoras, telefones celulares, smartphones, tablets, relógios, walkmans, MP3 players, fones de ouvido, agendas eletrônicas, notebooks, palmtops ou qualquer outro tipo de computador portátil, receptores ou gravadores) seja na sala de prova, sanitários, pátios ou qualquer outra dependência do local de prova;

c) se ausentar da sala em que se realizam as provas levando consigo o Caderno de Questões e/ou a Folha de Respostas;

d) se recusar a entregar a Folha de Respostas, quando terminar o tempo estabelecido;

e) não assinar a Lista de Presença e/ou a Folha de Respostas.

LÍNGUA PORTUGUESA**TEXTO**

Leia o texto a seguir para responder às questões de 1 a 5.

A casa cai

Morou mais de 20 anos nesta casa? Então vai sentir “uma coisa” quando ela for demolida.

Começou a demolição. Passando pela rua, ele viu a casa já sem telhado, e operários, na poeira, removendo caibros. Aquele telhado que lhe dera tanto trabalho, por causa das goteiras, tapadas aqui, reaparecendo ali. Seu quarto de dormir estava exposto ao céu, no calor da manhã. Ao fundo, no terraço, tinham desaparecido as colunas da pérgula, e a cobertura de ramos de buganvília - dois troncos subindo do pátio lá embaixo e enchendo de florinhas vermelhas o chão, de ladrilho, onde os gatos da vizinhança amavam fazer sesta e surpreender tico-ticos.

Passou nos dias seguintes e viu o progressivo desfazer-se das paredes, que escancarava a casa de frente e de flancos jogando-a por assim dizer na rua. Os marcos das portas apareciam emoldurando o vazio. O azul e as nuvens circulavam pelos cômodos, numa composição surrealista. E o pequeno balcão da fachada, cercado de ar, parecia um mirante espacial, baixado ao nível dos míopes.

A demolição prosseguiu à noite, espontaneamente. Um lança de parede desabou sozinho, para fora do tapume, quando já cessara na rua o movimento dos lotações. Caiu discreto sem ferir ninguém, apenas avariando — desculpem — a rede telefônica.

A casa encolhera-se, em processo involutivo. Já agora de um só pavimento, sem teto, aspirava mesmo à desintegração. Chegou a vez da pequena sala de estar, da sala de jantar com seu lambri envernizado a preto, que ele passara meses raspando a poder de gilete, para recuperar a cor da madeira. E a vez do escritório, parte pensante e sentinte de seu mecanismo individual, de seu eu mais íntimo e simultaneamente mais público, eu de gavetas sigilosas manuseadas por um profissional da escrita. De todo tempo que vivera na casa, fora ali que passara o maior número de horas, sentado, meio corcunda, desligado de acontecimentos,

ouvindo, sem escutar, rumores que chegavam de outro mundo - cantoria de bêbados, motor de avião, chorinho de bebê, galo na madrugada.

E não sentiu dor vendo esfarinharem-se esses compartimentos de sua história pessoal. Nem sequer a melancolia do desvanecimento das coisas físicas. Elas tinham durado e cumprido a tarefa. Chega o instante em que compreendemos a demolição como um resgate de formas cansadas, uma sentença de liberdade. Talvez sejamos levados a essa compreensão pelo trabalho similar, mais surdo, que se vai operando em nós. E não é preciso imaginar a alegria de formas novas, mais claras, a surgirem constantemente de formas caducas, para aceitar de coração sereno o fim das coisas que se ligaram à nossa vida.

Fitou tranquilo o que tinha sido sua casa e era um amontoado de calça e tijolo, a ser removido. Em breve restaria um lote, à espera de outra casa maior, sem sinal dele e dos de outra casa maior, sem sinal dele e dos seus, mas destinada a concentrar outras vivências. Uma ordem, um estatuto pairava sobre os destroços, e tudo era como devia ser, sem ilusão de permanência.

ANDRADE, C. D. *Correio da Manhã*. Disponível em <<https://cronicabrasileira.org.br/cronicas/17514/a-casa-cai>>.

QUESTÃO 01

Ao mencionar que se compreende a demolição da casa como “[...] *uma sentença de liberdade*”, o narrador do texto:

- (A) Reflete acerca da superação de um sofrimento particular causado pela própria casa.
- (B) Faz uma comparação da demolição da casa com o encerramento de ciclos da vida.
- (C) Considera, na verdade, que possuir bens materiais é uma sentença de opressão.
- (D) Reflete sobre os transtornos causados pelo processo de demolição de um imóvel.
- (E) Identifica que a liberdade só existe quando o ser humano não detém bens materiais.

QUESTÃO 02

O adjetivo que mais se aproxima em significado do termo “*involutivo*”, empregado no trecho “*A casa encolhera-se, em processo involutivo*”, é:

- (A) regressivo.
- (B) evolutivo.
- (C) progressivo.
- (D) invasivo.
- (E) decisivo.

QUESTÃO 03

No excerto “*Fitou tranquilo o que tinha sido sua casa e era um amontoado de calça e tijolo [...]*”, o vocábulo “*o*” desempenha o papel gramatical de:

- (A) artigo definido.
- (B) artigo indefinido.
- (C) pronome oblíquo átono.
- (D) pronome oblíquo tônico.
- (E) pronome demonstrativo.

QUESTÃO 04

A forma correta de superlativo absoluto sintético do adjetivo “*sereno*”, que ocorre no excerto “[...] *para aceitar de coração sereno o fim das coisas [...]*”, é:

- (A) sereníssimo.
- (B) serenérrimo.
- (C) serenicíssimo.
- (D) sereniquíssimo.
- (E) muito sereno.

QUESTÃO 05

A contração que ocorre no excerto “*Passando pela rua, ele viu a casa já sem telhado [...]*”, é formada por palavras das classes gramaticais:

- (A) preposição e conjunção.
- (B) preposição e pronome.
- (C) conjunção e artigo.
- (D) conjunção e pronome.
- (E) preposição e artigo.

QUESTÃO 06

O emprego do acento indicativo de crase está **correto** em:

- (A) Disse àqueles rapazes que não tinha a intenção de magoá-la.
- (B) O problema é que você leva tudo à sério.
- (C) O evento deve ocorrer daqui à duas semanas.
- (D) Fez uma promessa à santa Rita, porque estava desesperada.
- (E) Ofereço a minha solidariedade à todas as pessoas que se sentiram ofendidas.

QUESTÃO 07

Assinale a alternativa em que há incorreção quanto à conjugação da forma verbal em destaque.

- (A) Os familiares do enfermo **requereram** ao médico um atendimento mais humanizado.
- (B) Se eles se **precavissem**, isto não teria acontecido.
- (C) Não **interfirm** nessas coisas!
- (D) Esses soldados **contiveram** as tropas inimigas durante a batalha.
- (E) Interessante como nós **convimos** em todas essas observações.

QUESTÃO 08

Dentre as palavras a seguir, aquela cuja forma pluralizada está incorreta, considerando-se a presença do hífen, é:

- (A) mal-entendidos.
- (B) aquém-mares.
- (C) pés-de-meia.
- (D) bens-te-vi.
- (E) águas-de-colônia.

QUESTÃO 09

A sentença que carece de vírgulas é:

- (A) O rapaz que se acidentou foi ao hospital durante a madrugada.
- (B) O som estava tão alto que ninguém conseguia dormir.
- (C) Ele não gosta do fato de o bairro ser deserto. Já a garota do fato de não ter tantas árvores.
- (D) O dia ainda não tinha raiado e já causava ansiedade.
- (E) Veja se as coisas estão organizadas o bastante para o evento.

QUESTÃO 10

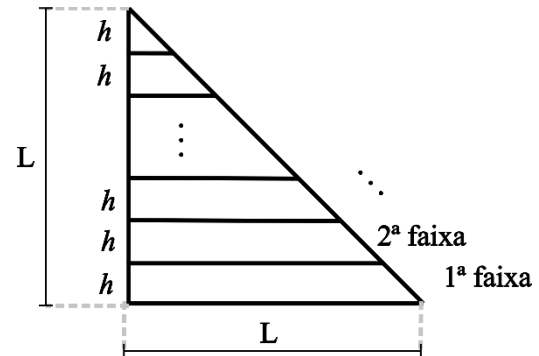
A colocação pronominal **não** está em conformidade com a norma-padrão da língua portuguesa apenas em:

- (A) Encontraram-se pela manhã, após o deixarem na escola.
- (B) Em se tratando de um problema de saúde, a urgência é necessária.
- (C) Não se deixe levar pelas aparências.
- (D) Quem me disse isso foi a própria mulher, que estava magoada com o ocorrido.
- (E) Eu darei-lhe todas as instruções necessárias para começar o trabalho.

MATEMÁTICA E RACIOCÍNIO LÓGICO

QUESTÃO 11

Um triângulo retângulo isóscele, cujos lados menores medem L cm foi dividido em faixas de igual altura, h , conforme a figura:



As faixas foram devidamente enumeradas. Pode-se afirmar que a diferença entre a área da 1ª faixa e a área da 2ª faixa é dada por:

- (A) $(L - h)^2$.
- (B) h^2 .
- (C) $\frac{h^2\sqrt{3}}{4}$.
- (D) $\frac{Lh}{2}$.
- (E) $\frac{(L-h)^2}{4}$.

QUESTÃO 12

Um casal, Ana e Bruno, decide comprar um carro que custa R\$ 60.000,00. Cada um tem um uma quantia guardada na poupança e comprarão o carro à vista, cada um pagando uma determinada quantia. Sabe-se que Ana tem R\$65.000,00 guardados e Bruno tem R\$50.000,00. A quantia que cada um pagará será tal que, após a compra, os dois ficarão com os mesmos valores guardados na poupança. Nesta situação, qual o valor que Ana pagará pelo carro?

- (A) R\$ 39.000,00.
- (B) R\$ 37.500,00.
- (C) R\$ 31.500,00.
- (D) R\$ 27.500,00.
- (E) R\$ 22.500,00.

QUESTÃO 13

Uma pessoa recorta uma folha retangular de 20 cm x 30 cm em 600 quadrados idênticos. Se a pessoa utilizar para recorte uma nova folha com dimensões 30 cm x 60 cm, e a pessoa deseja que o lado dos novos quadrados seja 50% maior que o lado dos quadrados anteriores, quantos novos quadrados conseguirá cortar?

- (A) 600.
- (B) 800.
- (C) 900.
- (D) 1000.
- (E) 1200.

QUESTÃO 14

Certo dia Pedro disse:

“Eu e meu pai fazemos aniversário no mesmo dia. Quando eu nasci, meu pai completou 25 anos.”

Em um determinado ano, a idade que Pedro completou foi metade da idade que o seu pai completou. Se Pedro nasceu em 1990, qual foi esse ano?

- (A) 2005.
- (B) 2010.
- (C) 2015.
- (D) 2020.
- (E) 2025.

QUESTÃO 15

Suponha que numa turma de universitários há 50 estudantes, e que a média aritmética simples das suas idades é igual a 26 anos. Se um novo estudante ingressar nessa turma, com idade igual ao dobro da média, então a nova média das idades em anos passará a ser, aproximadamente:

- (A) 26,5.
- (B) 27,7.
- (C) 27,8.
- (D) 26,9.
- (E) 30,5.

QUESTÃO 16

No Brasil, estima-se que 5% da população tem algum conhecimento sobre a língua inglesa. Sendo que dentre este grupo, 49% têm conhecimento básico, 31% têm conhecimento intermediário, 13% têm conhecimento avançado e 7% são fluentes. Considerando que a população brasileira contém 210 milhões de pessoas, quantas pessoas têm conhecimento pelo menos avançado em língua inglesa?

- (A) 27,3 milhões.
- (B) 210 mil.
- (C) 2,1 milhões.
- (D) 273 mil.
- (E) 12,6 milhões.

QUESTÃO 17

A altura do Monte Everest em relação ao nível do mar é cerca de 9 km. Se uma pessoa deseja modelar uma miniatura do Monte Everest, de modo que uma altura de 500 metros no mundo real corresponda a 1 cm na sua miniatura, qual será a altura do seu modelo, mantendo essa proporção?

- (A) 18 cm.
- (B) 24 cm.
- (C) 9 cm.
- (D) 90 cm.
- (E) 1,8 cm.

QUESTÃO 18

Um agente de saúde visitará casas num bairro onde há 400 casas enumeradas de 301 a 700. Ele não visitará todas elas, apenas as casas cujo número não é múltiplo de 3 nem de 5, e fará a visita em ordem crescente de número da casa. Qual será o número da 137ª casa visitada pelo agente?

- (A) 556.
- (B) 516.
- (C) 524.
- (D) 412.
- (E) 631.

QUESTÃO 19

Considere as seguintes afirmações sobre cinco pessoas, Ana, Bruno, Carlos, Dione e Érica:

- Ana e Bruno são amigos.
- Ana e Érica são amigas.
- Érica e Bruno são amigos.
- Carlos e Dione são amigos.
- Carlos e Ana são amigos.

Além disso, sabe-se que:

- Se duas pessoas são amigas, elas têm exatamente um amigo em comum.

Com base nas informações acima, pode-se necessariamente afirmar que:

- (A) Carlos é amigo de Bruno.
- (B) Dione e Érica são amigas.
- (C) Dione e Bruno são amigos.
- (D) Bruno é amigo de todos os outros.
- (E) Dione e Ana são amigas.

QUESTÃO 20

Em um número com 5 algarismos, a soma de todos os seus algarismos resulta em 15. Sabe-se que necessariamente esse número é divisível por:

- (A) 2.
- (B) 3.
- (C) 9.
- (D) 7.
- (E) 11.

NOÇÕES DE INFORMÁTICA

QUESTÃO 21

O sistema operacional Windows suporta uma ampla gama de aplicativos. Entre os programas nativos que são instalados juntamente com o sistema operacional, encontra-se:

- (A) Sublime Text
- (B) Adobe Acrobat.
- (C) Calculadora.
- (D) GIMP.
- (E) Inkscape.

QUESTÃO 22

O sistema operacional Windows disponibiliza, como ferramenta nativa para a captura de tela, qual dos programas listados a seguir?

- (A) Ferramenta de Captura.
- (B) Windows Fax and Scan.
- (C) Windows Security Center.
- (D) Windows Explorer.
- (E) VirtualBox.

QUESTÃO 23

No Microsoft Word, com relação à edição de cabeçalho e rodapé, assinale a alternativa que apresenta, corretamente, a ação que ocorre ao se selecionar "Primeira Página Diferente":

- (A) Remover o cabeçalho da primeira página.
- (B) Adicionar uma nova imagem no cabeçalho.
- (C) Replicar desordenadamente o cabeçalho entre as páginas do documento.
- (D) Aplicar uma borda ao cabeçalho de todas as páginas.
- (E) Adicionar uma tabela de conteúdo ao cabeçalho.






QUESTÃO 24

Considerando a estrutura básica de uma planilha desenvolvida no Microsoft Excel, pode-se afirmar corretamente que os elementos identificados com letras de A a Z e combinações de letras (AB, AC, etc.) são as:

- (A) Linhas.
- (B) Fórmulas.
- (C) Equações.
- (D) Colunas.
- (E) Fontes.

QUESTÃO 25

Ao navegar pela internet no Microsoft Edge, o usuário do sistema tem alguns botões à disposição na barra de ferramentas. Caso uma página apresente erro e ele queira tentar recarregá-la, qual botão deve utilizar?

- (A) Perfil 
- (B) Atualizar 
- (C) Favoritos 
- (D) Pesquisar 
- (E) Voltar 

CONHECIMENTOS ESPECÍFICOS

QUESTÃO 26

João, um senhor de 66 anos, procura atendimento relatando cansaço progressivo há três meses, falta de ar ao subir poucos degraus, inchaço nos pés e pernas, e necessidade de se sentar para dormir devido à dificuldade para respirar. Refere ainda aumento da vontade de urinar durante a noite e, ao exame, apresenta abdômen levemente distendido. Com base no caso, qual é a condição clínica mais provável?

- (A) Doença pulmonar obstrutiva.
- (B) Insuficiência cardíaca.
- (C) Cirrose hepática.
- (D) Síndrome nefrótica.
- (E) Hipotireoidismo.

QUESTÃO 27

Durante um atendimento de parada cardiorrespiratória por fibrilação ventricular, a equipe de saúde realiza a desfibrilação elétrica. De acordo com as recomendações atuais, qual deve ser a sequência correta do choque?

- (A) Realizar massagem cardíaca por 30 segundos e reavaliar o ritmo imediatamente.
- (B) Aguardar o retorno da circulação espontânea antes de retomar a RCP.
- (C) Alternar um choque com 2 minutos de RCP.
- (D) Aplicar dois choques consecutivos e, em seguida, iniciar a RCP.
- (E) Suspender a RCP para verificar sinais de pulso a cada 15 segundos.

QUESTÃO 28

Leia o enunciado abaixo e assinale a alternativa que apresenta o termo correto para completar a lacuna:

A _____ é vital para controlar e curar uma ampla gama de doenças bacterianas, sendo um tratamento médico que envolve o uso de antibióticos para combater infecções causadas por bactérias, desde quadros leves, como infecção de garganta, até casos graves, como pneumonia ou sepse.

- (A) Antissepsia.
- (B) Antibioticoterapia.
- (C) Terapia imunobiológica.
- (D) Terapia antiviral.
- (E) Profilaxia vacinal.

QUESTÃO 29

No atendimento inicial de emergências neurológicas, um dos protocolos fundamentais envolve a avaliação primária do paciente. Assinale a alternativa que apresenta corretamente os elementos a serem avaliados nessa etapa para mensurar o nível de consciência:

- (A) Vias aéreas, ventilação e circulação (ABC) e Escala de Coma de Glasgow.
- (B) Exame pupilar, reflexo patelar e teste de força muscular.
- (C) Saturação de oxigênio, pressão venosa central e glicemia capilar.
- (D) Frequência cardíaca, temperatura corporal e exame fundoscópico.
- (E) Avaliação de pares cranianos, eletroencefalograma e pressão.

QUESTÃO 30

A insuficiência renal crônica acarreta diversas repercussões sistêmicas pela perda progressiva das funções endócrinas e metabólicas renais. Entre as alterações descritas, assinale a alternativa correta:

- (A) A redução da produção de eritropoietina leva à policitemia, que pode agravar a hipertensão arterial crônica.
- (B) A anemia associada à insuficiência renal crônica é decorrente exclusivamente da deficiência de ferro dietético.
- (C) O aumento da produção de calcitriol na insuficiência renal resulta em hipercalcemia e maior risco de fraturas.
- (D) A hipertensão arterial observada decorre principalmente do excesso de eritropoietina produzido pelos rins lesados.
- (E) A deficiência de calcitriol acarreta alterações ósseas e, em crianças, prejuízo no crescimento dos ossos.

QUESTÃO 31

De acordo com a Constituição Federal, a seguridade social compreende um conjunto integrado de ações de iniciativa dos Poderes Públicos e da sociedade, destinadas a assegurar os direitos relativos à saúde, à previdência e à assistência social. Nos termos do parágrafo único do artigo 194, compete ao Poder Público organizar a seguridade social com base em determinados objetivos.

Assinale a alternativa que apresenta um desses objetivos.

- (A) Seleção de beneficiários com base em critérios de produtividade econômica.
- (B) Garantia de benefícios exclusivamente às populações urbanas.
- (C) Redução progressiva da cobertura previdenciária para conter gastos públicos.
- (D) Universalidade da cobertura e do atendimento.
- (E) Extinção gradual dos serviços assistenciais não contributivos.

QUESTÃO 32

A seguridade social compreende um conjunto integrado de ações de iniciativa dos Poderes Públicos e da sociedade, destinadas a assegurar os direitos relativos à saúde, à previdência e à assistência social. Entre os fundamentos da sua organização está a **uniformidade e equivalência dos benefícios e serviços às populações urbanas e rurais**.

Essa característica trata-se de:

- (A) Um objetivo constitucional da seguridade social.
- (B) Uma diretriz administrativa de competência do Ministério da Saúde.
- (C) Um princípio específico aplicado somente à assistência social.
- (D) Uma meta programática de execução orçamentária obrigatória.
- (E) Um direito técnico exclusivo da previdência complementar.

QUESTÃO 33

De acordo com a Lei nº 2.673/1995, que dispõe sobre o Estatuto dos Servidores Públicos do Município de Varginha, a licença para **tratamento de saúde** será concedida ao servidor:

- (A) Somente mediante solicitação do servidor, após comprovação médica particular.
- (B) Excepcionalmente, sem necessidade de exame médico, desde que o servidor apresente atestado com firma reconhecida.
- (C) Somente de ofício, com prejuízo da remuneração a que fizer jus.
- (D) A pedido ou de ofício, com base em exame por médico oficial, sem prejuízo da remuneração a que fizer jus.
- (E) Mediante avaliação periódica realizada por junta médica contratada exclusivamente para essa finalidade, com prejuízo da remuneração a que fizer jus.

QUESTÃO 34

De acordo com a Lei nº 2.673/1995, que dispõe sobre o Estatuto dos Servidores Públicos do Município de Varginha, será concedida ao servidor licença para tratamento de saúde, a pedido ou de ofício, com base em exame por médico oficial, sem prejuízo da remuneração a que fizer jus. Sobre a Licença Para Tratamento de Saúde, analise os itens a seguir e assinale a alternativa correta:

I. Nas licenças de até 30 (trinta) dias o servidor reassumirá suas atividades imediatamente após o seu término; nas superiores a este prazo, será submetido à nova inspeção médica, que concluirá pela volta ao serviço, pela prorrogação da licença ou pela aposentadoria por invalidez, atendidas as disposições legais.

II. Será punido disciplinarmente, com suspensão de até 30 (trinta) dias, o servidor que recusar a submeter-se a exame médico, cessando os efeitos da penalidade, logo que se verifique o exame.

III. Considerado apto em exame médico oficial, o servidor reassumirá as suas atividades imediatamente, sob pena de se apurarem como faltas injustificadas, os dias de ausência.

- (A) Apenas o item I está correto.
- (B) Apenas os itens I e II estão corretos.
- (C) Apenas os itens I e III estão corretos.
- (D) Apenas o item II está correto.
- (E) Todos os itens estão corretos.

QUESTÃO 35

De acordo com a lista nacional de notificação compulsória de doenças, agravos e eventos de saúde pública, assinale a alternativa que apresenta uma doença cuja notificação **não é** de periodicidade semanal.

- (A) Câncer relacionado ao trabalho
- (B) Dermatoses ocupacionais
- (C) Doença falciforme
- (D) Tuberculose
- (E) Hantavirose

QUESTÃO 36

O espectro da esquizofrenia abrange um grupo heterogêneo de pacientes, com apresentações e evoluções clínicas variadas. Atualmente, propõe-se agrupar os sintomas em dimensões, considerando não apenas a presença, mas também a intensidade. Assinale a alternativa que apresenta corretamente as cinco dimensões.

- (A) Sintomas respiratórios, circulatórios, digestivos, endócrinos e musculares.
- (B) Sintomas dermatológicos, reumatológicos, cardiovasculares, imunológicos e oftalmológicos.
- (C) Sintomas positivos, negativos, cognitivos, de desorganização e de humor/ansiedade.
- (D) Sintomas auditivos, visuais, metabólicos, motores e gustativos.
- (E) Sintomas auditivos, visuais, gustativos, olfativos e táteis.

QUESTÃO 37

Fatores ambientais e genéticos influenciam o risco de dependência de cocaína e outros estimulantes. O uso de cocaína está associado à utilização de outras substâncias lícitas e ilícitas, bem como a transtornos mentais.

Em relação às características dos usuários de cocaína, assinale a alternativa correta.

- (A) Apresentam maior resistência física e melhor desempenho cognitivo quando comparados aos não usuários.
- (B) Possuem risco reduzido de desenvolver transtornos psiquiátricos.
- (C) Não apresentam associação com o consumo de substâncias lícitas.
- (D) Demonstam menor suscetibilidade a influências ambientais e econômicas relacionadas ao uso.
- (E) Apresentam, em média, duas vezes mais sintomas depressivos e ansiosos que os não usuários, além de maior risco de suicídio.

QUESTÃO 38

A ansiedade pode ser definida como sensação de desconforto mental, inquietação interna, temor ou preocupação quanto ao futuro, podendo vir acompanhada de manifestações corporais específicas. Assinale a alternativa que apresenta corretamente alguns exemplos dessas manifestações segundo a descrição clínica.

- (A) Dor articular, rigidez muscular, fraqueza nos membros e dificuldade para andar.
- (B) Tontura, secura na boca, sensação de vazio no estômago, aperto no peito e sudorese.
- (C) Visão turva, perda auditiva, dor lombar e inflamação nas articulações.
- (D) Náuseas, vômitos, diarreia infecciosa e febre alta.
- (E) Tosse persistente, falta de ar, chiado no peito e expectoração purulenta.

QUESTÃO 39

O transtorno de sintomas somáticos deve ser diferenciado de doenças médicas e de outras condições psiquiátricas. No diagnóstico diferencial, é importante considerar condições médicas que causam sintomas vagos e difusos, bem como quadros psiquiátricos como transtornos do humor e de ansiedade.

Assinale a alternativa que apresenta apenas problemas citados como parte desse diagnóstico diferencial.

- (A) Doença de Lyme, acidente vascular cerebral, transtorno depressivo maior e transtornos de ansiedade generalizada.
- (B) Transtorno obsessivo-compulsivo, diabetes mellitus, epilepsia e bronquite crônica.
- (C) Hipertensão arterial, síndrome de Cushing, esquizofrenia e tuberculose.
- (D) Transtorno bipolar, insuficiência cardíaca, asma e artrite reumatoide.
- (E) Hepatite viral, transtorno de personalidade antissocial, enxaqueca e lúpus eritematoso sistêmico.

QUESTÃO 40

A psiquiatria forense atua na interface entre a medicina e o direito, tendo papel relevante na avaliação de indivíduos envolvidos em situações de violência ou em conflito com a lei. Analise as asserções abaixo e assinale a alternativa correta.

I – Quando houver dúvida sobre a sanidade mental de um indivíduo que cometeu delito, o juiz poderá instaurar o incidente de sanidade mental.

II – Ao inimputável, aplica-se obrigatoriamente uma pena privativa de liberdade, independentemente da avaliação psiquiátrica.

- (A) A asserção I é uma proposição falsa, e a II é uma proposição verdadeira.
- (B) As asserções I e II são proposições verdadeiras, e a II é um complemento da I.
- (C) A asserção I é uma proposição verdadeira, e a II é uma proposição falsa.
- (D) As asserções I e II são proposições falsas.
- (E) As asserções I e II são proposições verdadeiras, mas a II não é um complemento da I.

QUESTÃO 41

Qual é o conceito descrito quando o sofrimento psicológico ou emocional se manifesta na forma de sintomas físicos que não têm explicação médica, sendo caracterizado pela apresentação de vários sintomas físicos persistentes, sem qualquer base biológica aparente?

- (A) Transtorno de ansiedade.
- (B) Transtorno depressivo maior.
- (C) Transtorno psicótico breve.
- (D) Transtorno de sintomas somáticos.
- (E) Transtorno conversivo.

QUESTÃO 42

Os transtornos alimentares (TAs) envolvem comprometimento persistente da alimentação ou do comportamento alimentar, resultando em alteração no consumo ou na absorção de alimentos, com impacto na saúde física e psicossocial.

Assinale a alternativa que apresenta apenas transtornos alimentares conhecidos.

- (A) Anorexia nervosa, bulimia nervosa e transtorno de compulsão alimentar.
- (B) Gastrite, esofagite e síndrome do intestino irritável.
- (C) Bulimia nervosa, hipertensão arterial e hipotireoidismo.
- (D) Transtorno de compulsão alimentar, pancreatite e colelitíase.
- (E) Depressão maior, transtorno bipolar e esquizofrenia.

QUESTÃO 43

No Brasil, os **transtornos psíquicos** representam um grande número dos atendimentos de emergência e urgência em hospitais gerais e serviços de pronto-socorro do SUS.

Assinale a alternativa que apresenta apenas situações frequentes nessas emergências psiquiátricas.

- (A) Agitação psicomotora, comportamento suicida, delirium, episódio psicótico e depressão grave.
- (B) Automutilação, sinusite, dor lombar, rinite alérgica e gastrite.
- (C) Surto ou episódio psicótico, intoxicação alimentar, fraturas, apendicite, queimaduras e hipertensão arterial.
- (D) Dengue, pneumonia, cistite, otite média e varicela.
- (E) Infarto agudo do miocárdio, insuficiência renal, cálculo biliar, asma e amigdalite.

QUESTÃO 44

Um homem de 29 anos é levado ao pronto atendimento após apresentar, de forma súbita, intenso temor enquanto estava no transporte público. Ele relata que, em poucos minutos, sentiu palpitações, sudorese intensa, tremores, sensação de falta de ar, dor no peito, tontura, medo de perder o controle ou enlouquecer e medo de morrer. Os sintomas desenvolvem-se abruptamente e alcançam um pico em dez minutos.

Qual o diagnóstico mais compatível com o quadro clínico descrito?

- (A) Acidente vascular cerebral.
- (B) Embolia pulmonar.
- (C) Crise convulsiva.
- (D) Hipotensão ortostática.
- (E) Ataque de pânico.

QUESTÃO 45

O transtorno pica é definido como a ingestão persistente de substâncias não nutritivas, inadequadas para o desenvolvimento infantil e que não fazem parte de uma prática aceita culturalmente. Assinale a alternativa que apresenta apenas exemplos de substâncias frequentemente ingeridas nesse transtorno.

- (A) Terra, barro, cabelo, alimentos crus, cinzas de cigarro e fezes de animais.
- (B) Açúcar refinado, farinha de trigo, arroz branco e leite condensado.
- (C) Refrigerantes, frituras, doces e embutidos.
- (D) Café, chá, chocolate e sucos industrializados.
- (E) Carne vermelha, frango, peixe e ovos.

QUESTÃO 46

O comportamento suicida é uma emergência médica e uma das mais frequentes no sistema de saúde. Por isso, todo profissional deve estar habilitado de forma técnica e científica a lidar com tais situações. Analise as afirmações abaixo sobre a padronização dos termos relacionados ao comportamento suicida e assinale a alternativa correta.

I. **Suicídio completo:** Um comportamento autolesivo que resultou em fatalidade e foi associado a pelo menos alguma intenção de morrer como resultado do ato.

II. **Atos preparatórios ou plano de suicídio:** O indivíduo toma medidas para ferir a si mesmo, mas é impedido por ele mesmo ou outros de iniciar o ato autolesivo antes que o potencial de dano tenha começado.

III. **Tentativa de suicídio:** Um comportamento potencialmente autolesivo, associado a pelo menos alguma intenção de morrer, por causa do ato. A evidência de que o indivíduo pretendia se matar, pelo menos até certo ponto, pode ser explícita ou inferida do comportamento ou circunstância. Uma tentativa de suicídio pode ou não resultar em lesão real.

- (A) Apenas o item I está correto.
- (B) Apenas os itens I e III estão corretos.
- (C) Apenas os itens I e II estão corretos.
- (D) Apenas o item II está correto.
- (E) Todos os itens estão corretos.

QUESTÃO 47

Os efeitos agudos da cocaína variam conforme via de uso, dose, tempo de uso e associação com outras substâncias, podendo ser divididos em físicos e psicológicos.

Assinale a alternativa que apresenta corretamente apenas efeitos psicológicos associados ao uso agudo da cocaína.

- (A) Taquicardia, hipertensão, vasoconstrição e midríase.
- (B) Humor eufórico, intensa sensação de prazer, aumento da energia e redução do sono e do apetite.
- (C) Broncodilatação, aumento da temperatura corporal e vasoconstrição.
- (D) Aumento da temperatura corporal, taquicardia, broncodilatação e midríase.
- (E) Hipertensão, sonolência, broncodilatação e ganho de peso.

QUESTÃO 48

Um homem de 28 anos é levado ao pronto atendimento apresentando delírios, alucinações, discurso desorganizado, comportamento catatônico e sintomas negativos. Durante a anamnese, afirma ouvir vozes inexistentes e relata acreditar estar sendo perseguido por pessoas desconhecidas.

Qual o diagnóstico mais compatível com esse conjunto de manifestações clínicas?

- (A) Pneumonia bacteriana.
- (B) Esquizofrenia.
- (C) Hipotireoidismo.
- (D) Transtorno bipolar.
- (E) Insuficiência cardíaca congestiva.

QUESTÃO 49

A agitação psicomotora em pacientes com condições psiquiátricas representa uma situação frequente e clinicamente relevante em psiquiatria, não apenas em emergências, mas também durante a hospitalização ou em ambientes psiquiátricos ambulatoriais. O manejo de um paciente agitado exige avaliação clínica rápida. Uma das etapas iniciais é identificar possíveis causas médicas gerais de agitação psicomotora. Assinale a alternativa que apresenta apenas causas médicas gerais mencionadas como mais comumente associadas a estados agudos de agitação psicomotora:

- (A) Hipoglicemia, hipertensão arterial, rinite alérgica, otite média.
- (B) Traumatismo craniocéfálico, encefalite, hipóxia, distúrbio metabólico.
- (C) Gastrite, sinusite, hipertensão, enxaqueca.
- (D) Depressão maior, transtorno de ansiedade generalizada, bulimia.
- (E) Esquizofrenia, transtorno bipolar, transtorno obsessivo-compulsivo.

QUESTÃO 50

Analise as asserções abaixo sobre os subtipos do transtorno de sintomas somáticos e assinale a alternativa correta.

I – Transtorno conversivo: um ou mais sintomas neurológicos, como a alteração da função motora voluntária ou sensorial. Inconsistente com uma condição médica conhecida.

II – Transtorno de ansiedade de doença: falsificação de sintomas físicos ou psicológicos.

- (A) A asserção I é uma proposição falsa, e a II é uma proposição verdadeira.
- (B) As asserções I e II são proposições verdadeiras, e a II é um complemento da I.
- (C) A asserção I é uma proposição verdadeira, e a II é uma proposição falsa.
- (D) As asserções I e II são proposições falsas.
- (E) As asserções I e II são proposições verdadeiras, mas a II não é um complemento da I.

