



**PREFEITURA MUNICIPAL DE ITUTINGA
CONCURSO PÚBLICO – 001/2023**

**PROVA PARA
AGENTE DE ADMINISTRAÇÃO
AUXILIAR DE DESENVOLVIMENTO INFANTIL
MONITOR CULTURAL
MONITOR DE CRECHE
ORIENTADOR SOCIAL**

INSTRUÇÕES:

- 01) Não é permitido durante a realização da prova a utilização de livros e impressos, máquinas de calcular, rádio, telefone celular (que deverá ser mantido desligado), ou qualquer utensílio que emita informações.
- 02) Durante a realização da prova o candidato não deve levantar-se, nem se comunicar com outros candidatos.
- 03) É expressamente proibido fumar durante a prova.
- 04) O candidato ao receber o caderno de questões deverá conferi-lo, caso esteja incompleto ou tenha qualquer defeito, deverá solicitar ao monitor de sala que o substitua, não cabendo reclamações posteriores neste sentido.
- 05) O caderno de questões consta de 40 (quarenta) questões objetivas de múltipla escolha.
- 06) Leia cuidadosamente cada questão, assinalando somente uma opção.
- 07) Ao receber a Folha de Respostas verifique se os dados estão corretos: seu nome, número de sua inscrição e o nome do cargo para o qual foi inscrito.
- 08) Use somente **CANETA ESFEROGRÁFICA AZUL OU PRETA**.
- 09) Para preencher a Folha de Respostas, observe o seguinte:
 - * Preencha **COMPLETAMENTE** a área reservada à letra correspondente à resposta que julgar correta.
 - * Sua resposta não será computada se:
 - houver marcação de duas ou mais opções;
 - a área correspondente à sua resposta não estiver completamente marcada;
 - não houver opção assinalada;
 - houver ultrapassagem dos limites da área a ser preenchida.
- 10) Não deixe qualquer questão em branco.
- 11) Assine a Folha de Respostas dentro do espaço reservado.
- 12) Não será fornecido outra Folha de Resposta, portanto, a mesma não deverá ser rasurada, dobrada, amassada ou rasgada.
- 13) É proibido o uso de qualquer tipo de corretivo na Folha de Resposta, esclarecendo-se que tal prática impedirá a análise da mesma pela leitora ótica, invalidando todas as questões assinaladas na Folha.
- 14) A duração da prova é de 3h (três horas). Iniciada a mesma, nenhum candidato poderá retirar-se da sala antes de completar o tempo de 1h (uma hora). Os três últimos candidatos deverão permanecer na sala, sendo somente liberados quando o último deles tiver concluído a prova.
- 15) Por razões de segurança, somente terá direito de levar consigo o caderno de questões de prova, o candidato que permanecer em sala pelo prazo mínimo de 2h (duas horas).
- 16) É proibida a reprodução total ou parcial deste material, por qualquer meio ou processo, sem a autorização expressa da JCM – Consultoria Municipal Ltda.

BOA PROVA !

----- corte aqui -----

RASCUNHO DO GABARITO

| | | | | | | | | | | | | | | | | | | | |
|----|----|----|----|----|----|----|----|----|----|----|----|----|----|----|----|----|----|----|----|
| 01 | 02 | 03 | 04 | 05 | 06 | 07 | 08 | 09 | 10 | 11 | 12 | 13 | 14 | 15 | 16 | 17 | 18 | 19 | 20 |
| | | | | | | | | | | | | | | | | | | | |
| 21 | 22 | 23 | 24 | 25 | 26 | 27 | 28 | 29 | 30 | 31 | 32 | 33 | 34 | 35 | 36 | 37 | 38 | 39 | 40 |
| | | | | | | | | | | | | | | | | | | | |

O **GABARITO PRELIMINAR** estará disponível às 22h de hoje (21/05/2023) no site da JCM – Consultoria Municipal Ltda.
www.jcmconcursos.com.br

Texto

A VIDA É COMO A DENGUE

Renato Essenfelder

Os sintomas foram se acumulando rapidamente. No intervalo de dois ou três dias, estavam todos lá: cansaço, depois cansaço extremo. Moleza, fraqueza. Inapetência. Enxaqueca em grau até então desconhecido (pode respirar mais baixo, por favor?) - e já não lembrava nem o que havia almoçado horas antes. Enjoos. Nas semanas anteriores, a dor na coluna havia me levado duas vezes ao PS Ortopédico (Primeiro foram os anti-inflamatórios, depois os analgésicos, depois as bolsas térmicas, depois acupuntura, depois RPG e então, enfim, admitamos: só Deus). Mas só quando surgiu a febre alta, repentina, instantânea, suspeitei realmente.

(...)

Fui acometido por uma certeza fria de que era dengue. A dengue daria sentido a tudo, ao cansaço, à insatisfação, à moleza, à inapetência. À vida, nestes dias. Era dengue. Preparei as malas para ir ao hospital e decretar triunfalmente: estou com dengue. Meus amigos tiveram dengue. Colegas de trabalho tiveram dengue. Matei um mosquito de listras brancas dentro do meu carro esses dias. Tenho todos os sintomas do Google, digo, da dengue, portanto é saber qual tipo e se vou sobreviver. O médico contestou. Fez-me pagar um exame particular, já que os planos de saúde já não cobrem mais testes de dengue - como se sabe, servem para todas as coisas de que não precisamos.

Paguei para ver.

Não era dengue. Fiquei desconcertado. O rosário que daria sentido aos meus sintomas - e a mais do que isso, aos meus dias - se desfazia.

Não era dengue, era a vida.

Aquela doença que me andava deprimindo, exaurindo, que na quinta-feira às sete horas da noite engolfou meu corpo na cama como um oceano de algodão - era a vida.

Era a vida, que também derruba. A vida, que não é transmitida por mosquitos, mas por mães, e da qual a gente só se lembra assim, de vez em quando, quando um mosquito inocula um falso vírus, quando uma dor trava a coluna, quando alguém próximo morre.

A vida, que, quando ignorada, volta-se contra nós de mansinho, com lábios de Monalisa, enfraquecendo pernas e pés, costas e ombros, turvando a vista e ricocheteando furiosamente nas paredes do crânio até que nos apercebamos dela. A vida, cachorro que morde a mão, cachorro cuja indignação é inexplicável até que notada.

A vida de minhas retinas tão fatigadas. A vida de acordar muito cedo, estender-se na rua até tarde, culpar-se pela pouca atenção à família, à mulher, ao cachorro, às crianças e velhos que morrem sem vida; ao corpo, ao sono, à cabeça. A vida de São Paulo, Brasil, classe média, escritor fatigado de 34 anos.

Eu não sei se fez sol ou se choveu, ontem à tarde. Não lembro o que comi no almoço. Tenho 16 relatórios para esta semana.

A vida é como a dengue.

(Fonte: <https://www.estadao.com.br/emails/renato-essenfelder/a-vida-e-como-a-dengue/> - Adaptado)

01) Em relação ao texto acima, é **CORRETO** afirmar que se trata de uma

a) crônica escrita em primeira pessoa, em que o narrador se confunde com o próprio personagem central e relata fatos da sua vida, sobre os quais desenvolve também reflexões importantes.

b) crônica escrita em terceira pessoa, em que o narrador se confunde com o próprio personagem central e relata fatos da sua vida, sobre os quais desenvolve também reflexões importantes.

c) narração cujo personagem central é diferente do narrador, distinguindo-se nitidamente os relatos desenvolvidos pelo personagem e as reflexões desenvolvidas pelo narrador.

d) descrição sobre os sintomas da dengue, num tom predominantemente didático, com o objetivo de alertar os leitores, de uma forma geral, sobre os perigos que essa doença apresenta.

e) narração cujo personagem central é o próprio narrador, num tom predominantemente didático, com o objetivo de alertar os leitores, de uma forma geral, sobre os perigos que a dengue apresenta.

02) “Fui **acometido** por uma certeza fria de que era dengue. A dengue daria sentido a tudo, ao cansaço, à insatisfação, à moleza, à **inapetência**.”

Assinale a alternativa que apresenta, respectivamente, **SINÔNIMOS** para as palavras destacadas no trecho acima, transcrito do texto.

- a) reconstruído – repetência
- b) apossado – falta de apetite
- c) desprovido – anorexia
- d) destruído – febre alta
- e) tomado – gula

03) “No intervalo de dois ou três dias, estavam todos lá: cansaço, depois cansaço extremo. Moleza, fraqueza. Inapetência. Enxaqueca em grau até então desconhecido (pode respirar mais baixo, por favor?) - e já não lembrava nem o que havia almoçado horas antes. Enjoos.”

Em relação à estruturação das frases e pontuação realizadas no trecho acima, transcrito do texto, é **CORRETO** afirmar que

a) predominam períodos longos, com frases nominais, com uso intenso de pontos-finais, com o objetivo de enfatizar cada sintoma sentido pelo indivíduo.

b) predominam períodos longos, com frases verbais, com uso intenso de pontos-finais, com o objetivo de enfatizar cada sintoma sentido pelo indivíduo.

c) a pontuação empregada é totalmente irregular e fora da norma padrão da língua portuguesa, justificada pela licença poética, exclusivamente nesse trecho do texto.

d) predominam períodos curtos, com frases nominais, com uso intenso de pontos-finais, com o objetivo de enfatizar cada sintoma sentido pelo indivíduo.

e) a pontuação empregada é totalmente regular e de acordo com a norma padrão da língua portuguesa, mas totalmente descontextualizada em relação aos objetivos do autor nesse trecho do texto.

04) Assinale a alternativa em que o trecho transcrito do texto apresenta uma intercalação dentro dele, ou seja, um período que interrompe a sequência normal do trecho, com o objetivo de fazer referência a uma situação paralela e complementar ao que está sendo tratado.

- a) “(Primeiro foram os anti-inflamatórios, depois os analgésicos, depois as bolsas térmicas, depois acupuntura, depois RPG e então, enfim, admitamos: só Deus)”
- b) “No intervalo de dois ou três dias, estavam todos lá: cansaço, depois cansaço extremo.”
- c) “Enxaqueca em grau até então desconhecido (pode respirar mais baixo, por favor?) - e já não lembrava nem o que havia almoçado horas antes.”
- d) “A dengue daria sentido a tudo, ao cansaço, à insatisfação, à moleza, à inapetência.”
- e) “Não era dengue, era a vida.”

05) Releia atentamente o segundo parágrafo do texto, iniciado por “Fui acometido por uma certeza fria de que era dengue.”. A certeza mencionada pelo autor é enfatizada pelo emprego do seguinte recurso de linguagem:

- a) períodos longos.
- b) repetição de palavra.
- c) depoimentos de colegas.
- d) receitas dos familiares.
- e) vocabulário científico.

06) “Era a vida, **que** também derruba. A vida, **que** não é transmitida por mosquitos”

Em relação às palavras destacadas no trecho acima, transcrito do texto, é **CORRETO** afirmar que ambas

- a) são pronomes relativos, cujos antecedentes são palavras de sentido totalmente diferente.
- b) podem ser substituídas adequadamente por “cuja”.
- c) podem ser substituídas adequadamente por “à qual”.
- d) possuem a mesma função sintática e introduzem orações adjetivas de sentido restritivo.
- e) possuem a mesma função sintática e introduzem orações adjetivas de sentido explicativo.

07) Analise atentamente os termos destacados no trecho abaixo, transcrito do texto, e assinale a afirmativa **INCORRETA**.

“Eu **não** sei **se fez** sol **ou se** choveu, **ontem à tarde**.”

- a) As duas ocorrências de “se” introduzem orações com o sentido explícito de condição.
- b) “Ontem” e “à tarde” são adjuntos adverbiais que expressam o sentido de tempo.
- c) “Ou” é uma conjunção que liga duas orações e possui o sentido de alternativa.
- d) “Não” é um adjunto adverbial de negação relacionado ao verbo “saber”.
- e) “Fez” é uma forma verbal de uma oração sem sujeito.

08) Analisando o título e o último parágrafo conclusivo do texto acima, é **CORRETO** afirmar que o indivíduo em questão

- a) mostra-se disposto a mudar de vida, após conscientizar-se de que a vida é igual à dengue.
- b) não demonstra nenhum conhecimento sobre a vida, uma vez que a compara com a dengue.
- c) está inserido numa rotina cíclica em sua vida, não demonstrando nenhum esforço ou decisão de mudar essa rotina.
- d) confunde as características da vida e da dengue, não apresentando muita consciência de fato sobre o que diz.
- e) defende que a única maneira de se acabar com a dengue é também acabando com a vida.

09) “Fez-me pagar um exame particular, já que os planos de saúde já não cobrem mais testes de dengue - como se sabe, servem para todas as coisas de que não precisamos.”

No trecho acima, transcrito do texto, existem palavras e expressões que introduzem os sentidos de

- a) proporção, tempo, negação, conformidade e finalidade.
- b) proporção, lugar, negação, conformidade e finalidade.
- c) explicação, tempo, negação, causa e consequência.
- d) comparação, modo, lugar, afirmação e consequência.
- e) explicação, tempo, negação, conformidade e finalidade.

10) “Fui acometido **por** uma certeza fria **de que** era dengue.”

As palavras destacadas no trecho acima, transcrito do texto, introduzem termo ou oração, respectivamente, com as funções de

- a) sujeito e objeto direto.
- b) vocativo e objeto indireto.
- c) vocativo e complemento nominal.
- d) agente da passiva e complemento nominal.
- e) agente da passiva e objeto indireto.

RACIOCÍNIO LÓGICO

11) Analise atentamente a sequência abaixo, identificando a lógica de sua formação. A seguir, assinale a alternativa que preenche **CORRETAMENTE** o espaço das reticências.

D8 – F12 – K22 – M26 – ... – T40 – Y50

- a) R30
- b) Q34
- c) R36
- d) S30
- e) S38

12) Analise atentamente a sequência abaixo, identificando a lógica de sua formação. A seguir, assinale a alternativa que preenche **CORRETAMENTE** o espaço das reticências.

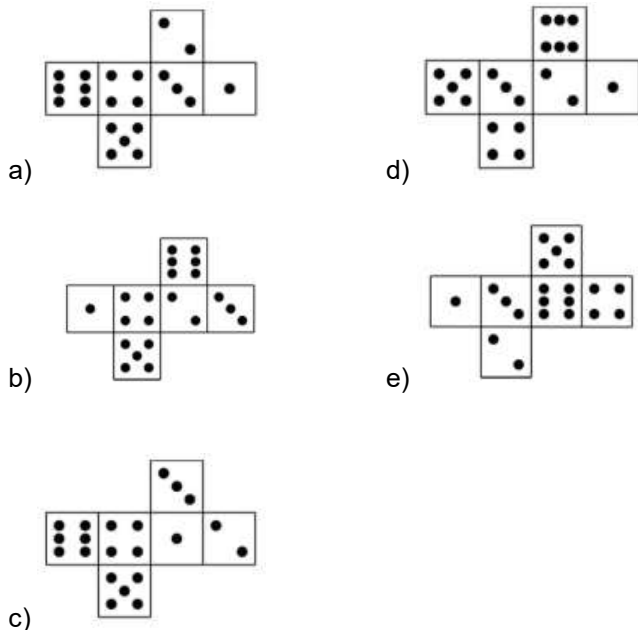
amarelo – branco – creme – dourado – empada – flor – guloseima – ...

- a) lilás
b) feijão
c) vermelho
d) helicóptero
e) sanduíche

13) Considere a seguinte situação: uma turma de 89 veteranos de uma escola resolveu se reunir para comemorar o aniversário de um deles, numa pizzaria. Ficou combinado que cada veterano poderia comer até 2 sabores diferentes de pizza. Da turma, 57 pessoas comeram pizza de muçarela e 63 comeram pizza de lombinho canadense. 8 pessoas não comeram nenhuma pizza. Nessa situação, quantas pessoas comeram um único sabor de pizza?

- a) 41
b) 42
c) 43
d) 44
e) 45

14) Analise atentamente as figuras planificadas dos dados abaixo. A seguir, assinale a alternativa cuja montagem do dado como um sólido geométrico resulta na seguinte relação de valores entre as faces opostas: 1-2 / 3-4 / 5-6.



15) Se $G = 17,5$ e $P = 40$, qual é o valor de T ?

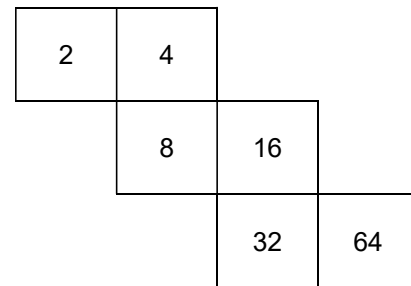
- a) 50
b) 55
c) 52,5
d) 47,5
e) 50,25

16) Analise atentamente a sequência abaixo, identificando a lógica de sua formação. A seguir, assinale a alternativa que preenche **CORRETAMENTE** o espaço das reticências.

47 – 43 – 41 – 37 – 31 – 29 – 23 – 19 – ...

- a) 11
b) 13
c) 16
d) 17
e) 18

17) Considere um cubo planificado, com os seguintes valores em cada uma de suas faces:



Ao montar o sólido geométrico correspondente a essa figura planificada, qual número terá, na correspondente face oposta, o seu valor elevado ao quadrado?

- a) 16
b) 32
c) 4
d) 2
e) 8

18) Se todo X é Y , e todo Y é Z , então é **INCORRETO** afirmar que

- a) todo X é Z .
b) todo Y é X .
c) nem todo Z é X .
d) algum Z pode ser Y .
e) algum Y pode ser X .

19) Mariana convidou seu namorado João para uma festa. Considere as seguintes respostas possíveis de João:

- É falso que eu não vou deixar de não ir à festa.
- Eu não vou deixar de ir à festa.
- Eu vou deixar de ir à festa.
- Eu não vou deixar de não ir à festa.
- É falso que eu não vou recusar o seu convite de ir à festa.

Entre essas respostas, quantas resultam **POSITIVAS** em relação à intenção de ir à festa?

- a) 5
b) 1
c) 3
d) 2
e) 4

20) Numa cidade chamada Andrômeda, $\frac{1}{4}$ da sua população é formado por professores e $\frac{3}{4}$ são formados por estudantes. Todos os professores são sagitarianos e nenhum estudante é taurino. Nessa situação, é **CORRETO** afirmar que, em Andrômeda:

21) Se $L = 36$, $Q = 51$ e $U = 63$, qual é o valor de Y ?

- a) 75
b) 72
c) 78
d) 81
e) 69

22) Observe atentamente a sequência alfanumérica da placa abaixo:



Considerando o mesmo número de dígitos e de letra, e todas as possibilidades de Algarismos e do alfabeto português, quantas outras sequências diferentes dentro desse padrão podem ser produzidas, **SEM** repetir nenhum elemento?

- a) 18.720
b) 26.000
c) 16.559
d) 18.719
e) 26.999

23) Considere um número inteiro com as seguintes características:

- É divisível somente por 1 e por ele mesmo;
- Situa-se entre 50 e 100;
- A soma dos algarismos que o compõem é 8.

Existem quantos números que atendem a essas características?

- a) 1
b) 2
c) 3
d) 4
e) 5

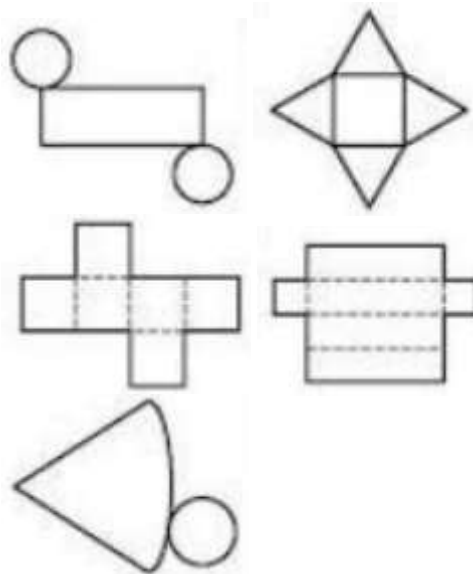
24) Considere a seguinte situação:

- Nem todo flic é lit
- Todo belt é lit
- Nem todo urc é alt
- Todo alt é belt

Nesse contexto, é **INCORRETO** afirmar que

- a) nenhum flic pode ser alt.
b) algum urc pode ser lit.
c) nem todo belt é alt.
d) nem todo lit é belt.
e) todo alt é lit.

25) Observe atentamente as figuras planificadas abaixo:



Uma vez montadas as figuras espaciais correspondentes a elas, temos os seguintes sólidos geométricos:

- a) cilindro, pirâmide de base triangular, cubo, paralelepípedo e cone.
b) cilindro, pirâmide de base quadrada, cubo, paralelogramo e cone.
c) cilindro, pirâmide de base quadrada, cubo, paralelepípedo e cone.
d) paralelepípedo, cubo, quadrilátero, paralelogramo e pirâmide de base circular.
e) paralelepípedo, pirâmide de base pentagonal, quadrilátero, paralelepípedo e pirâmide de base circular.

26) Se Mara é dentista, Ana é médica e Mário é assistente, qual é a atividade exercida por Flávio?

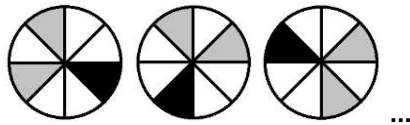
- a) otorrinolaringologista
b) recepcionista
c) atendente
d) faxineiro
e) ascensorista

27) Analise atentamente a sequência abaixo, identificando a lógica de sua formação. A seguir, assinale a alternativa que preenche **CORRETAMENTE** o espaço das reticências.

13:42 – ... – 15:52 – 17:12 – 18:42

- a) 14:42
b) 14:32
c) 14:52
d) 15:05
e) 13:59

28) Analise atentamente a sequência abaixo, identificando a lógica de sua formação. A seguir, assinale a alternativa que preenche **CORRETAMENTE** o espaço das reticências.




- a)
- b)
- c)
- d)
- e)

29) Analise atentamente a sequência abaixo, identificando a lógica de sua formação. A seguir, assinale a alternativa que preenche **CORRETAMENTE** o espaço das reticências.

$$10^0 - \sqrt{9} - \dots - 729/27 - 3^4$$

- a) 7
b) 8
c) 9
d) 10
e) 11

30) Considere o objeto representado abaixo, conhecido popularmente como "cubo mágico".



Considerando F = número total das grandes faces do objeto como um todo, e f = número total das pequenas faces quadradas no objeto todo, assinale a afirmativa **CORRETA**.

- a) $f / F = 11$
b) $F^2 > f$
c) $F^3 = 4f$
d) $9F < f$
e) $F^3 < 3f$

CONHECIMENTOS GERAIS

As próximas dez questões devem ser respondidas de acordo com a CONSTITUIÇÃO DA REPÚBLICA FEDERATIVA DO BRASIL.

31) De acordo com o Art. 1º, a República Federativa do Brasil, formada pela união indissolúvel dos Estados e Municípios e do Distrito Federal, constitui-se em Estado Democrático de Direito e tem como fundamentos:

- I - a soberania
II - a defesa da paz
III - a solução pacífica dos conflitos
IV - os valores sociais do trabalho e da livre iniciativa

Estão **CORRETOS**:

- a) apenas I, II e IV.
b) apenas II e IV.
c) I, II, III e IV.
d) apenas I e IV.
e) apenas III e IV.

32) Assinale **V** para **VERDADEIRO** e **F** para **FALSO** no tocante aos direitos sociais descritos no Art. 6º:

- a educação
 a saúde
 a alimentação
 o trabalho
 o lazer

Assinale a sequência **CORRETA** obtida:

- a) V, V, V, V, V
b) V, V, V, F, V
c) F, V, V, F, V
d) V, V, F, V, V
e) V, F, V, V, F

"Art. 5º Todos são iguais perante a lei, sem distinção de qualquer natureza, garantindo-se aos brasileiros e aos estrangeiros residentes no País a inviolabilidade do direito à vida, à liberdade, à igualdade, à segurança e à propriedade, nos termos seguintes....."

Considerando os preceitos estabelecidos no Artigo 5º, responda as duas próximas questões:

33) Assinale a alternativa **INCORRETA**:

- a) A pena será cumprida em estabelecimentos distintos, de acordo com a natureza do delito, a idade e o sexo do apenado.
b) É assegurado aos presos o respeito à integridade física e moral.
c) Às presidiárias serão asseguradas condições para que possam permanecer com seus filhos durante o período de amamentação.
d) Nenhum brasileiro será extraditado, salvo o naturalizado, em caso de crime comum, praticado antes da naturalização, ou de comprovado envolvimento em tráfico ilícito de entorpecentes e drogas afins, na forma da lei.
e) Será concedida extradição de estrangeiro por crime político ou de opinião.

34) Assinale a alternativa CORRETA:

- a) É livre o exercício de qualquer trabalho, ofício ou profissão, sendo permitida a cada profissional a definição dos parâmetros das qualificações profissionais usadas ao atendimento.
- b) É limitada a liberdade de associação para fins lícitos, vedada a de caráter paramilitar.
- c) Todos podem reunir-se pacificamente, sem armas, em locais abertos ao público, independentemente de autorização, desde que não frustrem outra reunião anteriormente convocada para o mesmo local, sendo apenas exigido prévio aviso à autoridade competente.
- d) A criação de associações e, na forma da lei, a de cooperativas dependem de autorização, sendo obrigatória a interferência estatal em seu funcionamento.
- e) É permitido, na forma da lei, compelir o cidadão a associar-se ou a permanecer associado.

35) Considerando os preceitos estabelecidos no Art. 14, assinale a alternativa INCORRETA:

- a) A soberania popular será exercida pelo sufrágio universal e pelo voto direto e secreto, com valor igual para todos, e, nos termos da lei, mediante plebiscito, referendo e iniciativa popular.
- b) A filiação partidária é condicionante de elegibilidade.
- c) O alistamento eleitoral e o voto são obrigatórios para os maiores de dezoito anos e para os analfabetos.
- d) Para concorrerem a outros cargos, o Presidente da República, os Governadores de Estado e do Distrito Federal e os Prefeitos devem renunciar aos respectivos mandatos até seis meses antes do pleito.
- e) O mandato eletivo poderá ser impugnado ante a Justiça Eleitoral no prazo de quinze dias contados da diplomação, instruída a ação com provas de abuso do poder econômico, corrupção ou fraude.

36) Considerando os preceitos do Art. 40, assinale a alternativa INCORRETA:

- a) O regime próprio de previdência social dos servidores titulares de cargos efetivos terá caráter contributivo e solidário, mediante contribuição do respectivo ente federativo, de servidores ativos, de aposentados e de pensionistas, observados critérios que preservem o equilíbrio financeiro e atuarial.
- b) O servidor abrangido por regime próprio de previdência social será aposentado por incapacidade permanente para o trabalho, no cargo em que estiver investido, quando insuscetível de readaptação, hipótese em que será obrigatória a realização de avaliações periódicas para verificação da continuidade das condições que ensejaram a concessão da aposentadoria, na forma de lei do respectivo ente federativo.
- c) O servidor abrangido por regime próprio de previdência social será aposentado compulsoriamente, com proventos proporcionais ao tempo de contribuição, aos 70 (setenta) anos de idade, ou aos 75 (setenta e cinco) anos de idade, na forma de lei complementar.
- d) As regras para cálculo de proventos de aposentadoria serão disciplinadas em lei do respectivo ente federativo.
- e) O servidor abrangido por regime próprio de previdência social será aposentado voluntariamente, desde que cumprido tempo mínimo de 10 (dez) anos de efetivo exercício no serviço público e 5 (cinco) anos no cargo efetivo em que se dará a aposentadoria.

37) Está estabelecido no Art. 34 que a União não intervirá nos Estados nem no Distrito Federal, EXCETO para:

- I - manter a integridade nacional.
- II - repelir invasão estrangeira ou de uma unidade da Federação em outra.
- III - pôr termo a grave comprometimento da ordem pública.
- IV - garantir o livre exercício de qualquer dos Poderes nas unidades da Federação.

Estão CORRETAS:

- a) apenas I e IV.
- b) apenas I, II e IV.
- c) apenas II e III.
- d) apenas II, III e IV.
- e) I, II, III e IV.

38) Considerando os preceitos do Art. 45, analise as assertivas abaixo:

- I - A Câmara dos Deputados compõe-se de representantes do povo, eleitos, pelo sistema proporcional, em cada Estado, em cada Território e no Distrito Federal.
- II - O número total de Deputados, bem como a representação por Estado e pelo Distrito Federal, será estabelecido por lei complementar, proporcionalmente à população, procedendo-se aos ajustes necessários, no ano anterior às eleições, para que nenhuma daquelas unidades da Federação tenha menos de oito ou mais de setenta Deputados.
- III - Cada Território elegerá quatro Deputados.

Está(ão) CORRETA(S):

- a) apenas I.
- b) apenas II.
- c) I, II e III.
- d) apenas II e III.
- e) apenas III.

39) Assinale a alternativa que está em DESACORDO com os preceitos estabelecidos no Art. 60:

- a) A Constituição poderá ser emendada mediante proposta de um terço, no mínimo, dos membros da Câmara dos Deputados ou do Senado Federal; do Presidente da República e de mais da metade das Assembleias Legislativas das unidades da Federação, manifestando-se, cada uma delas, pela maioria relativa de seus membros.
- b) Poderá ser objeto de deliberação a proposta de emenda tendente a abolir a forma federativa de Estado; o voto direto, secreto, universal e periódico; a separação dos Poderes e os direitos e garantias individuais.
- c) A Constituição não poderá ser emendada na vigência de intervenção federal, de estado de defesa ou de estado de sítio.
- d) A proposta será discutida e votada em cada Casa do Congresso Nacional, em dois turnos, considerando-se aprovada se obtiver, em ambos, três quintos dos votos dos respectivos membros.
- e) A emenda à Constituição será promulgada pelas Mesas da Câmara dos Deputados e do Senado Federal, com o respectivo número de ordem.

40) De acordo com o Art. 76 o Poder Executivo é exercido pelo Presidente da República auxiliado pelo(s):

- a) Ministros de Estado.
- b) Ministros do Supremo Tribunal Federal.
- c) Promotores Estaduais.
- d) Desembargador da União.
- e) Juiz Federal da União.

Boa Prova!