

## P07 | Professor - Geografia

### Instruções



Confira o número que você obteve no ato da inscrição com o que está indicado no cartão-resposta.

**\* A duração da prova inclui o tempo para o preenchimento da folha de resposta e do cartão-resposta.**

Para a realização da prova, você receberá um **caderno de prova**, um **cartão-resposta** contendo seu nome, número de inscrição e espaço para assinatura e uma **folha de resposta**, identificada com código alfanumérico.

Verifique, no caderno de prova, se:


- faltam folhas e a sequência de questões está correta.
- há imperfeições gráficas que possam causar dúvidas.


**Comunique imediatamente ao fiscal qualquer irregularidade!**

### Atenção!

- Não é permitido qualquer tipo de consulta durante a realização da prova.
- Para cada questão são apresentadas 5 alternativas diferentes de respostas (a, b, c, d, e). Apenas uma delas constitui a resposta correta em relação ao enunciado da questão.
- A interpretação das questões é parte integrante da prova, não sendo permitidas perguntas aos fiscais.
- Não destaque folhas da prova.

Ao terminar a prova, entregue ao fiscal o caderno de prova completo e o cartão-resposta devidamente preenchidos e assinados.

PREFEITURA DE **CHAPECÓ**  CONCURSO PÚBLICO



Edital 003/2025  
**Professor  
Licenciatura Plena**



25 de outubro



14 às 19h30



60 objetivas  
1 discursiva



5h30 de duração\*

Preencha abaixo o seu nome completo de forma legível (não abrevie o primeiro e o último nomes)

nº de ordem



## Observações

Para prestar a Prova Escrita com questões objetivas, o candidato receberá um **caderno de questões**, uma **folha de resposta** e um **cartão-resposta**, sendo responsável pela conferência dos dados impressos no seu cartão-resposta, pela verificação da correspondência do seu caderno de prova com o cartão-resposta e pela transcrição correta das letras correspondentes às respostas que julgar corretas.

A existência de qualquer irregularidade no caderno de questões e/ou no cartão-resposta deve ser comunicada imediatamente ao Fiscal de Sala. A Coordenação do certame envidará todos os esforços para a rápida substituição dos materiais com defeito. Na impossibilidade da substituição do caderno de provas, o fiscal de sala fará a leitura correta do item impresso com incorreção ou o copiará para que todos anotem. O tempo gasto para a substituição ou correção dos materiais será acrescido ao tempo de duração da prova.

O candidato deverá marcar suas respostas no cartão-resposta utilizando caneta esferográfica feita de material transparente, de tinta azul ou preta, seguindo as instruções nele contidas.

As provas serão corrigidas exclusivamente com base nas marcações do cartão-resposta, sendo desconsideradas quaisquer anotações realizadas no caderno de questões.

O caderno de provas não será disponibilizado ao candidato e será descartado após o término do período recursal.

O preenchimento do cartão-resposta é de inteira responsabilidade do candidato, que deverá proceder em conformidade com as instruções específicas contidas no Edital e no cartão que não será substituído por erro do candidato.

Ao terminar a prova ou no horário determinado para o seu encerramento, o candidato entregará o cartão-resposta devidamente assinado e o caderno de questões. Os três últimos candidatos que restarem na sala de prova só poderão entregar as provas simultaneamente.

**Língua Portuguesa**

10 questões

**Texto 1****Saudades das más notícias**

Notícias tristes, lamentáveis, humanamente pesadas. Mas nunca se tinha notícias tão trágicas e sinistras quanto a desta pandemia, cujo número de vítimas diárias faz chorar o próprio Todo Poderoso. Mais de 1.900 mortes num único dia é como se empilhássemos a queda de cinco Boeings destróçados contra uma montanha. Difícil para a sensibilidade da alma humana.

Lembro-me de um ano, em meio aos 1950 e 1960, em que houve apenas um – isso mesmo –, um assassinato na cidade. Um açougueiro usou suas habilidades de corte em um desafeto, que ficou em decúbito no chão do estabelecimento.

De manhã, havia uma fila, não para comprar a costureira alcatra, mas para admirar o defunto. Era uma cidade gostosamente provinciana, em que se podia atravessar a rua lendo um jornal e dormir com portas e janelas abertas.

O panorama dos telhados limosos, do casario baixo, vizinho da Praça XV, tinha o dom de me remeter à velha Lisboa, com seus becos e ruelas de nomes pitorescos e sonantes, como Rua do Salitre, Rua da Alegria, Travessa do Quebra-Pentes, Beco do Arco Escuro, Rua dos Arameiros, Alameda do Amor Perfeito – e outras raridades tão bem “achadas”.

Para designar ruas e associá-las aos sentimentos, ou ao exercício das profissões, neste Brasil das más notícias, estaríamos obrigados a batizar a maioria das vias públicas com nomes infamantes, como “Rua dos Trampolineiros”, “Rua dos Mensaleiros”, “Alameda dos Petroleiros”, “Avenida dos Corruptos”, “Superquadra dos Corruptores”, “Largo dos Delatores” – ou, para um maior índice de “realismo” – “Calçada dos Doleiros”, sem falarmos no “Congresso dos mais de 300 Picaretas”, como um dia descreveu um antigo presidente.

Em Brasília, onde não há inocentes, só cúmplices – como escreveu Nelson Rodrigues – o país corre o sério risco de se transformar na “República dos Tristes Fados”. Parece que vão faltar lágrimas para o tanto que ainda teremos a lamentar. Ainda vamos sentir saudades das más notícias, que eram apenas más, nunca tragicamente tão incomuns.

Vamos sentir falta das sete pragas bíblicas do Egito, que incluíam rios de sangue e nuvens de gafanhotos. Teremos que rogar a Deus mais do que consolo e misericórdia. Teremos que pedir um grande milagre que salve a humanidade.

RAMOS, Sérgio da Costa. Disponível em: <https://ndmais.com.br/saude/sergio-da-costa-ramos-saudades-das-mas-noticias/>. Acesso em: 15 de set 2025. Publicado em 06/03/21. Adaptado.

1. Sobre o texto 1, é **correto** o que se afirma em:

- a.  Em um ano, no período de 1950 a 1960, houve apenas um assassinato na cidade de Lisboa.
- b.  De acordo com o autor, os males causados pela pandemia Covid-19 são piores do que as sete pragas bíblicas do Egito.
- c.  Os acontecimentos políticos pós-pandemia da Covid-19 transformaram o Brasil na “República dos Tristes Fados”.
- d.  A terceira frase do primeiro parágrafo tem como referência a quantidade de mortos em um acidente aéreo na Ilha de Santa Catarina na década de 1980.
- e.  Algumas sugestões para designar vias públicas no Brasil, entre as quais “Superquadra dos Corruptores” e “Largo dos Delatores”, têm relação com o suposto golpe de estado de 2022.

2. De acordo com o texto 1, é **correto** afirmar que:

- a.  A depender de Brasília, o destino do Brasil poderá tornar-se um país de triste destino.
- b.  A cidade provinciana a que se refere o autor é Florianópolis, na qual há ruas e becos com nomes iguais aos de Lisboa.
- c.  O texto de Sérgio da Costa Ramos é um conto, cujo título é incoerente uma vez que lembra com saudades dos trágicos acontecimentos da pandemia da Covid-19.
- d.  No Brasil, ao contrário de Portugal, os nomes das ruas e avenidas costumam lembrar o “modus operandi” dos políticos e governantes.
- e.  Se Deus castigar o Brasil com as sete pragas do Egito, só restará ao povo brasileiro rogar e pedir misericórdia ao Todo Poderoso.

3. Leia a frase abaixo, extraída do texto 1:

“Mas nunca se tinha notícias tão trágicas e sinistras quanto a desta pandemia, cujo número de vítimas diárias faz chorar o próprio Todo Poderoso.”

Assinale a alternativa **correta** sobre essa frase.

- a.  O termo “nunca” é o único advérbio da frase.
- b.  A frase é um período composto por duas orações coordenadas.
- c.  O verbo “tinha” está na voz passiva e concorda em número e pessoa com o sujeito “notícias tão trágicas e sinistras”.
- d.  As palavras “notícias”, “trágicas”, “número”, “vítimas”, “diárias” e “próprio” têm acento gráfico porque todas são autênticas proparoxítonas.
- e.  Em “a desta pandemia”, o vocábulo sublinhado é um pronome demonstrativo que corresponde ao termo “a notícia”.

4. Assinale a frase que contém o **maior** número de pronomes.

- a.  Há alguns dias, decidi que as roupas antigas que guardo são como nossos amigos: elas sempre estão lá, mesmo quando não as usamos mais.
- b.  Hoje acordei com a nostalgia de uma primeira página limpa de malvadezas, tempos em que os piores assuntos do dia eram apenas a falta d’água, a falta de luz ou de caráter, ou seja, aquilo que de fato nos incomoda.
- c.  Na sexta-feira, 12 de setembro, Ana Flores, uma jovem de 25 anos, saiu de sua casa para o trabalho, no bairro da Querência, que ficava a poucos quarteirões dali.
- d.  Depois de percorrer algumas quadras, encontramos um restaurante de que nós duas gostamos e lá compartilhamos um prato de massas muito gostoso.
- e.  Meu amigo vegetariano é tão dedicado a essa causa que até as plantas têm medo de estar perto dele.

5. Assinale a frase que está de acordo com as normas da língua portuguesa padrão.

- a.  Depois abandonamos ele e se vir para a tv, só por que tem fama, aí se retrata.
- b.  Lamentável, mas tudo o que você pensa e vive, bem ou mal, são consequências de suas escolhas.
- c.  Com essas mentes loucas no mundo da medicina está fazendo as pessoas a não procurar e nem mais confiar em médicos.
- d.  Iguamente você ser assaltado e dizer que teve um diálogo com o criminoso e ele seguiu as regra do vernáculo português.
- e.  Minha opinião podemos até não gostar, porém tem que haver respeito, não podemos se igualar a eles.

6. Assinale a frase **correta** quanto à concordância verbal.

- a.  Estou morando aqui fazem seis meses e já me acostumei com os engarrafamentos nos finais da tarde.
- b.  Comprei uma muda de mirtilo, plantei, veio com flores, deu frutinha só uma vez, fazem três anos, não sei o que fiz de errado.
- c.  Sobre a morte de Ayrton Senna, soube-se que se divulgaram manifestações contraditórias nas redes sociais.
- d.  Aí começa os problemas, pois filhos é o investimento mais arriscado que existem e alguns são verdadeiras bombas relógios e só causam desonra e decepção.
- e.  As críticas são improcedentes, pois em todos os lugares vai existir pessoas desonestas, mas isso não significa que Santa Catarina seja igual aos outros lugares.

7. Assinale a frase em que o termo destacado está **corretamente** empregado.

- a.  Ela é conhecida por agir com **descrição** no trabalho.
- b.  A execução do túnel custará uma **vultuosa** quantia de reais.
- c.  Quando percebeu que perderia a casa, entrou com um **mandato** de segurança.
- d.  Descobertas as manobras fiscais, os empresários irão agora **espiar** seus crimes.
- e.  O líder da bancada **mal** assumiu a nova função e já está decidido a renunciar.

8. Assinale a frase **correta** quanto à regência verbal e nominal.

- a.  Estamos em um país que é difícil de conversar, afirma o desafeto do deputado.
- b.  Essa mulher não é aquela do job e se apaixonou pelo cliente que ela ficava?
- c.  Esqueceu-se rapidamente os ensinamentos que recebeu de seus professores do Ensino Fundamental.
- d.  A causa da resistência ao novo projeto consiste apenas na aversão que ele sente por uma opção que lhe fere os brios.
- e.  O mal das pessoas é sempre acusar sem ter certeza que estava somente arrumando o almoxarifado.

9. Assinale a alternativa **correta** quanto à acentuação gráfica.

- a.  Dona Letícia nunca lhe deu um carinho, chamava-o de Irinóquio, mas dizia ter um coração caridoso, por criar um órfão.
- b.  A música vinha do quarto e ninguém via seu filho, que não saía nem para tomar café ou almoçar.
- c.  A estória dramatiza a vida do funcionário público e a deterioração gradual da sua saúde até ser internado em um hospício.
- d.  A partir daí, a história é narrada com um realismo inesperado que associa o inverossímil e o senso de humor ao que é trágico, grotesco e cruel na condição humana.
- e.  Narradas com lirismo e ironia, as histórias de Alberto Moravia põem em cena as dificuldades econômicas, injustiças sociais e malandrâgens políticas.

10. Assinale a frase **correta** quanto ao emprego de vírgulas.

- a.  Bem, eu também trabalho por aqui, Ernesto então agora vamos nos ver com mais frequência.
- b.  Quando o CO<sub>2</sub> é armazenado ele ocupa muito menos espaço, mesmo em temperatura ambiente.
- c.  Nessa história, os pássaros transformam-se em príncipes, há um rei e duas irmãs, uma generosa e outra malvada.
- d.  Focarei em como um Estado de Direito, mesmo incompleto pode ser utilizado e desafiado a fortalecer os invisíveis, humanizar os demonizados trazendo-os de volta ao domínio do Direito.
- e.  Flores como rosa, magnólia, jasmim e íris são reinventadas com liberdade criativa e suas pétalas, ganham novas texturas, profundidade e expressão.

### Conhecimentos Gerais e Temas da Atualidade

5 questões

11. O território catarinense apresenta diversidade natural que influencia tanto a economia quanto a ocupação do espaço.

Assinale a alternativa **correta** considerando as principais características físicas do estado.

- a.  Santa Catarina possui planaltos e serras marcados por clima subtropical, rios perenes e grande potencial hídrico.
- b.  Santa Catarina é formado por extensos desertos, com clima árido e baixa disponibilidade de água.
- c.  O território catarinense é caracterizado por savanas tropicais secas, com predominância de vegetação rasteira.
- d.  O relevo do estado é composto principalmente por planícies litorâneas de baixa altitude e ausência de serras.
- e.  A hidrografia catarinense é restrita, com rios intermitentes e forte escassez de recursos hídricos.

12. A urbanização acelerada nas últimas décadas trouxe desafios importantes para as cidades brasileiras.

Um dos principais impactos desse processo é:

- a.  A preservação ambiental, com melhora na qualidade do ar urbano.
- b.  A redução do trânsito, com avanço da mobilidade sustentável.
- c.  A queda das desigualdades sociais entre áreas urbanas.
- d.  A expansão habitacional ampla, sem efeitos negativos.
- e.  O crescimento desordenado, com favelização e pressão sobre serviços.

13. A Organização das Nações Unidas (ONU) desempenha um papel central na cooperação internacional. Entre suas funções mais importantes está:

- a.  Criar legislações obrigatórias que substituem as constituições dos países-membros.
- b.  Determinar o regime político a ser adotado por cada nação integrante.
- c.  Definir unilateralmente políticas econômicas internas de países em desenvolvimento.
- d.  Promover a paz e a segurança internacionais por meio da mediação de conflitos e missões de paz.
- e.  Administrar diretamente os sistemas de saúde e educação de seus Estados-membros.

14. A tecnologia tem transformado o mundo do trabalho e a vida cotidiana.

Assinale a alternativa **correta** em relação ao tema.

- a.  A automação tem eliminado apenas cargos de gestão, sem impactar funções operacionais.
- b.  O avanço tecnológico reduziu a necessidade de educação, já que as máquinas substituem todo tipo de conhecimento humano.
- c.  A automação e a inteligência artificial têm modificado processos produtivos, exigindo novas competências e formação continuada dos trabalhadores.
- d.  A inteligência artificial é aplicada apenas em jogos eletrônicos e não interfere em atividades produtivas.
- e.  A transformação digital ocorre exclusivamente em países desenvolvidos, sem impacto em países emergentes.

15. O município de Chapecó, possui destaque regional principalmente por sua economia baseada em:

- a.  Agroindústria especialmente a produção e exportação de carnes.
- b.  Indústria automobilística de grande porte voltada para exportação.
- c.  Mineração de carvão e ferro como principal atividade econômica.
- d.  Setor turístico de sol e praia como motor da economia local.
- e.  Produção têxtil em larga escala, com predominância de exportação para a Ásia.

### Raciocínio Lógico e Informática Básica

5 questões

16. Uma notificação de “alerta de segurança” surge no smartphone de Andreia, avisando sobre uma atividade suspeita na sua conta de um serviço de streaming. A mensagem instrui Andreia a verificar sua identidade imediatamente, fornecendo um link que a leva a uma página que solicita seu e-mail, senha e o código de autenticação de dois fatores.

Considerando os princípios de segurança digital, assinale a alternativa que apresenta **corretamente** a ação mais segura a ser tomada por Andreia.

- a.  Seguir o link da notificação e fornecer os dados para resolver o problema rapidamente, pois a mensagem parece urgente.
- b.  Apenas fechar a notificação, assumindo que é um erro do sistema e ignorando o aviso completamente.
- c.  Alterar a senha do serviço de streaming imediatamente, mas em um dispositivo diferente para evitar qualquer risco.
- d.  Responder à notificação com um e-mail contendo as suas credenciais de acesso, para que o suporte do serviço possa verificar o problema.
- e.  Entrar em contato com o suporte oficial do serviço de streaming através de um canal confiável (site oficial ou aplicativo), sem clicar no link da notificação.

17. Em uma escola municipal, há 120 alunos matriculados. No contraturno, são oferecidas três oficinas: Teatro, Dança e Pintura. Dos alunos:

- 42 participam de Teatro;
- 38 participam de Dança;
- 25 participam de Pintura;
- 12 participam de Teatro e Dança;
- 8 participam de Teatro e Pintura;
- 6 participam de Dança e Pintura;
- 3 participam das três oficinas.

Com base nessas informações, assinale a alternativa que apresenta corretamente o número de alunos que **não** participam de nenhuma das três oficinas no contraturno:

- a.  36
- b.  38
- c.  40
- d.  42
- e.  44

18. Em uma escola, um grupo de 12 alunos será escolhido para formar um comitê de 4 representantes para organizar atividades culturais. Entre os 12 alunos, 5 já participaram de comitês anteriores e 7 nunca participaram. O comitê deve conter no mínimo 2 alunos que nunca participaram antes. Todos os integrantes terão funções iguais.

Assinale a alternativa que apresenta **corretamente** de quantas maneiras diferentes o comitê pode ser formado.

- a.  560
- b.  495
- c.  455
- d.  420
- e.  400

19. Considere a seguinte proposição composta A.

$$A: (p \vee \neg q) \wedge (\neg p \vee q) \rightarrow (p \leftrightarrow q)$$

Assinale a alternativa que apresenta **corretamente** a classificação lógica da proposição A.

- a.  Uma contradição, pois é sempre falsa.
- b.  Uma tautologia, pois é sempre verdadeira.
- c.  Uma tautologia, pois seu valor lógico depende de p.
- d.  Uma contradição, pois seu valor lógico só depende de q.
- e.  Uma tautologia, pois apresenta valores falsos e verdadeiros.

20. Assinale a alternativa que indica **corretamente** a principal vantagem estrutural e de navegação que a aplicação dos estilos de cabeçalho (como Título 1, Título 2 etc.) oferece em documentos no Google Docs.

- a.  Impede modificações acidentais no formato original do texto.
- b.  Muda o modo de visualização do documento de "Paginação" para "Sem páginas".
- c.  Permite a criação de uma Estrutura de Tópicos lateral e a geração dinâmica de um índice com links navegáveis.
- d.  Define automaticamente o tipo de fonte para Arial e o tamanho para 12pt em todo o documento.
- e.  Assegura que o documento seja convertido para o formato DOCX ao ser compartilhado por e-mail.

## Legislação e Temas da Educação 5 questões

21. A Lei nº 9.394/1996 (LDB), ao estabelecer os princípios que regem o ensino no Brasil, inclui o "respeito à liberdade e apreço à tolerância" como um dos fundamentos da educação nacional.

Considerando esse princípio, assinale a alternativa que expressa **corretamente** sua aplicação no contexto educacional:

- a.  Refere-se à garantia de liberdade religiosa e política no ambiente escolar, desde que não interfiram nos conteúdos curriculares obrigatórios definidos pelas diretrizes nacionais.
- b.  Fundamenta-se na neutralidade ideológica do docente, que deve evitar posicionamentos críticos frente a temas controversos, a fim de preservar a imparcialidade do processo educativo.
- c.  Estabelece que o respeito à liberdade deve ser condicionado à aceitação das normas institucionais, sendo a tolerância um valor fortuito frente à disciplina escolar.
- d.  Visa à formação de cidadãos disciplinados às normas sociais vigentes, evitando o debate sobre temas que possam gerar conflitos de opinião entre os estudantes.
- e.  Implica na promoção de práticas pedagógicas que assegurem a pluralidade de ideias e o reconhecimento das identidades culturais, mesmo que isso contrarie valores morais predominantes na comunidade escolar.

**22.** São competências gerais da Educação Básica previstas na BNCC:

1. Valorizar e fruir as manifestações artísticas e culturais uniformes locais e também participar de práticas padronizadas da produção artístico-cultural.
2. Utilizar diferentes linguagens – verbal (oral ou visual-motora, como Libras, e escrita), corporal, visual, sonora e digital –, bem como conhecimentos das linguagens artística, matemática e científica.
3. Fazer escolhas alinhadas ao exercício da cidadania e ao seu projeto de vida, com liberdade, autonomia, consciência crítica e responsabilidade.

Assinale a alternativa que indica todas as afirmativas **corretas**.

- a.  É correta apenas a afirmativa 2.
- b.  São corretas apenas as afirmativas 1 e 2.
- c.  São corretas apenas as afirmativas 1 e 3.
- d.  São corretas apenas as afirmativas 2 e 3.
- e.  São corretas as afirmativas 1, 2 e 3.

**23.** A construção do Projeto Político-Pedagógico (PPP) e a efetivação da gestão democrática nas instituições de ensino público são orientadas por princípios constitucionais e diretrizes das políticas públicas educacionais.

Assinale a alternativa **correta** considerando esse contexto.

- a.  A valorização docente, como política pública, está restrita ao aumento salarial, não sendo considerada parte da qualidade social da educação.
- b.  O PPP deve ser elaborado exclusivamente pela equipe gestora da escola, garantindo maior eficiência administrativa e alinhamento técnico com as metas educacionais nacionais.
- c.  A gestão democrática e o PPP devem ser construídos com a participação efetiva da comunidade escolar, como instrumento de promoção da equidade, inclusão, valorização docente e qualidade social da educação.
- d.  A gestão democrática, conforme prevista na Constituição Federal e no Plano Nacional de Educação, pressupõe a participação consultiva dos profissionais da educação, sem poder decisório sobre o PPP.
- e.  A equidade e a inclusão educacional são metas secundárias das políticas públicas, subordinadas à eficiência dos indicadores de desempenho escolar.

**24.** A Lei nº 8.069/1990, que institui o Estatuto da Criança e do Adolescente, estabelece o princípio da proteção integral e reconhece crianças e adolescentes como sujeitos de direitos.

Assinale a alternativa **correta** considerando os dispositivos legais que tratam dos direitos fundamentais.

- a.  A prioridade absoluta na efetivação dos direitos da criança e do adolescente implica, entre outros aspectos, a destinação privilegiada de recursos públicos para políticas sociais voltadas à infância e juventude.
- b.  A proteção integral prevista no ECA se destina às crianças e aos adolescentes em situação de vulnerabilidade social, sendo facultativa às demais crianças e adolescentes.
- c.  O direito à convivência familiar e comunitária pode ser relativizado em função da conveniência administrativa, desde que haja justificativa técnica.
- d.  A liberdade de expressão da criança e do adolescente está condicionada à autorização prévia dos pais ou responsáveis, não sendo reconhecida como direito autônomo.
- e.  O direito à educação, à cultura e ao lazer é garantido prioritariamente às crianças e aos adolescentes regularmente matriculados em instituições de ensino reconhecidas pelo poder público.

**25.** Identifique abaixo as afirmativas verdadeiras (V) e as falsas (F) sobre os temas contemporâneos transversais na educação brasileira.

- ( ) A inclusão de temas como diversidade étnico-racial e direitos humanos no currículo escolar contribui para a formação cidadã e o combate à discriminação.
- ( ) A sustentabilidade é um tema transversal que deve ser tratado apenas nas disciplinas de ciências naturais, não sendo relevante para áreas como artes ou história.
- ( ) A incorporação de tecnologias digitais no ambiente escolar deve considerar aspectos éticos, de acessibilidade e de formação docente.
- ( ) O combate à violência nas escolas envolve ações pedagógicas, políticas de convivência e articulação com a comunidade escolar.

Assinale a alternativa que indica a sequência **correta**, de cima para baixo.

- a.  V•V•F•V
- b.  V•F•V•V
- c.  V•F•V•F
- d.  F•V•V•F
- e.  F•F•F•V

## Didática

5 questões

**26.** Consta no documento da Política Nacional de Educação Especial na Perspectiva da Educação Inclusiva (2008) que o Atendimento Educacional Especializado (AEE) deve:

- a.  Substituir as aulas regulares para todos os estudantes público-alvo da educação especial.
- b.  Promover somente o ensino de conteúdos adaptados da disciplina de Língua Portuguesa.
- c.  Ser ofertado apenas como reforço escolar para todos os estudantes com baixo rendimento escolar.
- d.  Ser oferecido no contraturno, de forma a complementar e/ou suplementar a formação dos estudantes público-alvo da educação especial, garantindo-lhes acesso, participação e aprendizagem no ensino regular.
- e.  Preparar os estudantes público-alvo da educação especial para o mercado de trabalho dando preferência a propostas que desenvolvam as habilidades manuais.

**27.** De acordo com pesquisadores do campo educacional, qual é o objeto central de estudo da didática?

- a.  O desenvolvimento infantil em seus aspectos psicológicos e sociológicos.
- b.  O processo de ensino-aprendizagem e suas mediações.
- c.  Os instrumentos de avaliação nacional.
- d.  O regimento escolar e suas bases filosóficas.
- e.  O fluxo organizacional e administrativo da escola.

**28.** O conceito de Zona de Desenvolvimento Proximal, presente na Teoria Histórico-Cultural, refere-se:

- a.  Ao nível de conhecimento internalizado pelo estudante de maneira linear.
- b.  À habilidade de realizar tarefas de maneira mecânica.
- c.  Ao processo de desenvolvimento biológico que determina a maturação e a aprendizagem do estudante.
- d.  À aprendizagem que ocorre de maneira espontânea, sem mediação docente ou de outros sujeitos mais experientes.
- e.  À distância entre o que o estudante realiza de maneira autônoma, ou seja, sozinho, e o que realiza com ajuda de outros sujeitos mais experientes, ou seja, com mediação.

**29.** De acordo com estudos contemporâneos, ao compreender o currículo como a união de experiências escolares, ou seja, como um conjunto de experiência pedagógica, se faz necessário:

- a.  Limitar o planejamento docente à listagem dos conteúdos de cada disciplina.
- b.  Restringir a atividade de ensino apenas aos conteúdos prescritos nos documentos oficiais.
- c.  Focar a ação docente em propostas que visem a memorização dos conceitos acadêmicos.
- d.  Levar em consideração que os saberes escolares precisam estar articulados à realidade social, cultural e histórica dos estudantes.
- e.  Dar prioridade aos conteúdos conceituais de cada disciplina em detrimento das demais dimensões humanas.

**30.** Analise o texto abaixo:

No contexto educacional, pesquisadores que estudam a questão curricular sinalizam que não basta definir a ..... como junção de disciplinas ou aproximação de conteúdos, ela vai muito além: é uma atitude permeada pelo respeito ao próximo e ao mundo, uma ação que extrapola o ambiente escolar e que envolve as esferas dos saberes, ações e sentimentos.

Assinale a alternativa que completa **corretamente** a lacuna do texto.

- a.  disciplinaridade fechada
- b.  disciplinaridade
- c.  interdisciplinaridade
- d.  monodisciplinaridade
- e.  segmentação curricular

**Conhecimentos Específicos**

30 questões

**31.** A geologia é a ciência que estuda os processos pelos quais o planeta Terra passa, tais como a formação das rochas e dos minerais.

Analise as afirmativas abaixo sobre a geologia do globo.

1. A estrutura interna do globo terrestre mostra que o planeta possui uma série de esferas aproximadamente concêntricas e que a Terra é uma esfera perfeita.
2. O atual modelo da estrutura terrestre subdividiu-se em três grandes partes, ou seja, crosta, manto e núcleo.
3. A temperatura e a densidade das rochas e dos materiais que as formam tendem a diminuir com a profundidade, então a densidade da crosta é maior do que a densidade média do manto, que é maior do que a densidade média do núcleo.

Assinale a alternativa que indica todas as afirmativas **corretas**.

- a.  É correta apenas a afirmativa 2.
- b.  É correta apenas a afirmativa 3.
- c.  São corretas apenas as afirmativas 1 e 2.
- d.  São corretas apenas as afirmativas 1 e 3.
- e.  São corretas as afirmativas 1, 2 e 3.

**32.** A Base Nacional Comum Curricular (BNCC) é um documento que define o conjunto de habilidades que devem ser desenvolvidas em um processo progressivo de aprendizagens essenciais ao longo dos anos escolares em todas as etapas e modalidades da educação básica, de forma que os estudantes tenham assegurados seus direitos de aprendizagem e desenvolvimento.

Analise as afirmativas abaixo de acordo com o BNCC da componente curricular do Ensino Fundamental da Rede Municipal de Ensino de Chapecó.

1. Estudar Geografia é uma oportunidade de compreender o mundo em que se vive.
2. A educação geográfica contribui para a formação do conceito de identidade que pode ser expresso na compreensão da paisagem, nas relações dos lugares vividos, nos costumes que resgatam nossa memória social ou ainda na identidade cultural que cada ser possui e nas suas diferenças.
3. O estudo da Geografia é estático nas interações entre o meio e o ser humano.
4. O letramento geográfico impulsiona o desenvolvimento de diversos raciocínios, entre eles o raciocínio geográfico para retratar e explicar o mundo.

Assinale a alternativa que indica todas as afirmativas **corretas**.

- a.  São corretas apenas as afirmativas 1 e 3.
- b.  São corretas apenas as afirmativas 1 e 4.
- c.  São corretas apenas as afirmativas 2 e 3.
- d.  São corretas apenas as afirmativas 1, 2 e 4.
- e.  São corretas as afirmativas 1, 2, 3 e 4.

**33.** Em um plebiscito de junho de 2016, a população de um determinado país votou para que o mesmo deixasse de ser membro da União Europeia, processo que ficou conhecido como Brexit, envolvendo complexas negociações entre o país e a União Europeia. Foi a primeira vez em que um país membro saiu do bloco econômico.

Assinale a alternativa que indica **corretamente** esse país que saiu da União Europeia.

- a.  Itália.
- b.  Áustria.
- c.  Polônia.
- d.  Alemanha.
- e.  Reino Unido.

**34.** Um mapa é uma representação gráfica de uma área em uma superfície plana.

Analise as afirmativas abaixo sobre os mapas.

1. Os meridianos e paralelos traçados no mapa permitem determinar as coordenadas geográficas, latitude e longitude, em apenas um local do mapa.
2. A legenda fornece o significado da simbologia utilizada no mapa.
3. O título identifica o mapa e o assunto tratado em questão.
4. A escala é a relação entre a medida de um objeto representado e a medida desse mesmo objeto no seu tamanho real.

Assinale a alternativa que indica todas as afirmativas corretas.

- a.  São corretas apenas as afirmativas 1 e 2.
- b.  São corretas apenas as afirmativas 1 e 4.
- c.  São corretas apenas as afirmativas 2 e 3.
- d.  São corretas apenas as afirmativas 2, 3 e 4.
- e.  São corretas as afirmativas 1, 2, 3 e 4.

**35.** Um mapa é a representação reduzida da superfície terrestre. O que determina essa redução é a proporção entre o desenho e a superfície real.

Sobre os mapas, a escala será:

1. maior quando houver menor redução.
2. menor quando houver maior redução.
3. maior quando houver maior redução.
4. menor quando houver menor redução.

Assinale a alternativa que indica todas as afirmativas corretas.

- a.  É correta apenas a afirmativa 1.
- b.  São corretas apenas as afirmativas 1 e 2.
- c.  São corretas apenas as afirmativas 1 e 4.
- d.  São corretas apenas as afirmativas 2 e 3.
- e.  São corretas apenas as afirmativas 3 e 4.

**36.** No estado de Santa Catarina, a Floresta Ombrófila Mista é uma vegetação predominante e integra o bioma:

- a.  da mata atlântica.
- b.  do cerrado.
- c.  do pampa.
- d.  da pradaria.
- e.  da floresta laticulifoliada.

**37.** Uma projeção cartográfica é o resultado de um conjunto de operações que possibilita representar, em um plano, os fenômenos que estão dispostos na superfície do planeta, que é esférica. Quando as informações são transpostas de uma área curva para uma área plana ocorrem distorções de áreas, formas e distâncias. Nas proximidades do centro dessa projeção, que, no caso, seria a linha do Equador, é que se verifica a distorção mínima e quanto maior for o afastamento a partir dessa linha imaginária, maior será a distorção.

A projeção em que as formas terrestres como continentes e ilhas são representadas sem distorção, porém, com alteração no tamanho de suas áreas e tendo como exemplo a mais famosa delas, a de Mercator, é chamada de:

- a.  Projeção Aflática.
- b.  Projeção de Peters.
- c.  Projeção Conforme.
- d.  Projeção Equivalente.
- e.  Projeção Equidistante.

**38.** Tufão, ciclone e furacão são nomes regionais para ciclones tropicais. Meteorologistas dão o nome de ciclones tropicais para grandes quantidades de ar com baixa pressão atmosférica que se movem organizadamente sobre as regiões marítimas próximas à área equatorial do globo terrestre.

Analise as afirmativas abaixo sobre esses eventos climáticos.

1. Os ventos dos furacões que se originam no hemisfério norte sopram no sentido anti-horário.
2. Os ventos dos furacões que se originam no hemisfério norte sopram no sentido horário.
3. Os ventos dos furacões que se originam no hemisfério sul sopram no sentido horário.
4. Os ventos dos furacões que se originam no hemisfério sul sopram no sentido anti-horário.

Assinale a alternativa que indica todas as afirmativas corretas.

- a.  É correta apenas a afirmativa 1.
- b.  São corretas apenas as afirmativas 1 e 3.
- c.  São corretas apenas as afirmativas 1 e 4.
- d.  São corretas apenas as afirmativas 2 e 4.
- e.  São corretas apenas as afirmativas 1, 2 e 3.

39. Um importante efeito da globalização e do livre comércio é a formação dos blocos econômicos.

Analise as afirmativas abaixo em relação ao tema.

1. A formação dos blocos econômicos desacelerou o comércio mundial.
2. Em uma área de livre comércio, um grupo de países concorda em reduzir ou eliminar as taxas de importação e os impostos que caem sobre a maior parte das mercadorias importadas e exportadas por esses países.
3. Em uma União aduaneira, os países membros definem regras para o comércio com os demais países que não fazem parte do bloco.
4. Em um Mercado comum, além das mercadorias, capitais e serviços, os trabalhadores precisam de autorização para circular livremente.

Assinale a alternativa que indica todas as afirmativas corretas.

- É correta apenas a afirmativa 2.
- São corretas apenas as afirmativas 1 e 2.
- São corretas apenas as afirmativas 1 e 4.
- São corretas apenas as afirmativas 2 e 3.
- São corretas as afirmativas 1, 2, 3 e 4.

40. O solstício de inverno é um fenômeno físico e astronômico. Ele marca o início do inverno no hemisfério sul do globo terrestre.

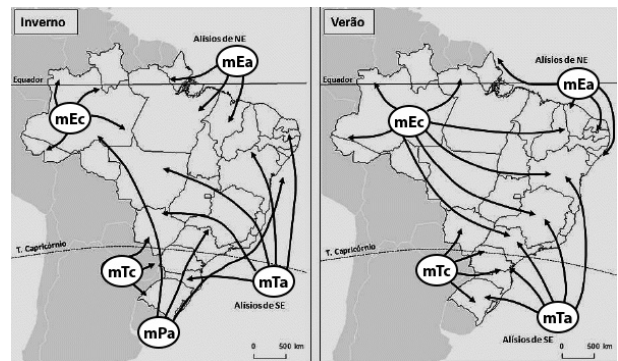
Analise as afirmativas abaixo sobre o solstício.

1. No solstício de inverno, uma vez ao ano, na região sul do Brasil, existe um momento exato em que os raios solares incidem no globo terrestre paralelamente ao Trópico de Capricórnio, devido à inclinação do globo.
2. As regiões acima da linha do Equador ficam menos expostas ao Sol.
3. No solstício de inverno, temos o dia mais curto e a noite mais longa do ano, e no Brasil, essa variação pode ocorrer desde minutos ou poucas horas à medida que nos dirigimos mais ao sul do país.

Assinale a alternativa que indica todas as afirmativas corretas.

- É correta apenas a afirmativa 1.
- É correta apenas a afirmativa 3.
- São corretas apenas as afirmativas 1 e 3.
- São corretas apenas as afirmativas 2 e 3.
- São corretas as afirmativas 1, 2 e 3.

41. Observe abaixo o mapa das massas de ar atuantes no Brasil.



Analise as afirmativas abaixo sobre as massas de ar.

1. A Massa Equatorial Continental (mEc) é quente e úmida, formando-se na Amazônia, e exerce influência sobre a Região Norte.
2. A Massa Equatorial Atlântica (mEa) é quente e seca; origina-se no Oceano Pacífico atuando na faixa litorânea de Norte até o Nordeste brasileiro.
3. A Massa Tropical Continental (mTc) forma-se na região do Chaco.
4. A Massa Tropical Atlântica (mTa) é quente e seca.
5. A Massa Polar Atlântica (mPa), fria e úmida, é a única massa fria que se origina sobre o Oceano Atlântico, causando quedas de temperatura e chuvas, principalmente no sul do Brasil durante o inverno.

Assinale a alternativa que indica todas as afirmativas corretas.

- É correta apenas a afirmativa 5.
- São corretas apenas as afirmativas 1 e 2.
- São corretas apenas as afirmativas 1, 3 e 5.
- São corretas apenas as afirmativas 2, 3, 4 e 5.
- São corretas as afirmativas 1, 2, 3, 4 e 5.

42. Em um mapa que possui a medida real entre duas cidades de 10 km e a medida gráfica é de 10 cm, qual é a escala desse mapa?

- 1: 1.000.000
- 1: 100.000
- 1: 10.000
- 1: 1000
- 1: 1

**43.** Analise as afirmativas abaixo sobre o Domínio das Araucárias brasileiro.

1. As florestas de Araucárias são encontradas no sul brasileiro, entre o Centro-sul do Paraná e o norte do Rio Grande do Sul, locais com altitudes comumente acima dos 800 metros.
2. O clima semiárido é acentuado por essa altitude, resultando em geadas durante o inverno.
3. A floresta aciculifoliada, composta principalmente pelas araucárias, foi quase destruída devido à expansão da agricultura e à exploração de sua madeira pela indústria de construção civil e de papel e celulose.

Assinale a alternativa que indica todas as afirmativas **corretas**.

- É correta apenas a afirmativa 1.
- É correta apenas a afirmativa 2.
- São corretas apenas as afirmativas 1 e 2.
- São corretas apenas as afirmativas 1 e 3.
- São corretas as afirmativas 1, 2 e 3.

**44.** Podemos dizer que o globo terrestre é uma “miniatura” do planeta Terra. A fim de ser possível nos localizarmos no globo, foram criadas as coordenadas geográficas.

Identifique abaixo as afirmativas verdadeiras ( V ) e as falsas ( F ) sobre as coordenadas geográficas.

- ( ) As coordenadas geográficas são um sistema de linhas físicas que servem para localizar um ponto qualquer na superfície terrestre.
- ( ) O sistema de coordenadas geográficas é formado por paralelos e por meridianos, que nos indicam, respectivamente, as latitudes e as longitudes.
- ( ) A distância das coordenadas geográficas é realizada de acordo com o sistema de medida de graus, minutos e segundos.

Assinale a alternativa que indica a sequência **correta**, de cima para baixo.

- V • V • V
- V • F • F
- F • V • V
- F • V • F
- F • F • V

**45.** Analise as afirmativas abaixo sobre as camadas atmosféricas e a composição do ar.

1. A Terra está envolvida por uma camada de gases chamada de atmosfera.
2. A estratosfera é a camada mais próxima da superfície terrestre.
3. Na termosfera ocorre a interceptação dos ventos solares, partículas energéticas provindas do Sol e que poderiam causar estragos na Terra caso não houvesse a proteção da termosfera.

Assinale a alternativa que indica todas as afirmativas **corretas**.

- É correta apenas a afirmativa 1.
- É correta apenas a afirmativa 2.
- São corretas apenas as afirmativas 1 e 3.
- São corretas apenas as afirmativas 2 e 3.
- São corretas as afirmativas 1, 2 e 3.

**46.** O solo, que está sempre em modificação, é um conjunto de matéria orgânica e partículas de minerais de diferentes dimensões.

Analise as afirmativas abaixo sobre os solos e sua dinâmica.

1. As características dos solos estão relacionadas ao seu processo de formação chamado de pedogênese e os fatores principais, que influenciam em sua formação, são a rocha de origem, o clima da região, o relevo, a ação de organismos e o tempo.
2. Os solos são formados pela ação combinada de intemperismo químico e físico sobre as rochas.
3. O intemperismo mecânico é a decomposição química das rochas por processos superficiais que alteram a composição mineral do material.

Assinale a alternativa que indica todas as afirmativas **corretas**.

- É correta apenas a afirmativa 1.
- São corretas apenas as afirmativas 1 e 2.
- São corretas apenas as afirmativas 1 e 3.
- São corretas apenas as afirmativas 2 e 3.
- São corretas as afirmativas 1, 2 e 3.

**47.** Assinale a alternativa **correta** sobre a composição do ar atmosférico.

- a.  O gás que está presente em maior quantidade na atmosfera terrestre é o nitrogênio.
- b.  O gás carbônico não existe na atmosfera terrestre.
- c.  O gás argônio é o que tem menor concentração na atmosfera terrestre.
- d.  O gás argônio é o segundo com maior concentração na atmosfera terrestre.
- e.  O oxigênio é o gás em maior quantidade na atmosfera terrestre, sendo fundamental para a respiração de plantas e animais.

**48.** O planeta Terra está em constantes mudanças decorrentes de processos químicos, físicos e biológicos, que atribuem dinâmicas à estrutura da litosfera terrestre. Esses processos, ao longo de milhares de anos e que continuam a acontecer, possibilitaram a formação dos minerais, das rochas, das bacias sedimentares e de tantas outras formas terrestres.

Analise as afirmativas abaixo sobre o tipo de rochas e sua formação.

1. Quando o planeta estava em formação, a temperatura era muito elevada, o que impossibilitava a solidificação das rochas – o que veio a acontecer a partir do momento em que as temperaturas baixaram o suficiente para permitir a cristalização dos minerais.
2. A crosta primitiva da Terra foi formada inicialmente pelas rochas sedimentares.
3. Quando a cristalização das rochas acontece no interior da crosta terrestre, o resfriamento é mais lento e permite a formação de rochas de granulação maior, formando as chamadas rochas intrusivas, como o granito.
4. Quando o magma extravasa e se resfria na superfície terrestre, forma as rochas extrusivas, como o basalto.

Assinale a alternativa que indica todas as afirmativas **corretas**.

- a.  São corretas apenas as afirmativas 1 e 2.
- b.  São corretas apenas as afirmativas 1 e 4.
- c.  São corretas apenas as afirmativas 2 e 3.
- d.  São corretas apenas as afirmativas 1, 3 e 4.
- e.  São corretas as afirmativas 1, 2, 3 e 4.

**49.** Analise as afirmativas abaixo sobre a importância da luz no imageamento fotogramétrico.

1. O sistema ativo de energia solar depende da luz do dia ou da luz solar, pois ele mesmo gera a luz.
2. O sistema passivo não depende da luz solar.
3. Nas imagens de satélite, o satélite imageia mesmo com céu coberto de nuvens.

Assinale a alternativa que indica todas as afirmativas **corretas**.

- a.  É correta apenas a afirmativa 1.
- b.  É correta apenas a afirmativa 3.
- c.  São corretas apenas as afirmativas 1 e 2.
- d.  São corretas apenas as afirmativas 1 e 3.
- e.  São corretas apenas as afirmativas 2 e 3.

**50.** Energia é a habilidade de fabricar algum tipo de trabalho ou pôr algo em movimento. A energia tem grande consequência para a atividade humana na medida em que possibilita o progresso da vida na Terra e ampara a atividade econômica. De modo geral, a energia é classificada em energia limpa e energia suja, energia renovável e energia não renovável, e energia tradicional e energia alternativa.

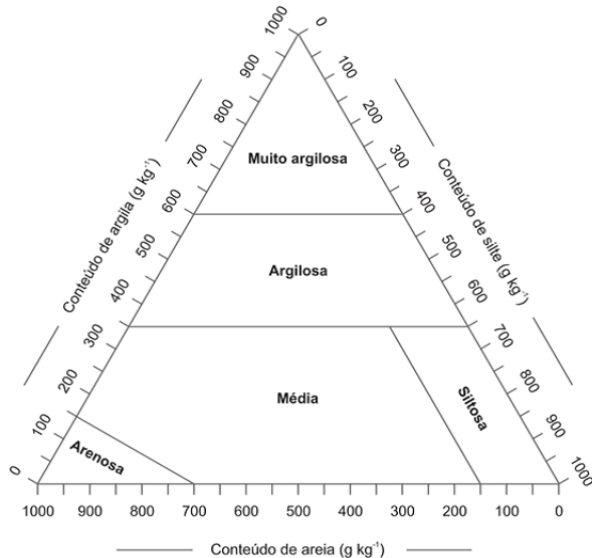
Analise as afirmativas abaixo acerca da energia e suas características e possibilidades.

1. Energia é a habilidade de fabricar algum tipo de trabalho ou pôr algo em movimento e tem grande consequência para a atividade humana, na medida em que não interfere no progresso da vida na Terra e ampara a atividade econômica.
2. A energia limpa é aquela que não libera, durante o seu processo de demanda, resíduos ou gases poluentes geradores do aquecimento global e do efeito estufa.
3. O gás natural é uma energia renovável.
4. A energia tradicional é a fonte de energia mais utilizada desde os primórdios na história da humanidade, como a lenha, o petróleo, a energia solar, o carvão mineral e a maremotriz.

Assinale a alternativa que indica todas as afirmativas **corretas**.

- a.  É correta apenas a afirmativa 2.
- b.  São corretas apenas as afirmativas 1 e 3.
- c.  São corretas apenas as afirmativas 2 e 3.
- d.  São corretas apenas as afirmativas 1, 2 e 3.
- e.  São corretas as afirmativas 1, 2, 3 e 4.

51. O diagrama abaixo foi elaborado pela EMBRAPA (Empresa Brasileira de Pesquisa Agropecuária). Conforme esse diagrama, a depender da proporção entre argila, silte e areia, o solo será classificado com textura muito argilosa, siltosa, média ou arenosa.



Fonte: Empresa Brasileira de Pesquisa Agropecuária. Sistema brasileiro de classificação de solos. Brasília, DF: Embrapa, 2018. 356 p. Disponível em: <https://www.embrapa.br/solos/sibcs>

Assinale a alternativa **correta** tendo como apoio o diagrama acima.

- Solos mais argilosos tendem a ser mais erodíveis.
- Solos mais arenosos tendem a ser menos erodíveis.
- Quanto menor for o teor de partículas maiores, como a areia no solo, menor será a tendência de erosão nesse solo.
- Quanto menor for o teor de partículas maiores, como a areia, menor será a tendência de erosão no solo.
- Quanto maior for o teor de partículas maiores, como a areia no solo, maior será a tendência de erosão nesse solo.

52. Analise as afirmativas abaixo sobre os sistemas de posicionamento e navegação por satélites.

- Um sistema global de posicionamento e navegação é composto pelo segmento espacial, de controle terrestre e de usuários.
- Um exemplo do segmento de usuários seria os aparelhos receptores móveis ou acoplados em veículos terrestres, aquáticos ou aéreos.
- Um exemplo do controle terrestre seria as estações de monitoramento e antenas de recepção na superfície.
- Um exemplo do segmento espacial seria a constelação de satélites em órbita na Terra.

Assinale a alternativa que indica todas as afirmativas **corretas**.

- É correta apenas a afirmativa 2.
- É correta apenas a afirmativa 3.
- É correta apenas a afirmativa 4.
- São corretas apenas as afirmativas 1 e 4.
- São corretas as afirmativas 1, 2, 3 e 4.

53. Os corpos de água superficiais podem ser classificados quanto à sua capacidade de se manter ao longo do tempo diante da alimentação de água promovida pelo lençol freático.

Assinale a alternativa **correta** sobre os corpos de água efêmeros.

- Existem apenas durante ou imediatamente após os períodos de precipitação e só transportam escoamento superficial.
- A parcela de água infiltrada atinge o lençol freático.
- São também chamados de intermitentes.
- Contém água durante todo o tempo, pois são alimentados continuamente pelo lençol freático.
- Escoam durante as estações de chuvas e ficam secos nas estações de estiagem, na medida em que o lençol freático os alimenta, mas não de modo permanente.

54. Analise as afirmativas abaixo sobre a Região Sul do Brasil.

1. Seu clima e vegetação apresentam características que a diferenciam das outras regiões do Brasil.
2. Está localizada ao norte do Trópico de Câncer, na zona temperada, dominada pelo clima subtropical.
3. Seu relevo é caracterizado pela presença de serras, ou seja, planaltos.

Assinale a alternativa que indica todas as afirmativas corretas.

- a.  É correta apenas a afirmativa 1.
- b.  É correta apenas a afirmativa 2.
- c.  São corretas apenas as afirmativas 1 e 3.
- d.  São corretas apenas as afirmativas 2 e 3.
- e.  São corretas as afirmativas 1, 2 e 3.

55. Somos mais de 200 milhões de habitantes de acordo com o último censo demográfico do Instituto Brasileiro de Geografia e Estatística (IBGE).

Identifique abaixo as afirmativas verdadeiras (V) e as falsas (F) em relação à população brasileira.

- ( ) A expectativa de vida do brasileiro vem crescendo nos últimos anos refletindo a piora geral das condições de vida e saúde no país.
- ( ) O maior acesso à água potável e à rede de esgoto, bem como o maior acesso a serviços de saúde e campanhas de vacinação e de prevenção de doenças contribuem para a longevidade da população.
- ( ) O aumento das taxas de fecundidade somado ao aumento da esperança de vida têm auxiliado para o envelhecimento da população brasileira.

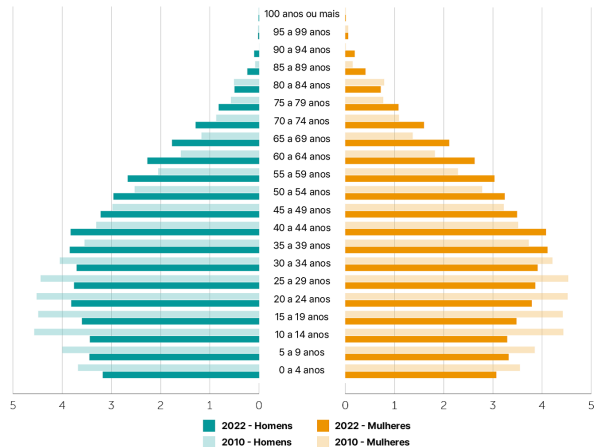
Assinale a alternativa que indica a sequência correta, de cima para baixo.

- a.  V • V • V
- b.  V • V • F
- c.  V • F • F
- d.  F • F • V
- e.  F • V • F

56. A pirâmide de idades é um gráfico que nos permite visualizar o número de habitantes e sua distribuição por idade e sexo.

População residente no Brasil (%)

Segundo sexo e grupos de idade, em 2010 e 2022



Fontes: Censo Demográfico 2022: População por idade e sexo - Resultados do universo; IBGE - Censo Demográfico 2010

Analise as afirmativas abaixo sobre a pirâmide de idades ilustrada.

1. A população brasileira continua envelhecendo com um aumento significativo e contínuo da proporção de idosos.
2. A pirâmide etária vem mostrando uma base maior a cada década devido as taxas de natalidade cada vez maiores.
3. O topo da pirâmide tem aumentado, o que significa que há um número maior de idosos na população.
4. Se a pirâmide apresenta um aspecto triangular, indica que o percentual de jovens no conjunto da população é alto.

Assinale a alternativa que indica todas as afirmativas corretas.

- a.  São corretas apenas as afirmativas 2 e 3.
- b.  São corretas apenas as afirmativas 3 e 4.
- c.  São corretas apenas as afirmativas 1, 2 e 4.
- d.  São corretas apenas as afirmativas 1, 3 e 4.
- e.  São corretas as afirmativas 1, 2, 3 e 4.

**57.** Movimentos sociais são formas de ordenamento coletivo que buscam estimular transformações coletivas para promover mudanças sociais, culturais ou políticas em uma sociedade. Esses movimentos surgem a partir de mobilizações de pessoas, que dividem valores e interesses ou objetivos em comum e atuam em prol dessas causas, geralmente em resposta a problemas específicos ou injustiças e necessidades não atendidas por uma parcela da sociedade, inclusive no ambiente escolar, palco de muita diversidade.

Analise as afirmativas abaixo sobre o ambiente escolar gerador de educação inclusiva e diversidade.

1. Sistemas educacionais inclusivos indicam uma nova visão da educação, que adota o compromisso legal de oferecer educação de qualidade para todos, na qual a diversidade deve ser entendida e promovida como elemento enriquecedor da aprendizagem e incentivador do desenvolvimento pessoal e social.
2. As escolas devem garantir a educação de qualidade com imparcialidade, promovendo transformações nos sistemas educacionais, no funcionamento e organização das escolas, e nas atitudes e práticas dos docentes, de modo a desenvolver uma cultura educacional que atenda à diversidade de seus alunos.
3. A educação inclusiva presume que todas as crianças devem aprender juntas, apesar de suas condições sociais, pessoais e culturais serem diferentes, assim como suas habilidades e potenciais.
4. O não reconhecimento da diversidade como um recurso existente na escola e o ciclo que acontece devido a essa rotulação, discriminação e exclusão do estudante, colaboram para enraizar os desequilíbrios educacionais ao invés de combatê-los.

Assinale a alternativa que indica todas as afirmativas corretas.

- a.  É correta apenas a afirmativa 4.
- b.  São corretas apenas as afirmativas 1 e 2.
- c.  São corretas apenas as afirmativas 2 e 3.
- d.  São corretas apenas as afirmativas 1, 2 e 4.
- e.  São corretas as afirmativas 1, 2, 3 e 4.

**58.** Os meridianos são linhas desenhadas no globo terrestre no sentido:

- a.  Norte-Sul.
- b.  Leste-Oeste.
- c.  Oeste-Leste.
- d.  Norte-Leste.
- e.  Sul-Norte.

**59.** A água é um elemento determinante para a vida na Terra. Estudar o seu comportamento e suas possíveis formas é importante para entendermos como se comporta esse elemento. O conhecimento do ciclo hidrológico é fundamental para compreender os processos que envolvem a circulação e a movimentação da água no ambiente terrestre, atmosférico e aquático.

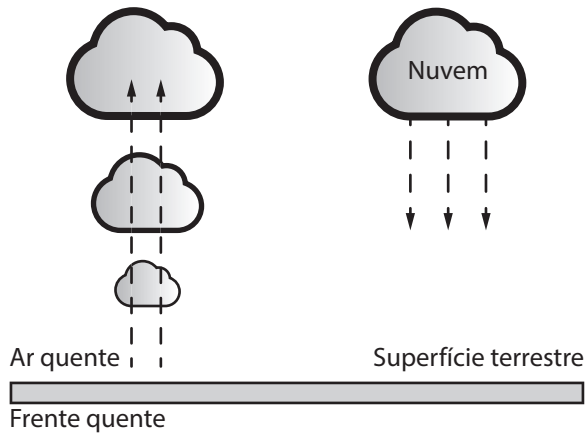
Analise as afirmativas abaixo acerca da água e suas características.

1. A precipitação é o fator de menor influência no ciclo hidrológico, pois representa a totalidade de processos físicos que envolvem a circulação e a movimentação da água.
2. O comportamento do ciclo hidrológico é idêntico em todos os locais do globo terrestre.
3. Devido ao calor do sol, a água na superfície é evaporada e condensada sob a forma de gotículas que permanecem em suspensão na atmosfera, formando as nuvens.

Assinale a alternativa que indica todas as afirmativas corretas.

- a.  É correta apenas a afirmativa 1.
- b.  É correta apenas a afirmativa 2.
- c.  É correta apenas a afirmativa 3.
- d.  São corretas apenas as afirmativas 2 e 3.
- e.  São corretas as afirmativas 1, 2 e 3.

60. A precipitação faz parte do ciclo hidrológico e ocorre de diversas formas e intensidades ao longo de todo o globo terrestre. Há diversos tipos de precipitações atmosféricas e normalmente a precipitação é coletada em estações meteorológicas, em instrumentos chamados pluviômetros, e é representada sob a forma de histogramas ou gráficos de barras, que relacionam a quantidade precipitada com o tempo ocorrido.



O tipo de precipitação identificado pelo desenho acima é chamado de:

- Precipitação frontal.
- Precipitação ciclônica.
- Precipitação orográfica.
- Precipitação montanhosa.
- Precipitação convectiva.

### Instruções Questão Discursiva

A **Folha de Resposta** será numerada com código alfanumérico, impedindo a identificação dos candidatos. **Não poderá ser assinada ou conter qualquer palavra, letra ou desenho que possa identificar o autor.**

O texto definitivo deverá ser transcrito para a **Folha de Resposta** com caneta de tinta indelével, de cores azul ou preta, e será corrigida unicamente pelo texto transcrito, não sendo válidas quaisquer anotações eventualmente feitas no caderno de questões e/ou rascunho.

Não são permitidas consultas a qualquer publicação, texto ou apontamentos.

Somente serão avaliados os textos transcritos de forma legível no espaço das **20 linhas** delimitadas na **Folha de Resposta**. Texto escrito no verso ou nas margens da Folha de Resposta não será avaliado.

A imagem da folha de resposta, contendo a resposta do candidato à questão discursiva, será disponibilizada na área de acesso restrito do candidato no site do Concurso Público, após a publicação do resultado preliminar da questão discursiva da prova escrita.

### Questão Discursiva

1 questão

A série histórica do Censo mostra que a sociedade brasileira vem passando por expressivas mudanças em seu perfil demográfico, em que se destaca, dentre diversos aspectos, a desaceleração do ritmo de crescimento da população.

Durante o período de 2010 a 2022, a população brasileira passou de 190,7 milhões para 203 milhões de habitantes, um aumento aproximado de 12 milhões de pessoas, ou 6,5%. Hoje, somos mais de 213 milhões de habitantes no Brasil, segundo o Instituto Brasileiro de Geografia e Estatística (IBGE). A taxa de crescimento anual de 2010 a 2022 foi de 0,52%, sendo essa a menor taxa de crescimento já registrada desde o início da pesquisa, em 1872.

A principal razão para a redução das taxas de crescimento da população é o declínio das taxas de fecundidade e natalidade. O número médio de filhos por mulher continua em queda no Brasil.

O modelo de reprodução se modificou significativamente nas últimas décadas. Até a década de 1990, as taxas de fecundidade eram altas, o que acarretava em uma população mais jovem.

A demografia considera que a taxa de fecundidade necessária para apenas manter estabilizada uma população é de 2,1 filhos por mulher. Cada casal adulto estaria gerando seus descendentes, e o saldo final está ligado a fatores como a mortalidade infantil, pessoas que não procriaram, entre outros.

Fonte: <https://agenciabrasil.ebc.com.br/radioagencia-nacional/geral/audio/2023-06censo-2022-aponta-menor-taxa-de-crescimento-anual-desde-1872>

Com base nos dados apresentados e seus conhecimentos adquiridos, explique por qual razão a taxa de fecundidade está diminuindo.

**Resposta Questão Discursiva**

1 Alguns aspectos que contribuem para a queda das taxas de fecundidade são:

2 1. Educação: As mulheres estão estudando mais. A média de anos de  
3 estudo das mulheres é maior do que a dos homens no Brasil. Esse é um fator  
4 que faz com que as mulheres tenham menos filhos e com uma idade maior.

5 2. Maior inserção das mulheres no mercado de trabalho: No meio urbano,  
6 aumenta o percentual de mulheres que trabalham fora de casa e que desen-  
7 volvem uma carreira profissional. Essas mulheres podem optar por priorizar suas  
8 carreiras e adiar a maternidade ou, ainda, por não ter filhos.

9 3. Custo de vida mais alto: Nas cidades, o custo de vida é mais alto, pois  
10 inclui gastos maiores com alimentação, moradia, transporte, educação, etc., o  
11 que leva muitas famílias a ter menos filhos, ou nenhum.

12 4. Planejamento familiar: Com a urbanização, as pessoas passaram a ter  
13 mais informação e acesso a pílulas anticoncepcionais e outros métodos contra-  
14 ceptivos, o que permitiu a realização de um planejamento familiar.

15 Paralelamente à redução acentuada da natalidade, a esperança de vida  
16 ao nascer tem aumentado.

**Página  
em Branco.  
(rascunho)**

**Página  
em Branco.  
(rascunho)**

**Página  
em Branco.  
(rascunho)**

Utilize a grade ao lado para anotar as suas respostas.

**Não destaque esta folha.** Ao entregar sua prova, o fiscal irá destacar e entregar esta grade de respostas que você poderá levar para posterior conferência.



# GRADE DE RESPOSTAS

1		P07 Professor - Geografia	31	
2			32	
3			33	
4			34	
5			35	
6			36	
7			37	
8			38	
9			39	
10			40	
11			41	
12			42	
13			43	
14			44	
15			45	
16			46	
17			47	
18			48	
19			49	
20			50	
21			51	
22			52	
23			53	
24			54	
25			55	
26			56	
27			57	
28			58	
29			59	
30			60	

PREFEITURA DE  
**CHAPECÓ**



CONCURSO  
**PÚBLICO**



Edital 003/2025

**Professor  
Licenciatura Plena**

