



Prefeitura Municipal de  
**Marcelândia**

**CONCURSO PÚBLICO**  
**PREFEITURA DO MUNICÍPIO DE MARCELÂNDIA - MT**

EDITAL N.º 01/2025

**TÉCNICO EM HIGIENE DENTAL**

**Duração:** 4h (quatro horas)

**Leia atentamente as instruções abaixo:**

**01** Você recebeu do fiscal o seguinte material:

**a)** Este caderno, com **40 (quarenta)** questões da prova objetiva, sem repetição ou falha, conforme distribuição abaixo:

CONHECIMENTOS BÁSICOS			CONHECIMENTOS ESPECÍFICOS
LÍNGUA PORTUGUESA	NOÇÕES DE INFORMÁTICA	RACIOCÍNIO LÓGICO-MATEMÁTICO	
1 a 12	13 a 18	19 a 24	25 a 40

**b)** Um cartão de respostas destinado à marcação da alternativa correta.

- 02** Verifique se este material está em ordem e se o seu nome, RG, cargo e número de inscrição conferem com os dados que aparecem no cartão de respostas. Caso contrário, notifique imediatamente o fiscal.
- 03** Após a conferência, o candidato deverá assinar no espaço próprio do cartão de respostas, com caneta esferográfica de tinta na cor azul ou preta.
- 04** No cartão de respostas da prova objetiva, a marcação da alternativa correta deve ser feita cobrindo a letra correspondente ao número da questão e preenchendo todo o espaço interno, com caneta esferográfica de tinta na cor azul ou preta, de forma contínua e densa.

Exemplo:  A  B  C  D

- 05** Para cada uma das questões objetivas, são apresentadas **4 (quatro) alternativas** classificadas com as letras (A, B, C e D), mas só uma responde adequadamente à questão proposta. Você só deve assinalar uma alternativa. A marcação em mais de uma alternativa anula a questão, mesmo que uma das respostas esteja correta.
- 06** O candidato poderá entregar seu cartão de respostas, seu caderno de questões e retirar-se da sala de prova somente depois de decorrida **1 (uma) hora** do início da prova. O candidato que insistir em sair da sala de prova, descumprindo o aqui disposto, deverá assinar o termo de ocorrência declarando sua desistência do certame, que será lavrado pelo coordenador do local.
- 07** Não será permitido ao candidato retirar-se do local de aplicação das provas, a qualquer tempo, portando o caderno de questões.
- 08** Será fornecida pelo INSTITUTO SELECON uma folha específica para rascunho, na qual o candidato poderá anotar manualmente as alternativas marcadas no respectivo cartão de respostas. **O candidato que se retirar da sala levando o cartão de respostas estará automaticamente eliminado do certame.**
- 09** Reserve os **30 (trinta)** minutos finais para marcar seu cartão de respostas. Os rascunhos e as marcações assinaladas no caderno de questões não serão levados em consideração.
- 10** Os **3 (três)** últimos candidatos permanecerão sentados até que todos concluem a prova ou que termine o seu tempo de duração, devendo assinar a ata de sala e retirar-se juntos.

## LÍNGUA PORTUGUESA

Leia o texto a seguir:

### **SES distribui 500 mil doses e incentiva campanha de multivacinação de crianças e adolescentes de até 15 anos**

A Secretaria de Estado de Saúde (SES) distribuiu 500 mil doses de vacina para que os 142 municípios do Estado realizem ações da Campanha Nacional de Multivacinação, entre os dias 6 e 31 de outubro. A iniciativa do Ministério da Saúde, em parceria com Estados e prefeituras, é voltada para o público de até 15 anos de idade.

O Dia D de mobilização está marcado para 18 de outubro (sábado), quando os postos de saúde ficarão abertos em todo o país para atender a população.

"É muito importante que todos, em especial crianças e adolescentes, mantenham a caderneta atualizada. Todas as doses previstas no Calendário Nacional de Vacinação estarão à disposição da população de Mato Grosso. O Dia D, que vai ocorrer em um sábado, será mais uma oportunidade para que os pais e responsáveis possam proteger as nossas crianças", destacou o secretário de Estado de Saúde, Gilberto Figueiredo.

Segundo a superintendente de Vigilância em Saúde da SES, Alessandra Moraes, os não vacinados contra o HPV (papilomavírus humano), febre amarela e sarampo estão entre as prioridades da campanha.

"Precisamos reforçar a prevenção contra o sarampo em todo o Estado, principalmente pela proximidade com a Bolívia, onde houve um surto de casos. Por isso, essa vacina será oferecida também aos adultos até 59 anos. É muito importante que nós atinjamos alta cobertura vacinal para prevenir a reintrodução da doença no Brasil", esclareceu Alessandra.

Até 1º de outubro de 2025, o Brasil confirmou 31 casos importados, quando a infecção ocorre fora do país. Em Mato Grosso, foram registrados três casos no município de Primavera do Leste.

Durante a campanha, estarão disponíveis vacinas contra BCG, rotavírus, pneumocócica-10 valente, meningocócica C, meningocócica ACWY, pentavalente, poliomielite, febre amarela, tríplice viral, varicela, hepatite A, hepatite B, dupla adulto, HPV e dTpa.

De acordo com o coordenador estadual de Imunização, Marx Camarão, a SES tem mantido um diálogo constante com os municípios para garantir que a vacinação seja ampliada de forma eficaz durante toda a campanha.

"Trabalhamos juntos para otimizar a distribuição de doses e mobilizar as equipes de saúde, assegurando que todos os cidadãos tenham acesso a essa importante medida de proteção. O objetivo é alcançar o maior número de pessoas possível, priorizando as áreas com maior vulnerabilidade e garantindo a continuidade das ações de imunização", afirmou o coordenador.

Com cobertura vacinal de 98,9%, a dose contra BCG é a única no Estado que está acima da ideal, de 90%. As vacinas contra rotavírus e HPV têm a mesma meta, mas estão, respectivamente, com cobertura de 84,13% e de 85,54% em meninas e de 72,23% em meninos.

As outras vacinas têm cobertura ideal de 95%, mas, conforme atualização do painel nesta terça-feira (7.10), estão abaixo do desejado: pneumocócica-10: 87%; meningocócica C: 83,8%; poliomielite: 81,1%; febre amarela: 72,4%; pentavalente: 81,7%; tríplice viral: 89,9%; varicela: 67,8%; e hepatite A: 77,9%.

Fonte: <https://jornaldematogrosso.com.br/noticia/136410/ses-distribui-500-mil-doses-e-incentiva-campanha-de-multivacinacao-de-criancas-e-adolescentes-de-ate.html>. Acesso em 09/10/2025

1. O texto tem como propósito principal:

- A) relatar os casos recentes de sarampo e o surto ocorrido na Bolívia
- B) anunciar a criação de novas vacinas voltadas para o público infantojuvenil
- C) apresentar críticas à baixa cobertura vacinal no estado do Mato Grosso
- D) divulgar e incentivar a adesão à Campanha Nacional de Multivacinação

2. A justificativa dada pela superintendente de Vigilância Sanitária em Saúde da SES para reforçar a vacinação contra o sarampo está diretamente relacionada à:

- A) necessidade de incluir novas vacinas no calendário infantil
- B) alta cobertura vacinal entre adolescentes e jovens
- C) existência de um surto da doença na Bolívia
- D) interrupção das campanhas anteriores

3. O posicionamento do secretário de Estado de Saúde, no terceiro parágrafo do texto, revela que ele:

- A) considera o Dia D uma iniciativa desnecessária, mas protocolar
- B) sugere priorizar apenas as vacinas de maior risco epidemiológico
- C) enfatiza a importância de campanhas apenas para o público infantil
- D) demonstra preocupação com o engajamento das famílias na imunização

4. O sétimo parágrafo do texto lista as vacinas disponíveis durante a campanha. Essa lista tem a função de:

- A) destacar as vacinas que terão prioridade no Dia D
- B) comprovar a complexidade logística envolvida na campanha
- C) ilustrar a abrangência do atendimento oferecido à população
- D) apresentar apenas as vacinas com cobertura vacinal insuficiente

5. No trecho "Precisamos reforçar a prevenção contra o sarampo em todo o Estado, principalmente pela proximidade com a Bolívia, onde houve um surto de casos. Por isso, essa vacina será oferecida também aos adultos até 59 anos" (5º parágrafo), o termo em destaque refere-se a:

- A) HPV
- B) sarampo
- C) hepatite A
- D) febre amarela

6. “**É muito importante** que todos, em especial crianças e adolescentes, mantenham a caderneta atualizada” (3º parágrafo). A expressão em destaque cumpre a função de:

- A) atenuar a obrigação expressa pela frase
- B) expressar dúvida sobre a eficácia das vacinas
- C) apresentar um fato comprovado cientificamente
- D) introduzir uma recomendação com valor de apelo

7. “A iniciativa do Ministério da Saúde, em parceria com Estados e prefeituras, é **voltada** para o público de até 15 anos de idade” (1º parágrafo). A palavra em destaque faz referência direta ao termo:

- A) iniciativa
- B) Saúde
- C) parceria
- D) idade

8. “O Dia D, **que** vai ocorrer em um sábado, será mais uma oportunidade para que os pais e responsáveis possam proteger as nossas crianças” (3º parágrafo). Nesse trecho, a palavra em destaque é classificada como:

- A) pronome relativo
- B) conjunção integrante
- C) conjunção coordenativa
- D) conjunção subordinativa

9. “**Segundo** a superintendente de Vigilância em Saúde da SES, Alessandra Moraes, os não vacinados contra o HPV (papilomavírus humano), febre amarela e sarampo estão entre as prioridades da campanha” (4º parágrafo). O conectivo em destaque poderia ser substituído, sem alteração de sentido, por:

- A) a menos que
- B) conforme
- C) inclusive
- D) já que

10. “Até 1º de outubro de 2025, o Brasil **confirmou** 31 casos importados, quando a infecção ocorre fora do país” (6º parágrafo). Se a forma verbal em destaque estivesse flexionada no pretérito imperfeito do modo indicativo, teríamos:

- A) confirmaria
- B) confirmava
- C) confirmara
- D) confirmasse

11. “Até 1º de outubro de 2025, **o Brasil** confirmou 31 casos importados” (6º parágrafo). O trecho em destaque pode ser classificado sintaticamente como:









- A) sujeito
- B) aposto
- C) vocativo
- D) predicado

12. Na palavra **VACINAS**, o elemento em destaque tem a mesma função e o mesmo significado do que está indicado em:


- A) lápis
- B) vírus
- C) tropas
- D) ônibus

## NOÇÕES DE INFORMÁTICA

13. No que se refere aos conceitos básicos do *Word* no pacote *MS Office* da plataforma *Microsoft 365 BR*, acessado na *web*, um funcionário que exerce as funções de técnico nível médio da Prefeitura de Marcelândia acionou dois ícones: o primeiro para alterar a cor da fonte e o segundo para aplicar um novo espaçamento entre as linhas de um parágrafo. Esses ícones foram, respectivamente:

- A)  e 
- B)  e 
- C)  e 
- D)  e 





14. A planilha da figura foi criada no *Excel* do pacote *MS Office 2013 BR*, em um microcomputador Intel, com sistema operacional *Windows 10 BR (x64)*. Nela foram inseridas as fórmulas =PROCV(A6;A4:E8;3;0) em D10 e =PROCH(B7;A4:E8;2;1) em E10.

	A	B	C	D	E
	 Prefeitura Municipal de <b>Marcelândia</b>				
1					
2					
3	#	DESCRIÇÃO	Qtde	Preço Unit.	Preço Total
4	1	NOTEBOOK i7	25	R\$4.500,00	R\$112.500,00
5	2	SSD 480 GB	30	R\$500,00	R\$15.000,00
6	3	PENDRIVE 16 GB	3	R\$2.400,00	R\$7.200,00
7	4	SCANNER	2	R\$2.100,00	R\$4.200,00
8	5	MULTIFUNCIONAL	7	R\$1.780,00	R\$12.460,00
9					
10	<b>PROCV/PROCH =</b>			?	?
11					

Nesse contexto, o número mostrado em D10 e a descrição exibida em D9 são, respectivamente:

- A) 3 e SSD 480 GB
- B) 25 e NOTEBOOK i7
- C) 7 e MULTIFUNCIONAL
- D) 30 e PENDRIVE 16 GB

15. Tanto no *Windows 10 BR* como no *Windows 11 BR*, após a utilização de um pendrive para armazenar ou mesmo consultar dados e informações, deve-se acionar um ícone que tem por significado "Remover Hardware e Ejetar Mídia com Segurança", existente em uma das Barras do sistema operacional. No que diz respeito à integridade das informações armazenadas, a realização desse procedimento é imprescindível, para evitar qualquer dano ao pendrive. O nome pelo qual é conhecida essa Barra e o ícone acionado estão indicados, respectivamente, na seguinte opção de resposta:

- A) de Notificações e 
- B) de Notificações e 
- C) de Status e 
- D) de Status e 

16. No que diz respeito às redes de computadores, os roteadores atuais empregam na conexão *wi-fi* um protocolo de configuração dinâmica de *host* em redes, diretamente associado a um servidor TCP/IP. Sem que o usuário perceba, ao se conectar em uma rede, esse serviço fornece automaticamente endereço IP, máscara de sub-rede, *gateway* padrão, endereço IP de um ou mais servidores DNS/WINS e sufixos de pesquisa do DNS, para que o dispositivo do usuário possa utilizar a rede e obter acesso aos recursos disponibilizados nela e acesso à internet, se houver. Esse serviço é conhecido pela sigla:

- A) IPCONFIG  
B) TRACERT  
C) SNMP  
D) DHCP

17. No que se relaciona ao uso dos recursos de três dos principais browsers utilizados na navegação em sites da *internet*, como o *Google Chrome*, o *Microsoft Edge* e o *Firefox Mozilla*, em suas últimas versões, instalados e configurados em microcomputadores e *notebooks*, a execução de um atalho de teclado tem por função inserir e/ou remover a Barra de Favoritos. Esse atalho de teclado corresponde a pressionar, simultaneamente e em sequência, as teclas Ctrl, Shift e:

- A) T  
B) V  
C) B  
D) F

18. No que tange às ferramentas *Google*, uma é uma plataforma de videoconferência que permite realizar chamadas com áudio e vídeo para várias pessoas ao mesmo tempo, possibilitando realizar reuniões, aulas e eventos online, independentemente da localização geográfica dos participantes. Entre as características desse recurso, pode-se compartilhar a tela, apresentações e documentos em tempo real, transformando-o em uma ferramenta útil para trabalhar remotamente, colaborar com colegas e realizar apresentações online. Além disso, é fácil de usar e pode ser acessada diretamente no navegador da *web*, sem a necessidade de instalar qualquer *software* adicional. Essa ferramenta é conhecida como:

- A) *Google Meet*  
B) *Google Team*  
C) *Google Gemini*  
D) *Google Workspace*

## RACIOCÍNIO LÓGICO E MATEMÁTICO

19. Um aluno obteve notas  $N_1=7,0$  e  $N_2=8,0$  em duas provas com pesos  $P_1=2$  e  $P_2=3$ , respectivamente. Ele fez uma terceira avaliação com nota  $N_3=9,0$  e peso  $P_3$ . Se a Média Ponderada final foi de  $8,0$ , o valor de  $P_3$  é igual a:

- A) 1  
B) 1,5  
C) 2  
D) 2,5

20. Dados um triângulo equilátero e um hexágono regular, sabendo que ambos possuem o mesmo perímetro e que a área do hexágono regular é igual a  $6 m^2$ . Nessas condições, a área do triângulo equilátero é igual a:

- A)  $2 m^2$   
B)  $3 m^2$   
C)  $4 m^2$   
D)  $6 m^2$

21. De um grupo de 10 mulheres e 8 homens, deseja-se formar uma equipe de 6 pessoas. O número de maneiras de formar a equipe, onde o número de mulheres é o dobro do número de homens é igual a:

- A) 5.880  
B) 6.780  
C) 7.680  
D) 8.550

22. Em uma pesquisa de mercado, 1200 pessoas foram entrevistadas sobre o consumo dos produtos A, B e C. Sabe-se que 150 consomem apenas A, 200 consomem apenas B, 250 consomem apenas C. Além disso, 100 consomem A e B, 80 consomem B e C, e 70 consomem A e C. Se 30 pessoas consomem os três produtos, então o número de pessoas que consomem exatamente dois produtos é igual a:

- A) 80  
B) 160  
C) 220  
D) 280

23. Considere dois conjuntos A e B com  $|A|=15$ ,  $|B|=20$  e  $|A \cup B|=28$ . Nessas condições a cardinalidade do conjunto  $\mathcal{P}(A \cap B)$ , ou seja, o número de subconjuntos da interseção é igual a:

- A) 7  
B) 20  
C) 80  
D) 128

24. Um celular custa R\$ 2.500,00 e é vendido com um desconto de 20%. No momento da compra, é aplicado um imposto de 10% sobre o preço final com desconto. O preço final pago na compra foi de:

- A) R\$ 2.100,00  
B) R\$ 2.200,00  
C) R\$ 2.300,00  
D) R\$ 2.400,00

## CONHECIMENTOS ESPECÍFICOS

**25.** Ao analisar um paciente durante o atendimento odontológico, nota-se uma estrutura intra-oral em forma de saliência triangular, localizada na mucosa da bochecha, na altura do segundo molar superior. Essa estrutura corresponde:

- A) à papila parotídea, que protege a abertura do ducto parotídeo
- B) à inserção do músculo bucinador na prega pterigomandibular
- C) a um abaulamento mucoso relacionado à glândula submandibular
- D) ao corpo adiposo da bochecha, proeminente devido à contração muscular

**26.** Ao observar as estruturas responsáveis pela percepção gustativa, percebe-se que a língua apresenta papilas especializadas. Aquelas que concentram maior número de cálculos gustatórios e que estão dispostas em fileira à frente do sulco terminal são as papilas:

- A) filiformes, que possuem função tátil e recobrem todo o dorso da língua
- B) folhadas, localizadas próximas à raiz da língua e associadas ao paladar amargo
- C) circunvaladas, imersas na mucosa e rodeadas por um valo com cálculos gustatórios
- D) fungiformes, visíveis como pontos avermelhados distribuídos entre as demais papilas

**27.** No que diz respeito aos tecidos linfóides da cavidade oral, a defesa imunológica é composta por:

- A) produção predominante de anticorpos IgG circulantes para proteção das mucosas bucais
- B) múltiplas tonsilas faríngeas com epitélio escamoso e criptas profundas que facilitam a drenagem linfática
- C) agregados linfóides intra-orais organizados, semelhantes aos tecidos encontrados no estômago e nos brônquios
- D) tonsilas palatinas formadas por epitélio escamoso que se invagina no tecido linfóide, formando criptas com nódulos linfáticos e centros germinativos

**28.** Inúmeros são os componentes celulares presentes na saliva. As células presentes na saliva, em condições normais, que desempenham papel importante na defesa contra microrganismos são:

- A) neutrófilos
- B) fibroblastos
- C) glóbulos vermelhos
- D) linfócitos T-citotóxicos

**29.** A saliva humana apresenta diversas funções, dentre elas a função tamponante que é de extrema importância pois:

- A) lubrifica a boca para facilitar a mastigação e fala
- B) combate as bactérias diretamente com enzimas como a lisozima
- C) quebra o amido e o glicogênio para iniciar a digestão dos alimentos
- D) ajuda a manter o PH próximo de 7, evitando que ácidos prejudiquem os dentes

**30.** A gengiva marginal presente na cavidade oral apresenta-se de maneira bem específica, podendo ser facilmente identificada pois:

- A) delimita-se da gengiva inserida em todos os casos por um sulco gengival livre visivelmente profundo
- B) está sempre aderida ao osso alveolar subjacente, dificultando sua separação com instrumentos clínicos
- C) apresenta-se como uma faixa contínua de tecido firmemente inserido, sem distinção visível em relação à gengiva adjacente
- D) possui em média 1 mm de largura, forma um colar ao redor dos dentes e pode ser separada da superfície dentária com uma sonda periodontal

**31.** A candidíase é uma infecção fúngica comum na cavidade oral, especialmente quando associada ao uso de prótese total e removível, e é favorecida principalmente por:

- A) ambiente úmido e quente no palato aliado à má higienização e uso inadequado da prótese
- B) estado imunológico elevado e ausência de fatores locais favoráveis
- C) adaptação ideal da prótese e boa higienização da cavidade oral
- D) presença exclusiva do fungo *Cândida Tropicalis* na boca

**32.** A radiografia é essencial na prática odontológica, fornecendo suporte diagnóstico por meio de diferentes técnicas de imagem. A radiografia interproximal visa:

- A) oferecer imagens panorâmicas amplas da mandíbula, sendo ideal para planejamento cirúrgico
- B) detectar precocemente lesões cariosas entre dentes, mesmo quando não visíveis clinicamente
- C) avaliar a perda óssea ao redor de implantes dentários por meio de cortes tomográficos tridimensionais
- D) identificar alterações nas raízes dos dentes anteriores e posteriores, incluindo a linha abaixo da gengiva

**33.** A introdução da odontologia adesiva representou um marco para a prática restauradora. O uso dos sistemas adesivos em dentística restauradora visa:

- A) eliminar a necessidade de condicionamento ácido ao aplicar resinas compostas em cavidades profundas e retentivas
- B) facilitar a cimentação de pinos intra-radulares sem necessidade de interação com a dentina ou esmalte remanescente
- C) proporcionar adesão ao substrato dentário com menor desgaste de tecido hígido e maior longevidade das restaurações
- D) permitir união entre material restaurador e tecido dentário por meio de forças exclusivamente mecânicas, como ocorre com o amálgama

**34.** Cimentos à base de óxido de zinco e eugenol são amplamente utilizados na endodontia. Com relação às suas propriedades e implicações clínicas, esse tipo de cimento apresenta:

- A) baixa plasticidade, insolubilidade em meio úmido e ausência de toxicidade
- B) solubilidade tecidual, excelente plasticidade e ação antimicrobiana
- C) selamento absoluto, ausência de reabsorção e estabilidade dimensional
- D) resistência à umidade, estabilidade em tecidos perirradulares e inatividade biológica

**35.** O implante dentário é amplamente utilizado na reabilitação oral. São os principais fatores que influenciam em seu sucesso:

- A) escolha do tipo de implante e condições financeiras do paciente
- B) ausência de condições sistêmicas e seleção do material restaurador
- C) avaliação da área a ser reabilitada e substituição imediata dos dentes ausentes
- D) suporte ósseo adequado, arquitetura óssea, atividade celular e irrigação durante a instalação

**36.** A periodontite é uma inflamação nos tecidos de suporte dos dentes. A respeito da compreensão atual sobre a patogenia da periodontite, espera-se que a:

- A) presença de microrganismos patogênicos em biofilme subgingival, por si só, seja suficiente para desencadear destruição tecidual significativa em todos os indivíduos
- B) suscetibilidade do hospedeiro desempenhe papel decisivo na manifestação e progressão da periodontite, mesmo na presença de bactérias semelhantes entre pacientes
- C) placa bacteriana acumulada de maneira inespecífica continue sendo considerada o principal fator etiológico responsável pela destruição periodontal
- D) resposta imunoinflamatória do hospedeiro atue de forma uniforme entre os indivíduos, promovendo padrões previsíveis de perda óssea em função da carga bacteriana

**37.** Durante o ato de instalação de próteses totais, a estabilidade da prótese é garantida pela:

- A) resistência da prótese a forças verticais e de torção, resultando em maior eficácia do selamento periférico
- B) força aplicada na região palatina dos incisivos superiores, que avalia o comportamento rotacional da prótese inferior
- C) adaptação da base protética à área de suporte, resistindo às forças horizontais e mantendo a posição de assentamento
- D) aplicação de movimentos ântero-superiores no plano oclusal, que testam a retenção da prótese em relação ao rebordo alveolar

**38.** Considere um quadro infeccioso que se estabelece quando um terceiro molar erupciona parcialmente, deixando uma porção da gengiva exposta, colonizado por bactérias com inflamação local e dor. A essa condição dá-se o nome de:

- A) alveolite
- B) pericoronarite
- C) osteíte alveolar
- D) periodontite crônica

**39.** A Endodontia é a área da Odontologia responsável por estudar, prevenir e tratar as doenças que afetam a polpa dentária e os tecidos ao redor da raiz do dente. O tratamento endodôntico torna-se eficaz quando a:

- A) remoção do tecido orgânico e do biofilme contaminado é realizada, e os microrganismos remanescentes são privados de nutrição pela obturação do canal
- B) dor intensa é controlada exclusivamente com recursos farmacológicos, dispensando a intervenção mecânica nos canais radiculares
- C) irrigação ultrassônica substitui a etapa de obturação, tornando o tratamento mais ágil e independente de selamento radicular
- D) pulpite irreversível leva ao uso eletivo do preparo químico e mecânico, sendo suficiente a utilização de tecnologias avançadas

**40.** A promoção da saúde envolve ações intersetoriais que visam transformar os determinantes sociais, ampliando o acesso e a equidade no cuidado. A efetiva promoção da saúde bucal em populações rurais depende da:

- A) consolidação do modelo campanhista e das ações educativas em grupo como principal estratégia de prevenção nas áreas de difícil acesso
- B) ampliação do número de procedimentos curativos e preventivos, assegurando o atendimento à demanda espontânea nas sedes dos municípios
- C) articulação com outras políticas públicas e a adoção de valores como equidade, autonomia, intersetorialidade e territorialidade nas práticas de cuidado
- D) atuação individualizada e baseado em consultas especializadas em localidades isoladas voltado ao fortalecimento do modelo médico centrado