



Prefeitura Municipal de
Marcelândia

CONCURSO PÚBLICO
PREFEITURA DO MUNICÍPIO DE MARCELÂNDIA - MT

EDITAL N.º 01/2025

FISCAL SANITÁRIO

Duração: 4h (quatro horas)

Leia atentamente as instruções abaixo:

01 Você recebeu do fiscal o seguinte material:

a) Este caderno, com **40 (quarenta)** questões da prova objetiva, sem repetição ou falha, conforme distribuição abaixo:

CONHECIMENTOS BÁSICOS			CONHECIMENTOS ESPECÍFICOS
LÍNGUA PORTUGUESA	NOÇÕES DE INFORMÁTICA	RACIOCÍNIO LÓGICO-MATEMÁTICO	
1 a 12	13 a 18	19 a 24	25 a 40

b) Um cartão de respostas destinado à marcação da alternativa correta.

- 02** Verifique se este material está em ordem e se o seu nome, RG, cargo e número de inscrição conferem com os dados que aparecem no cartão de respostas. Caso contrário, notifique imediatamente o fiscal.
- 03** Após a conferência, o candidato deverá assinar no espaço próprio do cartão de respostas, com caneta esferográfica de tinta na cor azul ou preta.
- 04** No cartão de respostas da prova objetiva, a marcação da alternativa correta deve ser feita cobrindo a letra correspondente ao número da questão e preenchendo todo o espaço interno, com caneta esferográfica de tinta na cor azul ou preta, de forma contínua e densa.

Exemplo: A B C D

- 05** Para cada uma das questões objetivas, são apresentadas **4 (quatro) alternativas** classificadas com as letras (A, B, C e D), mas só uma responde adequadamente à questão proposta. Você só deve assinalar uma alternativa. A marcação em mais de uma alternativa anula a questão, mesmo que uma das respostas esteja correta.
- 06** O candidato poderá entregar seu cartão de respostas, seu caderno de questões e retirar-se da sala de prova somente depois de decorrida **1 (uma) hora** do início da prova. O candidato que insistir em sair da sala de prova, descumprindo o aqui disposto, deverá assinar o termo de ocorrência declarando sua desistência do certame, que será lavrado pelo coordenador do local.
- 07** Não será permitido ao candidato retirar-se do local de aplicação das provas, a qualquer tempo, portando o caderno de questões.
- 08** Será fornecida pelo INSTITUTO SELECON uma folha específica para rascunho, na qual o candidato poderá anotar manualmente as alternativas marcadas no respectivo cartão de respostas. **O candidato que se retirar da sala levando o cartão de respostas estará automaticamente eliminado do certame.**
- 09** Reserve os **30 (trinta)** minutos finais para marcar seu cartão de respostas. Os rascunhos e as marcações assinaladas no caderno de questões não serão levados em consideração.
- 10** Os **3 (três)** últimos candidatos permanecerão sentados até que todos concluem a prova ou que termine o seu tempo de duração, devendo assinar a ata de sala e retirar-se juntos.

LÍNGUA PORTUGUESA

Leia o texto a seguir:

SES distribui 500 mil doses e incentiva campanha de multivacinação de crianças e adolescentes de até 15 anos

A Secretaria de Estado de Saúde (SES) distribuiu 500 mil doses de vacina para que os 142 municípios do Estado realizem ações da Campanha Nacional de Multivacinação, entre os dias 6 e 31 de outubro. A iniciativa do Ministério da Saúde, em parceria com Estados e prefeituras, é voltada para o público de até 15 anos de idade.

O Dia D de mobilização está marcado para 18 de outubro (sábado), quando os postos de saúde ficarão abertos em todo o país para atender a população.

"É muito importante que todos, em especial crianças e adolescentes, mantenham a caderneta atualizada. Todas as doses previstas no Calendário Nacional de Vacinação estarão à disposição da população de Mato Grosso. O Dia D, que vai ocorrer em um sábado, será mais uma oportunidade para que os pais e responsáveis possam proteger as nossas crianças", destacou o secretário de Estado de Saúde, Gilberto Figueiredo.

Segundo a superintendente de Vigilância em Saúde da SES, Alessandra Moraes, os não vacinados contra o HPV (papilomavírus humano), febre amarela e sarampo estão entre as prioridades da campanha.

"Precisamos reforçar a prevenção contra o sarampo em todo o Estado, principalmente pela proximidade com a Bolívia, onde houve um surto de casos. Por isso, essa vacina será oferecida também aos adultos até 59 anos. É muito importante que nós atinjamos alta cobertura vacinal para prevenir a reintrodução da doença no Brasil", esclareceu Alessandra.

Até 1º de outubro de 2025, o Brasil confirmou 31 casos importados, quando a infecção ocorre fora do país. Em Mato Grosso, foram registrados três casos no município de Primavera do Leste.

Durante a campanha, estarão disponíveis vacinas contra BCG, rotavírus, pneumocócica-10 valente, meningocócica C, meningocócica ACWY, pentavalente, poliomielite, febre amarela, tríplice viral, varicela, hepatite A, hepatite B, dupla adulto, HPV e dTpa.

De acordo com o coordenador estadual de Imunização, Marx Camarão, a SES tem mantido um diálogo constante com os municípios para garantir que a vacinação seja ampliada de forma eficaz durante toda a campanha.

"Trabalhamos juntos para otimizar a distribuição de doses e mobilizar as equipes de saúde, assegurando que todos os cidadãos tenham acesso a essa importante medida de proteção. O objetivo é alcançar o maior número de pessoas possível, priorizando as áreas com maior vulnerabilidade e garantindo a continuidade das ações de imunização", afirmou o coordenador.

Com cobertura vacinal de 98,9%, a dose contra BCG é a única no Estado que está acima da ideal, de 90%. As vacinas contra rotavírus e HPV têm a mesma meta, mas estão, respectivamente, com cobertura de 84,13% e de 85,54% em meninas e de 72,23% em meninos.

As outras vacinas têm cobertura ideal de 95%, mas, conforme atualização do painel nesta terça-feira (7.10), estão abaixo do desejado: pneumocócica-10: 87%; meningocócica C: 83,8%; poliomielite: 81,1%; febre amarela: 72,4%; pentavalente: 81,7%; tríplice viral: 89,9%; varicela: 67,8%; e hepatite A: 77,9%.

Fonte: <https://jornaldematogrosso.com.br/noticia/136410/ses-distribui-500-mil-doses-e-incentiva-campanha-de-multivacinacao-de-criancas-e-adolescentes-de-ate.html>. Acesso em 09/10/2025

1. O texto tem como propósito principal:

- A) relatar os casos recentes de sarampo e o surto ocorrido na Bolívia
- B) anunciar a criação de novas vacinas voltadas para o público infantojuvenil
- C) apresentar críticas à baixa cobertura vacinal no estado do Mato Grosso
- D) divulgar e incentivar a adesão à Campanha Nacional de Multivacinação

2. A justificativa dada pela superintendente de Vigilância Sanitária em Saúde da SES para reforçar a vacinação contra o sarampo está diretamente relacionada à:

- A) necessidade de incluir novas vacinas no calendário infantil
- B) alta cobertura vacinal entre adolescentes e jovens
- C) existência de um surto da doença na Bolívia
- D) interrupção das campanhas anteriores

3. O posicionamento do secretário de Estado de Saúde, no terceiro parágrafo do texto, revela que ele:

- A) considera o Dia D uma iniciativa desnecessária, mas protocolar
- B) sugere priorizar apenas as vacinas de maior risco epidemiológico
- C) enfatiza a importância de campanhas apenas para o público infantil
- D) demonstra preocupação com o engajamento das famílias na imunização

4. O sétimo parágrafo do texto lista as vacinas disponíveis durante a campanha. Essa lista tem a função de:

- A) destacar as vacinas que terão prioridade no Dia D
- B) comprovar a complexidade logística envolvida na campanha
- C) ilustrar a abrangência do atendimento oferecido à população
- D) apresentar apenas as vacinas com cobertura vacinal insuficiente

5. No trecho "Precisamos reforçar a prevenção contra o sarampo em todo o Estado, principalmente pela proximidade com a Bolívia, onde houve um surto de casos. Por isso, essa vacina será oferecida também aos adultos até 59 anos" (5º parágrafo), o termo em destaque refere-se a:

- A) HPV
- B) sarampo
- C) hepatite A
- D) febre amarela

6. “**É muito importante** que todos, em especial crianças e adolescentes, mantenham a caderneta atualizada” (3º parágrafo). A expressão em destaque cumpre a função de:

- A) atenuar a obrigação expressa pela frase
- B) expressar dúvida sobre a eficácia das vacinas
- C) apresentar um fato comprovado cientificamente
- D) introduzir uma recomendação com valor de apelo

7. “A iniciativa do Ministério da Saúde, em parceria com Estados e prefeituras, é **voltada** para o público de até 15 anos de idade” (1º parágrafo). A palavra em destaque faz referência direta ao termo:

- A) iniciativa
- B) Saúde
- C) parceria
- D) idade

8. “O Dia D, **que** vai ocorrer em um sábado, será mais uma oportunidade para que os pais e responsáveis possam proteger as nossas crianças” (3º parágrafo). Nesse trecho, a palavra em destaque é classificada como:

- A) pronome relativo
- B) conjunção integrante
- C) conjunção coordenativa
- D) conjunção subordinativa

9. “**Segundo** a superintendente de Vigilância em Saúde da SES, Alessandra Moraes, os não vacinados contra o HPV (papilomavírus humano), febre amarela e sarampo estão entre as prioridades da campanha” (4º parágrafo). O conectivo em destaque poderia ser substituído, sem alteração de sentido, por:

- A) a menos que
- B) conforme
- C) inclusive
- D) já que

10. “Até 1º de outubro de 2025, o Brasil **confirmou** 31 casos importados, quando a infecção ocorre fora do país” (6º parágrafo). Se a forma verbal em destaque estivesse flexionada no pretérito imperfeito do modo indicativo, teríamos:

- A) confirmaria
- B) confirmava
- C) confirmara
- D) confirmasse

11. “Até 1º de outubro de 2025, **o Brasil** confirmou 31 casos importados” (6º parágrafo). O trecho em destaque pode ser classificado sintaticamente como:









- A) sujeito
- B) aposto
- C) vocativo
- D) predicado

12. Na palavra **VACINAS**, o elemento em destaque tem a mesma função e o mesmo significado do que está indicado em:

- A) lápis
- B) vírus
- C) tropas
- D) ônibus

NOÇÕES DE INFORMÁTICA

13. No que se refere aos conceitos básicos do *Word* no pacote *MS Office* da plataforma *Microsoft 365 BR*, acessado na *web*, um funcionário que exerce as funções de técnico nível médio da Prefeitura de Marcelândia acionou dois ícones: o primeiro para alterar a cor da fonte e o segundo para aplicar um novo espaçamento entre as linhas de um parágrafo. Esses ícones foram, respectivamente:

- A)  e 
- B)  e 
- C)  e 
- D)  e 





14. A planilha da figura foi criada no *Excel* do pacote *MS Office 2013 BR*, em um microcomputador Intel, com sistema operacional *Windows 10 BR (x64)*. Nela foram inseridas as fórmulas =PROCV(A6;A4:E8;3;0) em D10 e =PROCH(B7;A4:E8;2;1) em E10.

	A	B	C	D	E
	 Prefeitura Municipal de Marcelândia				
1					
2					
3	#	DESCRIÇÃO	Qtde	Preço Unit.	Preço Total
4	1	NOTEBOOK i7	25	R\$4.500,00	R\$112.500,00
5	2	SSD 480 GB	30	R\$500,00	R\$15.000,00
6	3	PENDRIVE 16 GB	3	R\$2.400,00	R\$7.200,00
7	4	SCANNER	2	R\$2.100,00	R\$4.200,00
8	5	MULTIFUNCIONAL	7	R\$1.780,00	R\$12.460,00
9					
10	PROCV/PROCH =			?	?
11					

Nesse contexto, o número mostrado em D10 e a descrição exibida em D9 são, respectivamente:

- A) 3 e SSD 480 GB
- B) 25 e NOTEBOOK i7
- C) 7 e MULTIFUNCIONAL
- D) 30 e PENDRIVE 16 GB

15. Tanto no *Windows 10 BR* como no *Windows 11 BR*, após a utilização de um pendrive para armazenar ou mesmo consultar dados e informações, deve-se acionar um ícone que tem por significado “Remover Hardware e Ejetar Mídia com Segurança”, existente em uma das Barras do sistema operacional. No que diz respeito à integridade das informações armazenadas, a realização desse procedimento é imprescindível, para evitar qualquer dano ao pendrive. O nome pelo qual é conhecida essa Barra e o ícone acionado estão indicados, respectivamente, na seguinte opção de resposta:

- A) de Notificações e 
- B) de Notificações e 
- C) de Status e 
- D) de Status e 

16. No que diz respeito às redes de computadores, os roteadores atuais empregam na conexão *wi-fi* um protocolo de configuração dinâmica de *host* em redes, diretamente associado a um servidor TCP/IP. Sem que o usuário perceba, ao se conectar em uma rede, esse serviço fornece automaticamente endereço IP, máscara de sub-rede, *gateway* padrão, endereço IP de um ou mais servidores DNS/WINS e sufixos de pesquisa do DNS, para que o dispositivo do usuário possa utilizar a rede e obter acesso aos recursos disponibilizados nela e acesso à internet, se houver. Esse serviço é conhecido pela sigla:

- A) IPCONFIG
B) TRACERT
C) SNMP
D) DHCP

17. No que se relaciona ao uso dos recursos de três dos principais browsers utilizados na navegação em sites da *internet*, como o *Google Chrome*, o *Microsoft Edge* e o *Firefox Mozilla*, em suas últimas versões, instalados e configurados em microcomputadores e *notebooks*, a execução de um atalho de teclado tem por função inserir e/ou remover a Barra de Favoritos. Esse atalho de teclado corresponde a pressionar, simultaneamente e em sequência, as teclas Ctrl, Shift e:

- A) T
B) V
C) B
D) F

18. No que tange às ferramentas *Google*, uma é uma plataforma de videoconferência que permite realizar chamadas com áudio e vídeo para várias pessoas ao mesmo tempo, possibilitando realizar reuniões, aulas e eventos online, independentemente da localização geográfica dos participantes. Entre as características desse recurso, pode-se compartilhar a tela, apresentações e documentos em tempo real, transformando-o em uma ferramenta útil para trabalhar remotamente, colaborar com colegas e realizar apresentações online. Além disso, é fácil de usar e pode ser acessada diretamente no navegador da *web*, sem a necessidade de instalar qualquer *software* adicional. Essa ferramenta é conhecida como:

- A) *Google Meet*
B) *Google Team*
C) *Google Gemini*
D) *Google Workspace*

RACIOCÍNIO LÓGICO E MATEMÁTICO

19. Um aluno obteve notas $N_1=7,0$ e $N_2=8,0$ em duas provas com pesos $P_1=2$ e $P_2=3$, respectivamente. Ele fez uma terceira avaliação com nota $N_3=9,0$ e peso P_3 . Se a Média Ponderada final foi de $8,0$, o valor de P_3 é igual a:

- A) 1
B) 1,5
C) 2
D) 2,5

20. Dados um triângulo equilátero e um hexágono regular, sabendo que ambos possuem o mesmo perímetro e que a área do hexágono regular é igual a $6 m^2$. Nessas condições, a área do triângulo equilátero é igual a:

- A) $2 m^2$
B) $3 m^2$
C) $4 m^2$
D) $6 m^2$

21. De um grupo de 10 mulheres e 8 homens, deseja-se formar uma equipe de 6 pessoas. O número de maneiras de formar a equipe, onde o número de mulheres é o dobro do número de homens é igual a:

- A) 5.880
B) 6.780
C) 7.680
D) 8.550

22. Em uma pesquisa de mercado, 1200 pessoas foram entrevistadas sobre o consumo dos produtos A, B e C. Sabe-se que 150 consomem apenas A, 200 consomem apenas B, 250 consomem apenas C. Além disso, 100 consomem A e B, 80 consomem B e C, e 70 consomem A e C. Se 30 pessoas consomem os três produtos, então o número de pessoas que consomem exatamente dois produtos é igual a:

- A) 80
B) 160
C) 220
D) 280

23. Considere dois conjuntos *A* e *B* com $|A|=15$, $|B|=20$ e $|A \cup B|=28$. Nessas condições a cardinalidade do conjunto $\mathcal{P}(A \cap B)$, ou seja, o número de subconjuntos da interseção é igual a:

- A) 7
B) 20
C) 80
D) 128

24. Um celular custa R\$ 2.500,00 e é vendido com um desconto de 20%. No momento da compra, é aplicado um imposto de 10% sobre o preço final com desconto. O preço final pago na compra foi de:

- A) R\$ 2.100,00
B) R\$ 2.200,00
C) R\$ 2.300,00
D) R\$ 2.400,00

CONHECIMENTOS ESPECÍFICOS

25. No desempenho das funções de um fiscal sanitário em um município é importante se conhecer as áreas de atuação da vigilância sanitária, destacando-se, entre outras:

- A) o controle de combustíveis em postos de abastecimento
- B) a fiscalização de alimentos e bebidas no comércio local
- C) o controle da mobilidade urbana em ruas e vias municipais
- D) o planejamento das atividades docentes na rede pública municipal de educação

26. Entende-se como Vigilância Sanitária um conjunto de ações que têm por objetivo:

- A) eliminar ou prevenir riscos à saúde relacionados a problemas sanitários em um ambiente, tanto para locais de circulação das pessoas quanto para locais de produção de bens e de serviços
- B) estabelecer rotinas de higiene familiar nos espaços privados no interior dos domicílios, incluindo métodos para asseio pessoal e manuseio doméstico de cosméticos.
- C) implementar sistemas de odorização urbana, visando propiciar maior conforto e satisfação da população de uma cidade no que se refere ao bem estar ao ar livre.
- D) garantir à população de uma cidade ou região acesso gratuito a serviços públicos de saúde

27. Uma doença provocada pela ingestão de carne de porco ou de animais de caça, como javalis, crua ou mal cozida, causada pelo parasita *Trichinella spiralis*, cujos sintomas podem ser náuseas, vômitos, dores abdominais, diarreia, febre e erupção cutânea, é conhecida como:

- A) artrose
- B) rubéola
- C) osteoporose
- D) triquinelose

28. Uma zoonose é uma doença transmitida de um animal para o ser humano, podendo ocorrer em suínos, bovinos, caprinos, aves, entre outros. Sua transmissão pode se dar pela ingestão de carne crua ou mal passada e também pelo consumo de água, frutas, verduras. Aquela causada pelo protozoário *Toxoplasma gondii*, é conhecida como:

- A) psoríase
- B) lupus
- C) toxoplasmose
- D) anemia

29. Uma doença, também conhecida como equinococose, causada por um parasito de cães chamado *Echinococcus granulosus*, cuja transmissão para seres humanos ocorre através da ingestão acidental de água e alimentos contaminados com fezes de cães ou através de contato íntimo com estes animais, é denominada:

- A) hidatidose
- B) herpes
- C) caxumba
- D) poliomielite

30. Uma doença causada pela bactéria *Salmonella spp*, presente em ovos e frangos crus, carne, leite e produtos lácteos, pescados, e água contaminados com fezes de animais portadores, cujos sintomas podem incluir diarreia, vômito, febre, dor abdominal, náusea, desidratação, começando a se manifestar entre 6 e 72 horas após a ingestão do alimento contaminado, com duração entre 2 e 7 dias, é conhecida como:

- A) varíola
- B) dengue
- C) salmonelose
- D) mononucleose

31. Uma doença causada pela toxina produzida pela bactéria *clostridium botulinum*, encontrada em alimentos em conservas, cuja transmissão pode se dar pela ingestão de alimentos contaminados, sendo as fontes comuns deste tipo de doença alimentos que foram enlatados, preservados ou fermentados de maneira inadequada, é conhecida como:

- A) cólera
- B) botulismo
- C) leptospirose
- D) hanseníase

32. No exercício das funções de um fiscal sanitário, em muitas situações se faz necessário avaliar rapidamente, e preliminarmente, as características de um produto alimentício a partir da percepção pelos sentidos humanos, como cor, odor, sabor, textura e brilho. Essas propriedades são denominadas:

- A) econômicas
- B) estruturais
- C) superficiais
- D) organolépticas

33. A água pode ser responsável por transmitir um elevado número de enfermidades, podendo se dar por diferentes mecanismos, sendo o mais comum:

- A) o banho
- B) a chuva
- C) a ingestão
- D) a lavagem de pisos

34. Os resíduos sólidos urbanos quando não são destinados adequadamente podem causar diversas doenças, razão pela qual deve haver fiscalização quanto ao seu correto acondicionamento pela população. Essas doenças são causadas por diferentes micro-organismos patogênicos que podem permanecer vivos na massa de resíduos. O tempo de sobrevivência desses organismos pode ser considerado um fator muito importante na transmissão, podendo atingir muitos dias. A doença cujo micro-organismo patogênico presente pode atingir acima de 2000 dias é:

- A) cólera
- B) leptospirose
- C) disenteria
- D) ascaridíase

35. A precariedade dos sistemas de esgotamento sanitário, especialmente em relação ao destino inadequado dos dejetos humanos, pode estar relacionada diretamente à transmissão de diversas doenças, entre as quais:

- A) diarreia
- B) demência
- C) glaucoma
- D) gripe

36. O Código Sanitário do Estado do Mato Grosso, instituído pela Lei n.º 7.110/1999, dispõe sobre a promoção, proteção e preservação da saúde individual e coletiva e tem como um dos objetivos:

- A) garantir renda mínima a todos os habitantes dentro dos limites do Estado
- B) promover ações visando ao controle de doenças, agravos ou fatores de riscos à saúde
- C) viabilizar a participação de jovens e adultos em competições esportivas em todos os municípios
- D) penalizar municípios que demonstrem incapacidade para gerir a política municipal de saúde

37. Também segundo o Código Sanitário do Estado do Mato Grosso, instituído pela Lei n.º 7.110/1999, os Municípios que não possuírem condições de executar plenamente os serviços de vigilância sanitária:

- A) poderão se eximir de atuar nesse campo das políticas públicas de saúde, delegando à população o auto controle sanitário no município
- B) deverão contratar empresas privadas da área de segurança patrimonial, no sentido de garantir e prevenir abusos por parte da rede de comércio local
- C) estarão impedidos de solicitarem recursos financeiros ao Governo Federal, não apenas para a área de saúde, assim como para qualquer outra política pública
- D) deverão comunicar ao Estado sobre a situação, para que este promova a atuação complementar por meio da prestação de apoio técnico e financeiro e/ou a execução dos serviços de vigilância sanitária.

38. Quanto às informações e dados de interesse da vigilância sanitária, o Código Sanitário do Estado do Mato Grosso – MT, Lei n.º 7.110/1999, estabelece que os municípios mato-grossenses:

- A) ficam obrigados a fornecer no sistema oficial do Estado, sendo facultativa a adesão integral de utilização do sistema.
- B) ficam obrigados a aderirem exclusivamente às plataformas dos sistemas federais
- C) devem decidir pela delegação dessa demanda ao Poder Legislativo Municipal
- D) devem alimentar e utilizar exclusivamente o sistema municipal de informações

39. Considerando o Código Sanitário do Estado do Mato Grosso, Lei n.º 7.110/1999, os estabelecimentos sujeitos à ação fiscalizadora dos serviços de Vigilância Sanitária:

- A) deverão estar sempre disponíveis e abertos durante vinte e quatro horas por dia, a fim de permitir qualquer inspeção.
- B) apenas poderão comercializar carnes de animais considerados de pequeno porte quando da existência de exemplares vivos, para verificação pelos consumidores.
- C) deverão manter serviço de atendimento à população para recebimento de reclamações, denúncias, informações e sugestões no próprio local.
- D) não poderão utilizar refrigeradores alimentados por energia gerada por gás, devendo estar ligados ao sistema de energia elétrica da concessionária pública

40. Para um município melhor gerir as ações de saúde em seu território é aconselhável que sejam implementados instrumentos de planejamento. Nesse sentido, o Município de Marcelândia conta com o atual Plano Municipal de Saúde, com vigência para o período de 2022 a 2025. Esse documento prevê, para a atuação da fiscalização sanitária, a utilização de instrumentos legais, entre outros, tais como:

- A) certidão
- B) notificação
- C) alerta sonoro
- D) alerta luminoso



RA SCUNHO