


CONCURSO PÚBLICO PARA PROVIMENTO DO CARGO DE  
AUXILIAR ADMINISTRATIVO

NOME DO CANDIDATO:	NÚMERO DE INSCRIÇÃO:
--------------------	----------------------

<p><b>VOCÊ RECEBEU DO FISCAL DE SALA ESTE CADERNO DE QUESTÕES DA PROVA OBJETIVA:</b></p> <ol style="list-style-type: none"> <li>1. <b>Verifique se o mesmo corresponde à sua opção de cargo</b>, caso contrário, comunique tal fato imediatamente ao Fiscal de Sala, pois não serão aceitas reclamações posteriores.</li> <li>2. Para cada questão existe apenas <b>UMA</b> única alternativa adequada.</li> <li>3. O candidato deverá permanecer obrigatoriamente em sala, por questões de segurança, durante o período mínimo de <b>30 (TRINTA)</b> minutos após o início da prova.</li> <li>4. O tempo disponível para a realização da prova corresponde a 03 (três) horas, intervalo este que compreende não só a resolução das questões objetivas, mas também o preenchimento da <b>Cartão de Resposta</b>.</li> <li>5. Reserve pelo menos os 20 minutos finais para marcar seu <b>Cartão de Resposta</b>.</li> <li>6. Os rascunhos e as marcações assinaladas no presente Caderno de Questões não serão considerados na avaliação.</li> <li>7. Após 2 (duas) horas do início das provas, o candidato poderá levar o caderno de questões.</li> <li>8. A saída do prédio deverá ser em silêncio, pois não será permitida a permanência de nenhum candidato após o término da prova, nem qualquer aglomeração nos corredores ou arredores do prédio da realização das provas.</li> </ol>	<p><b>O candidato estará sujeito à ELIMINAÇÃO do concurso nas seguintes situações:</b></p> <ol style="list-style-type: none"> <li>1. Ausentar-se da sala em que se realiza a prova levando consigo a qualquer horário o Cartão de Resposta ou o Caderno de Questões caso saia antes de 2h de prova.</li> <li>2. Utilizar-se, durante a realização da prova, de máquinas e/ou relógios de calcular, Smartwatch bem como rádios gravadores, "headphones", telefones celulares ou fonte de consulta de qualquer espécie, descritos ou não no edital.</li> <li>3. Comunicar-se com qualquer outro candidato.</li> <li>4. Deixar de assinar o Cartão de Resposta.</li> <li>5. Faltar com o devido respeito ante a autoridade do Fiscal de Sala ou qualquer outro membro da aplicação do concurso.</li> </ol> <hr/> <p><b>Divulgação das provas e do gabarito preliminar:</b></p> <p>"Prezado(a) candidato(a), todas as informações essenciais do concurso estarão disponíveis de forma prática e acessível através do QR Code abaixo, que o levará a página relativa ao Concurso em nosso site. Fique atento(a) e utilize o código para obter detalhes sobre o Gabarito, Editais de Convocação para Provas Práticas ou Provas de Títulos (quando for o necessário para o cargo), Homologação, datas para entrega de documentação e demais instruções para o seu sucesso nessa jornada rumo à aprovação. Boa sorte!"</p> <div style="text-align: right;">  </div> <p style="text-align: center;"><a href="http://www.facetconcursos.com.br">www.facetconcursos.com.br</a></p>
---	--

Ao terminar a prova **em tempo inferior a 02 (duas) horas**, chame o fiscal de sala, verifique se assinou corretamente e preencheu o Cartão de Resposta. **DEVOLVA** todo o material junto com esse Caderno de Questões, sendo permitido apenas destacar nesta 1ª folha do Caderno de Questões esta fita de respostas, onde nela o candidato deverá anotar o rascunho do seu gabarito.

1	2	3	4	5	6	7	8	9	10
11	12	13	14	15	16	17	18	19	20
21	22	23	24	25	26	27	28	29	30
31	32	33	34	35	36	37	38	39	40

**LÍNGUA PORTUGUESA**

1. Eco assevera que “o texto quer alguém que o ajude a funcionar”, delineando papéis cooperativos do leitor-modelo (Eco, Lector in fabula). Iser concebe a leitura como “realização” de virtualidades textuais, mediada por lacunas intencionais (blanks) (Iser, O ato da leitura). Koch & Elias sistematizam níveis de compreensão articulando pistas coesivas, pressupostos e conhecimentos enciclopédicos (Koch & Elias, Ler e compreender).

À luz da estética da recepção e da linguística textual, assinale a alternativa correta.

- a) Leitura inferencial articula pistas linguísticas, esquemas enciclopédicos e inferências pragmáticas, incluindo implicaturas convencionais invariáveis.
- b) Pressuposições pertencem ao dito literal, canceláveis livremente, compondo leitura estritamente denotativa sem contextos discursivos.
- c) Interpretação crítica integra níveis textual, intertextual e ideológico, avaliando coerência global com critérios explícitos.
- d) Compreensão literal abarca somente termos-chave, ignorando referências anafóricas e cadeias coesivas intencionalmente ativadas textuais.
- e) Níveis de leitura sucedem-se rigidamente, sem retornos interpretativos, segundo linearidade fixa dos manuais tradicionais.

2. Coesão (referencial, sequencial, lexical) materializa conexões que sinalizam coerência global (Halliday & Hasan; Koch & Elias). Denotação codifica sentidos convencionais; a conotação refigura-os pragmaticamente. As funções de Jakobson distribuem focos na comunicação (Jakobson, “Linguística e Poética”).

Considerando coesão, coerência e funções, escolha a assertiva correta.

- a) Coesão referencial endofórica retoma referentes textuais, diferindo da exofórica, ancorada em contexto situacional compartilhado.
- b) Coerência pragmática independe do leitor, bastando conectores sequenciais, garantindo inteligibilidade automática dos enunciados plena.

- c) Denotação constitui valor afetivo, variável, enquanto conotação registra sentido lexical codificado, estável, universalmente aceito.
- d) Função metalinguística centra-se no código, exemplificando-se em definições, glossários, gramáticas, comentários terminológicos e notas.
- e) Progressão temática linear ignora reiteração lexical, baseando-se exclusivamente em hiperonímias, sem cadeias referenciais reconhecíveis.

3. A redação oficial segue o AO-90 e o VOLP/ABL; prefixação, hífen, duplicação consonantal e acentos diferenciais residuais são normatizados (Bechara, Moderna Gramática Portuguesa; VOLP/ABL; Cunha & Cintra).

À luz do AO-90 e do VOLP, identifique a alternativa correta.

- a) Antirreligioso escreve-se sem hífen, duplicando r inicial, conforme Base XVI do AO-90 brasileiro.
- b) Pré-história perdeu o hífen obrigatório, unificando prefixo e base, apesar do h inicial.
- c) Micro-ondas aboliu o hífen geral, preservando sequência vocálica, mantendo ortografia inteiramente regularizada modernamente.
- d) Pôr mantém acento diferencial abolido, distinguindo-se de por, segundo recomendações complementares posteriores voluntárias.
- e) Antisséptico exige hífen regulador, evitando geminação de s, por diretriz explícita das Bases.

4. Na formação de palavras, parassíntese requer simultaneidade afixal; aglutinação implica reajustes fônicos; justaposição preserva formas (Cegalla; Bechara; Perini).

Assinale a alternativa correta sobre os processos descritos.

- a) Automóvel exemplifica justaposição clássica, unindo radicais latinos, sem qualquer hibridismo etimológico característico lexical.
- b) Passatempo evidencia aglutinação morfológica, com fusão fônica obrigatória entre elementos originários semanticamente clássicos.
- c) Enriquecer configura prefixação simples, dispensando sufixo simultâneo, considerando derivação necessariamente não parassintética estrita.

- d) Fidalgo representa aglutinação plena, com perdas fonéticas internas, preservando segmentos originais apenas residuais.
- e) Planície ilustra parassíntese nominal, combinando prefixo e sufixo simultâneos sobre base adjetival derivada.

5. A arquitetura oracional discrimina termos essenciais, integrantes e acessórios; predicados verbal, nominal e verbo-nominal; e orações substantivas, adjetivas e adverbiais (Cunha & Cintra; Bechara; Mateus et al.).

Indique a assertiva correta.

- a) Oração completiva nominal depende de nome abstrato, requer preposição integrante, não funciona como objeto sempre.
- b) Oração objetiva direta liga-se ao verbo com preposição obrigatória, introduzindo que em estruturas típicas padrões.
- c) Predicado nominal contém dois verbos plenos, articulando processos sucessivos, sem qualquer atributo nuclear do sujeito.
- d) Predicado verbo-nominal exclui predicativos, concentrando valores circunstanciais, deixando o núcleo exclusivamente verbal sempre por definição.
- e) Oração subordinada adjetiva restritiva isola-se por vírgulas, por sua natureza explicativa intrinsecamente avaliativa na escrita.

6. Em construções fixas e locuções, a concordância varia: “em anexo” é locução adverbial invariável; “um e outro” usualmente rege verbo no singular; sujeitos oracionais tendem ao singular (Bechara; Luft; Cunha & Cintra).

Selecione a alternativa correta conforme a norma culta.

- a) Em anexo opera adjetivamente, variável; anexo adjetivo concorda morfologicamente com referente sempre funcionalmente.
- b) Um e outro sujeitos exigem plural verbal, por constituírem coordenação simétrica, semanticamente composta.
- c) Sujeito oracional impõe plural obrigatório, pela heterogeneidade interna, apesar do núcleo infinitivo interno.
- d) Expressão é preciso concorda sempre, variando gênero e número conforme o sujeito explícito.
- e) As gentes exigem plural verbal, porque substantivo coletivo plural atualiza núcleo sintático obrigatoriamente.

7. Em “preferir”, o padrão é “preferir X a Y”; “visar” = “ter em vista” rege a; “visar” = “apor visto” é transitivo direto; crase decorre de preposição + artigo/locução (Bechara; Napoleão Mendes; Cunha & Cintra).

Marque a alternativa compatível com a regência e a crase.

- a) Crase em bife à milanesa provém de à moda de, com núcleo elíptico recuperável.
- b) Preferir rege preposição, preferindo-se algo a algo, admitindo duplicidade preposicional redundante em norma também.
- c) Visar sentido mirar exige preposição em, consagrando-se variante a, segundo gramáticas descritivas consagradas atuais.
- d) Obedecer admite objeto direto pronominal, sendo correta forma obedeci-o, na variante culta brasileira normativa.
- e) Ir a exige crase obrigatória sempre, independentemente de artigo, inclusive perante topônimos propriamente masculinos.

8. Atratores de próclise: negativas, pronomes relativos, conjunções subordinativas, certos advérbios; mesóclise restringe-se ao futuro do indicativo e do pretérito, ausentes atratores (Bechara; Cunha & Cintra). Identifique a alternativa correta segundo a sintaxe pronominal.

- a) Mesóclise exige futuro simples, ausentes atratores; com negação, realiza-se ênclise: não se fará aqui.
- b) Ênclise não se usa após que; com atratores, impõe-se próclise por regra sempre formal.
- c) Próclise é opcional com advérbios iniciais negativos, mesmo quando há elementos de atração fortes.
- d) Com infinitivo impessoal regido, prefere-se próclise sempre: a tentar-se resolver constitui construção inepta ainda.
- e) Mesóclise admite-se no pretérito perfeito, como vendeu-se-me, quando o sujeito for indefinido formalmente hoje.

9. A vírgula não separa sujeito e predicado; ponto e vírgula coordena membros complexos; dois-pontos introduzem explicação, enumeração e citação; aspas marcam citação, termo técnico e ironia; travessões isolam incisos (Bechara; Luft).

Selecione a alternativa normativamente adequada.

- a) Vírgula separa sujeito e predicado quando sujeito é longo, por clareza, segundo gramáticas.
- b) Ponto e vírgula marca pausa fraca, inferior à vírgula, entre orações absolutamente independentes.
- c) Dois-pontos apenas introduzem citações literais, vedados antes de enumerações explicativas com orações também.
- d) Aspas assinalam citação, termo técnico, ironia; travessões isolam aposto explicativo ou inciso parentético.
- e) Parênteses equivalem a vírgulas sempre, podendo substituir pontuação em qualquer entorno sintático complexo.

10. Metáfora, metonímia, hipálage, catacrese e zeugma compõem repertório retórico clássico (Lausberg). Na sociolinguística, a norma-padrão é variedade de prestígio, não ontologicamente superior (Labov; Bagno). Silepses operam concordância lógica, não gramatical.

Assinale a alternativa correta conforme retórica e sociolinguística.

- a) Hipálage transfere atributo entre termos, deslocando concordância gramatical, criando estranhamento estilístico controlado deliberado.
- b) Catacrese realiza extensão metafórica arbitrária, vedada na norma, por caracterizar impropriedade lexical expressiva.
- c) Zeugma é elipse particular, omitindo termo anteriormente expresso, recuperável pelo contexto co-textual disponível.
- d) Silepse de pessoa segue concordância lógica, impondo formas, sem consideração da morfologia absolutamente.
- e) Variação diastrática representa regionalismos, distinguindo-se da diatópica, circunscrita a diferenças socioculturais de grupos.

### MATEMÁTICA

11. Em um laboratório de hidráulica, um reservatório cônico invertido, com raio da base igual a 12 cm e altura de 18 cm, encontra-se totalmente preenchido com um fluido de teste. Todo esse fluido é transferido para um cilindro vertical cuja base circular possui raio de 24 cm. Qual será a altura, em centímetros, atingida pelo fluido no interior do cilindro?

- a) 1,5.
- b) 3.
- c) 4.
- d) 4,5.
- e) 6.

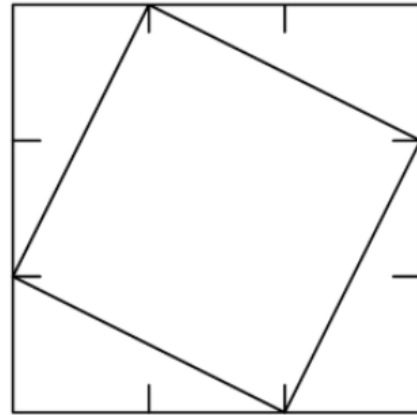
12. Em um laboratório de materiais, analisou-se um bloco cúbico de prata com 2 centímetros de aresta. Esse bloco possui massa de 3 libras e está avaliado em R\$ 200,00. Sabendo que o valor é proporcional ao volume do material, determine o preço de um bloco cúbico do mesmo metal cuja aresta mede 3 centímetros.

- a) R\$ 300,00.
- b) R\$ 375,00.
- c) R\$ 450,00.

- d) R\$ 560,00.
- e) R\$ 675,00.

13. Um grande painel quadrado teve cada um de seus lados dividido em três segmentos congruentes. Em cada ponto de trisseção foi marcado um vértice, formando-se assim um quadrado interno, cujos vértices estão exatamente nesses pontos, conforme a disposição geométrica ilustrada.

Qual é a razão entre a área do quadrado formado pelos pontos de trisseção e a área do quadrado externo?



- a)  $\frac{\sqrt{3}}{3}$ .
- b)  $\frac{5}{9}$ .
- c)  $\frac{2}{3}$ .
- d)  $\frac{\sqrt{5}}{3}$ .
- e)  $\frac{7}{9}$ .

14. Em um estudo sobre padrões numéricos realizado por uma equipe de análise computacional, investigam-se números inteiros positivos que atendem simultaneamente às seguintes condições:

- a soma dos quadrados de seus dígitos é igual a 50;
- cada dígito é estritamente maior que o dígito imediatamente anterior.

Considerando todos os números que satisfazem esses critérios, determine o produto dos dígitos do maior número possível.

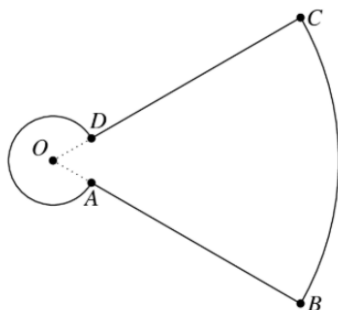
- a) 7.
- b) 25.

- c) 36.
- d) 48.
- e) 60.

15. Em uma rotina de verificações numéricas em um sistema de cálculo automático, considera-se o produto formado por todos os números pares de 2 a 98, inclusive, excetuando-se aqueles que terminam em 0. Qual será o último dígito (dígito das unidades) desse produto?

- a) 0.
- b) 2.
- c) 4.
- d) 6.
- e) 8.

16. Em um estudo de geometria aplicada ao mapeamento de trajetórias robóticas, dois arcos pertencentes a circunferências concêntricas de centro  $O$  são utilizados para modelar um corredor curvo. Sobre a circunferência interna situam-se os pontos  $A$  e  $D$ , enquanto  $B$  e  $C$  pertencem à circunferência externa. A disposição dos pontos obedece à orientação radial indicada no esquema fornecido: o ponto  $A$  localiza-se entre os raios que passam por  $O$  e  $B$ , e o ponto  $D$  encontra-se entre os raios que passam por  $O$  e  $C$ .



As exigências do modelo geométrico são as seguintes:

- o arco maior  $\widehat{AD}$ , sobre a circunferência menor, possui comprimento exatamente  $2\pi$ ;
- o arco menor  $\widehat{BC}$ , sobre a circunferência maior, também possui comprimento  $2\pi$ ;
- cada um dos segmentos retos  $AB$  e  $CD$  tem igualmente comprimento  $2\pi$ .

Com base nessas condições de simetria e proporcionalidade entre arcos e segmentos, determine o valor do raio menor, isto é, a distância  $OA$ .

- a) 1.
- b)  $1 - \pi + \sqrt{\pi^2 + 1}$ .
- c)  $\frac{\pi}{2}$ .
- d)  $\frac{\sqrt{\pi^2 + 1}}{2}$ .
- e) 2.

17. Em um estudo sobre distribuição de valores em progressões igualmente espaçadas, três números inteiros positivos são posicionados em uma reta numérica de modo que permaneçam equidistantes. O número central é 15, e o maior deles corresponde a quatro vezes o menor. Com essas condições, determine qual é o menor desses três valores.

- a) 4.
- b) 5.
- c) 6.
- d) 7.
- e) 8.

18. Em um programa de incentivo à pesquisa científica, três projetos — X, Y e Z — receberão juntos um total de R\$ 180.000,00. A distribuição deve ocorrer de forma diretamente proporcional ao número de pesquisadores envolvidos em cada projeto (6, 9 e 15, respectivamente) e inversamente proporcional ao tempo previsto de execução (12, 18 e 30 meses). Nessas condições, qual é o valor destinado ao Projeto Z?

- a) R\$ 45.000,00.
- b) R\$ 54.000,00.
- c) R\$ 60.000,00.
- d) R\$ 72.000,00.
- e) R\$ 90.000,00.

19. Em um levantamento topográfico realizado para delimitar uma área de preservação, determinou-se que uma região triangular é limitada por três segmentos

retos que medem 13 m, 14 m e 15 m. Para fins de cálculo ambiental, é necessário encontrar a área exata dessa região triangular. Qual é a área da região, em metros quadrados?

- a) 60.
- b) 72.
- c) 84.
- d) 90.
- e) 96.

20. Em um modelo matemático utilizado para prever o comportamento de um sistema físico, a posição  $x$  de uma partícula em determinado instante é descrita pela solução da equação quadrática

$$4x^2 - 7x - 3 = 0.$$

As duas soluções reais dessa equação representam estados possíveis do sistema em equilíbrio.

Com base no modelo, determine a soma das posições de equilíbrio.

- a)  $-\frac{7}{4}$ .
- b)  $\frac{7}{4}$ .
- c)  $\frac{3}{2}$ .
- d)  $\frac{5}{4}$ .
- e)  $\frac{9}{4}$ .

#### CONHECIMENTOS GERAIS

21. A política fiscal é um dos instrumentos centrais de intervenção estatal na economia, especialmente em países de alta desigualdade como o Brasil. Nos debates contemporâneos sobre o arcabouço fiscal, destacam-se tensões entre responsabilidade orçamentária, crescimento econômico e garantia de direitos sociais. Considerando esse contexto, qual proposição expressa de forma mais consistente a função da política fiscal em sociedades desiguais?

- a) Restringir-se ao equilíbrio nominal das contas públicas, ainda que em detrimento da efetividade dos direitos sociais constitucionais.
- b) Compatibilizar arrecadação e gasto público, articulando responsabilidade fiscal, redistribuição de renda e concretização de direitos sociais.
- c) Limitar-se à arrecadação tributária, cabendo ao mercado livre corrigir distorções distributivas e promover equidade social.
- d) Privilegiar setores exportadores estratégicos, mesmo que em prejuízo das políticas de saúde, educação e seguridade social.
- e) Garantir neutralidade estatal, afastando qualquer função redistributiva para não interferir no livre funcionamento da economia.

22. A literatura nordestina, especialmente na Paraíba e no Cariri, articula regionalismo, crítica social e valorização da oralidade popular. Considerando autores vinculados a esse contexto, qual proposição traduz com maior rigor sua contribuição?

- a) Inácio de Loyola Brandão consolidou prosa urbana crítica, sem vínculos com regionalismo nordestino, distanciando-se das matrizes sertanejas tradicionais.
- b) José Lins do Rego, embora ligado ao ciclo da cana, incorporou em parte o sertão nordestino, mas sua obra central permaneceu focada na Zona da Mata açucareira.
- c) Patativa do Assaré, ainda que cearense, projetou oralidade e resistência sertaneja, em diálogo com a experiência social de Monteiro e do Cariri paraibano.
- d) Ariano Suassuna estruturou uma estética barroco-popular, inspirada em tradições sertanejas, cordel e romance de cavalaria, conferindo universalidade à cultura regional.
- e) A produção literária caririzeira manteve narrativas locais relevantes, mas não alcançou projeção nacional, permanecendo restrita ao contexto regional imediato.

23. A Constituição de 1988 define a Federação brasileira como composta pela União, Estados, Distrito Federal e Municípios, todos dotados de autonomia. Essa autonomia, entretanto, não é ilimitada e deve respeitar os princípios constitucionais fundamentais. Considerando esse arranjo, qual proposição traduz de modo mais rigoroso os elementos que compõem a autonomia federativa?

- a) A autonomia abrange auto-organização, autolegislação, autogoverno e autoadministração, mas sempre condicionada à supremacia da Constituição Federal.
- b) Os entes federados possuem liberdade normativa plena, ainda que em contradição

com normas constitucionais estruturantes estabelecidas pela União.

- c) A autonomia político-administrativa é ampla, mas as competências tributárias e financeiras permanecem sob supervisão direta da União.
- d) Cada ente pode instituir sistemas de governo distintos do presidencialismo, desde que aprovados por consulta popular em seu território.
- e) Estados e municípios detêm autonomia relativa, subordinada a um modelo hierárquico centralizado, em que a União exerce poder fiscalizador superior.

**24.** A circulação de ideias da Revolução Francesa no Brasil colonial influenciou movimentos emancipatórios, reinterpretados segundo interesses locais. Considerando esse quadro, qual proposição traduz de modo mais consistente essa apropriação?

- a) As referências francesas foram completamente rejeitadas no Brasil, prevalecendo apenas modelos políticos de matriz ibérica e lusocatólica.
- b) A Inconfidência Mineira adaptou ideais iluministas à realidade colonial, mas manteve escravidão, revelando seletividade elitista no discurso de liberdade.
- c) O movimento pernambucano de 1817 combinou republicanism, anticlericalismo e crítica à ordem colonial, inspirado por modelos franceses e atlânticos.
- d) Setores populares, como soldados e artesãos, também absorveram ideais franceses, articulando-os a demandas por cidadania ampliada e melhores condições.
- e) A Conjuração Baiana radicalizou ao propor igualdade racial, abolição da escravidão e independência, inspirada em liberdade e fraternidade.

**25.** A crise de 1929 provocou forte impacto sobre a economia brasileira, especialmente no setor cafeeiro, desencadeando mudanças no padrão produtivo. Considerando seus efeitos, qual proposição é mais consistente?

- a) A retração do café estimulou cultivos secundários, como algodão e cacau, que ampliaram presença relativa na pauta exportadora.
- b) A industrialização ganhou impulso no período, mas de forma dependente de políticas de substituição de importações, e não como processo automático.
- c) A política de valorização do café assegurou estabilidade inicial, mas revelou limites estruturais diante do colapso da demanda internacional.
- d) A queda abrupta das exportações de café reduziu receitas externas, exigindo intervenção

estatal para sustentar estoques e estimular diversificação.

- e) O impacto atingiu exportadores, mas também o mercado interno, pela retração de crédito, desemprego e queda da renda disponível.

**26.** O Mercosul, instituído pelo Tratado de Assunção (1991), é considerado experiência relevante de integração regional, mas sua trajetória revela limitações frente a modelos supranacionais como a União Europeia. Nesse contexto, qual proposição expressa com maior rigor essas restrições?

- a) O bloco consolidou tarifa externa comum, mas com múltiplas exceções, dificultando a harmonização plena das políticas comerciais entre os membros.
- b) Houve avanços em livre circulação de bens e serviços, mas a ausência de parlamento supranacional autônomo limitou a institucionalidade regional.
- c) Os mecanismos de solução de controvérsias existem, mas permanecem dependentes de negociações políticas e carecem de força jurisdicional vinculante.
- d) As assimetrias econômicas e sociais entre os países persistem, restringindo a adoção de políticas macroeconômicas comuns e estáveis.
- e) A integração setorial ocorreu em áreas específicas, mas sua efetividade oscilou em função de crises internas e agendas nacionais divergentes.

**27.** A cultura popular do Cariri paraibano é reconhecida como patrimônio imaterial, extrapolando o folclore e adquirindo relevância histórica, social e antropológica. Considerando sua dimensão simbólica e institucional, qual proposição reflete com maior rigor essa condição?

- a) A produção cultural da região apresenta diversidade significativa, mas carece de legitimação como patrimônio imaterial pelas instâncias públicas competentes.
- b) As manifestações culturais da região são mantidas como expressões locais relevantes, mas não possuem qualquer reconhecimento jurídico-institucional oficial.
- c) A cultura popular caririzeira permanece viva, mas sua transmissão limita-se a práticas privadas, sem impacto sobre a memória coletiva ou patrimonial.
- d) A oralidade, o forró e o artesanato possuem caráter expressivo, mas seu valor restringe-se ao lazer regional, sem projeção cultural mais ampla.
- e) O patrimônio imaterial expressa identidade coletiva, transmitida entre gerações, com reconhecimento formal de órgãos nacionais e internacionais de preservação.

**28.** O município de Monteiro, no Cariri paraibano, insere-se em área de semiárido, condicionada por clima seco, relevo de planaltos e vegetação de caatinga. Considerando a relação entre meio físico e economia local, qual proposição é mais adequada?

- a) Monteiro apresenta solos férteis e chuvas regulares, sustentando horticultura irrigada em larga escala e produtividade anual elevada.
- b) O município consolidou-se como polo de várzeas irrigadas, produzindo arroz e grãos de forma intensiva e exportadora.
- c) O semiárido impôs práticas adaptadas, como culturas resistentes à seca, pecuária extensiva e açudes como reserva hídrica estratégica.
- d) A região baseia-se em fruticultura tropical de exportação, beneficiada por regimes hídricos perenes e abundância de mananciais naturais.
- e) O território integra cinturão cafeeiro mecanizado, com destaque histórico para monocultura voltada ao mercado externo.

**29.** A crise de 2008, originada nos Estados Unidos, repercutiu nas economias emergentes, inclusive o Brasil, evidenciando vulnerabilidades, mas também estratégias de contenção. Considerando esse cenário, qual proposição traduz com maior rigor seus efeitos no Brasil?

- a) A demanda chinesa compensou integralmente a perda de exportações para os Estados Unidos, assegurando imunidade da economia nacional.
- b) A economia mostrou-se imune às oscilações externas, mantendo crescimento elevado e plena estabilidade do mercado interno.
- c) O governo respondeu com incentivos fiscais e crédito público, mas não conseguiu evitar queda significativa do PIB no ano de 2009.
- d) O impacto bancário foi limitado pela regulação doméstica, embora setores produtivos tenham sofrido retração econômica relevante.
- e) O Brasil sofreu retração industrial, queda de exportações e redução de crédito, mas políticas anticíclicas atenuaram os impactos sobre emprego e renda.

**30.** A Agenda 2030 da ONU, ao propor os Objetivos de Desenvolvimento Sustentável (ODS), busca integrar crescimento econômico, justiça social e sustentabilidade ambiental. Entretanto, a implementação enfrenta dilemas significativos, sobretudo em países emergentes. Qual proposição traduz com maior rigor esses desafios?

- a) A plena execução das metas globais, sem contradições, assegurada uniformemente entre países desde a adoção formal da Agenda em 2015.
- b) A dificuldade de compatibilizar crescimento econômico, redução das desigualdades sociais

e preservação ambiental, especialmente em contextos de dependência estrutural.

- c) A irrelevância política dos ODS, diante da ausência de monitoramento institucional e de acompanhamento internacional de seus indicadores.
- d) A transição imediata para modelos circulares universais, assegurando sustentabilidade global sem comprometer empregos e cadeias produtivas.
- e) A eliminação automática da pobreza em escala mundial, resultado exclusivo da assinatura formal da Agenda 2030 por todos os países membros.

**FIM**