


CONCURSO PÚBLICO PARA PROVIMENTO DO CARGO DE
TÉCNICO ADMINISTRATIVO PLANTONISTA

NOME DO CANDIDATO:	NÚMERO DE INSCRIÇÃO:
--------------------	----------------------

<p>VOCÊ RECEBEU DO FISCAL DE SALA ESTE CADERNO DE QUESTÕES DA PROVA OBJETIVA:</p> <ol style="list-style-type: none"> 1. Verifique se o mesmo corresponde à sua opção de cargo, caso contrário, comunique tal fato imediatamente ao Fiscal de Sala, pois não serão aceitas reclamações posteriores. 2. Para cada questão existe apenas UMA única alternativa adequada. 3. O candidato deverá permanecer obrigatoriamente em sala, por questões de segurança, durante o período mínimo de 30 (TRINTA) minutos após o início da prova. 4. O tempo disponível para a realização da prova corresponde a 03 (três) horas, intervalo este que compreende não só a resolução das questões objetivas, mas também o preenchimento da Cartão de Resposta. 5. Reserve pelo menos os 20 minutos finais para marcar seu Cartão de Resposta. 6. Os rascunhos e as marcações assinaladas no presente Caderno de Questões não serão considerados na avaliação. 7. Após 2 (duas) horas do início das provas, o candidato poderá levar o caderno de questões. 8. A saída do prédio deverá ser em silêncio, pois não será permitida a permanência de nenhum candidato após o término da prova, nem qualquer aglomeração nos corredores ou arredores do prédio da realização das provas. 	<p>O candidato estará sujeito à ELIMINAÇÃO do concurso nas seguintes situações:</p> <ol style="list-style-type: none"> 1. Ausentar-se da sala em que se realiza a prova levando consigo a qualquer horário o Cartão de Resposta ou o Caderno de Questões caso saia antes de 2h de prova. 2. Utilizar-se, durante a realização da prova, de máquinas e/ou relógios de calcular, Smartwatch bem como rádios gravadores, "headphones", telefones celulares ou fonte de consulta de qualquer espécie, descritos ou não no edital. 3. Comunicar-se com qualquer outro candidato. 4. Deixar de assinar o Cartão de Resposta. 5. Faltar com o devido respeito ante a autoridade do Fiscal de Sala ou qualquer outro membro da aplicação do concurso. <hr/> <p>Divulgação das provas e do gabarito preliminar:</p> <p>"Prezado(a) candidato(a), todas as informações essenciais do concurso estarão disponíveis de forma prática e acessível através do QR Code abaixo, que o levará a página relativa ao Concurso em nosso site. Fique atento(a) e utilize o código para obter detalhes sobre o Gabarito, Editais de Convocação para Provas Práticas ou Provas de Títulos (quando for o necessário para o cargo), Homologação, datas para entrega de documentação e demais instruções para o seu sucesso nessa jornada rumo à aprovação. Boa sorte!"</p> <div style="text-align: right;">  </div> <p style="text-align: center;">www.facetconcursos.com.br</p>
---	--

Ao terminar a prova **em tempo inferior a 02 (duas) horas**, chame o fiscal de sala, verifique se assinou corretamente e preencheu o Cartão de Resposta. **DEVOLVA** todo o material junto com esse Caderno de Questões, sendo permitido apenas destacar nesta 1ª folha do Caderno de Questões esta fita de respostas, onde nela o candidato deverá anotar o rascunho do seu gabarito.

1	2	3	4	5	6	7	8	9	10
11	12	13	14	15	16	17	18	19	20
21	22	23	24	25	26	27	28	29	30
31	32	33	34	35	36	37	38	39	40

LÍNGUA PORTUGUESA

1. Eco assevera que “o texto quer alguém que o ajude a funcionar”, delineando papéis cooperativos do leitor-modelo (Eco, Lector in fabula). Iser concebe a leitura como “realização” de virtualidades textuais, mediada por lacunas intencionais (blanks) (Iser, O ato da leitura). Koch & Elias sistematizam níveis de compreensão articulando pistas coesivas, pressupostos e conhecimentos enciclopédicos (Koch & Elias, Ler e compreender).

À luz da estética da recepção e da linguística textual, assinale a alternativa correta.

- a) Leitura inferencial articula pistas linguísticas, esquemas enciclopédicos e inferências pragmáticas, incluindo implicaturas convencionais invariáveis.
- b) Pressuposições pertencem ao dito literal, canceláveis livremente, compondo leitura estritamente denotativa sem contextos discursivos.
- c) Interpretação crítica integra níveis textual, intertextual e ideológico, avaliando coerência global com critérios explícitos.
- d) Compreensão literal abarca somente termos-chave, ignorando referências anafóricas e cadeias coesivas intencionalmente ativadas textuais.
- e) Níveis de leitura sucedem-se rigidamente, sem retornos interpretativos, segundo linearidade fixa dos manuais tradicionais.

2. Coesão (referencial, sequencial, lexical) materializa conexões que sinalizam coerência global (Halliday & Hasan; Koch & Elias). Denotação codifica sentidos convencionais; a conotação refigura-os pragmaticamente. As funções de Jakobson distribuem focos na comunicação (Jakobson, “Linguística e Poética”).

Considerando coesão, coerência e funções, escolha a assertiva correta.

- a) Coesão referencial endofórica retoma referentes textuais, diferindo da exofórica, ancorada em contexto situacional compartilhado.
- b) Coerência pragmática independe do leitor, bastando conectores sequenciais, garantindo inteligibilidade automática dos enunciados plena.

- c) Denotação constitui valor afetivo, variável, enquanto conotação registra sentido lexical codificado, estável, universalmente aceito.
- d) Função metalinguística centra-se no código, exemplificando-se em definições, glossários, gramáticas, comentários terminológicos e notas.
- e) Progressão temática linear ignora reiteração lexical, baseando-se exclusivamente em hiperonímias, sem cadeias referenciais reconhecíveis.

3. A redação oficial segue o AO-90 e o VOLP/ABL; prefixação, hífen, duplicação consonantal e acentos diferenciais residuais são normatizados (Bechara, Moderna Gramática Portuguesa; VOLP/ABL; Cunha & Cintra).

À luz do AO-90 e do VOLP, identifique a alternativa correta.

- a) Antirreligioso escreve-se sem hífen, duplicando r inicial, conforme Base XVI do AO-90 brasileiro.
- b) Pré-história perdeu o hífen obrigatório, unificando prefixo e base, apesar do h inicial.
- c) Micro-ondas aboliu o hífen geral, preservando sequência vocálica, mantendo ortografia inteiramente regularizada modernamente.
- d) Pôr mantém acento diferencial abolido, distinguindo-se de por, segundo recomendações complementares posteriores voluntárias.
- e) Antisséptico exige hífen regulador, evitando geminação de s, por diretriz explícita das Bases.

4. Na formação de palavras, parassíntese requer simultaneidade afixal; aglutinação implica reajustes fônicos; justaposição preserva formas (Cegalla; Bechara; Perini).

Assinale a alternativa correta sobre os processos descritos.

- a) Automóvel exemplifica justaposição clássica, unindo radicais latinos, sem qualquer hibridismo etimológico característico lexical.
- b) Passatempo evidencia aglutinação morfológica, com fusão fônica obrigatória entre elementos originários semanticamente clássicos.
- c) Enriquecer configura prefixação simples, dispensando sufixo simultâneo, considerando derivação necessariamente não parassintética estrita.

- d) Fidalgo representa aglutinação plena, com perdas fonéticas internas, preservando segmentos originais apenas residuais.
- e) Planície ilustra parassíntese nominal, combinando prefixo e sufixo simultâneos sobre base adjetival derivada.

5. A arquitetura oracional discrimina termos essenciais, integrantes e acessórios; predicados verbal, nominal e verbo-nominal; e orações substantivas, adjetivas e adverbiais (Cunha & Cintra; Bechara; Mateus et al.).

Indique a assertiva correta.

- a) Oração completiva nominal depende de nome abstrato, requer preposição integrante, não funciona como objeto sempre.
- b) Oração objetiva direta liga-se ao verbo com preposição obrigatória, introduzindo que em estruturas típicas padrões.
- c) Predicado nominal contém dois verbos plenos, articulando processos sucessivos, sem qualquer atributo nuclear do sujeito.
- d) Predicado verbo-nominal exclui predicativos, concentrando valores circunstanciais, deixando o núcleo exclusivamente verbal sempre por definição.
- e) Oração subordinada adjetiva restritiva isola-se por vírgulas, por sua natureza explicativa intrinsecamente avaliativa na escrita.

6. Em construções fixas e locuções, a concordância varia: “em anexo” é locução adverbial invariável; “um e outro” usualmente rege verbo no singular; sujeitos oracionais tendem ao singular (Bechara; Luft; Cunha & Cintra).

Selecione a alternativa correta conforme a norma culta.

- a) Em anexo opera adjetivamente, variável; anexo adjetivo concorda morfologicamente com referente sempre funcionalmente.
- b) Um e outro sujeitos exigem plural verbal, por constituírem coordenação simétrica, semanticamente composta.
- c) Sujeito oracional impõe plural obrigatório, pela heterogeneidade interna, apesar do núcleo infinitivo interno.
- d) Expressão é preciso concorda sempre, variando gênero e número conforme o sujeito explícito.
- e) As gentes exigem plural verbal, porque substantivo coletivo plural atualiza núcleo sintático obrigatoriamente.

7. Em “preferir”, o padrão é “preferir X a Y”; “visar” = “ter em vista” rege a; “visar” = “apor visto” é transitivo direto; crase decorre de preposição + artigo/locução (Bechara; Napoleão Mendes; Cunha & Cintra).

Marque a alternativa compatível com a regência e a crase.

- a) Crase em bife à milanesa provém de à moda de, com núcleo elíptico recuperável.
- b) Preferir rege preposição, preferindo-se algo a algo, admitindo duplicidade preposicional redundante em norma também.
- c) Visar sentido mirar exige preposição em, consagrando-se variante a, segundo gramáticas descritivas consagradas atuais.
- d) Obedecer admite objeto direto pronominal, sendo correta forma obedeci-o, na variante culta brasileira normativa.
- e) Ir a exige crase obrigatória sempre, independentemente de artigo, inclusive perante topônimos propriamente masculinos.

8. Atratores de próclise: negativas, pronomes relativos, conjunções subordinativas, certos advérbios; mesóclise restringe-se ao futuro do indicativo e do pretérito, ausentes atratores (Bechara; Cunha & Cintra). Identifique a alternativa correta segundo a sintaxe pronominal.

- a) Mesóclise exige futuro simples, ausentes atratores; com negação, realiza-se ênclise: não se fará aqui.
- b) Ênclise não se usa após que; com atratores, impõe-se próclise por regra sempre formal.
- c) Próclise é opcional com advérbios iniciais negativos, mesmo quando há elementos de atração fortes.
- d) Com infinitivo impessoal regido, prefere-se próclise sempre: a tentar-se resolver constitui construção inepta ainda.
- e) Mesóclise admite-se no pretérito perfeito, como vendeu-se-me, quando o sujeito for indefinido formalmente hoje.

9. A vírgula não separa sujeito e predicado; ponto e vírgula coordena membros complexos; dois-pontos introduzem explicação, enumeração e citação; aspas marcam citação, termo técnico e ironia; travessões isolam incisos (Bechara; Luft).

Selecione a alternativa normativamente adequada.

- a) Vírgula separa sujeito e predicado quando sujeito é longo, por clareza, segundo gramáticas.
- b) Ponto e vírgula marca pausa fraca, inferior à vírgula, entre orações absolutamente independentes.
- c) Dois-pontos apenas introduzem citações literais, vedados antes de enumerações explicativas com orações também.
- d) Aspas assinalam citação, termo técnico, ironia; travessões isolam aposto explicativo ou inciso parentético.
- e) Parênteses equivalem a vírgulas sempre, podendo substituir pontuação em qualquer entorno sintático complexo.

10. Metáfora, metonímia, hipálage, catacrese e zeugma compõem repertório retórico clássico (Lausberg). Na sociolinguística, a norma-padrão é variedade de prestígio, não ontologicamente superior (Labov; Bagno). Silepses operam concordância lógica, não gramatical.

Assinale a alternativa correta conforme retórica e sociolinguística.

- a) Hipálage transfere atributo entre termos, deslocando concordância gramatical, criando estranhamento estilístico controlado deliberado.
- b) Catacrese realiza extensão metafórica arbitrária, vedada na norma, por caracterizar impropriedade lexical expressiva.
- c) Zeugma é elipse particular, omitindo termo anteriormente expresso, recuperável pelo contexto co-textual disponível.
- d) Silepse de pessoa segue concordância lógica, impondo formas, sem consideração da morfologia absolutamente.
- e) Variação diastrática representa regionalismos, distinguindo-se da diatópica, circunscrita a diferenças socioculturais de grupos.

MATEMÁTICA

11. Em um laboratório de hidráulica, um reservatório cônico invertido, com raio da base igual a 12 cm e altura de 18 cm, encontra-se totalmente preenchido com um fluido de teste. Todo esse fluido é transferido para um cilindro vertical cuja base circular possui raio de 24 cm. Qual será a altura, em centímetros, atingida pelo fluido no interior do cilindro?

- a) 1,5.
- b) 3.
- c) 4.
- d) 4,5.
- e) 6.

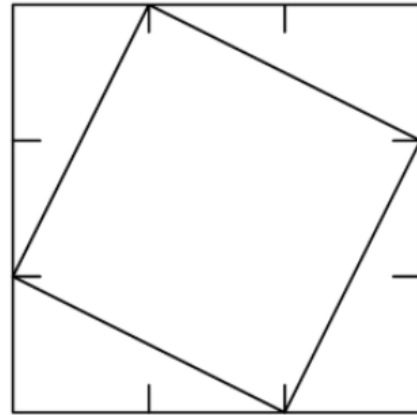
12. Em um laboratório de materiais, analisou-se um bloco cúbico de prata com 2 centímetros de aresta. Esse bloco possui massa de 3 libras e está avaliado em R\$ 200,00. Sabendo que o valor é proporcional ao volume do material, determine o preço de um bloco cúbico do mesmo metal cuja aresta mede 3 centímetros.

- a) R\$ 300,00.
- b) R\$ 375,00.
- c) R\$ 450,00.

- d) R\$ 560,00.
- e) R\$ 675,00.

13. Um grande painel quadrado teve cada um de seus lados dividido em três segmentos congruentes. Em cada ponto de trisseção foi marcado um vértice, formando-se assim um quadrado interno, cujos vértices estão exatamente nesses pontos, conforme a disposição geométrica ilustrada.

Qual é a razão entre a área do quadrado formado pelos pontos de trisseção e a área do quadrado externo?



- a) $\frac{\sqrt{3}}{3}$.
- b) $\frac{5}{9}$.
- c) $\frac{2}{3}$.
- d) $\frac{\sqrt{5}}{3}$.
- e) $\frac{7}{9}$.

14. Em um estudo sobre padrões numéricos realizado por uma equipe de análise computacional, investigam-se números inteiros positivos que atendem simultaneamente às seguintes condições:

- a soma dos quadrados de seus dígitos é igual a 50;
- cada dígito é estritamente maior que o dígito imediatamente anterior.

Considerando todos os números que satisfazem esses critérios, determine o produto dos dígitos do maior número possível.

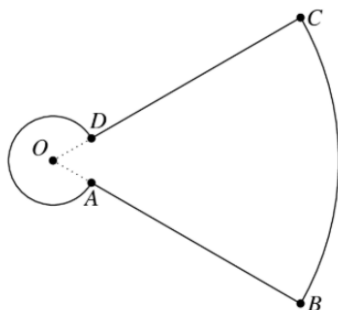
- a) 7.
- b) 25.

- c) 36.
- d) 48.
- e) 60.

15. Em uma rotina de verificações numéricas em um sistema de cálculo automático, considera-se o produto formado por todos os números pares de 2 a 98, inclusive, excetuando-se aqueles que terminam em 0. Qual será o último dígito (dígito das unidades) desse produto?

- a) 0.
- b) 2.
- c) 4.
- d) 6.
- e) 8.

16. Em um estudo de geometria aplicada ao mapeamento de trajetórias robóticas, dois arcos pertencentes a circunferências concêntricas de centro O são utilizados para modelar um corredor curvo. Sobre a circunferência interna situam-se os pontos A e D , enquanto B e C pertencem à circunferência externa. A disposição dos pontos obedece à orientação radial indicada no esquema fornecido: o ponto A localiza-se entre os raios que passam por O e B , e o ponto D encontra-se entre os raios que passam por O e C .



As exigências do modelo geométrico são as seguintes:

- o arco maior \widehat{AD} , sobre a circunferência menor, possui comprimento exatamente 2π ;
- o arco menor \widehat{BC} , sobre a circunferência maior, também possui comprimento 2π ;
- cada um dos segmentos retos AB e CD tem igualmente comprimento 2π .

Com base nessas condições de simetria e proporcionalidade entre arcos e segmentos, determine o valor do raio menor, isto é, a distância OA .

- a) 1.
- b) $1 - \pi + \sqrt{\pi^2 + 1}$.
- c) $\frac{\pi}{2}$.
- d) $\frac{\sqrt{\pi^2 + 1}}{2}$.
- e) 2.

17. Em um estudo sobre distribuição de valores em progressões igualmente espaçadas, três números inteiros positivos são posicionados em uma reta numérica de modo que permaneçam equidistantes. O número central é 15, e o maior deles corresponde a quatro vezes o menor. Com essas condições, determine qual é o menor desses três valores.

- a) 4.
- b) 5.
- c) 6.
- d) 7.
- e) 8.

18. Em um programa de incentivo à pesquisa científica, três projetos — X, Y e Z — receberão juntos um total de R\$ 180.000,00. A distribuição deve ocorrer de forma diretamente proporcional ao número de pesquisadores envolvidos em cada projeto (6, 9 e 15, respectivamente) e inversamente proporcional ao tempo previsto de execução (12, 18 e 30 meses). Nessas condições, qual é o valor destinado ao Projeto Z?

- a) R\$ 45.000,00.
- b) R\$ 54.000,00.
- c) R\$ 60.000,00.
- d) R\$ 72.000,00.
- e) R\$ 90.000,00.

19. Em um levantamento topográfico realizado para delimitar uma área de preservação, determinou-se que uma região triangular é limitada por três segmentos

retos que medem 13 m, 14 m e 15 m. Para fins de cálculo ambiental, é necessário encontrar a área exata dessa região triangular. Qual é a área da região, em metros quadrados?

- a) 60.
- b) 72.
- c) 84.
- d) 90.
- e) 96.

20. Em um modelo matemático utilizado para prever o comportamento de um sistema físico, a posição x de uma partícula em determinado instante é descrita pela solução da equação quadrática

$$4x^2 - 7x - 3 = 0.$$

As duas soluções reais dessa equação representam estados possíveis do sistema em equilíbrio.

Com base no modelo, determine a soma das posições de equilíbrio.

- a) $-\frac{7}{4}$.
- b) $\frac{7}{4}$.
- c) $\frac{3}{2}$.
- d) $\frac{5}{4}$.
- e) $\frac{9}{4}$.

CONHECIMENTOS GERAIS

21. A política fiscal é um dos instrumentos centrais de intervenção estatal na economia, especialmente em países de alta desigualdade como o Brasil. Nos debates contemporâneos sobre o arcabouço fiscal, destacam-se tensões entre responsabilidade orçamentária, crescimento econômico e garantia de direitos sociais. Considerando esse contexto, qual proposição expressa de forma mais consistente a função da política fiscal em sociedades desiguais?

- a) Restringir-se ao equilíbrio nominal das contas públicas, ainda que em detrimento da efetividade dos direitos sociais constitucionais.
- b) Compatibilizar arrecadação e gasto público, articulando responsabilidade fiscal, redistribuição de renda e concretização de direitos sociais.
- c) Limitar-se à arrecadação tributária, cabendo ao mercado livre corrigir distorções distributivas e promover equidade social.
- d) Privilegiar setores exportadores estratégicos, mesmo que em prejuízo das políticas de saúde, educação e seguridade social.
- e) Garantir neutralidade estatal, afastando qualquer função redistributiva para não interferir no livre funcionamento da economia.

22. A literatura nordestina, especialmente na Paraíba e no Cariri, articula regionalismo, crítica social e valorização da oralidade popular. Considerando autores vinculados a esse contexto, qual proposição traduz com maior rigor sua contribuição?

- a) Inácio de Loyola Brandão consolidou prosa urbana crítica, sem vínculos com regionalismo nordestino, distanciando-se das matrizes sertanejas tradicionais.
- b) José Lins do Rego, embora ligado ao ciclo da cana, incorporou em parte o sertão nordestino, mas sua obra central permaneceu focada na Zona da Mata açucareira.
- c) Patativa do Assaré, ainda que cearense, projetou oralidade e resistência sertaneja, em diálogo com a experiência social de Monteiro e do Cariri paraibano.
- d) Ariano Suassuna estruturou uma estética barroco-popular, inspirada em tradições sertanejas, cordel e romance de cavalaria, conferindo universalidade à cultura regional.
- e) A produção literária caririzeira manteve narrativas locais relevantes, mas não alcançou projeção nacional, permanecendo restrita ao contexto regional imediato.

23. A Constituição de 1988 define a Federação brasileira como composta pela União, Estados, Distrito Federal e Municípios, todos dotados de autonomia. Essa autonomia, entretanto, não é ilimitada e deve respeitar os princípios constitucionais fundamentais. Considerando esse arranjo, qual proposição traduz de modo mais rigoroso os elementos que compõem a autonomia federativa?

- a) A autonomia abrange auto-organização, autolegislação, autogoverno e autoadministração, mas sempre condicionada à supremacia da Constituição Federal.
- b) Os entes federados possuem liberdade normativa plena, ainda que em contradição

com normas constitucionais estruturantes estabelecidas pela União.

- c) A autonomia político-administrativa é ampla, mas as competências tributárias e financeiras permanecem sob supervisão direta da União.
- d) Cada ente pode instituir sistemas de governo distintos do presidencialismo, desde que aprovados por consulta popular em seu território.
- e) Estados e municípios detêm autonomia relativa, subordinada a um modelo hierárquico centralizado, em que a União exerce poder fiscalizador superior.

24. A circulação de ideias da Revolução Francesa no Brasil colonial influenciou movimentos emancipatórios, reinterpretados segundo interesses locais. Considerando esse quadro, qual proposição traduz de modo mais consistente essa apropriação?

- a) As referências francesas foram completamente rejeitadas no Brasil, prevalecendo apenas modelos políticos de matriz ibérica e lusocatólica.
- b) A Inconfidência Mineira adaptou ideais iluministas à realidade colonial, mas manteve escravidão, revelando seletividade elitista no discurso de liberdade.
- c) O movimento pernambucano de 1817 combinou republicanism, anticlericalism e crítica à ordem colonial, inspirado por modelos franceses e atlânticos.
- d) Setores populares, como soldados e artesãos, também absorveram ideais franceses, articulando-os a demandas por cidadania ampliada e melhores condições.
- e) A Conjuração Baiana radicalizou ao propor igualdade racial, abolição da escravidão e independência, inspirada em liberdade e fraternidade.

25. A crise de 1929 provocou forte impacto sobre a economia brasileira, especialmente no setor cafeeiro, desencadeando mudanças no padrão produtivo. Considerando seus efeitos, qual proposição é mais consistente?

- a) A retração do café estimulou cultivos secundários, como algodão e cacau, que ampliaram presença relativa na pauta exportadora.
- b) A industrialização ganhou impulso no período, mas de forma dependente de políticas de substituição de importações, e não como processo automático.
- c) A política de valorização do café assegurou estabilidade inicial, mas revelou limites estruturais diante do colapso da demanda internacional.
- d) A queda abrupta das exportações de café reduziu receitas externas, exigindo intervenção

estatal para sustentar estoques e estimular diversificação.

- e) O impacto atingiu exportadores, mas também o mercado interno, pela retração de crédito, desemprego e queda da renda disponível.

26. O Mercosul, instituído pelo Tratado de Assunção (1991), é considerado experiência relevante de integração regional, mas sua trajetória revela limitações frente a modelos supranacionais como a União Europeia. Nesse contexto, qual proposição expressa com maior rigor essas restrições?

- a) O bloco consolidou tarifa externa comum, mas com múltiplas exceções, dificultando a harmonização plena das políticas comerciais entre os membros.
- b) Houve avanços em livre circulação de bens e serviços, mas a ausência de parlamento supranacional autônomo limitou a institucionalidade regional.
- c) Os mecanismos de solução de controvérsias existem, mas permanecem dependentes de negociações políticas e carecem de força jurisdicional vinculante.
- d) As assimetrias econômicas e sociais entre os países persistem, restringindo a adoção de políticas macroeconômicas comuns e estáveis.
- e) A integração setorial ocorreu em áreas específicas, mas sua efetividade oscilou em função de crises internas e agendas nacionais divergentes.

27. A cultura popular do Cariri paraibano é reconhecida como patrimônio imaterial, extrapolando o folclore e adquirindo relevância histórica, social e antropológica. Considerando sua dimensão simbólica e institucional, qual proposição reflete com maior rigor essa condição?

- a) A produção cultural da região apresenta diversidade significativa, mas carece de legitimação como patrimônio imaterial pelas instâncias públicas competentes.
- b) As manifestações culturais da região são mantidas como expressões locais relevantes, mas não possuem qualquer reconhecimento jurídico-institucional oficial.
- c) A cultura popular caririzeira permanece viva, mas sua transmissão limita-se a práticas privadas, sem impacto sobre a memória coletiva ou patrimonial.
- d) A oralidade, o forró e o artesanato possuem caráter expressivo, mas seu valor restringe-se ao lazer regional, sem projeção cultural mais ampla.
- e) O patrimônio imaterial expressa identidade coletiva, transmitida entre gerações, com reconhecimento formal de órgãos nacionais e internacionais de preservação.

28. O município de Monteiro, no Cariri paraibano, insere-se em área de semiárido, condicionada por clima seco, relevo de planaltos e vegetação de caatinga. Considerando a relação entre meio físico e economia local, qual proposição é mais adequada?

- a) Monteiro apresenta solos férteis e chuvas regulares, sustentando horticultura irrigada em larga escala e produtividade anual elevada.
- b) O município consolidou-se como polo de várzeas irrigadas, produzindo arroz e grãos de forma intensiva e exportadora.
- c) O semiárido impôs práticas adaptadas, como culturas resistentes à seca, pecuária extensiva e açudes como reserva hídrica estratégica.
- d) A região baseia-se em fruticultura tropical de exportação, beneficiada por regimes hídricos perenes e abundância de mananciais naturais.
- e) O território integra cinturão cafeeiro mecanizado, com destaque histórico para monocultura voltada ao mercado externo.

29. A crise de 2008, originada nos Estados Unidos, repercutiu nas economias emergentes, inclusive o Brasil, evidenciando vulnerabilidades, mas também estratégias de contenção. Considerando esse cenário, qual proposição traduz com maior rigor seus efeitos no Brasil?

- a) A demanda chinesa compensou integralmente a perda de exportações para os Estados Unidos, assegurando imunidade da economia nacional.
- b) A economia mostrou-se imune às oscilações externas, mantendo crescimento elevado e plena estabilidade do mercado interno.
- c) O governo respondeu com incentivos fiscais e crédito público, mas não conseguiu evitar queda significativa do PIB no ano de 2009.
- d) O impacto bancário foi limitado pela regulação doméstica, embora setores produtivos tenham sofrido retração econômica relevante.
- e) O Brasil sofreu retração industrial, queda de exportações e redução de crédito, mas políticas anticíclicas atenuaram os impactos sobre emprego e renda.

30. A Agenda 2030 da ONU, ao propor os Objetivos de Desenvolvimento Sustentável (ODS), busca integrar crescimento econômico, justiça social e sustentabilidade ambiental. Entretanto, a implementação enfrenta dilemas significativos, sobretudo em países emergentes. Qual proposição traduz com maior rigor esses desafios?

- a) A plena execução das metas globais, sem contradições, assegurada uniformemente entre países desde a adoção formal da Agenda em 2015.
- b) A dificuldade de compatibilizar crescimento econômico, redução das desigualdades sociais

e preservação ambiental, especialmente em contextos de dependência estrutural.

- c) A irrelevância política dos ODS, diante da ausência de monitoramento institucional e de acompanhamento internacional de seus indicadores.
- d) A transição imediata para modelos circulares universais, assegurando sustentabilidade global sem comprometer empregos e cadeias produtivas.
- e) A eliminação automática da pobreza em escala mundial, resultado exclusivo da assinatura formal da Agenda 2030 por todos os países membros.

FIM