



UNIVERSIDADE FEDERAL DE LAVRAS
Câmpus Universitário – Caixa Postal 3037
37203-202 – Lavras (MG)

CONCURSO PÚBLICO – UFLA EDITAL Nº 58/2025

PROVAS PARA O CARGO DE NÍVEL E MÉDICO/CLÍNICA MÉDICA

DIA: 30/11/2025

ESTE CADERNO CONTÉM PROVAS DE:

LÍNGUA PORTUGUESA	QUESTÕES 1 A 10
MATEMÁTICA	QUESTÕES 11 A 20
LEGISLAÇÃO	QUESTÕES 21 A 35
CONHECIMENTO ESPECÍFICO	QUESTÕES 36 A 70

INSTRUÇÕES:

Após a autorização do(a) aplicador(a), abra o caderno e confira-o, conforme as instruções abaixo:

- Cada questão contém 4 (quatro) alternativas de resposta. Apenas 1 (uma) alternativa responde à questão.
- O formulário de respostas deverá ser preenchido conforme as instruções contidas no próprio formulário e assinado apenas no espaço reservado para esse fim.
- Não será permitido o empréstimo de qualquer tipo de material entre os(as) candidatos(as), durante a realização da prova. Caso haja necessidade, o(a) candidato(a) deverá chamar o(a) fiscal.

ATENÇÃO!

- O não cumprimento das instruções poderá acarretar a eliminação do candidato.
- O tempo de duração da prova é de 4h (quatro horas) e **INCLUI** o preenchimento do formulário de respostas.
- A interpretação das questões faz parte da prova.
- Este caderno será **obrigatoriamente** devolvido ao fiscal ao final da prova. O(a) candidato(a) poderá destacar a contracapa, na qual se encontra o rascunho do gabarito, **que não poderá ter nenhuma anotação extra**.
- A devolução do formulário de respostas e do caderno de prova é de inteira responsabilidade do candidato.
- Qualquer irregularidade deverá ser comunicada ao fiscal.

LÍNGUA PORTUGUESA (QUESTÕES 1 A 10)**INSTRUÇÕES:** Leia o Texto 1 para responder às questões 1 a 4**TEXTO 1****Sociedade do espetáculo**

Maria Rita Kehl

A frenética busca por “15 minutos de fama” nas plataformas digitais tornou-se uma perigosa armadilha, ainda mais cruel quando envolve crianças e adolescentes

1 Esta coluna toma emprestado o título de um dos livros mais conhecidos do filósofo e teórico
2 marxista francês Guy Debord (1931–1994). Passados mais de 30 anos de sua morte, o tema
3 mostra-se cada vez mais atual. Para o autor, a sociedade capitalista, em seu estágio avançado,
4 transformou as relações sociais em um grande espetáculo, no qual imagens e aparências se
5 sobrepõem à vida real e às experiências autênticas. Nesse contexto, os sujeitos buscam sempre
6 apresentar-se em sua melhor performance: felizes, endinheirados, desfrutando de viagens
7 interessantes, festas incríveis etc.

8 Os “15 minutos de fama” que todos deveriam experimentar uma vez na vida, na visão idílica
9 de Andy Warhol, tornaram-se insuficientes para quem vive neste mundo hiperconectado do
10 século XXI. É preciso exibir-se constantemente, sempre na melhor pose possível. Não basta
11 estar, eventualmente, feliz e desfrutando férias, jantando em um bistrô em Paris ou viajando em
12 um cruzeiro de luxo. É necessário que muita gente saiba disso – e, de preferência, inveje tal
13 privilégio. O espetáculo, escreve Debord, é uma relação social mediada por imagens que, por sua
14 circulação, acabam por “dominar a vida”. A qualidade da inserção social do sujeito passa a ser
15 medida pelas imagens que ele consegue produzir e divulgar.

16 Hoje, para o viajante, talvez importe menos o prazer de conhecer lugares novos do que o
17 gostinho de provocar inveja nos amigos. Daí a sanha de registrar, em fotografias e vídeos,
18 momentos supostamente maravilhosos e divulgá-los rapidamente nas redes sociais, ou enviá-
19 los para incontáveis grupos de *WhatsApp*. Debord não poderia prever o que viria a ser o poder dos
20 telefones celulares nas novas configurações da sociedade do espetáculo. Com um singelo
21 aparelho de comunicação em mãos, as pessoas criam autoficções que lhes conferem prestígio
22 diante dos outros.

23 Podemos supor, além disso, uma relação entre a predominância da imagem sobre o
24 pensamento e o declínio das narrativas – tão caras ao meu filósofo favorito, Walter Benjamin.
25 Quem ainda quer ouvir relatos interessantes, se estes podem ser substituídos por fotos e vídeos?
26 Penso que o interesse genuíno em adquirir novos conhecimentos ao viajar, ou mesmo em ampliar
27 a compreensão do mundo em que vivemos, tem sido facilmente substituído pelos efeitos
28 fetichistas de divulgar, o máximo possível, imagens de lugares paradisíacos, restaurantes
29 caríssimos, festas de arromba.

30 Outro aspecto que Debord não teria como prever é que essa hiperexposição de cenas banais
31 do cotidiano se transformaria em um grande negócio, à medida que as plataformas digitais
32 passaram a monetizar as publicações dos usuários com maior alcance. Hoje, grande parte dos

33 jovens nutre a ilusão de alcançar fama e fortuna por meio desse espetáculo. E não tardaram a
34 surgir empresários inescrupulosos, dispostos a explorar a imagem de crianças e adolescentes
35 nas redes sociais. Como denunciou recentemente o *youtuber* Felipe Bressanim Pereira,
36 conhecido como Felca, há de tudo um pouco nesse terreno pantanoso: de programas de
37 entrevistas conduzidos por versões mirins de *coaches* de empreendedorismo a *reality shows*
38 protagonizados por menores, nos quais eles participam de festas com bebidas alcoólicas, usam
39 roupas provocativas e executam danças sensuais – um prato cheio para os pedófilos e
40 predadores sexuais.

41 Nesse cenário, alguns pais talvez não se deem conta de que, ao buscar seus 15 minutos de
42 fama e alguns *likes*, acabam expondo seus bebês fofinhos a adultos perversos que habitam os
43 ambientes digitais. Outros, como denunciou Felca, parecem não se importar em ganhar alguns
44 trocados com a exposição dos próprios filhos – mesmo em contextos que violam a dignidade de
45 crianças e adolescentes.

46 Observem o paradoxo: justamente ali, nas situações em que a vida parece, aos olhos dos
47 outros, mais vibrante e interessante, é onde ela acaba por ser mais aviltada. Sim, aviltada. Pois é
48 quando o contato com o mundo deixa de ser uma fonte de experiência e passa a ser apenas uma
49 oportunidade de exibicionismo. Perde-se, na acepção de Walter Benjamin, um elemento
50 precioso em nossa tarefa de criar sentidos para a vida. Perde-se a capacidade de transformar o
51 fato em narrativa e a vivência em experiência. O vazio que advém da sanha por vivências que não
52 se convertem em experiência talvez ajude a explicar a violência que constantemente ameaça o
53 laço social.

Fonte: publicado na edição nº 1377 de Carta Capital, em 03 de setembro de 2025.

QUESTÃO 1

Leia as proposições extraídas do texto:

- I. “Os “15 minutos de fama” que todos deveriam experimentar uma vez na vida, na visão idílica de Andy Warhol, tornaram-se insuficientes para quem vive neste mundo hiperconectado do século XXI” (linhas 8 a 10).
- II. “Observem o paradoxo: justamente ali, nas situações em que a vida parece, aos olhos dos outros, mais vibrante e interessante, é onde ela acaba por ser mais aviltada” (linhas 46 e 47).
- III. “O vazio que advém da sanha por vivências que não se convertem em experiência talvez ajude a explicar a violência que constantemente ameaça o laço social” (linhas 51 a 53).

Todas as alternativas apresentam termos que substituem os vocábulos destacados, nas proposições I, II e III, respectivamente, sem prejuízo de sentido, considerando o contexto em que aparecem, **EXCETO**:

- (A) Idealizada - humilhada - loucura.
- (B) Utópica - depreciada - paixão.
- (C) Bucólica - negociada - raiva.
- (D) Fantasiada - desmoralizada - compulsão.

QUESTÃO 2

No texto “A sociedade do espetáculo”, a autora apresenta o seu posicionamento sobre o tema dos usos das redes sociais. Estão de acordo com o texto, **EXCETO**:

- (A) A autora responsabiliza as plataformas digitais pela superexposição de crianças, pois, ao estimularem a monetização, contribuem para a vulnerabilização de menores nas mídias.
- (B) A autora alinha-se ao pensamento de Debord, o qual critica o comportamento atual dos jovens nas redes sociais, em busca de engajamento e enriquecimento.
- (C) A autora critica a superexposição e argumenta que as mídias sociais possibilitam a criação de autoficções ilusórias.
- (D) A autora converge com o pensamento de Felipe Bressanim Pereira, que sinaliza os riscos da hiperexposição de crianças e adolescentes com vistas a se alcançar vantagem monetária.

QUESTÃO 3

“Observem o paradoxo: justamente ali, nas situações em que a vida parece, aos olhos dos outros, mais vibrante e interessante, é onde ela acaba por ser mais aviltada” (linhas 46 e 47). O paradoxo apresentado pela autora pode ser observado em todas as alternativas, **EXCETO**:

- (A) A alienação daqueles que postam imagens irreais em contraposição ao poder aquisitivo real.
- (B) A exposição de menores em mídias digitais em contraposição à necessidade de protegê-los.
- (C) A exibição exacerbada de fatos vividos em contraposição à vivência efetiva dessas experiências.
- (D) A sanha exibicionista de usuários das redes sociais em contraposição ao vazio individual.

QUESTÃO 4

Em um texto de opinião, o autor utiliza procedimentos/recursos argumentativos para convencer o leitor sobre o tema/assunto tratado. Um dos recursos utilizados é a intertextualidade – diálogo entre textos.

Leia as afirmações a seguir sobre as relações intertextuais estabelecidas e assinale a que **NÃO** encontra respaldo no texto:

- (A) Ao citar o texto de Guy Debord, a autora constrói a base para argumentar que alguns usuários priorizam a construção da imagem nas mídias sociais como autopromoção.
- (B) Ao apresentar o pensamento de Andy Warhol sobre os 15 minutos de fama, a autora evidencia que a internet e a conexão contínua já parametrizam de forma diferente esse tempo de fama.
- (C) Ao mencionar o *youtuber* Felipe Bressanim Pereira, a autora problematiza o comportamento dos pais que, sob diferentes motivações, expõem os filhos nas mídias sociais.
- (D) Ao trazer o filósofo Walter Benjamin, a autora argumenta sobre a relevância de registrar e de divulgar experiências de vida nas mídias sociais, como uma forma de criar sentido para a vida.

INSTRUÇÕES: Leia o Texto 2 para responder às questões 5 a 8**TEXTO 2****Vidas secas, vidas apagadas**

Sergio Andrade

1 Pobreza energética, expressa na dependência de lenha e carvão para cozinhar, não é
2 apenas questão de renda, mas de falta de acesso à saúde e à dignidade.

3 "Ainda na véspera eram seis viventes, contando com o papagaio. Resistiram à fraqueza,
4 afastaram-se envergonhados, sem ânimo de afrontar de novo a luz dura." A imagem de Graciliano
5 Ramos em "Vidas Secas" descreve mais do que uma estiagem física. Fala da escassez que seca
6 por dentro: o tempo, o futuro, a esperança.

7 É essa mesma luz dura que enfrentam milhões de brasileiros que ainda cozinham com
8 lenha ou carvão. Segundo a pesquisa "Pobreza energética e transição justa - Usos de carvão e
9 lenha para cocção no Brasil", organizada pela Plataforma de Transição Justa e pela Agenda
10 Pública, mais de 12 milhões de domicílios usam biomassa como alternativa ou sua única fonte
11 de energia para cozinhar.

12 Isso afeta, sobretudo, mulheres - na cidade, no campo, em ocupações diversas, em
13 jornadas longas. São elas que mantêm o fogo aceso, por necessidade, quase sempre sem
14 alternativa.

15 A pesquisa, construída a partir da compilação de bancos de dados públicos, entrevistas
16 com especialistas e escutas com usuárias de lenha, revela vidas marcadas por escolhas difíceis:
17 Dona Maria, 62, caminha com os netos para recolher lenha três vezes por semana.

18 Jéssica, mãe solo na Amazônia, improvisa um fogão de barro para economizar gás. Sueli,
19 marisqueira, divide o tempo entre o trabalho e o cuidado com a mãe doente, recorrendo à lenha
20 como pode. São relatos que evidenciam uma pobreza que não se mede só pela renda, mas por
21 tudo o que falta: saúde, tempo, acesso, voz.

22 Há programas públicos importantes. [...] Mas, como mostra a pesquisa, o desenho dessas
23 políticas nem sempre considera o peso do gás de cozinha no orçamento das famílias.

24 Muitas mulheres relatam a necessidade de escolher entre comprar um botijão ou garantir
25 material escolar, comida ou internet para os filhos. A política existe, mas quando o recurso não
26 cobre o custo real do preparo dos alimentos, o resultado é um sofrimento evitável.

27 É nesse contexto que o conceito de transição justa ganha relevância. Ele nos convida a
28 pensar a mudança energética como oportunidade de inclusão - e não apenas de substituição de
29 fontes. Se bem desenhada, a transição pode ampliar o acesso à energia limpa e segura, aliviar a
30 sobrecarga feminina, reduzir desigualdades regionais e valorizar soluções descentralizadas,
31 simples, eficazes.

32 A chamada "cocção limpa", promovida internacionalmente, é uma dessas metas: fogões
33 eficientes, eletrificação de qualidade, gás acessível.

34 Cozinhar deveria ser um gesto cotidiano, tranquilo, sem fumaça, sem culpa. Para milhões,
35 é um cálculo permanente. Reduzir essa tensão exige um olhar mais atento ao desenho das
36 políticas e à realidade de quem, literalmente, enfrenta intempéries para acender o fogo de todos
37 os dias. Daí a importância da focalização dos programas sociais em quem mais precisa, [...] ou
38 das diretrizes de inclusão e combate à pobreza energética [...].

39 Do universo de "Vidas Secas", ainda hoje sobressaem vidas apagadas pelo esforço de
40 existir em silêncio, uma linha tênue entre a espera e o desalento. Mas não há destino inevitável.

41 Quando as políticas acertam o foco, o fogo muda de natureza: deixa de consumir e passa a
42 nutrir. A transição energética de que o país precisa começa, literalmente, pelo fogão.

Fonte: <https://www1.folha.uol.com.br/colunas/papo-de-resposta/2025/08/vidas-secas-vidas-apagadas.shtml>.
(Adaptado). Acesso em: 25 ago. 2025.

QUESTÃO 5

Assinale a alternativa que explicita adequadamente o objetivo comunicativo do texto lido:

- (A) Destacar a resiliência de mulheres que utilizam fogão à lenha para o preparo dos alimentos, evocando a necessidade de políticas públicas para combater a pobreza energética que afeta populações vulneráveis.
- (B) Evidenciar a necessidade de direcionamento das políticas públicas voltadas à transição energética, com foco especial na população de baixa renda que ainda depende de lenha ou carvão para o preparo dos alimentos, promovendo inclusão e justiça social.
- (C) Apresentar dados estatísticos e análises técnicas sobre a situação da seca no Brasil, enfatizando que as condições enfrentadas pelas populações vulneráveis se assemelham às dificuldades retratadas na obra “Vidas Secas”.
- (D) Defender políticas agrárias inovadoras como solução eficaz frente à estiagem, suprimindo o uso de biomassa como alternativa ou fonte única de energia para o preparo da alimentação.

QUESTÃO 6

O título do texto “Vidas secas, vidas apagadas” cumpre papel fundamental na orientação da leitura e no processo de produção de sentidos. Esse título

- (A) faz alusão à situação pelos personagens da obra literária *Vidas Secas*, evidenciando que a estiagem física sofrida pelo povo do sertão nordestino está associada ao abandono institucional, histórico e social, resultando em invisibilidade e exclusão.
- (B) explicita as condições precárias de mulheres que utilizam lenha e carvão para preparar os alimentos, demonstrando que elas são ignoradas por parte das políticas públicas governamentais.
- (C) estabelece uma comparação entre a seca retratada na obra literária “Vidas Secas” e a situação atual de milhões de brasileiros, explicitando que a falta de políticas públicas relacionadas à questão energética afeta a qualidade de vida.
- (D) indica que o apagamento social das populações é um tema que está intrinsecamente relacionado às questões de gênero, denotando que a transição energética pode mudar vidas.

QUESTÃO 7

Leia o excerto retirado do texto: “Quando as políticas acertam o foco, o fogo muda de natureza: deixa de consumir e passa a nutrir. A transição energética de que o país precisa começa, literalmente, pelo fogão.” (linhas 41 e 42). Assinale a alternativa, cuja análise permite realizar uma inferência adequada à proposta de sentido do texto:


- (A) A eficácia das políticas públicas voltadas para a transição energética está relacionada ao atendimento pleno das famílias de baixa renda que vivem em contextos de seca, principalmente, das regiões do sertão nordestino.
- (B) O foco no fogão como símbolo da transição energética indica que a aquisição de fogões, por parte dos governos, é suficiente para resolver plenamente os problemas das mulheres que utilizam lenha e carvão para o preparo dos alimentos.
- (C) A existência de políticas públicas voltadas para a transição energética adequadas pode transformar uma realidade social, marcada pela escassez e pela insuficiência energética, em um contexto de cuidado, saúde e inclusão social, se considerar os desafios vividos por grupos historicamente invisibilizados.
- (D) O uso da expressão “literalmente, pelo fogão” nega qualquer possibilidade de sentido figurado ou ampliado, limitando as consequências da transição energética apenas ao ambiente doméstico e à economia privada.

QUESTÃO 8

Leia atentamente o excerto: “Do universo de ‘Vidas Secas’, ainda hoje sobressaem vidas apagadas pelo esforço de existir em silêncio, uma linha tênue entre a espera e o desalento. Mas não há destino inevitável.” (linhas 39 e 40). A partir desse excerto, infere-se que:

- (A) A articulação da obra “Vidas Secas” com a realidade atual evidencia a persistência do sofrimento e da invisibilidade social, ressaltando a necessidade de um deslocamento da ideia de fatalismo para a busca de transformação social.
- (B) O texto enfatiza o caráter determinista da existência de um determinado grupo social, sugerindo que o silêncio e o desalento são consequências inevitáveis das condições históricas e sociais.
- (C) O uso da expressão “vidas apagadas” estabelece uma referência literal às personagens da obra de Graciliano Ramos, destacando a falta de voz dessas figuras no contexto literário do passado.
- (D) O contraponto entre esperança e desânimo reforça que, em função das condições adversas, as populações afetadas possuem baixa escolarização, dificultando a reivindicação dos direitos que garantem o acesso às políticas públicas.

INSTRUÇÕES: Leia o Texto 3 para responder às questões 9 a 10

TEXTO 3

Fonte: <https://blogdoaftm.com.br/charge-inteligencia-artificial-pode-extinguir-diversas-profissoes/>. (Adaptado). Acesso em: 25 ago. 2025.

QUESTÃO 9

Considere o excerto: “Inteligência artificial pode extinguir diversas profissões no futuro...” e analise as assertivas:

I - A ausência de artigo definido confere estilo mais direto e uma generalização em relação ao agente da ação (qualquer inteligência artificial e não um tipo específico), alinhando-se ao padrão utilizado em títulos e manchetes de textos jornalísticos.

II - O uso do modalizador “pode” confere um tom de possibilidade em relação à transformação tecnológica aludida, evitando uma responsabilização por parte do locutor perante a afirmação dada como um fato que será efetivamente consumado.

III - O emprego das reticências serve ao propósito de aproximar o texto de um estilo coloquial, denotando uma ideia de dúvida por parte do locutor em relação ao enunciado apresentado.

IV - A escolha lexical pela locução verbal “pode extinguir” reforça a ideia de desaparecimento radical e definitivo de diversas profissões, gerando uma incoerência entre a radicalidade do enunciado (verbo “extinguir”) e a incerteza inerente à modalização (verbo “poder”).

Assinale a alternativa **CORRETA**:

- (A) Apenas as assertivas I e II estão corretas.
- (B) Apenas as assertivas II e III estão corretas.
- (C) Apenas as assertivas III e IV estão corretas.
- (D) Apenas as assertivas I e IV estão corretas.

QUESTÃO 10

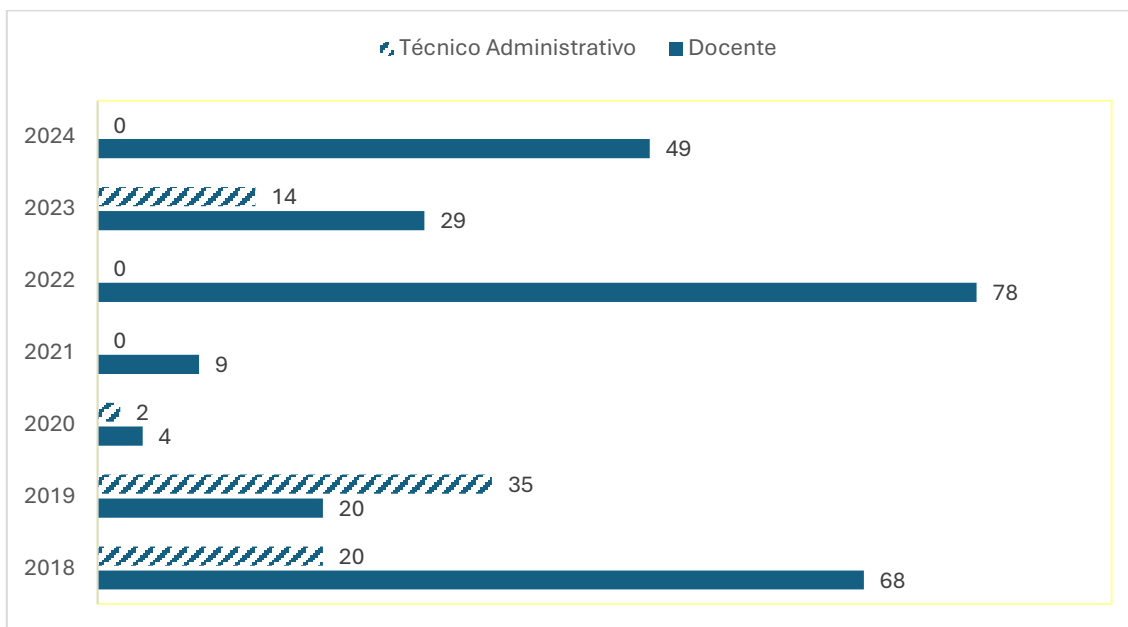
Sobre os potenciais efeitos de sentido construídos pelos elementos visuais e verbais na charge, assinale a alternativa **CORRETA**:

- (A) A reação das personagens humanas, de apatia e indiferença, indica que o impacto da inteligência artificial é benéfico para a evolução da sociedade.
- (B) A comparação entre dinossauros e humanos diante do meteorito sugere que a inteligência artificial é vista como um avanço inerente à evolução da humanidade.
- (C) O meteorito com a sigla "IA" simboliza um elemento externo disruptivo, sugerindo que a inteligência artificial pode representar uma ameaça de extinção semelhante à ocorrida com os dinossauros.
- (D) A charge reforça um discurso alarmista e irresponsável, pautado na especulação de que profissões humanas deixarão de existir devido à IA, sem base científica ou estudo técnico.

MATEMÁTICA (QUESTÕES 11 A 20)

QUESTÃO 11

O gráfico a seguir apresenta o quantitativo de vagas em concursos da UFPA para provimento efetivo nos cargos de docente e de técnico administrativo no período de 2018 a 2024.



Considerando o total de vagas em ambos os cargos, nesse período, a porcentagem de vagas para técnicos administrativos foi

- (A) entre 20% e 30%
- (B) entre 34% e 44%
- (C) entre 40% e 50%
- (D) entre 45% e 55%

QUESTÃO 12

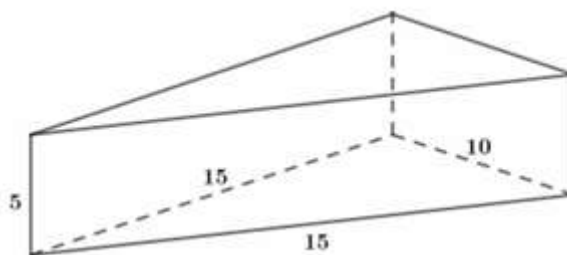
A função preço é uma função afim $p(x) = ax + b$, em que x indica o número de produtos vendidos e $p(x)$ o preço de cada unidade. A função receita é dada por $R(x) = xp(x)$. Uma loja vende, semanalmente, 50 unidades de certo aparelho eletrônico por R\$ 200,00 cada. Uma pesquisa de mercado mostrou que, para cada R\$ 10,00 de desconto no preço de venda do aparelho, o número de aparelhos vendidos por semana aumenta em 10 unidades.

Calcule o preço de venda desse aparelho eletrônico para que a receita seja máxima. Marque a alternativa **CORRETA**:

- (A) R\$ 95,00
- (B) R\$ 105,00
- (C) R\$ 115,00
- (D) R\$ 125,00

QUESTÃO 13

Uma embalagem feita de papelão tem o formato de um prisma reto de base triangular, cujas medidas estão apresentadas na figura, a seguir:



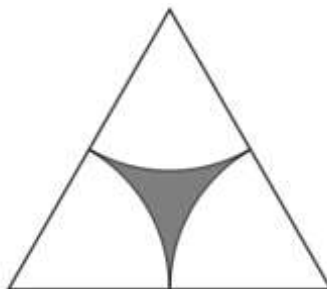
Considerando que as abas adicionais necessárias para a colagem e fechamento da embalagem não estão representadas na figura e que será necessário um acréscimo de 10% da área total do prisma de papelão para esses recortes, calcule o total de papelão necessário para cada embalagem, utilizando a aproximação $\sqrt{2} \cong 1,4$.

Assinale a alternativa **CORRETA**:

- (A) 340 cm^2
- (B) 354 cm^2
- (C) 374 cm^2
- (D) 390 cm^2

QUESTÃO 14

A figura, a seguir, foi desenhada usando um triângulo equilátero de lado x e três setores circulares idênticos cujo raio é a metade de x e os centros são os vértices do triângulo.

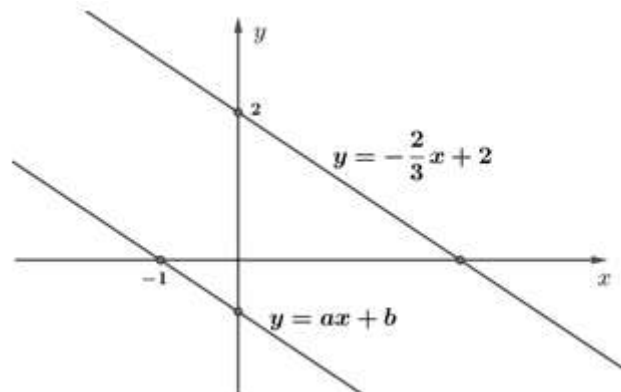


A medida da área da região cinza, em função de x , é:

- (A) $\frac{(\pi - \sqrt{3})x^2}{4}$
- (B) $\frac{(2\sqrt{3} - \pi)x^2}{4}$
- (C) $\frac{(\pi - \sqrt{3})x^2}{8}$
- (D) $\frac{(2\sqrt{3} - \pi)x^2}{8}$

QUESTÃO 15

As equações $y = -\frac{2}{3}x + 2$ e $y = ax + b$ representam as retas paralelas da figura, a seguir:



A razão entre os números a e b é:

- (A) -1
- (B) 1
- (C) -1/3
- (D) 2/3

QUESTÃO 16

A Universidade Federal de Lavras (UFLA) receberá 120 novos estudantes nos cursos de Agronomia, Biologia e Ciência da Computação.

- Se somarmos o total de estudantes de Agronomia com o dobro do total de estudantes da Biologia e subtrairmos o total de estudantes da Ciência da Computação, teremos um total de 100 estudantes.
- Se somarmos o total de estudantes da Agronomia com o triplo do total de estudantes da Ciência da Computação e subtrairmos o total de estudantes da Biologia, teremos um total de 80 estudantes.

A multiplicação do total de estudantes ingressantes nos três cursos é igual a:

- (A) 48.000
- (B) 64.000
- (C) 96.000
- (D) 112.000

QUESTÃO 17

Jurandir decidiu comprar uma impressora, cujo preço estava sendo anunciado por R\$ 1.300,00. Para pagamento por PIX, a loja dava um desconto de 7%, e por isso Jurandir decidiu pagar usando o PIX. Após dois meses de uso, ele resolveu vender a impressora para seu amigo Pedro, por 90% do valor pago.

É **CORRETO** afirmar que Pedro pagou pela impressora

- (A) R\$ 1.079,30
- (B) R\$ 1.088,10
- (C) R\$ 1.170,00
- (D) R\$ 1.261,20

QUESTÃO 18

Em uma certa manhã, no posto de saúde PSF1, foram realizados quatro tipos de procedimentos e cada procedimento foi realizado, no máximo, uma vez em cada pessoa. A tabela, a seguir, apresenta os procedimentos e o número de pessoas que realizaram cada procedimento:

Procedimentos	Número de pessoas
I: Aferição de temperatura	9
II: Aferição do nível de oxigenação	4
III: Aferição de pressão arterial	11
IV: Vacinação	X

Sabendo que:

- pessoas que vacinaram não fizeram nenhum outro procedimento;
- 3 pessoas passaram pelos procedimentos I, II e III;
- 4 pessoas passaram por I e II;
- 5 pessoas passaram por I e III;
- 20 pessoas passaram pelo PSF1, e todas realizaram, pelo menos, um procedimento.

Com base nas informações, o valor de X, mencionado na tabela, é:

- (A) 4
- (B) 5
- (C) 6
- (D) 7

QUESTÃO 19

Sabendo que x é um número natural que satisfaz às seguintes condições:

- x é divisível por 5
- $\text{mdc}(x, 42) = 3$
- $\text{mmc}(x, 30) = 90$

É **CORRETO** afirmar que:

- (A) 7 divide x
- (B) 2 divide x
- (C) $30 \leq x \leq 42$
- (D) $x \geq 42$

QUESTÃO 20

Manuela irá fazer um curso na UFLA, que terá início às 13h e terminará às 17h. Saindo do Jardim Glória, bairro em que Manuela mora, há duas formas de chegar à UFLA, por meio do transporte público:

- Trajeto único: Jardim Glória – UFLA
- Trajeto duplo: Jardim Glória – Centro; e Centro – UFLA.

Considere que os trajetos Jardim Glória – Centro e Centro - UFLA duram 15 minutos cada, e o trajeto Jardim Glória – UFLA dura 25 minutos. Considere, ainda, os horários do transporte público disponibilizados na tabela

HORÁRIO	JARDIM GLÓRIA - CENTRO	CENTRO - UFLA	JARDIM GLÓRIA - UFLA
7h	x	x	
8h		x	x
9h		x	
10h	x	x	
11h		x	x
12h		x	
13h	x	x	x
14h		x	
15h	x	x	
16h		x	
17h	x	x	

Calcule o número de maneiras possíveis de Manuela usar o transporte público para ir do Jardim Glória para UFLA para participar do curso e marque a alternativa **CORRETA**:

- (A) 2
- (B) 9
- (C) 10
- (D) 14

LEGISLAÇÃO (QUESTÕES 21 A 35)

QUESTÃO 21

Sobre o tratamento de dados pessoais sensíveis, regulado pela Lei Geral de Proteção de Dados (Lei n. 13.709, de 2018), assinale a alternativa **CORRETA**:

- (A) Os dados pessoais sensíveis consistem em informações vinculadas a pessoa física ou jurídica, cujo tratamento possa acarretar prejuízos patrimoniais ao titular.
- (B) O consentimento do titular para tratamento de dados pessoais sensíveis pode ser dado de qualquer forma, desde que inequívoco, podendo se destinar a finalidades específicas ou genéricas.
- (C) O tratamento de dados pessoais sensíveis poderá ocorrer independentemente do fornecimento de consentimento do titular quando indispensável para a realização de estudos por órgãos de pesquisa, garantida, sempre que possível, a sua anonimização.
- (D) O tratamento de dados pessoais sensíveis pela administração pública, para a execução de políticas públicas previstas em lei ou regulamento, depende de consentimento do titular.

QUESTÃO 22

A Lei Geral de Proteção de Dados - LGPD (Lei n. 13.709, de 2018) traz um rol de princípios a serem observados nas atividades de tratamento de dados pessoais. Associe os princípios listados na Coluna I com suas respectivas definições, listadas na Coluna II:

COLUNA I

1. Finalidade
2. Prevenção
3. Segurança
4. Necessidade
5. Adequação

COLUNA II

- () limitação do tratamento ao mínimo necessário para a realização de suas finalidades, com abrangência dos dados pertinentes, proporcionais e não excessivos em relação às finalidades do tratamento de dados.
- () realização do tratamento para propósitos legítimos, específicos, explícitos e informados ao titular, sem possibilidade de tratamento posterior de forma incompatível com tais propósitos.
- () compatibilidade do tratamento com as finalidades informadas ao titular, de acordo com o contexto do tratamento.
- () utilização de medidas técnicas e administrativas aptas a proteger os dados pessoais de acessos não autorizados e de situações acidentais ou ilícitas de destruição, perda, alteração, comunicação ou difusão.
- () adoção de medidas para evitar a ocorrência de danos em virtude do tratamento de dados pessoais.

Assinale, a seguir, a alternativa que corresponde à adequada correlação do princípio com sua definição legal:

- (A) 2, 3, 1, 5, 4.
- (B) 3, 2, 1, 5, 4.
- (C) 5, 4, 3, 2, 1.
- (D) 4, 1, 5, 3, 2.

QUESTÃO 23

Conforme a organização da educação nacional, prevista na Lei de Diretrizes e Bases da Educação Nacional (Lei n. 9.394, de 1996), assinale a alternativa correspondente a uma das atribuições da União:

- (A) Baixar normas gerais sobre cursos de graduação e pós-graduação.
- (B) Assegurar o ensino fundamental e oferecer, com prioridade, o ensino médio.
- (C) Oferecer a educação infantil em creches e pré-escolas e, com prioridade, o ensino fundamental.
- (D) Assumir o transporte escolar de alunos dos sistemas estadual e municipal.

QUESTÃO 24

A Lei de Diretrizes e Bases da Educação Nacional (Lei n. 9.394, de 1996) traz em sua redação os princípios com base nos quais o ensino será ministrado em todo o território nacional. Avalie as assertivas a seguir:

1. Liberdade de aprender e ensinar.
2. Gratuidade do ensino público em estabelecimentos oficiais.
3. Matrícula obrigatória na disciplina ensino religioso em escolas públicas.

Assinale a alternativa que retrata as assertivas que correspondem a princípios previstos na Lei de Diretrizes e Bases da Educação Nacional:

- (A) 1 e 3.
- (B) 1 e 2.
- (C) 2 e 3.
- (D) 1, 2 e 3.

QUESTÃO 25

De acordo com o Decreto nº 1.171/1994, que aprovou o Código de Ética Profissional do Servidor Público Civil do Poder Executivo Federal, são vedadas as seguintes condutas ao servidor público, **EXCETO**:

- (A) Deixar de utilizar os avanços técnicos e científicos ao seu alcance para atendimento do seu mister.
- (B) Representar contra qualquer comprometimento indevido da estrutura em que se funda o Poder Estatal, em desrespeito à hierarquia funcional.
- (C) Retirar da repartição pública, sem estar legalmente autorizado, livro pertencente ao patrimônio público.
- (D) Apresentar-se habitualmente embriagado, mesmo que apenas fora do serviço.

QUESTÃO 26

Considerando os aspectos técnicos da matéria, a Lei de Acesso à Informação, Lei n. 12.527, de 2011, traz em suas disposições normativas, definições legais de termos relevantes para operacionalizar a sua aplicação. Associe corretamente os termos listados na Coluna I às respectivas definições legais, listadas da Coluna II:

COLUNA I

1. Autenticidade
2. Primariedade
3. Disponibilidade
4. Integridade

COLUNA II

- () qualidade da informação que pode ser conhecida e utilizada por indivíduos, equipamentos ou sistemas autorizados.
- () qualidade da informação que tenha sido produzida, expedida, recebida ou modificada por determinado indivíduo, equipamento ou sistema.
- () qualidade da informação não modificada, inclusive quanto à origem, trânsito e destino.
- () qualidade da informação coletada na fonte, com o máximo de detalhamento possível, sem modificações.

Assinale a alternativa que apresenta a sequência **CORRETA**:

- (A) 2, 1, 3 e 4.
- (B) 3, 4, 2 e 1.
- (C) 2, 1, 4 e 3.
- (D) 3, 1, 4 e 2.

QUESTÃO 27

O processo administrativo federal possui as seguintes fases: instauração, instrução, relatório, defesa e decisão. Com relação ao trâmite processual, assinale a alternativa **CORRETA**:

- (A) Ao administrado cabe o dever de produzir todas as provas necessárias ao convencimento da autoridade, sendo vedada à Administração a iniciativa de determinar diligências probatórias.
- (B) Atos administrativos que dispensem ou declarem a inexigibilidade de processos licitatórios prescindem de motivação.
- (C) O órgão competente para decidir o recurso poderá confirmar, modificar, anular ou revogar a decisão recorrida.
- (D) Os atos que apresentem defeitos sanáveis não poderão ser convalidados, ainda que em decisão administrativa em que se evidencie a ausência de lesão ao interesse público e a ausência de prejuízo a terceiros.

QUESTÃO 28

Analise as situações hipotéticas, a seguir descritas, considerando a Lei n. 9.784, de 1999.

- I. Ao conferir o conteúdo de um requerimento feito por um discente à Pró-Reitoria de Pesquisa, o servidor responsável recusou o seu recebimento por ausência de alguns dados. Nesse caso, a atuação foi equivocada, vez que é vedado à administração a recusa imotivada do documento, cabendo ao servidor orientar o discente a corrigir as falhas.
- II. Ao receber de um discente uma solicitação oral de uma Bolsa Institucional uma servidora lotada na Pró-Reitoria de Apoio à Permanência Estudantil inadmitiu o requerimento. Nesse caso, a servidora agiu corretamente, vez que o requerimento inicial do interessado deve ser formulado por escrito, salvo os casos em que for aceita solicitação oral, o que a norma da Pró-Reitoria não previa.
- III. Ao analisar uma situação que necessitava de providências imediatas, um servidor que atua na Pró-Reitoria de Graduação decide instaurar processo administrativo de ofício. Nesse caso, sua atuação foi incorreta, pois a instauração de processos administrativos deve ocorrer mediante requerimento do interessado, sendo proibida a atuação espontânea da administração.

Assinale a alternativa **CORRETA**:

- (A) As situações hipotéticas I, II e III estão corretas.
- (B) As situações hipotéticas I e II estão corretas.
- (C) As situações hipotéticas I e III estão corretas.
- (D) As situações hipotéticas II e III estão corretas.

QUESTÃO 29

Além do vencimento, poderão ser pagas ao servidor vantagens pecuniárias, como indenizações, gratificações e adicionais. Sobre tais vantagens, analise as afirmativas abaixo considerando a Lei n. 8.112, de 1990.

- I. As indenizações incorporam-se ao vencimento ou provento para qualquer efeito.
- II. As gratificações incorporam-se ao vencimento ou provento, nos casos e condições indicados em lei.
- III. Os adicionais não se incorporam ao vencimento ou provento para qualquer efeito.
- IV. As vantagens pecuniárias serão computadas e acumuladas, para efeito de concessão de outros acréscimos pecuniários ulteriores sob o mesmo título.

Assinale a alternativa **CORRETA**:

- (A) Está correta apenas a afirmativa III.
- (B) Estão corretas apenas as afirmativas I e IV.
- (C) Estão corretas apenas as afirmativas I e II.
- (D) Está correta apenas a afirmativa II.

QUESTÃO 30

Sobre os atos que estão sujeitos à Lei de Improbidade Administrativa (Lei n. 8.429, de 1992) e sua aplicação, assinale a alternativa **CORRETA**.

- (A) O servidor público, que dispensar indevidamente processo licitatório, responderá por improbidade administrativa, caso a conduta dolosa e a perda patrimonial sejam comprovadas.
- (B) Os atos de improbidade que atentem contra princípios, para serem sancionados, dependem do reconhecimento da produção de dano ao erário e de enriquecimento ilícito dos agentes públicos.
- (C) A lei de improbidade administrativa tem sua aplicação limitada aos agentes públicos, não alcançando terceiros que concorram na conduta improba.
- (D) Ainda que a inobservância de formalidades legais ou regulamentares não implique perda patrimonial efetiva, haverá a necessidade de imposição de ressarcimento.

QUESTÃO 31

A Lei n 14.133, de 2021 prevê as hipóteses de contratação direta pela administração pública. Segundo essa lei, são casos de dispensa de licitação, **EXCETO**.

- (A) A manutenção de um dos ônibus da UFLA no valor de R\$10.000,00 (dez mil reais).
- (B) A restauração de um objeto histórico, que faz parte da coleção principal do Museu Bi Moreira da UFLA.
- (C) A compra de insumos para os laboratórios de Química da UFLA, que são fornecidos por produtor exclusivo.
- (D) A compra de hortifrutigranjeiros, para o restaurante universitário da UFLA, no período necessário para a realização de procedimentos licitatórios correspondentes, hipótese em que a contratação será realizada diretamente pelo preço do dia.

QUESTÃO 32

Acerca da Administração direta, indireta e descentralizada, assinale a alternativa **CORRETA**.

- (A) A descentralização consiste na repartição de competências entre órgãos da administração pública.
- (B) A administração indireta é supervisionada pelo Ministro de Estado competente.
- (C) A administração pública indireta não engloba as autarquias e fundações públicas.
- (D) As entidades da administração pública indireta não possuem personalidade jurídica própria.

QUESTÃO 33

O artigo 5º da Constituição da República Federativa do Brasil de 1988 estabelece que todos são iguais perante a lei, sem distinção de qualquer natureza, garantindo-se aos brasileiros e aos estrangeiros residentes no País a inviolabilidade do direito à vida, à liberdade, à igualdade, à segurança e à propriedade. Sobre os direitos previstos nesse dispositivo constitucional, assinale a alternativa **CORRETA**.

- (A) O mandado de segurança pode ser impetrado para assegurar o conhecimento de informações relativas à pessoa do impetrante, constantes de registros de entidades governamentais.
- (B) Todos têm direito a receber dos órgãos públicos informações de seu interesse particular, ressalvadas aquelas, cujo sigilo seja imprescindível à segurança da sociedade e do Estado.
- (C) Todos podem reunir-se pacificamente, sem armas, em locais abertos ao público, desde que autorizado previamente por autoridade competente.
- (D) A expressão da atividade intelectual, artística, científica e de comunicação é livre, respeitadas as qualificações, censuras e licenças que a lei estabelecer.

QUESTÃO 34

A Constituição da República Federativa do Brasil de 1988 determina que a administração pública direta e indireta de quaisquer dos Poderes da União, dos Estados, do Distrito Federal e dos Municípios obedecerá aos princípios de legalidade, impessoalidade, moralidade, publicidade e eficiência. Sobre as disposições constitucionais relativas à administração pública, analise as afirmativas a seguir.

- I. A publicidade dos atos, obras e serviços dos órgãos públicos deverá ter caráter educativo, informativo ou de orientação social, dela não podendo constar nomes ou imagens que caracterizem promoção pessoal de autoridades ou servidores públicos.
- II. A investidura em cargo em comissão depende de aprovação prévia em concurso público de provas ou de provas e títulos, sendo inconstitucionais declarações em lei de livre nomeação e exoneração para tais cargos.
- III. A acumulação remunerada de cargos públicos de professor com outro técnico ou científico, ou de dois cargos de professor é permitida, contanto que respeite o teto constitucional remuneratório e haja compatibilidade de horários e de regimes.
- IV. Ressalvados os casos especificados na legislação, as obras, os serviços, as compras e as alienações serão contratados mediante decisão discricionária da autoridade competente, considerando os interesses econômicos do órgão ou repartição.

Assinale a alternativa **CORRETA**:

- (A) Estão corretas apenas as afirmativas I e III.
- (B) Estão corretas apenas as afirmativas II e III.
- (C) Estão corretas apenas as afirmativas I e IV.
- (D) Estão corretas apenas as afirmativas II e IV.

QUESTÃO 35

Analise a seguinte situação hipotética:

Roberto, servidor nomeado para cargo de provimento efetivo em virtude de concurso público, há dois anos, ouviu dizer por colegas que perderia seu cargo, pois a direção de seu órgão estava insatisfeita com seu desempenho e, ademais, o cargo que ocupava seria extinto. Indignado com as suposições dos colegas, Roberto afirmou que, de acordo com a Constituição da República Federativa do Brasil de 1988:

- I- por ser servidor nomeado, em razão de aprovação em concurso público e ter passado por avaliação especial de desempenho, ele gozava de estabilidade em seu cargo;
- II- o servidor público estável só perde o cargo em virtude de sentença judicial transitada em julgado, não havendo processo administrativo que culminasse na perda de seu cargo;
- III- se extinto o cargo, o servidor estável deveria ficar em disponibilidade, com remuneração proporcional ao tempo de serviço, até seu adequado aproveitamento em outro cargo;
- IV- o servidor público estável pode buscar a invalidação de sua demissão por sentença judicial, o que levaria, em caso de êxito, à reintegração do servidor.

Considerando as afirmações feitas por Roberto e as prescrições constitucionais, assinale a alternativa **CORRETA**:

- (A) Estão corretas as afirmações I e II.
- (B) Estão corretas as afirmações II e IV.
- (C) Estão corretas as afirmações I e III.
- (D) Estão corretas as afirmações III e IV.

QUESTÕES ESPECÍFICAS (QUESTÕES 36 A 70)**QUESTÃO 36**

Considere a seguinte situação hipotética:

Um paciente com tosse secretiva, dor torácica pleurítica e febre foi diagnosticado com pneumonia adquirida na comunidade (PAC). Marque a alternativa **CORRETA**, considerando o manejo da doença:

- (A) Pacientes com PAC devem receber tratamento antibiótico empiricamente para agentes mais comuns do ponto vista epidemiológico, otimizando o tempo de início de tratamento, sem necessidade de aguardar resultado de cultura.
- (B) Pacientes com diagnóstico de PAC devem ser avaliados quanto à gravidade por escores prognósticos como PSI e CURB-65 para guiar a alta hospitalar.
- (C) Pacientes com PAC sem comorbidades, sem antibióticos prévios e sem critérios para resistência a antibióticos, também devem realizar culturas de secreções e hemocultura.
- (D) Pacientes com PAC sem necessidade de internação hospitalar tem recomendação do uso de cefalosporina de terceira geração associada a um macrolídeo.

QUESTÃO 37

Doença Pulmonar Obstrutiva Crônica (DPOC) é uma das principais causas de mortalidade global. Marque a alternativa **CORRETA**:

- (A) O diagnóstico de DPOC é feito em pacientes com dispneia, tosse e secreção pulmonar, com exposição a fatores de risco, histórico familiar e um exame de imagem alterado.
- (B) Reabilitação pulmonar, cessação do tabagismo e oxigenioterapia são responsáveis por redução de mortalidade, enquanto fármacos inalatórios não demonstraram este benefício.
- (C) Suplementação de oxigênio domiciliar está recomendada em pacientes com saturação de oxigênio menor que 90% e presença de insuficiência cardíaca com fração de ejeção reduzida.
- (D) Os pacientes que apresentam mais de 2 exacerbações ou 1 hospitalização no período de um ano, têm indicação de associar beta 2 agonista de longa ação, antagonista muscarínico e corticoide inalatório.

QUESTÃO 38

Paciente com diagnóstico prévio de Doença Pulmonar Obstrutiva Crônica (DPOC) é internado por tosse, dispneia e aumento da secreção pulmonar que se tornou amarelada. Qual é o diagnóstico e provável perfil de microrganismos envolvidos?

- (A) Pneumonia bacteriana com necessidade de cobertura para *Pseudomonas aeruginosa* pela sua resistência a antibióticos.
- (B) Pneumonia com cobertura para *Streptococcus pneumoniae* e enterobactérias por broncoaspiração.
- (C) DPOC exacerbado mais provável por *Haemophilus influenzae*, *Streptococcus pneumoniae* e *Moraxella catarrhalis*.
- (D) DPOC infectado com seu frequente acometimento por vírus respiratórios sem necessidade inicial de terapia específica.

QUESTÃO 39

Considere a seguinte situação hipotética:

Homem com 56 anos apresentando dor torácica de início súbito, ventilatório-dependente, localizada em hemitórax direito, que ocorreu no 10º dia de pós-operatório de cirurgia ortopédica em joelho. Exame físico mostrando pressão arterial 130/76 mmHg, frequência respiratória de 30 irpm, frequência cardíaca de 130 bpm e saturação sanguínea de oxigênio a 87% em ar ambiente. Radiografia de tórax sem anormalidades. ECG evidenciou taquicardia sinusal.

Marque a alternativa **CORRETA**:

- (A) Paciente com alta probabilidade para embolia pulmonar, indicando investigação com angiotomografia de tórax e anticoagulação.
- (B) A dosagem de enzimas miocárdicas e ECGs seriados são essenciais para fechar o diagnóstico de infarto agudo do miocárdio perioperatório.
- (C) A dosagem de D-dímero normal afasta o diagnóstico de embolia pulmonar por apresentar alto valor preditivo positivo.
- (D) Os critérios de Wells quando aplicados a esse paciente mostram uma baixa probabilidade de embolia pulmonar.

QUESTÃO 40

Considere a seguinte situação hipotética:

Paciente com 70 anos, diabético há 20 anos, hipertenso com controle subótimo de seus níveis tensionais é encaminhado para avaliação pelo nefrologista. Todas são indicações de terapia de substituição renal, **EXCETO**:

- (A) Refratariedade ao tratamento da hipercalemia ou acidose.
- (B) Sintomas urêmicos como encefalopatia e sangramentos.
- (C) Elevação dos níveis de creatinina plasmática > 3,0 mg/dL.
- (D) Evidências de sobrecarga volêmica como edema pulmonar.

QUESTÃO 41

Considere a seguinte situação hipotética:

Paciente com 64 anos, diabético e hipertenso com eTFG 29 mL/min/1,73 m² e albuminúria de 320 mg/g. Qual prescrição com maior evidência científica para esse paciente?

- (A) Benazepril associado a espironolactona.
- (B) Espironolactona associado a empagliflozina.
- (C) Dapagliflozina associada a epleronone.
- (D) Enalapril ou losartana associado a dapagliflozina.

QUESTÃO 42

Considere a seguinte situação hipotética:

Um paciente com doença renal crônica chega para atendimento com nível sérico de potássio de 7,5 mEq/L com ECG mostrando onda T apiculada. Qual é a conduta inicial para esse paciente, de modo a alcançar um resultado imediato?

- (A) Prescrição de diurético de alça intravenoso.
- (B) Prescrição de resina de troca de cálcio por potássio.
- (C) Administração de glicose 50% associado a insulina.
- (D) Administração de gluconato de cálcio a 10% intravenoso.

QUESTÃO 43

Considere a seguinte situação hipotética das alternativas e responda:

Qual dos pacientes descritos a seguir tem seu diagnóstico **CORRETO**?

- (A) Um paciente com sintomas típicos de hiperglicemia, tem seu diagnóstico de diabetes estabelecido com glicemia ao acaso ≥ 220 mg/dL.
- (B) Um paciente com glicemia de jejum entre 100 e 125 mg/dL ou HbA1c entre 5,7 e 6,4% tem seu diagnóstico de pré-diabetes.
- (C) Um paciente com glicemia de jejum > 126 mg/dL e HbA1c $\geq 5,7\%$ tem diagnóstico de diabetes confirmado.
- (D) Um paciente com Teste de Tolerância à Glicose por via Oral após 1 hora, tem o diagnóstico de diabetes feito com glicemia ≥ 200 mg/dL.

QUESTÃO 44

Considere a seguinte situação hipotética das alternativas e responda:

Qual dos pacientes a seguir deve ser encaminhado para investigação com exames subsidiários em um setor de urgência?

- (A) Paciente com 55 anos, cefaleia com início súbito, com padrão diferente de episódios anteriores, referindo como pior cefaleia que já apresentou e que não respondeu a analgésicos.
- (B) Paciente com 40 anos apresentando cefaleia de leve a moderada intensidade, holocraniana, com início no final da tarde, após estresse emocional.
- (C) Paciente com 50 anos, cefaleia de forte intensidade, hemicraniana, pulsátil, com irritabilidade e náuseas, precedido por borramento visual, como mesmo comportamento de episódios anteriores.
- (D) Paciente com 50 anos, cefaleia hemicraniana de forte intensidade, precedida por distorção do campo visual, semelhante a episódios anteriores, mas com maior frequência neste mês.

QUESTÃO 45

São critérios para o diagnóstico de Doença de Parkinson:

- (A) Tremor de repouso, sinais cerebelares, rigidez muscular e demência precoce.
- (B) Tremor de ação, bradicinesia, sinais autonômicos precoces e sinais cerebelares.
- (C) Tremor de repouso, bradicinesia, rigidez muscular e demência de ocorrência tardia.
- (D) Tremor de ação, sinais cerebelares, rigidez muscular e demência de ocorrência tardia.

QUESTÃO 46

Observe a situação hipotética a seguir:

Paciente com 65 anos, hipertenso, dislipidêmico e tabagista apresenta hemiplegia, desvio de rima labial e afasia com início dos sintomas há 10 horas. Considerando esse caso clínico, qual a melhor conduta para esse paciente?

- (A) O tempo do início dos sintomas é inferior a 12 horas, com recomendação de fibrinólise se não houver contraindicação absoluta.
- (B) A tomografia de crânio ou ressonância de crânio devem estar alteradas para infusão de alteplase.
- (C) O eletrocardiograma deve ser realizado, buscando sinais sugestivos de síndrome coronariana aguda.
- (D) O uso de anti-hipertensivos nesta fase inicial não está recomendado se a pressão arterial sistólica < 220 mmHg e diastólica < 120 mmHg.

QUESTÃO 47

A anemia de doença crônica é a segunda causa de anemias, ficando atrás apenas da anemia ferropriva, e está associada a neoplasias, infecções e doenças autoimunes. Em relação à anemia crônica, todas as alternativas estão corretas, **EXCETO**:

- (A) O hemograma apresenta anemia macrocítica e normocrômica.
- (B) A apresentação de anemia leve a moderada é característica.
- (C) Corresponde a uma indisponibilidade funcional do ferro à medula.
- (D) Exames laboratoriais mostram ferritina normal ou aumentada.

QUESTÃO 48

A anemia falciforme é uma alteração genética e hereditária no gene da β globina, que leva a um afoçamento das hemácias com hemólise e conseqüente oclusão microvascular. Essa doença, apesar de causar danos aos pacientes, pode proteger contra:

- (A) HIV.
- (B) dengue.
- (C) malária.
- (D) doença de Chagas.

QUESTÃO 49

Considerando o diagnóstico diferencial de dor abdominal, marque a alternativa que corresponde à hipótese diagnóstica e às características da dor:

- (A) Ruptura de aneurisma abdominal: Início súbito, dilacerante, de forte intensidade, com irradiação para dorso.
- (B) Apendicite: Quadro com evolução aguda, periumbilical, de forte intensidade e que piora com alimentação.
- (C) Isquemia mesentérica: Quadro com evolução insidiosa, localizada em região epigástrica, de leve intensidade e alivia com alimentação.
- (D) Colecistite: Início insidioso, constante, localizada em hipocôndrio direito, com irradiação para região umbilical.

QUESTÃO 50

Qual é o tratamento indicado para pacientes com doença ulcerosa péptica com infecção pelo *Helicobacter pylori*?

- (A) Inibidor de bomba de prótons, claritromicina 500 mg associado a amoxicilina 1000 mg duas vezes ao dia por 14 dias.
- (B) Inibidor de bomba de prótons, metronidazol 500 mg associado a amoxicilina 1000 mg duas vezes ao dia por 14 dias.
- (C) Inibidor de bomba de prótons, clindamicina 500 mg associado a amoxicilina 1000 mg duas vezes ao dia por 7 dias.
- (D) Inibidor de bomba de prótons, claritromicina 500 mg associado a amoxicilina 1000 mg duas vezes ao dia por 7 dias.

QUESTÃO 51

O câncer colorretal é o terceiro em incidência no mundo, porém permite a prevenção da ocorrência da doença com a retirada de pólipos intestinais e detecção precoce com exames.

Marque a alternativa **CORRETA** a respeito dessa doença:

- (A) Os médicos devem iniciar o rastreio para câncer colorretal aos 40 anos em pacientes assintomáticos.
- (B) O maior risco ocorre em pessoas com histórico familiar para câncer colorretal e a característica dos pólipos removidos.
- (C) O excesso de adiposidade corporal é um fator de risco para outros tipos de câncer, mas sua relevância é menor no câncer colorretal.
- (D) O rastreio do câncer colorretal em pacientes com mais de 75 anos é feito com colonoscopia a cada 5 anos.

QUESTÃO 52

Considere a seguinte situação hipotética:

Masculino com 65 anos é atendido em pronto socorro por infecção do trato urinário com febre, rebaixamento de consciência, frequência respiratória de 28 irpm, PA 86/54 mmHg após infusão de 2000ml de cristaloides e lactato 5 nmol/L. Qual é o diagnóstico para esse paciente?

- (A) Sepses.
- (B) Sepses grave.
- (C) Choque séptico.
- (D) Infecção sem disfunção.

QUESTÃO 53

Na sepses, quais são as medidas iniciais recomendadas?

- (A) Coleta de exames laboratoriais, coleta de culturas e administração de antibióticos de amplo espectro e ressuscitação volêmica.
- (B) Culturas e administração de antibióticos de amplo espectro, monitorização em ambiente de CTI e infusão de medicações vasoconstrictoras.
- (C) Coleta de exames laboratoriais e culturas, antibioticoterapia de acordo com o resultado das culturas e hidratação venosa.
- (D) Coleta de exames laboratoriais, cultura e gasometria arterial, ressuscitação volêmica com coloides, antibióticos e bicarbonato de sódio.

QUESTÃO 54

A infecção do trato urinário é umas das principais causas de atendimento médico e tem grande impacto negativo na vida de mulheres.

Considere a seguinte situação hipotética:

Uma mulher com disúria, aumento da frequência urinária, com desconforto suprapúbico e na ausência de irritação/corrimento vaginal. Qual é a melhor conduta?

- (A) Nitrofurantoina 100 mg a cada 6 horas por 5 dias.
- (B) Ciprofloxacino 500 mg a cada 12 horas por 7 dias.
- (C) Diagnóstico precisa ser confirmado com exame de urina.
- (D) Coletar urocultura e após fosfomicina 3 g em dose única.

QUESTÃO 55

Considere a seguinte situação hipotética:

Um paciente procura atendimento médico por febre, mialgia e dor retroorbitária com exame de NS1 positivo para dengue. Assinale a alternativa que apresenta sinais de choque da dengue:

- (A) Lipotimia ou hipotensão postural, extremidades frias, prova do laço positiva e oligúria.
- (B) Tempo de enchimento capilar > que 2 segundos, hepatomegalia, hipotensão arterial e vômitos.
- (C) Lipotimia ou hipotensão postural, oligúria, hepatomegalia dolorosa e prova do laço positiva.
- (D) Tempo de enchimento capilar > que 2 segundos, extremidades frias, hipotensão arterial e oligúria.

QUESTÃO 56

Considere a seguinte situação hipotética:

Homem, 65 anos, com obesidade clínica e hipertensão arterial resistente procura atendimento por esquecimento, dificuldade de concentração, sonolência diurna e sensação de sono não reparador. O período de sono vai de 23 às 06 horas, com um despertar noturno para urinar. Está em uso de IECA e um diurético tiazídico. Para essa situação, qual exame complementar deve ser solicitado?

- (A) Polissonografia.
- (B) Vitaminas B12 e 25(OH)D.
- (C) Pesquisa de marcadores tumorais.
- (D) Ressonância nuclear magnética de crânio.

QUESTÃO 57

A síncope é uma perda súbita da consciência e do tônus postural causada por uma redução do fluxo sanguíneo cerebral. Qual das condições a seguir que precedem a síncope e que apresentam maior risco de morte, necessitando, portanto, de maior investigação?

- (A) Precedida tontura/posição ortostática.
- (B) Precedida por posição ortostática/diabetes mellitus.
- (C) Precedida por náuseas/liberação de esfíncteres.
- (D) Precedida por palpitação/durante o exercício físico.

QUESTÃO 58

Considere a seguinte situação hipotética:

Homem com 70 anos, hipertenso e tabagista, procura atendimento com quadro de dor torácica com irradiação para região interescapular e membro superior esquerdo. Ao exame físico foi observado redução de pulsos e pressão arterial em membro superior esquerdo quando comparado ao direito. O eletrocardiograma apresenta uma sobrecarga de ventrículo esquerdo e a radiografia de tórax um alargamento de mediastino. Considerando a situação hipotética acima, qual exame complementar e tratamento devem ser realizados?

- (A) Eletrocardiograma - Ácido acetil salicílico associado a clopidogrel em dose de ataque.
- (B) Angiotomografia de tórax – Betabloqueador venoso seguido de nitroprussiato de sódio.
- (C) Cateterismo cardíaco - Ácido acetil salicílico associado a clopidogrel em dose de ataque.
- (D) Angiotomografia de tórax – Heparinização plena e fibrinolítico em caso de choque obstrutivo.

QUESTÃO 59

Considere os casos hipotéticos e responda:

Qual destes pacientes a seguir tem menor risco de morte?

- (A) Dor torácica de forte intensidade, relatada como lancinante, sopro aspirativo aórtico e com irradiação para dorso.
- (B) Dor torácica pleurítica após imobilização prolongada, com achados de taquipneia e ausculta pulmonar sem alterações.
- (C) Dor torácica ventilatório dependente, com irradiação para trapézio e que alivia com a inclinação anterior do tórax.
- (D) Dor torácica em aperto, associado a diaforese e náuseas, sem posição de melhora e não relacionada à alimentação.

QUESTÃO 60

Elizabeth Kubler Ross foi uma psiquiatra especializada em tanatologia, tornou-se referência no campo de cuidados paliativos e descreveu as chamadas “5 fases do luto”. Quais são as reações esperadas por pessoas que recebem más notícias?

- (A) Comoção, raiva, culpa, depressão e aceitação.
- (B) Negação, culpa, tristeza, depressão e recuperação.
- (C) Negação, raiva, depressão, barganha e aceitação.
- (D) Comoção, transferência, tristeza, depressão e recuperação.

QUESTÃO 61

Considere a seguinte situação hipotética:

Um paciente com infarto agudo do miocárdio de parede inferior evolui com hipotensão arterial e uma medida da pressão capilar pulmonar de 6 mmHg é encontrada na monitorização à beira leito. Com relação à essa situação, qual exame é o mais recomendado no atendimento inicial?

- (A) Ecocardiograma transtorácico.
- (B) Angiotomografia de tórax.
- (C) Peptídeo natriurético cerebral.
- (D) Eletrocardiograma com as derivações V3R e V4R.

QUESTÃO 62

Considera a seguinte situação hipotética:

Homem, 68 anos, hipertenso, diabético e dislipidêmico com infarto do miocárdio prévio e angioplastia primária para artéria descendente anterior. O ecocardiograma mostra acinesia da parede anteroseptal com FEVE 30%. Procura atendimento em urgência com dispneia aos mínimos esforços e ortopneia. Ao exame apresenta edema em membros inferiores, turgência jugular, extremidades frias com perfusão lentificada, PA 90 x 50 mmHg, sopro sistólico regurgitativo em foco mitral, terceira bulha e estertores finos em dois terços pulmonares. O tratamento apropriado para esse paciente é

- (A) dopamina e digoxina.
- (B) furosemida e dobutamina.
- (C) cristalóide endovenoso e nitroglicerina.
- (D) sacubitril/valsartana e início de carvedilol.

QUESTÃO 63

A hipertensão arterial é dos grandes agravos em saúde pública.

Quais medicações comprovadamente reduzem a mortalidade cardiovascular no paciente com insuficiência cardíaca com fração de ejeção reduzida?

- (A) Inibidores da enzima conversora da angiotensina, antagonistas dos receptores mineralocorticoides, vasodilatador direto e digitálicos.
- (B) Inibidores da neprilisina e dos receptores da angiotensina (sacubitril/valsartana), betabloqueadores, digitálicos e inibidores de SGLT2.
- (C) Bloqueadores dos canais de cálcio, ivabradina, bloqueadores dos receptores de angiotensina II e betabloqueadores.
- (D) Betabloqueadores, inibidores da enzima conversora da angiotensina, antagonistas dos receptores mineralocorticoides e inibidores de SGLT2.

QUESTÃO 64

Considere o seguinte caso hipotético:

Mulher com 61 anos, obesa e hipertensa está em uso de 3 fármacos anti-hipertensivos e vem apresentando dispneia aos esforços habituais. Passado de hospitalização por sinais e sintomas de congestão pulmonar há 2 meses, com melhora dos sintomas após tratamento medicamentoso. Ao ECG foi encontrada fibrilação atrial e sobrecarga de ventrículo esquerdo. Ecocardiograma com fração de ejeção de 56% e pressão sistólica na artéria pulmonar de 36mmHg.

Marque a alternativa **CORRETA**, considerando a classificação dessa doença:

- (A) Insuficiência cardíaca com fração de ejeção preservada, estágio B e classe funcional III de NYHA.
- (B) Insuficiência cardíaca com fração de ejeção preservada, estágio C, classe funcional II de NYHA.
- (C) Insuficiência cardíaca restritiva e com disfunção diastólica, estágio C e classe funcional II de NYHA.
- (D) Insuficiência cardíaca afastada, com necessidade de levantar diagnóstico diferencial, pois a fração de ejeção é normal.

QUESTÃO 65

A qualidade do controle da hipertensão arterial é essencial na prevenção cardiovascular.

Todas as alternativas a respeito dos anti-hipertensivos mais prescritos estão corretas, **EXCETO**:

- (A) Inibidores do sistema renina angiotensina são escolha em pacientes diabéticos com microalbuminúria.
- (B) A clortalidona tem boa potência hipotensora, sendo uma escolha para hipertensão arterial resistente.
- (C) Betabloqueadores não seletivos são medicações de escolha em pacientes com crises de broncoespasmo.
- (D) A quarta medicação a ser prescrita em caso de pacientes com hipertensão resistente é a espironolactona.

QUESTÃO 66

Considere o seguinte caso hipotético:

Mulher com 60 anos, apresentando níveis de pressão arterial em 150/90 mmHg. Está em uso de enalapril 20 mg em duas tomadas ao dia, anlodipino 10 mg em uma tomada ao dia e clortalidona 25 mg em uma tomada ao dia. A investigação para hipertensão secundária não encontrou alterações. Exames laboratoriais com creatinina 0,9 mg/dL, potássio 3,8 mEq/L e urina rotina normal. Qual é a melhor conduta visando ao controle da pressão arterial dessa paciente?

- (A) Substituir enalapril por losartana 100 mg/dia.
- (B) Associar atenolol 50 mg/dia.
- (C) Associar espironolactona 25 a 50 mg/dia.
- (D) Associar metildopa 1000 mg/dia.

QUESTÃO 67

Considere o seguinte caso hipotético:

Homem com 65 anos, apresentando história de infarto agudo do miocárdio com supradesnívelamento do segmento ST, sendo realizada angioplastia primária. Qual a conduta adequada para esse paciente?

- (A) Meta terapêutica para LDL colesterol < 50 mg/dL, prescrição de AAS e clopidogrel e reabilitação cardiovascular.
- (B) Meta terapêutica para LDL colesterol < 70 mg/dL, prescrição de AAS e clopidogrel e reabilitação cardiovascular.
- (C) Meta terapêutica para LDL colesterol < 70 mg/dL, triglicerídeos > 150 mg/dL iniciar fenofibrato, prescrição de AAS e clopidogrel.
- (D) Meta terapêutica para LDL colesterol < 50 mg/dL, prescrição de AAS, nitrato de ação prolongada e reabilitação cardiovascular.

QUESTÃO 68

Considere o seguinte caso hipotético:

Homem com 70 anos, procura atendimento para avaliação de rotina. É hipertenso há 20 anos com controle irregular, apresenta obesidade grau 2 e histórico familiar de doença coronariana. Ao exame: ritmo cardíaco irregular, com frequência cardíaca aproximada de 112 bpm, PA MSE=MSD 150 x 90 mmHg. Exames laboratoriais: creatinina: 1,46 mg/dL, ureia: 50 mg/dL, Sódio sérico: 136 mEq/L, potássio sérico 3,7 mEq/L, Glicemia: 156 mg/dL, HbA1c 7,5%, CT: 228 mg/dL, HDL: 32 mg/dL, LDL: 142 mg/dL, TG: 270 mg/dL, relação albumina/creatinina em amostra isolada de urina 35 mg/g. O ECG apresenta uma frequência cardíaca aproximada de 110 bpm, ausência de ondas p e intervalo R-R irregular.

Qual é a prescrição ideal para esse paciente?

- (A) Anticoagulante, amiodarona, bloqueador do sistema renina angiotensina, inibidor do cotransportador de sódio-glicose 2 e fibrato.
- (B) Anticoagulante, betabloqueador, bloqueador do sistema renina angiotensina, inibidor do cotransportador de sódio-glicose 2 e estatina.
- (C) Antiagregante plaquetário, betabloqueador, bloqueador do sistema renina angiotensina, metformina e estatina.
- (D) Anticoagulante, diurético de alça, bloqueador do sistema renina angiotensina, metformina e estatina.

QUESTÃO 69

Considerando os casos descritos, em que todos os pacientes a seguir foram atendidos com síndrome coronariana aguda, qual é a alternativa que apresenta a conduta **CORRETA**?

- (A) Paciente com dor torácica e com fatores de risco cardiovascular deve ser estratificado para prever risco de morte ou desfechos desfavoráveis, mesmo com ECG e marcadores miocárdicos normais.
- (B) Paciente com supradesnivelamento do segmento ST deve ser encaminhado para a fibrinólise ou angioplastia após a elevação de troponina em 20% em relação aos níveis basais.
- (C) Paciente com supradesnivelamento do segmento ST deve realizar inicialmente a fibrinólise e ser encaminhado para angioplastia, quando atendido em hospitais que dispõem de serviço de hemodinâmica.
- (D) Paciente com dor torácica, ECG sem alterações e enzimas cardíacas elevadas, tem o diagnóstico de infarto sem supradesnivelamento de ST e deve ser encaminhado para trombólise.

QUESTÃO 70

Considere a seguinte situação hipotética:

Um paciente com dispneia, dor torácica e síncope, em cujo exame físico é encontrado um sopro sistólico com a característica “crescendo e decrescendo” com irradiação cervical, provavelmente apresenta:

- (A) Insuficiência de valva aórtica.
- (B) Estenose mitral.
- (C) Estenose de valva aórtica.
- (D) Insuficiência mitral.

GABARITO RASCUNHO

Questões 01 a 14	Questões 15 a 28	Questões 29 a 42	Questões 43 a 56	Questões 57 a 70
01 <input type="radio"/> A <input type="radio"/> B <input type="radio"/> C <input type="radio"/> D	15 <input type="radio"/> A <input type="radio"/> B <input type="radio"/> C <input type="radio"/> D	29 <input type="radio"/> A <input type="radio"/> B <input type="radio"/> C <input type="radio"/> D	43 <input type="radio"/> A <input type="radio"/> B <input type="radio"/> C <input type="radio"/> D	57 <input type="radio"/> A <input type="radio"/> B <input type="radio"/> C <input type="radio"/> D
02 <input type="radio"/> A <input type="radio"/> B <input type="radio"/> C <input type="radio"/> D	16 <input type="radio"/> A <input type="radio"/> B <input type="radio"/> C <input type="radio"/> D	30 <input type="radio"/> A <input type="radio"/> B <input type="radio"/> C <input type="radio"/> D	44 <input type="radio"/> A <input type="radio"/> B <input type="radio"/> C <input type="radio"/> D	58 <input type="radio"/> A <input type="radio"/> B <input type="radio"/> C <input type="radio"/> D
03 <input type="radio"/> A <input type="radio"/> B <input type="radio"/> C <input type="radio"/> D	17 <input type="radio"/> A <input type="radio"/> B <input type="radio"/> C <input type="radio"/> D	31 <input type="radio"/> A <input type="radio"/> B <input type="radio"/> C <input type="radio"/> D	45 <input type="radio"/> A <input type="radio"/> B <input type="radio"/> C <input type="radio"/> D	59 <input type="radio"/> A <input type="radio"/> B <input type="radio"/> C <input type="radio"/> D
04 <input type="radio"/> A <input type="radio"/> B <input type="radio"/> C <input type="radio"/> D	18 <input type="radio"/> A <input type="radio"/> B <input type="radio"/> C <input type="radio"/> D	32 <input type="radio"/> A <input type="radio"/> B <input type="radio"/> C <input type="radio"/> D	46 <input type="radio"/> A <input type="radio"/> B <input type="radio"/> C <input type="radio"/> D	60 <input type="radio"/> A <input type="radio"/> B <input type="radio"/> C <input type="radio"/> D
05 <input type="radio"/> A <input type="radio"/> B <input type="radio"/> C <input type="radio"/> D	19 <input type="radio"/> A <input type="radio"/> B <input type="radio"/> C <input type="radio"/> D	33 <input type="radio"/> A <input type="radio"/> B <input type="radio"/> C <input type="radio"/> D	47 <input type="radio"/> A <input type="radio"/> B <input type="radio"/> C <input type="radio"/> D	61 <input type="radio"/> A <input type="radio"/> B <input type="radio"/> C <input type="radio"/> D
06 <input type="radio"/> A <input type="radio"/> B <input type="radio"/> C <input type="radio"/> D	20 <input type="radio"/> A <input type="radio"/> B <input type="radio"/> C <input type="radio"/> D	34 <input type="radio"/> A <input type="radio"/> B <input type="radio"/> C <input type="radio"/> D	48 <input type="radio"/> A <input type="radio"/> B <input type="radio"/> C <input type="radio"/> D	62 <input type="radio"/> A <input type="radio"/> B <input type="radio"/> C <input type="radio"/> D
07 <input type="radio"/> A <input type="radio"/> B <input type="radio"/> C <input type="radio"/> D	21 <input type="radio"/> A <input type="radio"/> B <input type="radio"/> C <input type="radio"/> D	35 <input type="radio"/> A <input type="radio"/> B <input type="radio"/> C <input type="radio"/> D	49 <input type="radio"/> A <input type="radio"/> B <input type="radio"/> C <input type="radio"/> D	63 <input type="radio"/> A <input type="radio"/> B <input type="radio"/> C <input type="radio"/> D
08 <input type="radio"/> A <input type="radio"/> B <input type="radio"/> C <input type="radio"/> D	22 <input type="radio"/> A <input type="radio"/> B <input type="radio"/> C <input type="radio"/> D	36 <input type="radio"/> A <input type="radio"/> B <input type="radio"/> C <input type="radio"/> D	50 <input type="radio"/> A <input type="radio"/> B <input type="radio"/> C <input type="radio"/> D	64 <input type="radio"/> A <input type="radio"/> B <input type="radio"/> C <input type="radio"/> D
09 <input type="radio"/> A <input type="radio"/> B <input type="radio"/> C <input type="radio"/> D	23 <input type="radio"/> A <input type="radio"/> B <input type="radio"/> C <input type="radio"/> D	37 <input type="radio"/> A <input type="radio"/> B <input type="radio"/> C <input type="radio"/> D	51 <input type="radio"/> A <input type="radio"/> B <input type="radio"/> C <input type="radio"/> D	65 <input type="radio"/> A <input type="radio"/> B <input type="radio"/> C <input type="radio"/> D
10 <input type="radio"/> A <input type="radio"/> B <input type="radio"/> C <input type="radio"/> D	24 <input type="radio"/> A <input type="radio"/> B <input type="radio"/> C <input type="radio"/> D	38 <input type="radio"/> A <input type="radio"/> B <input type="radio"/> C <input type="radio"/> D	52 <input type="radio"/> A <input type="radio"/> B <input type="radio"/> C <input type="radio"/> D	66 <input type="radio"/> A <input type="radio"/> B <input type="radio"/> C <input type="radio"/> D
11 <input type="radio"/> A <input type="radio"/> B <input type="radio"/> C <input type="radio"/> D	25 <input type="radio"/> A <input type="radio"/> B <input type="radio"/> C <input type="radio"/> D	39 <input type="radio"/> A <input type="radio"/> B <input type="radio"/> C <input type="radio"/> D	53 <input type="radio"/> A <input type="radio"/> B <input type="radio"/> C <input type="radio"/> D	67 <input type="radio"/> A <input type="radio"/> B <input type="radio"/> C <input type="radio"/> D
12 <input type="radio"/> A <input type="radio"/> B <input type="radio"/> C <input type="radio"/> D	26 <input type="radio"/> A <input type="radio"/> B <input type="radio"/> C <input type="radio"/> D	40 <input type="radio"/> A <input type="radio"/> B <input type="radio"/> C <input type="radio"/> D	54 <input type="radio"/> A <input type="radio"/> B <input type="radio"/> C <input type="radio"/> D	68 <input type="radio"/> A <input type="radio"/> B <input type="radio"/> C <input type="radio"/> D
13 <input type="radio"/> A <input type="radio"/> B <input type="radio"/> C <input type="radio"/> D	27 <input type="radio"/> A <input type="radio"/> B <input type="radio"/> C <input type="radio"/> D	41 <input type="radio"/> A <input type="radio"/> B <input type="radio"/> C <input type="radio"/> D	55 <input type="radio"/> A <input type="radio"/> B <input type="radio"/> C <input type="radio"/> D	69 <input type="radio"/> A <input type="radio"/> B <input type="radio"/> C <input type="radio"/> D
14 <input type="radio"/> A <input type="radio"/> B <input type="radio"/> C <input type="radio"/> D	28 <input type="radio"/> A <input type="radio"/> B <input type="radio"/> C <input type="radio"/> D	42 <input type="radio"/> A <input type="radio"/> B <input type="radio"/> C <input type="radio"/> D	56 <input type="radio"/> A <input type="radio"/> B <input type="radio"/> C <input type="radio"/> D	70 <input type="radio"/> A <input type="radio"/> B <input type="radio"/> C <input type="radio"/> D

ATENÇÃO!

ESTA PÁGINA PODERÁ SER DESTACADA E LEVADA PELO (A) CANDIDATO (A) SOMENTE SE NÃO CONTIVER NENHUMA ANOTAÇÃO ALÉM DAS MARCAÇÕES DO GABARITO-RASCUNHO.

**UNIVERSIDADE FEDERAL DE LAVRAS – UFLA
CONCURSO PÚBLICO TÉCNICO ADMINISTRATIVO / UFLA (EDITAL 58/25)**

