



UNIVERSIDADE FEDERAL DE LAVRAS  
Câmpus Universitário – Caixa Postal 3037  
37203-202 – Lavras (MG)

## CONCURSO PÚBLICO – UFLA EDITAL Nº 58/2025

# PROVAS PARA O CARGO DE NÍVEL E MÉDICO/PEDIATRIA

DIA: 30/11/2025

ESTE CADERNO CONTÉM PROVAS DE:

LÍNGUA PORTUGUESA	QUESTÕES 1 A 10
MATEMÁTICA	QUESTÕES 11 A 20
LEGISLAÇÃO	QUESTÕES 21 A 35
CONHECIMENTO ESPECÍFICO	QUESTÕES 36 A 70

### INSTRUÇÕES:

Após a autorização do(a) aplicador(a), abra o caderno e confira-o, conforme as instruções abaixo:

- Cada questão contém 4 (quatro) alternativas de resposta. Apenas 1 (uma) alternativa responde à questão.
- O formulário de respostas deverá ser preenchido conforme as instruções contidas no próprio formulário e assinado apenas no espaço reservado para esse fim.
- Não será permitido o empréstimo de qualquer tipo de material entre os(as) candidatos(as), durante a realização da prova. Caso haja necessidade, o(a) candidato(a) deverá chamar o(a) fiscal.

### ATENÇÃO!

- O não cumprimento das instruções poderá acarretar a eliminação do candidato.
- O tempo de duração da prova é de 4h (quatro horas) e INCLUI o preenchimento do formulário de respostas.
- A interpretação das questões faz parte da prova.
- Este caderno será **obrigatoriamente** devolvido ao fiscal ao final da prova. O(a) candidato(a) poderá destacar a contracapa, na qual se encontra o rascunho do gabarito, **que não poderá ter nenhuma anotação extra.**
- A devolução do formulário de respostas e do caderno de prova é de inteira responsabilidade do candidato.
- Qualquer irregularidade deverá ser comunicada ao fiscal.



**LÍNGUA PORTUGUESA (QUESTÕES 1 A 10)****INSTRUÇÕES:** Leia o Texto 1 para responder às questões 1 a 4**TEXTO 1****Sociedade do espetáculo**

Maria Rita Kehl

*A frenética busca por “15 minutos de fama” nas plataformas digitais tornou-se uma perigosa armadilha, ainda mais cruel quando envolve crianças e adolescentes*

1 Esta coluna toma emprestado o título de um dos livros mais conhecidos do filósofo e teórico  
2 marxista francês Guy Debord (1931–1994). Passados mais de 30 anos de sua morte, o tema  
3 mostra-se cada vez mais atual. Para o autor, a sociedade capitalista, em seu estágio avançado,  
4 transformou as relações sociais em um grande espetáculo, no qual imagens e aparências se  
5 sobrepõem à vida real e às experiências autênticas. Nesse contexto, os sujeitos buscam sempre  
6 apresentar-se em sua melhor performance: felizes, endinheirados, desfrutando de viagens  
7 interessantes, festas incríveis etc.

8 Os “15 minutos de fama” que todos deveriam experimentar uma vez na vida, na visão idílica  
9 de Andy Warhol, tornaram-se insuficientes para quem vive neste mundo hiperconectado do  
10 século XXI. É preciso exibir-se constantemente, sempre na melhor pose possível. Não basta  
11 estar, eventualmente, feliz e desfrutando férias, jantando em um bistrô em Paris ou viajando em  
12 um cruzeiro de luxo. É necessário que muita gente saiba disso – e, de preferência, inveje tal  
13 privilégio. O espetáculo, escreve Debord, é uma relação social mediada por imagens que, por sua  
14 circulação, acabam por “dominar a vida”. A qualidade da inserção social do sujeito passa a ser  
15 medida pelas imagens que ele consegue produzir e divulgar.

16 Hoje, para o viajante, talvez importe menos o prazer de conhecer lugares novos do que o  
17 gostinho de provocar inveja nos amigos. Daí a sanha de registrar, em fotografias e vídeos,  
18 momentos supostamente maravilhosos e divulgá-los rapidamente nas redes sociais, ou enviá-  
19 los para incontáveis grupos de *WhatsApp*. Debord não poderia prever o que viria a ser o poder dos  
20 telefones celulares nas novas configurações da sociedade do espetáculo. Com um singelo  
21 aparelho de comunicação em mãos, as pessoas criam autoficções que lhes conferem prestígio  
22 diante dos outros.

23 Podemos supor, além disso, uma relação entre a predominância da imagem sobre o  
24 pensamento e o declínio das narrativas – tão caras ao meu filósofo favorito, Walter Benjamin.  
25 Quem ainda quer ouvir relatos interessantes, se estes podem ser substituídos por fotos e vídeos?  
26 Penso que o interesse genuíno em adquirir novos conhecimentos ao viajar, ou mesmo em ampliar  
27 a compreensão do mundo em que vivemos, tem sido facilmente substituído pelos efeitos  
28 fetichistas de divulgar, o máximo possível, imagens de lugares paradisíacos, restaurantes  
29 caríssimos, festas de arromba.

30 Outro aspecto que Debord não teria como prever é que essa hiperexposição de cenas banais  
31 do cotidiano se transformaria em um grande negócio, à medida que as plataformas digitais  
32 passaram a monetizar as publicações dos usuários com maior alcance. Hoje, grande parte dos

33 jovens nutre a ilusão de alcançar fama e fortuna por meio desse espetáculo. E não tardaram a  
34 surgir empresários inescrupulosos, dispostos a explorar a imagem de crianças e adolescentes  
35 nas redes sociais. Como denunciou recentemente o *youtuber* Felipe Bressanim Pereira,  
36 conhecido como Felca, há de tudo um pouco nesse terreno pantanoso: de programas de  
37 entrevistas conduzidos por versões mirins de *coaches* de empreendedorismo a *reality shows*  
38 protagonizados por menores, nos quais eles participam de festas com bebidas alcoólicas, usam  
39 roupas provocativas e executam danças sensuais – um prato cheio para os pedófilos e  
40 predadores sexuais.

41 Nesse cenário, alguns pais talvez não se deem conta de que, ao buscar seus 15 minutos de  
42 fama e alguns *likes*, acabam expondo seus bebês fofinhos a adultos perversos que habitam os  
43 ambientes digitais. Outros, como denunciou Felca, parecem não se importar em ganhar alguns  
44 trocados com a exposição dos próprios filhos – mesmo em contextos que violam a dignidade de  
45 crianças e adolescentes.

46 Observem o paradoxo: justamente ali, nas situações em que a vida parece, aos olhos dos  
47 outros, mais vibrante e interessante, é onde ela acaba por ser mais aviltada. Sim, aviltada. Pois é  
48 quando o contato com o mundo deixa de ser uma fonte de experiência e passa a ser apenas uma  
49 oportunidade de exibicionismo. Perde-se, na acepção de Walter Benjamin, um elemento  
50 precioso em nossa tarefa de criar sentidos para a vida. Perde-se a capacidade de transformar o  
51 fato em narrativa e a vivência em experiência. O vazio que advém da sanha por vivências que não  
52 se convertem em experiência talvez ajude a explicar a violência que constantemente ameaça o  
53 laço social.

Fonte: publicado na edição nº 1377 de Carta Capital, em 03 de setembro de 2025.

## QUESTÃO 1

Leia as proposições extraídas do texto:

- I. “Os “15 minutos de fama” que todos deveriam experimentar uma vez na vida, na visão idílica de Andy Warhol, tornaram-se insuficientes para quem vive neste mundo hiperconectado do século XXI” (linhas 8 a 10).
- II. “Observem o paradoxo: justamente ali, nas situações em que a vida parece, aos olhos dos outros, mais vibrante e interessante, é onde ela acaba por ser mais aviltada” (linhas 46 e 47).
- III. “O vazio que advém da sanha por vivências que não se convertem em experiência talvez ajude a explicar a violência que constantemente ameaça o laço social” (linhas 51 a 53).

Todas as alternativas apresentam termos que substituem os vocábulos destacados, nas proposições I, II e III, respectivamente, sem prejuízo de sentido, considerando o contexto em que aparecem, **EXCETO**:

- (A) Idealizada - humilhada - loucura.
- (B) Utópica - depreciada - paixão.
- (C) Bucólica - negociada - raiva.
- (D) Fantasiosa - desmoralizada - compulsão.

**QUESTÃO 2**

No texto “A sociedade do espetáculo”, a autora apresenta o seu posicionamento sobre o tema dos usos das redes sociais. Estão de acordo com o texto, **EXCETO**:

- (A) A autora responsabiliza as plataformas digitais pela superexposição de crianças, pois, ao estimularem a monetização, contribuem para a vulnerabilização de menores nas mídias.
- (B) A autora alinha-se ao pensamento de Debord, o qual critica o comportamento atual dos jovens nas redes sociais, em busca de engajamento e enriquecimento.
- (C) A autora critica a superexposição e argumenta que as mídias sociais possibilitam a criação de autoficções ilusórias.
- (D) A autora converge com o pensamento de Felipe Bressanim Pereira, que sinaliza os riscos da hiperexposição de crianças e adolescentes com vistas a se alcançar vantagem monetária.

**QUESTÃO 3**

“Observem o paradoxo: justamente ali, nas situações em que a vida parece, aos olhos dos outros, mais vibrante e interessante, é onde ela acaba por ser mais aviltada” (linhas 46 e 47). O paradoxo apresentado pela autora pode ser observado em todas as alternativas, **EXCETO**:

- (A) A alienação daqueles que postam imagens irreais em contraposição ao poder aquisitivo real.
- (B) A exposição de menores em mídias digitais em contraposição à necessidade de protegê-los.
- (C) A exibição exacerbada de fatos vividos em contraposição à vivência efetiva dessas experiências.
- (D) A sanha exibicionista de usuários das redes sociais em contraposição ao vazio individual.

**QUESTÃO 4**

Em um texto de opinião, o autor utiliza procedimentos/recursos argumentativos para convencer o leitor sobre o tema/assunto tratado. Um dos recursos utilizados é a intertextualidade – diálogo entre textos.

Leia as afirmações a seguir sobre as relações intertextuais estabelecidas e assinale a que **NÃO** encontra respaldo no texto:

- (A) Ao citar o texto de Guy Debord, a autora constrói a base para argumentar que alguns usuários priorizam a construção da imagem nas mídias sociais como autopromoção.
- (B) Ao apresentar o pensamento de Andy Warhol sobre os 15 minutos de fama, a autora evidencia que a internet e a conexão contínua já parametrizam de forma diferente esse tempo de fama.
- (C) Ao mencionar o *youtuber* Felipe Bressanim Pereira, a autora problematiza o comportamento dos pais que, sob diferentes motivações, expõem os filhos nas mídias sociais.
- (D) Ao trazer o filósofo Walter Benjamin, a autora argumenta sobre a relevância de registrar e de divulgar experiências de vida nas mídias sociais, como uma forma de criar sentido para a vida.

**INSTRUÇÕES:** Leia o Texto 2 para responder às questões 5 a 8**TEXTO 2****Vidas secas, vidas apagadas**

Sergio Andrade

1 Pobreza energética, expressa na dependência de lenha e carvão para cozinhar, não é  
2 apenas questão de renda, mas de falta de acesso à saúde e à dignidade.

3 "Ainda na véspera eram seis viventes, contando com o papagaio. Resistiram à fraqueza,  
4 afastaram-se envergonhados, sem ânimo de afrontar de novo a luz dura." A imagem de Graciliano  
5 Ramos em "Vidas Secas" descreve mais do que uma estiagem física. Fala da escassez que seca  
6 por dentro: o tempo, o futuro, a esperança.

7 É essa mesma luz dura que enfrentam milhões de brasileiros que ainda cozinham com  
8 lenha ou carvão. Segundo a pesquisa "Pobreza energética e transição justa - Usos de carvão e  
9 lenha para cocção no Brasil", organizada pela Plataforma de Transição Justa e pela Agenda  
10 Pública, mais de 12 milhões de domicílios usam biomassa como alternativa ou sua única fonte  
11 de energia para cozinhar.

12 Isso afeta, sobretudo, mulheres - na cidade, no campo, em ocupações diversas, em  
13 jornadas longas. São elas que mantêm o fogo aceso, por necessidade, quase sempre sem  
14 alternativa.

15 A pesquisa, construída a partir da compilação de bancos de dados públicos, entrevistas  
16 com especialistas e escutas com usuárias de lenha, revela vidas marcadas por escolhas difíceis:  
17 Dona Maria, 62, caminha com os netos para recolher lenha três vezes por semana.

18 Jéssica, mãe solo na Amazônia, improvisa um fogão de barro para economizar gás. Sueli,  
19 marisqueira, divide o tempo entre o trabalho e o cuidado com a mãe doente, recorrendo à lenha  
20 como pode. São relatos que evidenciam uma pobreza que não se mede só pela renda, mas por  
21 tudo o que falta: saúde, tempo, acesso, voz.

22 Há programas públicos importantes. [...] Mas, como mostra a pesquisa, o desenho dessas  
23 políticas nem sempre considera o peso do gás de cozinha no orçamento das famílias.

24 Muitas mulheres relatam a necessidade de escolher entre comprar um botijão ou garantir  
25 material escolar, comida ou internet para os filhos. A política existe, mas quando o recurso não  
26 cobre o custo real do preparo dos alimentos, o resultado é um sofrimento evitável.

27 É nesse contexto que o conceito de transição justa ganha relevância. Ele nos convida a  
28 pensar a mudança energética como oportunidade de inclusão - e não apenas de substituição de  
29 fontes. Se bem desenhada, a transição pode ampliar o acesso à energia limpa e segura, aliviar a  
30 sobrecarga feminina, reduzir desigualdades regionais e valorizar soluções descentralizadas,  
31 simples, eficazes.

32 A chamada "cocção limpa", promovida internacionalmente, é uma dessas metas: fogões  
33 eficientes, eletrificação de qualidade, gás acessível.

34 Cozinhar deveria ser um gesto cotidiano, tranquilo, sem fumaça, sem culpa. Para milhões,  
35 é um cálculo permanente. Reduzir essa tensão exige um olhar mais atento ao desenho das  
36 políticas e à realidade de quem, literalmente, enfrenta intempéries para acender o fogo de todos  
37 os dias. Daí a importância da focalização dos programas sociais em quem mais precisa, [...] ou  
38 das diretrizes de inclusão e combate à pobreza energética [...].

39 Do universo de "Vidas Secas", ainda hoje sobressaem vidas apagadas pelo esforço de  
40 existir em silêncio, uma linha tênue entre a espera e o desalento. Mas não há destino inevitável.

41 Quando as políticas acertam o foco, o fogo muda de natureza: deixa de consumir e passa a  
42 nutrir. A transição energética de que o país precisa começa, literalmente, pelo fogão.

Fonte: <https://www1.folha.uol.com.br/colunas/papo-de-resposta/2025/08/vidas-secas-vidas-apagadas.shtml>.  
(Adaptado). Acesso em: 25 ago. 2025.

**QUESTÃO 5**

Assinale a alternativa que explicita adequadamente o objetivo comunicativo do texto lido:

- (A) Destacar a resiliência de mulheres que utilizam fogão à lenha para o preparo dos alimentos, evocando a necessidade de políticas públicas para combater a pobreza energética que afeta populações vulneráveis.
- (B) Evidenciar a necessidade de direcionamento das políticas públicas voltadas à transição energética, com foco especial na população de baixa renda que ainda depende de lenha ou carvão para o preparo dos alimentos, promovendo inclusão e justiça social.
- (C) Apresentar dados estatísticos e análises técnicas sobre a situação da seca no Brasil, enfatizando que as condições enfrentadas pelas populações vulneráveis se assemelham às dificuldades retratadas na obra “Vidas Secas”.
- (D) Defender políticas agrárias inovadoras como solução eficaz frente à estiagem, suprimindo o uso de biomassa como alternativa ou fonte única de energia para o preparo da alimentação.

**QUESTÃO 6**

O título do texto “Vidas secas, vidas apagadas” cumpre papel fundamental na orientação da leitura e no processo de produção de sentidos. Esse título

- (A) faz alusão à situação pelos personagens da obra literária *Vidas Secas*, evidenciando que a estiagem física sofrida pelo povo do sertão nordestino está associada ao abandono institucional, histórico e social, resultando em invisibilidade e exclusão.
- (B) explicita as condições precárias de mulheres que utilizam lenha e carvão para preparar os alimentos, demonstrando que elas são ignoradas por parte das políticas públicas governamentais.
- (C) estabelece uma comparação entre a seca retratada na obra literária “Vidas Secas” e a situação atual de milhões de brasileiros, explicitando que a falta de políticas públicas relacionadas à questão energética afeta a qualidade de vida.
- (D) indica que o apagamento social das populações é um tema que está intrinsecamente relacionado às questões de gênero, denotando que a transição energética pode mudar vidas.

**QUESTÃO 7**

Leia o excerto retirado do texto: “Quando as políticas acertam o foco, o fogo muda de natureza: deixa de consumir e passa a nutrir. A transição energética de que o país precisa começa, literalmente, pelo fogão.” (linhas 41 e 42). Assinale a alternativa, cuja análise permite realizar uma inferência adequada à proposta de sentido do texto:


- (A) A eficácia das políticas públicas voltadas para a transição energética está relacionada ao atendimento pleno das famílias de baixa renda que vivem em contextos de seca, principalmente, das regiões do sertão nordestino.
- (B) O foco no fogão como símbolo da transição energética indica que a aquisição de fogões, por parte dos governos, é suficiente para resolver plenamente os problemas das mulheres que utilizam lenha e carvão para o preparo dos alimentos.
- (C) A existência de políticas públicas voltadas para a transição energética adequadas pode transformar uma realidade social, marcada pela escassez e pela insuficiência energética, em um contexto de cuidado, saúde e inclusão social, se considerar os desafios vividos por grupos historicamente invisibilizados.
- (D) O uso da expressão “literalmente, pelo fogão” nega qualquer possibilidade de sentido figurado ou ampliado, limitando as consequências da transição energética apenas ao ambiente doméstico e à economia privada.

**QUESTÃO 8**

Leia atentamente o excerto: “Do universo de ‘Vidas Secas’, ainda hoje sobressaem vidas apagadas pelo esforço de existir em silêncio, uma linha tênue entre a espera e o desalento. Mas não há destino inevitável.” (linhas 39 e 40). A partir desse excerto, infere-se que:

- (A) A articulação da obra “Vidas Secas” com a realidade atual evidencia a persistência do sofrimento e da invisibilidade social, ressaltando a necessidade de um deslocamento da ideia de fatalismo para a busca de transformação social.
- (B) O texto enfatiza o caráter determinista da existência de um determinado grupo social, sugerindo que o silêncio e o desalento são consequências inevitáveis das condições históricas e sociais.
- (C) O uso da expressão “vidas apagadas” estabelece uma referência literal às personagens da obra de Graciliano Ramos, destacando a falta de voz dessas figuras no contexto literário do passado.
- (D) O contraponto entre esperança e desânimo reforça que, em função das condições adversas, as populações afetadas possuem baixa escolarização, dificultando a reivindicação dos direitos que garantem o acesso às políticas públicas.

**INSTRUÇÕES:** Leia o Texto 3 para responder às questões 9 a 10

**TEXTO 3**

Fonte: <https://blogdoaftm.com.br/charge-inteligencia-artificial-pode-extinguir-diversas-profissoes/>. (Adaptado). Acesso em: 25 ago. 2025.

**QUESTÃO 9**

Considere o excerto: “Inteligência artificial pode extinguir diversas profissões no futuro...” e analise as assertivas:

I - A ausência de artigo definido confere estilo mais direto e uma generalização em relação ao agente da ação (qualquer inteligência artificial e não um tipo específico), alinhando-se ao padrão utilizado em títulos e manchetes de textos jornalísticos.

II - O uso do modalizador “pode” confere um tom de possibilidade em relação à transformação tecnológica aludida, evitando uma responsabilização por parte do locutor perante a afirmação dada como um fato que será efetivamente consumado.

III - O emprego das reticências serve ao propósito de aproximar o texto de um estilo coloquial, denotando uma ideia de dúvida por parte do locutor em relação ao enunciado apresentado.

IV - A escolha lexical pela locução verbal “pode extinguir” reforça a ideia de desaparecimento radical e definitivo de diversas profissões, gerando uma incoerência entre a radicalidade do enunciado (verbo “extinguir”) e a incerteza inerente à modalização (verbo “poder”).

Assinale a alternativa **CORRETA**:

- (A) Apenas as assertivas I e II estão corretas.
- (B) Apenas as assertivas II e III estão corretas.
- (C) Apenas as assertivas III e IV estão corretas.
- (D) Apenas as assertivas I e IV estão corretas.

**QUESTÃO 10**

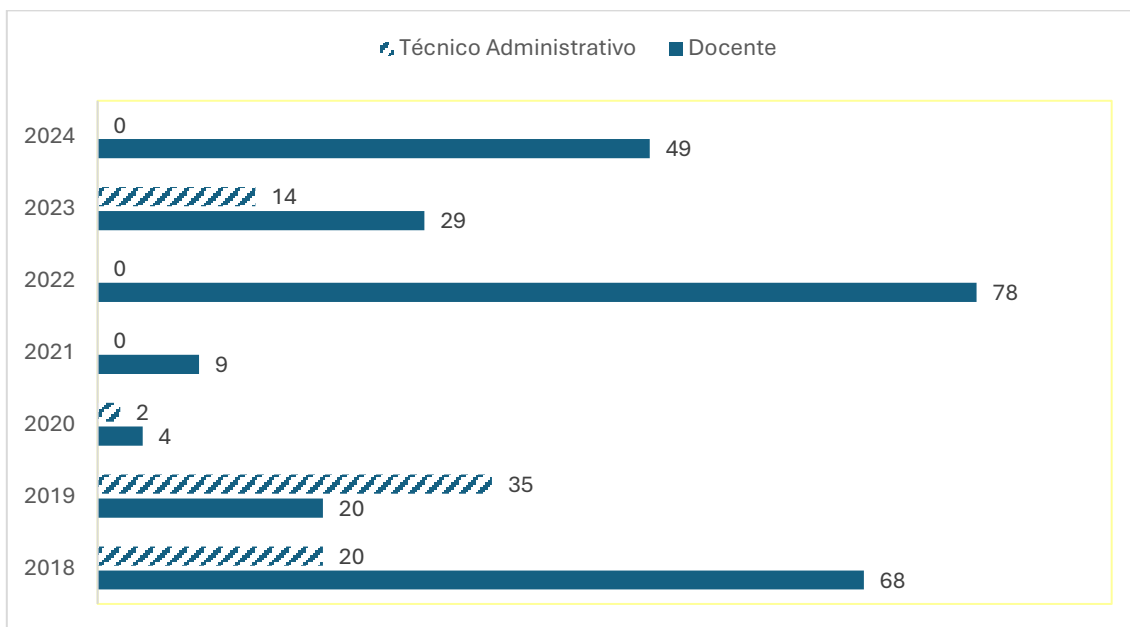
Sobre os potenciais efeitos de sentido construídos pelos elementos visuais e verbais na charge, assinale a alternativa **CORRETA**:

- (A) A reação das personagens humanas, de apatia e indiferença, indica que o impacto da inteligência artificial é benéfico para a evolução da sociedade.
- (B) A comparação entre dinossauros e humanos diante do meteorito sugere que a inteligência artificial é vista como um avanço inerente à evolução da humanidade.
- (C) O meteorito com a sigla "IA" simboliza um elemento externo disruptivo, sugerindo que a inteligência artificial pode representar uma ameaça de extinção semelhante à ocorrida com os dinossauros.
- (D) A charge reforça um discurso alarmista e irresponsável, pautado na especulação de que profissões humanas deixarão de existir devido à IA, sem base científica ou estudo técnico.

**MATEMÁTICA (QUESTÕES 11 A 20)**

**QUESTÃO 11**

O gráfico a seguir apresenta o quantitativo de vagas em concursos da UFLA para provimento efetivo nos cargos de docente e de técnico administrativo no período de 2018 a 2024.



Considerando o total de vagas em ambos os cargos, nesse período, a porcentagem de vagas para técnicos administrativos foi

- (A) entre 20% e 30%
- (B) entre 34% e 44%
- (C) entre 40% e 50%
- (D) entre 45% e 55%

**QUESTÃO 12**

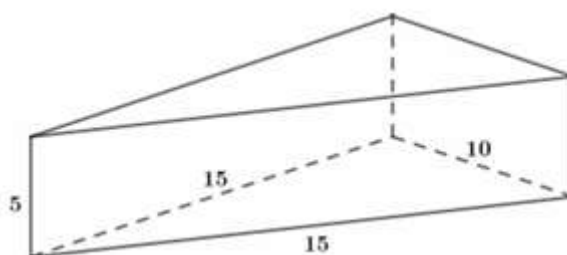
A função preço é uma função afim  $p(x) = ax + b$ , em que  $x$  indica o número de produtos vendidos e  $p(x)$  o preço de cada unidade. A função receita é dada por  $R(x) = xp(x)$ . Uma loja vende, semanalmente, 50 unidades de certo aparelho eletrônico por R\$ 200,00 cada. Uma pesquisa de mercado mostrou que, para cada R\$ 10,00 de desconto no preço de venda do aparelho, o número de aparelhos vendidos por semana aumenta em 10 unidades.

Calcule o preço de venda desse aparelho eletrônico para que a receita seja máxima. Marque a alternativa **CORRETA**:

- (A) R\$ 95,00
- (B) R\$ 105,00
- (C) R\$ 115,00
- (D) R\$ 125,00

**QUESTÃO 13**

Uma embalagem feita de papelão tem o formato de um prisma reto de base triangular, cujas medidas estão apresentadas na figura, a seguir:



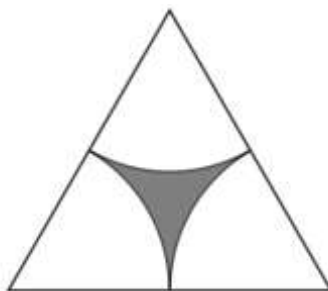
Considerando que as abas adicionais necessárias para a colagem e fechamento da embalagem não estão representadas na figura e que será necessário um acréscimo de 10% da área total do prisma de papelão para esses recortes, calcule o total de papelão necessário para cada embalagem, utilizando a aproximação  $\sqrt{2} \cong 1,4$ .

Assinale a alternativa **CORRETA**:

- (A)  $340 \text{ cm}^2$
- (B)  $354 \text{ cm}^2$
- (C)  $374 \text{ cm}^2$
- (D)  $390 \text{ cm}^2$

**QUESTÃO 14**

A figura, a seguir, foi desenhada usando um triângulo equilátero de lado  $x$  e três setores circulares idênticos cujo raio é a metade de  $x$  e os centros são os vértices do triângulo.

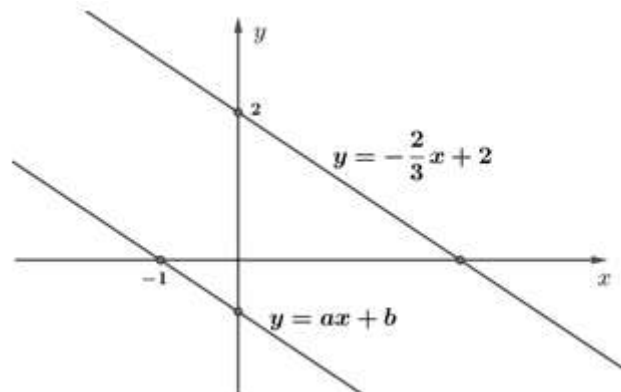


A medida da área da região cinza, em função de  $x$ , é:

- (A)  $\frac{(\pi - \sqrt{3})x^2}{4}$
- (B)  $\frac{(2\sqrt{3} - \pi)x^2}{4}$
- (C)  $\frac{(\pi - \sqrt{3})x^2}{8}$
- (D)  $\frac{(2\sqrt{3} - \pi)x^2}{8}$

### QUESTÃO 15

As equações  $y = -\frac{2}{3}x + 2$  e  $y = ax + b$  representam as retas paralelas da figura, a seguir:



A razão entre os números  $a$  e  $b$  é:

- (A) -1
- (B) 1
- (C) -1/3
- (D) 2/3

### QUESTÃO 16

A Universidade Federal de Lavras (UFLA) receberá 120 novos estudantes nos cursos de Agronomia, Biologia e Ciência da Computação.

- Se somarmos o total de estudantes de Agronomia com o dobro do total de estudantes da Biologia e subtrairmos o total de estudantes da Ciência da Computação, teremos um total de 100 estudantes.
- Se somarmos o total de estudantes da Agronomia com o triplo do total de estudantes da Ciência da Computação e subtrairmos o total de estudantes da Biologia, teremos um total de 80 estudantes.

A multiplicação do total de estudantes ingressantes nos três cursos é igual a:

- (A) 48.000
- (B) 64.000
- (C) 96.000
- (D) 112.000

### QUESTÃO 17

Jurandir decidiu comprar uma impressora, cujo preço estava sendo anunciado por R\$ 1.300,00. Para pagamento por PIX, a loja dava um desconto de 7%, e por isso Jurandir decidiu pagar usando o PIX. Após dois meses de uso, ele resolveu vender a impressora para seu amigo Pedro, por 90% do valor pago.

É **CORRETO** afirmar que Pedro pagou pela impressora

- (A) R\$ 1.079,30
- (B) R\$ 1.088,10
- (C) R\$ 1.170,00
- (D) R\$ 1.261,20

**QUESTÃO 18**

Em uma certa manhã, no posto de saúde PSF1, foram realizados quatro tipos de procedimentos e cada procedimento foi realizado, no máximo, uma vez em cada pessoa. A tabela, a seguir, apresenta os procedimentos e o número de pessoas que realizaram cada procedimento:

Procedimentos	Número de pessoas
I: Aferição de temperatura	9
II: Aferição do nível de oxigenação	4
III: Aferição de pressão arterial	11
IV: Vacinação	X

Sabendo que:

- pessoas que vacinaram não fizeram nenhum outro procedimento;
- 3 pessoas passaram pelos procedimentos I, II e III;
- 4 pessoas passaram por I e II;
- 5 pessoas passaram por I e III;
- 20 pessoas passaram pelo PSF1, e todas realizaram, pelo menos, um procedimento.

Com base nas informações, o valor de X, mencionado na tabela, é:

- (A) 4
- (B) 5
- (C) 6
- (D) 7

**QUESTÃO 19**

Sabendo que  $x$  é um número natural que satisfaz às seguintes condições:

- $x$  é divisível por 5
- $\text{mdc}(x, 42) = 3$
- $\text{mmc}(x, 30) = 90$

É **CORRETO** afirmar que:

- (A) 7 divide  $x$
- (B) 2 divide  $x$
- (C)  $30 \leq x \leq 42$
- (D)  $x \geq 42$

<b>QUESTÃO 20</b>
-------------------

Manuela irá fazer um curso na UFLA, que terá início às 13h e terminará às 17h. Saindo do Jardim Glória, bairro em que Manuela mora, há duas formas de chegar à UFLA, por meio do transporte público:

- Trajeto único: Jardim Glória – UFLA
- Trajeto duplo: Jardim Glória – Centro; e Centro – UFLA.

Considere que os trajetos Jardim Glória – Centro e Centro - UFLA duram 15 minutos cada, e o trajeto Jardim Glória – UFLA dura 25 minutos. Considere, ainda, os horários do transporte público disponibilizados na tabela

HORÁRIO	JARDIM GLÓRIA - CENTRO	CENTRO - UFLA	JARDIM GLÓRIA - UFLA
7h	x	x	
8h		x	x
9h		x	
10h	x	x	
11h		x	x
12h		x	
13h	x	x	x
14h		x	
15h	x	x	
16h		x	
17h	x	x	

Calcule o número de maneiras possíveis de Manuela usar o transporte público para ir do Jardim Glória para UFLA para participar do curso e marque a alternativa **CORRETA**:

- (A) 2
- (B) 9
- (C) 10
- (D) 14

## LEGISLAÇÃO (QUESTÕES 21 A 35)

### QUESTÃO 21

Sobre o tratamento de dados pessoais sensíveis, regulado pela Lei Geral de Proteção de Dados (Lei n. 13.709, de 2018), assinale a alternativa **CORRETA**:

- (A) Os dados pessoais sensíveis consistem em informações vinculadas a pessoa física ou jurídica, cujo tratamento possa acarretar prejuízos patrimoniais ao titular.
- (B) O consentimento do titular para tratamento de dados pessoais sensíveis pode ser dado de qualquer forma, desde que inequívoco, podendo se destinar a finalidades específicas ou genéricas.
- (C) O tratamento de dados pessoais sensíveis poderá ocorrer independentemente do fornecimento de consentimento do titular quando indispensável para a realização de estudos por órgãos de pesquisa, garantida, sempre que possível, a sua anonimização.
- (D) O tratamento de dados pessoais sensíveis pela administração pública, para a execução de políticas públicas previstas em lei ou regulamento, depende de consentimento do titular.

### QUESTÃO 22

A Lei Geral de Proteção de Dados - LGPD (Lei n. 13.709, de 2018) traz um rol de princípios a serem observados nas atividades de tratamento de dados pessoais. Associe os princípios listados na Coluna I com suas respectivas definições, listadas na Coluna II:

#### COLUNA I

1. Finalidade
2. Prevenção
3. Segurança
4. Necessidade
5. Adequação

#### COLUNA II

- ( ) limitação do tratamento ao mínimo necessário para a realização de suas finalidades, com abrangência dos dados pertinentes, proporcionais e não excessivos em relação às finalidades do tratamento de dados.
- ( ) realização do tratamento para propósitos legítimos, específicos, explícitos e informados ao titular, sem possibilidade de tratamento posterior de forma incompatível com tais propósitos.
- ( ) compatibilidade do tratamento com as finalidades informadas ao titular, de acordo com o contexto do tratamento.
- ( ) utilização de medidas técnicas e administrativas aptas a proteger os dados pessoais de acessos não autorizados e de situações acidentais ou ilícitas de destruição, perda, alteração, comunicação ou difusão.
- ( ) adoção de medidas para evitar a ocorrência de danos em virtude do tratamento de dados pessoais.

Assinale, a seguir, a alternativa que corresponde à adequada correlação do princípio com sua definição legal:

- (A) 2, 3, 1, 5, 4.
- (B) 3, 2, 1, 5, 4.
- (C) 5, 4, 3, 2, 1.
- (D) 4, 1, 5, 3, 2.

**QUESTÃO 23**

Conforme a organização da educação nacional, prevista na Lei de Diretrizes e Bases da Educação Nacional (Lei n. 9.394, de 1996), assinale a alternativa correspondente a uma das atribuições da União:

- (A) Baixar normas gerais sobre cursos de graduação e pós-graduação.
- (B) Assegurar o ensino fundamental e oferecer, com prioridade, o ensino médio.
- (C) Oferecer a educação infantil em creches e pré-escolas e, com prioridade, o ensino fundamental.
- (D) Assumir o transporte escolar de alunos dos sistemas estadual e municipal.

**QUESTÃO 24**

A Lei de Diretrizes e Bases da Educação Nacional (Lei n. 9.394, de 1996) traz em sua redação os princípios com base nos quais o ensino será ministrado em todo o território nacional. Avalie as assertivas a seguir:

1. Liberdade de aprender e ensinar.
2. Gratuidade do ensino público em estabelecimentos oficiais.
3. Matrícula obrigatória na disciplina ensino religioso em escolas públicas.

Assinale a alternativa que retrata as assertivas que correspondem a princípios previstos na Lei de Diretrizes e Bases da Educação Nacional:

- (A) 1 e 3.
- (B) 1 e 2.
- (C) 2 e 3.
- (D) 1, 2 e 3.

**QUESTÃO 25**

De acordo com o Decreto nº 1.171/1994, que aprovou o Código de Ética Profissional do Servidor Público Civil do Poder Executivo Federal, são vedadas as seguintes condutas ao servidor público, **EXCETO**:

- (A) Deixar de utilizar os avanços técnicos e científicos ao seu alcance para atendimento do seu mister.
- (B) Representar contra qualquer comprometimento indevido da estrutura em que se funda o Poder Estatal, em desrespeito à hierarquia funcional.
- (C) Retirar da repartição pública, sem estar legalmente autorizado, livro pertencente ao patrimônio público.
- (D) Apresentar-se habitualmente embriagado, mesmo que apenas fora do serviço.

**QUESTÃO 26**

Considerando os aspectos técnicos da matéria, a Lei de Acesso à Informação, Lei n. 12.527, de 2011, traz em suas disposições normativas, definições legais de termos relevantes para operacionalizar a sua aplicação. Associe corretamente os termos listados na Coluna I às respectivas definições legais, listadas da Coluna II:

**COLUNA I**

1. Autenticidade
2. Primariedade
3. Disponibilidade
4. Integridade

**COLUNA II**

- ( ) qualidade da informação que pode ser conhecida e utilizada por indivíduos, equipamentos ou sistemas autorizados.
- ( ) qualidade da informação que tenha sido produzida, expedida, recebida ou modificada por determinado indivíduo, equipamento ou sistema.
- ( ) qualidade da informação não modificada, inclusive quanto à origem, trânsito e destino.
- ( ) qualidade da informação coletada na fonte, com o máximo de detalhamento possível, sem modificações.

Assinale a alternativa que apresenta a sequência **CORRETA**:

- (A) 2, 1, 3 e 4.
- (B) 3, 4, 2 e 1.
- (C) 2, 1, 4 e 3.
- (D) 3, 1, 4 e 2.

**QUESTÃO 27**

O processo administrativo federal possui as seguintes fases: instauração, instrução, relatório, defesa e decisão. Com relação ao trâmite processual, assinale a alternativa **CORRETA**:

- (A) Ao administrado cabe o dever de produzir todas as provas necessárias ao convencimento da autoridade, sendo vedada à Administração a iniciativa de determinar diligências probatórias.
- (B) Atos administrativos que dispensem ou declarem a inexigibilidade de processos licitatórios prescindem de motivação.
- (C) O órgão competente para decidir o recurso poderá confirmar, modificar, anular ou revogar a decisão recorrida.
- (D) Os atos que apresentem defeitos sanáveis não poderão ser convalidados, ainda que em decisão administrativa em que se evidencie a ausência de lesão ao interesse público e a ausência de prejuízo a terceiros.

**QUESTÃO 28**

Analise as situações hipotéticas, a seguir descritas, considerando a Lei n. 9.784, de 1999.

- I. Ao conferir o conteúdo de um requerimento feito por um discente à Pró-Reitoria de Pesquisa, o servidor responsável recusou o seu recebimento por ausência de alguns dados. Nesse caso, a atuação foi equivocada, vez que é vedado à administração a recusa imotivada do documento, cabendo ao servidor orientar o discente a corrigir as falhas.
- II. Ao receber de um discente uma solicitação oral de uma Bolsa Institucional uma servidora lotada na Pró-Reitoria de Apoio à Permanência Estudantil inadmitiu o requerimento. Nesse caso, a servidora agiu corretamente, vez que o requerimento inicial do interessado deve ser formulado por escrito, salvo os casos em que for aceita solicitação oral, o que a norma da Pró-Reitoria não previa.
- III. Ao analisar uma situação que necessitava de providências imediatas, um servidor que atua na Pró-Reitoria de Graduação decide instaurar processo administrativo de ofício. Nesse caso, sua atuação foi incorreta, pois a instauração de processos administrativos deve ocorrer mediante requerimento do interessado, sendo proibida a atuação espontânea da administração.

Assinale a alternativa **CORRETA**:

- (A) As situações hipotéticas I, II e III estão corretas.
- (B) As situações hipotéticas I e II estão corretas.
- (C) As situações hipotéticas I e III estão corretas.
- (D) As situações hipotéticas II e III estão corretas.

**QUESTÃO 29**

Além do vencimento, poderão ser pagas ao servidor vantagens pecuniárias, como indenizações, gratificações e adicionais. Sobre tais vantagens, analise as afirmativas abaixo considerando a Lei n. 8.112, de 1990.

- I. As indenizações incorporam-se ao vencimento ou provento para qualquer efeito.
- II. As gratificações incorporam-se ao vencimento ou provento, nos casos e condições indicados em lei.
- III. Os adicionais não se incorporam ao vencimento ou provento para qualquer efeito.
- IV. As vantagens pecuniárias serão computadas e acumuladas, para efeito de concessão de outros acréscimos pecuniários ulteriores sob o mesmo título.

Assinale a alternativa **CORRETA**:

- (A) Está correta apenas a afirmativa III.
- (B) Estão corretas apenas as afirmativas I e IV.
- (C) Estão corretas apenas as afirmativas I e II.
- (D) Está correta apenas a afirmativa II.

**QUESTÃO 30**

Sobre os atos que estão sujeitos à Lei de Improbidade Administrativa (Lei n. 8.429, de 1992) e sua aplicação, assinale a alternativa **CORRETA**.

- (A) O servidor público, que dispensar indevidamente processo licitatório, responderá por improbidade administrativa, caso a conduta dolosa e a perda patrimonial sejam comprovadas.
- (B) Os atos de improbidade que atentem contra princípios, para serem sancionados, dependem do reconhecimento da produção de dano ao erário e de enriquecimento ilícito dos agentes públicos.
- (C) A lei de improbidade administrativa tem sua aplicação limitada aos agentes públicos, não alcançando terceiros que concorram na conduta improba.
- (D) Ainda que a inobservância de formalidades legais ou regulamentares não implique perda patrimonial efetiva, haverá a necessidade de imposição de ressarcimento.

**QUESTÃO 31**

A Lei n 14.133, de 2021 prevê as hipóteses de contratação direta pela administração pública. Segundo essa lei, são casos de dispensa de licitação, **EXCETO**.

- (A) A manutenção de um dos ônibus da UFLA no valor de R\$10.000,00 (dez mil reais).
- (B) A restauração de um objeto histórico, que faz parte da coleção principal do Museu Bi Moreira da UFLA.
- (C) A compra de insumos para os laboratórios de Química da UFLA, que são fornecidos por produtor exclusivo.
- (D) A compra de hortifrutigranjeiros, para o restaurante universitário da UFLA, no período necessário para a realização de procedimentos licitatórios correspondentes, hipótese em que a contratação será realizada diretamente pelo preço do dia.

**QUESTÃO 32**

Acerca da Administração direta, indireta e descentralizada, assinale a alternativa **CORRETA**.

- (A) A descentralização consiste na repartição de competências entre órgãos da administração pública.
- (B) A administração indireta é supervisionada pelo Ministro de Estado competente.
- (C) A administração pública indireta não engloba as autarquias e fundações públicas.
- (D) As entidades da administração pública indireta não possuem personalidade jurídica própria.

**QUESTÃO 33**

O artigo 5º da Constituição da República Federativa do Brasil de 1988 estabelece que todos são iguais perante a lei, sem distinção de qualquer natureza, garantindo-se aos brasileiros e aos estrangeiros residentes no País a inviolabilidade do direito à vida, à liberdade, à igualdade, à segurança e à propriedade. Sobre os direitos previstos nesse dispositivo constitucional, assinale a alternativa **CORRETA**.

- (A) O mandado de segurança pode ser impetrado para assegurar o conhecimento de informações relativas à pessoa do impetrante, constantes de registros de entidades governamentais.
- (B) Todos têm direito a receber dos órgãos públicos informações de seu interesse particular, ressalvadas aquelas, cujo sigilo seja imprescindível à segurança da sociedade e do Estado.
- (C) Todos podem reunir-se pacificamente, sem armas, em locais abertos ao público, desde que autorizado previamente por autoridade competente.
- (D) A expressão da atividade intelectual, artística, científica e de comunicação é livre, respeitadas as qualificações, censuras e licenças que a lei estabelecer.

**QUESTÃO 34**

A Constituição da República Federativa do Brasil de 1988 determina que a administração pública direta e indireta de quaisquer dos Poderes da União, dos Estados, do Distrito Federal e dos Municípios obedecerá aos princípios de legalidade, impessoalidade, moralidade, publicidade e eficiência. Sobre as disposições constitucionais relativas à administração pública, analise as afirmativas a seguir.

- I. A publicidade dos atos, obras e serviços dos órgãos públicos deverá ter caráter educativo, informativo ou de orientação social, dela não podendo constar nomes ou imagens que caracterizem promoção pessoal de autoridades ou servidores públicos.
- II. A investidura em cargo em comissão depende de aprovação prévia em concurso público de provas ou de provas e títulos, sendo inconstitucionais declarações em lei de livre nomeação e exoneração para tais cargos.
- III. A acumulação remunerada de cargos públicos de professor com outro técnico ou científico, ou de dois cargos de professor é permitida, contanto que respeite o teto constitucional remuneratório e haja compatibilidade de horários e de regimes.
- IV. Ressalvados os casos especificados na legislação, as obras, os serviços, as compras e as alienações serão contratados mediante decisão discricionária da autoridade competente, considerando os interesses econômicos do órgão ou repartição.

Assinale a alternativa **CORRETA**:

- (A) Estão corretas apenas as afirmativas I e III.
- (B) Estão corretas apenas as afirmativas II e III.
- (C) Estão corretas apenas as afirmativas I e IV.
- (D) Estão corretas apenas as afirmativas II e IV.

**QUESTÃO 35**

Analise a seguinte situação hipotética:

Roberto, servidor nomeado para cargo de provimento efetivo em virtude de concurso público, há dois anos, ouviu dizer por colegas que perderia seu cargo, pois a direção de seu órgão estava insatisfeita com seu desempenho e, ademais, o cargo que ocupava seria extinto. Indignado com as suposições dos colegas, Roberto afirmou que, de acordo com a Constituição da República Federativa do Brasil de 1988:

- I- por ser servidor nomeado, em razão de aprovação em concurso público e ter passado por avaliação especial de desempenho, ele gozava de estabilidade em seu cargo;
- II- o servidor público estável só perde o cargo em virtude de sentença judicial transitada em julgado, não havendo processo administrativo que culminasse na perda de seu cargo;
- III- se extinto o cargo, o servidor estável deveria ficar em disponibilidade, com remuneração proporcional ao tempo de serviço, até seu adequado aproveitamento em outro cargo;
- IV- o servidor público estável pode buscar a invalidação de sua demissão por sentença judicial, o que levaria, em caso de êxito, à reintegração do servidor.

Considerando as afirmações feitas por Roberto e as prescrições constitucionais, assinale a alternativa **CORRETA**:

- (A) Estão corretas as afirmações I e II.
- (B) Estão corretas as afirmações II e IV.
- (C) Estão corretas as afirmações I e III.
- (D) Estão corretas as afirmações III e IV.

**QUESTÕES ESPECÍFICAS (QUESTÕES 36 A 70)****QUESTÃO 36**

Considere a seguinte situação fictícia: Consulta agendada no ambulatório de pediatria. Bebê de 8 semanas de vida, com aleitamento materno exclusivo, crescimento adequado, com peso e altura no percentil 50 do gráfico de crescimento. A mãe está preocupada porque a criança estava resfriada na semana anterior, a mãe levou a criança à UPA, fizeram um hemograma da criança que mostrou hemoglobina 9,8 g/dL. Não há outras alterações na história clínica, foi realizado clampeamento do cordão umbilical em momento oportuno ao nascer.

Diante do quadro, assinale a alternativa **CORRETA**:

- (A) Orientar a mãe, pois trata-se de anemia fisiológica do lactente.
- (B) Iniciar ferro oral em dose profilática: 1 mg/kg de ferro elementar por dia.
- (C) Iniciar ferro oral em dose de tratamento: 5 mg/kg de ferro elementar por dia.
- (D) Suspender o leite de vaca da dieta da mãe pela possibilidade de alergia à proteína do leite de vaca.

**QUESTÃO 37**

Considere a seguinte situação fictícia: Criança de 11 meses de idade é levada à UPA com história de febre, cefaleia e vômitos de 2 dias de evolução. Todas as vacinas recomendadas pelo programa nacional de imunização foram aplicadas nas datas corretas. Teve uma crise convulsiva na sala de espera da UPA. Encontra-se com nível de consciência rebaixado, já tem fontanela anterior fechada e está com rigidez de nuca. Foi submetida a uma punção lombar e a análise do líquido mostrou líquido turvo, 1.000 células, proteinorraquia de 150 mg/dL, glicorraquia de 25 mg% (glicemia no momento da coleta: 142).

Diante desse caso, assinale a afirmativa **CORRETA**:

- (A) Como a criança está com as vacinas em dia, trata-se de uma meningite viral. Deve ser iniciado aciclovir endovenoso.
- (B) Mesmo com as vacinas em dia, o quadro clínico e os exames indicam uma meningite bacteriana. Deve ser iniciado antibiótico.
- (C) Como a criança está com as vacinas em dia, trata-se de crise convulsiva febril. Deve-se dar alta para a criança para observar o quadro em casa.
- (D) Mesmo com as vacinas em dia, o quadro clínico e os exames indicam uma meningite bacteriana. Deve-se aguardar o resultado das culturas para iniciar o antibiótico.

**QUESTÃO 38**

Considere a seguinte situação fictícia: Mãe leva o bebê com 7 semanas de vida em uma consulta de rotina. A mãe apresenta dúvidas sobre a imunização aos 2 meses de idade.

Assinale a alternativa **CORRETA**:

- (A) A mãe pode aproveitar que já saiu com o bebê de casa e fazer as vacinas de 2 meses de idade logo após a consulta.
- (B) Sempre que possível, aplicar a vacina Polissacarídica 23 valente aos 2 meses de idade, ao invés da VCP10.
- (C) As vacinas combinadas com difteria, tétano e coqueluche estão associadas a maior reatogenicidade devido ao componente tétano.
- (D) O uso de medicações analgésicas/antipiréticas pode ser feito se houver efeito colateral, não deve ser feito de maneira profilática.

**QUESTÃO 39**

Considere a seguinte situação fictícia: Lactente de 3 meses foi internado na UTI pediátrica. Está com o esquema vacinal em dia. Tem história de tosse de 14 dias de evolução, com piora progressiva nos últimos 4 dias. Os episódios de tosse são súbitos, acompanhados de cianose e frequentemente seguidos de vômitos e, em alguns episódios, seguidos de apnéia. Foi feito um hemograma que mostrou 35.000 leucócitos.

Diante desse quadro, marque a alternativa **CORRETA**:

- (A) Trata-se de um quadro de coqueluche. A baixa idade e a presença de cianose indicam a necessidade de internação.
- (B) Trata-se de um quadro de bronquiolite viral aguda. Por ser uma doença benigna, não há necessidade de internação.
- (C) Trata-se de uma pneumonia bacteriana. Está indicado o uso de ceftriaxona endovenosa.
- (D) Trata-se de um quadro de bronquiolite viral aguda. Está indicada internação e uso de corticoide sistêmico.

**QUESTÃO 40**

Considere a seguinte situação fictícia: Criança de 6 anos e 19 kg é levada à UPA com história de febre e choro persistente com 3 dias de evolução. Hoje apareceu um exantema no tronco. Não tem foco de infecção aparente e tem história de vizinhos com dengue. Tem exames com leucopenia e plaquetopenia. Não tem sinais de alarme ou sinais de dengue grave. Nesse caso, foi classificado com dengue Grupo A. A criança será liberada para casa com orientação de retorno. Considerando que a recomendação de hidratação compreende 1/3 de sais de reidratação oral e 2/3 de outros líquidos, qual a quantidade deve ser prescrita e qual é a condição para o retorno?

- (A) 1450 mL/dia de líquidos. Retorno para hemograma diário.
- (B) 1450 mL/dia de líquidos. Retorno apenas se sinais de alerta presentes.
- (C) 1900 mL/dia de líquidos. Retorno para hemograma diário.
- (D) 1900 mL/dia de líquidos. Retorno no 5º dia ou na defervescência.

**QUESTÃO 41**

Considere a seguinte situação fictícia: Criança de 6 anos é levada para consulta devido a “inchaço”. A mãe relata que está com as roupas apertando o corpo. A mãe traz um exame de urina (EAS) que mostra proteinúria importante (++++).

Qual é a melhor conduta no primeiro momento?

- (A) Solicitar exame de urina de 24 horas para avaliar a proteinúria de 24 horas, que é essencial para fechar o diagnóstico de síndrome nefrótica.
- (B) Prescrever o uso de diuréticos logo no início do quadro para reduzir o edema e melhorar a provável hipervolemia que causou todo o quadro.
- (C) Solicitar relação proteína/creatinina em amostra aleatória de urina; uma relação maior que 2 mg/mg, é indicativo de proteinúria nefrótica.
- (D) Prescrever antibiótico, há perda de imunoglobulina e risco aumentado para infecções; corticoides são contraindicados.

**QUESTÃO 42**

Considere a seguinte situação fictícia: Criança de 6 anos de idade é levada para consulta devido a edema e mal estar. Na avaliação clínica, tem estertores nas bases dos pulmões e está hipertenso (acima do p95 para a idade). Fez um exame de urina que mostrou hematúria importante. Na fisiopatologia da doença em questão, estão envolvidos os seguintes mecanismos:

- (A) Ativação do complemento, formação de imunocomplexos e depósito de C3.
- (B) Lesão primária dos podócitos, proteinúria maciça, hipoalbuminemia e edema.
- (C) Inflamação pulmonar difusa, com edema pulmonar não cardiogênico.
- (D) Presença de toxina shiga-like, causando dano endotelial, hemólise e trombocitopenia.

**QUESTÃO 43**

Em relação a infecções do trato urinário em pediatria, estão corretas as alternativas a seguir, **EXCETO**:

- (A) Lactentes podem ter um quadro clínico que não é específico, por vezes, apresentam apenas febre.
- (B) Por ser uma infecção simples, não há necessidade de antibióticos, apenas orientações para hidratação adequada.
- (C) Amostras colhidas por coletor não são adequadas para avaliação, mas podem ser úteis para descartar uma infecção.
- (D) Crianças acima de 3 meses, sem sinais de toxemia, em bom estado geral, capazes de receber hidratação oral, devem fazer tratamento ambulatorial.

**QUESTÃO 44**

Considere a seguinte situação fictícia: Criança de 8 anos, é levada para consulta de rotina. Tem história de tosse e sibilância recorrente. Faz uso quase diário de beta-2 agonista inalatório de curta ação nos episódios de tosse, com alívio dos sintomas. Não tem despertar noturno pela tosse habitualmente. Trouxe o resultado de uma espirometria, realizada com técnica adequada para a idade: VEF1 65% do previsto para a idade, com aumento de 15% após uso do broncodilatador.

É **CORRETO** afirmar sobre o caso:

- (A) Exige novos exames para investigar bronquiectasia.
- (B) Exige novos exames para investigar fibrose cística.
- (C) Fecha o diagnóstico de refluxo gastroesofágico.
- (D) Fecha o diagnóstico de asma brônquica.

**QUESTÃO 45**

Considere a seguinte situação fictícia: Criança de 7 anos, é levada para consulta de rotina. Tem história de tosse e sibilância recorrente. História de várias internações por broncoespasmo. Faz uso quase diário de beta-2 agonista inalatório de curta ação. Tem despertar noturno pelo menos uma vez por semana. Trouxe o resultado de uma espirometria, realizada com técnica adequada para a idade: VEF1 65% do previsto para a idade, com aumento de 15% após uso do broncodilatador. Diante dessa situação, a melhor alternativa para o tratamento no momento é:

- (A) Corticoide inalado com beta 2 agonista de longa ação.
- (B) Corticoide inalado em dose baixa e montelucaste de sódio oral.
- (C) Antibiótico inalado e enzimas pancreáticas por via oral.
- (D) Inibidor de bomba de prótons por via oral.

**QUESTÃO 46**

Considere a seguinte situação fictícia: Criança de 7 anos é trazida para consulta com quadro de coriza, espirros, prurido nasal e congestão nasal recorrentes. Os sintomas persistem mesmo nas férias, sem contato com outras crianças. Tem história patológica pregressa de dermatite atópica. Fez um teste cutâneo de hipersensibilidade imediata que se mostrou positivo para *Dermatophagoides*. Tem IgE sérica total aumentada. O diagnóstico mais provável para essa situação é:

- (A) Rinite alérgica.
- (B) Rinossinusite bacteriana.
- (C) Rinofaringite viral aguda.
- (D) Imunodeficiência primária.

**QUESTÃO 47**

Considere a seguinte situação fictícia: Criança de 4 anos é trazida para consulta com quadro de coriza, espirros, prurido nasal e congestão nasal recorrentes. Os quadros não são acompanhados de febre. Tem IgE sérica total aumentada. O melhor tratamento para essa criança é:

- (A) Budesonida nasal, por pelo menos 60 a 90 dias, bilastina oral, limpeza das narinas com soro fisiológico.
- (B) Corticoide oral por 10 dias, seguido de redução gradual da medicação e controle ambiental.
- (C) Mometasona nasal, por pelo menos 60 a 90 dias, limpeza das narinas com soro fisiológico e controle ambiental.
- (D) Alfa adrenérgico de uso tópico por 15 a 30 dias, bilastina oral e controle ambiental, com aspiração dos tapetes.

**QUESTÃO 48**

Considere a seguinte situação fictícia: Criança de 4 meses é trazida para consulta com lesões em face, tipo placa eritematosa, poupando o triângulo nasolabial e no tronco, logo abaixo do pescoço. Tem história familiar materna de asma.

Além da supressão do uso excessivo de sabonetes, a recomendação de tratamento mais adequado para essa criança é:

- (A) Utilizar hidratante, evitar locais com muita ventilação e observar a resposta antes de iniciar corticoide tópico.
- (B) Utilizar antibiótico tópico e fazer uso de amido de milho na água do banho para manter a pele mais seca.
- (C) Utilizar amido de milho na água do banho e fazer uso de corticoide tópico de alta potência com descalonamento gradual.
- (D) Utilizar hidratante, evitar locais quentes que aumentem a sudorese e fazer uso de corticoide tópico, inicialmente de baixa potência.

**QUESTÃO 49**

Considere a seguinte situação fictícia: Criança de 2 anos de idade estava brincando na praça perto da sua casa e subitamente começou a chorar. Como o choro não cessou, os pais a levaram para atendimento na UPA. Durante o trajeto, teve uma crise convulsiva. Foi admitida na sala de emergência com hipotermia, sudorese profusa, vômitos incoercíveis, sialorréia excessiva, bradicardia, alternando agitação e sonolência. A radiografia de tórax mostrava congestão pulmonar.

Nesse caso, a criança deve ser mantida em monitorização devendo receber:

- (A) Tratamento dos sintomas, sem necessidade de soro, pois provavelmente se trata de um acidente por escorpião.
- (B) Soro antiescorpiônico, pois provavelmente se trata de um acidente por escorpião.
- (C) Adrenalina intramuscular, pois provavelmente é um acidente por picada de abelha.
- (D) Corticoide venoso e anti-histamínicos, pois provavelmente é um acidente por picada de abelha.

**QUESTÃO 50**

Considere a seguinte situação fictícia: Criança de 1 ano pesou 9200 g em consulta de rotina há 15 dias, não faz uso de aleitamento materno. Hoje é levada à unidade de saúde da família com história de diarreia de 2 dias de evolução. Perdeu 6,5% do peso, está pesando hoje 8600 g. Está irritado, com sede, boca seca e olhos encovados. Tem pulsos cheios e tempo de reenchimento capilar adequado. Nessa situação, qual é a conduta inicial mais adequada?

- (A) Alta para casa, com prescrição de soro oral, 100 a 200 mL após cada evacuação líquida.
- (B) Alta para casa, com prescrição de azitromicina oral e zinco.
- (C) Encaminhamento ao pronto socorro para hidratação venosa com 20 mL/kg de SG:SF (1:1).
- (D) Hidratação oral na unidade de saúde, 50 a 100 mL/kg em 4-6 horas.

**QUESTÃO 51**

Considere a seguinte situação fictícia: Lactente de 3 meses, mama exclusivamente no seio materno. Veio encaminhado para consulta com o pediatra por refluxo gastroesofágico. Está em uso de omeprazol. O bebê vomita em pelo menos 50% das mamadas do dia. Dorme bem, não tem choro excessivo, tem ganho de peso e altura no escore Z -1. Não tem doença respiratória, alta ou baixa, associada.

Para esse caso, qual a conduta mais adequada?

- (A) Manter a medicação, solicitar endoscopia digestiva alta e “pHmetria”.
- (B) Manter a medicação, evitar hiperalimentação, não fazer exames por enquanto.
- (C) Suspende a medicação, evitar hiperalimentação, observar sinais de alerta.
- (D) Trocar a medicação prescrita para bromoprida e sucralfato.

**QUESTÃO 52**

Considere a seguinte situação fictícia: Criança de 6 anos, com história de febre de 3 dias de evolução. Levada à UPA com rebaixamento de consciência, hipotensão para a idade, tempo de reenchimento capilar de 6 segundos. Colhidos exames com hemocultura, instalada monitorização disponível e iniciado tratamento com antibióticos.

Além do tratamento já prescrito, o que mais deve ser feito na 1ª hora do tratamento do choque séptico?

- (A) Bolus de soro fisiológico, alíquotas de 10-20 mL/kg, até no máximo 40-60 mL/kg. Iniciar dopamina.
- (B) Bolus de cristalóide balanceado, alíquotas de 20 mL/kg, até no máximo 200 mL/kg. Iniciar vasopressina.
- (C) Bolus de cristalóide balanceado, alíquotas de 10-20 mL/kg, até no máximo 40-60 mL/kg. Iniciar noradrenalina.
- (D) Bolus de soro fisiológico, alíquotas de 10-20 mL/kg, até no máximo 40-60 mL/kg. Iniciar dobutamina.

**QUESTÃO 53**

Considere a seguinte situação fictícia: Paciente de 6 meses é levado a UPA. Segundo informações da mãe, desde 2 meses de vida está apresentando episódios de cianose, com piora progressiva. Inicialmente a cianose surgia ao choro intenso e atualmente, apresenta cianose com esforços menores, como a mamada. Está aguardando a realização de um ecocardiograma pedido pelo médico de rotina na consulta de 4 meses de idade. Durante o exame físico, apresenta B2 única e sopro sistólico de ejeção. Ao fazer o exame da orofaringe, foi necessário usar um abaixador de língua, o que causou muito choro e a criança evoluiu com cianose intensa e síncope.

Considerando o quadro descrito, todas as alternativas estão corretas, **EXCETO**:

- (A) O uso de oxigênio durante as crises de cianose pode levar a um fechamento do canal arterial, o que pode piorar a situação.
- (B) Para o tratamento da crise de cianose, uma das medidas é colocar a criança em posição joelho-tórax.
- (C) O desvio anterossuperior do septo infundibular é o defeito anatômico fundamental desta cardiopatia.
- (D) Espera-se encontrar sinais de hipofluxo pulmonar na radiografia e desvio do eixo para a direita no ECG.

**QUESTÃO 54**

Considere a seguinte situação fictícia: Criança de 4 anos, previamente hígida, é levada pelos pais à UPA. Tem história de uma semana de evolução de fraqueza e dor abdominal. Na admissão está taquipneica e com algum grau de letargia. Não apresenta sinais de choque no momento. Foi submetida a uma glicemia capilar na admissão que mostrou um resultado de 560 mg/dL. Foram colhidos mais exames.

Qual é a melhor conduta a ser adotada, no momento, para o caso descrito? Assinale a alternativa **CORRETA**:

- (A) Se o potássio sérico estiver normal, não há necessidade de repor potássio.
- (B) Deve ser feita hidratação venosa, uma boa alternativa de fluido é a solução salina a 0,9%.
- (C) Por se tratar de um quadro de acidose metabólica, a reposição do bicarbonato deve ser feita precocemente.
- (D) Deve-se iniciar insulina venosa, que deve ser suspensa assim que a glicemia normalizar.

**QUESTÃO 55**

Considere a seguinte situação fictícia: Lactente de 18 meses é trazido para a UPA. Há 1 dia está com rinorreia clara, febre baixa e tosse, com piora progressiva da tosse. No momento da admissão, está com estridor intenso, mesmo em repouso no colo da mãe, tem retração intercostal e de fúrcula moderada, tem entrada de ar diminuída à ausculta pulmonar, ausência de cianose e fica agitado sob estímulo.

Qual é a melhor conduta a ser adotada diante desse quadro? Marque a alternativa **CORRETA**:

- (A) Prescrever prednisolona oral (1 mg/kg) e nebulização com soro fisiológico. Conceder alta após a medicação.
- (B) Prescrever dexametasona parenteral (0,3 mg/kg) e nebulização com epinefrina. Conceder alta após a medicação.
- (C) Prescrever dexametasona parenteral (0,6 mg/kg) e nebulização com epinefrina. Manter a criança internada.
- (D) Prescrever prednisolona oral (1 mg/kg) e nebulização com soro fisiológico. Manter a criança internada.

**QUESTÃO 56**

Sobre a icterícia neonatal, todas as alternativas estão corretas, **EXCETO**:

- (A) A fototerapia é o tratamento mais eficaz, pois age através de reação fotoquímica. O uso de radiômetro garante que a irradiância esteja adequada e lâmpadas com menos de 8 microW/cm<sup>2</sup>/mm devem ser substituídas.
- (B) No mecanismo da icterícia fisiológica, está envolvida a deficiência de enzimas bacterianas no intestino do bebê, desconjugando parte da bilirrubina direta, com aumento da circulação entero-hepática.
- (C) Os primeiros sinais de encefalopatia bilirrubínica aguda em RNs maiores de 35 semanas são insidiosos e inespecíficos, mas devem ser identificados e tratados com urgência.
- (D) Nas icterícias, a partir de 2 semanas de vida, com aumento às custas de bilirrubina direta, é provável que o bebê precise de fototerapia se a bilirrubina estiver acima de 20 mg/dL.

**QUESTÃO 57**

Sobre as infecções congênitas, todas as alternativas estão corretas, **EXCETO**:

- (A) A tríade clássica da toxoplasmose congênita inclui: hidrocefalia, calcificações cerebrais e retinocoroidite. Sequelas tardias são raras, por isso são tratados apenas recém-nascidos sintomáticos. O teste de IgM está sendo implantado no SUS em todo o Brasil, permitindo triagem em larga escala.
- (B) Alguns sinais clínicos de sífilis congênita são: pênfigo palmoplantar, rinite serossanguinolenta, pseudoparalisia de Parrot. Como mais de 50% dos recém nascidos são assintomáticos ou oligossintomáticos, a história materna é essencial para o diagnóstico.
- (C) Citomegalovírus é a causa mais comum de infecção congênita em todo o mundo. A transmissão pode ocorrer mesmo em mulheres com infecção pregressa. Para diagnóstico definitivo, deve ser feita a detecção do vírus na urina ou saliva até 3 semanas de idade.
- (D) A principal medida para reduzir a transmissão vertical do HIV é o tratamento da gestante, com objetivo de manter a carga viral indetectável no 3º trimestre, sem falha na adesão à medicação, associada a zidovudina precoce no bebê. O diagnóstico no bebê pode ser feito por meio de teste da carga viral.

**QUESTÃO 58**

Considere a seguinte situação fictícia: Criança de 15 meses de idade, com história de febre de 12 horas de evolução, é admitida na sala de emergência com crise convulsiva, com duração de pelo menos 15 minutos.

Considerando os dados apresentados, assinale a alternativa que apresenta a conduta recomendada para esse paciente:

- (A) ABC da reanimação, oxigênio e uso de fenobarbital intramuscular o mais precoce possível, evitando a via endovenosa pelo risco de apneia.
- (B) ABC da reanimação, oxigênio e uso de antitérmico endovenoso o mais precoce possível, associando às medidas físicas para tratar a febre.
- (C) ABC da reanimação, oxigênio e uso de fenitoína endovenosa o mais precoce possível, sendo diluída em soro fisiológico.
- (D) ABC da reanimação, oxigênio e uso de benzodiazepínico, sendo preferencialmente endovenoso, o mais precoce possível.

**QUESTÃO 59**

Considere a seguinte situação fictícia: Criança de 1 mês vem trazida pelos pais para consulta de rotina no ambulatório de pediatria geral. Durante a anamnese, a mãe relata que o filho está com lacrimejamento, associado à hiperemia ocular e o bebê fica irritado ao sair ao sol.

Diante do quadro, marque a alternativa que possui o diagnóstico mais provável e a conduta mais adequada:

- (A) Conjuntivite bacteriana. Iniciar colírio de antibiótico.
- (B) Dacriostenose. Orientar massagem digital do saco lacrimal.
- (C) Glaucoma congênito. Encaminhar com urgência ao oftalmologista.
- (D) Conjuntivite química pelo “Credê”. Orientar limpeza ocular com soro fisiológico.

**QUESTÃO 60**

Considere a seguinte situação fictícia: Criança de 18 meses de idade é trazida para consulta devido à febre de 1 dia de evolução. Não tem tosse, coriza ou manifestações gastrointestinais. Teve 2 quadros similares. Há 2 meses teve o primeiro episódio, quando usou amoxicilina. Há 1 mês, teve o segundo episódio, quando usou amoxicilina com clavulanato. Nas duas ocasiões, a febre durou no total 5 dias, sendo 3 dias após o início do antibiótico. Ao exame físico apresenta hiperemia de faringe, com úlceras da mucosa oral e adenite cervical.

Considerando os dados apresentados, assinale a alternativa que apresenta a prescrição recomendada para esse paciente:

- (A) Prednisolona em dose única de 1 mg/kg.
- (B) Medicação sintomática para a febre e orientações.
- (C) Penicilina benzatina em dose única de 600.000 UI intra muscular.
- (D) Amoxicilina com clavulanato por 10 dias, com dose de 90mg/kg/dia de amoxicilina.

**QUESTÃO 61**

Com relação a otite média aguda, todas as alternativas estão corretas, **EXCETO**:

- (A) As crianças têm maior chance de otite por terem a tuba auditiva mais curta, mais alargada, mais flácida e mais horizontalizada que os adultos.
- (B) O aleitamento materno é um fator de proteção, estima-se que reduz o risco de otites em 13%, quando os bebês recebem leite materno até os 3 meses de idade.
- (C) A doença tem risco de evolução desfavorável, inclusive com evolução para mastoidite ou meningite, sendo necessário antibiótico na maioria dos quadros.
- (D) As bactérias mais comumente encontradas nas OMAs são: *Streptococcus pneumoniae*, *Haemophilus influenzae* não tipável e *Moraxella catarrhalis*.

**QUESTÃO 62**

Com relação a rinossinusite aguda, todas as alternativas estão corretas, **EXCETO**:

- (A) Exames laboratoriais com VHS, PCR e procalcitonina podem ajudar a diferenciar entre etiologia viral ou bacteriana e, conseqüentemente, ajudar a definir a necessidade de antibióticos.
- (B) A gravidade geralmente está associada à virulência do agente etiológico e com fatores associados ao hospedeiro, como imunodeficiência, imunização e alterações das mucosas nasais.
- (C) As bactérias mais comumente encontradas nas rinossinusites são: *Streptococcus pneumoniae*, *Haemophilus influenzae* não tipável e *Moraxella catarrhalis*.
- (D) A radiografia de seios da face é aconselhável para o diagnóstico clínico da doença, pois sem esse exame complementar, o diagnóstico tende a ser superestimado.

**QUESTÃO 63**

Considere a seguinte situação fictícia: Criança de 8 meses de idade é trazida para consulta pelos pais. Tem desenvolvimento adequado. Frequenta creche desde os 6 meses de idade. Imunização em dia. Há 5 dias com tosse, rinorréia e congestão nasal. Teve febre nos 2 primeiros dias do quadro, mas está afebril há mais de 24 horas. A mãe trouxe para consulta preocupada porque a tosse ainda não melhorou. O exame físico pulmonar é normal e a criança está eupneica.

Diante do quadro, além da lavagem nasal com soro fisiológico, é indicado:

- (A) Corticoide tópico.
- (B) Corticoide sistêmico.
- (C) Analgésico, se necessário.
- (D) Beta-2-agonista inalatório.

**QUESTÃO 64**

Sobre a bronquiolite viral, todas as alternativas estão corretas, **EXCETO**:

- (A) Destacam-se como agentes etiológicos comuns o vírus sincicial respiratório e o rinovírus, que agravam a doença nos bebês mais jovens e prematuros.
- (B) Usar corticoide sistêmico reduz o tempo de internação dos lactentes, provavelmente devido à redução da inflamação nas vias aéreas.
- (C) É uma das principais causas de morbidade e internação hospitalar, dentre as afecções infecciosas respiratórias.
- (D) Existe profilaxia medicamentosa com o uso de anticorpo monoclonal contra o vírus sincicial respiratório, disponível no SUS para os grupos de maior risco.

**QUESTÃO 65**

Considere a seguinte situação fictícia: Criança de 4 meses de idade é levada para consulta devido a febre e tosse de 3 dias de evolução. Está com as vacinas em dia. Mama fórmula, parou aleitamento materno aos 2 meses de idade. Tem 2 irmãos que frequentam escola e estavam gripados na semana passada. Ao exame físico, tem frequência respiratória de 65 irpm, tiragem intercostal e gemência. Na ausculta pulmonar tem diminuição do murmúrio vesicular à direita, com crepitações em todo hemitórax direito.

A conduta mais adequada para essa criança é

- (A) internação, com uso de penicilina parenteral.
- (B) internação, com uso de macrolídeo parenteral.
- (C) tratamento ambulatorial, com uso de amoxicilina oral.
- (D) tratamento ambulatorial, com uso de macrolídeo oral.

**QUESTÃO 66**

A recomendação da Sociedade Brasileira de Pediatria e do Ministério da Saúde é de aleitamento materno por 2 anos ou mais, sendo exclusivo nos primeiros 6 meses.

Sobre o aleitamento materno, todas as alternativas estão corretas, **EXCETO**:

- (A) Além dos aspectos benéficos do aleitamento materno relacionados à mãe e à criança, ainda há aspectos relacionados ao meio ambiente. Esse tipo de leite é um alimento sustentável, não causa ameaças aos recursos naturais ou à biodiversidade do planeta.
- (B) Grande parte do leite de uma mamada é produzida enquanto a criança mama. Dor, desconforto, estresse, ansiedade, medo, insegurança e falta de autoconfiança podem inibir o reflexo de ejeção do leite, prejudicando a lactação.
- (C) Durante a gestação a mama é preparada para a lactação por hormônios, sendo os mais importantes a ocitocina e a prolactina, que são responsáveis respectivamente pela ramificação dos ductos lactíferos e pela formação dos lóbulos.
- (D) O leite maduro só é secretado por volta do 10º dia pós-parto. Nos primeiros dias, a secreção láctea é chamada colostro, contém mais proteínas e menos lipídios que o leite maduro e é rico em imunoglobulinas. O leite de mães de recém-nascidos pré-termo difere do de mãe de bebês a termo.

**QUESTÃO 67**

Sobre os fatores imunológicos do leite materno, todas as alternativas estão corretas, **EXCETO**:

- (A) A IgA secretora é a principal imunoglobulina do leite materno, que atua contra microrganismos que colonizam ou invadem superfícies mucosas. A especificidade dos anticorpos IgA no leite humano é um reflexo dos antígenos entéricos e respiratórios da mãe, o que proporciona proteção à criança contra os agentes infecciosos prevalentes no meio em que ela está inserida.
- (B) Entre os fatores de proteção do leite materno, estão os oligossacarídeos, mais de 200 compostos que previnem ligação da bactéria na superfície mucosa e protegem contra enterotoxinas no intestino. Além disso, estimulam as células intestinais a produzir proteínas que “selam” o intestino e anti-inflamatórios que modulam o sistema imunológico.
- (C) Entre os fatores de proteção do leite materno se encontram: leucócitos, que matam microrganismos; lisozima e lactoferrina, que atuam sobre bactérias, vírus e fungos; fator bifido, que favorece o crescimento do *Lactobacillus bifidus*.
- (D) Os bebês que estão internados em UTI neonatal necessitam de leite humano pasteurizado, submetido a uma temperatura de 135°C por 2 a 4 segundos. A maior vantagem do leite humano pasteurizado é manter o mesmo valor biológico do leite cru.

**QUESTÃO 68**

Sobre a introdução de novos alimentos em crianças, todas as alternativas estão corretas, **EXCETO**:

- (A) Os sabores são transmitidos da dieta materna para o líquido amniótico. As mães que consomem uma variedade de alimentos saudáveis e com sabores mais marcantes e não doces durante a gestação, proporcionam ao bebê a oportunidade de aprender a gostar desses sabores.
- (B) O uso do método *Baby-Led-Weaning* (BLW) mostrou-se superior ao método tradicional, com colheres. Esse método deve ser ensinado e estimulado no processo de introdução alimentar.
- (C) Os sabores são transmitidos da dieta materna para o leite materno. As mães que consomem uma variedade de alimentos saudáveis e com sabores mais marcantes e não doces durante a lactação, proporcionam ao bebê a oportunidade de aprender a gostar desses sabores.
- (D) Os sucos, mesmo os naturais, devem ser evitados, pelo risco de predispor à obesidade, devido ao maior consumo de calorias e não ingestão das fibras, que contribuem para maior absorção de açúcar.

**QUESTÃO 69**

Considere a seguinte situação fictícia: Criança de 6 anos, sexo masculino, é trazido pelos familiares para consulta de rotina. Durante o exame físico, foram feitas medidas. A seguir constam as categorias e, dentro dos parênteses, os resultados após os dados serem lançados nas curvas para obtenção do desvio padrão/z-score de cada medida:

Peso 26 kg (+1,69 SD)

Estatura 116 cm (0 SD)

IMC 19,3 (+2.39 SD)

Circunferência abdominal: 62 cm

De acordo com as medidas, a classificação da criança é:

- (A) Sobrepeso, com risco de adiposidade central.
- (B) Obesidade, com risco de adiposidade central.
- (C) Obesidade, com relação circunferência abdominal / estatura adequada.
- (D) Sobrepeso, com relação circunferência abdominal / estatura adequada.

**QUESTÃO 70**

Considere a seguinte situação fictícia: Paciente de 6 anos é admitido com choque séptico na UPA. Foi submetido à intubação orotraqueal e confirmada a intubação pela capnografia. Alguns momentos após, evoluiu com parada cardiorrespiratória.

Considerando os dados apresentados, assinale a alternativa que apresenta as condutas que precisam ser tomadas:

- (A) Realizar compressões torácicas 100-120 por minuto e ventilação a cada 2-3 segundos.
- (B) Realizar compressões torácicas, alternando compressão-ventilação 30:2.
- (C) Parar a reanimação por no máximo 1 minuto, para realizar ecocardiograma e investigar tamponamento cardíaco, em ritmo de AESP.
- (D) Retirada da cânula orotraqueal e passar uma máscara laríngea, que é um método mais confiável para ventilar pacientes pediátricos.

# GABARITO RASCUNHO

Questões 01 a 14	Questões 15 a 28	Questões 29 a 42	Questões 43 a 56	Questões 57 a 70
01 <input type="radio"/> A <input type="radio"/> B <input type="radio"/> C <input type="radio"/> D	15 <input type="radio"/> A <input type="radio"/> B <input type="radio"/> C <input type="radio"/> D	29 <input type="radio"/> A <input type="radio"/> B <input type="radio"/> C <input type="radio"/> D	43 <input type="radio"/> A <input type="radio"/> B <input type="radio"/> C <input type="radio"/> D	57 <input type="radio"/> A <input type="radio"/> B <input type="radio"/> C <input type="radio"/> D
02 <input type="radio"/> A <input type="radio"/> B <input type="radio"/> C <input type="radio"/> D	16 <input type="radio"/> A <input type="radio"/> B <input type="radio"/> C <input type="radio"/> D	30 <input type="radio"/> A <input type="radio"/> B <input type="radio"/> C <input type="radio"/> D	44 <input type="radio"/> A <input type="radio"/> B <input type="radio"/> C <input type="radio"/> D	58 <input type="radio"/> A <input type="radio"/> B <input type="radio"/> C <input type="radio"/> D
03 <input type="radio"/> A <input type="radio"/> B <input type="radio"/> C <input type="radio"/> D	17 <input type="radio"/> A <input type="radio"/> B <input type="radio"/> C <input type="radio"/> D	31 <input type="radio"/> A <input type="radio"/> B <input type="radio"/> C <input type="radio"/> D	45 <input type="radio"/> A <input type="radio"/> B <input type="radio"/> C <input type="radio"/> D	59 <input type="radio"/> A <input type="radio"/> B <input type="radio"/> C <input type="radio"/> D
04 <input type="radio"/> A <input type="radio"/> B <input type="radio"/> C <input type="radio"/> D	18 <input type="radio"/> A <input type="radio"/> B <input type="radio"/> C <input type="radio"/> D	32 <input type="radio"/> A <input type="radio"/> B <input type="radio"/> C <input type="radio"/> D	46 <input type="radio"/> A <input type="radio"/> B <input type="radio"/> C <input type="radio"/> D	60 <input type="radio"/> A <input type="radio"/> B <input type="radio"/> C <input type="radio"/> D
05 <input type="radio"/> A <input type="radio"/> B <input type="radio"/> C <input type="radio"/> D	19 <input type="radio"/> A <input type="radio"/> B <input type="radio"/> C <input type="radio"/> D	33 <input type="radio"/> A <input type="radio"/> B <input type="radio"/> C <input type="radio"/> D	47 <input type="radio"/> A <input type="radio"/> B <input type="radio"/> C <input type="radio"/> D	61 <input type="radio"/> A <input type="radio"/> B <input type="radio"/> C <input type="radio"/> D
06 <input type="radio"/> A <input type="radio"/> B <input type="radio"/> C <input type="radio"/> D	20 <input type="radio"/> A <input type="radio"/> B <input type="radio"/> C <input type="radio"/> D	34 <input type="radio"/> A <input type="radio"/> B <input type="radio"/> C <input type="radio"/> D	48 <input type="radio"/> A <input type="radio"/> B <input type="radio"/> C <input type="radio"/> D	62 <input type="radio"/> A <input type="radio"/> B <input type="radio"/> C <input type="radio"/> D
07 <input type="radio"/> A <input type="radio"/> B <input type="radio"/> C <input type="radio"/> D	21 <input type="radio"/> A <input type="radio"/> B <input type="radio"/> C <input type="radio"/> D	35 <input type="radio"/> A <input type="radio"/> B <input type="radio"/> C <input type="radio"/> D	49 <input type="radio"/> A <input type="radio"/> B <input type="radio"/> C <input type="radio"/> D	63 <input type="radio"/> A <input type="radio"/> B <input type="radio"/> C <input type="radio"/> D
08 <input type="radio"/> A <input type="radio"/> B <input type="radio"/> C <input type="radio"/> D	22 <input type="radio"/> A <input type="radio"/> B <input type="radio"/> C <input type="radio"/> D	36 <input type="radio"/> A <input type="radio"/> B <input type="radio"/> C <input type="radio"/> D	50 <input type="radio"/> A <input type="radio"/> B <input type="radio"/> C <input type="radio"/> D	64 <input type="radio"/> A <input type="radio"/> B <input type="radio"/> C <input type="radio"/> D
09 <input type="radio"/> A <input type="radio"/> B <input type="radio"/> C <input type="radio"/> D	23 <input type="radio"/> A <input type="radio"/> B <input type="radio"/> C <input type="radio"/> D	37 <input type="radio"/> A <input type="radio"/> B <input type="radio"/> C <input type="radio"/> D	51 <input type="radio"/> A <input type="radio"/> B <input type="radio"/> C <input type="radio"/> D	65 <input type="radio"/> A <input type="radio"/> B <input type="radio"/> C <input type="radio"/> D
10 <input type="radio"/> A <input type="radio"/> B <input type="radio"/> C <input type="radio"/> D	24 <input type="radio"/> A <input type="radio"/> B <input type="radio"/> C <input type="radio"/> D	38 <input type="radio"/> A <input type="radio"/> B <input type="radio"/> C <input type="radio"/> D	52 <input type="radio"/> A <input type="radio"/> B <input type="radio"/> C <input type="radio"/> D	66 <input type="radio"/> A <input type="radio"/> B <input type="radio"/> C <input type="radio"/> D
11 <input type="radio"/> A <input type="radio"/> B <input type="radio"/> C <input type="radio"/> D	25 <input type="radio"/> A <input type="radio"/> B <input type="radio"/> C <input type="radio"/> D	39 <input type="radio"/> A <input type="radio"/> B <input type="radio"/> C <input type="radio"/> D	53 <input type="radio"/> A <input type="radio"/> B <input type="radio"/> C <input type="radio"/> D	67 <input type="radio"/> A <input type="radio"/> B <input type="radio"/> C <input type="radio"/> D
12 <input type="radio"/> A <input type="radio"/> B <input type="radio"/> C <input type="radio"/> D	26 <input type="radio"/> A <input type="radio"/> B <input type="radio"/> C <input type="radio"/> D	40 <input type="radio"/> A <input type="radio"/> B <input type="radio"/> C <input type="radio"/> D	54 <input type="radio"/> A <input type="radio"/> B <input type="radio"/> C <input type="radio"/> D	68 <input type="radio"/> A <input type="radio"/> B <input type="radio"/> C <input type="radio"/> D
13 <input type="radio"/> A <input type="radio"/> B <input type="radio"/> C <input type="radio"/> D	27 <input type="radio"/> A <input type="radio"/> B <input type="radio"/> C <input type="radio"/> D	41 <input type="radio"/> A <input type="radio"/> B <input type="radio"/> C <input type="radio"/> D	55 <input type="radio"/> A <input type="radio"/> B <input type="radio"/> C <input type="radio"/> D	69 <input type="radio"/> A <input type="radio"/> B <input type="radio"/> C <input type="radio"/> D
14 <input type="radio"/> A <input type="radio"/> B <input type="radio"/> C <input type="radio"/> D	28 <input type="radio"/> A <input type="radio"/> B <input type="radio"/> C <input type="radio"/> D	42 <input type="radio"/> A <input type="radio"/> B <input type="radio"/> C <input type="radio"/> D	56 <input type="radio"/> A <input type="radio"/> B <input type="radio"/> C <input type="radio"/> D	70 <input type="radio"/> A <input type="radio"/> B <input type="radio"/> C <input type="radio"/> D

**ATENÇÃO!**

**ESTA PÁGINA PODERÁ SER DESTACADA E LEVADA PELO (A) CANDIDATO (A) SOMENTE SE NÃO CONTIVER NENHUMA ANOTAÇÃO ALÉM DAS MARCAÇÕES DO GABARITO-RASCUNHO.**

**UNIVERSIDADE FEDERAL DE LAVRAS – UFLA  
CONCURSO PÚBLICO TÉCNICO ADMINISTRATIVO / UFLA (EDITAL 58/25)**

