



Domingo de manhã

PREFEITURA MUNICIPAL DE TRÊS DE MAIO/RS CONCURSO PÚBLICO Nº 01/2025

01 – ARQUITETO E URBANISTA

Instruções

Leia atentamente e cumpra rigorosamente as instruções que seguem, pois elas são parte integrante das provas e das normas que regem esse certame.

1. ATENTE-SE AOS AVISOS CONTIDOS NO QUADRO DA SALA E **AGUARDE O 2º SINAL SONORO PARA ABRIR ESTE CADERNO DE QUESTÕES E INICIAR A PROVA.**

2. Seus **pertences deverão estar armazenados dentro do saco plástico fornecido pelo fiscal**, permanecendo em sua posse somente caneta esferográfica de ponta grossa, de material transparente, com tinta preferencialmente preta, lanche e água, se houver. A UTILIZAÇÃO DE QUALQUER MATERIAL NÃO PERMITIDO EM EDITAL É EXPRESSAMENTE PROIBIDA, **ACARRETANDO A SUA IMEDIATA EXCLUSÃO DO CERTAME.**

3. APÓS O 2º SINAL, CERTIFIQUE-SE DE QUE:

- ESTE CADERNO DE QUESTÕES CONTÉM **40** QUESTÕES LEGÍVEIS;
- ESTE CADERNO DE QUESTÕES REFERE-SE AO **NÚMERO E AO CARGO** PARA O QUAL REALIZOU A INSCRIÇÃO;
- OS FISCALIS INFORMARAM CORRETAMENTE O **TEMPO PARA REALIZAÇÃO DE PROVA DE 03 HORAS.**

4. Cada questão oferece **5 alternativas** de respostas, representadas pelas letras **A, B, C, D e E**, sendo apenas 1 (uma) a resposta correta.

5. O CANDIDATO **DEVE ASSINAR** A(S) SUA(S) FOLHA(S) DEFINITIVA(S) DE RESPOSTA(S), **SOB PENA DE ELIMINAÇÃO.**

6. Será **respeitado** o tempo para realização da prova conforme previsto em edital, incluindo o preenchimento da grade de respostas.

7. **Haverá o toque do 3º SINAL SONORO DE ENCERRAMENTO DAS PROVAS**, CONFORME CONTROLE DO QUADRO DE SALA.

8. Os três últimos candidatos deverão retirar-se da sala de prova ao mesmo tempo, devendo assinar a Ata de Prova.

9. **A RESPONSABILIDADE REFERENTE À INTERPRETAÇÃO DOS CONTEÚDOS DAS QUESTÕES É EXCLUSIVA DO CANDIDATO.**

10. No caderno de questões, você poderá rabiscar, riscar e calcular.

11. Os gabaritos preliminares da prova objetiva serão divulgados na data descrita no Cronograma de Execução desse certame.

Controle de
QUALIDADE
Fundatec



V1_25/11/2025 19:39:30

Eco
Friendly
A Fundatec utiliza papel
com certificação florestal
e tinta biodegradável.

Concursos
fundatec
ISO 9001

Já imaginou uma cidade sem o SUS?*Por Super Interessante*

01 Já imaginou acordar com dor de dente e precisar vender a geladeira para pagar o
02 tratamento? Ou abrir a torneira de casa e não ter água potável? Parece cenário de filme distópico,
03 mas esse era o Brasil antes de 1988. Foi só com a Constituição que nasceu o SUS – o sistema
04 público que transformou a saúde em um direito universal. Hoje, o SUS está em cada detalhe da
05 vida de quem vive no Brasil – não importa se a pessoa é brasileira ou estrangeira, se mora no
06 centro ou na periferia. Ele é presença constante, mesmo quando passa despercebido: da vacina
07 que protege milhões à vigilância que garante alimentos seguros, dos transplantes de órgãos ao
08 atendimento nas comunidades. São inúmeras as frentes de atuação. Sem o SUS, vítimas de
09 acidentes ficariam sem atendimento imediato. Com o SAMU 192, o socorro ocorre 24 horas por
10 dia. Presente em quase 4.000 municípios, o serviço cobre mais de 80% da população e garante
11 transporte emergencial seguro até o hospital. Diante de enchentes ou deslizamentos, grande
12 parte da população ficaria sem atendimento, mas é nesse momento que a Força Nacional do
13 SUS se mobiliza: médicos, enfermeiros e especialistas em saúde emergencial, levando insumos,
14 vacinas, medicamentos e montando estruturas provisórias de atendimento.

15 Para além disso, um estudo avaliou a cobertura de registro de partos no Brasil, de 2012 a
16 2020, e descobriu que a cobertura nacional de registro de partos no SUS foi estimada em 80,6%.
17 Um parto em hospital privado sai caro. Sem poder pagar o valor, grande parte das gestantes
18 arriscaria dar à luz em casa, muitas vezes sem segurança. O SUS garante pré-natal, exames e
19 parto gratuitos. E depois? Doenças como pólio, sarampo e difteria voltariam a circular livremente.
20 Graças ao Programa Nacional de Imunizações — um dos maiores do mundo —, em 2023 e 2024
21 o Brasil distribuiu gratuitamente mais de 604 milhões de doses de imunobiológicos.

22 E, sem fiscalização, alimentos mal armazenados e cozinhas sem higiene provocariam surtos
23 de intoxicação. A Vigilância Sanitária do SUS inspeciona desde pequenos restaurantes até
24 grandes indústrias. Em 2024, as VISAs espalhadas por todo o Brasil realizaram milhares de
25 fiscalizações para garantir padrões de higiene em todo o país. Sem atendimento acessível, até
26 mesmo um resfriado afastaria trabalhadores por dias, prejudicando famílias e negócios locais.
27 Porta de entrada do SUS, as Unidades Básicas de Saúde oferecem consultas, exames e
28 acompanhamento contínuo a milhões de brasileiros. São cerca de 50.000 unidades em
29 funcionamento em todo o país. Sem o SUS, arcar com o tratamento de hipertensão ou diabetes
30 seria inviável para milhões de famílias. O sistema distribui medicamentos gratuitos pelo
31 programa Farmácia Popular, presente em 86% das cidades, com mais de 31.000
32 estabelecimentos. Mais que um sistema de saúde, o SUS é a maior política pública de inclusão
33 social desde a redemocratização, um patrimônio nacional e uma conquista coletiva que assegura
34 respeito, equidade e vida digna para todas as pessoas.

(Disponível em: <https://super.abril.com.br/sociedade/ja-imaginou-uma-cidade-sem-o-sus/> – texto adaptado especialmente para esta prova).

QUESTÃO 01 – Considerando a intencionalidade discursiva do texto, a relação entre as ideias apresentadas e os efeitos de sentido criados, assinale a alternativa que melhor interpreta a estratégia persuasiva central do artigo.

- A) O texto tem a intenção primária de ser um relatório técnico neutro, limitando-se a apresentar fatos como a cobertura de registro de partos e o número de doses de vacinas distribuídas, sem incluir opiniões ou julgamentos de valor sobre a relevância política do sistema.
- B) A principal estratégia do autor é estabelecer um contraste retórico imediato entre a conquista atual e as consequências alarmantes de sua ausência, com o efeito de sentido de persuadir o leitor sobre a essencialidade e o valor inquestionável do sistema.
- C) A menção ao SUS como “a maior política pública de inclusão social desde a redemocratização” é um fato histórico e legal comprovado, servindo como a ideia secundária para apoiar o argumento principal de que o SUS é fundamental para casos de emergência.
- D) O autor utiliza a estratégia de subentender que, antes de 1988, os brasileiros não tinham acesso a nenhum tipo de cuidado de saúde, o que invalida a crítica do leitor que possa considerar o texto excessivamente panfletário.
- E) O texto pertence ao gênero de artigo de opinião puramente subjetivo. A descrição das atividades de Vigilância Sanitária e do programa Farmácia Popular é feita para confundir o leitor, visto que o autor não fornece dados numéricos precisos sobre o número de fiscalizações ou de estabelecimentos participantes.

QUESTÃO 02 – Com base na análise da coesão e da coerência do texto, assinale a alternativa correta sobre as estratégias utilizadas para conectar as ideias e construir a argumentação.

- A) A repetição da estrutura hipotética/condicional negativa, como em “sem o SUS” nas linhas 08 e 29, por exemplo, é um poderoso recurso de coerência argumentativa que estabelece uma relação de causa e consequência, reforçando a tese da indispensabilidade do sistema por meio do contraste com um cenário de caos social.
- B) O uso da expressão anafórica “Ele é presença constante” (l. 06) demonstra uma falha de coesão, pois o pronome “Ele” deveria ter sido substituído por uma expressão mais específica, já que o termo “SUS” é mencionado apenas uma vez antes disso.
- C) A locução conjuntiva “Para além disso” (l. 15) é empregada para introduzir uma ideia que anula ou contradiz as ideias mencionadas anteriormente.
- D) O termo “que” em “o sistema público que transformou a saúde em um direito universal” atua como conjunção integrante, introduzindo uma oração subordinada substantiva que não exerce função sintática na oração principal.
- E) O trecho final, “Mais que um sistema de saúde [...]” (l. 32), desvincula-se totalmente dos parágrafos anteriores, pois sua função é apresentar uma definição genérica do SUS, sem estabelecer um fecho coerente com a enumeração anterior sobre os serviços prestados pelo sistema.

QUESTÃO 03 – Com base na análise da situação comunicativa, do gênero textual e dos recursos de intertextualidade presentes no texto, assinale a alternativa correta.

- A) O texto é classificado como predominantemente descritivo, pois sua estrutura visa unicamente listar as frentes de atuação do SUS e apresentar dados numéricos, sem a intenção de persuadir o leitor.
- B) A variação linguística empregada é a coloquial-informal, o que é confirmado pelo uso de expressões cotidianas como “dor de dente” ou “vender a geladeira”. Essa escolha visa criar uma situação comunicativa de diálogo íntimo, própria de textos com finalidade narrativa.
- C) O texto estabelece uma relação intertextual fundamental ao referenciar a Constituição de 1988. Essa referência explícita ao documento legal é utilizada como argumento de autoridade histórica que atesta a natureza do SUS como “direito universal”, fundamentando a tese de sua essencialidade.
- D) O gênero textual ao qual o trecho pertence é o editorial jornalístico, caracterizado por manter uma neutralidade na abordagem. Isso se manifesta na ausência de qualquer opinião ou julgamento de valor, limitando-se a expor os fatos de forma objetiva.
- E) A descrição da realidade pré-SUS como um “cenário de filme distópico” é um recurso de metáfora que, embora estilístico, falha em criar um efeito de sentido coerente.

QUESTÃO 04 – Analise as assertivas a seguir sobre o emprego da pontuação nos excertos abaixo e suas implicações de sentido:

- I. Na passagem “Foi só com a Constituição que nasceu o SUS – o sistema público que transformou a saúde em um direito universal”, o travessão foi utilizado para isolar um aposto explicativo.
- II. Seria gramaticalmente incorreta a inserção de uma vírgula após o sujeito em “O SUS garante pré-natal, exames e parto gratuitos”, pois a regra básica de pontuação proíbe a separação do sujeito de seu predicado.
- III. O uso da vírgula na frase “Hoje, o SUS está em cada detalhe da vida de quem vive no Brasil” é obrigatório, pois o adjunto adverbial de tempo está deslocado e possui longa extensão, o que impõe sua separação do restante da oração.

Quais estão corretas?

- A) Apenas I.
- B) Apenas II.
- C) Apenas III.
- D) Apenas I e II.
- E) I, II e III.

QUESTÃO 05 – Analisando o significado e a possibilidade de substituição de palavras no texto, assinale a alternativa correta.

- A) O adjetivo “universal” (l. 04) poderia ser substituído, sem alteração ao sentido do texto, pelo seu antônimo “exclusivo”, já que ambos indicam o alcance da cobertura.
- B) A substituição do termo “inviável” (l. 30) pelo sinônimo “irrealizável” manteria a coerência e o sentido contextual de que o tratamento não poderia ser custeado ou efetivado.
- C) No trecho “Ele é presença constante, mesmo quando passa despercebido”, o termo “despercebido” é um parônimo de “desapercebido”. Contudo, os dois termos não são sinônimos e, portanto, não poderiam ser usados de forma intercambiável no contexto.
- D) O termo “distópico”, usado para caracterizar o cenário do Brasil antes de 1988, refere-se a algo ideal, utópico e que representa uma sociedade perfeita e organizada.
- E) O verbo “assegura”, ao descrever a função do SUS, encontra um sinônimo perfeito em “desabona”.

QUESTÃO 06 – Com base na análise sintática dos excertos do texto mencionados a seguir, assinale a alternativa correta.

- A) Na frase “São inúmeras as frentes de atuação”, a concordância verbal está correta. O verbo ser foi flexionado no plural para concordar com o predicativo do sujeito (“inúmeras as frentes de atuação”), conforme a regra que permite essa concordância quando o sujeito é representado por pronome indefinido ou um núcleo substantivo, e o predicativo está no plural.
- B) Na oração “grande parte das gestantes arriscaria dar à luz em casa”, o emprego do acento indicativo de crase é facultativo, uma vez que o verbo “dar” não exige preposição nesse contexto específico.
- C) No trecho “Mais que um sistema de saúde, o SUS é a maior política pública”, a palavra “que” funciona como um pronome relativo, estabelecendo uma relação de subordinação e introduzindo uma oração subordinada adjetiva.
- D) A concordância verbal em “a Vigilância Sanitária do SUS inspeciona desde pequenos restaurantes até grandes indústrias” estaria igualmente correta se o verbo fosse flexionado no plural, pois o sujeito é longo e composto por mais de um termo.
- E) Na passagem “Com o SAMU 192, o socorro ocorre 24 horas por dia”, “Com o SAMU 192” é um objeto indireto que complementa a ideia de “socorro”, exigindo a preposição “com” por regência nominal.

QUESTÃO 07 – Com base na análise morfológica dos excertos do trecho mencionados a seguir e nas regras gramaticais vigentes, assinale a alternativa correta.

- A) O adjetivo “inúmeras” em “São inúmeras as frentes de atuação” está flexionado no feminino plural para concordar com o substantivo que o precede, “São”, o qual funciona como núcleo do sujeito.
- B) O substantivo “redemocratização” é formado apenas pelo processo de derivação prefixal, pois apresenta o prefixo “re-” adicionado à forma original do radical.
- C) O termo “gratuitos” é um advérbio de modo, funcionando como modificador da ação verbal “garante” em “O SUS garante pré-natal, exames e parto gratuitos”, indicando a maneira como o SUS oferece os serviços.
- D) O verbo “assegura” (l. 33) está no presente do indicativo, na 3ª pessoa do singular. Sua forma flexionada no pretérito perfeito do indicativo e na 3ª pessoa do plural seria “asseguraram”, sendo esta uma forma irregular do paradigma verbal.
- E) A forma verbal “distribuiu” em “o Brasil distribuiu gratuitamente mais de 604 milhões de doses de imunobiológicos” está na voz ativa. Se essa oração fosse convertida para a voz passiva analítica, o objeto direto se tornaria o sujeito paciente, resultando na estrutura: “Mais de 604 milhões de doses de imunobiológicos foram distribuídas gratuitamente pelo Brasil”.

QUESTÃO 08 – Analise os excertos a seguir e a classificação gramatical e sintática dos termos destacados, de acordo com o contexto, e assinale a alternativa correta.

- A) No trecho “o sistema público que transformou a saúde em um direito universal”, o termo “que” é uma conjunção integrante que introduz uma oração subordinada substantiva, completando o sentido do verbo principal.
- B) Na frase “Um estudo avaliou [...] e descobriu que a cobertura nacional de registro de partos no SUS foi estimada em 80,6%”, o termo “que” é um pronome relativo que retoma o antecedente “estudo”, exercendo função de objeto direto na oração subordinada.
- C) A locução conjuntiva “mesmo quando” em “Ele é presença constante, mesmo quando passa despercebido” possui valor temporal puro, indicando simultaneidade de tempo com a oração principal.
- D) Na oração “Parece cenário de filme distópico, mas esse era o Brasil antes de 1988”, a conjunção destacada é coordenativa adversativa, estabelecendo uma relação de oposição ou ressalva entre a expectativa sugerida pela primeira oração e a realidade histórica.
- E) Em “grande parte das gestantes arriscaria dar à luz em casa, muitas vezes sem segurança”, o termo “sem” funciona como uma conjunção subordinativa concessiva que introduz uma oração reduzida, admitindo uma ideia contrária à principal.

QUESTÃO 09 – Considerando a fonologia e a estrutura vocálica e consonantal da Língua Portuguesa, assinale a alternativa correta sobre a relação entre fonemas e grafias.

- A) A palavra “exato” possui 5 grafemas, mas apenas 4 fonemas, pois a letra “X” representa o dígrafo /ks/ e a letra “E” é muda.
- B) Na palavra “crescer”, ocorre um dígrafo consonantal, o que faz com que a palavra tenha 7 letras, mas 6 fonemas.
- C) Em todas as palavras que contêm ditongo decrescente, como “pai” e “muito”, o encontro vocálico é obrigatoriamente formado por uma vogal e uma semivogal.
- D) A palavra “caminho” possui 7 grafemas e 5 fonemas, em razão da presença de dois dígrafos: um dígrafo vocálico na primeira sílaba e um dígrafo consonantal na última sílaba.
- E) Na palavra “aquário”, o encontro vocálico “UA” forma um hiato, uma vez que a letra “U” é sempre considerada uma consoante na formação de sílabas.

QUESTÃO 10 – Com base nas regras ortográficas vigentes, assinale a alternativa correta.

- A) O acento agudo foi mantido nas palavras paroxítonas cuja vogal tônica “I” ou “U” é precedida de ditongo, como em “feiúra” e “baiúca”, garantindo que o hiato fosse marcado graficamente.
- B) O trema, sinal diacrítico que indicava a pronúncia da vogal “U” em certas sílabas, como em “linguiça” e “quinquênio”, foi completamente abolido em todas as palavras da Língua Portuguesa.
- C) Não se utiliza mais o acento agudo em palavras paroxítonas que apresentam os ditongos abertos “ÉI” e “ÓI”, como em “ideia”, “assembleia” e “heroico”, pois essas palavras passaram a seguir a regra geral das paroxítonas.
- D) O hífen pode ser empregado quando o prefixo termina em vogal e o segundo elemento começa com a mesma vogal, como em anti-inflamatório, e com uma vogal diferente, como em anti-ácido.
- E) O prefixo “CO-” exige o uso do hífen se o elemento seguinte iniciar por h (co-herdeiro), mas, se o elemento seguinte iniciar por vogal ou consoante, o prefixo deve ser duplicado, como em coocorrente e corracional.

CONHECIMENTOS GERAIS

QUESTÃO 11 – Qual é o gentílico utilizado para designar quem nasce no município de Três de Maio?

- A) Maionense.
- B) Três-maiense.
- C) Trezemaicense.
- D) Três-maieiro.
- E) Três-maionense.

QUESTÃO 12 – O território onde hoje se localiza o município de Três de Maio integrou, ao longo do tempo, diferentes unidades administrativas do Rio Grande do Sul. Inicialmente pertenceu a Rio Pardo, depois a Cachoeira do Sul e posteriormente foi incorporado aos municípios de _____, criados em 1809, 1819, 1834 e 1873, respectivamente. As terras do município faziam parte da Província das Missões Orientais, administrada pelos jesuítas desde sua chegada ao território gaúcho em 1682.

Assinale a alternativa que preenche corretamente a lacuna do trecho acima.

- A) Cruz Alta e Santo Ângelo
- B) Alegria e Cruz Alta
- C) Santo Ângelo e Alegria
- D) Tuparendi e Boa Vista do Buricá
- E) Boa Vista do Buricá e Santo Ângelo

QUESTÃO 13 – A líder venezuelana María Corina Machado recebeu, em 2025, uma distinção internacional em reconhecimento ao seu esforço pela promoção dos direitos democráticos do povo da Venezuela. Que prêmio é esse?

- A) Prêmio Sakharov.
- B) Medalha das Nações Unidas.
- C) Prêmio Nobel da Paz.
- D) Prêmio Right Livelihood.
- E) Prêmio Millennium.

QUESTÃO 14 – Em 2025, um exame voltou a ser utilizado como alternativa para pessoas que não concluíram a Educação Básica na idade adequada. Nessa modalidade, o participante precisa obter pelo menos 450 pontos em cada área de conhecimento, 500 pontos na redação e, depois, solicitar o certificado de conclusão do Ensino Médio. Esse mesmo exame teve sua primeira prova aplicada em 9 de novembro de 2025, com linguagens, ciências humanas e redação, e terá a segunda fase em 16 de novembro de 2025, com ciências da natureza e matemática. A qual exame o trecho se refere?

- A) Encceja.
- B) Vestibular Unificado.
- C) Saeb.
- D) Enem.
- E) Prova Brasil.

QUESTÃO 15 – Em março de 2025, um dos maiores artistas da música brasileira completou 86 anos. Carioca, conhecido pelo violão de batida marcante e por misturar samba, bossa nova, funk e soul, ele influenciou gerações com seu estilo inovador. Autor de clássicos como “Mas, que Nada!” e “Chove Chuva”, tornou-se referência absoluta do balanço nacional, sendo considerado um dos músicos mais originais e importantes do país. Quem é o artista descrito?

- A) Djavan.
- B) Caetano Veloso.
- C) Gilberto Gil.
- D) Tim Maia.
- E) Jorge Ben Jor.

LEGISLAÇÃO

QUESTÃO 16 – Com base nas disposições da Lei de Improbidade Administrativa, analise as assertivas abaixo:

- I. Os atos de improbidade violam a probidade na organização do Estado e no exercício de suas funções e a integridade do patrimônio público e social dos Poderes Executivo, Legislativo e Judiciário, bem como da administração direta e indireta, no âmbito da União, dos Estados, dos Municípios e do Distrito Federal.
- II. Ainda que comprovado ato culposo com fim ilícito por parte do servidor público, será afastada a responsabilidade por ato de improbidade administrativa.
- III. Para a caracterização do ato de improbidade, não basta a demonstração da voluntariedade do agente na prática do ato, sendo necessária a demonstração do dolo, isto é, da vontade livre e consciente de alcançar o resultado ilícito.

Quais estão corretas?

- A) Apenas I.
- B) Apenas II.
- C) Apenas I e III.
- D) Apenas II e III.
- E) I, II e III.

QUESTÃO 17 – João é servidor público da Prefeitura de Três de Maio e atua no setor de licitações do município. A Prefeitura lançou um edital referente a uma grande licitação para compra de materiais escolares para as escolas públicas municipais da cidade. Em um churrasco, Cláudio, que é proprietário de uma grande loja de materiais escolares e sócio majoritário, pergunta a João detalhes sigilosos da licitação, os quais não constam do edital, a fim de que possa apresentar uma proposta competitiva e, com isso, sair na frente dos demais concorrentes e ganhar a licitação. As informações foram fornecidas de forma livre e consciente por João, que tinha como objetivo ajudar seu amigo na apresentação da melhor proposta, visando que ele saísse vitorioso na licitação. Com base no caso hipotético descrito, analise a sentença abaixo:

A atitude de João não pode ser considerada ato de improbidade administrativa, porquanto João não obteve lucro ou vantagem direta com o fornecimento das informações sigilosas para seu amigo Cláudio **(1ª parte)**. Caso a empresa de Cláudio participe e ganhe a licitação, esta não poderá sofrer sanções, mesmo tendo obtido informações sigilosas e privilegiadas, já que a Lei de Improbidade não permite a aplicação de sanções para pessoas jurídicas, e sim apenas para pessoas físicas **(2ª parte)**. Cláudio poderá responder por ato de improbidade administrativa, ainda que não seja servidor público, desde que comprovada sua atuação dolosa na obtenção das informações **(3ª parte)**.

Quais partes estão corretas?

- A) Apenas a 1ª parte.
- B) Apenas a 2ª parte.
- C) Apenas a 3ª parte.
- D) Apenas a 2ª e a 3ª parte.
- E) Todas as partes.

QUESTÃO 18 – A Lei Maria da Penha permite ao juiz, quando necessário e sem prejuízo de concessão de outras medidas protetivas, conceder à ofendida, vítima de violência doméstica, o auxílio-aluguel, que será concedido por período não superior a:

- A) 6 meses.
- B) 8 meses.
- C) 10 meses.
- D) 12 meses.
- E) 14 meses.

QUESTÃO 19 – Analise a sentença abaixo:

Jairo, de nacionalidade uruguaia, mas residente no Brasil há cinco anos, decide concorrer ao cargo de Presidente da República. Contudo, seu registro de candidatura foi indeferido pela Justiça Eleitoral, pois, segundo a Constituição Federal, o cargo de Presidente da República é privativo de brasileiro nato (**1ª parte**). Juan e Martina, argentinos residentes no Brasil há mais de cinco anos, são pais de Joaquim, nascido em território brasileiro. O simples fato de Joaquim ter nascido em território brasileiro lhe confere a nacionalidade brasileira, ainda que nenhum de seus pais seja brasileiro nato ou naturalizado (**2ª parte**). Os estrangeiros de qualquer nacionalidade residentes no Brasil há mais de dez anos ininterruptos e que não tenham condenação criminal poderão adquirir a nacionalidade brasileira, desde que a requeiram (**3ª parte**).

Quais partes estão corretas?

- A) Apenas a 1ª parte.
- B) Apenas a 2ª parte.
- C) Apenas a 3ª parte.
- D) Apenas a 1ª e a 2ª parte.
- E) Todas as partes.

QUESTÃO 20 – Nos termos da Constituição Federal, a soberania popular no Brasil será exercida através do voto direto e secreto. O voto e o alistamento eleitoral no país são obrigatórios para os maiores de _____ anos e facultativos para os _____. Quanto ao estrangeiro, a Constituição Federal estabelece que este _____ direito a voto.

Assinale a alternativa que preenche, correta e respectivamente, as lacunas do trecho acima.

- A) 16 – analfabetos – não tem
- B) 16 – maiores de 60 anos – não tem
- C) 18 – maiores de 60 anos – tem
- D) 18 – analfabetos – tem
- E) 18 – analfabetos – não tem

QUESTÃO 21 – Ana, servidora pública do Município de Três de Maio, após longa espera judicial, teve deferida em seu favor a adoção de uma criança de seis meses de idade. Segundo o Regime Jurídico dos Servidores Estatutários do Município de Três de Maio (Lei Municipal nº 2.791/2014), em decorrência da adoção, Ana terá direito à licença-maternidade pelo período de quantos dias consecutivos?

- A) 90.
- B) 120.
- C) 150.
- D) 180.
- E) 210.

QUESTÃO 22 – Analise as assertivas abaixo com base nas disposições do Regime Jurídico dos Servidores Estatutários do Município de Três de Maio e assinale V, se verdadeiras, ou F, se falsas.

- () Será concedida, ao servidor efetivo, licença para o desempenho de mandato de conselheiro tutelar, sem prejuízo de remuneração.
- () Sem qualquer prejuízo, poderá o servidor ausentar-se do serviço por 5 dias consecutivos, a partir da data do evento, por motivo de casamento.
- () Sem qualquer prejuízo, poderá o servidor ausentar-se do serviço nos dias em que estiver comprovadamente realizando provas de exame vestibular para ingresso em estabelecimento de ensino superior.

A ordem correta de preenchimento dos parênteses, de cima para baixo, é:

- A) V – V – V.
- B) F – V – V.
- C) F – F – F.
- D) V – F – V.
- E) F – V – F.

QUESTÃO 23 – Após aprovação em concurso público de provas e títulos, Jorge foi empossado e entrou em exercício no cargo de nutricionista do Município de Três de Maio na data de 01/03/2025. Segundo previsto no plano de carreira municipal, o ingresso de todo servidor dar-se-á na classe inicial. Assim, Jorge ingressou na carreira pela Classe A. Considerando a situação hipotética descrita e tendo por base o disposto na Lei Municipal nº 2.788/2014, que instituiu o Quadro de Cargos Efetivos da Administração Direta do Executivo Municipal de Três de Maio, para promoção à classe imediatamente posterior, além do merecimento, é necessário que Jorge cumpra o período de quantos anos na Classe A?

- A) 2.
- B) 3.
- C) 4.
- D) 5.
- E) 6.

QUESTÃO 24 – Com base nas disposições constantes do Código de Posturas do Município de Três de Maio, analise as assertivas abaixo:

- I. É expressamente proibido soltar balões à combustão em toda a extensão do Município de Três de Maio.
- II. É permitido ao cidadão cortar, podar, derrubar e remover a arborização pública, independentemente de autorização do órgão técnico municipal responsável, desde que esta esteja prejudicando a circulação dos pedestres ou ameaçando a vida de pessoas.
- III. Em período de campanha eleitoral, é permitida a colocação de cartazes e anúncios nas árvores localizadas em vias ou logradouros públicos.

Quais estão corretas?

- A) Apenas I.
- B) Apenas II.
- C) Apenas III.
- D) Apenas I e III.
- E) I, II e III.

QUESTÃO 25 – A estabilidade do servidor público está prevista na Constituição Federal. Considere que Ana, após ser nomeada, tomou posse em cargo público em 01/03/2019 e, na mesma data, entrou em exercício, sendo que, de lá para cá, não houve interrupção do exercício da atividade profissional. Além disso, Ana obteve êxito nas avaliações de desempenho realizadas no período de estágio probatório. Considerando o caso hipotético apresentado, é correto afirmar que Ana será estável no cargo a partir de:

- A) 01/03/2021.
- B) 01/08/2021.
- C) 01/03/2022.
- D) 01/08/2022.
- E) 01/03/2023.

MATEMÁTICA/RACIOCÍNIO LÓGICO

QUESTÃO 26 – Analise as operações a seguir e assinale V, caso o resultado lógico da operação seja verdadeiro, ou F, caso o resultado lógico da operação seja falso.

() $3 + 3 = 6$ e $7 + 8 = 15$.

() $2^3 = 6$ e $3^2 = 9$.

() $\sqrt{64} = 8$ ou $\sqrt{36} = 6$.

A ordem correta de preenchimento dos parênteses, de cima para baixo, é:

A) V – V – V.

B) V – F – F.

C) V – F – V.

D) F – F – V.

E) F – V – F.

QUESTÃO 27 – Enzo aplicou R\$ 20.000,00 a juros compostos de 3% ao mês durante 2 meses. Após esse período, ele distribuiu o valor dos juros entre seus dois filhos, Marcos e Maria. Marcos recebeu $\frac{1}{3}$ do valor dos juros, e Maria ficou com o restante. Qual valor Maria recebeu?

A) R\$ 406,00.

B) R\$ 812,00.

C) R\$ 7.072,67.

D) R\$ 8.120,00.

E) R\$ 14.145,33.

QUESTÃO 28 – Seja uma matriz $A=[a_{ij}]_{3 \times 3}$, tal que $a_{ij} = i - j^2$, qual é o valor de $a_{13} : a_{32} + a_{31}$?

A) -6.

B) -4.

C) 5,43.

D) 9.

E) 10.

QUESTÃO 29 – Qual é o valor de $\frac{a^2 - 2 \cdot b - 2\sqrt{b}}{a^1}$, sendo $a = 3$ e $b = 4$?

A) -9.

B) -3.

C) -1.

D) 1.

E) 3.

QUESTÃO 30 – Quanto mede o perímetro do polígono da base de uma pirâmide quadrangular regular com volume igual a 405 cm^3 e altura de 15 cm?

A) 9 cm.

B) 18 cm.

C) 24 cm.

D) 36 cm.

E) 81 cm.

CONHECIMENTOS ESPECÍFICOS

QUESTÃO 31 – A Figura abaixo mostra dimensões referenciais para a transposição de obstáculos isolados por pessoas em cadeiras de rodas. De acordo com a NBR 9050:2020, a letra A refere-se a:

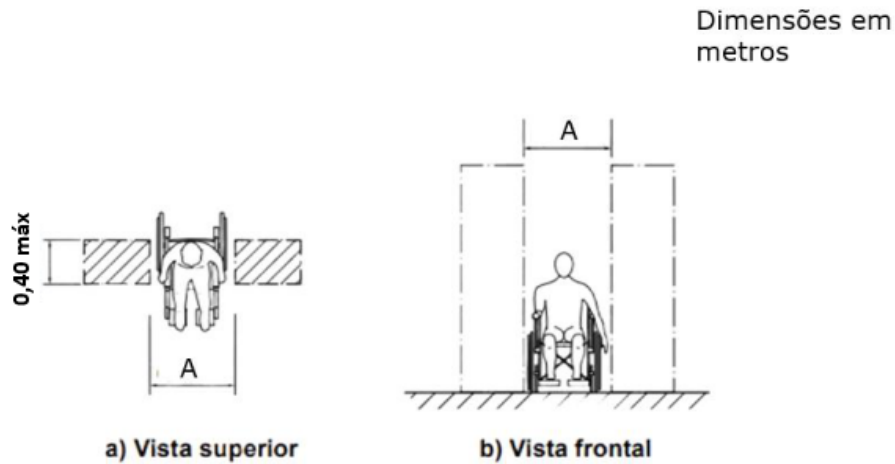


Figura – sem escala

- A) 0,70 mín.
- B) 0,80 mín.
- C) 0,90.
- D) 1,10.
- E) 1,20.

QUESTÃO 32 – A definição de “instrumento técnico constituído do conjunto dos elementos necessários à adoção das medidas jurídicas, urbanísticas, ambientais e sociais que visam à regularização de assentamentos irregulares” adotada na NBR 16636-3:2020 refere-se ao(à):

- A) Plano de habitação de interesse social.
- B) Plano de regularização fundiária.
- C) Programa de gerenciamento de riscos.
- D) Renovação urbana.
- E) Requalificação.

QUESTÃO 33 – Sobre o projeto executivo arquitetônico (PE-ARQ) abordado na NBR 16636-2:2017, analise as assertivas abaixo:

- I. Entre os elementos que compõem o PE-ARQ, devem constar plantas, cortes, elevações, detalhes construtivos, memoriais descritivos e quantitativos, além de planilhas orçamentárias.
- II. Para a elaboração do PE-ARQ é utilizada apenas a documentação do projeto legal, sendo dispensável o anteprojeto arquitetônico como referência.
- III. O conjunto de documentos do PE-ARQ deve restringir-se a desenhos técnicos, não sendo permitida a inclusão de perspectivas, maquetes ou recursos audiovisuais.

Quais estão corretas?

- A) Apenas I.
- B) Apenas II.
- C) Apenas III.
- D) Apenas I e II.
- E) I, II e III.

QUESTÃO 34 – A Prefeitura de Três de Maio está desenvolvendo o projeto de requalificação de uma praça pública. Na área de passeio principal, optou pelo assentamento de um piso intertravado. De acordo com a NBR 16636-4:2023, a paginação em planta utilizada no assentamento deste piso e ilustrada na Figura abaixo é do tipo:




Figura – Assentamento de piso intertravado – Paginação em planta Sem escala

- A) Ortogonal.
- B) Alinhado sentido horizontal.
- C) Dama.
- D) Tijolo.
- E) Amarrado.

QUESTÃO 35 – Sobre os Sistemas Prediais de Água Fria e Água Quente (SPAFAQ), é INCORRETO afirmar que:

- A) Tubos, conexões, válvulas e reservatórios são exemplos de componentes.
- B) Conexão cruzada é qualquer meio que põe em contato a água potável do SPAFAQ com outra água de qualidade desconhecida ou não potável.
- C) Pressão de serviço é o valor de pressão estática ou dinâmica a que um componente fica submetido em condição de operação normal.
- D) Refluxo de água é o escoamento de água proveniente de qualquer outra fonte, que não a fonte de abastecimento prevista, para o interior da tubulação destinada a conduzir água desta fonte.
- E) Restritor de vazão é o componente instalado na peça de utilização com a finalidade de provocar perda de carga localizada.

QUESTÃO 36 – De acordo com a Lei nº 6.766/1979, que dispõe sobre o Parcelamento do Solo Urbano, analise as assertivas abaixo:

- I. Consideram-se comunitários os equipamentos públicos de educação, saúde, comércio e similares.
- II. Nos parcelamentos situados em Zonas Habitacionais de Interesse Social (ZHIS), a infraestrutura básica consistirá de vias de circulação, rede de telefonia, rede de gás canalizado e rede de abastecimento de água potável.
- III. Nos Municípios inseridos no cadastro nacional de municípios com áreas suscetíveis à ocorrência de deslizamentos de grande impacto, inundações bruscas ou processos geológicos ou hidrológicos correlatos, a aprovação do projeto ficará vinculada ao atendimento dos requisitos constantes da carta geotécnica de aptidão à urbanização.

Quais estão corretas?

- A) Apenas I.
- B) Apenas II.
- C) Apenas III.
- D) Apenas II e III.
- E) I, II e III.

QUESTÃO 37 – De acordo com a Lei nº 10.257/2001, é INCORRETO afirmar que:

- A) A política urbana tem por objetivo ordenar o pleno desenvolvimento das funções sociais da cidade e da propriedade urbana, mediante ordenação e controle do uso do solo, de forma a evitar a exposição da população a riscos de desastres, dentre outras diretrizes.
- B) Lei municipal específica para área incluída no plano diretor poderá determinar o parcelamento, a edificação ou a utilização compulsórios do solo urbano não edificado, subutilizado ou não utilizado, devendo fixar as condições e os prazos para implementação da referida obrigação.
- C) São partes legítimas para a propositura da ação de usucapião especial urbana o possuidor, isoladamente ou em litisconsórcio originário ou superveniente; e os possuidores, em estado de comosse.
- D) Lei municipal, baseada no plano diretor, delimitará as áreas em que incidirá o direito de preempção e fixará prazo de vigência, não superior a cinco anos, renovável a partir de um ano após o decurso do prazo inicial de vigência.
- E) Poderão ser previstas nas operações urbanas consorciadas, entre outras medidas: a modificação de índices e características de parcelamento, uso e ocupação do solo e subsolo, bem como alterações das normas edilícias, considerado o impacto ambiental delas decorrente; e a regularização de construções, reformas ou ampliações executadas em desacordo com a legislação vigente.

QUESTÃO 38 – De acordo com a NBR 14100:2022, o símbolo apresentado na Figura abaixo refere-se a:

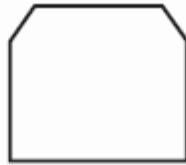


Figura – sem escala

- A) Baterias.
- B) Detector pontual na parede.
- C) Reservatório.
- D) Equipamentos de controle e sinalização.
- E) Dispositivo de pressurização.

QUESTÃO 39 – Sobre as escadas e rampas, abordadas pela NBR 9077:2025, analise as assertivas abaixo:

- I. As escadas e rampas são classificadas em dois tipos: protegidas e à prova de fumaça.
- II. As escadas do tipo à prova de fumaça subdividem-se em duas categorias: C i (enclausurada com antecâmara ventilada diretamente para o exterior) e C ii (pressurizada).
- III. As escadas externas devem ser limitadas a edifícios de até 45 m, que podem ser acessados externamente pelos corpos de bombeiros.

Quais estão corretas?

- A) Apenas I.
- B) Apenas II.
- C) Apenas III.
- D) Apenas I e II.
- E) I, II e III.

QUESTÃO 40 – De acordo com a NBR 6492:2021, os materiais mais utilizados devem ter suas convenções gráficas representadas. Com base nessa norma, a Figura abaixo refere-se a:



Figura – sem escala

- A) Neoprene.
- B) Isolante termoacústico.
- C) Solo.
- D) Madeira em vista.
- E) Enchimento de piso.