



CONCURSO PÚBLICO

PREFEITURA MUNICIPAL DE JURUTI – PARÁ

EDITAL Nº 001.00/2025 – PMJ/SEMAD

CARGO: AGENTE DE SERVIÇOS GERAIS; AGENTE DE SERVIÇOS URBANOS; ALMOXARIFE; CARPINTEIRO; CINEGRAFISTA; ELETRICISTA; ENCANADOR; FOTÓGRAFO; MECÂNICO DE REFRIGERAÇÃO; MERENDEIRA; OPERADOR DE CASA DE FORÇA E MICROSISTEMA; PEDREIRO; SERRALHEIRO/SOLDADOR
NÍVEL: FUNDAMENTAL COMPLETO
TURNO: MANHÃ

ORIENTAÇÕES AO CANDIDATO

1- Este CADERNO DE QUESTÕES é composto de 30 (trinta) questões, cada uma com 05 (cinco) alternativas e somente uma correta. Caso exista algum problema de impressão, ou outro qualquer, comunique-o imediatamente aos fiscais de sala.

2- Leia, atentamente, cada questão da prova antes de responder.

3- Transcreva para o CARTÃO-RESPOSTA a resposta definitiva de cada questão. Marque somente uma alternativa, pois a marcação de mais de uma alternativa, ou a ausência de marcação, anulará a questão. Preencha corretamente o CARTÃO-RESPOSTA, porque ele não será substituído por erro do candidato. Preencha com caneta esferográfica, azul ou preta, conforme exemplo abaixo:

QUESTÃO	ALTERNATIVAS
01	<input type="radio"/> A <input type="radio"/> B <input checked="" type="radio"/> C <input type="radio"/> D <input type="radio"/> E

4- O CARTÃO-RESPOSTA DEVE SER obrigatoriamente assinado (subitem 9.33.p do edital).

5- A prova terá a duração de 03 (três) horas, com o início previsto às 09:00 (nove horas) e término às 12:00 (doze horas) horário local.

6- Não será permitido ao candidato permanecer com armas, aparelhos eletrônicos (telefone celular, relógio de qualquer modelo, smartphone, notebook, receptor, gravador etc.), tampouco qualquer tipo de material para consulta ou quaisquer objetos mencionados no subitem 9.5. do edital.

7- O candidato só poderá retirar-se da sala de provas após decorridos 60 minutos (1 hora) de seu início.

8- Após decorridos 120 minutos (2 horas) do início das provas, o candidato poderá levar o CADERNO DE QUESTÕES, entregando ao fiscal somente o CARTÃO-RESPOSTA.

9- Não será permitido ao candidato consultar o fiscal sobre quaisquer dúvidas relacionadas às interpretações dos enunciados das questões.

10- Os três últimos candidatos deverão permanecer na sala e somente poderão sair juntos do recinto após lerem, concordarem e assinarem a ata de sala (subitem 9.32.e do edital).

BOA PROVA!

ELABORADO POR:

O texto abaixo serve de base para as questões de 01 a 10. Portanto, leia-o, atentamente, antes de responder a elas.

Como garantir a Sustentabilidade Ambiental?

Uma pergunta assalta e perturba os vários cidadãos conscientes, autoridades preocupadas com a situação do meio ambiente e as organizações que militam na área: como garantir a sustentabilidade ambiental nas grandes cidades?

A resposta a essa pergunta atinge um caráter de urgência quando percebemos claramente os sinais de degradação e constatamos que o planeta fica triste e sente, como nunca, o impacto do peso da vida humana e das ações predatórias longamente praticadas por nós. Manter as bases da economia e o estilo de vida das populações urbanas nos níveis atuais, onde o consumismo desenfreado e o descarte de grandes quantidades de materiais tóxicos e lixo é praticamente a ordem reinante e a lógica por trás de quaisquer ações humanas. Cedo ou tarde, os impactos desse modo de vida se tornarão irreversíveis e **populações inteiras sentirão a mão pesada da natureza sobre suas vidas**. Vencer as resistências locais e as políticas aceitas tradicionalmente como verdades absolutas é a missão do novo pensamento que deve se espalhar e dominar as mentes e os corações dos “novos políticos” e do “novo cidadão”.

A grande realidade é que para garantir a sustentabilidade ambiental nas grandes cidades, devemos praticamente abandonar o modo de vida que experimentamos até hoje e criar devida consciência nas massas e na classe dirigente de que a exploração desenfreada do meio ambiente só levará à destruição do planeta. Num sistema insustentável de produção, os recursos naturais planetários seriam exauridos muito rapidamente e proporcionariam problemas gravíssimos que seriam sentidos com um impacto devastador nos grandes aglomerados urbanos.

Fazer com que a aplicação de políticas garantidoras da sustentabilidade ambiental nas grandes cidades represente uma realidade em que se leva em consideração a capacidade de reposição que o planeta tem de seus recursos e, ao mesmo tempo, manter medidas que permitam uma maior justiça social, é o que deve ser feito.

As mudanças que já foram sentidas devem ser estimuladas e seus reflexos plenamente positivos em uma escala pequena devem servir de exemplo para que nações e governos menores comecem a implementá-las e a sentir seus reflexos cada vez mais intensamente. Conseguir alterar as relações de consumo e educar a população para o real significado das políticas de conservação do meio ambiente pode ser a única forma de garantir a sustentabilidade ambiental de forma efetiva e com resultados em médio e longo prazo.

Fazer com que nossas populações questionem o seu modo de vida e fazê-las entender que se os recursos do planeta não tiverem “a oportunidade” de se renovarem e de se sustentarem sob a pressão de uma demanda constante de consumo exacerbado, a vida no planeta, como a conhecemos, acabará de forma dramática, e, somente através desse processo de conscientização, poderemos garantir a sustentabilidade ambiental.

O colapso das grandes cidades e os conflitos sociais e entre países serão inevitáveis e de proporções apocalípticas. Sendo os “vitoriosos” sobreviventes herdeiros de uma terra exaurida e devastada, incapaz de sustentar a vida e inútil para qualquer um de nós, ricos ou pobres.

Um dado estatístico pode corroborar muito bem com essas relações problemáticas e perigosas entre populações urbanas e recursos naturais. Basta saber que para sustentar apenas um quarto da população mundial que habita nos países ricos são necessários três quartos de todos os recursos naturais do planeta. Por essa simples constatação, pode-se perceber claramente que será impossível fornecer os recursos necessários para que todos os seres humanos possam atingir um padrão de vida razoável no ritmo de consumo atual. Somente com o desenvolvimento sustentável será possível garantir a sustentabilidade ambiental, e com isso poderemos reverter nossa atual situação.

Pessoal, pensem nisso e cuidem do nosso planeta!

Fonte: <http://www.ecologiaurbana.com.br/sustentabilidade/como-garantir-sustentabilidade-ambiental/> Adaptada

QUESTÃO 01

Ao fazer a leitura do texto, percebe-se que o autor

- A () colocou um título que está inadequado ao tema.
- B () agradece a todas as pessoas que cuidam e valorizam o meio ambiente.
- C () faz um alerta para que todas as pessoas cuidem de seus familiares.
- D () está preocupado com a situação do planeta, menciona algumas soluções para garantir a sustentabilidade ambiental e, ainda, pede que o leitor reflita sobre tal assunto.
- E () afirma que todos os cidadãos estão preocupados com a situação do meio ambiente.

QUESTÃO 02

Releia o seguinte trecho: “...acabará de forma dramática, e, somente através desse processo de conscientização, poderemos garantir a sustentabilidade ambiental.”, o termo “somente”, usado no referido trecho, pode ser substituído, sem prejuízo de sentido, por

- A () até.
- B () apenas.
- C () depois.
- D () também.
- E () igualmente.

QUESTÃO 03

Em várias passagens do texto, o autor faz uso de verbos na 1ª pessoa. Partindo dessa premissa, marque a assertiva em que há verbo(s) na 1ª pessoa.

- A () "...devemos praticamente abandonar o modo de vida que experimentamos até hoje..."
- B () "Uma pergunta assalta e perturba os vários cidadãos conscientes, autoridades preocupadas com a situação do meio ambiente..."
- C () "Um dado estatístico pode corroborar muito bem com essas relações problemáticas e perigosas entre populações urbanas e recursos naturais."
- D () "O colapso das grandes cidades e os conflitos sociais e entre países serão inevitáveis e de proporções apocalípticas."
- E () "Basta saber que para sustentar apenas um quarto da população mundial que habita nos países ricos são necessários três quartos de todos os recursos naturais do planeta."

QUESTÃO 04

Qual é a figura de linguagem que se faz presente no trecho destacado no texto (2º parágrafo)?

- A () Silepse de gênero.
- B () Antítese.
- C () Personificação.
- D () Onomatopeia.
- E () Eufemismo.

QUESTÃO 05

Na frase: "Pessoal, pensem nisso e cuidem do nosso planeta!", foi usada a vírgula após o termo "Pessoal", porque estamos diante de um(a)

- A () enumeração.
- B () sujeito simples.
- C () elipse.
- D () aposto explicativo.
- E () vocativo.

QUESTÃO 06

Qual é a função da linguagem, predominantemente, no último parágrafo do texto?

- A () Função Metalinguística.
- B () Função Referencial.
- C () Função Apelativa.
- D () Função Emotiva.
- E () Função Fática.

QUESTÃO 07

Analise as afirmações abaixo:

I. Os vocábulos "Gravíssimos" e "Políticas" são acentuados pela mesma regra de Acentuação gráfica.

II. O texto foi todo construído em uma linguagem verbal.

III. A palavra "Pessoal" é composta por três fonemas.

IV. Na frase: "...percebemos claramente os sinais de degradação...", o termo grifado é, sintaticamente, classificado como advérbio de tempo.

Quais afirmações estão corretas?

- A () I, II e IV, apenas.
- B () I e II, apenas.
- C () Todas estão corretas.
- D () III, apenas.
- E () III e IV, apenas.

QUESTÃO 08

Releia o trecho seguinte: “O colapso das grandes cidades e os conflitos sociais e entre países serão inevitáveis e de proporções apocalípticas. Sendo os “vitoriosos” sobreviventes herdeiros de uma terra exaurida e devastada, incapaz de sustentar a vida e inútil para qualquer um de nós, ricos ou pobres.”

Marque a alternativa que contenha a afirmação correta acerca do trecho em análise.

- A O trecho inicia com um artigo indefinido.
- B Todo o trecho é ambíguo.
- C O autor, ao afirmar que os conflitos serão inevitáveis e de “proporções apocalípticas”, deixa claro que é otimista quanto ao futuro das grandes cidades.
- D O trecho finaliza com um par de palavras sinônimas, a saber, “ricos” e “pobres”.
- E As palavras “exaurida” e “devastada” concordam em gênero e número com o nome “terra”.

QUESTÃO 09

O texto “Como garantir a Sustentabilidade Ambiental?” é um artigo de opinião, ou seja, é um gênero textual pertencente ao tipo argumentativo e tem como intencionalidade apresentar o ponto de vista do/a articulista — locutor/a do texto — acerca de algum assunto relevante socialmente. E, por ser um texto argumentativo, há uma predominância, nesse texto de uma variante da língua, chamada de

- A popular.
- B informal.
- C regional.
- D formal.
- E histórica.

QUESTÃO 10

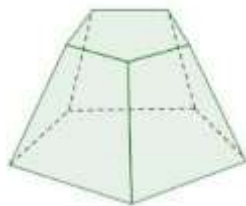
No trecho: “A resposta a essa pergunta atinge um caráter de urgência quando percebemos claramente os sinais de degradação e constatamos que o planeta fica triste e sente, como nunca, o impacto do peso da vida humana e das ações predatórias longamente praticadas por nós”, a oração grifada se classifica em

- A oração subordinada adverbial temporal.
- B oração subordinada adverbial causal.
- C oração coordenada sindética aditiva.
- D oração subordinada substantiva objetiva direta.
- E Oração subordinada substantiva predicativa.

MATEMÁTICA

QUESTÃO 11

Um artesão utiliza palitos de madeira para construir a estrutura da base de troféu, conforme mostra a figura. Cada palito utilizado corresponde a uma aresta da estrutura.



De quantos palitos o artesão precisará?

- A 7
- B 9
- C 10
- D 12
- E 15

QUESTÃO 12

Um grupo de turistas que visita a cidade de Juruti reuniu-se em um restaurante da cidade para almoçar. Dezoito pessoas comeram tucunaré assado e doze pessoas optaram por comer tambaqui. O dono do restaurante decidiu dar uma sobremesa grátis a um turista, que foi escolhido ao acaso. Qual a probabilidade de a pessoa sorteada ter comido tucunaré?

- A 60%
- B 55%
- C 50%
- D 45%
- E 40%

QUESTÃO 13

Uma embarcação leva 2,4 horas para fazer uma viagem do município de Parintins-AM para Juruti-PA. O tempo dessa viagem corresponde a

- A () 2 horas e 12 minutos.
- B () 2 horas e 20 minutos.
- C () 2 horas e 24 minutos.
- D () 2 horas e 36 minutos.
- E () 2 horas e 40 minutos.

QUESTÃO 14

Um vendedor recebe 5% de comissão sobre cada venda que efetua. Em um dia, ele vendeu dois produtos: um custa R\$ 2500,00 e o outro, R\$ 1 700,00. Qual o valor que o vendedor tem a receber por essas vendas?

- A () R\$ 126,00
- B () R\$ 210,00
- C () R\$ 252,00
- D () R\$ 336,00
- E () R\$ 400,00

QUESTÃO 15

Luis e Carlos são contratados para realizar um serviço de montagem de móveis por R\$ 2 400,00. Ao todo, Luis trabalhou 10 horas e Carlos, 15 horas para concluir o serviço. Eles devem repartir o valor pago sendo que essa divisão deve ser proporcional ao tempo trabalhado. Com base nas informações, quanto Luis tem a receber?

- A () R\$ 820,00
- B () R\$ 880,00
- C () R\$ 960,00
- D () R\$ 1 200,00
- E () R\$ 1 440,00

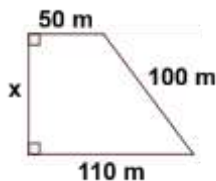
QUESTÃO 16

Após fazer alguns pagamentos das despesas fixas da casa, Marta ficou com saldo negativo de R\$ 124,80 na sua conta. Nesse mesmo dia, ainda foi descontado o valor de R\$ 156,30 referente à fatura do cartão de crédito feito em débito automático. Pela noite, ela recebeu um pix de R\$ 142,60 de uma cliente. Qual é o saldo da conta de Marta ao final do dia?

- A () - R\$ 153,50
- B () - R\$ 146,50
- C () - R\$ 141,00
- D () - R\$ 138,50
- E () - R\$ 132,00

QUESTÃO 17

Pedro comprou um terreno na forma de trapézio e algumas das medidas estão descritas na figura. A medida representada por x corresponde à frente do terreno.



Quanto mede a frente desse terreno?

- A () 90 m
- B () 80 m
- C () 70 m
- D () 60 m
- E () 50 m

QUESTÃO 18

A tabela mostra o valor do salário-hora de um grupo de funcionários de uma empresa.

Funcionário	Salário-hora
Daniela	R\$ 167,80
Sérgio	R\$ 8,15
Maurício	R\$ 131,35
Cláudia	R\$ 65,90
Aline	R\$ 18,30
Francisco	R\$ 38,40
Gisele	R\$ 10,45
Hugo	R\$ 78,30

O valor salário-hora mediano pago por essa empresa é

- A () R\$ 36,90.
- B () R\$ 41,10.
- C () R\$ 46,65.
- D () R\$ 52,15.
- E () R\$ 64,30.

QUESTÃO 19

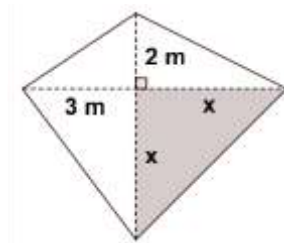
As amigas Mônica e Letícia irão iniciar a prática de atividades físicas. Para isso, elas foram a uma loja de produtos esportivos e compraram camisas e bermudas do mesmo modelo. Mônica comprou 4 camisas e 3 bermudas e pagou R\$ 252,00. Letícia comprou 2 camisas e 5 bermudas e pagou R\$ 224,00.

Quanto custou cada camisa?

- A () R\$ 42,00
- B () R\$ 40,00
- C () R\$ 36,00
- D () R\$ 32,00
- E () R\$ 28,00

QUESTÃO 20

Lúcia construiu uma pequena horta quadrangular de 21 m^2 no quintal de sua casa. Ela pretende dividi-la em quatro partes, conforme mostra a figura.



Na parte destacada na figura, ela pretende plantar manjeriço. Quanto mede a área dessa região?

- A () 4 m^2
- B () 5 m^2
- C () 6 m^2
- D () 7 m^2
- E () 8 m^2

QUESTÃO 21

A menos de um mês para a COP30, em Belém, o Ibama acaba de conceder a licença para que a Petrobras explore petróleo na Bacia da Foz do Amazonas, região rica em biodiversidade marinha e que abriga um massivo sistema recifal de relevante importância ecológica para o Oceano Atlântico e comunidades indígenas, quilombolas e tradicionais que dependem da Amazônia costeira para sobreviver.

“Às vésperas da COP 30, o Brasil se veste de verde no palco internacional, mas se mancha de óleo na própria casa. Enquanto o mundo se volta para a Amazônia em busca de soluções para a crise climática, vemos o Ibama conceder licença para que a Petrobras abra um poço de petróleo em pleno coração do planeta”, afirma a coordenadora da frente de Oceanos do Greenpeace Brasil, Mariana Andrade.

Além da contradição entre o discurso climático do Brasil e o avanço de uma nova fronteira de petróleo no país, Andrade ressalta que, em um cenário de emergência climática como o atual, a abertura de novos poços de petróleo contradiz os compromissos do próprio país com a transição energética e apenas reforça padrões excludentes, insustentáveis e ambientalmente predatórios.

Disponível em: greenpeace.org. Acesso em: 26 out, 2025.

A partir da leitura do texto, é possível constatar que seu objetivo é revelar

- A () o predomínio de uma lógica desenvolvimentista que prioriza o crescimento econômico em detrimento da sustentabilidade ecológica, revelando tensões entre o capitalismo e os compromissos climáticos internacionais.
- B () a consolidação de um modelo energético pautado na substituição imediata dos combustíveis fósseis por fontes limpas, em sintonia com as metas da COP30.
- C () a superação das desigualdades regionais por meio da exploração racional dos recursos naturais da Amazônia, em conformidade com o princípio da justiça ambiental.
- D () o fortalecimento do protagonismo dos povos indígenas e quilombolas na gestão ambiental da Amazônia costeira, em parceria com o setor petrolífero nacional.
- E () a efetiva aplicação de políticas públicas de amenização da crise climática, que associam exploração de petróleo e preservação da biodiversidade marinha.

QUESTÃO 22

É alta madrugada quando um estrondo rompe o silêncio na floresta. A pequena Amanda, de 3 anos, com o coração disparado, corre para a rede do avô. “Ela sempre se assusta quando jogam essa âncora. Depois disso, ninguém mais dorme na comunidade”. Quem fala é Amarildo Santos de Jesus, liderança [quilombola] na comunidade de Boa Vista.

Instalada a apenas 500 metros de Boa Vista na década de 1970, a mineradora transformou o estilo de vida da comunidade. Os quilombolas tiveram boa parte de seu território expropriado e viram a rica biodiversidade da região sofrer impactos irreversíveis. “A mineração fez a comunidade pensar que é igual uma cidade. Se a gente quer comer uma fruta, tem que comprar. Até farinha a gente compra, porque ela [a mineradora] foi tirando isso da gente”, constata Amarildo.

Disponível em: reporterbrasil.org.br. Acesso em: 26 out, 2025.

Considerando o texto e seus conhecimentos sobre a realidade socioambiental amazônica, o episódio descrito exemplifica

- A () a superação dos conflitos socioambientais na Amazônia por meio de um modelo de exploração econômica participativo e inclusivo.
- B () a efetiva integração das comunidades quilombolas às políticas públicas de exploração sustentável dos recursos amazônicos.
- C () a valorização dos saberes tradicionais por parte das empresas que atuam em áreas florestais, em consonância com as metas de desenvolvimento sustentável.
- D () a resistência de comunidades tradicionais diante dos impactos provocados por atividades econômicas que desrespeitam seus direitos territoriais e culturais.
- E () a implantação de tecnologias de baixo impacto nas atividades extrativistas locais, o que garante a convivência harmônica entre tradição e progresso.

QUESTÃO 23

Nas décadas de 1970 e 1980, o município de Juruti possuía como característica uma economia de subsistência, baseada na agricultura familiar e pesca em pequena escala. Grande parte da população morava na zona rural a qual se dividia em região planaltina (terra firme) e várzea (ribeirinhos do rio Amazonas e seus afluentes). Mesmo os residentes na sede do município tinham algum tipo de relação com o trabalho na roça. Algumas famílias que moravam em terra firme cultivavam pequenas roças de mandioca, macaxeira, milho e alternavam com a criação de animais, como galinha, porco e pequenos rebanhos de gado. Os ribeirinhos também cultivavam pequenas roças de mandioca, criação de animais e plantavam juta, que era uma fibra utilizada para a fabricação de sacas para armazenar alimentos, principalmente, o café. Nesse período, a produção da fibra estava em franca decadência devido à concorrência com a fibra asiática.

COUTO, Raimundo Jorge da Cruz; COLARES, Anselmo Alencar. "História de saberes amazônicos e emancipação política: o artesanato em Juruti-PA". *Revista Cocar*. v.15, n.33, 2021.

O texto descreve a cidade de Juruti nas décadas de 1970 e 1980, marcada pela agricultura familiar, pesca e pequenas criações, reconhecidas como economias sustentáveis. Considerando esse contexto, qual modelo de economia mais se aproxima das práticas citadas pelos autores?

- A () Industrialização intensiva.
- B () Capitalismo financeiro.
- C () Extrativismo mineral.
- D () Economia solidária.
- E () Agroecologia.

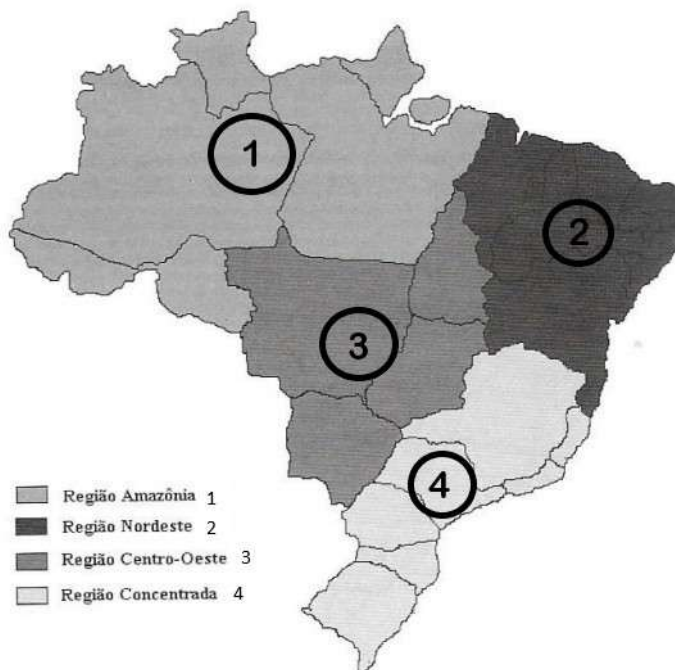
QUESTÃO 24

TEXTO I

O geógrafo Milton Santos, no início dos anos 2000, propôs a regionalização brasileira segundo o meio técnico-científico-informacional os critérios de regionalização estão ligados a inserção das regiões brasileiras ao meio técnico-científico-informacional sendo as regiões diferenciadas pela densidade de recursos técnicos, informacionais e pela rede de transporte e comunicação integradas às atividades econômicas. Essa possibilidade de regionalização é conhecida como os "quatro brasis": Região Amazônica, Nordeste, Centro-Oeste e região Concentrada.

Disponível em: sme.goiania.go.gov.br. Acesso em: 28 out. 2025.

TEXTO II



Brasil: regiões geoeconômicas. Disponível em: sme.goiania.go.gov.br. Acesso em: 28 out. 2025.

De acordo com os textos, o critério usado por Milton Santos para propor a regionalização do Brasil baseia-se principalmente em

- A () diferenças climáticas e de relevo das regiões.
- B () divisões políticas e administrativas dos estados.
- C () distribuição da população rural e urbana do país.
- D () variação cultural e linguística da população brasileira.
- E () nível de acesso a tecnologias e informações em cada região.

QUESTÃO 25

FESTIBAL É RECONHECIDO COMO PATRIMÔNIO CULTURAL DE NATUREZA IMATERIAL DO PARÁ

A festividade é uma celebração dos costumes indígenas e simboliza a luta dos povos da floresta pela valorização e respeito de suas tradições. Ao longo de suas três décadas de história, o Festibal tem movimentado o turismo da região, atraindo visitantes de todo o Brasil e reunindo um público estimado em cerca de 5 mil pessoas por edição.

Disponível em: oliberal.com. Acesso em: 18 maio, 2025.

Marque a alternativa que apresenta um tipo de patrimônio que pertence à mesma categoria do patrimônio apresentado acima.

A ()



Lençóis Maranhenses (Maranhão, Brasil).

B ()



Muralha da China (China).

C ()



Coliseu Romano (Roma, Itália).

D ()



Samba de Cacete (Pará, Brasil).

E ()



Parque Nacional do Iguaçu (Paraná, Brasil).

QUESTÃO 26

A região do vale amazônico, pelo Tratado de Tordesilhas (1494), era de posse da Coroa espanhola. Assim sendo, a foz do rio Amazonas foi descoberta por Vicente Yáñez Pinzón, um navegador espanhol que a alcançou em fevereiro de 1500. Seu primo, Diego de Lepe, também alcançou a foz do rio Amazonas, em abril do mesmo ano. Os portugueses, com a finalidade de consolidar a região como território português, fundaram o Forte do Presépio, na então chamada Santa Maria de Belém do Grão-Pará. A construção foi a primeira do modelo na Amazônia, e também a mais significativa no território amazônico até 1660. Apesar da construção do Forte, a ocupação do território foi desde cedo marcada por incursões de Neerlandeses e Ingleses em busca de especiarias. Daí a necessidade dos portugueses de fortificar a área.

Disponível em: www.pa.gov.br. Acesso em: 04 nov. 2025.

O texto apresenta o processo inicial de ocupação da Amazônia pelos portugueses, destacando a fundação do Forte do Presépio em Belém como forma de garantir o domínio sobre a região. Para compreender plenamente o sentido dessa ação, é necessário reconhecer que ela se relaciona

- A à disputa colonial entre as potências europeias pela posse de territórios nas Américas, intensificada pela expansão marítima e pelo comércio de produtos da região.
- B à implantação do sistema de capitanias hereditárias na região amazônica, voltado à exploração de minérios.
- C à política pombalina de modernização econômica e administrativa do Império Português no século XVIII.
- D ao processo de independência política do Brasil, marcado pela resistência portuguesa na Amazônia.
- E à colonização espanhola da Amazônia, autorizada pelo Tratado de Madri.

QUESTÃO 27

A LOIRA DO JARÁ

Narrador: Relatos levam a crer que na verdade a voz pertencia a um ser encantado do Lago do Jará. O ser encantado se encantou pela beleza da moça e queria ficar com ela, tirando o seu sossego e atraindo-a cada vez mais. Num determinado dia, mais precisamente num final de tarde, por volta das 18 horas, a jovem ouviu novamente a VOZ.

PANACHUK, Lilian; MELO, João Carlos; MUNHOZ, Jânua. (org.). *Memórias de Rua: as vivências e as visagens históricas de Juruti*. São Paulo: S/E, 2016.

Considerando o texto, é possível concluir que ele tem a função de

- A apresentar histórias reais.
- B denunciar determinados acontecimentos.
- C narrar histórias imaginárias do coletivo.
- D informar fatos de interesse público.
- E refutar crenças tidas como fantasiosas.

QUESTÃO 28

Dos municípios Limítrofes com Juruti, qual deles não faz parte da mesma Unidade Federativa?

- A Oriximiná.
- B Parintins.
- C Óbidos.
- D Santarém.
- E Aveiro.

QUESTÃO 29

Uma das grandes fontes de renda do município é a mineração [...]. O principal minério extraído em Juruti é a bauxita [...]. A área de lavra do minério está localizada nos platôs Capiranga, Mauari e Guaraná, numa área de floresta densa, nas cabeceiras do igarapé Juruti Grande.

Disponível em: juruti.pa.gov.br. Acesso em: 05 nov. 2025.

O principal destino da bauxita extraída em Juruti é a produção de alumínio em

- A () Belém.
- B () Ananindeua.
- C () Barcarena.
- D () Abaetetuba.
- E () Marituba.

QUESTÃO 30



Disponível em: conexaoambiental.zip.net. Acesso em: 05 nov. 2025.

Na charge, o menino afirma compreender por que precisam de auxílio para sobreviver. A mensagem central do autor critica

- A () o excesso de terras destinadas às comunidades tradicionais.
- B () o impacto do desmatamento na subsistência dos povos originários.
- C () o avanço das políticas públicas de distribuição de alimentos.
- D () a valorização da agricultura indígena na economia nacional.
- E () o aumento da produtividade agrícola na Amazônia.