



CÂMARA MUNICIPAL DE MOGI DAS CRUZES
ESTADO DE SÃO PAULO

CONCURSO PÚBLICO

004. PROVA OBJETIVA

OFICIAL LEGISLATIVO DE TRANSPORTE

- ◆ Você recebeu sua folha de respostas e este caderno contendo 40 questões objetivas.
- ◆ Confira seus dados impressos na capa deste caderno e na folha de respostas.
- ◆ Quando for permitido abrir o caderno, verifique se está completo ou se apresenta imperfeições. Caso haja algum problema, informe ao fiscal da sala para a devida substituição deste caderno.
- ◆ Leia cuidadosamente todas as questões e escolha a resposta que você considera correta.
- ◆ Marque, na folha de respostas, com caneta de tinta preta, a letra correspondente à alternativa que você escolheu.
- ◆ A duração da prova é de 3 horas, já incluído o tempo para o preenchimento da folha de respostas.
- ◆ Só será permitida a saída definitiva da sala e do prédio após transcorridas 2 horas do início da prova.
- ◆ Ao sair, você entregará ao fiscal a folha de respostas e este caderno.
- ◆ Até que você saia do prédio, todas as proibições e orientações continuam válidas.

AGUARDE A ORDEM DO FISCAL PARA ABRIR ESTE CADERNO.

Nome do candidato _____

RG _____

Inscrição _____

Prédio _____

Sala _____

Carteira _____

CCONHECIMENTOS GERAIS

LÍNGUA PORTUGUESA

Leia o texto para responder às questões de **01** a **05**.

Natal

É época de Natal. De prendas, de frutas secas e fios dourados. De perus e bebidas várias. De plásticos. De muitos plásticos. E de sacrifícios.

Também festa de família.

Estou numa loja. Três mocinhos semi-esfarrapados entram. Não têm pressa. Não pedem para serem atendidos. Os olhinhos passam de um brinquedo para outro e neles vejo o mesmo brilho dos olhos dos meus filhos.

Timidamente, quando não se sentem observados pela vendedora, passam a mão – um dedo só – pela carroceria de um caminhão. Estão mudos, num mundo à parte e nem sequer trocam olhares uns com os outros. Cada um vivendo o sonho de uma viagem, a aventura de uma corrida.

Os compradores entram e saem atarefados. E não vejo alegria neles. A cada presentinho, a cada pacotinho de uma bagatela qualquer, um balanço às notas que ficam, um cálculo mental, uma decepção. E começam as lamentações que os artigos estão caros, que a vida está cada vez mais difícil, que já é tempo de se acabar com o Natal.

Não estou de acordo. É bom haver Natal. É bom escrever aos amigos e dizer-lhes que estão comigo o tempo todo, apesar do meu silêncio. É bom haver Natal e poder dizer-te que tenho saudades tuas, que te amo e te queria abraçar forte. É bom haver Natal, quando não é época de sacrifícios e angústias e dívidas, para se manter uma ridícula aparência de sucesso.

(Dina Salústio. *Mornas Eram as noites*, 2002. Adaptado)

01. O narrador pondera que a época de Natal

- (A) representa um momento de reflexão sobre como a vida é conduzida, mediado pela compra de presentes cujos preços raramente incomodam as pessoas.
- (B) consegue resgatar o que as pessoas têm de melhor, já que elas abandonam totalmente as angústias e fazem sacrifícios e dívidas com alegria genuína.
- (C) traduz comportamentos confusos das pessoas, já que muitas delas a vivenciam deixando os sentimentos de lado e priorizando as compras e as aparências.
- (D) incomoda bastante as pessoas, já que elas precisam reatar laços de amizade e sair do cômodo silêncio, muitas vezes jurando falsamente sentir saudades.
- (E) tem o seu valor humano e comercial, já que as pessoas vão às compras para presentear familiares e amigos e confirmar a sua aparência de sucesso.

02. Com base na percepção do narrador, conclui-se corretamente que os mocinhos semi-esfarrapados

- (A) esquecem a sua condição social e estão envolvidos pelo sonho que o caminhão representa.
- (B) ficam a olhar o caminhão sem pressa porque estão certos de que logo poderão comprá-lo.
- (C) aguardam o melhor momento para chamar a vendedora, ainda que o caminhão seja caro.
- (D) têm receio de adquirir o caminhão e, depois, ficarem lamentando que o produto é ruim.
- (E) ficam tímidos quando veem a vendedora e passam a olhar desinteressadamente o caminhão.

03. O narrador expressa afetividade por meio do termo destacado em:

- (A) De plásticos. De muitos **plásticos**. E de sacrifícios. (1º parágrafo)
- (B) Os **olhinhos** passam de um brinquedo para outro... (3º parágrafo)
- (C) **Timidamente**, quando não se sentem observados pela vendedora... (4º parágrafo)
- (D) A cada presentinho, a cada pacotinho de uma **bagatela** qualquer... (5º parágrafo)
- (E) E começam as **lamentações** que os artigos estão caros... (5º parágrafo)

04. Leia o trecho do 4º parágrafo:

Timidamente, quando **não se sentem observados pela vendedora**, passam a mão – um dedo só – pela carroceria de um caminhão. Estão mudos, num mundo à parte e nem sequer **trocamos olhares uns com os outros**.

Em conformidade com a norma-padrão, as passagens destacadas admitem, respectivamente, as seguintes reescritas:

- (A) sentem que a vendedora não lhes observa / trocam-nos olhares.
- (B) sentem que a vendedora não lhes observa / trocam-se olhares.
- (C) sentem que a vendedora não observa eles / trocam-se olhares uns aos outros.
- (D) sentem que a vendedora não os observa / trocam olhares entre si.
- (E) sentem que a vendedora não os observa / trocam-lhes olhares.

05. Muitas pessoas têm horror _____ artigos caros e aspiram _____ um Natal sem sacrifícios.

Em conformidade com a norma-padrão, as lacunas da frase devem ser preenchidas, respectivamente, com:

- (A) dos ... de
- (B) aos ... a
- (C) pelos ... sob
- (D) com os ... com
- (E) sobre os ... por

Leia o texto para responder às questões de 06 a 10.

A tempestade da desigualdade climática

Em todo o mundo, há cerca de 1,1 bilhão de pessoas vivendo em condições de “pobreza multidimensional aguda” – aquela que define a pobreza não só pela falta de renda, mas por um conjunto de privações, como saúde, educação, habitação, saneamento básico, energia elétrica, água potável e acesso à informação. Desse número gigantesco, quase 900 milhões de pessoas, ou cerca de 80%, estão diretamente expostas a riscos climáticos, por viverem em regiões mais suscetíveis ao impacto, por exemplo, do calor extremo, inundações, seca ou poluição do ar. Esse cruzamento entre índices de pobreza e risco climático, feito de maneira inédita, é um dos méritos de um relatório divulgado pela ONU e pela Iniciativa Pobreza e Desenvolvimento Humano de Oxford, da Universidade de Oxford.

Intitulado “Índice de Pobreza Multidimensional Global de 2025 – Dificuldades sobrepostas: pobreza e riscos climáticos”, o documento não só reafirma o quanto a pobreza está longe de ser um problema socioeconômico isolado, como reforça o que a ciência vem alertando, isto é, sua conexão direta com instabilidades planetárias. Afinal, efeitos climáticos extremos são parte da rotina dos mais vulneráveis e integram o conjunto de alertas de especialistas para tentar tornar mais ambiciosos os compromissos em negociação durante a COP-30, em Belém.

A constatação reforça uma verdade incômoda: o aquecimento global é também um problema de desigualdade. A pobreza e o clima formam um círculo perverso, pois a escassez de recursos obriga milhões a depender de atividades frágeis, como a agricultura de subsistência e o trabalho informal, justamente as mais afetadas por eventos extremos. Quando secas e enchentes se alternam com frequência, tanto comprometem o sustento quanto destroem o pouco que resta. O relatório mostra a África Subsaariana e o sul da Ásia como regiões especialmente críticas. Mas o Brasil também faz parte desse retrato. Enchentes no Rio Grande do Sul, deslizamentos em Petrópolis e no litoral paulista, estiagens no Nordeste e queimadas na Amazônia revelam um mesmo padrão: são os mais pobres que mais perdem.

(<https://www.estadao.com.br/opiniao>, 30.10.2025. Adaptado)

06. As informações do editorial deixam claro que

- (A) o relatório divulgado pela ONU e pela Iniciativa Pobreza e Desenvolvimento Humano de Oxford é contrário à ideia de associar eventos climáticos e pobreza.
- (B) os eventos climáticos constituem um problema de maior importância para a África Subsaariana e o sul da Ásia, ficando o Brasil livre de suas consequências.
- (C) o cruzamento entre índices de pobreza e risco climático sugere que ainda há poucos elementos para estabelecer a ideia de que entre eles exista uma relação.
- (D) a desigualdade social é um problema que mantém relação direta com o aquecimento global, pois a população mais vulnerável está mais sujeita aos riscos climáticos.
- (E) a maioria da população mundial está exposta a riscos climáticos, por viverem em regiões mais suscetíveis ao impacto, como calor extremo, inundações, seca ou poluição do ar.

07. Considere as passagens:

- ... para tentar tornar mais **ambiciosos** os compromissos em negociação durante a COP-30, em Belém. (2º parágrafo)
- A constatação reforça uma verdade **incômoda...** (3º parágrafo)
- O relatório mostra a África Subsaariana e o sul da Ásia como regiões especialmente **críticas**. (3º parágrafo)

Os termos destacados significam, correta e respectivamente:

- (A) caros; desconfortável; difíceis.
- (B) arrojados; imprópria; serenas.
- (C) ousados; embaraçosa; graves.
- (D) exploratórios; grotesca; perigosas.
- (E) valorizados; sutil; irremediáveis.

08. As vírgulas na passagem do 2º parágrafo "... como reforça o que a ciência vem alertando, isto é, sua conexão direta com instabilidades planetárias." são empregadas pelo mesmo motivo que as vírgulas presentes em:

- (A) A rua, às vezes, parecia estar fechada para os turistas que visitavam a pequena cidade.
- (B) Quando construíram a casa, em 1965, o filho mais novo do casal ainda não tinha nascido.
- (C) A cidade onde ela morava, símbolo de inovações tecnológicas, era assunto de revista.
- (D) O filho mais velho, que trabalhava em um jornal, sonhava em ser um grande redator.
- (E) A casa que ele comprou era muito antiga, ou seja, foi construída no século passado.

09. A concordância verbal e o uso do acento indicativo da crase atendem à norma-padrão em:

- (A) Um dos méritos do relatório divulgado diz respeito à maneira inédita como foram cruzados os índices de pobreza e risco climático.
- (B) Calor extremo, inundações, seca ou poluição do ar corresponde à um conjunto de riscos climáticos que afetam quase 900 milhões de pessoas.
- (C) Cada vez mais integrados à vida das pessoas ao redor do planeta, os efeitos climáticos extremos compõe a rotina dos mais vulneráveis.
- (D) Devido à escassez de alimentos, milhões de pessoas depende de atividades frágeis, que são as mais afetadas pelos eventos extremos.
- (E) Segundo dados, existe quase 900 milhões de pessoas no mundo que estão diretamente expostas à dificuldades decorrentes dos riscos climáticos.

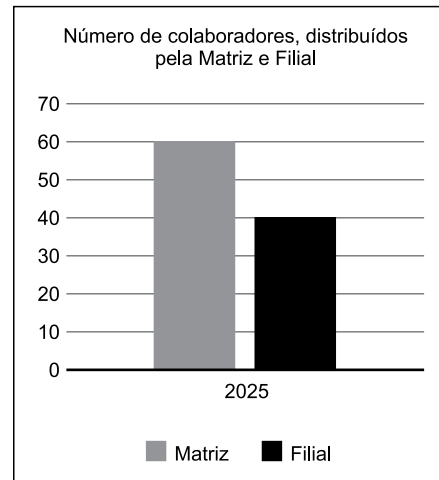
10. Considere a passagem do 1º parágrafo:

... aquela que define a pobreza **não só** pela falta de renda, **mas** por um conjunto de privações, **como** saúde, educação, habitação, saneamento básico, energia elétrica, água potável e acesso à informação. Desse número gigantesco, quase 900 milhões de pessoas, ou cerca de 80%, estão diretamente expostas a riscos climáticos, **por** viverem em regiões mais suscetíveis ao impacto, por exemplo, do calor extremo, inundações, seca ou poluição do ar.

As expressões destacadas "não só ... mas", "como" e "por" estabelecem, correta e respectivamente, relações de sentido de

- (A) adição; comparação; causa.
- (B) oposição; comparação; adição.
- (C) comparação; adição; consequência.
- (D) oposição; exemplificação; conclusão.
- (E) adição; exemplificação; causa.

11. O gráfico apresenta informações sobre o número de colaboradores trabalhando em uma empresa, no último dia do ano de 2025, distribuídos na matriz e filial:



(Arquivo pessoal; imagem usada com autorização)

Até o final do ano de 2026, essa empresa pretende ter 210 colaboradores trabalhando na Matriz e manter a razão entre os números de colaboradores trabalhando na Matriz e Filial.

Nesse caso, até o final de 2026, o número de colaboradores trabalhando na Filial deverá aumentar, em relação ao número de colaboradores trabalhando na Filial no final de 2025, em

- (A) 100 pessoas.
- (B) 110 pessoas.
- (C) 120 pessoas.
- (D) 130 pessoas.
- (E) 140 pessoas.

12. Se três máquinas, todas com a mesma força de produção e trabalhando juntas, fabricam determinada quantidade de peças em 2 horas e meia, então somente duas delas, nas mesmas condições de funcionamento que as três primeiras, fabricam a mesma quantidade de peças em um período de tempo estimado de

- (A) 2 horas e 45 minutos.
- (B) 3 horas e 15 minutos.
- (C) 3 horas e 45 minutos.
- (D) 4 horas e 15 minutos.
- (E) 4 horas e 45 minutos.

13. Na tabela, constam informações sobre as quantidades fabricada e vendida de determinado produto, no último quadrimestre de 2025:

Histórico de fabricação e vendas – 3º quadrimestre de 2025
(em unidades)

	Estoque no início do mês	Quantidade Fabricada	Quantidade Vendida	Estoque no final do mês
Setembro	170	40	45	165
Outubro	165	60	40	185
Novembro	185	55	30	
Dezembro			82	186

(Arquivo pessoal; imagem usada com autorização)

A quantidade fabricada desse produto, no mês de dezembro de 2025, foi igual a

- (A) 58 unidades.
(B) 59 unidades.
(C) 60 unidades.
(D) 61 unidades.
(E) 62 unidades.
14. Dois produtos líquidos, X e Y, estão em galões separados: em um dos galões há 72 litros do produto X, e, no outro, 168 litros do produto Y. Precisa-se colocar a mistura desses produtos, sem desperdício, na maior quantidade possível de galões menores, de tal forma que cada galão menor contenha o volume x do produto X e o volume y do produto Y, sendo x e y medidos em litros.
- Nesse caso, a diferença $y - x$ deve ser de
- (A) 1 litro.
(B) 2 litros.
(C) 3 litros.
(D) 4 litros.
(E) 5 litros.
15. No primeiro dia de 2026, a média aritmética simples das idades de cinco amigos era 36 anos. Sabendo-se que eles nasceram no dia 20 de dezembro de anos consecutivos, é correto afirmar que o amigo que tem a maior idade nasceu no ano de
- (A) 1991.
(B) 1990.
(C) 1989.
(D) 1988.
(E) 1987.

16. Um valor total de R\$ 3.000,00 precisa ser dividido em três partes P, Q e R, de modo que R deverá ser R\$ 100,00 maior que P, e Q deverá ser R\$ 50,00 menor que metade de R. Sendo assim, a diferença entre a maior e a menor parte deverá ser de
- (A) R\$ 580,00.
 - (B) R\$ 680,00.
 - (C) R\$ 780,00.
 - (D) R\$ 880,00.
 - (E) R\$ 980,00.

17. Considere a seguinte informação publicada na Agência Brasil, em maio de 2025:

Em 2023, o Brasil viu o número de nascimentos cair [...]. Foram 2,52 milhões de nascimentos [...]. Essa quantidade é 12% menor que a média [do número] de nascimentos nos cinco anos anteriores à Covid-19.

(<https://agenciabrasil.ebc.com.br/geral/noticia/2025-05/brasil-tem-em-2023-o-menor-numero-de-nascimentos-em-quase-50-anos>. Adaptado)

Com base na informação apresentada, é correto afirmar que a média do número de nascimentos nos cinco anos anteriores à Covid-19 está entre

- (A) 2,79 milhões e 2,82 milhões.
 - (B) 2,82 milhões e 2,85 milhões.
 - (C) 2,85 milhões e 2,88 milhões.
 - (D) 2,88 milhões e 2,91 milhões.
 - (E) 2,91 milhões e 2,94 milhões.
18. Um profissional visita um cliente C_1 a cada 8 dias, e outro cliente, C_2 , a cada 12 dias, independentemente de o dia ser útil ou não, pois esses clientes trabalham todos os dias. No último dia de 2025, uma quarta-feira, esse profissional visitou ambos os clientes, o que significa que a vez imediatamente anterior em que ele visitou ambos os clientes, em um mesmo dia, foi
- (A) uma terça-feira.
 - (B) uma quinta-feira.
 - (C) uma sexta-feira.
 - (D) um sábado.
 - (E) um domingo.

19. Em uma promoção, certa quantidade de determinado produto foi vendida ao preço unitário de R\$ 35,00, e o valor total das vendas foi R\$ 3.480,00 menor do que seria se o produto tivesse sido vendido ao preço normal.

Passado o período de promoção, a mesma quantidade do referido produto foi vendida ao preço unitário de R\$ 50,00, valor este maior, quando comparado ao seu preço normal de venda, o que gerou um valor total das vendas R\$ 870,00 maior do que seria se o produto fosse vendido ao preço normal.

Com as informações apresentadas, pode-se concluir, corretamente, que o preço normal de venda do produto é de

- (A) R\$ 44,00.
- (B) R\$ 45,00.
- (C) R\$ 46,00.
- (D) R\$ 47,00.
- (E) R\$ 48,00.

20. A figura a seguir representa o piso e as medidas, em metros, de uma sala comercial com área de 28 m^2 :

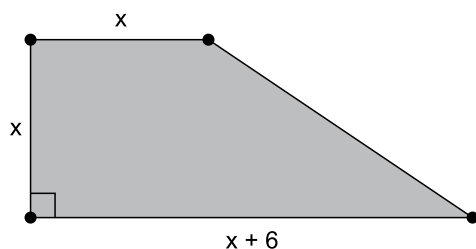


Figura fora de escala

(Arquivo pessoal; imagem usada com autorização)

A medida, em metros, representadas por x é

- (A) 3,0.
- (B) 3,5.
- (C) 4,0.
- (D) 4,5.
- (E) 5,0.

CONHECIMENTOS ESPECÍFICOS

21. Um condutor trafegando por uma rodovia de pista simples, não sinalizada com placa indicadora de velocidade máxima permitida, foi flagrado pelo radar de velocidade a 140 km/h, sendo que, no momento, estava conduzindo um automóvel.

Nesse caso, esse condutor poderá ser autuado com uma infração de trânsito, que poderá ser computado em seu prontuário em

- (A) 2 (dois) pontos.
 - (B) 3 (três) pontos.
 - (C) 4 (quatro) pontos.
 - (D) 5 (cinco) pontos.
 - (E) 7 (sete) pontos.
22. De acordo com o art. 80 do Código de Trânsito Brasileiro (CTB), a responsabilidade pela instalação da sinalização nas vias internas pertencentes aos condomínios constituídos por unidades autônomas, e nas vias e áreas de estacionamento de estabelecimentos privados de uso coletivo, é
- (A) do órgão municipal.
 - (B) de seu proprietário.
 - (C) dos agentes de trânsito.
 - (D) de entidades estaduais.
 - (E) dos engenheiros de trânsito.
23. É proibida a utilização das ondulações transversais e de sonorizadores como redutores de velocidade, salvo em casos especiais definidos pelo órgão ou entidade competente, nos padrões e critérios estabelecidos pelo
- (A) CIRETRAN.
 - (B) DETRAN.
 - (C) SENATRAN.
 - (D) CONTRAN.
 - (E) CETRAN.

24. Nenhum veículo ou combinação de veículos, de acordo com o artigo 100 do CTB, poderá transitar com lotação de passageiros, com peso bruto total, ou com peso bruto total combinado com peso por eixo, superior ao fixado pelo fabricante, nem ultrapassar a capacidade máxima de tração da unidade tratora. Sendo que, de acordo com o parágrafo 1º do mesmo artigo, os veículos de transporte coletivo de passageiros poderão ser dotados de

- (A) três portas.
- (B) pneus extralargos.
- (C) elevador para deficiente.
- (D) ar-condicionado.
- (E) articulação central.

25. De acordo com o art. 100, parágrafo 3º do CTB, é permitida a fabricação de veículos de transporte de passageiros, na configuração de chassi 8×2 de até

- (A) 21,50 m (vinte e um metros e cinquenta centímetros) de comprimento.
- (B) 18,70 m (dezoito metros e setenta centímetros) de comprimento.
- (C) 17 m (dezesete metros) de comprimento.
- (D) 16 m (dezesesseis metros) de comprimento.
- (E) 15 m (quinze metros) de comprimento.

26. Os veículos especialmente destinados à condução coletiva de escolares somente poderão circular nas vias com autorização emitida pelo órgão ou entidade executivos de trânsito dos Estados e do Distrito Federal, tendo como exigência alguns requisitos e, entre eles, registro como veículo de passageiros, e inspeção para verificação dos equipamentos obrigatórios e de segurança, que deverá ser executada a cada

- (A) 2 (dois) meses.
- (B) 3 (três) meses.
- (C) 6 (seis) meses.
- (D) 12 (doze) meses.
- (E) 18 (dezoito) meses.

27. De acordo com o art. 145 do CTB, para habilitar-se na categoria E, o candidato deverá preencher alguns requisitos, entre eles, estar habilitado, no mínimo, há

- (A) um ano na categoria B.
- (B) dois anos na categoria B.
- (C) um ano na categoria C.
- (D) dois anos na categoria C.
- (E) dois anos na categoria D.

28. Dirigir sob a influência de álcool ou de qualquer outra substância psicoativa, que determine dependência, é considerada uma infração gravíssima, cuja penalidade é multa (dez vezes) e suspensão do direito de dirigir por 12 (doze) meses.

Será aplicada a multa em dobro no caso de reincidência, no período de até

- (A) 30 (trinta) meses.
- (B) 24 (vinte e quatro) meses.
- (C) 18 (dezoito) meses.
- (D) 15 (quinze) meses.
- (E) 12 (doze) meses.

29. Analise a figura:



(<https://www.jusbrasil.com.br/artigos/multa-por-estacionar-na-calcada-atualizacao-de-2022/1575205451>)

Ela mostra um veículo estacionado em local sinalizado com placa de regulamentação de proibição de parada e estacionamento.

De acordo com o art. 181, inciso XIX do CTB, esse condutor cometeu uma infração de natureza

- (A) leve.
- (B) levíssima.
- (C) média.
- (D) grave.
- (E) gravíssima.

30. Analise as alternativas, e, a seguir, assinale aquela que represente uma infração de natureza grave, de acordo com o CTB.

- (A) Deixar de deslocar, com antecedência, o veículo para a faixa mais à esquerda ou mais à direita, dentro da respectiva mão de direção, quando for manobrar para um desses lados.
- (B) Ultrapassar pela direita, salvo quando o veículo da frente estiver colocado na faixa apropriada e der sinal de que vai entrar à esquerda.
- (C) Deixar de guardar a distância lateral de um metro e cinquenta centímetros ao passar ou ultrapassar bicicleta.
- (D) Deixar de dar passagem pela esquerda, quando solicitado.
- (E) Executar operação de conversão à direita ou à esquerda em locais proibidos pela sinalização.

31. De acordo com o art. 210 do CTB, transpor, sem autorização, bloqueio viário policial é considerada uma infração gravíssima, e o condutor terá como penalidade

- (A) multa, apreensão do veículo e suspensão do direito de dirigir.
- (B) multa, remoção do veículo e apreensão da habilitação.
- (C) multa, apreensão do veículo e apreensão da habilitação.
- (D) multa, remoção do veículo e cassação do direito de dirigir.
- (E) multa, remoção do veículo e liberação do condutor.

32. Analise o art. 280 do CTB, e preencha a lacuna, corretamente, de acordo com esse artigo.

“ocorrendo infração prevista na legislação de trânsito, lavrar-se-á auto de infração, do qual constará”

- I. tipificação da infração;
- II. local, data e hora do cometimento da infração;
- III. caracteres da placa de identificação do veículo, sua marca e espécie, e outros elementos julgados necessários à sua identificação;
- IV. _____;
- V. identificação do órgão ou entidade e da autoridade ou agente autuador ou equipamento que comprovar a infração;
- VI. assinatura do infrator, sempre que possível, valendo esta como notificação do cometimento da infração.

- (A) a cor do veículo
- (B) o prontuário do condutor, sempre que possível
- (C) ano de fabricação ou ano de modelo
- (D) tração e modelo do veículo
- (E) peso bruto total e combinado

33. O pagamento da multa poderá ser efetuado até a data do vencimento expressa na notificação, por
- (A) setenta por cento do seu valor.
 - (B) setenta e cinco por cento do seu valor.
 - (C) oitenta por cento do seu valor.
 - (D) oitenta e cinco por cento do seu valor.
 - (E) noventa por cento do seu valor.

34. Os dispositivos auxiliares são elementos aplicados na via ou em obstáculos próximos a ela, de forma a tornar mais eficiente e segura a operação do trânsito. São constituídos de materiais, formas e cores diversas, dotados ou não de retrorefletividade de acordo com a Resolução nº 973/22 do CONTRAN, volume VI. Trata-se de
- (A) dispositivos permanentes.
 - (B) dispositivos auxiliares.
 - (C) dispositivo de cruzamento.
 - (D) sinalização vertical.
 - (E) sinalização temporária.

35. Analise a figura:



(Arquivo pessoal; imagem usada com autorização)

Um condutor reclamou que, quando acelerava o veículo, o motor gerava um barulho estranho. Após análise, o mecânico informou que o problema estava no componente indicado pelo dedo do profissional.

Sendo assim, assinale a alternativa que contemple o nome do componente indicado.

- (A) Regulador do virabrequim.
- (B) Esticador do comando.
- (C) Regulador do eixo piloto.
- (D) Balancim de válvula.
- (E) Selo da refrigeração.

36. Analise a figura:



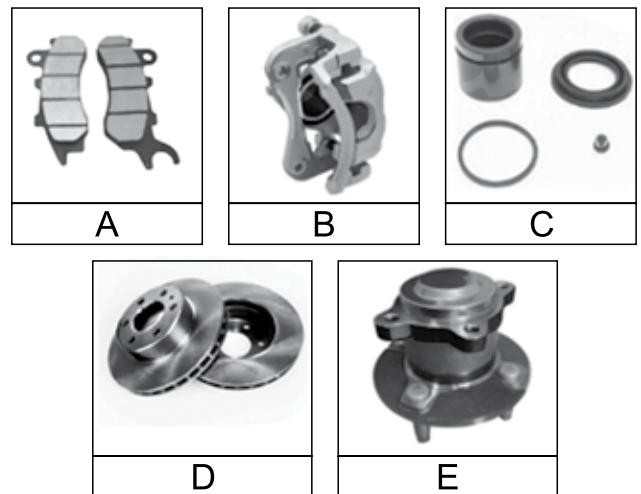
(Arquivo pessoal; imagem usada com autorização)

Ela mostra um componente importante para o motor de um veículo de combustão interna.

Analise as alternativas, e, a seguir, assinale a que consta o nome correto do componente.

- (A) Alternador.
- (B) Motor de partida.
- (C) Bomba d'água.
- (D) Bomba de óleo.
- (E) Bomba de combustível.

37. Assinale a alternativa que contenha o nome correto do componente indicado pela letra "E".



(Arquivo pessoal; imagens usadas com autorização)

- (A) Pastilhas.
- (B) Disco de freio.
- (C) Pinça de freio
- (D) Reparo de pinça.
- (E) Cubo de roda.

38. De acordo com os estudos de primeiros socorros, a manobra de Heimlich é realizada na região do abdômen, entre o umbigo e o apêndice xifoide, na parte final do osso esterno, e é indicada para

- (A) verificar a pressão.
- (B) expelir o objeto ou alimento.
- (C) diminuir a temperatura corporal.
- (D) efetuar o torniquete.
- (E) realizar imobilização de fratura na costela.

39. Assinale a alternativa que contemple uma condição adversa de estrada (via), conforme estudos em direção defensiva.

- (A) Pneu careca.
- (B) Chuva intensa.
- (C) Luz alta do veículo.
- (D) Curva acentuada.
- (E) Dirigir com sono.

40. Suponha que foi instaurada uma Comissão Especial de Inquérito (CPI) no âmbito da Câmara Municipal de Mogi das Cruzes com o intuito de investigar a cobrança da dívida ativa por parte da Procuradoria do Município. No interesse da investigação, a comissão requisitou do procurador-geral do município a exibição de cópias de processos em que foi declarada a prescrição da cobrança; e o presidente da comissão convocou o secretário municipal da fazenda para prestar, pessoalmente, informações sobre o andamento de processos de cobrança de dívida ativa arquivados administrativamente.

Com base na situação hipotética apresentada e no disposto na Lei Orgânica do Município de Mogi das Cruzes, é correto afirmar que

- (A) a CPI não poderia ter sido instaurada com este fim, pois tem competência estrita para investigar fatos relacionados à saúde ou à educação.
- (B) a instauração da CPI pressupõe que houve requerimento de, pelo menos, metade dos membros da Câmara Municipal.
- (C) o presidente da CPI tem competência para convocar o secretário municipal da Fazenda, ainda que seja para prestar informações pessoalmente.
- (D) a comissão agiu erroneamente ao requisitar a exibição de cópias de processos, pois tal competência é exclusiva do presidente da CPI.
- (E) a CPI não tem competência para convocar secretários municipais ou requisitar documentos, devendo, previamente, requerer ordem em tal sentido do Poder Judiciário.

