

**PROCESSO SELETIVO SIMPLIFICADO 002/SMEC/2025**

**NOME:**

**FOLHA DE ROSTO ORIENTATIVA PARA PROVA OBJETIVA**

**LEIA AS ORIENTAÇÕES COM CALMA E ATENÇÃO!**

**1. INSTRUÇÕES GERAIS**

- O candidato receberá do fiscal da sala: um caderno de questões contendo 30 (trinta) questões objetivas de múltipla escolha e uma folha de respostas para a prova objetiva.
- Escreva seus dados corretamente, no caderno de questões e na folha de respostas.
- Preencha o nome e CPF e assine a folha de respostas, nos campos indicados.
- A totalidade da prova terá a duração de 3h (três horas), incluindo o tempo para preenchimento da folha de respostas da prova objetiva.
- Iniciadas as provas, nenhum candidato poderá retirar-se da sala antes de decorrido 1h (uma hora) de prova.
- Só poderá retirar-se da sala com o caderno de após decorrido 1h (1 hora) de prova.
- A folha de respostas da prova objetiva será o único documento válido para correção.
- Ao terminar a prova o candidato deverá erguer o braço e aguardar autorização do fiscal para devolver o caderno de questões e a folha de respostas.
- Aparelhos eletrônicos, inclusive celular, e relógios, deverão permanecer desligados e dispostos embaixo das carteiras universitárias ou em local designado pelo fiscal de sala.
- Bolsas e mochilas deverão ser acondicionados em locais indicados pelo fiscal da sala.
- Caso o candidato necessite se ausentar da sala para uso de sanitário, deverá solicitar ao fiscal da sala e deve aguardar autorização.
- O candidato, ao terminar a prova, deverá retirar-se imediatamente do estabelecimento de ensino, não podendo permanecer nas dependências deste, sob risco de eliminação.

**2. INSTRUÇÕES DA PROVA OBJETIVA**

- A Folha de Respostas NÃO pode ser dobrada, amassada, rasurada, manchada ou conter qualquer registro fora dos locais destinados às respostas.
- Use caneta transparente de tinta azul ou preta para preenchimento da folha de respostas. Não utilize lápis.
- Assinale a alternativa que julgar correta para cada questão na folha de respostas.
- Para cada questão, existe apenas 1 (uma) resposta certa – não serão computadas questões não assinaladas ou que contenham mais de uma resposta, emendas ou rasuras.

**BOA PROVA!**

## PROFESSOR DE GEOGRAFIA – SMEC

### CONHECIMENTOS GERAIS

#### LÍNGUA PORTUGUESA

##### Texto I

A água constitui um recurso natural de elevado valor econômico, social e ambiental, sendo essencial para a manutenção da vida humana e para o equilíbrio dos ecossistemas. Embora o planeta Terra apresente grande quantidade de água em sua composição, a distribuição desse recurso ocorre de maneira desigual, o que compromete o acesso de populações inteiras ao consumo adequado. Tal desigualdade revela que a aparente abundância hídrica não corresponde à realidade vivenciada por grande parte da humanidade.

Segundo dados da Agência Nacional de Águas, aproximadamente 97,5% da água existente no planeta é salgada, o que a torna imprópria para o consumo humano direto. Dos 2,5% de água doce disponíveis, a maior parte encontra-se concentrada em geleiras ou aquíferos subterrâneos de difícil acesso. Além disso, fatores como poluição, desperdício e má gestão dos recursos hídricos intensificam a crise da água, sobretudo em países em desenvolvimento.

**1.** Considerando o primeiro parágrafo do texto, observa-se que o autor constrói sua argumentação a partir da contraposição entre a ideia de abundância natural da água e a realidade social vivenciada por grande parte da população mundial. A ideia central do parágrafo estabelece-se, portanto, a partir da relação entre

- A) fato e opinião
- B) aparência e realidade
- C) causa e consequência
- D) necessidade e escassez

**2.** A afirmação de que fatores como poluição, desperdício e má gestão intensificam a crise hídrica revela uma relação semântica de

- A) comparação entre países
- B) enumeração sem valor argumentativo
- C) consequência decorrente da ação humana
- D) neutralidade científica

##### Texto II

A experiência da paternidade, ao longo da história, foi marcada por uma formação menos sistematizada do que a maternidade. Enquanto as mulheres, desde cedo, são socialmente educadas para exercer o papel de mãe, os homens acabam construindo sua identidade paterna de maneira improvisada, baseada em vivências pessoais, erros e acertos. Essa ausência de um modelo rígido resulta em múltiplas formas de ser pai, cada uma marcada por singularidades, contradições e afetos próprios.

Nesse sentido, o pai não se configura como uma figura padronizada, mas como alguém que se constitui na relação com os filhos e com o contexto social em que está inserido. Tal diversidade não diminui sua importância; ao contrário, revela a riqueza e a complexidade do exercício da paternidade na contemporaneidade.

**3.** No desenvolvimento do texto, a autora sustenta a tese de que não existe um modelo único de paternidade, utilizando, como estratégia argumentativa predominante,

- A) a enumeração de diferentes comportamentos paternos observados socialmente.
- B) a narração cronológica da evolução histórica da figura paterna.
- C) a explicação científica baseada em teorias psicológicas.
- D) a descrição idealizada do papel do pai na família tradicional.

**4.** Do ponto de vista linguístico, o texto caracteriza-se predominantemente pelo uso de:

## PROFESSOR DE GEOGRAFIA – SMEC

- A) linguagem coloquial e informal.
- B) linguagem técnica especializada.
- C) linguagem literária poética.
- D) linguagem dissertativo-argumentativa.

5. A palavra “singularidades”, no contexto em que aparece, pode ser corretamente substituída, sem prejuízo de sentido, por:

- A) fragilidades.
- B) especificidades.
- C) limitações.
- D) contradições.


### MATEMÁTICA

6. Seis pessoas se encontram e todas cumprimentam-se entre si. Quantos apertos de mão são trocados?

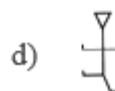
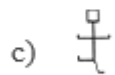
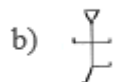
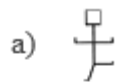


- a) 8 apertos de mão.
- b) 12 apertos de mão.
- c) 21 apertos de mão.
- d) 15 apertos de mão.

7. Observe que as figuras abaixo foram dispostas, linha a linha, segundo determinado padrão.



Segundo o padrão estabelecido, a figura que substitui corretamente o ponto de interrogação é:



8. Pai, mãe e seu casal de filhos estão sentados em volta de uma mesa quadrada. Os homens chamam-se Roberto e Sérgio e as mulheres chamam-se Teresa e Fernanda. Sabe-se que:

- O pai tem Fernanda à sua frente e o filho à esquerda.
- A mãe está do lado direito de Sérgio.

Considere as afirmações:

- I – A mãe chama-se Fernanda.
- II – Roberto está em frente de Teresa.
- III – O pai chama-se Sérgio.

É verdadeiro somente o que se afirma em:

- a) I
- b) III
- c) II e III
- d) I e II

9. Na prova de Matemática de uma sala do Ensino Fundamental, pedia-se o valor da seguinte expressão:

$$(13+7 \times 3) \div 2 = ?$$

Carlos se distraiu na hora da resolução e, apesar de ter acertado a regra dos parênteses, trocou a ordem das operações indicadas dentro deles. A diferença entre o valor obtido por ele e o valor correto, nessa ordem, é:

## PROFESSOR DE GEOGRAFIA – SMEC

- a) 30.
- b) 13.
- c) 17.
- d) 10.

**10.** Em um lote de 12 peças, quatro são defeituosas. Sendo retirada uma peça, calcule:

- a)  $p_a = \frac{1}{3}$  A probabilidade de essa peça ser defeituosa;
- b)  $p_b = \frac{2}{3}$  A probabilidade de essa peça não ser defeituosa.

A alternativa que corresponde o cálculo correto das probabilidades, é:

- a)  $p_a = \frac{1}{3}$  e  $p_b = \frac{2}{5}$  ;
- b)  $p_a = \frac{1}{3}$  e  $p_b = \frac{2}{3}$  ;
- c)  $p_a = \frac{1}{2}$  e  $p_b = \frac{2}{3}$  ;
- d)  $p_a = \frac{2}{3}$  e  $p_b = \frac{2}{7}$

HISTÓRIA E GEOGRAFIA DE BARRA DO BUGRES
---

**11.** O município de Barra do Bugres foi criado através do Decreto nº545, do seguinte ano:

- a) 1943
- b) 1944
- c) 1942
- d) 1945

**12.** O território de Barra do Bugres foi desmembrado a partir dos seguintes municípios:

- a) Cáceres \_ Rosário Deste - Alto Paraguai.
- b) Diamantino- Rosário Deste - Cáceres.
- c) Alto Paraguai - Tangará da Serra - Denise
- d) Nortelândia - Cáceres - Diamantino.

**13.** A estátua de ferro erguida na margem direita do rio Paraguai representa um importante fato histórico que ocorreu na vila de Barra do Bugres, em 20 de novembro de 1926: Esse fato representa:

- a) Revoltosos da Coluna Prestes
- b) Guerra do Paraguai
- c) Marcha para o Oeste
- d) Movimento de Independência

**14.** A Bandeira de Barra do Bugres foi criada pela lei nº 322 e aprovada pela Câmara de vereadores: Nela são contempladas as riquezas do Primeiro Ciclo Econômico e alguns aspectos geográficos do município. Essa lei foi criada na seguinte data:

- a) 31 de dezembro de 1971
- b) 31 de dezembro de 1966
- c) 30 de dezembro de 1944
- d) Nenhuma das alternativas está correta.

**15.** O município de Barra do Bugres está localizado numa área de transição entre os seguintes biomas:

- a) Cerrado e Pantanal
- b) Pantanal e Amazônia
- c) Cerrado e Amazônia.
- d) Matas ciliares e Floresta Amazônica

### CONHECIMENTOS ESPECÍFICOS

**16.** Ao analisar a expansão de condomínios fechados em áreas periféricas de uma metrópole brasileira, o geógrafo observa simultaneamente a transformação do uso do solo, a valorização imobiliária, a segregação socioespacial e a reestruturação das redes de mobilidade. Essas mudanças revelam como diferentes processos se articulam e produzem novas formas de organização territorial. Assinale a alternativa que indica corretamente as categorias geográficas mais adequadas para interpretar o fenômeno descrito.

- A)** Região e clima, pois explicam a expansão imobiliária pela variabilidade atmosférica
- B)** Lugar e paisagem, pois descrevem apenas a aparência visual do espaço

## PROFESSOR DE GEOGRAFIA – SMEC

C) Espaço geográfico e território, pois articulam produção social do espaço e relações de poder  
D) Cartografia e escala, pois substituem a análise social por representação técnica

**17.** Em um município do Cerrado, o avanço do agronegócio alterou a economia local, elevou o preço da terra e pressionou comunidades tradicionais. Ao mesmo tempo, a produção está integrada a cadeias globais de commodities, dependentes de demanda externa e de logística de exportação. A interpretação mais consistente exige:

- A) restringir-se à escala local, pois a dinâmica global é irrelevante para o município
- B) adotar análise multiescalar, articulando escalas local, nacional e global
- C) aplicar exclusivamente dados climáticos para explicar a mudança econômica
- D) priorizar apenas a escala global, pois a escala local é meramente residual

**18.** A modernização da sociedade, entendida como um processo histórico marcado pela incorporação contínua de inovações técnicas, científicas e informacionais, produz transformações profundas na organização do espaço geográfico. Esse processo envolve a intensificação dos fluxos de capitais, mercadorias, informações e pessoas, bem como a reestruturação dos sistemas produtivos e das relações de trabalho. No território, a modernização manifesta-se por meio da ampliação de redes logísticas, da difusão de plataformas digitais, da automação de processos e da reorganização das atividades econômicas. Contudo, tais transformações não se distribuem de maneira homogênea, uma vez que diferentes lugares apresentam capacidades desiguais de inserção nos circuitos modernos da economia, resultando em novas formas de seletividade espacial, concentração de investimentos e aprofundamento das desigualdades regionais.

À luz dessas considerações, assinale a alternativa correta.

A) A modernização elimina as desigualdades territoriais ao promover a difusão uniforme das tecnologias no espaço geográfico.  
B) A modernização produz homogeneidade espacial, tornando os lugares equivalentes em termos de infraestrutura e acesso aos fluxos.

C) A modernização reconfigura redes, fluxos e formas de produção do espaço, podendo intensificar desigualdades regionais e territoriais.

D) A modernização constitui fenômeno essencialmente cultural, sem impactos materiais ou econômicos sobre o território.

**19.** Em diversas regiões do território brasileiro, especialmente na Amazônia Legal, comunidades tradicionais, povos indígenas e organizações da sociedade civil têm se mobilizado frente ao avanço da grilagem de terras, da extração ilegal de madeira e da expansão de atividades econômicas predatórias. Essas mobilizações envolvem não apenas ações de denúncia e resistência local, mas também a ocupação de espaços institucionais, o acionamento do sistema judiciário e a construção de redes de articulação com organizações nacionais e internacionais. Tais práticas evidenciam que os conflitos socioambientais não se restringem a disputas jurídicas ou econômicas, mas expressam lutas políticas pelo reconhecimento de direitos, pelo controle do território e pela definição dos usos do espaço geográfico.

A relação entre movimentos sociais e espaço, no contexto apresentado, é melhor interpretada como:

## PROFESSOR DE GEOGRAFIA – SMEC

- A) ausência de territorialidade, uma vez que os movimentos sociais atuam apenas no plano simbólico.
- B) produção de territorialidades e disputa pelo controle, uso e significado do território.
- C) neutralidade espacial dos conflitos, que se limitam a questões legais e administrativas.
- D) processo exclusivamente econômico, desprovido de dimensões políticas e culturais.

**20.** A cartografia constitui um instrumento fundamental para a análise e interpretação do espaço geográfico, permitindo representar fenômenos sociais, econômicos e ambientais de maneira sistematizada. Um mapa coroplético que apresenta taxas de analfabetismo por município exige a utilização de dados relativos e critérios adequados de classificação, enquanto um mapa em escala maior, ao detalhar bairros de uma capital, demanda maior nível de generalização e precisão na representação. Para uma leitura crítica e correta dos mapas, o leitor deve considerar elementos como legenda, escala, projeção cartográfica, simbologia e os métodos utilizados na construção dos dados, compreendendo que toda representação cartográfica envolve escolhas técnicas e conceituais.

Com base nessas considerações, assinale a alternativa correta.

- A) A escala maior de um mapa sempre representa uma área territorial mais extensa.
- B) A generalização cartográfica aumenta à medida que cresce o nível de detalhamento espacial.
- C) Mapas coropléticos são adequados para representar valores absolutos, dispensando normalização estatística.
- D) A interpretação cartográfica depende da análise integrada da escala, da legenda e dos critérios de representação temática adotados.

**21.** Um município brasileiro elabora um plano integrado de mobilidade urbana que prevê a substituição gradual do transporte individual motorizado por sistemas coletivos de baixa

emissão de carbono, a ampliação de áreas verdes para mitigação de ilhas de calor e a implementação de políticas de gestão de resíduos sólidos com reaproveitamento e reciclagem. Entretanto, o território municipal apresenta forte desigualdade socioespacial, com áreas periféricas carentes de infraestrutura básica e restrições orçamentárias que limitam a execução simultânea de todas as ações planejadas. Nesse contexto, as decisões públicas envolvem disputas políticas, escolhas técnicas e definição de prioridades territoriais.

Considerando o conceito de desenvolvimento sustentável e sua aplicação ao planejamento urbano, a abordagem mais consistente exige:

- A) articular as dimensões ambiental, social e econômica, incorporando governança democrática, planejamento territorial e justiça socioespacial.
- B) priorizar o crescimento econômico imediato, adiando ações ambientais e sociais para etapas futuras.
- C) concentrar os investimentos exclusivamente em ações ambientais, como reflorestamento urbano, independentemente das condições sociais da população.
- D) substituir o planejamento de longo prazo por ações pontuais e setoriais, de menor custo e execução rápida.

**22.** Dinâmica populacional, estrutura etária e condições de vida

Texto base (ampliado):

Nas últimas décadas, o Brasil tem experimentado profundas transformações demográficas, caracterizadas pela queda das taxas de fecundidade, pelo progressivo envelhecimento da população e pela intensificação de fluxos migratórios internos, sobretudo entre regiões com diferentes níveis de desenvolvimento econômico. Essas mudanças impactam diretamente a organização do espaço geográfico e a formulação de políticas públicas, ao alterar demandas por serviços de saúde, educação, moradia, transporte e mercado de trabalho,

## PROFESSOR DE GEOGRAFIA – SMEC

além de revelar desigualdades regionais e socioeconômicas historicamente construídas.

À luz dessas transformações, assinale a alternativa correta.

A) Indicadores sociais e demográficos permitem analisar condições de vida, desigualdades e vulnerabilidades populacionais.

B) A estrutura etária da população não exerce influência significativa sobre o planejamento de políticas públicas.

C) A mobilidade populacional possui impacto limitado, não interferindo na dinâmica do espaço urbano e regional.

D) O crescimento populacional resulta exclusivamente das taxas de natalidade, desconsiderando outros fatores demográficos.

### 23. Migração rural-urbana, metropolização e desigualdade socioespacial

Texto base (ampliado):

O processo de migração rural-urbana no Brasil intensificou-se ao longo do século XX, associado à mecanização da agricultura, à concentração fundiária, à modernização produtiva no campo e à expansão das atividades industriais e de serviços nas cidades. Esse deslocamento populacional contribuiu para o crescimento acelerado das metrópoles, muitas vezes sem o correspondente investimento em infraestrutura urbana, resultando na expansão de periferias, na informalidade habitacional e no agravamento da segregação socioespacial. Assim, a urbanização brasileira revela contradições entre crescimento econômico, inclusão social e organização do território.

Com base nessa análise, assinale a alternativa correta.

A) A migração rural-urbana promove automaticamente a redução das desigualdades sociais e territoriais.

B) A urbanização implica, necessariamente, melhoria das condições de moradia e de vida da população migrante.

C) O processo de metropolização elimina a

segregação socioespacial ao ampliar o acesso aos serviços urbanos.

D) A mecanização agrícola e a concentração fundiária podem expulsar mão de obra do campo, intensificando fluxos migratórios para as cidades.

24. A questão ambiental no Brasil manifesta-se por meio de conflitos complexos que envolvem a expansão do desmatamento, a mineração em larga escala, o avanço da fronteira agropecuária, grandes obras de infraestrutura e o crescimento urbano desordenado. Esses processos incidem diretamente sobre territórios ocupados por povos indígenas, comunidades quilombolas, ribeirinhas e outros grupos tradicionais, cujos modos de vida estão profundamente articulados aos recursos naturais. Nesse contexto, a governança ambiental não se limita a instrumentos técnicos de gestão, mas é atravessada por disputas de poder, interesses econômicos, assimetrias políticas e conflitos fundiários, revelando a dimensão territorial e social da problemática ambiental.

Assinale a alternativa correta.

A) A questão ambiental possui caráter estritamente técnico, desvinculado de disputas políticas e territoriais.

B) A fiscalização ambiental é secundária e pouco relevante para a efetividade das políticas de gestão ambiental.

C) As populações tradicionais não estabelecem relação direta entre conservação ambiental e reprodução de seus modos de vida.

D) Os conflitos ambientais expressam disputas por território, poder e acesso aos recursos naturais, evidenciando desigualdades sociais

25. A globalização contemporânea reorganiza profundamente a produção, a circulação e o consumo em escala planetária, estruturando cadeias globais de valor, intensificando fluxos financeiros e ampliando a atuação de corporações transnacionais. Esse processo, longe de produzir um espaço homogêneo, reforça a concentração de poder econômico e decisório em determinados territórios, enquanto outros se inserem de

## PROFESSOR DE GEOGRAFIA – SMEC

forma subordinada na economia mundial. A ordem econômica global, portanto, expressa-se de maneira desigual no espaço geográfico, configurando hierarquias entre centros e periferias, bem como novas formas de dependência e especialização produtiva.

Assinale a alternativa correta.

- A) A globalização elimina as desigualdades estruturais entre países centrais e periféricos.
- B) A intensificação dos fluxos globais torna o território um elemento irrelevante para a análise geográfica.
- C) A ordem econômica mundial materializa-se territorialmente por meio de redes, fluxos e desigualdades espaciais..
- D) Os Estados nacionais deixaram de exercer qualquer influência sobre a dinâmica econômica global.

**26.** No mundo contemporâneo, disputas geopolíticas envolvem o controle de rotas marítimas estratégicas, o acesso a recursos energéticos, a ocupação de áreas de influência e a projeção de poder militar e econômico. Tais disputas se expressam por meio de alianças internacionais, sanções econômicas, conflitos armados e tensões diplomáticas. A geografia política e a geopolítica analisam como características do espaço geográfico, como localização, recursos naturais e infraestrutura logística, condicionam estratégias estatais e corporativas no cenário internacional.

Assinale a alternativa correta.

- A) A geopolítica desconsidera a importância do território e dos recursos naturais nas relações internacionais.
- B) Conflitos contemporâneos frequentemente envolvem energia, logística e o controle de áreas estratégicas do território.
- C) As tensões internacionais podem ser explicadas exclusivamente por fatores religiosos e culturais.
- D) As rotas marítimas perderam relevância diante da predominância dos fluxos digitais.

**27.** Os fluxos migratórios internacionais intensificaram-se nas últimas décadas em razão de guerras, crises econômicas, instabilidade política, desigualdades

regionais e mudanças ambientais. Esses deslocamentos populacionais produzem impactos significativos nos países de origem, trânsito e destino, gerando debates sobre cidadania, políticas de acolhimento, xenofobia, integração cultural e direitos humanos. As questões demográficas contemporâneas, portanto, não podem ser compreendidas de forma isolada, pois articulam dimensões econômicas, políticas, sociais e culturais em escala global.

Assinale a alternativa correta.

- A) As migrações internacionais não exercem impacto relevante sobre políticas urbanas e sociais nos países de destino.
- B) A migração constitui fenômeno exclusivamente voluntário e motivado por fatores econômicos individuais.
- C) As questões demográficas articulam fatores políticos, econômicos, sociais e culturais no mundo contemporâneo.
- D) A diversidade étnica resultante das migrações reduz automaticamente conflitos sociais e políticos.

**28.** A expansão das fronteiras agrícolas em áreas originalmente cobertas por florestas tem sido um dos principais vetores de transformação do espaço geográfico em países como o Brasil. Esse processo, frequentemente associado à ampliação da produção de commodities agrícolas e ao aumento da produtividade econômica, também provoca impactos socioambientais significativos, como o desmatamento, a emissão de gases de efeito estufa, a perda de biodiversidade e a alteração dos regimes climáticos regionais. Além disso, a incorporação de novas áreas produtivas costuma gerar conflitos fundiários e territoriais envolvendo povos indígenas, comunidades tradicionais e pequenos produtores, evidenciando que o aproveitamento dos recursos naturais envolve escolhas políticas e disputas pelo uso do território.

Assinale a alternativa correta.

- A) A expansão agrícola constitui processo intrinsecamente sustentável, independentemente do contexto ambiental e social.

## PROFESSOR DE GEOGRAFIA – SMEC

B) O aproveitamento dos recursos naturais implica trade-offs ambientais e sociais, exigindo análise integrada dos impactos territoriais.

C) O desmatamento não exerce influência relevante sobre o clima regional e os ciclos hidrológicos.

D) Os conflitos fundiários associados à expansão agrícola são marginais e não interferem na organização do espaço.

**29.** Ao elaborar um diagnóstico sobre vulnerabilidade social em uma cidade de grande porte, um professor de Geografia utiliza indicadores como renda média domiciliar, acesso ao saneamento básico e níveis de escolaridade, organizando-os em mapas temáticos comparativos por bairro. Esse procedimento permite visualizar a distribuição espacial das desigualdades e identificar áreas com maior concentração de precariedades socioeconômicas. No entanto, a leitura desses mapas exige atenção aos critérios de seleção dos indicadores, à normalização dos dados, às escalas de representação e à interpretação crítica das informações, reconhecendo que a cartografia é um instrumento de análise e não um fim em si mesma.

Assinale a alternativa correta.

A) A utilização de valores absolutos é sempre mais adequada do que taxas ou índices para a representação cartográfica.

B) A elaboração de mapas substitui a necessidade de análise crítica e contextualizada dos dados sociais.

C) A cartografia temática é inadequada para representar fenômenos sociais, devendo restringir-se a dados físicos.

D) A espacialização de indicadores sociais por meio de mapas temáticos contribui para a compreensão das desigualdades intraurbanas.

**30.** Em um município litorâneo, a expansão urbana sobre áreas de manguezais tem provocado o aumento da frequência de alagamentos, a degradação de ecossistemas costeiros e a perda de serviços

ecossistêmicos fundamentais, como a proteção contra a erosão, a regulação hídrica e a manutenção da biodiversidade. Diante desse cenário, o plano diretor municipal busca conciliar a demanda por moradia, a melhoria da mobilidade urbana e a preservação ambiental, reconhecendo que o ordenamento do território deve considerar a interação entre processos naturais e ações humanas. Essa perspectiva evidencia que os riscos ambientais são socialmente produzidos e podem ser mitigados por meio de políticas públicas adequadas.

Assinale a alternativa correta.

A) O planejamento territorial deve separar rigidamente os elementos naturais das dinâmicas sociais e urbanas.

B) O risco ambiental resulta exclusivamente de fenômenos naturais, sendo independente da ocupação humana.

C) A ocupação de áreas ambientalmente frágeis amplia a vulnerabilidade socioambiental e demanda ordenamento territorial integrado.

D) Os manguezais não exercem funções ambientais relevantes para o equilíbrio dos sistemas costeiros.