



**PREFEITURA MUNICIPAL DE SÃO JOSÉ DO RIO PRETO**  
ESTADO DE SÃO PAULO

CONCURSO PÚBLICO

**002. PROVA OBJETIVA**

**AGENTE DE TRÂNSITO**

- ◆ Você recebeu sua folha de respostas e este caderno contendo 50 questões objetivas.
- ◆ Confira seus dados impressos na capa deste caderno e na folha de respostas.
- ◆ Quando for permitido abrir o caderno, verifique se está completo ou se apresenta imperfeições. Caso haja algum problema, informe ao fiscal da sala para a devida substituição desse caderno.
- ◆ Leia cuidadosamente todas as questões e escolha a resposta que você considera correta.
- ◆ Marque, na folha de respostas, com caneta de tinta preta, a letra correspondente à alternativa que você escolheu.
- ◆ A duração da prova é de 3 horas, já incluído o tempo para o preenchimento da folha de respostas.
- ◆ Só será permitida a saída definitiva da sala e do prédio após transcorridas 2 horas do início da prova.
- ◆ Deverão permanecer em cada uma das salas de prova os 3 últimos candidatos, até que o último deles entregue sua prova, assinando termo respectivo.
- ◆ Ao sair, você entregará ao fiscal a folha de respostas e este caderno.
- ◆ Até que você saia do prédio, todas as proibições e orientações continuam válidas.

**AGUARDE A ORDEM DO FISCAL PARA ABRIR ESTE CADERNO.**

Nome do candidato \_\_\_\_\_

RG \_\_\_\_\_ Inscrição \_\_\_\_\_ Prédio \_\_\_\_\_ Sala \_\_\_\_\_ Carteira \_\_\_\_\_



## CONHECIMENTOS GERAIS

### LÍNGUA PORTUGUESA

Leia o texto a seguir para responder às questões de **01** a **05**:

Tudo o que ouvi dizer de minha avó materna devo à insistência com que abordei o assunto. Minha mãe gostava de contar casos de família depois do jantar, sentada à mesa da copa ou numa poltrona de couro da sala, mas esse ela muitas vezes evitava com habilidade. Dizia que ainda era menina quando minha avó morreu, que as coisas que sabia tinha escutado entre os oito e os doze anos de idade, que a partir daí o convívio com a mãe ficou muito prejudicado ou então que sua memória andava fraca ultimamente. A impressão que me dava, vendo-a passar o dedo em cima de um friso da toalha ou de um veio saliente no braço da poltrona, era a de alguém que no primeiro instante se recorda e no seguinte abafa compulsivamente as imagens evocadas. Os motivos alegados podiam ser reais, mas não era verdade que sua memória estivesse fraca; pelo contrário, os anos pareciam beneficiá-la com as reflexões da velhice e a busca silenciosa de um sentido para a experiência. Além disso, era inevitável que mencionasse sua mãe como personagem relevante da sua história pessoal, o que acabou levando à composição de um quadro inteligível, ainda que sumário, dos sofrimentos de minha avó.

(Modesto Carone, *Resumo de Ana*, 1998)

- 01.** Durante as conversas com a mãe, o narrador sente que ela
- (A) escondia fatos relativos aos antepassados por envergonhar-se deles.
  - (B) julgava desrespeitosa a insistência do filho quanto à história da avó.
  - (C) sofria com os segredos da própria mãe, que morrera precocemente.
  - (D) acabava por não expressar as lembranças que lhe vinham à mente.
  - (E) contava mentiras sobre a família para satisfazer a curiosidade do filho.
- 02.** Ao falar de si própria, a mãe do narrador permite que ele
- (A) entenda por que ela resiste a falar da própria mãe.
  - (B) aprenda a narrar os fatos de sua própria vida.
  - (C) conheça um pouco da vida da avó materna.
  - (D) sinta-se desconfortável pelas perguntas que faz.
  - (E) passe a se interessar pela história de toda a família.

- 03.** A reescrita do trecho “Os motivos alegados podiam ser reais, mas não era verdade que sua memória estivesse fraca...” preserva o sentido original e a norma-padrão em:
- (A) Caso os motivos alegados pudessem ser reais, não era verdade que sua memória estava fraca...
  - (B) Embora os motivos alegados pudessem ser reais, não era verdade que sua memória estivesse fraca...
  - (C) Como os motivos alegados podiam ser reais, não era verdade que sua memória estivesse fraca...
  - (D) Para que os motivos alegados pudessem ser reais, não era verdade que sua memória estava fraca...
  - (E) Ainda que os motivos alegados podiam ser reais, não era verdade que sua memória estivesse fraca...
- 04.** Em “... as coisas que sabia **tinha escutado** entre os oito e os doze anos de idade”, a expressão destacada equivale a:
- (A) escutaria.
  - (B) escutou.
  - (C) escuta.
  - (D) escutava.
  - (E) escutara.
- 05.** No trecho “Tudo o que ouvi dizer de minha avó materna devo à insistência com **que** abordei o assunto.”, os termos destacados podem ser, correta e respectivamente, substituídos por:
- (A) aquilo ... a qual
  - (B) aquilo ... qual
  - (C) aquilo ... da qual
  - (D) isso ... a qual
  - (E) isso ... qual
- 06.** Assinale a alternativa redigida em conformidade com a norma-padrão de concordância verbal.
- (A) É interessante que os mais velhos procure contar aos mais novos histórias de família.
  - (B) É comum que apareça, nos mais diferentes relatos de família, histórias de muito sofrimento.
  - (C) Registram-se em diários, cadernos e álbuns fotográficos, as histórias de muitas famílias.
  - (D) Existe famílias cujos membros gostam de conversar sobre seus antepassados.
  - (E) Sempre houveram crianças interessadas nas histórias de avós que já morreram.

Leia o texto a seguir para responder às questões de 07 a 14:

Acreditou-se por muito tempo que, deixando-se de lado a Revolução Industrial, a produção de bens de consumo nunca aumentou de forma tão rápida e robusta quanto por obra da invenção da agricultura. Graças à agricultura, pensava-se, os grupos humanos puderam tornar-se sedentários e assegurar uma provisão regular, conservando os grãos. Como dispunham de excedentes, as sociedades puderam dar-se ao luxo de manter indivíduos ou classes – chefes, nobres, sacerdotes, artesãos – que não participavam da produção de alimentos. No espaço de quatro ou cinco milênios, a impulsão dada pela agricultura e mantida por ela teria levado os homens de um modo de vida precário, ameaçado pela fome, a uma existência estável, primeiro em aldeias e finalmente em impérios.

Essas eram as visões que prevaleciam até recentemente. Hoje, essa reconstrução simples e grandiosa da história humana jaz em ruínas. Pesquisas entre os povos sem agricultura, voltadas para questões como tempo de trabalho, produtividade e valor nutricional dos alimentos, demonstram que a maior parte deles leva uma vida confortável. Meios geográficos que, por ignorância de seus recursos naturais, julgávamos miseráveis reservam para aqueles que ali vivem grande quantidade de espécies vegetais muito apropriadas para a alimentação. Descobriu-se, por exemplo, que os indígenas das regiões desérticas da Califórnia, onde hoje uma pequena população branca subsiste com dificuldade, consumiam uma grande variedade de plantas selvagens de alto valor nutritivo.

Calculou-se que, entre os povos que viviam da caça e da coleta de produtos selvagens, um homem supria as necessidades de quatro ou cinco pessoas, ou seja, tinha uma produtividade superior à de muitos camponeses europeus. Além disso, o tempo gasto com a procura de alimentos não excedia a média de três horas diárias, para uma produção alimentar bastante equilibrada e que ultrapassava 2 mil calorias por pessoa (média que inclui crianças e idosos).

(Claude Lévi-Strauss. *Somos todos canibais*, 2022. Adaptado)

07. O autor demonstra que está ultrapassada a ideia segundo a qual a agricultura teria

- (A) possibilitado o aumento da produtividade de importantes espécies vegetais selvagens raras e altamente nutritivas.
- (B) levado à produção e ao armazenamento de grãos, o que tornou possível o desenvolvimento do comércio entre os povos.
- (C) sido responsável por resolver o problema da escassez de alimentos, que impedia a fixação territorial dos indivíduos.
- (D) tornado possível o convívio pacífico entre pessoas de diferentes grupos sociais, como nobres, artesãos e sacerdotes.
- (E) elevado a produção de bens de consumo a níveis superiores àqueles alcançados pela Revolução Industrial.

08. A referência aos indígenas das regiões desérticas da Califórnia cumpre no texto a função de

- (A) esclarecer quais são os tipos de alimentos consumidos pela população branca das mesmas regiões.
- (B) ilustrar a ideia de que é possível o acesso a uma alimentação adequada sem que se pratique a agricultura.
- (C) embasar a defesa da necessidade de pesquisas sobre os tipos de alimentos selvagens por eles consumidos.
- (D) enfatizar o fato de que em territórios áridos os indivíduos raramente têm acesso a alimentos de qualidade.
- (E) confirmar a ignorância desses indivíduos em relação aos recursos naturais existentes em seu território.

09. Assinale a alternativa em cujo trecho há uma comparação.

- (A) ... a produção de bens de consumo nunca aumentou de forma tão rápida e robusta quanto por obra da invenção da agricultura. (1º parágrafo)
- (B) Meios geográficos que, por ignorância de seus recursos naturais, julgávamos miseráveis... (2º parágrafo)
- (C) Como dispunham de excedentes, as sociedades puderam dar-se ao luxo de manter indivíduos ou classes... (1º parágrafo)
- (D) Graças à agricultura, pensava-se, os grupos humanos puderam tornar-se sedentários e assegurar uma provisão regular... (1º parágrafo)
- (E) Calculou-se que, entre os povos que viviam da caça e da coleta de produtos selvagens... (3º parágrafo)

10. Considere os trechos a seguir:

“... uma pequena população branca **subsiste** com dificuldade...” (2º parágrafo)

“.. o tempo gasto com a procura de alimentos não **excedia** a média de três horas diárias...” (3º parágrafo)

No contexto em que se apresentam, os termos destacados são sinônimos de:

- (A) avança e ultrapassava.
- (B) sofre e esclarecia.
- (C) produz e chegava.
- (D) sobrevive e superava.
- (E) resiste e alcançava.

11. Em “Hoje, essa reconstrução simples e grandiosa da história humana **jaz em ruínas**.” (2º parágrafo), a expressão destacada apresenta

- (A) sentido figurado e significa “foi reconhecida”.
- (B) sentido figurado e significa “foi abandonada”.
- (C) sentido próprio e significa “foi adotada”.
- (D) sentido próprio e significa “foi enterrada”.
- (E) sentido figurado e significa “foi comprovada”.

12. No trecho do 3º parágrafo "... ultrapassava 2 mil calorias por pessoa (média que inclui crianças e idosos).", os parênteses foram empregados para apresentar

- (A) um comentário irônico.
- (B) uma opinião pessoal.
- (C) um dado equivocado.
- (D) uma reflexão negativa.
- (E) uma informação acessória.

13. O sentido indicado entre colchetes associa-se corretamente à expressão destacada em:

- (A) ... uma grande quantidade de espécies vegetais muito apropriadas **para** a alimentação. (2º parágrafo) [finalidade]
- (B) ... uma existência estável, primeiro em aldeias e finalmente **em** impérios. (1º parágrafo) [meio]
- (C) Essas eram as visões que prevaleciam **até** recentemente. (2º parágrafo) [intensidade]
- (D) Pesquisas entre os povos **sem** agricultura, voltadas para questões como tempo de trabalho... (2º parágrafo) [oposição]
- (E) ... onde hoje uma pequena população branca subsiste **com** dificuldade... (2º parágrafo) [causa]

14. Na reescrita do trecho do 1º parágrafo "... dispunham de excedentes...", o termo destacado será substituído por "com" se a forma verbal "dispunham" for substituída por:

- (A) possuíam.
- (B) aproveitavam.
- (C) contavam.
- (D) tinham.
- (E) usufruíam.

15. Assinale a alternativa que completa, correta e respectivamente, as lacunas do texto.

Há pessoas que se dedicam \_\_\_\_\_ investigar os hábitos alimentares de diferentes populações. Sabe-se que existem aquelas que praticam a agricultura e \_\_\_\_\_ que recorrem \_\_\_\_\_ coleta de plantas selvagens \_\_\_\_\_ fim de obter alimentos de origem vegetal.

- (A) a ... as ... à ... a
- (B) a ... as ... à ... à
- (C) a ... às ... a ... a
- (D) à ... às ... à ... à
- (E) à ... as ... a ... a

16. André está fazendo o controle de suas despesas mensais com itens não essenciais. Para isso, ele recuperou os registros dos valores mensais gastos com esse tipo de despesa nos 5 meses anteriores, que foram R\$ 475,00, R\$ 510,00, R\$ 505,00, R\$ 448,00 e R\$ 434,00; ele se perguntou, então, qual o valor X (em reais) que deveria gastar no mês atual, com itens não essenciais, de modo que a média aritmética simples dos gastos mensais nos últimos 6 meses, com itens não essenciais, fosse igual a R\$ 400,00.

Feito corretamente esse cálculo, André obteve para X o valor de

- (A) 32,00.
- (B) 30,00.
- (C) 36,00.
- (D) 28,00.
- (E) 34,00.

17. O setor de entregas de uma loja de produtos de limpeza comprou algumas caixas de papelão, algumas pequenas, e as demais grandes, num total de 56 caixas, de modo que fossem 5 caixas pequenas para cada 3 caixas grandes. Cada caixa pequena acomoda, no máximo, 8 frascos de produto de limpeza, e cada caixa grande, no máximo 12 frascos. Se a empresa usar todas as caixas compradas de acordo com a capacidade máxima de cada uma, o número total de frascos acomodados nas caixas será igual a

- (A) 224.
- (B) 532.
- (C) 160.
- (D) 588.
- (E) 76.

18. Uma caixa para armazenamento de documentos foi projetada para que tivesse o formato de um cubo com volume de  $15.625 \text{ cm}^3$ . Baseando-se nesse projeto, uma fábrica fez essa caixa de um tipo de papelão que tem 420 g para cada  $\text{m}^2$ . Supondo que essa caixa é fechada (ou seja, que possui todas as 6 faces), a massa total dessa caixa, sem nada em seu interior, será de

- (A) 250,5 g.
- (B) 454,3 g.
- (C) 268,4 g.
- (D) 656,6 g.
- (E) 157,5 g.

19. Cláudia trocou uma mesa de tampo retangular, com 0,8 m de largura e 1,5 m de comprimento, por outra mesa de tampo retangular, cuja largura e comprimento, comparados com o tampo da mesa anterior, são maiores em 25% e 20%, respectivamente. A área do tampo da mesa nova, em comparação com a área do tampo da mesa antiga, é maior em
- (A) 45%.
  - (B) 47,5%.
  - (C) 50%.
  - (D) 55%.
  - (E) 52,5%.
20. O gerente de uma loja de roupas fez a seguinte encomenda junto ao seu fornecedor: 25 camisetas sem estampa, 35 camisetas com estampa, 18 camisas polo e 22 calças jeans. As camisetas com estampa são R\$ 5,00 mais caras do que as camisetas sem estampa, e estas últimas são R\$ 18,00 mais baratas do que as camisas polo. As calças jeans custam R\$ 30,00 cada uma. Se o valor total dessa compra foi R\$ 1.939,00, cada camiseta com estampa custou
- (A) R\$ 12,00.
  - (B) R\$ 15,00.
  - (C) R\$ 18,00.
  - (D) R\$ 10,00.
  - (E) R\$ 16,00.
21. Um casal vendeu um carro por R\$ 21.000,00 e pensou, inicialmente, em repartir esse valor em partes iguais entre certo número  $n$  de familiares que estavam precisando de recursos. Porém, ao tomar conhecimento que, além daqueles familiares, 2 conhecidos do casal também estavam passando por dificuldades financeiras, o casal decidiu então repartir o valor da venda do carro entre essas  $(n + 2)$  pessoas, e com isso cada pessoa recebeu R\$ 2.800,00 a menos do que as  $n$  pessoas receberiam, cada uma, inicialmente.
- Se instantes antes de fazer o pagamento, mais uma pessoa for incluída na divisão do valor da venda do carro, em partes iguais para todas, cada uma dessas  $(n + 3)$  pessoas receberá
- (A) R\$ 2.625,00.
  - (B) R\$ 2.800,00.
  - (C) R\$ 3.000,00.
  - (D) R\$ 3.225,00.
  - (E) R\$ 3.500,00.

22. A soma dos números de processos distribuídos no mês passado para duas varas judiciais, A e B, é 246. Ao comparar os registros, verificou-se que a vara B recebeu 18 processos a mais que a vara A.

Se dos processos distribuídos para a vara B, a quarta parte ainda não foi concluída, é correto concluir que o número de processos distribuídos no mês passado para a vara B que já foram concluídos é igual a

- (A) 33.
- (B) 96.
- (C) 102.
- (D) 99.
- (E) 30.

23. Joseane pretende colocar 3 pedaços de madeira para reforçar a estrutura de sua estante. Esses pedaços de madeira, cuja espessura aqui desprezamos, são retangulares, todos com 5 cm de largura, sendo que os comprimentos dos dois primeiros pedaços de madeira, que são perpendiculares entre si, são iguais a 60 cm e 85 cm, respectivamente, de acordo com a figura a seguir:

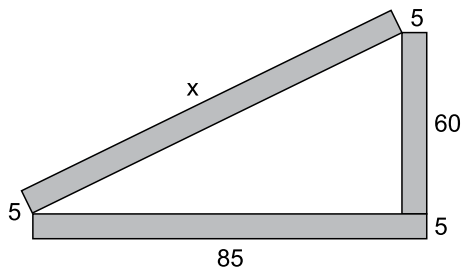


Figura fora de escala

O comprimento  $x$ , em cm, do terceiro pedaço de madeira é

- (A) 100.
- (B) 95.
- (C) 105.
- (D) 110.
- (E) 115.

24. Os tempos de duração de duas reuniões foram anotados. A razão entre a duração da mais curta e a duração da mais longa é  $\frac{5}{6}$ . Se a reunião mais curta teve duração de 1 hora e 15 minutos, a reunião mais longa teve duração de

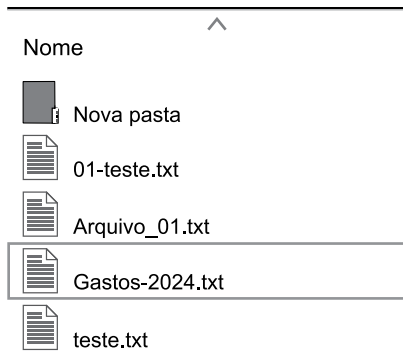
- (A) 1 hora e 15 minutos.
- (B) 1 hora e 50 minutos.
- (C) 1 hora e 30 minutos.
- (D) 1 hora e 40 minutos.
- (E) 1 hora e 45 minutos.

25. Certa quantidade de água é suficiente para que 4 cães a bebam por 2 dias, todos bebendo a mesma quantidade diária de água. Então, supondo que uma mesma quantidade de água seja bebida por apenas 1 cão, que bebe a mesma quantidade diária de água dos cães da situação anterior, tal quantidade de água será suficiente para

- (A) 8 dias.
- (B) 5 dias.
- (C) 4 dias.
- (D) 6 dias.
- (E) 7 dias.

## R A S C U N H O

26. Considere o seguinte diretório, que é visualizado com o aplicativo Explorador de Arquivos do MS-Windows 11, em sua configuração padrão:



Assinale a alternativa que apresenta o nome do terceiro elemento, arquivo ou o diretório, na listagem ao clicar com o botão secundário do mouse sobre a área mostrada na figura e selecionar a opção “Classificar por”, escolher o tipo “Nome” e “Ordem Crescente”:

- (A) Nova Pasta  
 (B) Arquivo\_01.txt  
 (C) 01-teste.txt  
 (D) Gastos-2024.txt  
 (E) teste.txt
27. Um usuário está utilizando o MS Word 2016, em sua configuração padrão, para redigir um relatório, e precisa fazer com que, no Capítulo 1, o título do capítulo seja mostrado no cabeçalho, bem como no Capítulo 2 seja mostrado o título correspondente, e assim por diante. Considerando que os títulos correspondentes a cada Capítulo serão digitados nos respectivos cabeçalhos, assinale a alternativa que apresenta o recurso que poderá ser utilizado para corretamente atender a necessidade do usuário.
- (A) Mala direta.  
 (B) Quebra Automática.  
 (C) Quebra de Página.  
 (D) Quebra de Seção.  
 (E) Inserção de Índice.

28. Um usuário, utilizando o MS Excel 2016 em sua configuração padrão, está manipulando a planilha a seguir:

	A	B
1	Valor do produto	Valor da comissão
2	R\$ 50.000,00	R\$ 2.000,00
3	R\$ 100.000,00	R\$ 5.000,00
4	R\$ 70.000,00	R\$ 2.500,00
5	R\$ 30.000,00	R\$ 1.000,00
6		
7		

Assinale a alternativa que apresenta corretamente a fórmula que, se aplicada na célula B7, irá trazer a soma das comissões dos produtos vendidos acima do valor de R\$ 50.000,00.

- (A) =SOMASE(A2:A5;B2:B5;50000)  
 (B) =SOMASE(B2:B5;">50000";A2:A5)  
 (C) =SOMASE(A2:A5;">=R\$ 50.000,00";B2:B5)  
 (D) =SOMASE(B2:B5;A2:A5;50000)  
 (E) =SOMASE(A2:A5;">50000";B2:B5)
29. Sobre o programa para envio e recepção de e-mails Microsoft Outlook, em sua configuração padrão, assinale a alternativa correta em relação à anexação de arquivos.
- (A) Os anexos só são visíveis ao utilizar um computador do tipo desktop ou notebook, não cabendo seu download em acesso por dispositivos móveis.  
 (B) Por padrão, algumas extensões são bloqueadas ao enviar anexos, como por exemplo .exe.  
 (C) Por padrão, o aplicativo não estabelece restrição quanto ao tamanho dos anexos enviados.  
 (D) O arquivo anexo é apenas referenciado, devendo permanecer na mesma pasta do computador do remetente.  
 (E) Ao clicar em Responder, o destinatário enviará novamente os anexos recebidos inicialmente.
30. Um servidor público, utilizando o Microsoft Teams em sua configuração padrão, o qual está vinculado à Organização na qual trabalha, deseja criar uma reunião online. Assinale a alternativa correta sobre essa funcionalidade.
- (A) O recurso de levantar a mão na reunião pode ser utilizado por membros da Organização, apenas.  
 (B) Apenas usuários autorizados em tempo real pelo Administrador da Organização poderão falar na reunião.  
 (C) É possível a um membro externo à Organização acessar a reunião através de um link específico.  
 (D) É possível adicionar apenas convidados da própria Organização para participar da reunião online.  
 (E) Caso o anfitrião não possua uma webcam configurada, não será possível que ele inicie a reunião.

## CONHECIMENTOS ESPECÍFICOS

31. De acordo com o art. 59 do Código de Trânsito Brasileiro (CTB), desde que autorizada e devidamente sinalizada pelo órgão ou entidade com circunscrição sobre a via, será permitida a circulação de bicicletas

- (A) nos passeios.
- (B) nas rodovias de pista simples.
- (C) nos acostamentos.
- (D) nas rodovias de pista dupla.
- (E) nas estradas.

32. As vias abertas à circulação, de acordo com sua utilização, classificam-se em

- (A) via de trânsito rápido e via coletora.
- (B) via local e via de trânsito rápido.
- (C) via coletora e via local.
- (D) via arterial e via de trânsito rápido.
- (E) vias urbanas e vias rurais.

33. O art. 61 do CTB estabelece a velocidade máxima permitida para a via, que será indicada por meio de sinalização, obedecidas suas características técnicas e as condições de trânsito, sendo que, onde não existir sinalização regulamentadora, nas vias urbanas, a velocidade máxima para uma via arterial será de

- (A) 30 km/h (trinta quilômetros por hora).
- (B) 50 km/h (cinquenta quilômetros por hora).
- (C) 80 km/h (oitenta quilômetros por hora).
- (D) 60 km/h (sessenta quilômetros por hora).
- (E) 40 km/h (quarenta quilômetros por hora).

34. Observe a figura a seguir:



(arquivo pessoal; imagem utilizada com autorização)

A imagem mostra um veículo denominado “rodotrem” com 9 eixos. Caso esse veículo esteja trafegando por uma rodovia de pista simples que não esteja sinalizada com placa de velocidade máxima permitida, o condutor deverá obedecer, de acordo com o art. 61, inciso II e alínea b, do CTB, a velocidade máxima de

- (A) 100 km/h (cem quilômetros por hora).
- (B) 80 km/h (oitenta quilômetros por hora).
- (C) 70 km/h (setenta quilômetros por hora).
- (D) 90 km/h (noventa quilômetros por hora).
- (E) 60 km/h (sessenta quilômetros por hora).

35. As crianças com idade inferior a 10 (dez) anos que não tenham atingido \_\_\_\_\_ de altura devem ser transportadas nos bancos traseiros, em dispositivo de retenção adequado para cada idade, peso e altura, salvo exceções relacionadas a tipos específicos de veículos regulamentadas pelo Contran.

Assinale a alternativa que preenche corretamente a lacuna.

- (A) 1,50 m (um metro e cinquenta centímetros)
- (B) 1,55 m (um metro e cinquenta e cinco centímetros)
- (C) 1,45 m (um metro e quarenta e cinco centímetros)
- (D) 1,60 m (um metro e sessenta centímetros)
- (E) 1,65 m (um metro e sessenta e cinco centímetros)

36. De acordo com o art. 95 do CTB, nenhuma obra ou evento que possa perturbar ou interromper a livre circulação de veículos e pedestres, ou colocar em risco sua segurança, será iniciada sem permissão prévia do órgão ou entidade de trânsito com circunscrição sobre a via. O descumprimento do disposto neste artigo será punido com multa de

- (A) R\$ 81,35 (oitenta e um reais e trinta e cinco centavos) a R\$ 488,10 (quatrocentos e oitenta e oito reais e dez centavos).
- (B) R\$ 123,00 (cento e vinte e três reais) a R\$ 680,00 (seiscentos e oitenta reais).
- (C) R\$ 193,40 (cento e noventa e três reais e quarenta centavos) a R\$ 800,00 (oitocentos reais).
- (D) R\$ 293,40 (duzentos e noventa e três reais e quarenta centavos) a R\$ 900,00 (novecentos reais).
- (E) R\$ 393,40 (trezentos e noventa e três reais e quarenta centavos) a R\$ 980,00 (novecentos e oitenta reais).

37. É proibida a utilização das ondulações transversais e de sonorizadores como redutores de velocidade, salvo em casos especiais definidos pelo órgão ou entidade competente, nos padrões e critérios estabelecidos
- (A) pelo CONTRANDIFE.
  - (B) pelo CONTRAN.
  - (C) pelo DETRAN.
  - (D) pela Engenharia de Tráfego.
  - (E) pela CIRETRAN.
38. É permitida a fabricação de veículos de transporte de passageiros, na configuração de chassi 8 x 2, de até
- (A) 18 m (dezoito metros) de comprimento.
  - (B) 12 m (doze metros) de comprimento.
  - (C) 10 m (dez metros) de comprimento.
  - (D) 11 m (onze metros) de comprimento.
  - (E) 15 m (quinze metros) de comprimento.
39. Aos guindastes autopropelidos ou sobre caminhões poderá ser concedida, pela autoridade com circunscrição sobre a via, autorização especial de trânsito, atendidas as medidas de segurança consideradas necessárias, com prazo de
- (A) 15 (quinze) meses.
  - (B) 12 (doze) meses.
  - (C) 24 (vinte e quatro) meses.
  - (D) 6 (seis) meses.
  - (E) 30 (trinta) meses.
40. De acordo com o art. 104 do CTB, os veículos em circulação terão suas condições de segurança, de controle de emissão de gases poluentes e de ruído avaliadas mediante inspeção, que será obrigatória, na forma e periodicidade estabelecidas pelo CONTRAN, para os itens de segurança e para emissão de gases poluentes e ruído pelo
- (A) CETESB.
  - (B) CONAMA.
  - (C) IBAMA.
  - (D) SISNAMA.
  - (E) ICMBio.
41. O condutor que parar o veículo sobre ciclovia ou ciclofaixa poderá ser autuado e receber em seu prontuário o registro de
- (A) quatro pontos.
  - (B) sete pontos.
  - (C) cinco pontos.
  - (D) suspensão da CNH.
  - (E) uma advertência.

42. Observe a figura a seguir:




([https://tribunademinas.com.br/noticias/cidade/26-08-2015/carro-estacionado-em-local-proibido.html#google\\_vignette](https://tribunademinas.com.br/noticias/cidade/26-08-2015/carro-estacionado-em-local-proibido.html#google_vignette))

A imagem mostra um veículo cujo condutor cometeu algumas infrações de trânsito. De acordo com o art. 181, inciso I, do CTB, a infração referente ao estacionamento na esquina é considerada uma infração

- (A) média.
  - (B) leve.
  - (C) grave.
  - (D) gravíssima.
  - (E) levíssima.
43. Deixar o condutor de prestar socorro à vítima de sinistro de trânsito quando solicitado pela autoridade e seus agentes, de acordo com o art. 177 do CTB, é considerada uma infração de trânsito e o condutor poderá ter anotados em seu prontuário
- (A) 7 (sete) pontos.
  - (B) 4 (quatro) pontos.
  - (C) 3 (três) pontos.
  - (D) 21 (vinte e um) pontos.
  - (E) 5 (cinco) pontos.
44. Será aplicada a penalidade de multa (dez vezes) e suspensão do direito de dirigir por 12 (doze) meses ao condutor que
- (A) deixar de realizar o exame toxicológico previsto no § 2º do art. 148-A do CTB, após 30 (trinta) dias do vencimento do prazo estabelecido.
  - (B) dirigir veículo sem realizar o exame toxicológico previsto no art. 148-A do CTB.
  - (C) confiar ou entregar a direção de veículo a pessoa que, mesmo habilitada, por seu estado físico ou psíquico, não esteja em condições de dirigi-lo com segurança.
  - (D) dirigir sob a influência de álcool ou de qualquer outra substância psicoativa que determine dependência.
  - (E) dirigir veículo com Carteira Nacional de Habilitação ou Permissão para Dirigir de categoria diferente da do veículo que esteja conduzindo.

45. Observe a figura a seguir:



(Resolução nº 973/2022 do CONTRAN)

Assinale a alternativa que apresenta o significado da placa em destaque de acordo com a Resolução nº 973/2022 do CONTRAN, volume II.

- (A) Confluência à esquerda.
  - (B) Confluência à direita.
  - (C) Entroncamento oblíquo à direita.
  - (D) Entroncamento oblíquo à esquerda.
  - (E) Via lateral à direita.
46. Os elementos aplicados na via ou em obstáculos próximos a ela, de forma a tornar mais eficiente e segura a operação do trânsito, de acordo com a Resolução CONTRAN nº 973/2022, volume VI, são denominados
- (A) advertência.
  - (B) sinalização temporária.
  - (C) regulamentação.
  - (D) indicação.
  - (E) dispositivos auxiliares.
47. A Resolução nº 973/2022 do CONTRAN regulamenta a sinalização de indicação, que está dividida nos seguintes grupos: placas de identificação, placas de orientação de destino, placas educativas, placas de serviços auxiliares, placas de atrativos turísticos e placas de
- (A) terminal rodoviário.
  - (B) postos de fiscalização.
  - (C) via monitorada.
  - (D) estacionamento de trailer.
  - (E) chegada a praias marítimas.

48. De acordo com o item 6.3 do Manual Brasileiro de Fiscalização de Trânsito (MBFT), o responsável pela infração relativa ao transporte de carga com excesso de peso nos eixos ou no peso bruto total, quando simultaneamente for o único remetente da carga e o peso declarado na nota fiscal, fatura ou manifesto for inferior àquele aferido, será o

- (A) embarcador.
  - (B) fabricante.
  - (C) destinatário.
  - (D) condutor.
  - (E) proprietário.
49. Medidor de velocidade, obrigatoriamente dotado de display, destinado a fiscalizar a redução pontual de velocidade estabelecida em relação à velocidade diretriz da via, por meio de sinalização com placa R-19, em trechos críticos e de vulnerabilidade dos usuários da via, é denominado
- (A) distribuidor.
  - (B) controlador.
  - (C) seccionador.
  - (D) redutor.
  - (E) variante.
50. Em vias urbanas e em trechos de vias rurais com características de via urbana, nos locais em que houver instalado medidor de velocidade do tipo fixo, os medidores de velocidade portáteis somente podem ser utilizados a uma distância mínima de
- (A) 500 m (quinhentos metros).
  - (B) 400 m (quatrocentos metros).
  - (C) 300 m (trezentos metros).
  - (D) 200 m (duzentos metros).
  - (E) 100 m (cem metros).

