

AVANÇASP



GUARDA MUNICIPAL DE  
AMERICANA /SP

CONCURSO PÚBLICO  
01/2025

# TÉCNICO DE SEGURANÇA DO TRABALHO

## Leia atentamente as instruções abaixo

### 1. PROVA E FOLHA DE RESPOSTAS

- Além deste Caderno de Prova, contendo 40 (quarenta) questões objetivas, você receberá do Fiscal de Sala:
- 01 (uma) Folha de Respostas destinada às respostas das questões objetivas. Confira se seus dados estão corretos.

### 2. TEMPO

- 03 (três) horas é o tempo disponível para realização da prova, já incluído o tempo para marcação da Folha de Respostas da prova objetiva;
- **01 (uma) hora** após o início da prova é possível, retirar-se da sala levando o caderno de prova;

### 3. INFORMAÇÕES GERAIS

- As questões objetivas têm 05 (cinco) alternativas de resposta (A, B, C, D, E) e somente **uma** delas está correta;
- Verifique se seu caderno está completo, sem repetição de questões ou falhas. Caso contrário, informe imediatamente o Fiscal da Sala, para que sejam tomadas as devidas providências;
- Confira seus dados pessoais na Folha de Respostas, especialmente nome, número de inscrição e documento de identidade e leia atentamente as instruções para preenchimento;
- O preenchimento das respostas da prova objetiva é de sua responsabilidade e não será permitida a troca de Folha de Respostas em caso de erro de marcação pelo candidato;

- Marque, na folha de respostas, com caneta de tinta azul ou preta, a letra correspondente à alternativa que você escolheu.

- Reserve tempo suficiente para o preenchimento de suas respostas. Para fins de avaliação, serão levadas em consideração apenas as marcações realizadas na Folha de Respostas da prova objetiva, não sendo permitido anotar informações relativas às respostas em qualquer outro meio que não seja o caderno de prova;

- Ao se retirar, entregue a Folha de Respostas preenchida e assinada ao Fiscal de Sala.

**SERÁ ELIMINADO do presente certame o candidato que:**

a) for surpreendido, durante as provas, em qualquer tipo de comunicação com outro candidato;

b) portar ou usar, qualquer tipo de aparelho eletrônico (calculadoras, bips/pagers, câmeras fotográficas, filmadoras, telefones celulares, smartphones, tablets, relógios, walkmans, MP3 players, fones de ouvido, agendas eletrônicas, notebooks, palmtops ou qualquer outro tipo de computador portátil, receptores ou gravadores) seja na sala de prova, sanitários, pátios ou qualquer outra dependência do local de prova;

c) se ausentar da sala em que se realizam as provas levando consigo o Caderno de Questões e/ou a Folha de Respostas;

d) se recusar a entregar a Folha de Respostas, quando terminar o tempo estabelecido;

e) não assinar a Lista de Presença e/ou a Folha de Respostas.

---

**LÍNGUA PORTUGUESA****TEXTO**

---

Leia o texto a seguir para responder às questões de 01 a 03.

**Nem tudo são flores**

Quando levo meu cachorrinho para passear, meus olhos vão descobrindo alguns terraços cheios de flores, janelas com cortinas de crochê e bebedouros para os bem-te-vis. Um encanto! E cada dia que faço este passeio parece que esses terraços são mais e mais festivos, e que existem pessoas muito felizes naqueles lares. O sol, as flores, os bem-te-vis... Naturalmente penso, imagino e fantasio a vida de cada um daqueles recantos vistos com alegria de quem apenas passa.

O que estarão fazendo os habitantes daquelas casas e apartamentos? Serão realmente felizes? É difícil imaginar que por detrás daqueles jardins encantados possa existir alguém triste, solitário e com uma montanha de problemas. Mas existem; as flores e os bem-te-vis camuflam a realidade que se imagina no seu interior.

Mas gosto de ver, são momentos de ilusão, uma vez que me afasta da violência da cidade, das encrencas entre as pessoas – em parte civilizadas –, e me permite pensar que a vida se apresenta sempre maravilhosa. Deve ser o poder das flores! (...)

Mas aquela imagem me levou a pensar em outra coisa: será que as pessoas não se tornam ídolos justamente porque são inacessíveis?

Fico curiosa com biografias de grandes nomes e tenho interesse pelos aspectos ocultos de grandes vultos, de cientistas e pensadores que fizeram a história da humanidade. Os ídolos nunca são nossos iguais: precisam ficar no patamar da nossa admiração, protegidos da curiosidade humana, envoltos num mistério que nos fascina. No momento que se desnudam aos nossos olhos, a coisa muda.

Por isso, não gostaria de adentrar nos terraços da minha rua; poderei olhar as flores, os bem-te-vis e pensar, por momentos, que o caminho que tracei para passear com meu cachorro é um percurso lindo, alegre que alimenta meus sonhos num mundo

imaginário. Depois volto à realidade, pronta para levar o dia, com seu lado hilário e outro mais sério; afinal, nem tudo são flores. Mas se quero um pouco de fantasia, penso que preciso manter a distância das flores, dos terraços e até dos bem-te-vis que estão pelos caminhos da minha rua. Olhá-los de longe... É um presente para minha imaginação... Não me revelam o que pode estar por trás.

CARVALHO, Tais Luso de. Nem tudo são flores. *Porto das crônicas*. Disponível em <<https://taisluso.blogspot.com/2009/06/o-poder-das-flores.html>>.

---

**QUESTÃO 01**

---

Em relação ao texto “Nem tudo são flores”, é correto afirmar que a autora:

- (A) desenvolve ideias com base na experiência pessoal de alguém conhecido.
- (B) desenvolve ideias com base em sua própria experiência pessoal.
- (C) não tem nenhum ídolo, nenhuma pessoa que possa admirar.
- (D) é contra a ideia de pessoas admirarem ídolos.
- (E) fica alheia aos elementos da natureza ao seu redor.

---

**QUESTÃO 02**

---

“Depois volto à realidade, pronta para levar o dia, com seu lado **hilário** e outro mais sério”

A palavra destacada no trecho acima é sinônima de:

- (A) “engraçado”, “divertido”.
- (B) “apressado”, “corrido”.
- (C) “triste”, “cabisbaixo”.
- (D) “caro”, “custoso”.
- (E) “barato”, “fútil”.

**QUESTÃO 03**

Assinale a alternativa em que a palavra destacada está sendo empregada em seu sentido figurado.

- (A) “Quando levo meu **cachorrinho** para passear”
- (B) “O que estarão fazendo os habitantes daquelas **casas** e apartamentos?”
- (C) “alguém triste, solitário e com uma **montanha** de problemas”
- (D) “É difícil imaginar que por detrás daqueles **jardins** encantados possa existir alguém triste”
- (E) “as **flores** e os bem-te-vis camuflam a realidade que se imagina no seu interior.”

**QUESTÃO 04**

Assinale a alternativa em que todas as palavras estão escritas de acordo com as normas vigentes de grafia da Língua Portuguesa.

- (A) Sempre que penso em você, os meus neurônios vôm para uma outra dimensão.
- (B) Os acessórios que você me deu de presente eram pura bijuteria.
- (C) É necessario que você venha logo para dar início à sessão solene.
- (D) Não me saía da cabeça a ideia de que você é um bom indivíduo.
- (E) Sei que vocês também são contra todos os itens discutidos naquela pauta.

**QUESTÃO 05**

Assinale a alternativa em que o espaço em branco pode ser preenchido corretamente com “à”.

- (A) Ele está pregando \_\_\_ todas as pessoas presentes no auditório.
- (B) De dezembro \_\_\_ dezembro, ele ia fazendo marcações em sua agenda de trabalho.
- (C) Eu fiz uma breve menção \_\_\_ uma colega de trabalho que admiro muito.
- (D) Eu me dirigi \_\_\_ você com as melhores intenções deste mundo.
- (E) Não fiz referência \_\_\_ sua mania de adiar os compromissos.

**QUESTÃO 06**

Assinale a alternativa que apresenta um enunciado correto em relação à colocação do pronome destacado.

- (A) Preciso que ajude-**me** com essas coisas.
- (B) Ajude-**nos** em toda situação possível.
- (C) Nunca faça-**se** de desentendido assim.
- (D) Não venha-**me** com desculpas tolas.
- (E) **Se** mantenha a metros de distância.

**QUESTÃO 07**

Assinale a alternativa cuja palavra destacada indica uma circunstância da ação, e não uma qualidade de um ser.

- (A) Ela, que é muito lenta, chegou **apavorada**.
- (B) As baleias nadam **pesadas** pelos oceanos.
- (C) **Irritado**, ele bateu a porta na minha cara.
- (D) Traga as figuras **coloridas** para eu olhar.
- (E) Traga **rápido** esse café, minha querida.

**QUESTÃO 08**

Assinale a alternativa cujo espaço em branco pode ser preenchido corretamente com “de”.

- (A) Aquele é o aluno \_\_\_ quem atribuí uma pesada tarefa.
- (B) Você é a pessoa \_\_\_ quem conto muito na minha nova jornada.
- (C) Ela é a secretária \_\_\_ quem o namorado entregou lindas flores.
- (D) Eis a pessoa \_\_\_ cuja honestidade desconfio muito.
- (E) Aqueles são os vizinhos \_\_\_ quem pretendo morar em breve.

**QUESTÃO 09**

BECK, Alexandre. *Tiras de Armandinho*. Disponível em <https://fotografia.folha.uol.com.br/galerias/27431-tiras-de-armandinho>.

A expressão “não me pede”, na fala do personagem da tirinha acima, é uma forma:

- (A) totalmente dentro da norma-padrão da Língua Portuguesa.
- (B) no modo subjuntivo, indicando ordem ou pedido.
- (C) popular, correspondente a “não me peça”, na norma-padrão.
- (D) no modo imperativo afirmativo.
- (E) na primeira pessoa do plural.

**QUESTÃO 10**

Assinale a alternativa em que o espaço em branco pode ser preenchido corretamente com “havam”, de acordo com a concordância lógica formal.

- (A) Pelo que pude perceber deles, \_\_\_\_\_ feito muita coisa errada por ali.
- (B) Naquele quarto \_\_\_\_\_ muitos objetos fora do lugar certo.
- (C) A multidão \_\_\_\_\_ chegado muito cedo para as comemorações.
- (D) É claro que \_\_\_\_\_ reclamações de toda a equipe de trabalho.
- (E) O meu time \_\_\_\_\_ feito os treinos com muita dedicação.

**MATEMÁTICA E RACIOCÍNIO LÓGICO****QUESTÃO 11**

Para decompor uma herança um escritório de advocacia precisa fazer os cálculos e dividir uma quantia de R\$100.000,00 em partes proporcionais a 4, 7 e 9. Quanto cada parte irá receber em R\$?

- (A) 15.000; 35.000 e 50.000.
- (B) 20.000; 35.000 e 45.000.
- (C) 25.000; 35.000 e 40.000.
- (D) 15.000; 25.000 e 60.000.
- (E) 10.000; 25.000 e 65.000.

**QUESTÃO 12**

A razão entre dois números é 1 para 3. Se o produto entre eles é igual a 75, o maior deles é:

- (A) 5
- (B) 10
- (C) 15
- (D) 25
- (E) 30

**QUESTÃO 13**

Se um produto que vale R\$ 200,00 tem aumentos sucessivos de 5% e 5%, é correto afirmar que:

- (A) O produto passou a valer R\$ 210,00.
- (B) O produto passou a valer R\$ 215,00.
- (C) O produto passou a valer R\$ 220,00.
- (D) O produto passou a valer R\$ 220,50.
- (E) O produto passou a valer R\$ 221,00.

**QUESTÃO 14**

Uma empresa avaliou seus lucros no último semestre de 2024, e os dados apontaram uma média de R\$ 65.000. A tabela abaixo permite visualizar os lucros mensais de alguns meses.

MÊS	LUCRO (R\$)
JUL	45.000
AGO	50.000
SET	55.000
OUT	60.000
NOV	...
DEZ	...

Apesar da crescente nos valores sugerir uma sequência lógica os meses de novembro e dezembro não tiveram essa coerência. Por outro lado, sabe-se que os dois últimos meses tiveram o mesmo lucro, aponte a alternativa que representa esse lucro.

- (A) R\$ 65.000
- (B) R\$ 70.000
- (C) R\$ 75.000
- (D) R\$ 85.000
- (E) R\$ 90.000

**QUESTÃO 15**

Considere um cubo com medida de lado 5 cm e uma pirâmide de base quadrangular regular de medida de lado 5 cm. Qual deve ser a altura da pirâmide em m para que os sólidos apresentem o mesmo volume?

- (A) 0,0015 m
- (B) 0,015 m
- (C) 0,15 m
- (D) 1,5 m
- (E) 15 m

**NOÇÕES DE INFORMÁTICA****QUESTÃO 16**






No ambiente Windows, os arquivos são armazenados em diferentes formatos e cada tipo de arquivo está associado a aplicativos específicos que podem abri-los. Compreender essas associações auxilia o servidor a trabalhar de forma mais eficiente com os documentos no seu dia a dia.

Considerando os tipos de arquivos e suas associações com aplicativos no MS-Windows, assinale a alternativa CORRETA.

- (A) Arquivos de texto simples (.txt) são normalmente abertos pelo Bloco de Notas, enquanto arquivos em formato PDF podem ser abertos pelo aplicativo Adobe Reader.
- (B) Todos os tipos de arquivos no Windows são abertos automaticamente pelo Bloco de Notas, independentemente de sua extensão.
- (C) Arquivos com extensão .pdf são automaticamente associados ao Bloco de Notas no Windows, sendo este o aplicativo padrão para esse formato.
- (D) O Windows não permite associar diferentes tipos de arquivos a aplicativos específicos, exigindo que o usuário escolha manualmente o programa a cada abertura.
- (E) Arquivos de texto e arquivos PDF possuem a mesma extensão no Windows e são abertos pelo mesmo aplicativo padrão.

**QUESTÃO 17**

Sem usar o mouse e entre as opções a seguir, qual é a maneira mais eficiente de acessar o Explorador de Arquivos quando já está na área de trabalho do Windows?

- (A) Pressionando a tecla do logotipo do Windows  + I.
- (B) Pressionando a tecla do logotipo do Windows  + O.
- (C) Pressionando a tecla do logotipo do Windows  + E.
- (D) Pressionando a tecla do logotipo do Windows  + D.
- (E) Pressionando a tecla do logotipo do Windows  + G.

**QUESTÃO 18**

Na elaboração de documentos oficiais no serviço público, a formatação adequada dos parágrafos é importante para garantir a apresentação profissional e a legibilidade dos textos. O Microsoft Word oferece recursos que facilitam a aplicação de recuos e outras formatações de forma rápida e padronizada.

Considerando os procedimentos para recuar a primeira linha de parágrafos no Microsoft Word, assinale a alternativa CORRETA.

- (A) Para recuar a primeira linha de um parágrafo já escrito, deve-se posicionar o cursor no início do parágrafo, aplicar o método da tecla Insert, pressionar “Num lock” e, em seguida, pressionar Enter.
- (B) Para recuar a primeira linha de um parágrafo, deve-se posicionar o cursor no início do parágrafo e pressionar a tecla Tab, sendo que ao pressionar Enter para iniciar o próximo parágrafo, sua primeira linha será automaticamente recuada.
- (C) O recuo da primeira linha de um parágrafo no Word só pode ser aplicado através do menu de formatação, não sendo possível utilizar teclas de atalho para essa função.
- (D) A tecla Tab no Word serve exclusivamente para criar espaçamentos entre palavras, não sendo utilizada para recuar parágrafos.
- (E) Para aplicar recuo na primeira linha de parágrafos subsequentes, é necessário repetir o processo manualmente em cada parágrafo, não havendo formatação automática.

**QUESTÃO 19**

Para limpar todos os filtros inseridos em uma tabela do Microsoft Excel, qual dos caminhos a seguir deve ser utilizado:

- (A) Clicar na guia “Números” e depois clicar em “Limpar”.
- (B) Clicar na guia “Gráficos” e depois clicar em “Limpar”.
- (C) Clicar na guia “Opções” e depois clicar em “Limpar”.
- (D) Clicar na guia “Informações” e depois clicar em “Limpar”.
- (E) Clicar na guia “Dados” e depois clicar em “Limpar”.

**QUESTÃO 20**

Considerando os conceitos envolvendo a navegação na internet, assinale a alternativa que apresenta uma afirmação correta:

- (A) O Google Chrome é um programa usado para navegação na internet.
- (B) Download é o ato de inserir senhas fracas em contas pessoais.
- (C) Phishing é um tipo de mensagem ou site legítimo que busca educar o usuário sobre segurança digital.
- (D) A URL e o IP têm a mesma configuração de descrição, portanto, são exatamente a mesma coisa.
- (E) HTTP é um protocolo mais seguro que HTTPS porque possui menos letras e é mais rápido.

**CONHECIMENTOS ESPECÍFICOS****QUESTÃO 21**

A Constituição Federal de 1988 estabelece direitos sociais fundamentais, incluindo aqueles relacionados à segurança e saúde no trabalho. Analise as afirmativas a seguir sobre o Art. 7º da CF/88:

- I. Redução dos riscos inerentes ao trabalho, por meio de normas de saúde, higiene e segurança.
- II. Adicional de remuneração para as atividades penosas, insalubres ou perigosas, na forma da lei.
- III. Proteção em face da automação, na forma da lei.
- IV. Seguro contra acidentes do trabalho, a cargo exclusivo do empregado.

Está correto o que se afirma em:

- (A) I, II, III e IV.
- (B) I, II e III, apenas.
- (C) I, II e IV, apenas.
- (D) I e II, apenas.
- (E) II e III, apenas.

**QUESTÃO 22**

Relacione os tipos de riscos ambientais com as cores padronizadas no Mapa de Risco:

1. Risco Químico.
2. Risco Físico.
3. Risco Biológico.
4. Risco Ergonômico.
5. Risco de Acidentes (Mecânicos).

- ( ) Amarelo.
- ( ) Azul.
- ( ) Marrom.
- ( ) Vermelho.
- ( ) Verde.

Assinale a alternativa que apresenta a sequência correta de cima para baixo.

- (A) 5 – 4 – 1 – 2 – 3.
- (B) 1 – 2 – 3 – 4 – 5.
- (C) 2 – 3 – 4 – 5 – 1.
- (D) 4 – 5 – 3 – 1 – 2.
- (E) 5 – 4 – 3 – 2 – 1.

**QUESTÃO 23**

Em relação à comunicação e saúde, é correto afirmar que consiste em:

- (A) Um campo de produção de saberes e práticas, teorias e métodos.
- (B) Um campo restrito à transmissão de informações técnicas para a população.
- (C) Uma área de atuação exclusiva de jornalistas e publicitários, sem relação direta com a saúde.
- (D) Uma ferramenta secundária, utilizada apenas em campanhas emergenciais de saúde pública.
- (E) O estudo de como as doenças afetam a capacidade de comunicação dos indivíduos.

**QUESTÃO 24**

No ambiente organizacional, a compreensão da personalidade dos colaboradores é fundamental para o desenvolvimento de equipes eficazes, processos seletivos adequados e estratégias de gestão de pessoas. A psicologia das relações humanas e do trabalho utiliza o estudo da personalidade como ferramenta para otimizar o desempenho profissional e promover relações interpessoais saudáveis no contexto laboral.

Analise as afirmativas a seguir sobre o estudo da personalidade na psicologia:

- I. Duas pessoas são sempre idênticas em suas características psicológicas.
- II. As características de personalidade são imutáveis e não são influenciadas pelo meio externo.
- III. O estudo da personalidade permite prever a maneira como um indivíduo poderá agir em circunstâncias específicas, indicando tendências.
- IV. Para compreender a personalidade, é importante entender como os traços psicológicos estão relacionados e organizados.

Está correto o que se afirma em:

- (A) I, II e III, apenas.
- (B) I, III e IV, apenas.
- (C) III e IV, apenas.
- (D) II e IV, apenas.
- (E) I, II, III e IV.

**QUESTÃO 25**

A teoria do fogo é um conceito fundamental para a prevenção e combate a incêndios. Inicialmente, o Triângulo do Fogo descrevia os elementos essenciais para que a combustão ocorresse. Posteriormente, o Tetraedro do Fogo foi introduzido para complementar essa teoria. Qual elemento foi adicionado no Tetraedro do Fogo que o diferencia do Triângulo do Fogo, tornando a queima autossustentável?

- (A) Combustível.
- (B) Comburente.
- (C) Temperatura de Ignição.
- (D) Calor.
- (E) A Reação Química em Cadeia.

**QUESTÃO 26**

A \_\_\_\_\_ especifica os requisitos para um sistema de gestão de saúde e segurança ocupacional (SSO) e fornece orientação para o seu uso, possibilitando que as organizações proporcionem locais de trabalho seguros e saudáveis, prevenindo lesões e agravos à saúde relacionados ao trabalho, bem como melhorando proativamente o seu desempenho de SSO.

Assinale a alternativa que preenche corretamente a lacuna.

- (A) ISO 9001.
- (B) ISO 14001.
- (C) ISO 22000.
- (D) ISO 45001.
- (E) ISO 50001.

**QUESTÃO 27**

Um profissional da área de Segurança do Trabalho atuando em uma empresa, identifica um risco potencial que, embora não esteja explicitamente detalhado em uma NR específica, claramente representa uma ameaça à integridade física dos trabalhadores. Ao buscar uma solução, ele se depara com a necessidade de aplicar princípios gerais de direito e normas similares para orientar suas ações. Essa situação exemplifica um caso de lacuna normativa, onde a legislação específica é omissa. Com base na Lei de Introdução às Normas do Direito Brasileiro, quando a lei for omissa em um caso como este, o que deve orientar a decisão?

- (A) Deixar de decidir o caso por falta de previsão legal específica.
- (B) Decidir o caso de acordo com a analogia, os costumes e os princípios gerais de direito.
- (C) Basear a decisão exclusivamente na opinião pessoal e bom senso.
- (D) Suspender a análise até a criação de uma nova norma específica.
- (E) Aplicar a norma mais antiga que trate de tema similar, independentemente da relevância.

**QUESTÃO 28**

Um Técnico de Segurança do Trabalho está elaborando o planejamento de atividades que envolvem trabalho em altura.

Conforme a NR 35, qual a ordem de prioridade para a adoção de medidas no planejamento do trabalho, visando à segurança contra quedas?

- (A) Minimizar as consequências da queda, eliminar o risco de queda, evitar o trabalho em altura.
- (B) Eliminar o risco de queda, evitar o trabalho em altura, minimizar as consequências da queda.
- (C) Minimizar as consequências da queda, evitar o trabalho em altura, eliminar o risco de queda.
- (D) Todas as medidas são igualmente prioritárias e podem ser aplicadas em qualquer ordem.
- (E) Evitar o trabalho em altura, eliminar o risco de queda, minimizar as consequências da queda.

**QUESTÃO 29**

Em relação às responsabilidades do empregador na gestão da segurança e saúde no trabalho, analise as assertivas a seguir e assinale V, se verdadeiras, ou F, se falsas.

( ) Cumprir e fazer cumprir as disposições legais e regulamentares sobre segurança e saúde no trabalho.

( ) Informar aos trabalhadores os riscos ocupacionais existentes nos locais de trabalho.

( ) Determinar procedimentos que devem ser adotados em caso de acidente ou doença relacionada ao trabalho, incluindo a análise de suas causas.

Assinale a alternativa que apresenta a sequência correta de cima para baixo.

(A) V – V – V.

(B) F – V – F.

(C) V – V – F.

(D) F – F – V.

(E) F – F – F.

**QUESTÃO 30**

Em 2024, o Brasil registrou um total de 724.228 acidentes de trabalho. Desses, 74,3% foram acidentes típicos, 24,6% acidentes de trajeto e apenas 1% refere-se a doenças ocupacionais. Essa baixa porcentagem de doenças ocupacionais se deve principalmente:

(A) A alta eficácia dos programas de prevenção de doenças ocupacionais nas empresas.

(B) A redução da jornada de trabalho no Brasil.

(C) A grande dificuldade em reconhecer as doenças relacionadas ao trabalho.

(D) Que as doenças ocupacionais são estatisticamente irrelevantes para a segurança do trabalho no Brasil.

(E) Que os trabalhadores brasileiros possuem uma resistência natural a doenças relacionadas ao trabalho.

**QUESTÃO 31**

No processo de investigação donexo causal entre doença e trabalho, qual é o principal instrumento para o diagnóstico correto do dano para a saúde e da relação etiológica com o trabalho?

(A) Anamnese ocupacional.

(B) Avaliação toxicológica.

(C) Análise ergonômica da atividade.

(D) Inspeção do local de trabalho.

(E) Estudo epidemiológico.

**QUESTÃO 32**

A CIPA (Comissão Interna de Prevenção de Acidentes e de Assédio) tem papel fundamental na prevenção de acidentes e doenças relacionadas ao trabalho.

Em relação às responsabilidades da organização, analise as assertivas a seguir e assinale V, se verdadeiras, ou F, se falsas.

( ) A organização é responsável por proporcionar aos membros da CIPA os meios necessários ao desempenho de suas atribuições, garantindo tempo suficiente para a realização das tarefas constantes no plano de trabalho.

( ) A organização deve proibir a colaboração dos trabalhadores nas ações da CIPA, visando manter a imparcialidade dos membros eleitos.

( ) A organização deve fornecer à CIPA, quando requisitadas, as informações relacionadas às suas atribuições.

(A) V – V – V.

(B) F – V – V.

(C) V – F – F.

(D) V – F – V.

(E) F – F – F.

**QUESTÃO 33**

Segundo a NR 11, em relação ao armazenamento de materiais, é correto afirmar que o peso do material armazenado não pode:

- (A) ser inferior a 50% da capacidade do piso.
- (B) ultrapassar 100 kg por metro quadrado.
- (C) ser superior a 200 kg por metro quadrado.
- (D) ser superior a 300 kg por metro quadrado.
- (E) exceder a capacidade de carga calculada para o piso.

**QUESTÃO 34**

Os EPIs são dispositivos de uso individual destinados à proteção do trabalhador contra riscos ocupacionais. Conforme o Anexo I da NR-06, relacione os tipos de EPI com suas respectivas funções de proteção:

1 - Capacete

2 - Luvas

3 - Calçado

4 - Protetor auditivo

( ) Proteção das mãos contra agentes abrasivos e escoriantes.

( ) Proteção do sistema auditivo contra níveis de pressão sonora.

( ) Proteção contra impactos de quedas de objetos sobre os antebraços.

( ) Proteção contra impactos de objetos sobre o crânio.

Assinale a alternativa que apresenta a sequência correta de cima para baixo.

- (A) 2 – 4 – 3 – 1.
- (B) 2 – 4 – 1 – 3.
- (C) 1 – 4 – 3 – 2.
- (D) 2 – 3 – 4 – 1.
- (E) 1 – 2 – 4 – 3.

**QUESTÃO 35**

Qual dos seguintes itens NÃO é considerado um Equipamento de Proteção Coletiva (EPC)?

- (A) Redes de Proteção.
- (B) Sinalizadores de segurança.
- (C) Óculos de proteção.
- (D) Extintores de incêndio.
- (E) Chuveiros de segurança.

**QUESTÃO 36**

O acionamento do socorro deve ser realizado sempre que houver dano à saúde de um indivíduo, independentemente do local (trabalho, via pública ou residência) ou da severidade. Ao acionar o Sistema de Urgência/Emergência, é fundamental informar corretamente as seguintes informações, **EXCETO**:

- (A) o tipo de emergência.
- (B) o número de vítimas.
- (C) o local do evento, com pontos de referência.
- (D) o melhor acesso ao local.
- (E) tempo exato de chegada do socorro.

**QUESTÃO 37**

Em relação aos instrumentos de desenho, é correto afirmar que o \_\_\_\_\_ é uma régua-escala de seção triangular com 6 escalas gráficas em suas faces. Esse instrumento evita os cálculos na conversão de medidas para uma determinada escala, agilizando o processo de desenho

Assinale a alternativa que preenche corretamente a lacuna.

- (A) Compasso.
- (B) Escalímetro.
- (C) Esquadro.
- (D) Transferidor.
- (E) Régua T.

**QUESTÃO 38**

A Norma Regulamentadora NR-17 (Ergonomia) estabelece parâmetros que permitem a adaptação das condições de trabalho às características psicofisiológicas dos trabalhadores, visando proporcionar conforto, segurança e desempenho eficiente.

Com base nos dispositivos da NR-17, é vedado o levantamento não eventual de cargas que possa comprometer a segurança e a saúde do trabalhador quando a distância de alcance horizontal da pega for superior a:

- (A) 20 cm (vinte centímetros).
- (B) 30 cm (trinta centímetros).
- (C) 40 cm (quarenta centímetros).
- (D) 50 cm (cinquenta centímetros).
- (E) 60 cm (sessenta centímetros).

**QUESTÃO 39**

Analise as afirmativas a seguir sobre os dispositivos de acionamento e parada conforme a NR-12:

I.Os dispositivos de partida, acionamento e parada das máquinas devem ser projetados, selecionados e instalados de modo que não se localizem em suas zonas perigosas.

II.Os dispositivos de parada de emergência podem ser utilizados como dispositivos de partida ou de acionamento.

III.Os comandos de partida ou acionamento das máquinas devem possuir dispositivos que impeçam seu funcionamento automático ao serem energizadas.

Está correto o que se afirma em:

- (A) I, II e III.
- (B) I e II, apenas.
- (C) I, apenas.
- (D) I e III, apenas.
- (E) II e III, apenas.

**QUESTÃO 40**

Relacione os exemplos de Condições Inseguras com suas respectivas categorias:

1. Ambiente de trabalho inadequado.
  2. Condições dos edifícios insatisfatórias.
  3. Equipamentos defeituosos ou impróprios.
- ( ) Iluminação deficiente, ventilação insuficiente, falta de ordem e asseio nos ambientes de trabalho.
- ( ) Máquinas obsoletas, ausência de protetores nas máquinas, ferramentas inadequadas.
- ( ) Assoalhos e pisos em mau estado, escadas inseguras, ausência de instalação contra incêndios.

Assinale a alternativa que apresenta a sequência correta de cima para baixo.

- (A) 3 – 1 – 2.
- (B) 1 – 2 – 3.
- (C) 3 – 2 – 1.
- (D) 2 – 3 – 1.
- (E) 1 – 3 – 2.

