



## PREFEITURA MUNICIPAL DE CONDADO - PB



### NÍVEL SUPERIOR FISCAL DE TRIBUTOS

#### EXAME GRAFOTÉCNICO:

(Transcreva a frase abaixo no local indicado na sua Folha de Respostas)

**É Condado do meu coração  
Para sempre eu quero te amar**

#### INSTRUÇÕES:

1. Verifique se este caderno de provas contém 40 (quarenta) questões de múltipla escolha, sendo Língua Portuguesa de 01 a 15, Raciocínio Lógico de 16 a 25 e Conhecimentos Específicos de 26 a 40.
2. Observe se há falhas ou imperfeições gráficas que causem dúvidas. Caso existam, comunique imediatamente ao Fiscal de Sala.
3. Confira seus dados na Folha de Respostas com os dados do Cartão de Inscrição.
4. Esta Prova tem duração de 4 (quatro) horas. Não é permitida a saída do candidato antes de transcorridas 2 (duas) horas completas, sob pena de eliminação.
5. É vetado, durante a prova, o intercâmbio ou empréstimo de material de qualquer natureza entre os candidatos, bem como o uso de celulares, calculadoras e/ou qualquer outro tipo de equipamento eletrônico. A fraude, ou tentativa, a indisciplina e o desrespeito às autoridades encarregadas dos trabalhos são faltas que eliminam o candidato.
6. Certifique-se de que assinou a lista de presença e que preencheu adequadamente todos os espaços da Folha de Respostas.
7. Ao finalizar a prova, entregue ao fiscal o Caderno de Prova e a Folha de Respostas, sob pena de eliminação.

# PORTUGUÊS

Leia o Texto I e responda às questões 01 a 10.

## Texto I

**O envelhecimento não é progressivo e ocorre em três idades diferentes. A primeira chega mais cedo do que pensávamos**

*Há três momentos-chave em que ocorre uma virada no nível molecular – e isso muda tudo.*

A ciência descobriu que não envelhecemos de forma progressiva, gradual e linear, como se acreditava, mas sim de maneira mais brusca em torno de três fases específicas da vida. Uma delas chega muito antes do que você imagina.

Os primeiros indícios de que o envelhecimento não é contínuo, e sim ocorre em etapas, surgiram a partir do estudo da mosca-da-fruta. Especialistas propuseram que o processo de envelhecimento nesses insetos é bifásico: progride lentamente durante a maior parte da vida adulta da mosca e, de repente, acelera.

Isso também foi observado em vermes nematoides e peixes-zebra. E em humanos. Aos 78 anos, por exemplo, a capacidade de produzir novas células sanguíneas diminui drasticamente, o que aumenta o risco de anemia e de outras condições, como disfunção erétil, dificuldade de regeneração dos tecidos e leucemia. As principais idades em que tudo acontece são 34, 60 e 78.

Outro estudo analisou como as proteínas presentes no plasma sanguíneo se alteram ao longo do envelhecimento humano e descobriu que os participantes se agrupavam em quatro faixas etárias: menos de 34 anos, de 34 a 60 anos, de 61 a 78 anos e acima de 78 anos.

Dentro de cada grupo, os perfis proteicos eram muito semelhantes, mas nas idades de 34, 60 e 78 anos, essas proteínas mudavam de forma abrupta. De acordo com uma análise da Universidade Stanford, liderada por Michael Snyder, das milhares de moléculas que eles monitoraram, 81% mudaram de forma não linear com a idade. Novamente, os picos de alteração coincidiram com as idades de 34 e 60 anos. Não foi possível confirmar se isso também acontece aos 78 anos, porque os participantes mais velhos tinham, no máximo, 75 anos.

O que estava ocorrendo era o que se conhece como ponto de inflexão – quando um sistema passa por uma mudança abrupta de um estado de equilíbrio para outro. Isso é algo já observado no meio ambiente, por exemplo, mas que até então não havia sido associado ao envelhecimento humano. Assim, podemos dizer que o envelhecimento acontece em três pontos de inflexão: aos 34, 60 e 78 anos. Essa descoberta está de acordo com as conclusões do estudo mais recente da pesquisadora Maja Olecka, do Instituto Leibniz sobre Envelhecimento.

Durante esses períodos, ocorrem mudanças moleculares no corpo que geram consequências como perda acelerada de massa muscular, piora na qualidade da pele e alterações na capacidade de metabolizar o álcool. É por isso que as ressacas depois dos 34 anos são muito piores do que eram aos 20. Pessoalmente, devo dizer que percebi isso.

A pergunta inevitável é: será que esse envelhecimento repentino, que ocorre após os pontos de virada, pode ser interrompido? De acordo com Snyder, a transição por volta dos 40 anos tem relação, em parte, com mudanças no estilo de vida. “As pessoas se exercitam menos, tornam-se mais sedentárias e provavelmente não se alimentam tão bem, o que acaba impactando a saúde aos 40 anos”, disse ele à revista *New Scientist*.

Portanto, se quisermos atrasar o envelhecimento, talvez devêssemos começar a cuidar melhor do corpo com alimentação e exercícios desde cedo.

Fonte: D'AMBRÓSIO, Livia. O envelhecimento não é progressivo e ocorre em três idades diferentes. A primeira chega mais cedo do que pensávamos. **Minhavidia**. Disponível em: <https://www.minhavidia.com.br/materias/materia-26238>. Acesso em 30 de jul de 2025. [adaptado].

## 1ª QUESTÃO

Assinale a alternativa CORRETA acerca do processo de envelhecimento humano, consoante às ideias apresentadas no Texto I.

- a) A ciência descobriu que o envelhecimento é progressivo e contínuo, independente de fatores externos e das experiências pessoais.
- b) O envelhecimento ocorre de forma linear e gradual ao longo da vida, sendo mais intenso a partir dos 34 anos.
- c) O processo de envelhecimento humano ocorre em três fases específicas, notadamente aos 34, 60 e 78 anos.
- d) Não há evidências científicas sobre o processo de envelhecimento humano, haja vista ser um processo natural.
- e) O envelhecimento ocorre notadamente em uma fase específica da vida adulta, quando se atinge a terceira idade.

## 2ª QUESTÃO

De acordo com o Texto I, “pontos de inflexão” no processo de envelhecimento são compreendidos como:

- a) situações externas que causam envelhecimento, como estresse, alimentação e má qualidade de vida.
- b) momentos em que o corpo para de envelhecer e permanece inalterado por 34 anos.
- c) mudanças lentas e imperceptíveis que ocorrem nos seres humanos em três idades diferentes.
- d) mudanças abruptas no corpo que marcam a transição entre diferentes fases do envelhecimento.
- e) diferentes idades em que o corpo alcança seu auge físico e mental.

---

### 3ª QUESTÃO

Observe os fragmentos abaixo e assinale a alternativa CORRETA.

A: “Uma delas chega muito antes do que você imagina” (1º§),

B: “Isso também foi observado em vermes nematoides e peixes-zebra” (3º§)

C: “Essa descoberta está de acordo com as conclusões do estudo mais recente” (6º§)

- a) A expressão “Essa descoberta”, em “Essa descoberta está de acordo com as conclusões do estudo mais recente”, e o pronome “isso”, em “isso também foi observado em vermes nematoides e peixes-zebra”, são recursos coesivos catafóricos.
- b) O pronome “isso”, em “Isso também foi observado em vermes nematoides e peixes-zebra”, retoma o fragmento “capacidade de produzir novas células sanguíneas”.
- c) A expressão “essa descoberta”, em “Essa descoberta está de acordo com as conclusões do estudo mais recente” aponta para uma nova pesquisa que contradiz os estudos anteriores.
- d) A expressão “uma delas”, em “Uma delas chega muito antes do que você imagina” e o pronome “isso”, em “isso também foi observado em vermes nematoides e peixes-zebra” referem-se a elementos mencionados posteriormente.
- e) A expressão “uma delas”, em “Uma delas chega muito antes do que você imagina”, retoma a expressão “três fases específicas da vida” mencionada anteriormente no texto.

### 4ª QUESTÃO

Assinale a alternativa em que o fragmento “Há três momentos-chave em que ocorre uma virada no nível molecular” recebeu nova e CORRETA redação, respeitando as regras de concordância verbal e nominal.

- a) Existe três momentos-chave em que ocorre uma virada no nível molecular.
- b) Existem três momentos-chave em que ocorre uma virada no nível molecular.
- c) Existem três momento-chave em que ocorre uma virada no nível molecular.
- d) Existe três momentos-chave em que ocorrem uma virada no nível molecular.
- e) Existe três momento-chave em que ocorre uma virada no nível molecular.

### 5ª QUESTÃO

Acerca do valor semântico do elemento “como” no fragmento: “A ciência descobriu que não envelhecemos de forma progressiva, gradual e linear, como se acreditava” (1º§), assinale a alternativa CORRETA.

- a) Foi empregado como preposição e indica finalidade.
- b) Foi empregado como conjunção e indica comparação.
- c) Foi empregado como preposição e indica consequência.
- d) Foi empregado como conjunção e indica conformidade.
- e) Foi empregado como conjunção e indica consequência.

### 6ª QUESTÃO

Observe os dois fragmentos abaixo e analise as assertivas que seguem a respeito do emprego do “se”.

A: “Não foi possível confirmar se isso também acontece aos 78 anos” (5º§).

B: “Outro estudo analisou como as proteínas presentes no plasma sanguíneo se alteram ao longo do envelhecimento humano” (4º§).

C: “Portanto, se quisermos atrasar o envelhecimento, talvez devêssemos começar a cuidar melhor do corpo” (9º§).

I- Em A, o “se” é uma conjunção integrante e introduz uma oração subordinada.

II- Em B, o “se” funciona como índice de indeterminação do sujeito.

III- Em C, o “se” é uma conjunção condicional e indica condição.

É CORRETO o que se afirma em:

- a) II, apenas.
- b) I, II e III.
- c) III, apenas.
- d) I e III, apenas.
- e) I e II, apenas.

### 7ª QUESTÃO

Observe o fragmento do Texto I, abaixo transcrito e assinale a assertiva que contém a CORRETA classificação da oração destacada.

“Outro estudo analisou como as proteínas presentes no plasma sanguíneo se alteram ao longo do envelhecimento humano e descobriu que os participantes se agrupavam em quatro faixas etárias” (4º§).

- a) Oração subordinada substantiva objetiva direta.
- b) Oração subordinada substantiva subjetiva.
- c) Oração coordenada aditiva.
- d) Oração subordinada adjetiva restritiva.
- e) Oração subordinada adjetiva explicativa.

## 8ª QUESTÃO

Observe o emprego da crase do fragmento: “As pessoas se exercitam menos, tornam-se mais sedentárias e provavelmente não se alimentam tão bem, o que acaba impactando a saúde aos 40 anos”, disse ele à revista *New Scientist*.” (8º§). O emprego do sinal indicativo da crase:

- a) está adequado, pois há a contração da preposição “a”, exigida pelo verbo “dizer”, com o artigo definido feminino “a” que acompanha o substantivo feminino “revista”.
- b) está adequado, pois há a contração do artigo “a”, exigido pelo verbo “dizer”, com a preposição “a” que acompanha o substantivo feminino “revista”.
- c) está inadequado, pois “revista” é um substantivo masculino e não há crase diante de substantivos masculinos.
- d) está inadequado, pois a preposição e o artigo não se fundem diante de nomes próprios.
- e) está adequado por se tratar de uma locução adverbial feminina.

## 9ª QUESTÃO

Assinale a alternativa em que o excerto, extraído do Texto I, apresenta um comentário de natureza subjetiva.

- a) “Novamente, os picos de alteração coincidiram com as idades de 34 e 60 anos” (5º§).
- b) “Pessoalmente, devo dizer que percebi isso” (7º§).
- c) “81% mudaram de forma não linear com a idade” (5º§).
- d) “progride lentamente durante a maior parte da vida adulta da mosca” (2º§).
- e) “O que estava ocorrendo era o que se conhece como ponto de inflexão” (6º§).

## 10ª QUESTÃO

Considere o uso da vírgula no trecho “Dentro de cada grupo, os perfis proteicos eram muito semelhantes” (5º§) e assinale a alternativa em que a vírgula foi empregada pela mesma razão.

- a) “A ciência descobriu que não envelhecemos de forma progressiva, gradual e linear” (1º§).
- b) “De acordo com Snyder, a transição por volta dos 40 anos tem relação com mudanças no estilo de vida” (8º§).
- c) “As principais idades em que tudo acontece são 34, 60 e 78” (3º§).
- d) “perda acelerada de massa muscular, piora na qualidade da pele e alterações na capacidade de metabolizar o álcool” (7º§).
- e) “As pessoas se exercitam menos, tornam-se mais sedentárias e provavelmente não se alimentam tão bem” (8º§).

Leia o Texto II e responda às questões de 11 a 13.

## Texto II

### Águas de março

É o pau, é a pedra, é o fim do caminho  
É um resto de toco, é um pouco sozinho  
É um caco de vidro, é a vida, é o sol  
É a noite, é a morte, é um laço, é o anzol

É peroba no campo, é o nó da madeira  
Caingá candeia, é o matita-pereira  
É madeira de vento, tombo da ribanceira  
É o mistério profundo, é o queira ou não queira

É o vento vetando, é o fim da ladeira  
É a viga, é o vão, festa da cumeeira  
É a chuva chovendo, é conversa ribeira  
Das águas de março, é o fim da canseira

É o pé, é o chão, é a marcha estradeira  
Passarinho na mão, pedra de atiradeira  
É uma ave no céu, é uma ave no chão  
É um regato, é uma fonte, é um pedaço de pão

É o fundo do poço, é o fim do caminho  
No rosto um desgosto, é um pouco sozinho  
É um estepe, é um prego, é uma conta, é um conto  
É um pingo pingando, é uma conta, é um ponto

É um peixe, é um gesto, é uma prata brilhando  
É a luz da manhã, é o tijolo chegando  
É a lenha, é o dia, é o fim da picada  
É a garrafa de cana, o estilhaço na estrada

É o projeto da casa, é o corpo na cama  
É o carro enguiçado, é a lama, é a lama  
É um passo, é uma ponte, é um sapo, é uma rã  
É um resto de mato na luz da manhã

São as águas de março fechando o verão  
É a promessa de vida no teu coração

É uma cobra, é um pau, é João, é José  
É um espinho na mão, é um corte no pé

São as águas de março fechando o verão  
É a promessa de vida no teu coração

É pau, é pedra, é o fim do caminho  
É um resto de toco, é um pouco sozinho  
É um passo, é uma ponte, é um sapo, é uma rã  
É um belo horizonte, é uma febre terçã  
São as águas de março fechando o verão  
É a promessa de vida no teu coração

Pau, edra, im, inho  
Esto, oco, ouco, inho  
Aco, idro, ida, ol, oite, orte, aço, zol

São as águas de março fechando o verão  
É a promessa de vida no teu coração

---

### 11ª QUESTÃO

A canção “Águas de março” do compositor carioca Tom Jobim apresenta, em sua composição:

- a) uma série de imagens compostas por objetos e ações comuns que parecem retratar o cotidiano do compositor.
- b) uma sequência de elementos que descrevem cenas e paisagens exclusivas do sertão nordestino.
- c) uma narrativa com partes bem definidas, com introdução, desenvolvimento e fim.
- d) uma série de imagens caóticas, sem qualquer conexão com a realidade.
- e) uma sequência de elementos aleatórios, inspirados em ambiente tipicamente urbano.

### 12ª QUESTÃO

Observe os versos abaixo e analise as afirmações que seguem acerca das ideias apresentadas no Texto II.

**Verso I** - “É o fundo do poço, é o fim do caminho”

**Verso II** - “É o carro enguiçado, é a lama, é a lama”

- I- A expressão “fim do caminho” deve ser interpretada em seu sentido literal, indicando o final de uma estrada física.
- II- A expressão “é o fundo do poço”, no contexto apresentado, pode significar momentos de dificuldade.
- III- O segundo verso retrata uma consequência das chuvas, evidenciando como elementos naturais podem interferir na dinâmica cotidiana.
- IV- A expressão “fim do caminho” pode assumir valor simbólico de encerramento de um ciclo.

É CORRETO o que se afirma apenas em:

- a) III.
- b) III e IV.
- c) II, III e IV.
- d) II e IV.
- e) II e III.

### 13ª QUESTÃO

Observe-se o uso repetido da forma verbal “é” no Texto II, como em: “É o pau, é a pedra, é o fim do caminho”

A partir dessa constatação, avalie as asserções a seguir e a relação proposta entre elas.

- I- A repetição observada é um recurso estilístico que confere ritmo à composição, porém a empobrece dada a falta de criatividade e coesão.

#### PORQUE

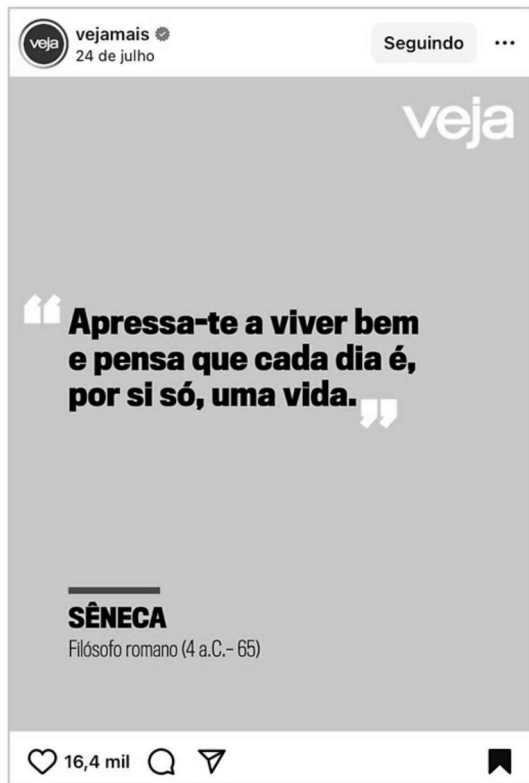
- II- No contexto em análise, a repetição atua como eixo estruturante na construção textual, funcionando como recurso que articula e encadeia uma sequência de imagens e contribui para a musicalidade da composição.

A respeito dessas asserções, é CORRETO afirmar que:

- a) as asserções I e II são proposições falsas.
- b) as asserções I e II são proposições verdadeiras, e a II é uma justificativa correta da I.
- c) as asserções I e II são proposições verdadeiras, mas a II não é uma justificativa correta da I.
- d) a asserção I é uma proposição verdadeira, e a II é uma proposição falsa.
- e) a asserção I é uma proposição falsa, e a II é uma proposição verdadeira.

Leia o Texto III e responda às questões 14 e 15.

### Texto III



Fonte: <https://www.instagram.com/p/DMfIRURBQx2/>. Acesso em: 24 jul. 2025.

#### 14ª QUESTÃO

Na frase de autoria atribuída ao filósofo romano Sêneca “Apressa-te a viver bem e pensa que cada dia é, por si só, uma vida” observa-se o emprego de um pronome oblíquo de segunda pessoa.

A partir do fragmento apresentado, avalie as asserções a seguir e a relação proposta entre elas.

- I- Há um caso de colocação pronominal denominado ênclise, haja vista que o pronome oblíquo átono está empregado em posição anteposta ao verbo.

#### PORQUE

- II- Na língua culta não se abre frase com o pronome oblíquo, embora seja possível iniciar a frase com pronome átono na conversação familiar, despreocupada.

A respeito dessas asserções, é CORRETO afirmar que:

- a) as asserções I e II são proposições verdadeiras, e a II é uma justificativa correta da I.
- b) a asserção I é uma proposição verdadeira, e a II é uma proposição falsa.
- c) a asserção I é uma proposição falsa, e a II é uma proposição verdadeira.
- d) as asserções I e II são proposições verdadeiras, mas a II não é uma justificativa correta da I.
- e) as asserções I e II são proposições falsas.

#### 15ª QUESTÃO

Assinale a alternativa em que a transposição do fragmento “Apressa-te a viver bem e pensa que cada dia é, por si só, uma vida” para o plural está gramaticalmente CORRETA.

- a) Apressai-vos a viver bem e pensardes que cada dia é, por si só, uma vida.
- b) Apressamo-nos a viver bem e pensamos que cada dia é, por si só, uma vida.
- c) Apresssem-nos a viver bem e pensem que cada dia é, por si só, uma vida.
- d) Apresse-vos a viver bem e pensa que cada dia é, por si só, uma vida.
- e) Apressai-vos a viver bem e pensai que cada dia é, por si só, uma vida.

# RACIOCÍNIO LÓGICO

## 16ª QUESTÃO

Considere as seguintes proposições simples:

T: O pedreiro foi contratado;

U: O pedreiro fez a seleção.

Desse modo, é CORRETO afirmar que:

- a) Se o pedreiro foi contratado, então ele fez a seleção, ou ele não fez a seleção corresponde a uma proposição composta tautológica.
- b) O pedreiro fez a seleção e ele foi contratado; em linguagem lógica, corresponde a  $(U \wedge \neg T)$ .
- c) Se o pedreiro foi contratado, então fez a seleção, e se fez a seleção, então foi contratado; em linguagem lógica, é equivalente a  $(U \rightarrow T) \vee (T \rightarrow U)$ .
- d) Se o pedreiro foi contratado, então fez a seleção, ou se fez a seleção, então foi contratado; em linguagem lógica, é equivalente a  $(T \leftrightarrow U)$ .
- e) Se o pedreiro foi contratado, então ele fez a seleção, ou ele não fez a seleção; em linguagem lógica, corresponde a  $(T \rightarrow U) \wedge \neg T$ .

## 17ª QUESTÃO

Considere a proposição a seguir e analise as assertivas.

$(P \rightarrow Q) \vee (R \leftrightarrow P)$

- I- Trata-se de uma proposição composta, formada a partir de 3 outras proposições e mediante o emprego de operadores lógicos.
- II- A tabela verdade correspondente à proposição é composta por 16 linhas.
- III- A proposição é tautológica.
- IV- A proposição é contingente.

É CORRETO o que se afirma apenas em:

- a) IV.
- b) I, II e IV.
- c) II e III.
- d) I e IV.
- e) I e III.

## 18ª QUESTÃO

Considere o argumento abaixo:

1. Se o carteiro trabalhar diariamente, então atingirá a meta.
2. O carteiro atingiu a meta.
3. Logo, o carteiro trabalhou diariamente.

Com base na lógica proposicional, analise as assertivas a seguir.

- I- O argumento é do tipo *modus tollens*, pois representa uma afirmação do consequente.
- II- O argumento é válido, pois representa uma inferência do tipo *modus ponens*.
- III- O argumento é inválido, pois afirma o consequente para concluir o antecedente.

É CORRETO o que se afirma apenas em:

- a) III.
- b) I e II.
- c) I e III.
- d) II e III.
- e) II.

### 19ª QUESTÃO

Em uma tecelagem, os operários estão distribuídos nos turnos: manhã, tarde e noite, de maneira que nenhum trabalha simultaneamente nos três turnos. Sabe-se ainda que:

- 120 trabalham pela manhã, 240 trabalham à tarde e 140 trabalham à noite;
- 20 trabalham, simultaneamente, nos turnos manhã e tarde e 60 trabalham, simultaneamente, nos turnos tarde e noite;
- 50 trabalham apenas à noite.

Com base nessas informações, determine quantos operários trabalham no turno da manhã.

- a) 10.                      d) 30.  
b) 20.                      e) 140.  
c) 70.

### 20ª QUESTÃO

Considere as proposições a seguir:

R: Mateus é bancário.

S: Júlio tem 1,50m.

Com base nas estruturas lógicas básicas e nas equivalências de De Morgan, analise as assertivas a seguir:

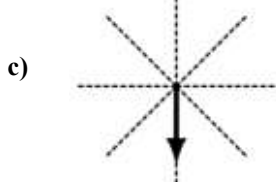
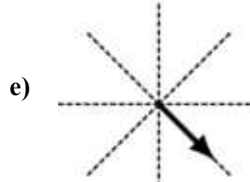
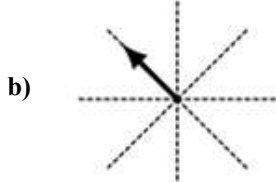
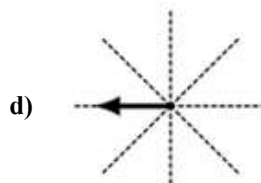
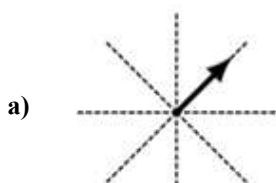
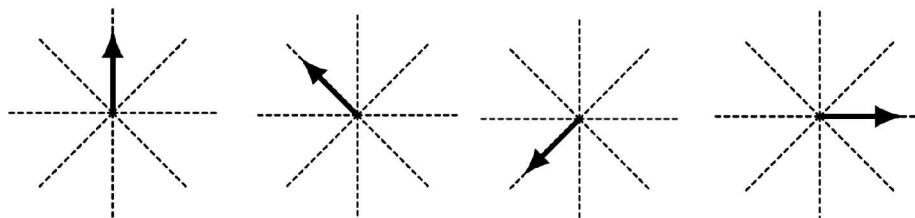
- I- A conjunção lógica das proposições S e R, respectivamente, corresponde a **Júlio tem 1,50m e Mateus é bancário**.  
II- A operação lógica condicional das proposições R e S, respectivamente, corresponde a **se Mateus é bancário, então Júlio tem 1,50m**.  
III- A proposição composta **Mateus não é bancário e Júlio não tem 1,50m** é equivalente a  $\neg(R \wedge S)$ .

É CORRETO o que se afirma em:

- a) I, II e III.                      d) III apenas.  
b) I apenas.                      e) I e II apenas.  
c) II e III apenas.

### 21ª QUESTÃO

A sequência de figuras a seguir obedece a um padrão. Nesse contexto, é CORRETO afirmar que a próxima figura da sequência é:



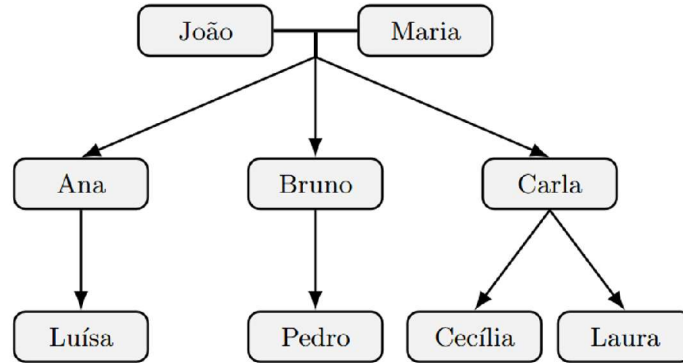
## 22ª QUESTÃO

Uma árvore genealógica é uma representação gráfica das conexões familiares entre indivíduos, incluindo nomes e, às vezes, datas e locais de nascimento, casamento e falecimento. Pode ser construída como árvore de costados (ascendência) ou árvore de geração (descendência) (Wikipedia, 2025).

Fonte: WIKIPÉDIA. Árvore genealógica. Disponível em: [https://pt.wikipedia.org/wiki/%C3%81rvore\\_geneal%C3%B3gica](https://pt.wikipedia.org/wiki/%C3%81rvore_geneal%C3%B3gica). Acesso em: 1 nov. 2025

A Figura 1 representa parte da árvore genealógica da família de Luísa, usada em um estudo sobre longevidade familiar.

Figura 1 - Árvore genealógica.



Fonte: CPCON

Sabe-se que:

- João tem 72 anos e Maria tem 68 anos.
- Os três filhos (Ana, Bruno e Carla) nasceram com diferença de 2 anos entre cada um, sendo Ana a mais velha e Carla a mais nova.
- Quando Luísa nasceu, João tinha 60 anos.
- Pedro nasceu 3 anos depois de Luísa, e Cecília e Laura são gêmeas nascidas 4 anos após Pedro.
- Quando Cecília nasceu, seu tio Bruno tinha 29 anos.

Com base nessas informações, e considerando o ano 2025 como referência atual, é CORRETO afirmar que:

- a) somando as idades de todos os netos de João e Maria, temos exatamente a idade de Bruno.
- b) se somarmos as idades de Ana e de Pedro, ainda assim teremos 10 anos a menos que a idade atual de Maria.
- c) se somarmos as idades de Ana, Luísa e de uma das gêmeas, ainda assim teremos 19 anos a menos que a idade atual de João.
- d) somando-se as idades de Maria e a das gêmeas, ainda assim, juntas, seriam mais novas que João.
- e) a soma das idades dos filhos de João e Maria ultrapassa suas idades juntas.

## 23ª QUESTÃO

O Censo Escolar 2024, divulgado pelo INEP e MEC (2025), registrou 47,1 milhões de estudantes distribuídos nas seguintes etapas da Educação Básica, mostradas na Tabela 2 (INEP; MEC, 2025):

Fonte: INEP. MEC e Inep contextualizam resultados do Censo Escolar 2024. Brasília: Instituto Nacional de Estudos e Pesquisas Educacionais Anísio Teixeira, 2025. Disponível em: <https://www.gov.br/inep/pt-br/centrais-de-conteudo/noticias/censo-escolar/mec-e-inep-contextualizam-resultados-do-censo-escolar-2024>. Acesso em: 2 nov. 2025.

Tabela 2 - Censo Escolar - 2024

Etapa Educacional	Matrículas (milhões)	Variação 2024/2023	Participação da Rede Pública (%)
Educação Infantil (creches + pré-escolas)	9,5 (≈ 4,2 mi creches + 5,3 mi pré-escolas)	+1,2%	73
Ensino Fundamental	26,0	-0,5%	81
Ensino Médio	7,8	+1,5%	86,8
EJA (Educação de Jovens e Adultos)	2,4	-2,0%	91,7

Fonte: CPCON (2025). Elaborado a partir dos dados INEP/MEC (2025) e Agência Brasil (2025)

Com base nessas informações e considerando 2024 como ano-base, analise as proposições:

- I- A soma das matrículas da Educação Infantil e do Ensino Médio representa menos de 40% do total de matrículas.
- II- O número aproximado de alunos da Educação Infantil na rede pública é de 6,9 milhões.
- III- A diferença entre o número de matrículas do Ensino Fundamental e do Ensino Médio é inferior a 18 milhões.
- IV- Mantendo o crescimento de +1,5% ao ano, o Ensino Médio atingirá 8,0 milhões de alunos em 2026.

É CORRETO o que se afirma em:

- a) II apenas.
- b) I, II e IV apenas.
- c) I e IV apenas.
- d) III e IV apenas.
- e) I, II, III e IV.

## 24ª QUESTÃO

O Centro Nacional de Monitoramento e Alertas de Desastres Naturais (CEMADEN) publicou, em 02 de novembro de 2025, a previsão de riscos geo-hidrológicos para as regiões Sudeste e Sul do Brasil. A nota técnica destaca risco moderado de eventos hidrológicos em cidades como Pouso Alegre (MG), São José dos Campos (SP) e Joinville (SC), e risco moderado de eventos geológicos (movimentos de massa) em Petrópolis (RJ) e Curitiba (PR), devido à ocorrência de chuvas moderadas a fortes (CEMADEN, 2025).

Fonte: CEMADEN. Previsão de riscos geo-hidrológicos – 02/11/2025. Disponível em: <https://www.gov.br/cemaden/pt-br/assuntos/riscos-geo-hidrologicos/02-11-2025-previsao-de-riscos-geo-hidrologicos-1>. Acesso em: 2 nov. 2025.

Inspirando-se no conceito clássico de  $RISCO = PERIGO \times VULNERABILIDADE \times EXPOSIÇÃO$  (Guzzetti *et al.*, 1999; Sidle; Bogaard, 2016) e na metodologia de monitoramento utilizada pelo CEMADEN (2021) e pela CPRM (2022), um pesquisador propôs o seguinte índice composto de risco (ICR):

Fontes: CEMADEN. Mapeamento e monitoramento de riscos de desastres naturais no Brasil. Brasília: MCTI, 2021. CPRM – Serviço Geológico do Brasil. Atlas Brasileiro de Desastres Naturais: 1991–2022. Brasília: CPRM, 2022. GUZZETTI, F.; CARRARA, A.; CARDINALI, M.; REICHENBACH, P. Landslide hazard evaluation: a review of current techniques and their application in a multi-scale study, Central Italy. *Geomorphology*, v. 31, n. 1–4, p. 181–216, 1999. SIDLE, R. C.; BOGAARD, T. A. Dynamic earth system and ecological controls of rainfall-initiated landslides. *Water Resources Research*, v. 52, n. 7, p. 5053–5081, 2016.

$$ICR = P \times (1 + 0,2n + a)$$

Onde:

- $P$  = população em área de risco (em milhares de habitantes);
- $n$  = número de intervalos de 10 mm acima de 40 mm de chuva acumulada;
- $a = 0,1$  para riscos geológicos e  $a = 0$  para riscos hidrológicos.

A **Tabela 1** resume as condições observadas nas regiões citadas:

**Tabela 1** - Dados por região

REGIÃO	TIPO DE RISCO	CHUVA ACUMULADA (mm)	POPULAÇÃO EXPOSTA (mil hab.)
Pouso Alegre (MG)	Hidrológico	45	120
Petrópolis (RJ)	Geológico	65	250
São José dos Campos (SP)	Hidrológico	40	180
Curitiba (PR)	Geológico	55	200
Joinville (SC)	Hidrológico	50	150

Fonte: CPCON (2025)

Com base na proposta do pesquisador (fórmula ICR) e nos dados da Tabela 1, qual região apresenta o maior Índice Composto de Risco (ICR)?

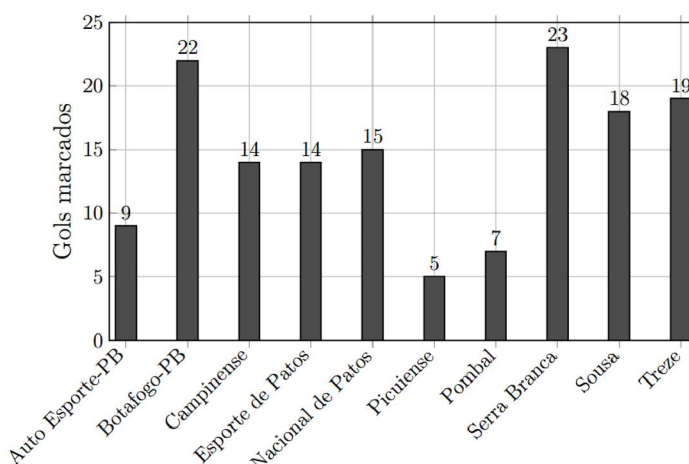
- a) Pouso Alegre (MG).                      c) São José dos Campos (SP).                      e) Curitiba (PR).  
b) Petrópolis (RJ).                          d) Joinville (SC).

## 25ª QUESTÃO

O Campeonato Paraibano de 2025 terminou com o Sousa campeão sobre o Botafogo-PB. Considerando os gols marcados por cada clube ao longo de toda a competição (fase classificatória e mata-mata), considere a Figura 2 (GLOBO ESPORTE/PB, 2025; WIKIPÉDIA, 2025):

Fontes: GLOBO ESPORTE — Campeonato Paraibano 2025: confira as estatísticas do estadual. João Pessoa: GE/PB, 16 jan. 2025. Disponível em: <https://ge.globo.com/pb/futebol/campeonato-paraibano/noticia/2025/01/16/campeonato-paraibano-2025-confira-as-estatisticas-do-estadual.ghtml>. Acesso em: 2 nov. 2025. WIKIPÉDIA. Campeonato Paraibano de Futebol de 2025. Disponível em: [https://pt.wikipedia.org/wiki/Campeonato\\_Paraibano\\_de\\_Futebol\\_de\\_2025](https://pt.wikipedia.org/wiki/Campeonato_Paraibano_de_Futebol_de_2025). Acesso em: 2 nov. 2025.

**Figura 2** - Gols marcados por cada time ao longo da competição.



Fonte: Adaptado (GE/PB, 2025)

Com base nesses dados, é CORRETO afirmar que a média aritmética da moda, mediana e média aritmética dos gols marcados pelas equipes vale aproximadamente:

- a) 12,8.    c) 13,9.    e) 14,5.  
b) 15,1.    d) 14,7.

# CONHECIMENTOS ESPECÍFICOS

## 26ª QUESTÃO

“Os princípios de direito tributário constituem a estrutura axiológica e normativa dos sistemas fiscais contemporâneos, funcionando como garantias do contribuinte e, simultaneamente, como instrumentos de racionalização do poder de tributar” (Zilveti, 2025, p. 331). A respeito dos princípios constitucionais tributários, analise os itens a seguir:

Fonte: ZILVETI, F. A. Novos Princípios do Sistema Tributário Constitucional Brasileiro. Revista *Direito Tributário Atual*, v. 60, p. 331–348, 2025. Disponível em: <https://doi.org/10.46801/2595-6280.60.14.2025.2871>. Acesso em: 18 dez. 2025.

- I- O Sistema Tributário Nacional deve observar os princípios da simplicidade e da defesa do meio ambiente.
- II- As alterações na legislação tributária buscarão atenuar efeitos regressivos.
- III- Entende-se por vedação ao confisco o princípio constitucional que proíbe à União a cobrança de tributos da competência dos outros entes da Federação.
- IV- Uma das garantias do contribuinte é que a majoração da base de cálculo do imposto sobre a propriedade predial e territorial urbana não entra em vigor antes de decorridos noventa dias da data em que haja sido publicada a lei que a aumentou.
- V- É defeso à União, aos Estados, ao Distrito Federal e aos Municípios instituir tratamento desigual entre contribuintes que se encontrem em situação equivalente, independentemente da denominação jurídica dos rendimentos, títulos ou direitos.

É CORRETO o que se afirma apenas em:

- a) I e III.
- b) II e IV.
- c) IV.
- d) I, II e V.
- e) III e V.

## 27ª QUESTÃO

“A base de cálculo é a grandeza econômica sobre a qual incide a alíquota para se chegar ao valor do tributo devido. Ela é um elemento abstrato, definido em lei, que serve de parâmetro para a quantificação do tributo” (Freire, 2025, p. 95).

Fonte: FREIRE, A. B. C. M. (2025). A base de cálculo do IPTU da décima urbana de 1808 até a EC nº 132/2023: uma análise histórica à luz da legalidade e da isonomia. *Revista Direito Tributário Atual*, v. 60, p. 83–104, 2025. Disponível em: <https://doi.org/10.46801/2595-6280.60.3.2025.2771>. Acesso em: 18 dez. 2025.

Em relação ao Imposto sobre a Propriedade Predial e Territorial Urbana (IPTU), é CORRETO afirmar que:

- a) o contribuinte é protegido das alterações da base de cálculo do IPTU pelo princípio da anterioridade nonagesimal.
- b) na determinação de sua base de cálculo, a Constituição Federal determina que deve ser considerado o valor dos bens móveis acessórios quando forem mantidos em caráter permanente para efeito de aformoseamento.
- c) sua base de cálculo é definida por lei complementar federal e pode ser atualizada pelo Poder Executivo, conforme critérios estabelecidos em lei municipal.
- d) o percentual de atualização de sua base de cálculo pelo Poder Legislativo não pode superar o Índice Nacional de Preços ao Consumidor Amplo – IPCA.
- e) sua base de cálculo, segundo o texto constitucional, é o valor contábil do imóvel, sendo aplicado sobre o custo histórico de aquisição o índice de depreciação.

## 28ª QUESTÃO

Em relação à responsabilidade na gestão fiscal, analise os itens a seguir:

- I- O ordenamento jurídico atual impõe o cumprimento de normas de responsabilidade na gestão fiscal apenas aos Estados e aos Municípios.
- II- É permitida a realização de transferências voluntárias para o ente que não institua, preveja e efetivamente arrecade os impostos de sua competência.
- III- A responsabilidade na gestão fiscal pressupõe a ação planejada e transparente, em que se previnem riscos e corrigem desvios capazes de afetar o equilíbrio das contas públicas.
- IV- Constituem requisitos essenciais da responsabilidade na gestão fiscal a instituição, previsão e efetiva arrecadação de todos os tributos da competência constitucional do ente da Federação.

É CORRETO o que se afirma apenas em:

- a) III e IV.
- b) I e IV.
- c) II e III.
- d) I, II e III.
- e) I, II e IV.

---

### 29ª QUESTÃO

Em 31 de julho de 2003, foi publicada a Lei Complementar nº 116, que dispõe sobre o Imposto Sobre Serviços de Qualquer Natureza, de competência dos Municípios e do Distrito Federal, e dá outras providências. A partir desse contexto, avalie as asserções a seguir e a relação proposta entre elas.

- I-** A edição da referida lei se dá por imposição da Constituição da República Federativa do Brasil de 1988 e, entre seus dispositivos, consta a não incidência sobre as exportações de serviços para o exterior do País.

#### PORQUE

- II-** A Carta Magna, desde sua origem, determina que cabe à lei complementar, em relação ao imposto sobre serviços de qualquer natureza de competência dos Municípios, fixar suas alíquotas máximas e mínimas e regular a forma e as condições como isenções, incentivos e benefícios fiscais serão concedidos e revogados, além de excluir da sua incidência exportações de serviços para o exterior.

A respeito dessas asserções, é CORRETO afirmar que:

- a) a asserção I é uma proposição verdadeira e a II é uma proposição falsa.
- b) as asserções I e II são proposições verdadeiras, mas a II não é uma justificativa correta da I.
- c) as asserções I e II são proposições verdadeiras e a II é uma justificativa correta da I.
- d) a asserção I é uma proposição falsa e a II é uma proposição verdadeira.
- e) as asserções I e II são proposições falsas.

### 30ª QUESTÃO

É CORRETO afirmar que o direito de a Fazenda Pública constituir o crédito tributário:

- a) extingue-se após 5 (cinco) anos, contados do primeiro dia do exercício seguinte àquele em que o lançamento poderia ter sido efetuado ou da data em que se tornar definitiva a decisão que houver anulado, por vício formal, o lançamento anteriormente efetuado. A isso se chama prescrição.
- b) extingue-se após 2 (dois) anos, contados do primeiro dia seguinte àquele em que ocorreu o fato gerador ou da data em que se tornar definitiva a decisão que houver anulado, por vício formal, o lançamento anteriormente efetuado. A isso se chama prescrição, que é interrompida pelo despacho do juiz que ordenar a citação em execução fiscal.
- c) extingue-se após 10 (dez) anos, contados do primeiro dia do exercício seguinte àquele em que o lançamento poderia ter sido efetuado ou da data em que se tornar definitiva a decisão que houver anulado, por vício formal, o lançamento anteriormente efetuado. A isso se chama prescrição.
- d) extingue-se após 2 (dois) anos, contados do primeiro dia seguinte àquele em que ocorreu o fato gerador ou da data em que se tornar definitiva a decisão que houver anulado, por vício formal, o lançamento anteriormente efetuado. A isso se chama decadência, que é interrompida pelo protesto judicial ou extrajudicial.
- e) extingue-se após 5 (cinco) anos, contados do primeiro dia do exercício seguinte àquele em que o lançamento poderia ter sido efetuado ou da data em que se tornar definitiva a decisão que houver anulado, por vício formal, o lançamento anteriormente efetuado. A isso se chama decadência.

### 31ª QUESTÃO

Considerando as hipóteses de suspensão da exigibilidade do crédito tributário arroladas no Código Tributário Nacional, analise os itens a seguir.

- I-** A moratória somente pode ser concedida em caráter geral pela pessoa jurídica de direito público competente para instituir o tributo a que se refira ou pela União, quanto a tributos de competência dos Estados, do Distrito Federal ou dos Municípios, quando simultaneamente concedida quanto aos tributos de competência federal e às obrigações de direito privado.
- II-** Salvo disposição de lei em contrário, o parcelamento do crédito tributário exclui a incidência de juros e multas.
- III-** O depósito do montante integral do crédito tributário dispensa o cumprimento, por parte do depositante, das obrigações acessórias dependentes da obrigação principal cujo crédito seja suspenso.
- IV-** A concessão de moratória em caráter individual não gera direito adquirido.

É CORRETO o que se afirma apenas em:

- a) I, II e IV.
- b) I, II e III.
- c) II e III.
- d) I e IV.
- e) III e IV.

---

### 32ª QUESTÃO

Para bem executar suas atribuições, o fiscal de tributos deve se pautar na busca pelo atingimento dos objetivos do cargo, zelando pelo fiel cumprimento de suas atribuições. Nesse sentido, é CORRETO afirmar que:

- a) nunca é necessário solicitar os livros fiscais para dirimir dúvidas.
- b) para o bom cumprimento de suas atribuições, o fiscal de tributos não deve obter segurança razoável em relação às informações prestadas pelas empresas fiscalizadas.
- c) um dos objetivos do fiscal de tributos é apresentar relatório sobre cada empresa auditada e encaminhar à secretaria de finanças.
- d) para o bom cumprimento de suas atribuições, o fiscal de tributos não pode se abster de emitir opinião ou renunciar ao trabalho quando não houver elementos para a emissão de um relatório fidedigno.
- e) no exercício de suas atribuições, o fiscal de tributos pode se deparar com indícios de sonegação e fraude e, nesse caso, deverá tomar as medidas cabíveis.

### 33ª QUESTÃO

Considerando a competência tributária do Município de Condado, analise os itens a seguir.

- I- O Imposto sobre a Propriedade Predial e Territorial Urbana (IPTU) deverá ser cobrado de forma linear, sendo vedada a progressividade em razão do valor do imóvel.
- II- O município pode instituir impostos sobre a transmissão entre vivos de bens imóveis, mesmo que tal transmissão ocorra a qualquer título, desde que se dê por ato oneroso, podendo a transmissão acontecer por natureza ou acessão física.
- III- Não é vedado ao município definir alíquotas diferentes do Imposto sobre a Propriedade Predial e Territorial Urbana (IPTU) de acordo com a localização e o uso do imóvel.
- IV- Em relação ao imposto conhecido pela sigla ITBI, sua competência se dá pelo domicílio do contribuinte e não pela situação do bem.
- V- O Imposto sobre a Propriedade Predial e Territorial Urbana (IPTU) não incide sobre templos de qualquer culto, ainda que as entidades sejam apenas locatárias do bem imóvel.

É CORRETO o que se afirma apenas em:

- a) I e III.
- b) II, III e V.
- c) I, II e IV.
- d) V.
- e) IV.

Considere o Texto I para responder às questões 34 e 35.

#### Texto I

“A expressão 'legislação tributária' compreende as leis, os tratados e as convenções internacionais, os decretos e as normas complementares que versem, no todo ou em parte, sobre tributos e relações jurídicas a eles pertinentes”.

### 34ª QUESTÃO

Apartir do contexto do Texto I e à luz da Lei Complementar nº 101/2000, avalie as asserções a seguir e a relação proposta entre elas.

- I- As normas listadas no Texto I possuem a mesma importância e hierarquia e, na ausência de disposição expressa, a autoridade competência poderá utilizar, sucessivamente, a analogia, os princípios gerais de direito tributário, os princípios gerais de direito público e a equidade.

#### PORQUE

- II- A lei tributária não pode alterar a definição, o conteúdo e o alcance de institutos, conceitos e formas de direito privado, utilizados, expressa ou implicitamente, pela Constituição Federal, pelas Constituições dos Estados, ou pelas Leis Orgânicas do Distrito Federal ou dos Municípios, para definir ou limitar competências tributárias.

Apartir deste contexto, é CORRETO afirmar que:

- a) as asserções I e II são proposições verdadeiras, mas a II não é uma justificativa correta da I.
- b) as asserções I e II são proposições falsas.
- c) a asserção I é uma proposição falsa e a II é uma proposição verdadeira.
- d) a asserção I é uma proposição verdadeira e a II é uma proposição falsa.
- e) as asserções I e II são proposições verdadeiras e a II é uma justificativa correta da I.

---

### 35ª QUESTÃO

Em relação à interpretação e integração da legislação tributária, é CORRETO afirmar que:

- a) a lei tributária que define infrações, ou lhe comina penalidades, interpreta-se da maneira mais favorável ao fisco, em caso de dúvida quanto à capitulação legal do fato, à natureza ou às circunstâncias materiais do fato, ou à natureza ou extensão dos seus efeitos.
- b) se interpreta extensivamente a legislação tributária que disponha sobre a dispensa do cumprimento de obrigações tributárias acessórias.
- c) os princípios gerais de direito privado utilizam-se para pesquisa da definição, do conteúdo e do alcance de seus institutos, conceitos e formas, mas não para definição dos respectivos efeitos tributários.
- d) na ausência de disposição expressa, a autoridade competente que se utilizar do emprego da analogia poderá exigir tributo não previsto em lei.
- e) com o fito de evitar favorecimento ilícito, é vedada a utilização da equidade como forma de integração da legislação tributária.

### 36ª QUESTÃO

Considere a natureza jurídica da obrigação tributária principal segundo o Código Tributário Nacional (CTN).

A respeito do crédito tributário e de suas formas de suspensão, exclusão e extinção, é CORRETO afirmar que:

- a) as circunstâncias que modificam o crédito tributário afetam a obrigação tributária que lhe deu origem.
- b) o crédito tributário decorre da obrigação principal e tem a mesma natureza desta.
- c) o crédito tributário regularmente constituído não pode ser modificado, sob pena de responsabilidade funcional na forma da lei.
- d) suspendem a exigibilidade do crédito tributário a moratória e a prescrição.
- e) extinguem o crédito tributário a decadência e a isenção.

### 37ª QUESTÃO

O Código Tributário Nacional dispõe sobre a constituição do crédito tributário. A esse respeito, analise os itens a seguir.

- I- A competência da autoridade administrativa para constituir o crédito tributário é exclusiva e, por isso, não pode ser delegada a terceiros.
- II- Se a lei não fixar prazo à homologação, será ele de dois anos, a contar da ocorrência do fato gerador.
- III- O procedimento administrativo por meio do qual se constitui o crédito tributário é denominado lançamento, que é atividade vinculada e obrigatória.
- IV- A revisão do lançamento por parte da fazenda pública pode acontecer a qualquer tempo.
- V- Os erros contidos em declaração e apuráveis pelo seu exame serão retificados de ofício pela autoridade administrativa a que competir sua revisão.

É CORRETO o que se afirma apenas em:

- a) II e III.
- b) III e V.
- c) I, II, III e IV.
- d) II, IV e V.
- e) I, IV e V.

### 38ª QUESTÃO

A Lei Complementar nº 214/2025 aborda dois impostos. A respeito daquele que é de competência da União, é CORRETO afirmar que:

- a) são obrigados ao pagamento deste imposto como responsável, sem prejuízo das demais hipóteses previstas em lei e da aplicação da pena de perdimento, o arrematante na arrematação e o transportador, em relação aos produtos tributados que possuir desacompanhados da documentação fiscal comprobatória de sua procedência.
- b) esse imposto incidirá em cada etapa da cadeia produtiva, compensando-se os créditos das operações anteriores.
- c) o imposto não incide sobre as exportações resultantes da extração de bem mineral.
- d) o tomador do serviço é contribuinte deste imposto, ainda que residente ou domiciliado no exterior.
- e) tal imposto incide sobre a produção, extração, comercialização ou importação de bens e serviços prejudiciais à saúde ou ao meio ambiente.

---

**39ª QUESTÃO**

Considere o conceito de lançamento tributário como ato administrativo que constitui o crédito tributário.

A respeito da harmonização do Imposto sobre Bens e Serviços (IBS) e da Contribuição Social sobre Bens e Serviços (CBS), analise os itens a seguir:

- I-** O Comitê de Harmonização das Administrações Tributárias é composto de representantes da Receita Federal do Brasil e do comitê gestor do IBS.
- II-** O Fórum de Harmonização Jurídica das Procuradorias realizará reuniões periódicas e decidirá por unanimidade dos presentes.
- III-** O Comitê de Harmonização das Administrações Tributárias será presidido e coordenado por representante da Procuradoria Geral da Fazenda Nacional.
- IV-** Compete ao Comitê de Harmonização das Administrações Tributárias prevenir litígios relativos às normas comuns aplicáveis ao IBS e à CBS.

É CORRETO o que se afirma apenas em:

- a) IV.
- b) I, II e III.
- c) I e III.
- d) I, II e IV.
- e) II, III e IV.

**40ª QUESTÃO**

Verificando a Lei Complementar nº 214/2025, um fiscal de tributos fez algumas anotações, abaixo transcritas, relacionadas com os dispositivos que tratam da fiscalização e do lançamento de ofício do Imposto sobre Bens e Serviços (IBS) e da Contribuição Social sobre Bens e Serviços (CBS). Analise-as.

- I-** A administração tributária municipal poderá celebrar convênio com a Receita Federal do Brasil para delegação recíproca da atividade de fiscalização do IBS e da CBS nos processos fiscais de pequeno valor.
- II-** O procedimento fiscal tem início com a apreensão de bens e, desde que haja intimação, exclui a espontaneidade do sujeito passivo em relação aos atos anteriores e a dos demais envolvidos nas infrações verificadas.
- III-** Para a constituição do crédito tributário decorrente de procedimento fiscal, por lançamento de ofício, a autoridade fiscal deverá lavrar auto de infração, o qual conterà obrigatoriamente a assinatura do autuante, a indicação do cargo e o número de matrícula.

É CORRETO o que se afirma em:

- a) I e III apenas.
- b) I, II e III.
- c) II apenas.
- d) II e III apenas.
- e) I apenas.