



PREFEITURA MUNICIPAL DE PILÕESINHOS - PB



NÍVEL SUPERIOR ARQUIVISTA

EXAME GRAFOTÉCNICO:

(Transcreva a frase abaixo no local indicado na sua Folha de Respostas)

Tuas serras circundam o horizonte, formando lindos campos naturais.

INSTRUÇÕES:

1. Verifique se este caderno de provas contém 40 (quarenta) questões de múltipla escolha, sendo Língua Portuguesa de 01 a 15, Raciocínio Lógico de 16 a 25 e Conhecimentos Específicos de 26 a 40.
2. Observe se há falhas ou imperfeições gráficas que causem dúvidas. Caso existam, comunique imediatamente ao Fiscal de Sala.
3. Confira seus dados na Folha de Respostas com os dados do Cartão de Inscrição.
4. Esta Prova tem duração de 4 (quatro) horas. Não é permitida a saída do candidato antes de transcorridas 2 (duas) horas completas, sob pena de eliminação.
5. É vetado, durante a prova, o intercâmbio ou empréstimo de material de qualquer natureza entre os candidatos, bem como o uso de celulares, calculadoras e/ou qualquer outro tipo de equipamento eletrônico. A fraude, ou tentativa, a indisciplina e o desrespeito às autoridades encarregadas dos trabalhos são faltas que eliminam o candidato.
6. Certifique-se de que assinou a lista de presença e que preencheu adequadamente todos os espaços da Folha de Respostas.
7. Ao finalizar a prova, entregue ao fiscal o Caderno de Prova e a Folha de Respostas, sob pena de eliminação.

PORTUGUÊS

Leia o Texto I e responda às questões 01 a 10.

Texto I

O envelhecimento não é progressivo e ocorre em três idades diferentes. A primeira chega mais cedo do que pensávamos

Há três momentos-chave em que ocorre uma virada no nível molecular – e isso muda tudo.

A ciência descobriu que não envelhecemos de forma progressiva, gradual e linear, como se acreditava, mas sim de maneira mais brusca em torno de três fases específicas da vida. Uma delas chega muito antes do que você imagina.

Os primeiros indícios de que o envelhecimento não é contínuo, e sim ocorre em etapas, surgiram a partir do estudo da mosca-da-fruta. Especialistas propuseram que o processo de envelhecimento nesses insetos é bifásico: progride lentamente durante a maior parte da vida adulta da mosca e, de repente, acelera.

Isso também foi observado em vermes nematoides e peixes-zebra. E em humanos. Aos 78 anos, por exemplo, a capacidade de produzir novas células sanguíneas diminui drasticamente, o que aumenta o risco de anemia e de outras condições, como disfunção erétil, dificuldade de regeneração dos tecidos e leucemia. As principais idades em que tudo acontece são 34, 60 e 78.

Outro estudo analisou como as proteínas presentes no plasma sanguíneo se alteram ao longo do envelhecimento humano e descobriu que os participantes se agrupavam em quatro faixas etárias: menos de 34 anos, de 34 a 60 anos, de 61 a 78 anos e acima de 78 anos.

Dentro de cada grupo, os perfis proteicos eram muito semelhantes, mas nas idades de 34, 60 e 78 anos, essas proteínas mudavam de forma abrupta. De acordo com uma análise da Universidade Stanford, liderada por Michael Snyder, das milhares de moléculas que eles monitoraram, 81% mudaram de forma não linear com a idade. Novamente, os picos de alteração coincidiram com as idades de 34 e 60 anos. Não foi possível confirmar se isso também acontece aos 78 anos, porque os participantes mais velhos tinham, no máximo, 75 anos.

O que estava ocorrendo era o que se conhece como ponto de inflexão – quando um sistema passa por uma mudança abrupta de um estado de equilíbrio para outro. Isso é algo já observado no meio ambiente, por exemplo, mas que até então não havia sido associado ao envelhecimento humano. Assim, podemos dizer que o envelhecimento acontece em três pontos de inflexão: aos 34, 60 e 78 anos. Essa descoberta está de acordo com as conclusões do estudo mais recente da pesquisadora Maja Olecka, do Instituto Leibniz sobre Envelhecimento.

Durante esses períodos, ocorrem mudanças moleculares no corpo que geram consequências como perda acelerada de massa muscular, piora na qualidade da pele e alterações na capacidade de metabolizar o álcool. É por isso que as ressacas depois dos 34 anos são muito piores do que eram aos 20. Pessoalmente, devo dizer que percebi isso.

A pergunta inevitável é: será que esse envelhecimento repentino, que ocorre após os pontos de virada, pode ser interrompido? De acordo com Snyder, a transição por volta dos 40 anos tem relação, em parte, com mudanças no estilo de vida. “As pessoas se exercitam menos, tornam-se mais sedentárias e provavelmente não se alimentam tão bem, o que acaba impactando a saúde aos 40 anos”, disse ele à revista *New Scientist*.

Portanto, se quisermos atrasar o envelhecimento, talvez devêssemos começar a cuidar melhor do corpo com alimentação e exercícios desde cedo.

Fonte: D'AMBRÓSIO, Livia. O envelhecimento não é progressivo e ocorre em três idades diferentes. A primeira chega mais cedo do que pensávamos. **Minhavia**. Disponível em: <https://www.minhavia.com.br/materias/materia-26238>. Acesso em 30 de jul de 2025. [adaptado].

1ª QUESTÃO

Assinale a alternativa CORRETA acerca do processo de envelhecimento humano, consoante às ideias apresentadas no Texto I.

- a) A ciência descobriu que o envelhecimento é progressivo e contínuo, independente de fatores externos e das experiências pessoais.
- b) O envelhecimento ocorre de forma linear e gradual ao longo da vida, sendo mais intenso a partir dos 34 anos.
- c) O processo de envelhecimento humano ocorre em três fases específicas, notadamente aos 34, 60 e 78 anos.
- d) Não há evidências científicas sobre o processo de envelhecimento humano, haja vista ser um processo natural.
- e) O envelhecimento ocorre notadamente em uma fase específica da vida adulta, quando se atinge a terceira idade.

2ª QUESTÃO

De acordo com o Texto I, “pontos de inflexão” no processo de envelhecimento são compreendidos como:

- a) situações externas que causam envelhecimento, como estresse, alimentação e má qualidade de vida.
- b) momentos em que o corpo para de envelhecer e permanece inalterado por 34 anos.
- c) mudanças lentas e imperceptíveis que ocorrem nos seres humanos em três idades diferentes.
- d) mudanças abruptas no corpo que marcam a transição entre diferentes fases do envelhecimento.
- e) diferentes idades em que o corpo alcança seu auge físico e mental.

3ª QUESTÃO

Observe os fragmentos abaixo e assinale a alternativa CORRETA.

A: “Uma delas chega muito antes do que você imagina” (1º§),

B: “Isso também foi observado em vermes nematoides e peixes-zebra” (3º§)

C: “Essa descoberta está de acordo com as conclusões do estudo mais recente” (6º§)

- a) A expressão “Essa descoberta”, em “Essa descoberta está de acordo com as conclusões do estudo mais recente”, e o pronome “isso”, em “isso também foi observado em vermes nematoides e peixes-zebra”, são recursos coesivos catafóricos.
- b) O pronome “isso”, em “Isso também foi observado em vermes nematoides e peixes-zebra”, retoma o fragmento “capacidade de produzir novas células sanguíneas”.
- c) A expressão “essa descoberta”, em “Essa descoberta está de acordo com as conclusões do estudo mais recente” aponta para uma nova pesquisa que contradiz os estudos anteriores.
- d) A expressão “uma delas”, em “Uma delas chega muito antes do que você imagina” e o pronome “isso”, em “isso também foi observado em vermes nematoides e peixes-zebra” referem-se a elementos mencionados posteriormente.
- e) A expressão “uma delas”, em “Uma delas chega muito antes do que você imagina”, retoma a expressão “três fases específicas da vida” mencionada anteriormente no texto.

4ª QUESTÃO

Assinale a alternativa em que o fragmento “Há três momentos-chave em que ocorre uma virada no nível molecular” recebeu nova e CORRETA redação, respeitando as regras de concordância verbal e nominal.

- a) Existe três momentos-chave em que ocorre uma virada no nível molecular.
- b) Existem três momentos-chave em que ocorre uma virada no nível molecular.
- c) Existem três momento-chave em que ocorre uma virada no nível molecular.
- d) Existe três momentos-chave em que ocorrem uma virada no nível molecular.
- e) Existe três momento-chave em que ocorre uma virada no nível molecular.

5ª QUESTÃO

Acerca do valor semântico do elemento “como” no fragmento: “A ciência descobriu que não envelhecemos de forma progressiva, gradual e linear, como se acreditava” (1º§), assinale a alternativa CORRETA.

- a) Foi empregado como preposição e indica finalidade.
- b) Foi empregado como conjunção e indica comparação.
- c) Foi empregado como preposição e indica consequência.
- d) Foi empregado como conjunção e indica conformidade.
- e) Foi empregado como conjunção e indica consequência.

6ª QUESTÃO

Observe os dois fragmentos abaixo e analise as assertivas que seguem a respeito do emprego do “se”.

A: “Não foi possível confirmar se isso também acontece aos 78 anos” (5º§).

B: “Outro estudo analisou como as proteínas presentes no plasma sanguíneo se alteram ao longo do envelhecimento humano” (4º§).

C: “Portanto, se quisermos atrasar o envelhecimento, talvez devêssemos começar a cuidar melhor do corpo” (9º§).

I- Em A, o “se” é uma conjunção integrante e introduz uma oração subordinada.

II- Em B, o “se” funciona como índice de indeterminação do sujeito.

III- Em C, o “se” é uma conjunção condicional e indica condição.

É CORRETO o que se afirma em:

- a) II, apenas.
- b) I, II e III.
- c) III, apenas.
- d) I e III, apenas.
- e) I e II, apenas.

7ª QUESTÃO

Observe o fragmento do Texto I, abaixo transcrito e assinale a assertiva que contém a CORRETA classificação da oração destacada.

“Outro estudo analisou como as proteínas presentes no plasma sanguíneo se alteram ao longo do envelhecimento humano e descobriu que os participantes se agrupavam em quatro faixas etárias” (4º§).

- a) Oração subordinada substantiva objetiva direta.
- b) Oração subordinada substantiva subjetiva.
- c) Oração coordenada aditiva.
- d) Oração subordinada adjetiva restritiva.
- e) Oração subordinada adjetiva explicativa.

8ª QUESTÃO

Observe o emprego da crase do fragmento: “As pessoas se exercitam menos, tornam-se mais sedentárias e provavelmente não se alimentam tão bem, o que acaba impactando a saúde aos 40 anos”, disse ele à revista *New Scientist*.” (8º§). O emprego do sinal indicativo da crase:

- a) está adequado, pois há a contração da preposição “a”, exigida pelo verbo “dizer”, com o artigo definido feminino “a” que acompanha o substantivo feminino “revista”.
- b) está adequado, pois há a contração do artigo “a”, exigido pelo verbo “dizer”, com a preposição “a” que acompanha o substantivo feminino “revista”.
- c) está inadequado, pois “revista” é um substantivo masculino e não há crase diante de substantivos masculinos.
- d) está inadequado, pois a preposição e o artigo não se fundem diante de nomes próprios.
- e) está adequado por se tratar de uma locução adverbial feminina.

9ª QUESTÃO

Assinale a alternativa em que o excerto, extraído do Texto I, apresenta um comentário de natureza subjetiva.

- a) “Novamente, os picos de alteração coincidiram com as idades de 34 e 60 anos” (5º§).
- b) “Pessoalmente, devo dizer que percebi isso” (7º§).
- c) “81% mudaram de forma não linear com a idade” (5º§).
- d) “progride lentamente durante a maior parte da vida adulta da mosca” (2º§).
- e) “O que estava ocorrendo era o que se conhece como ponto de inflexão” (6º§).

10ª QUESTÃO

Considere o uso da vírgula no trecho “Dentro de cada grupo, os perfis proteicos eram muito semelhantes” (5º§) e assinale a alternativa em que a vírgula foi empregada pela mesma razão.

- a) “A ciência descobriu que não envelhecemos de forma progressiva, gradual e linear” (1º§).
- b) “De acordo com Snyder, a transição por volta dos 40 anos tem relação com mudanças no estilo de vida” (8º§).
- c) “As principais idades em que tudo acontece são 34, 60 e 78” (3º§).
- d) “perda acelerada de massa muscular, piora na qualidade da pele e alterações na capacidade de metabolizar o álcool” (7º§).
- e) “As pessoas se exercitam menos, tornam-se mais sedentárias e provavelmente não se alimentam tão bem” (8º§).

Leia o Texto II e responda às questões de 11 a 13.

Texto II

Águas de março

É o pau, é a pedra, é o fim do caminho
É um resto de toco, é um pouco sozinho
É um caco de vidro, é a vida, é o sol
É a noite, é a morte, é um laço, é o anzol

É peroba no campo, é o nó da madeira
Caingá candeia, é o matita-pereira
É madeira de vento, tombo da ribanceira
É o mistério profundo, é o queira ou não queira

É o vento vetando, é o fim da ladeira
É a viga, é o vão, festa da cumeeira
É a chuva chovendo, é conversa ribeira
Das águas de março, é o fim da canseira

É o pé, é o chão, é a marcha estradeira
Passarinho na mão, pedra de atiradeira
É uma ave no céu, é uma ave no chão
É um regato, é uma fonte, é um pedaço de pão

É o fundo do poço, é o fim do caminho
No rosto um desgosto, é um pouco sozinho
É um estepe, é um prego, é uma conta, é um conto
É um pingo pingando, é uma conta, é um ponto

É um peixe, é um gesto, é uma prata brilhando
É a luz da manhã, é o tijolo chegando
É a lenha, é o dia, é o fim da picada
É a garrafa de cana, o estilhaço na estrada

É o projeto da casa, é o corpo na cama
É o carro enguiçado, é a lama, é a lama
É um passo, é uma ponte, é um sapo, é uma rã
É um resto de mato na luz da manhã

São as águas de março fechando o verão
É a promessa de vida no teu coração

É uma cobra, é um pau, é João, é José
É um espinho na mão, é um corte no pé

São as águas de março fechando o verão
É a promessa de vida no teu coração

É pau, é pedra, é o fim do caminho
É um resto de toco, é um pouco sozinho
É um passo, é uma ponte, é um sapo, é uma rã
É um belo horizonte, é uma febre terçã
São as águas de março fechando o verão
É a promessa de vida no teu coração

Pau, edra, im, inho
Esto, oco, ouco, inho
Aco, idro, ida, ol, oite, orte, aço, zol

São as águas de março fechando o verão
É a promessa de vida no teu coração

11ª QUESTÃO

A canção “Águas de março” do compositor carioca Tom Jobim apresenta, em sua composição:

- a) uma série de imagens compostas por objetos e ações comuns que parecem retratar o cotidiano do compositor.
- b) uma sequência de elementos que descrevem cenas e paisagens exclusivas do sertão nordestino.
- c) uma narrativa com partes bem definidas, com introdução, desenvolvimento e fim.
- d) uma série de imagens caóticas, sem qualquer conexão com a realidade.
- e) uma sequência de elementos aleatórios, inspirados em ambiente tipicamente urbano.

12ª QUESTÃO

Observe os versos abaixo e analise as afirmações que seguem acerca das ideias apresentadas no Texto II.

Verso I - “É o fundo do poço, é o fim do caminho”

Verso II - “É o carro enguiçado, é a lama, é a lama”

- I- A expressão “fim do caminho” deve ser interpretada em seu sentido literal, indicando o final de uma estrada física.
- II- A expressão “é o fundo do poço”, no contexto apresentado, pode significar momentos de dificuldade.
- III- O segundo verso retrata uma consequência das chuvas, evidenciando como elementos naturais podem interferir na dinâmica cotidiana.
- IV- A expressão “fim do caminho” pode assumir valor simbólico de encerramento de um ciclo.

É CORRETO o que se afirma apenas em:

- a) III.
- b) III e IV.
- c) II, III e IV.
- d) II e IV.
- e) II e III.

13ª QUESTÃO

Observe-se o uso repetido da forma verbal “é” no Texto II, como em: “É o pau, é a pedra, é o fim do caminho”

A partir dessa constatação, avalie as asserções a seguir e a relação proposta entre elas.

- I- A repetição observada é um recurso estilístico que confere ritmo à composição, porém a empobrece dada a falta de criatividade e coesão.

PORQUE

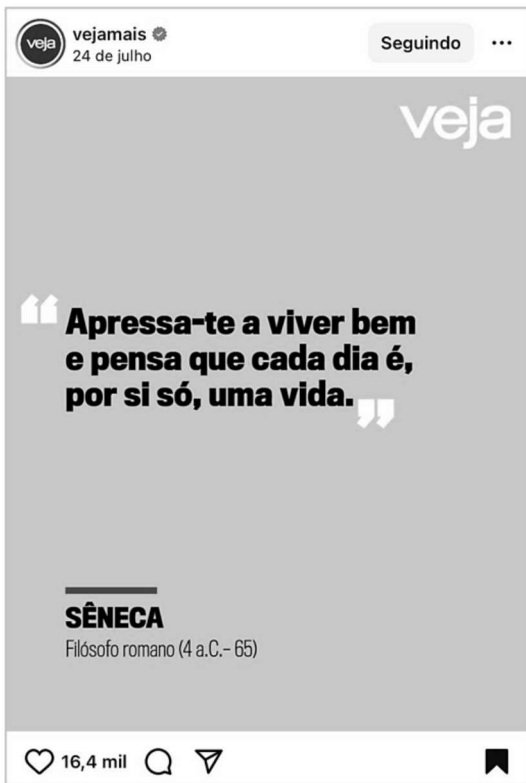
- II- No contexto em análise, a repetição atua como eixo estruturante na construção textual, funcionando como recurso que articula e encadeia uma sequência de imagens e contribui para a musicalidade da composição.

A respeito dessas asserções, é CORRETO afirmar que:

- a) as asserções I e II são proposições falsas.
- b) as asserções I e II são proposições verdadeiras, e a II é uma justificativa correta da I.
- c) as asserções I e II são proposições verdadeiras, mas a II não é uma justificativa correta da I.
- d) a asserção I é uma proposição verdadeira, e a II é uma proposição falsa.
- e) a asserção I é uma proposição falsa, e a II é uma proposição verdadeira.

Leia o Texto III e responda às questões 14 e 15.

Texto III



Fonte: <https://www.instagram.com/p/DMfIRURBQx2/>. Acesso em: 24 jul. 2025.

14ª QUESTÃO

Na frase de autoria atribuída ao filósofo romano Sêneca “Apressa-te a viver bem e pensa que cada dia é, por si só, uma vida” observa-se o emprego de um pronome oblíquo de segunda pessoa.

A partir do fragmento apresentado, avalie as asserções a seguir e a relação proposta entre elas.

- I- Há um caso de colocação pronominal denominado ênclise, haja vista que o pronome oblíquo átono está empregado em posição anteposta ao verbo.

PORQUE

- II- Na língua culta não se abre frase com o pronome oblíquo, embora seja possível iniciar a frase com pronome átono na conversação familiar, despreocupada.

A respeito dessas asserções, é CORRETO afirmar que:

- a) as asserções I e II são proposições verdadeiras, e a II é uma justificativa correta da I.
- b) a asserção I é uma proposição verdadeira, e a II é uma proposição falsa.
- c) a asserção I é uma proposição falsa, e a II é uma proposição verdadeira.
- d) as asserções I e II são proposições verdadeiras, mas a II não é uma justificativa correta da I.
- e) as asserções I e II são proposições falsas.

15ª QUESTÃO

Assinale a alternativa em que a transposição do fragmento “Apressa-te a viver bem e pensa que cada dia é, por si só, uma vida” para o plural está gramaticalmente CORRETA.

- a) Apressai-vos a viver bem e pensardes que cada dia é, por si só, uma vida.
- b) Apressamo-nos a viver bem e pensamos que cada dia é, por si só, uma vida.
- c) Apresssem-nos a viver bem e pensem que cada dia é, por si só, uma vida.
- d) Apresse-vos a viver bem e pensa que cada dia é, por si só, uma vida.
- e) Apressai-vos a viver bem e pensai que cada dia é, por si só, uma vida.

RACIOCÍNIO LÓGICO

16ª QUESTÃO

Considere as seguintes proposições simples:

T: O pedreiro foi contratado;

U: O pedreiro fez a seleção.

Desse modo, é CORRETO afirmar que:

- a) Se o pedreiro foi contratado, então ele fez a seleção, ou ele não fez a seleção corresponde a uma proposição composta tautológica.
- b) O pedreiro fez a seleção e ele foi contratado; em linguagem lógica, corresponde a $(U \wedge \neg T)$.
- c) Se o pedreiro foi contratado, então fez a seleção, e se fez a seleção, então foi contratado; em linguagem lógica, é equivalente a $(U \rightarrow T) \vee (T \rightarrow U)$.
- d) Se o pedreiro foi contratado, então fez a seleção, ou se fez a seleção, então foi contratado; em linguagem lógica, é equivalente a $(T \leftrightarrow U)$.
- e) Se o pedreiro foi contratado, então ele fez a seleção, ou ele não fez a seleção; em linguagem lógica, corresponde a $(T \rightarrow U) \wedge \neg T$.

17ª QUESTÃO

Considere a proposição a seguir e analise as assertivas.

$(P \rightarrow Q) \vee (R \leftrightarrow P)$

- I- Trata-se de uma proposição composta, formada a partir de 3 outras proposições e mediante o emprego de operadores lógicos.
- II- A tabela verdade correspondente à proposição é composta por 16 linhas.
- III- A proposição é tautológica.
- IV- A proposição é contingente.

É CORRETO o que se afirma apenas em:

- a) IV.
- b) I, II e IV.
- c) II e III.
- d) I e IV.
- e) I e III.

18ª QUESTÃO

Considere o argumento abaixo:

1. Se o carteiro trabalhar diariamente, então atingirá a meta.
2. O carteiro atingiu a meta.
3. Logo, o carteiro trabalhou diariamente.

Com base na lógica proposicional, analise as assertivas a seguir.

- I- O argumento é do tipo *modus tollens*, pois representa uma afirmação do consequente.
- II- O argumento é válido, pois representa uma inferência do tipo *modus ponens*.
- III- O argumento é inválido, pois afirma o consequente para concluir o antecedente.

É CORRETO o que se afirma apenas em:

- a) III.
- b) I e II.
- c) I e III.
- d) II e III.
- e) II.

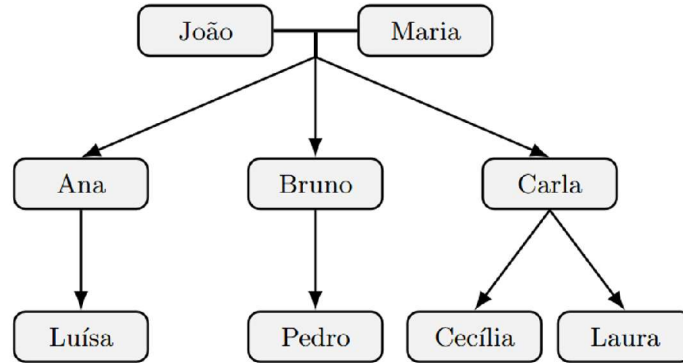
22ª QUESTÃO

Uma árvore genealógica é uma representação gráfica das conexões familiares entre indivíduos, incluindo nomes e, às vezes, datas e locais de nascimento, casamento e falecimento. Pode ser construída como árvore de costados (ascendência) ou árvore de geração (descendência) (Wikipedia, 2025).

Fonte: WIKIPÉDIA. Árvore genealógica. Disponível em: https://pt.wikipedia.org/wiki/%C3%81rvore_geneal%C3%B3gica. Acesso em: 1 nov. 2025

A Figura 1 representa parte da árvore genealógica da família de Luísa, usada em um estudo sobre longevidade familiar.

Figura 1 - Árvore genealógica.



Fonte: CPCON

Sabe-se que:

- João tem 72 anos e Maria tem 68 anos.
- Os três filhos (Ana, Bruno e Carla) nasceram com diferença de 2 anos entre cada um, sendo Ana a mais velha e Carla a mais nova.
- Quando Luísa nasceu, João tinha 60 anos.
- Pedro nasceu 3 anos depois de Luísa, e Cecília e Laura são gêmeas nascidas 4 anos após Pedro.
- Quando Cecília nasceu, seu tio Bruno tinha 29 anos.

Com base nessas informações, e considerando o ano 2025 como referência atual, é CORRETO afirmar que:

- a) somando as idades de todos os netos de João e Maria, temos exatamente a idade de Bruno.
- b) se somarmos as idades de Ana e de Pedro, ainda assim teremos 10 anos a menos que a idade atual de Maria.
- c) se somarmos as idades de Ana, Luísa e de uma das gêmeas, ainda assim teremos 19 anos a menos que a idade atual de João.
- d) somando-se as idades de Maria e a das gêmeas, ainda assim, juntas, seriam mais novas que João.
- e) a soma das idades dos filhos de João e Maria ultrapassa suas idades juntas.

23ª QUESTÃO

O Censo Escolar 2024, divulgado pelo INEP e MEC (2025), registrou 47,1 milhões de estudantes distribuídos nas seguintes etapas da Educação Básica, mostradas na Tabela 2 (INEP; MEC, 2025):

Fonte: INEP. MEC e Inep contextualizam resultados do Censo Escolar 2024. Brasília: Instituto Nacional de Estudos e Pesquisas Educacionais Anísio Teixeira, 2025. Disponível em: <https://www.gov.br/inep/pt-br/centrais-de-contenido/noticias/censo-escolar/mec-e-inep-contextualizam-resultados-do-censo-escolar-2024>. Acesso em: 2 nov. 2025.

Tabela 2 - Censo Escolar - 2024

| Etapa Educacional | Matrículas (milhões) | Variação 2024/2023 | Participação da Rede Pública (%) |
|---|---|--------------------|----------------------------------|
| Educação Infantil (creches + pré-escolas) | 9,5 (≈ 4,2 mi creches + 5,3 mi pré-escolas) | +1,2% | 73 |
| Ensino Fundamental | 26,0 | -0,5% | 81 |
| Ensino Médio | 7,8 | +1,5% | 86,8 |
| EJA (Educação de Jovens e Adultos) | 2,4 | -2,0% | 91,7 |

Fonte: CPCON (2025). Elaborado a partir dos dados INEP/MEC (2025) e Agência Brasil (2025)

Com base nessas informações e considerando 2024 como ano-base, analise as proposições:

- I- A soma das matrículas da Educação Infantil e do Ensino Médio representa menos de 40% do total de matrículas.
- II- O número aproximado de alunos da Educação Infantil na rede pública é de 6,9 milhões.
- III- A diferença entre o número de matrículas do Ensino Fundamental e do Ensino Médio é inferior a 18 milhões.
- IV- Mantendo o crescimento de +1,5% ao ano, o Ensino Médio atingirá 8,0 milhões de alunos em 2026.

É CORRETO o que se afirma em:

- a) II apenas.
- b) I, II e IV apenas.
- c) I e IV apenas.
- d) III e IV apenas.
- e) I, II, III e IV.

24ª QUESTÃO

O Centro Nacional de Monitoramento e Alertas de Desastres Naturais (CEMADEN) publicou, em 02 de novembro de 2025, a previsão de riscos geo-hidrológicos para as regiões Sudeste e Sul do Brasil. A nota técnica destaca risco moderado de eventos hidrológicos em cidades como Pouso Alegre (MG), São José dos Campos (SP) e Joinville (SC), e risco moderado de eventos geológicos (movimentos de massa) em Petrópolis (RJ) e Curitiba (PR), devido à ocorrência de chuvas moderadas a fortes (CEMADEN, 2025).

Fonte: CEMADEN. Previsão de riscos geo-hidrológicos – 02/11/2025. Disponível em: <https://www.gov.br/cemaden/pt-br/assuntos/riscos-geo-hidrologicos/02-11-2025-previsao-de-riscos-geo-hidrologicos-1>. Acesso em: 2 nov. 2025.

Inspirando-se no conceito clássico de $RISCO = PERIGO \times VULNERABILIDADE \times EXPOSIÇÃO$ (Guzzetti *et al.*, 1999; Sidle; Bogaard, 2016) e na metodologia de monitoramento utilizada pelo CEMADEN (2021) e pela CPRM (2022), um pesquisador propôs o seguinte índice composto de risco (ICR):

Fontes: CEMADEN. Mapeamento e monitoramento de riscos de desastres naturais no Brasil. Brasília: MCTI, 2021. CPRM – Serviço Geológico do Brasil. Atlas Brasileiro de Desastres Naturais: 1991–2022. Brasília: CPRM, 2022. GUZZETTI, F.; CARRARA, A.; CARDINALI, M.; REICHENBACH, P. Landslide hazard evaluation: a review of current techniques and their application in a multi-scale study, Central Italy. *Geomorphology*, v. 31, n. 1–4, p. 181–216, 1999. SIDLE, R. C.; BOGAARD, T. A. Dynamic earth system and ecological controls of rainfall-initiated landslides. *Water Resources Research*, v. 52, n. 7, p. 5053–5081, 2016.

$$ICR = P \times (1 + 0,2n + a)$$

Onde:

- P = população em área de risco (em milhares de habitantes);
- n = número de intervalos de 10 mm acima de 40 mm de chuva acumulada;
- $a = 0,1$ para riscos geológicos e $a = 0$ para riscos hidrológicos.

A **Tabela 1** resume as condições observadas nas regiões citadas:

Tabela 1 - Dados por região

| REGIÃO | TIPO DE RISCO | CHUVA ACUMULADA (mm) | POPULAÇÃO EXPOSTA (mil hab.) |
|--------------------------|---------------|----------------------|------------------------------|
| Pouso Alegre (MG) | Hidrológico | 45 | 120 |
| Petrópolis (RJ) | Geológico | 65 | 250 |
| São José dos Campos (SP) | Hidrológico | 40 | 180 |
| Curitiba (PR) | Geológico | 55 | 200 |
| Joinville (SC) | Hidrológico | 50 | 150 |

Fonte: CPCON (2025)

Com base na proposta do pesquisador (fórmula ICR) e nos dados da Tabela 1, qual região apresenta o maior Índice Composto de Risco (ICR)?

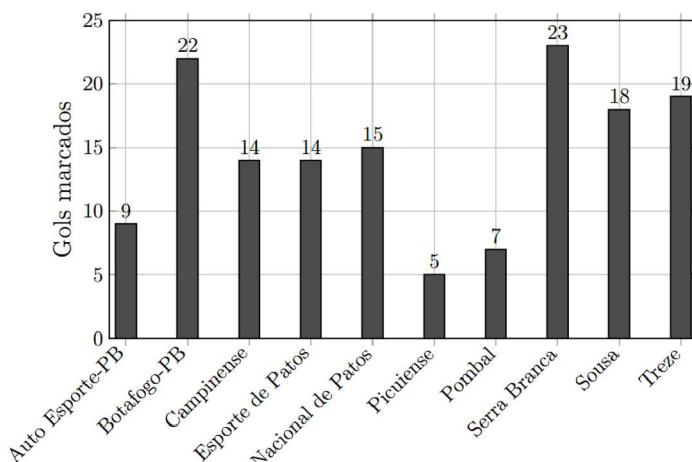
- a) Pouso Alegre (MG). c) São José dos Campos (SP). e) Curitiba (PR).
 b) Petrópolis (RJ). d) Joinville (SC).

25ª QUESTÃO

O Campeonato Paraibano de 2025 terminou com o Sousa campeão sobre o Botafogo-PB. Considerando os gols marcados por cada clube ao longo de toda a competição (fase classificatória e mata-mata), considere a Figura 2 (GLOBO ESPORTE/PB, 2025; WIKIPÉDIA, 2025):

Fontes: GLOBO ESPORTE — Campeonato Paraibano 2025: confira as estatísticas do estadual. João Pessoa: GE/PB, 16 jan. 2025. Disponível em: <https://ge.globo.com/pb/futebol/campeonato-paraibano/noticia/2025/01/16/campeonato-paraibano-2025-confira-as-estatisticas-do-estadual.ghtml>. Acesso em: 2 nov. 2025. WIKIPÉDIA. Campeonato Paraibano de Futebol de 2025. Disponível em: https://pt.wikipedia.org/wiki/Campeonato_Paraibano_de_Futebol_de_2025. Acesso em: 2 nov. 2025.

Figura 2 - Gols marcados por cada time ao longo da competição.



Fonte: Adaptado (GE/PB, 2025)

Com base nesses dados, é CORRETO afirmar que a média aritmética da moda, mediana e média aritmética dos gols marcados pelas equipes vale aproximadamente:

- a) 12,8. c) 13,9. e) 14,5.
 b) 15,1. d) 14,7.

CONHECIMENTOS ESPECÍFICOS

26ª QUESTÃO

Conforme a terminologia arquivística, o conjunto documental geralmente armazenado em ambiente inadequado, ao longo dos anos, e que não tenha passado por um tratamento de acordo com os procedimentos e as operações técnicas da gestão de documento é denominado:

- a) massa documental arquivada.
- b) massa documental acumulada.
- c) fundo fechado.
- d) arquivo morto.
- e) documentos passíveis de eliminação.

27ª QUESTÃO

Para o tratamento arquivístico de documentação custodiada em espaço inadequado, faz-se necessário o manuseio desses documentos e de seus acondicionamentos. Contudo, por se tratar de uma documentação sem uso, eventualmente podem vir a ser encontrados, no ambiente e nos documentos, animais mortos, animais vivos, fungos, poeira e objetos enferrujados, por exemplo. Tendo em vista a salvaguarda da equipe que realizará esse tratamento técnico, é fundamental que, nesse trabalho, haja:

- a) a aplicação de uma Tabela de Temporalidade e Destinação de Documentos, descartando os documentos desprovidos de valor secundário.
- b) a utilização integral de equipamentos de proteção individual (EPIs) por todos os membros da equipe.
- c) a detetização prévia do espaço.
- d) a contratação de estagiários para a realização de atividades de identificação e a retirada dos documentos da sala.
- e) a elaboração de um parecer técnico de desocupação da sala de guarda dos documentos.

28ª QUESTÃO

O recebimento, a classificação, o registro, a distribuição, o controle da tramitação, a expedição e a autuação de documentos avulsos para a formação de processos são considerados atividades e rotinas de:

- a) gestão de documentos.
- b) arquivamento.
- c) protocolo.
- d) diplomática.
- e) alienação.

29ª QUESTÃO

Os arquivos intermediários são conjuntos documentais que, por razões de interesse administrativo:

- a) não sendo de uso corrente nos órgãos produtores, aguardam a sua alienação ou transferência para guarda permanente.
- b) não sendo de uso corrente nos órgãos produtores, aguardam a sua eliminação ou transferência para guarda permanente.
- c) não sendo de uso permanente nos órgãos produtores, aguardam a sua eliminação ou recolhimento.
- d) não sendo de uso corrente nos órgãos produtores, aguardam a sua eliminação ou recolhimento para guarda permanente.
- e) não sendo de uso permanente nos órgãos produtores, aguardam a sua eliminação ou recolhimento para guarda corrente.

30ª QUESTÃO

A sequência de operações intelectuais e físicas que visam à organização dos documentos de um arquivo, de acordo com um plano ou quadro previamente estabelecido, é a:

- a) classificação arquivística.
- b) identificação arquivística.
- c) avaliação arquivística.
- d) descrição arquivística.
- e) seleção arquivística.

31ª QUESTÃO

A Lei nº 13.709, de 14 de agosto de 2018, a Lei Geral de Proteção de Dados (LGPD), é um importante marco no tratamento de dados pessoais. De acordo com a Lei, quem é o titular dos dados pessoais?

- a) Entidade da administração pública responsável por zelar, implementar e fiscalizar o cumprimento desta Lei em todo o território nacional.
- b) Pessoa física a quem se referem os dados pessoais que são objeto de tratamento.
- c) Pessoa natural ou jurídica, de direito público ou privado, que realiza o tratamento de dados pessoais em nome do controlador.
- d) Pessoa natural ou jurídica, de direito público ou privado, a quem competem as decisões referentes ao tratamento de dados pessoais.
- e) Pessoa natural a quem se referem os dados pessoais que são objeto de tratamento.

32ª QUESTÃO

No que diz respeito à Lei de Acesso à Informação (Lei nº 12.527/2011) e ao seu decreto regulamentador (Decreto nº 7.724/2012), é CORRETO afirmar que:

- a) os Municípios devem realizar a divulgação de informações de interesse público apenas mediante solicitações da sociedade civil.
- b) os pedidos de acesso à informação que sejam considerados desproporcionais e desarrazoados não poderão ser negados.
- c) os Municípios devem, em legislação própria, obedecidas as normas gerais estabelecidas na Lei de Acesso à Informação, definir regras específicas, especialmente quanto aos meios de acesso à informação e à interposição de recursos.
- d) o tratamento das informações pessoais deve ser feito de forma transparente e com respeito à intimidade, vida privada, honra e imagem das pessoas, bem como às liberdades e garantias individuais. Terão seu acesso restrito pelo prazo máximo de 30 (trinta) anos.
- e) aplica-se a observância da publicidade como preceito parcial e do sigilo como exceção.

33ª QUESTÃO

Conforme o artigo 7º da Lei nº 8.159/1991, Política Nacional de Arquivos Públicos e Privados, “os arquivos públicos são os conjuntos de documentos produzidos e recebidos, no exercício de suas atividades, por órgãos públicos de âmbito federal, estadual, do Distrito Federal e municipal em decorrência de suas funções administrativas, legislativas e judiciárias” (Brasil, 1991, art. 7).

No que diz respeito aos Arquivos Municipais, estes são, de acordo com a referida Lei:

- a) o arquivo do Poder Executivo e o arquivo do Poder Judiciário, apenas.
- b) o arquivo do Poder Executivo, o arquivo do Poder Legislativo e o arquivo do Poder Judiciário.
- c) o arquivo do Poder Executivo, apenas.
- d) o arquivo do Poder Executivo e o arquivo do Poder Legislativo, apenas.
- e) o arquivo do Poder Judiciário e o arquivo do Poder Legislativo, apenas.

34ª QUESTÃO

A Resolução nº 27, do Conselho Nacional de Arquivos (CONARQ), resolve que os programas de gestão de documentos arquivísticos, no âmbito dos Municípios, deverão contemplar, obrigatoriamente:

- a) determinação para que a aquisição ou o desenvolvimento de sistemas informatizados de gestão arquivística de documentos atenda aos dispositivos contidos no e-Arq Brasil - Modelo de Requisitos para Sistemas Informatizados de Gestão Arquivística de Documentos aprovado pelo CONARQ.
- b) diretrizes para normalização de instrumentos de pesquisa ou de recuperação de informações com base na Norma Geral Internacional Descrição Arquivística – ISAD(G), aprovada pelo CONARQ, para garantir o acesso à documentação de valor permanente.
- c) estratégias para a adoção de tabela de temporalidade e destinação de documentos para as atividades-meio elaboradas pelo CONARQ e mecanismos para a elaboração e aplicação de tabelas de temporalidade e destinação de documentos relativos às atividades finalísticas dos órgãos e entidades do seu âmbito de atuação.
- d) mecanismos para a adoção de plano de classificação de documentos para as atividades-meio elaborado pelo CONARQ e determinação para a elaboração e aplicação de plano de classificação relativo às atividades finalísticas dos órgãos e entidades de seu âmbito de atuação.
- e) programa de preservação documental, contemplando exclusivamente a etapa de armazenamento do documento arquivístico em todos os suportes.

35ª QUESTÃO

Os Arquivos Públicos Municipais são importantes espaços de guarda de testemunhos da história e da memória local. Nesse contexto, as diferentes atividades promovidas pelos setores de difusão cultural e de ação educativa visam:

- a) à disponibilização digital dos documentos em *website* institucional, conforme determinado pela Resolução nº 27 do CONARQ (Conselho Nacional de Arquivos).
- b) a maior eficiência na gestão dos documentos e no acesso aos arquivos e às informações pelos historiadores.
- c) à preservação do patrimônio documental considerado de valor primário.
- d) ao fortalecimento social dos Arquivos e à promoção de uma formação cidadã de seus usuários.
- e) à normalização dos procedimentos de avaliação, descrição, transferência, recolhimento, guarda e eliminação de documentos.

36ª QUESTÃO

O instrumento de destinação, aprovado por autoridade competente, que determina prazos e condições de guarda tendo em vista a transferência, recolhimento, descarte ou eliminação de documentos é:

- a) a listagem de eliminação.
- b) a tabela de temporalidade e destinação de documentos.
- c) o plano de classificação.
- d) a listagem de destinação.
- e) a política de avaliação arquivística.

37ª QUESTÃO

No que diz respeito à gestão arquivística de documentos digitais, é CORRETO afirmar que:

- a) o SIGAD (Sistema Informatizado de Gestão Arquivística de Documentos) deve realizar a gestão a partir de uma tabela de temporalidade e destinação de documentos para manter a relação orgânica entre os documentos.
- b) as atividades e procedimentos de gestão de documentos digitais diferem dos realizados com os não digitais, devendo haver um programa de gestão específico para os documentos digitais.
- c) a gestão de documentos digitais deve assegurar a confiabilidade do documento no momento da sua produção e a autenticidade em todo o ciclo vital.
- d) o SIGAD deve tratar os documentos arquivísticos como uma unidade simples.
- e) os documentos digitais precisam ser salvos de maneira a garantir a forma fixa e o conteúdo estável, e podem ser alterados ou apagados sem controle ou autorização.

38ª QUESTÃO

A preservação digital dos documentos de arquivo é uma temática urgente. De acordo com as *Diretrizes para Implementação de Repositórios Arquivísticos Digitais Confiáveis* (2023), do Conselho Nacional de Arquivos (CONARQ), a preservação digital deve ser aplicada aos documentos:

- a) arquivados nas fases corrente, intermediária e permanente, e deve estar associada a um repositório arquivístico digital confiável, ou seja, deve ocorrer em todo o ciclo vital do documento.
- b) arquivados nas fases corrente, intermediária e permanente, e deve estar associada a um sistema informatizado de gestão documental, ou seja, deve ocorrer em todo o ciclo vital do documento.
- c) arquivados apenas nas fases corrente e intermediária, e deve estar associada a um repositório arquivístico digital confiável, ou seja, deve ocorrer em parte do ciclo vital do documento.
- d) arquivados apenas na fase permanente, e deve estar associada a um repositório arquivístico digital confiável, ou seja, deve ocorrer em parte do ciclo vital do documento.
- e) arquivados na fase permanente, e deve estar associada a um sistema informatizado de gestão documental, ou seja, deve ocorrer em parte do ciclo vital do documento.

39ª QUESTÃO

É objeto da Política de Descrição o estabelecimento de diretrizes para:

- a) a definição do perfil de usuário do arquivo.
- b) a digitalização de documentos.
- c) a elaboração de normas de descrição.
- d) a aprovação de recolhimento.
- e) a correta elaboração de instrumentos de pesquisa.

40ª QUESTÃO

A espécie documental pode ser compreendida como a configuração que assume um documento de acordo com a disposição e natureza das informações nele contidas, possuindo uma forma fixa.

Com base nessa concepção, são consideradas espécies documentais:

- a) Bula Papal, Certificado de Especialização, Decreto-Lei, Diploma de Doutorado, Prova.
- b) Certidão de Nascimento, Ata de Reunião, Decreto de Nomeação, Portaria de Designação, Requerimento de Matrícula.
- c) Processo de Aposentadoria, Dossiê, Portaria, Ata, Decreto.
- d) Certidão, Ata, Processo, Alvará, Prontuário Médico.
- e) Certidão, Ata, Decreto, Abaixo-Assinado, Despacho.