



ASSEMBLEIA LEGISLATIVA DO ESTADO DE RONDÔNIA – ALE-RO

EDITAL Nº 01, DE 20 DE OUTUBRO DE 2025

NÍVEL SUPERIOR – TARDE

ANALISTA LEGISLATIVO COMUNICAÇÃO SOCIAL - PUBLICIDADE E PROPAGANDA

**PROVA OBJETIVA
TIPO 1 (BRANCA)**



SUA PROVA

Além deste caderno de questões contendo **80 (oitenta)** questões objetivas, você receberá do fiscal de sala uma folha para a marcação das respostas.

As questões objetivas têm **5 (cinco)** opções de resposta (A, B, C, D e E) e somente uma delas está correta.



TEMPO

- **4 (quatro) horas e 30 (trinta) minutos** é o período disponível para a realização da prova, **já incluído o tempo para a marcação da folha de respostas.**
- **3 (três) horas** após o início da prova, é possível retirar-se da sala, sem levar o caderno de questões nem qualquer tipo de anotação de suas respostas.
- **30 (trinta) minutos** antes do término do período de prova, é possível retirar-se da sala, **levando o caderno de questões.**



NÃO SERÁ PERMITIDO

- Qualquer tipo de comunicação entre os candidatos durante a aplicação da prova.
- Usar o sanitário ao término da prova, após deixar a sala.
- Anotar informações relativas às respostas em qualquer outro meio que não seja este caderno de questões.



INFORMAÇÕES GERAIS

- Verifique se este caderno de questões está completo e sem falhas de impressão. Caso contrário, **notifique imediatamente o fiscal da sala**, para que sejam tomadas as devidas providências.
- Na folha de respostas, confira seus dados pessoais, especialmente nome, número de inscrição e documento de identidade, e leia atentamente as instruções para preencher a folha de respostas.
- **Use somente caneta esferográfica, fabricada em material transparente, com tinta preta ou azul.**
- Assine seu nome apenas no espaço reservado na folha de respostas.
- Confira a cor e o tipo do seu caderno de questões. Caso tenha recebido caderno de questões com cor ou tipo diferente do impresso em sua folha de respostas, o fiscal deve ser **obrigatoriamente** informado para o devido registro na ata da sala.
- O preenchimento das respostas é de sua responsabilidade e não será permitida a substituição da folha de respostas em caso de erro.
- Para fins de avaliação, serão levadas em consideração apenas as marcações realizadas na folha de respostas.
- Os candidatos serão submetidos ao sistema de detecção de metais quando do ingresso e da saída de sanitários durante a realização das provas.

Boa prova!

MÓDULO I

Língua Portuguesa

ATENÇÃO: o texto a seguir, que é a última página do livro *Os Sertões*, de Euclides da Cunha, refere-se às próximas 10 questões.

Canudos não se rendeu

Fechemos este livro.

Canudos não se rendeu. Exemplo único em toda a história, resistiu até ao esgotamento completo. Expugnado palmo a palmo, na precisão integral do termo, caiu no dia 5, ao entardecer, quando caíram os seus últimos defensores, que todos morreram. Eram quatro apenas: um velho, dois homens feitos e uma criança, na frente dos quais rugiam raivosamente 5 mil soldados.

Forremo-nos à tarefa de descrever os seus últimos momentos. Nem poderíamos fazê-lo. Esta página, imaginamo-la sempre profundamente emocionante e trágica; mas cerramo-la vacilante e sem brilhos.

Vimos como quem vinga uma montanha altíssima. No alto, a par de uma perspectiva maior, a vertigem...

Ademais, não desafiaria a incredulidade do futuro a narrativa de pormenores em que se amostrassem mulheres precipitando-se nas fogueiras dos próprios lares, abraçadas aos filhos pequeninos...

[...] Caiu o arraial a 5. No dia 6 acabaram de o destruir desmanchando-lhe as casas, 5.200, cuidadosamente contadas.

1

A primeira frase do texto – “Fechemos este livro” – aparece escrita na primeira pessoa do plural porque

- (A) se refere ao autor e aos seus possíveis leitores.
- (B) está ligada à pessoa do autor e ao grupo de pessoas que o auxiliavam.
- (C) se trata de um plural enfático, já que se trata de uma ação praticada pelo autor do livro.
- (D) se liga às pessoas do autor e do editor do texto.
- (E) se prende a todos os futuros leitores da obra.

2

“Eram quatro apenas: um velho, dois homens feitos e uma criança, na frente dos quais rugiam raivosamente 5 mil soldados.”

Com esse segmento, o autor pretende

- (A) indicar o despreparo dos habitantes de Canudos diante de um poderoso inimigo.
- (B) demonstrar o heroísmo dos defensores do povoado de Canudos diante da tropa do Exército brasileiro.
- (C) mostrar o fanatismo dos moradores de Canudos, já que não havia a menor chance de resistência.
- (D) destacar a crueldade das tropas, já que os adversários não tinham a menor chance de enfrentá-los.
- (E) comprovar a veracidade de sua narrativa, dando pormenores da situação narrada.

3

“Forremo-nos à tarefa de descrever os seus últimos momentos. Nem poderíamos fazê-lo. Esta página, imaginamo-la sempre profundamente emocionante e trágica; mas cerramo-la vacilante e sem brilhos.”

Assinale a afirmativa **incorreta** sobre esse segmento do texto.

- (A) O autor se nega a relatar os últimos acontecimentos pela impossibilidade de fazê-lo.
- (B) O verbo “descrever” está empregado em lugar de “narrar”, já que se trata de uma sequência de acontecimentos.
- (C) O narrador mostra sua decepção diante dos acontecimentos que ele imaginara grandiosos.
- (D) O escritor mostra a impossibilidade de descrever os fatos por sua exagerada crueldade.
- (E) O texto indica a limitação do autor do texto diante de alguns.

4

“Ademais, não desafiaria a incredulidade do futuro a narrativa de pormenores em que se amostrassem mulheres precipitando-se nas fogueiras dos próprios lares, abraçadas aos filhos pequeninos...”

A incredulidade dos leitores futuros se deve

- (A) à presença de ações humanamente inimagináveis.
- (B) à falta de documentos que comprovem os fatos narrados.
- (C) à ausência de outros depoimentos que confirmem o que é relatado.
- (D) ao fato de as ações narradas não terem sido presenciadas pelo autor, mas somente contadas a ele.
- (E) ao exagero das histórias contadas sobre esse episódio da história nacional.

5

“Eram quatro apenas: um velho, dois homens feitos e uma criança, na frente dos quais rugiam raivosamente 5 mil soldados.”

Nesse segmento o termo “dos quais” retoma um termo anterior – “um velho, dois homens feitos e uma criança”.

Nas opções a seguir, de citações diversas, há termos destacados que são referidos na continuidade da frase. Assinale aquela em que essa segunda referência é feita por um termo cognato.

- (A) “Muitos julgam cumprir o seu dever pronunciando aforismos abstratos para uso alheio em vez de pregar por meio de exemplo.” (Ibsen)
- (B) “Qualquer coisa que faça, faze-o com prudência e considera o fim.” (Gesta Romanorum)
- (C) “Nunca fazemos bem alguma coisa enquanto não paramos de pensar na maneira de fazê-la.” (W. Hazlitt)
- (D) “Viver é raciocinar. E o raciocínio é o supremo bem da vida. Quem raciocina não sofre.” (Joracy Camargo)
- (E) “Água, água por toda a parte, e nenhuma gota para beber.” (Coleridge)

6

O texto traz uma série de vocábulos cultos, próprios da época do livro.

Assinale a frase em que a substituição de um termo abrangente por um mais simples foi feita de forma **inadequada**.

- (A) “O absurdo é o mistério dos incrédulos/descrentes.” (Mário da Silva Brito)
- (B) “A finalidade/O término da humanidade é produzir grandes homens.” (Renan)
- (C) “O irreligioso/O ateu é como o enjeitado que não conhece o seu pai, é como o animal bruto, comensal do banquete da natureza, que não cuida nem pergunta pelo seu benfeitor.” (Marquês de Maricá)
- (D) “A vida é cheia de obrigatoriedades/obrigações que a gente cumpre por mais vontade que tenha de as infringir deslavadamente.” (Machado de Assis)
- (E) “Os mortos param no cemitério, e lá vai ter a afeição dos vivos, com as suas flores e recordações/lembranças.” (Memorial de Aires, Machado de Assis)

7

“Ademais, não desafiaria a incredulidade do futuro a narrativa de pormenores em que se amostrassem mulheres precipitando-se nas fogueiras...”.

Nessa frase, o vocábulo “amostrassem” equivale a “mostrassem”.

Assinale a frase em que houve troca **indevida** entre parônimos, com relação às palavras sublinhadas.

- (A) “Pode-se precisar espiar não somente más ações, mas erros da própria natureza.” (Marquês de Custine) / espiar / expiar.
- (B) “É de altos espíritos aspirar a coisas altas.” (Cervantes) / aspirar / expirar.
- (C) “A descrença é fenômeno alheio à vontade do eleitor; a abstenção é propósito.” (A Semana, Machado de Assis) / abstenção / abstração.
- (D) “A ternura não embarga a discrição nem esta diminui aquela.” (Memorial de Aires, Machado de Assis) / descrição / discrição.
- (E) “Era esperto e arguto: entendia as coisas sem largo dispêndio de palavras.” (Papéis Avulsos, Machado de Assis) / esperto / experto.

8

“Caiu o arraial a 5. No dia 6 acabaram de o destruir desmanchando-lhe as casas, 5.200, cuidadosamente contadas.”

Nesse último parágrafo do texto, o termo “arraial” foi substituído, na continuidade do texto, pelo pronome pessoal “o”.

Assinale a frase abaixo em que o termo sublinhado **não** é repetido na sequência da frase por um pronome pessoal.

- (A) “A natureza nunca traiu o coração que a amou.” (William Wordsworth)
- (B) “Ponha o pé com cuidado sobre a crosta terrestre – ela é fina.” (Edna St. Vicente Milley)
- (C) “A vida que a gente vive não deixa a gente viver.” (Álvaro Pacheco)
- (D) “Qual pode ser a vida que começa pelos gritos da mãe, que a dá, e o choro do filho que a recebe?” (Baltasar Gracián)
- (E) “Não penso na idade, ela cuida de si.” (Tatiana Belinky)

9

“Esta página, imaginamo-la sempre profundamente emocionante e trágica; mas cerramo-la vacilante e sem brilhos.” Nessa frase, o autor evitou usar expressões negativas ou agressivas, substituindo-as por “vacilante e sem brilhos”.

As frases abaixo mostram processos de atenuar expressões consideradas agressivas, prejudiciais ou desagradáveis.

Assinale a opção em que esse processo foi realizado de forma adequada.

- (A) O jogador, quando criança, morava num bairro miserável. / numa área socioeconômica baixa.
- (B) O horário dos coletores de lixo no bairro estava marcado às 9 horas / lixeiros.
- (C) A empresa reconhece problemas na nova distribuição de empregos / de desemprego.
- (D) A indústria reconhece estar falida / com fluxo de caixa altamente positivo.
- (E) O foguete lançado chocou-se prematuramente contra o solo / despençou.

10

Um texto, às vezes, perde leitores por ser mal construído, o que não ocorre com o texto.

Assinale a frase a seguir, **mal-estruturada**, que mostra seu problema de escrita perfeitamente identificado.

- (A) Sabemos todos que você comprou um carro novo e, por isso, pode estacionar teu carro no meu prédio. / Mistura de pessoas pronominais.
- (B) Você e sua esposa estão convidados para a festa na minha casa de praia. / Ambiguidade.
- (C) Embora a chuva tenha durado pouco tempo, foi o suficiente para encher algumas ruas. / Uso inadequado de conectivos.
- (D) Todos os moradores da cidade requereram mais policiamento nas ruas. / Mau emprego de formas verbais.
- (E) Como havia tempestade, o avião teve que aterrissar em outro aeroporto do estado. / A segunda frase não é uma sequência lógica da primeira.

11

Entre as frases abaixo, assinale aquela que mostra uma construção correta e adequada no uso do pronome relativo.

- (A) O operário o qual ficou ferido no desabamento está fora de perigo, segundo os médicos.
- (B) Os romancistas de quem falaram muito bem no Congresso, enviaram agradecimentos.
- (C) O cantor afirmou que o momento que conheceu sua atual esposa, foi mágico.
- (D) Há canções que sua fama continua viva.
- (E) Roberto Bach, muitos quadros do qual são expostos em museus mineiros, viajou definitivamente para a Europa.

12

As opções a seguir mostram frases de Graça Aranha, com o emprego do verbo abaixar.

A frase em que deveria ser empregado o verbo baixar, por ser mais adequado, é:

- (A) “O agrimensor calou-se ainda mais solene e entregou-se todo ao instrumento; mirava na objetiva, abaixava-se, erguia-se para espiar por cima...”
- (B) “Todos os moradores do povoado ficaram contentes porque todos os preços tinham abaixado.”
- (C) “Com a presença dos estranhos, o jovem abaixou a cabeça enleado, disfarçando a remexer nos gravetos esparsos no chão.”
- (D) “Ela não respondeu e ligeiramente abaixou os olhos; quando logo depois os ergueu, mudou de assunto.”
- (E) “Por contágio e por instintivo sinal de respeito dos humildes colonos, as saudações propagavam-se e daí só se viam as cabeças abaixando-se na direção dos magistrados, que correspondiam desdenhosos.”

13

Leia a frase a seguir.

“Pelas estatísticas, o lugar mais perigoso do mundo é a cama, pois é o lugar onde mais se morre”. (Daina Ruttul)

Assinale a opção que apresenta uma observação correta sobre ela.

- (A) Em lugar de “onde”, a norma culta recomenda o emprego de “aonde”.
- (B) No segmento “Pelas estatísticas”, a preposição “por” mostra valor semântico de “condição”.
- (C) As duas ocorrências da palavra “mais” são classificadas, respectivamente, como advérbio e pronome.
- (D) A conjunção “pois” é classificada, na frase, como conjunção coordenada conclusiva.
- (E) A afirmação expressa na frase é falsa por mostrar uma má relação de causa / consequência.

14

As frases a seguir mostram um substantivo e um adjetivo sublinhados, sendo que o adjetivo não pertence à mesma família etimológica do substantivo e é considerado culto.

Assinale a opção em que o adjetivo não corresponde semanticamente ao substantivo.

- (A) Os produtos embalados em latas são mais caros; os laticínios formam hoje uma grande parte dos supermercados.
- (B) Sou desastrado em relação aos assuntos de dinheiro; em minha casa, as questões pecuniárias são tratadas por minha mulher.
- (C) O cuidado com as armas é uma preocupação militar; as atividades bélicas exigem bom estado delas.
- (D) A cor de chumbo fica bem em algumas roupas, mas pouca gente gosta de sapatos plúmbeos.
- (E) Como sou alérgico a leite, não posso ingerir nenhum produto lácteo.

Raciocínio Lógico-matemático

15

Aumentos sucessivos de 30%, 40% e 50% são equivalentes a um único aumento de

- (A) 120%.
- (B) 132%.
- (C) 140%.
- (D) 164%.
- (E) 173%.

16

Sete bolas iguais, numeradas de 1 a 7, serão colocadas nas caixas A e B. A caixa A deverá conter 4 bolas e a caixa B, 3 bolas, de acordo com as seguintes regras:

- As bolas 1 e 2 devem ficar em caixas diferentes.
- As bolas 3 e 4 devem ficar na mesma caixa.

O número de maneiras diferentes em que essa distribuição pode ser feita é

- (A) 4.
- (B) 5.
- (C) 6.
- (D) 8.
- (E) 12.

17

Há 24 números inteiros com 4 algarismos diferentes, que podem ser formados com os algarismos 3, 4, 6, e 8.

Escrevendo esses 24 números em ordem crescente, o 15º número é o

- (A) 8346.
- (B) 8436.
- (C) 6483.
- (D) 6438.
- (E) 6348.

18

Em uma urna há apenas bolas amarelas, bolas azuis e bolas verdes. Sabe-se que são 12 bolas amarelas, 8 bolas azuis e que a probabilidade de se sortear aleatoriamente uma bola verde é $\frac{2}{7}$.

O número de bolas verdes, na urna, é

- (A) 5.
- (B) 6.
- (C) 7.
- (D) 8.
- (E) 9.

19

Um grupo de estudantes está sentado ao redor de uma grande mesa circular. Uma cesta contendo 125 balas é entregue à Bruna, uma das estudantes, que pega uma bala e passa a cesta para o próximo estudante no sentido horário.

Cada estudante que recebe a cesta pega uma bala e passa para o próximo estudante no sentido horário, até as balas acabarem. Sabe-se que Bruna foi a estudante que pegou a primeira (como já dito) e também a última bala.

O número de estudantes sentados ao redor da mesa pode ser igual a

- (A) 17.
- (B) 21.
- (C) 24.
- (D) 31.
- (E) 42.

Noções de Informática

20

Durante uma sessão ordinária, na Assembleia Legislativa de Rondônia (ALE-RO), um Analista Legislativo precisa conectar seu *notebook* a um projetor multimídia na Tribuna para apresentar uma emenda e, ao mesmo tempo, conectar um disco externo contendo um *backup* de segurança dos documentos da propositura. O *notebook* possui apenas uma porta USB-A, uma porta HDMI e uma porta de rede (RJ-45). O projetor requer conexão HDMI, e o disco externo usa cabo USB-A.

Nesse caso, o dispositivo de *hardware*, que permitiria ao analista realizar ambas as conexões simultaneamente com o *notebook* descrito, utilizando suas portas disponíveis, é um

- (A) cabo conversor de HDMI para VGA.
- (B) *hub* USB ativo com alimentação própria.
- (C) *switch* KVM (teclado, vídeo e *mouse*).
- (D) *dongle* (adaptador multiportas - USB-C para HDMI + USB-A).
- (E) repetidor de sinal *wi-fi*.

21

Durante uma reunião de apresentação de dados, um Analista Legislativo da ALE-RO precisa alternar rapidamente entre uma planilha do Excel maximizada, um relatório no MS Word 365 (BR) e o navegador de internet, sem usar o *mouse*. Ele também precisa, em determinado momento, minimizar todas as janelas de uma vez para acessar um atalho na Área de Trabalho.

Nesse caso, os atalhos de teclado do Windows 10 (BR) que atendem às necessidades de alternar janelas entre programas abertos e minimizar todas as janelas, são, respectivamente,

- (A) Alt + F4 e Windows + D.
- (B) Alt + Tab e Windows + M.
- (C) Ctrl + Tab e Ctrl + D.
- (D) Windows + Tab e Alt + M.
- (E) Alt + Esc e Windows + L.

22

Um Analista Legislativo da ALE-RO precisa enviar uma correspondência oficial para 50 destinatários diferentes. Ele possui um documento base no MS Word 365 (BR) (carta-padrão) e uma lista no Excel com os nomes, cargos e endereços dos destinatários. Ele quer automatizar a criação de 50 cartas personalizadas, uma para cada pessoa da lista, sem ter que copiar e colar manualmente cada informação.

Nesse caso, o recurso do MS Word 365 (BR) que deve ser utilizado para realizar essa tarefa de forma automatizada, mesclando dados do Excel com um documento base, é

- (A) “Controlar Alterações”, na guia Revisão.
- (B) “Comparar”, na guia Revisão.
- (C) “Iniciar Mala Direta”, na guia Correspondência.
- (D) “Modelo de Documento”, na guia Arquivo > Salvar Como
- (E) “Inserir Objeto”, na guia Inserir > Objeto.

23

Durante uma reunião no Google Meet, para discutir um projeto de lei, um Analista Legislativo da ALE-RO precisa apresentar uma proposta escrita no Google Documentos. Ele deseja que os participantes não apenas vejam a tela, mas também possam, com sua permissão, fazer anotações ou editar diretamente o documento durante a discussão, sem sair da chamada do Google Meet.

Para atender a essa necessidade de apresentação com interatividade total, durante a reunião, o Analista Legislativo deve

- (A) compartilhar toda a sua tela (a janela do navegador).
- (B) enviar o *link* do documento no *chat* do Meet e pedir que os participantes o abram em outra aba.
- (C) usar a funcionalidade “Apresentar uma aba” específica do navegador onde o Documento está aberto.
- (D) utilizar o botão “Apresentar agora” no Meet e selecionar “Um documento”.
- (E) gravar a reunião e enviar o *link* do documento posteriormente por *e-mail*.

24

O setor de TI da ALE-RO está implementando uma nova política de segurança. Além de exigir senhas fortes, ele quer adicionar uma camada extra de proteção ao acesso dos sistemas, especialmente para os servidores que contêm dados fiscais sensíveis. O objetivo é que, mesmo que uma senha seja comprometida, um invasor não consiga acessar a conta sem outra forma de validação.

Considerando o objetivo de adicionar uma camada extra de proteção que vá além da senha, a medida de segurança mais adequada a ser implementada é

- (A) exigir que todas as senhas sejam alteradas a cada 15 dias.
- (B) instalar um antivírus de última geração em todas as estações de trabalho.
- (C) implementar a Autenticação de Dois Fatores (2FA).
- (D) exigir que as senhas tenham no mínimo 25 caracteres.
- (E) configurar o Firewall para bloquear todo o acesso à internet.

Legislação Específica

25

Foi solicitada, a uma Secretaria do Poder Executivo do Estado de Rondônia, a cedência de João, servidor ocupante de cargo de provimento efetivo no âmbito da referida estrutura orgânica.

Ao ser consultado em relação ao requerimento apresentado, João analisou o Regime Jurídico dos Servidores Públicos Civis do Estado de Rondônia, tendo concluído corretamente que

- (A) não poderá progredir na carreira durante o período de cedência.
- (B) somente pode vir a ser cedido a outro poder, entidade ou órgão de âmbito estadual.
- (C) deve ser considerado o tempo de cedência como tempo cumprido no próprio órgão cedente.
- (D) cabe ao órgão cedente, conforme informações do órgão para o qual João seja cedido, a realização das avaliações necessárias à progressão funcional.
- (E) deve ser observado o teto remuneratório em vigor no órgão ao qual João seja cedido, sendo exigida a aquiescência desse último, com a cessão, caso haja decréscimo remuneratório.

26

Maria, servidora ocupante de cargo de provimento efetivo na Assembleia Legislativa do Estado de Rondônia, decidiu requerer a percepção do adicional de responsabilidade técnica (ADRT), por ter preenchido os requisitos exigidos pela Lei Complementar nº 731/2013.

À luz dos balizamentos estabelecidos pela sistemática legal, é correto afirmar que Maria

- (A) deve exercer a atividade técnica de Engenharia.
- (B) pode ser ocupante de cargo de provimento efetivo ou em comissão.
- (C) pode ser ocupante do cargo de analista legislativo, especialidade de Arquitetura.
- (D) deve ter atuado, por no mínimo dez anos contínuos, como responsável técnica de projetos estruturais.
- (E) fará jus ao ADTR no percentual de 25% do vencimento básico da Referência 1, Classe 1, do grupo ocupacional "atividades de suporte".

27

Em um processo administrativo que tramitou no âmbito da Assembleia Legislativa do Estado de Rondônia, o legítimo interessado obteve êxito em sua pretensão, no plano recursal, após percorrer o número máximo de instâncias previsto na Lei nº 3.830/2016, manejando os instrumentos legais cabíveis.

Na situação descrita, considerando a sistemática legal vigente, é correto afirmar que

- (A) o recurso administrativo teve efeito suspensivo, salvo disposição legal ou regulamentar em contrário.
- (B) o recurso administrativo tramitou por, no máximo, de três instâncias administrativas, salvo disposição legal diversa.
- (C) a desistência de recurso, condicionada à anuência da Administração, embora cabível, não foi manejada pelo legítimo interessado.
- (D) o referido interessado observou o prazo máximo de 10 dias na interposição de recurso administrativo, contados da ciência ou divulgação oficial da decisão recorrida.
- (E) a decisão de recurso administrativo deve ter sido proferida no prazo máximo e improrrogável de 30 dias, contados do recebimento dos autos pela autoridade competente.

28

Determinada estrutura orgânica da Assembleia Legislativa do Estado de Rondônia, ao identificar a necessidade de serem adquiridos materiais de escritório, constatou a existência de ata de registro de preços, no âmbito de certa estrutura federal, que apresentava condições vantajosas, admitia adesões e abrangia a integralidade dos materiais a serem adquiridos.

Nesse caso, à luz da sistemática estabelecida na Resolução ALE/RO nº 593/2024, é correto afirmar que

- (A) é necessária a elaboração de termo de referência pelo setor requisitante, detalhando os materiais a serem adquiridos, seu valor de mercado e as razões da vantajosidade da adesão.
- (B) é necessária a elaboração de estudo técnico preliminar, contendo informações que bem caracterizem a contratação, como o quantitativo demandado e o local de entrega do bem ou de prestação do serviço.
- (C) deve ser adotada a totalidade dos procedimentos exigidos para a realização de uma licitação, sendo que o desfecho consistirá na autorização, pela autoridade competente, da adesão à ata de registro de preços.
- (D) deve ser requerida a adesão à ata de registro de preços, pelo setor requisitante, acompanhada de documento de oficialização de demanda, documentos utilizados para obtenção do valor estimado, projeto básico e matriz de riscos.
- (E) é dispensada a apresentação de estudo técnico preliminar e de projeto básico, desde que apresentada planilha com os materiais a serem adquiridos, elaborada pelo órgão requisitante, acompanhada de pesquisa de preços e aquiescência, com a adesão, pela estrutura federal.

29

Foi instaurado, no âmbito da Assembleia Legislativa do Estado de Rondônia, expediente cujo objetivo é o de instar a iniciativa privada a propor uma solução inovadora que contribua para a resolução de determinada demanda de relevância pública, o que permitirá a melhor instrução da etapa de planejamento da contratação.

À luz da sistemática estabelecida na Resolução ALE/RO nº 593/2024, é correto afirmar que esse procedimento

- (A) é o credenciamento.
- (B) é o registro cadastral.
- (C) é o procedimento de pré-qualificação.
- (D) deve ser regulado por meio de edital de chamamento público.
- (E) deve ser antecedido de audiência pública, sendo admitido o direcionamento dos convites aos participantes escolhidos.

30

Determinada estrutura administrativa da Administração Pública estadual começou a adotar as medidas necessárias com o objetivo de realizar licitação visando à contratação de obra pública. Nesse momento, foi concluído o documento que contém os levantamentos topográficos e o conjunto de elementos necessários e suficientes para definir e dimensionar a obra, de modo a assegurar a sua viabilidade técnica, o tratamento do impacto ambiental, a avaliação do custo e o prazo de execução, mas não a identificação de serviços, materiais e equipamentos a serem incorporados à obra, com suas especificações técnicas.

O documento referido é o

- (A) anteprojeto.
- (B) projeto básico.
- (C) projeto executivo.
- (D) termo de referência.
- (E) estudo técnico preliminar.

31

Pedro, servidor público ocupante de cargo efetivo na Administração Pública do Estado de Rondônia, foi condenado, no início do corrente mês, em sentença proferida por juízo monocrático, pela prática de ato de improbidade administrativa tipificado no Art. 11 da Lei nº 8.429/1992.

Na situação descrita, é correto afirmar que

- (A) a conduta de Pedro pode ter sido praticada com dolo ou culpa.
- (B) a sanção de perda da função pública pode ter sido aplicada a Pedro.
- (C) a conduta de Pedro foi enquadrada na tipologia exemplificativa prevista no referido preceito legal.
- (D) o enriquecimento ilícito de Pedro deve ter sido superado com a perda dos bens ou valores adquiridos ilicitamente.
- (E) a conduta de Pedro foi praticada para obter proveito ou benefício indevido pra si ou para outra pessoa ou entidade.

32

Foi constatado que determinada estrutura de poder da Administração Pública estadual promoveu o tratamento de informações afetas a certo grupo de pessoas naturais e jurídicas, com total inobservância da sistemática estabelecida na legislação de regência.

Considerando os balizamentos estabelecidos pela Lei nº 12.257/2011, é correto afirmar que esse diploma normativo

- (A) somente dispõe sobre direitos e deveres, não incursionando na temática da responsabilização.
- (B) tipificou uma infração disciplinar para o servidor público que concorreu à prática do ilícito.
- (C) versa sobre a responsabilização pelos danos causados às pessoas naturais na situação descrita, não incursionando na temática das pessoas jurídicas.
- (D) consagra a possibilidade de responsabilização civil direta do servidor público que concorreu para a prática do ilícito, de modo solidário com a pessoa jurídica.
- (E) admite a responsabilização direta do órgão ou da entidade pública, reconhecendo a apuração da responsabilidade funcional em caso de dolo ou culpa, assegurando o direito de regresso.

História e Geografia de Rondônia

33

A ocupação colonial da Amazônia, nos séculos XVII e XVIII, articulou estratégias militares, administrativas, religiosas e econômicas, para afirmar a soberania portuguesa, explorar recursos e controlar populações indígenas, sendo os rios Amazonas, Madeira, Guaporé e Mamoré decisivos para a incorporação da região ao Império Português.

Sobre as bases da ocupação colonial da Amazônia e seus desdobramentos na região que hoje corresponde ao estado de Rondônia, assinale a afirmativa correta.

- (A) Entre 1580-1640, a ocupação militar portuguesa concentrou-se nas regiões de fronteira entre a América Portuguesa e a Espanhola, tal como delimitado pelo Tratado de Tordesilhas, o que retardou a presença lusa na Amazônia.
- (B) No século XVIII, para assegurar a posse do território, foram criadas novas unidades político-administrativas, como o Estado do Maranhão, com sede em São Luiz, e o Estado do Grão Pará e Maranhão, com sede em Belém.
- (C) Na primeira metade do século XVII, no contexto das ações para garantir a posse e estender o território conquistado pelos portugueses, foram organizadas expedições como a de Francisco de Melo Palheta, subindo o rio Amazonas até Quito, no Peru.
- (D) No período colonial, com o objetivo de assegurar a soberania portuguesa, foram construídos fortins nos locais de concentração da população indígena, como os fortes de São João da Barra e o do Príncipe da Beira.
- (E) No século XVIII, diversas freguesias foram fundadas a partir de missões e aldeias administradas por missionários, as quais, com a política pombalina, foram elevadas à condição de vilas com denominação de cidades portuguesas.

34

A Estrada de Ferro Madeira Mamoré (EFMM) foi o primeiro grandioso processo de desenvolvimento para a Amazônia Ocidental, potencializando um significativo fluxo humano para a região de Porto Velho e Guajará-Mirim. Por isso, é comum encontrar nos escritores regionais rondonienses a afirmativa de que a história de Rondônia se confunde, de tão próxima, com a própria história da EFMM. E eles têm razão ao fazerem isso.

Adaptado de CAVALCANTE, Fábio Robson Casara. Formação Institucional e Desenvolvimento Regional no Estado do Rondônia. In: SILVA, Fábio Carlos e RAVENA, Nirvia. (Orgs.). *Formação Institucional da Amazônia*. Belém: Editora do NAEA, 2015, p 400-401.

Ao analisar a formação histórica da região que corresponde ao atual estado de Rondônia, o autor enfatiza que a Estrada de Ferro Madeira-Mamoré (EFMM)

- (A) teve impacto no escoamento da produção agrícola regional e na concentração populacional, sobretudo de trabalhadores africanos utilizados para construção da ferrovia.
- (B) representou um empreendimento de alcance limitado, em função de sua precoce desativação, sem impacto duradouro sobre a história regional.
- (C) foi um projeto de política migratória para povoar as regiões amazônicas fronteiriças, na Primeira República do território nacional, não estando associado a fluxos migratórios nem à formação de centros urbanos.
- (D) contribuiu para o desenvolvimento inicial da Amazônia Ocidental ao intensificar o fluxo populacional para Porto Velho e Guajará-Mirim, desencadeando novos processos institucionais e estruturantes para a região.
- (E) exerceu um papel importante na formação histórica de Rondônia, uma vez que alavancou a economia da borracha na primeira metade do século XX, motivo pelo qual é estimada pela historiografia de caráter regionalista.

35

Sem dúvida alguma, o número de negros escravos entrados na Amazônia colonial foi bem menor que aquele introduzido no Nordeste, contudo, a questão que se coloca não é a de inverter as cifras do tráfico negreiro ou a de se comprovar que a Amazônia, enquanto região cultural é tão ou mais africana do que o Nordeste Agrário do Litoral. Trata-se, isso sim, de se duvidar do “vazio humano” (no caso, a presença africana) com o qual sempre se caracterizou a região.

Adaptado de VERGOLINO-HENRY, Anaíza; FIGUEIREDO, Napoleão. *A presença africana na Amazônia colonial: uma notícia histórica*, Belém: Arquivo Público do Pará, 1990. p. 31.

A respeito da formação social da Amazônia colonial e da presença africana na região, é correto informar que a interpretação do autor, no trecho apresentado,

- (A) questiona a caracterização da sociedade colonial amazônica com base em dados quantitativos, pois esse procedimento oculta ou minimiza os papéis representados pela população de origem africana em solo Amazônico.
- (B) defende que as populações coloniais da região eram predominantemente compostas por nativos, tapuios e mamelucos (caboclos), que formaram, desde cedo, a base colonial de ocupação europeia da Amazônia.
- (C) sustenta que a reduzida presença numérica de africanos escravizados na Amazônia inviabilizou um impacto social, cultural ou econômico relevante dessa população na formação da região colonial.
- (D) argumenta que o debate historiográfico sobre a presença africana na Amazônia deve concentrar-se na comparação estatística com o Nordeste, a fim de redefinir a centralidade demográfica do tráfico negreiro na região.
- (E) valida a noção de “vazio humano” da Amazônia colonial, ao priorizar a análise das populações indígenas e mestiças e entendendo a presença africana como episódica no processo de ocupação portuguesa.

36

Com base no processo de transformação econômica do Território Federal do Guaporé (atual Rondônia), no período posterior ao segundo ciclo da borracha, analise as afirmativas a seguir e assinale (V) para verdadeira e (F) para falsa.

- () Após o segundo ciclo da borracha, impulsionado pela Segunda Guerra Mundial, a economia de Rondônia retornou a um padrão de relativa estagnação, sustentado principalmente por atividades extrativistas tradicionais, como a borracha, a castanha, a poaia, peles de animais e óleos vegetais.
- () A descoberta de diamantes no rio Ji-Paraná, no início dos anos 1950, nas proximidades da antiga Vila de Rondônia, estimulou a chegada de aventureiros oriundos sobretudo da região Centro-Oeste, atraídos pela exploração mineral no Território do Guaporé.
- () A cassiterita, conhecida na região desde os anos 1930, teve exploração limitada em Rondônia, em razão da retração da demanda internacional por estanho, ocorrida a partir da década de 1970, quando a China se consolidou como principal produtora mundial do minério.
- () O fechamento da lavra manual da cassiterita, em 1971, esteve associado principalmente à crescente preocupação do Estado com os impactos ambientais do garimpo, levando à adoção de medidas de proteção ecológica e de ordenamento sustentável da atividade mineradora em Rondônia.

As afirmativas são, respectivamente,

- (A) V – V – F – F.
- (B) V – F – F – V.
- (C) F – V – V – F.
- (D) V – V – V – F.
- (E) F – F – V – V.

37

A rede hidrográfica de Rondônia faz parte, num contexto mais amplo, da grande Bacia do Rio Madeira e é, localmente, formada pelas bacias tributárias dos rios Guaporé, Mamoré, Alto Madeira, Abunã, Jamari, Machado ou Ji-Paraná, e Roosevelt.

Considerando a geografia de Rondônia e a organização da rede hidrográfica integrante da Bacia do rio Madeira, assinale a afirmativa correta.

- (A) O rio Guaporé nasce na Chapada dos Parecis (Mato Grosso) e deságua no rio Mamoré, (Rondônia) e, a partir de seu médio curso, ele representa a fronteira entre o Brasil e a Bolívia.
- (B) O rio Mamoré nasce na Serra dos Pacaás Novos, no município de Governador Jorge Teixeira, e deságua no Madeira a jusante da cidade de Porto Velho.
- (C) O rio Jamari tem sua nascente na vizinha, Bolívia, e se junta ao Beni no oeste rondoniano, para formar o rio Madeira.
- (D) O rio Machado ou Ji-Paraná, assim como o Jamari, tem sua nascente no município de Vilhena, em Rondônia, passa pelo Mato Grosso e vai até o Amazonas onde deságua no rio Aripuanã.
- (E) O rio Roosevelt tem seu curso inteiramente localizado dentro do estado de Rondônia e é considerado um importante afluente do rio Madeira nesse estado.

38

Segundo o IBGE, os povos e comunidades tradicionais são grupos culturalmente diferenciados, que possuem próprias formas próprias de organização social e mantêm relação direta e histórica com territórios e recursos naturais, indispensáveis à sua reprodução cultural, social, religiosa, ancestral e econômica, com base em conhecimentos, práticas e saberes transmitidos pela tradição.

Em Rondônia, dentre esses grupos etnicamente diferenciados, destacam-se:

- (1) os que vivem às margens dos rios Madeira, Guaporé, Mamoré, Ji-Paraná, Jamari e seus afluentes, cujo modo de vida está associado à pesca artesanal, à agricultura de várzea, ao extrativismo vegetal e ao uso dos rios como principal via de transporte e sociabilidade;
- (2) os descendentes de migrantes nordestinos e amazônicos, que se fixaram na região durante os ciclos da borracha, atuam na extração de látex, castanha-do-brasil, óleos vegetais (andiroba, copaíba) e outros produtos florestais não madeireiros, especialmente em reservas extrativistas.

Os grupos descritos nos itens (1) e (2) exemplificam, respectivamente,

- (A) povos indígenas e ribeirinhos.
- (B) ribeirinhos e seringueiros e extrativistas.
- (C) quilombolas e coletores tradicionais.
- (D) seringueiros e castanheiros.
- (E) quilombolas e povos indígenas.

39

O processo de instalação da Assembleia Legislativa de Rondônia (ALE-RO) por meio da promulgação da Constituição de 1983 foi fundamental na transição de antigo Território Federal para a condição de estado-membro da Federação brasileira.

A respeito da conjuntura política relativa à criação da ALE-RO, avalie as afirmativas a seguir.

- I. A Lei Complementar nº 41/1981 foi o instrumento jurídico que elevou o antigo Território Federal à categoria de Estado e foi sancionada pelo então presidente, João Figueiredo. O governo militar buscava garantir maior representatividade no Congresso Nacional. A criação de Rondônia permitiria a eleição de três senadores e oito deputados federais, com a expectativa de que o PDS, partido de sustentação do regime, vencesse o pleito de 1982.
- II. Apesar do esforço do PDS na criação do novo Estado e de sua Assembleia Legislativa, o partido saiu derrotado nas eleições executivas e legislativas estaduais de 1982 em Rondônia, sobretudo em função do movimento pela reconquista da democracia, com forte atuação da oposição organizada ao redor do PMDB e do PDT.
- III. A nova dinâmica da competição eleitoral no recém-criado estado de Rondônia alterou a composição das elites políticas e a própria configuração do sistema partidário, entre as décadas de 1980 e 1990, com a substituição da antiga elite política territorial, com bases na capital Porto Velho, para uma nova classe política dominante, oriunda majoritariamente do interior do estado, especificamente no eixo da BR-364 e associada ao PMDB.

Está correto o que se afirma em

- (A) I, apenas.
- (B) II, apenas.
- (C) I e III, apenas.
- (D) II e III, apenas.
- (E) I, II e III.

40

Sobre o processo de formação histórica e político-administrativa do atual estado de Rondônia ao longo do século XX, assinale a afirmativa **incorreta**.

- (A) A região onde hoje se localiza Rondônia foi marcada por sucessivos processos de colonização e povoamento ao longo do século XX, intensificados por políticas estatais de ocupação e integração territorial.
- (B) O Território Federal do Guaporé foi criado em 1943, durante o Estado Novo, incorporando áreas que anteriormente pertenciam aos estados do Mato Grosso e do Amazonas.
- (C) Em 1956, o Território Federal do Guaporé passou a denominar-se Território Federal de Rondônia, em homenagem ao Marechal Cândido Mariano da Silva Rondon.
- (D) A transformação de Rondônia em estado ocorreu em 1982, no contexto final do regime militar, encerrando um período de quase quatro décadas como território federal.
- (E) O surgimento de Porto Velho como município se deu em função de sua elevação a capital do Território Federal do Guaporé, no segundo Governo Vargas.

MÓDULO II

Conhecimentos Específicos

41

Segundo MCQUAIL (2013), a expressão “comunicação de massa” começou a ser usada no final dos anos 1930, mas características essenciais já eram conhecidas anteriormente e, para o autor, elas não mudaram muito desde então.

Entre essas características, temos que

- (A) os conteúdos da comunicação de massa são, geralmente, produzidos de forma individualizada para consumo C2C.
- (B) relação entre emissor e receptor é multidirecional e marcada pela simetria no poder de produzir mensagens.
- (C) os públicos potenciais são vistos como grandes agregados de consumidores mais ou menos anônimos.
- (D) apesar da distância física, a proximidade social garante a interação bidimensional e personalizada entre emissor e receptor.
- (E) as mensagens são distribuídas em pequena escala, para públicos de nicho, que caracterizam o consumo C2B.

42

Armand Mattelart, referência dos estudos críticos sobre comunicação de massa, falecido em 2025, escreveu em parceria com Ariel Dorfman, uma de suas obras mais conhecidas e polêmicas: “*Para ler o Pato Donald: Comunicação de massas e colonialismo*”.

Nela, os autores, no início dos anos 1970,

- (A) ressaltavam positivamente a representação da mulher e o modelo de família não tradicional, baseado em tios e tias, reforçados nos quadrinhos da Disney;
- (B) denunciavam como a lógica imperialista era reproduzida nos quadrinhos do mundo Disney, percebidos, por muitos, como inocentes ou ingênuos;
- (C) desqualificavam os quadrinhos como objeto de pesquisa, reforçando suas reais intenções de entretenimento descompromissado;
- (D) ofereciam um manual para como os educadores podem incorporar em sala de aula os quadrinhos da Disney com finalidades educativas;
- (E) valorizavam os modelos de sociedade representados nos quadrinhos da Disney enquanto metas a serem alcançadas na América Latina.

43

Leia o texto a seguir:

(...) novas sementes começaram a brotar no campo das mídias com o surgimento de equipamentos e dispositivos que possibilitaram o aparecimento de uma cultura do disponível e do transitório: fotocopiadoras, videocassetes e aparelhos para gravação de vídeos, equipamentos do tipo walkman e walktalk, acompanhados de uma remarcável indústria de videoclips e videogames, juntamente com a expansiva indústria de filmes em vídeo para serem alugados nas videolocadoras, tudo isso culminando no surgimento da TV a cabo. Essas tecnologias, equipamentos e as linguagens criadas para circularem neles têm como principal característica propiciar a escolha e consumo individualizados.

(SANTAELLA, 2003: 26-27)

A autora considera esses processos comunicativos como constitutivos de uma

- (A) cibercultura.
- (B) indústria cultural.
- (C) cultura de massa.
- (D) cultura das mídias.
- (E) cultura do pós-humano.

44

Leia o trecho da matéria publicada em janeiro de 2025 no G1.

O lançamento de uma nova versão do sistema de IA dos chineses, na semana passada, surpreendeu e abalou esse mercado, dominado por empresas americanas. Gigantes do setor sofreram perdas de US\$ 1 trilhão na bolsa de Nova York. O que chocou empresários, especialistas e investidores é que os chineses parecem ter criado uma ferramenta tão poderosa quanto seus concorrentes americanos gastando bem menos, algo em torno de US\$ 6 milhões (cerca de R\$ 35 milhões). A quantia é irrisória se comparada aos bilhões de dólares gastos pelas big techs.

O sistema de IA ao qual o texto se refere é o(a)

- (A) DeepSeek.
- (B) Maritaca.
- (C) Spark.
- (D) Manus.
- (E) Sputnik.

45


O linguista Roman Jakobson propôs seis funções da linguagem, cada uma centrada em um dos elementos do processo de comunicação, por ele descrito. A função conativa é aquela orientada para o destinatário e que, no âmbito publicitário, muitas vezes, o convoca para uma ação.

Das peças a seguir, postadas no perfil da Assembleia Legislativa de Rondônia, assinale a que exemplifica corretamente a função conativa.



46

O recurso de acessibilidade comunicacional que consiste na “tradução de imagens em palavras por meio de técnicas e habilidades, aplicadas com o objetivo de proporcionar uma narração descritiva em áudio, para ampliação do entendimento de imagens estáticas ou dinâmicas, textos e origem de sons não contextualizados, especialmente sem o uso da visão” (ABNT NBR 16452:2016) está corretamente sintetizado no símbolo



47

Segundo Patrícia Roedel, autora do *Manual de Linguagem Simples*, da Câmara dos Deputados, antes de iniciar a produção ou a tradução de um conteúdo para Linguagem Simples, é necessário definir as características do público com quem a instituição pretende falar naquela comunicação específica e depois mapear e entender as necessidades e dificuldades desse público. Para tal, ela destaca alguns métodos de pesquisa, como aquele em que pessoas que já tenham usado a informação ou serviço são reunidas para que conversem sobre suas experiências.

Esse método é conhecido como

- (A) entrevista estruturada.
- (B) entrevista semiestruturada.
- (C) grupo focal.
- (D) teste de compreensão textual.
- (E) teste de usabilidade.

48

Os procedimentos previstos Lei de Acesso à Informação (LAI) e devem ser executados em conformidade com os princípios básicos da administração pública e com as algumas diretrizes, entre elas a de que

- (A) o preceito geral da administração pública é o sigilo, por isso, para garantir o acesso à informação de órgãos públicos é necessário recorrer a LAI.
- (B) a divulgação de informações de interesse público referente aos órgãos do poder executivo só podem ser fornecidas mediante solicitações via LAI.
- (C) a LAI não se aplica a informações sobre recursos públicos recebidos por entidades privadas sem fins lucrativos para realização de ações de interesse público.
- (D) a LAI pode ser usada para fomentar desenvolvimento da cultura de transparência na administração pública e do controle social da administração pública.
- (E) a LAI se aplica exclusivamente aos órgãos públicos integrantes da administração direta dos Poderes Executivo, Legislativo e Judiciário.

49

Os princípios fundamentais de toda a administração pública, devem nortear a elaboração dos atos e das comunicações oficiais. Por isso, de acordo com o *Manual de Redação da Presidência da República – 3ª edição*, revista, atualizada e ampliada, a redação oficial deve ter, entre outras, as características expressas nas opções a seguir, à exceção de uma. Assinale-a.

- (A) informalidade e personalismo.
- (B) clareza e precisão.
- (C) coesão e coerência.
- (D) objetividade e padronização.
- (E) uso da norma padrão da língua portuguesa.

50

Dependendo do contexto, de acordo com *Manual de Redação da Presidência da República – 3ª edição*, revista, atualizada e ampliada, o termo e-mail pode ser empregado com três sentidos. Nesse contexto, é correto afirmar que

- (A) como sistema de transmissão de mensagens, o e-mail tornou-se prática comum apenas no âmbito privado, sendo desaconselhado na administração pública.
- (B) como gênero textual, o e-mail, por ser um tipo informal de comunicação, está dispensado do emprego da linguagem exigida nas comunicações oficiais.
- (C) como sistema de transmissão de mensagens oficiais, o e-mail tornou-se dispensável na administração pública, sendo integralmente substituído pelos aplicativos de mensageria.
- (D) como endereço eletrônico, usado por servidores públicos, o e-mail, por não ser documento oficial, pode ser enviado de qualquer extensão, preferencialmente “.google.com” e “.gov.br”
- (E) como gênero textual, no e-mail deve-se evitar o uso de linguagem incompatível com uma comunicação oficial, visto que, como um ofício, pode ser considerado documento oficial.

51

De acordo com Guia de Comunicação Pública, da Associação Brasileira de Comunicação Pública, no âmbito do Executivo Federal existem diretrizes, geralmente seguidas pelos Estados e Municípios e que autorizam os governos a divulgarem, por meio de publicidade paga, assuntos considerados relevantes para os cidadãos.

As ações de publicidade podem ser de quatro tipos:

1. mercadológica;
2. de utilidade pública;
3. Institucional; e
4. legal.

Sobre o primeiro tipo, é correto afirmar que

- (A) é proibida qualquer publicidade paga de caráter mercadológico no âmbito de produtos ou serviços de órgãos e entidades do Poder Executivo Federal.
- (B) busca valorizar e fortalecer as instituições públicas e estimular a participação da sociedade no debate, no controle e na formulação de políticas públicas através da divulgação de atos, ações, programas, obras, serviços e resultados dos órgãos e entidades do Poder Executivo Federal.
- (C) objetiva informar, educar, orientar, mobilizar, prevenir ou alertar a população para adotar comportamentos que lhe tragam benefícios individuais ou coletivos, melhorando sua qualidade de vida.
- (D) concentra-se na publicação paga de balanços, atas, editais, decisões, avisos e de outras informações dos órgãos e entidades do Poder Executivo Federal.
- (E) é o tipo de ação destinada a lançar, modificar, reposicionar ou promover produtos e serviços de órgãos e entidades do Poder Executivo Federal que atuem em relação de concorrência no mercado.

52

O Serviço de Informação ao Cidadão - SIC, previsto no Art. 9º, I, da Lei Federal nº 12.527/2011 (Lei de Acesso à Informação - LAI) é prestado, no âmbito da ALE/RO, pela(o)

- (A) Divisão de Apoio às atividades parlamentares.
- (B) Ouvidoria Administrativa.
- (C) Divisão de Redes Sociais da Superintendência de Comunicação Social.
- (D) Assessoria de Imprensa de cada parlamentar.
- (E) Divisão de Publicidade e Propaganda da Superintendência de Comunicação Social.

53

Leia o fragmento a seguir sobre os impactos dos robôs virtuais na comunicação política.

Esses robôs virtuais desenvolvidos por programadores específicos têm como objetivo se apoiar em velhas estratégias eleitorais como a _____, a circulação de notícias _____ e no reforço de argumentos de apoio a determinado candidato, gerando assim inúmeras interações. O conteúdo difundido por esses robôs tende a _____ a legitimidade do debate público, pois as informações mal formuladas e difundidas em ampla magnitude têm dimensões incalculáveis para a geração de percepções entre diferentes perfis de cidadãos. (...) O volume de publicações e interações que os robôs geram pode impactar substancialmente as percepções dos eleitores e apoiadores de determinado governo. Quanto mais _____ e mensagens de apoio, discordância ou repúdio a determinado candidato ou a determinada proposta governamental, _____ são as chances de identificação com esses robôs, que tendem a formar um _____ de opiniões.

(CEZAR, 2019:53).

Assinale a opção que completa corretamente as lacunas do fragmento acima.

- (A) injúria – falsas – estimular – bloqueios – mais restritas – quadro hierarquizado
- (B) chantagem – de cunho impreciso – qualificar – curtidas – melhores – quadro diversificado
- (C) calúnia – contextualizadas – reforçar – compartilhamentos – menores – mosaico
- (D) difamação – de cunho duvidoso – comprometer – interações – maiores – consenso
- (E) persuasão – de cunho verdadeiro – desqualificar – perfis falsos – piores – quadro unificado

54

O padrão norte-americano de se fazer propaganda disseminou-se Brasil a partir da instalação de uma agência multinacional de propaganda, reconhecida pelo seu pioneirismo nos Estados Unidos.

Essa agência, que chegou ao país no fim dos anos 1920, é a

- (A) McCann.
- (B) Artplan.
- (C) Ogilvy.
- (D) J.W. Thompson.
- (E) Standard.

55

O conjunto sistematizado de elementos gráficos que identificam e personalizam visualmente uma instituição definem sua identidade visual.

A Assembleia Legislativa de Rondônia pode ser identificada atualmente como



56

Associação dos Membros dos Tribunais de Contas do Brasil concedeu à Assembleia Legislativa de Rondônia o Selo Diamante em transparência pública.

No Portal da Transparência do Poder Legislativo de Rondônia, se quisermos informações sobre a LDO (Lei de Diretrizes Orçamentárias e a LOA (Lei Orçamentária Anual), devemos buscá-las na seção intitulada

- (A) Institucional.
- (B) Planos de Obras.
- (C) Receitas e despesas.
- (D) Licitações e contratos.
- (E) Planejamento Governamental.

57

O Capítulo V da Constituição Federal de 1988, que trata da Comunicação Social, estabelece que

- (A) compete às Assembleias Legislativas Estaduais regular as diversões e espetáculos públicos, cabendo a elas dar publicidade sobre a natureza deles, as faixas etárias a que não se recomendem, locais e horários em que sua apresentação se mostre inadequada;
- (B) a propaganda comercial de tabaco, bebidas alcoólicas, agrotóxicos, medicamentos e terapias conterá, sempre que necessário, advertência sobre os malefícios decorrentes de seu uso;
- (C) compete exclusivamente à legislação estadual estabelecer meios legais que garantam à pessoa e à família a possibilidade de se defenderem da propaganda de produtos, práticas e serviços que possam ser nocivos à saúde e ao meio ambiente;
- (D) a responsabilidade editorial e comercial em qualquer meio de comunicação bem com e as atividades de seleção de inserções comerciais e direção da programação são privativas de brasileiros natos ou naturalizados há mais de quinze anos;
- (E) compete ao Poder Legislativo outorgar e renovar concessão, permissão e autorização para veículos de comunicação impressos e para o serviço de radiodifusão sonora e de sons e imagens, observado o princípio da complementaridade dos sistemas privado, público e estatal.

58

Leia o trecho abaixo, publicado em dezembro de 2025, no site do Rondoniagora.

“A Assembleia Legislativa de Rondônia conquistou um dos prêmios mais importantes da União Nacional dos Legisladores e Legislativos Estaduais (Unale), que neste ano realizou a sua 28ª edição, reunindo parlamentares, especialistas e representantes dos 26 estados e do Distrito Federal. Ao longo de três dias de programação, o encontro recebeu mais de 150 conferencistas, que debateram temas como inovação, gestão pública e transparência. Foi nesse cenário de grande visibilidade nacional que a ALERO se destacou.”

O prêmio de melhor iniciativa de Atendimento ao Cidadão foi conquistado pelo projeto

- (A) De olho na Lei, que usa programas televisivos para informar os direitos e deveres do cidadão de acordo com as leis estaduais.
- (B) CCJ Cidadã, no qual a CCJR (Comissão de Constituição, Justiça e Redação) percorre os municípios, para que a população acompanhe o trabalho parlamentar e o processo de análise das normas e dos projetos de lei que tramitam na ALERO.
- (C) Corrida da Democracia, no qual para retirar seu kit, cada participante deveria doar uma cesta básica, a ser distribuída para a população carente.
- (D) Acelero Enem, que oferece aulões de matemática, física, biologia, química, história e redação para estudantes que pretendem prestar o exame.
- (E) ALERO Cidadania, que visa divulgar os canais para os quais os cidadãos devem denunciar riscos ou ocorrências de queimadas na região.

59

Avalie as afirmativas abaixo sobre as diretrizes para publicidade de apostas desenvolvidas pelo Conselho Nacional de Autorregulamentação Publicitária (Conar).

- I. Pessoas que apareçam nas publicidades do segmento, praticando apostas, desempenhando papel significativo ou de destaque, deverão ser e parecer maiores de 18 anos de idade;
- II. Estão vedados, por texto ou imagem, direta ou indiretamente, inclusive no slogan, os apelos de pressão para a prática do jogo, assim como os estímulos ao exagero, à repetição excessiva ou ao jogo irresponsável.
- III. As publicidades de apostas devem abster-se de induzir ao entendimento de que a participação poderá levar ao enriquecimento ou que constitui forma de investimento ou de renda;

Está correto o que se afirma em

- (A) I, apenas.
- (B) II, apenas.
- (C) III, apenas.
- (D) II e III, apenas.
- (E) I, II e III.

60

Leia o fragmento a seguir.

Segundo as diretrizes do Conselho Nacional de Autorregulamentação Publicitária (Conar), é “legítimo o uso de características socioambientais positivas nas mensagens publicitárias, por isso são encorajadas as publicidades que destaquem cuidados para com o meio ambiente, devendo respeitar as regras e princípios previstos neste Código e na legislação em vigor, de modo a assegurar a correção das alegações e coibir o _____.”

Identifique a palavra que o completa corretamente a lacuna do fragmento acima.

- (A) recycling
- (B) upcycling
- (C) greenwashing
- (D) ESG (Environmental; Social; Governance)
- (E) rainbow washing

61

A ferramenta 5W2H pode ser útil na implementação de um plano estratégico de comunicação na medida em que utiliza um quadro, com a descrição de todos os pontos chave necessários para alcançar os resultados do planejamento.

As diretrizes representadas nos 2H são:

- (A) as etapas e a justificativa da ação.
- (B) o responsável pela ação e seu tempo de duração.
- (C) a descrição da ação e o local onde será desenvolvida.
- (D) a abrangência da ação e quando será iniciada.
- (E) os métodos a serem empregados e os custos da ação.

62

Observe a publicação feita nos *stories* do perfil da Assembleia Legislativa do Estado de Rondônia no Instagram por ocasião da Audiência Pública sobre a Lei de organização e promoção dos policiais militares do Estado de Rondônia.



O comando “Acompanhe ao vivo Youtube.com” é um exemplo de

- (A) CTA.
- (B) CPL.
- (C) CPA.
- (D) CPC.
- (E) CRO.

63

Lançado em 2023, o Guia de Boas Práticas para a atuação de redes sociais do Governo Federal orienta que, ao interagir com os cidadãos, deve-se

- (A) bloquear a interação de usuários que façam comentários negativos em relação a atos ou representantes dos Poderes Executivo, Legislativo e Judiciário.
- (B) responder os usuários com mensagens robotizadas e idênticas de modo a garantir a agilidade e evitar a personalização das respostas.
- (C) apagar ou ocultar comentários apenas quando contiverem xingamentos, ofensas ou expressões de baixo calão ou envolvam agressões e crimes a outros usuários.
- (D) curtir todas as postagens de influenciadores, mas compartilhar apenas os conteúdos produzidos pelas assessorias de comunicação de órgãos públicos.
- (E) manter pública toda interação digital com os usuários, sendo o uso de canais fechados, como caixas de mensagens, proibido em todas as instâncias governamentais e legislativas.

64

A análise de sentimentos pode ser realizada de diferentes maneiras, dependendo das necessidades da marca e dos recursos disponíveis.

Entre as técnicas principais, temos: sistema baseado em regras; processo automatizado; método híbrido e avaliação humana.

Sobre essa última, assinale a afirmativa correta.

- (A) Jamais pode ser usada de forma complementar aos resultados obtidos pelos métodos anteriores.
- (B) Deve ser o escolhida apenas quando houver um grande volume de dados que demandem análise simples.
- (C) É a mais rápida e barata dentre as técnicas disponíveis no mercado para análise de sentimentos.
- (D) É demorada, mas é a mais adequada para interpretar nuances emocionais, como sarcasmo ou ironia.
- (E) Baseia-se em um conjunto de regras simples e ignora quaisquer aspectos ligados à complexidade semântica.

65

Para saber se os esforços de marketing digital estão ou não tendo sucesso, é necessário acompanhar as principais métricas e indicadores-chave de desempenho (KPIs).






Assinale a opção correta a respeito de um dos mais indicados para avaliar o desempenho no ambiente digital.

- (A) Autoridade e domínio da página, que mostrará total de visitas, visitantes únicos e tráfego orgânico, indicando todos que chegam ao seu site por mecanismos de pesquisa.
- (B) Taxa de engajamento, que informará quantas pessoas únicas estão engajando em suas mídias sociais em relação à quantidade de pessoas alcançadas.
- (C) Índice de qualidade, que permite acompanhar quantos outros sites estão vinculados ao seu e como esses links afetam seus rankings e tráfego.
- (D) Custo por clique, que é o principal KPI para campanhas de marketing digital, pois mede o valor da receita que uma empresa obtém por cada real gasto em anúncios.
- (E) Backlinks, que é adequado para medir a eficácia dos esforços de SEO ao informar onde o site está classificado quanto às palavras-chave e frases mais valiosas para a instituição.

66

Em 2025, a Escola do Legislativo promoveu ação entre os servidores para escolher sua nova logomarca.

Sobre os concorrentes é correto afirmar que

- (A)  Buscava aproximar a Escola dos sonhos de formação dos rondonienses através de um ensino tradicional representado pelo lápis;
- (B)  É uma marca que visa reforçar a união entre Escola e a sede do Poder Legislativo, mas foi desclassificada na disputa em função de problemas de legibilidade;
- (C)  Faz referência visual aos livros e à assembleia legislativa, além de ter um nome de fácil associação a ALE-RO, sendo a mais votada na disputa;
- (D)  Era a representação mais simples dentre as concorrentes, por não criar um novo nome e manter a associação ao conhecimento através do livro;
- (E)  Foi a segunda mais votada por fazer referência direta aos sistemas digitais de aprendizagem e à aprendizagem ativa.

67

Leia o fragmento a seguir.

Em qualquer grupo social, algumas pessoas são mais ativas que outras, e a participação social tende a seguir o princípio 90-9-1,3 em que 90% são audiência, 9% são editores e apenas 1% são criadores. Pesquisas comprovam essa teoria – 90% do volume de tweets é gerado por apenas 10% dos seus usuários; a quantidade de pessoas que publicam vídeos no YouTube é muito menor que a das que apenas assistem aos vídeos. Sabendo-se disso, podemos dizer que cada um desses tipos de públicos (audiência, editor ou criador) tem necessidades e desejos diferentes, comportamentos diferentes e, portanto, é necessária uma estratégia diferente para cada um deles. Nesse sentido, em função dos tipos de participação dos públicos nas redes sociais on-line, a segmentação sociográfica propõe uma pirâmide de comportamento que, da base para o topo, envolve as seguintes etapas: assistir, compartilhar, comentar, produzir, fazer curadoria.

(GABRIEL e KISO, 2025:400)

Cada tipo de comportamento vai demandar ações diferentes para conseguir engajar o público. Sobre esses comportamentos e ações é correto afirmar que

- (A) as pessoas que moderam ou estão fortemente envolvidas em comunidades on-line, páginas de fãs ou fóruns de discussão representam 90% da audiência e estão interessadas em reconhecimento.
- (B) O público segmentado na etapa compartilhar responde aos conteúdos dos outros, com reviews ou avaliações de produtos e serviços, por isso para engajá-los é importante criar uma ambiente de disputas por visibilidade;
- (C) a audiência que cria e publica seu próprio conteúdo deseja expressar identidade, por isso para engajá-la é necessário apenas abrir espaço nos sites e redes sociais para curtidas e utilização de emojis.
- (D) a etapa de fazer a curadoria é a base da pirâmide de comportamento na medida em que é a partir da ação de influenciadores e construtores da comunidade que as demais etapas se estruturam;
- (E) para atingir os que apenas assistem os conteúdos, a estratégia de engajamento envolve conhecer que tipo de conteúdo cada público consome e criar conteúdos relevantes, que ele goste de ler, assistir ou ouvir.


68

Em campanhas políticas, os jingles são músicas animam os programas eleitorais gratuitos, comícios e passeatas. Sobre esse recurso é correto afirmar que

- (A) funcionam apenas pontualmente, sendo todos facilmente esquecidos após a campanha.
- (B) devem conter obrigatoriamente o número de candidato para que este se fixe na mente do eleitor.
- (C) nunca podem ser paródias, baseadas em uma música de sucesso; música e letra precisam ser completamente originais e compostas por encomenda.
- (D) mesmo em disputas locais, evita-se que o ritmo escolhido para o jingle tenha características regionais, ele deve contemplar hits de abrangência nacional e até internacional;
- (E) são peças publicitárias e podem ser criadas por compositores especializados a partir do briefing sobre o candidato e sobre o eleitor que ele pretende atingir.

69

Observe a fotografia escolhida para a capa do livro abaixo.



Ela foi feita no início dos anos 1980 pelo fotojornalista Jair Cardoso.

Em termos técnicos, é correto afirmar que a foto

- (A) é uma montagem na qual a figura do presidente João Figueiredo foi colocada no cenário a posteriori, com ajuda de ferramentas de inteligência artificial.
- (B) tem problemas de focalização, pois apenas o reflexo nos óculos está nítido, o que traz interesse para a imagem e caracteriza o uso de uma objetiva grande angular.
- (C) apresenta pouca profundidade de campo e, devido ao achatamento dos planos, é possível inferir que, para sua execução, foi usada uma teleobjetiva.
- (D) é posada, feita com uma objetiva normal e o presidente, possivelmente, atendeu ao pedido do fotojornalista para que fizesse o gesto de continência para o registro formal.
- (E) é um flagrante obtido durante uma cerimônia oficial e, para tal foi utilizada uma objetiva conhecida como “olho de peixe” capaz de enfatizar os reflexos.

70

Observe a fotografia abaixo. Ela foi publicada no site da Assembleia Legislativa de Rondônia e, segundo a legenda, mostra “o Deputado Ismael Crispin testando a van com acessibilidade de São Francisco do Guaporé”.



No enquadramento da imagem foi usado o

- (A) Plano Americano.
- (B) Plano Geral.
- (C) Grande Plano Geral.
- (D) Plano detalhe.
- (E) Primeiro Plano.

71

Edney Souza e Barbara Neves (2021), ao tratarem do marketing digital, dividem o processo de aquisição de audiência para atingir um determinado objetivo de um negócio em cinco fases organizadas em forma de funil, a saber:

1. visibilidade;
2. engajamento;
3. conversão;
4. fidelização; e
5. indicações.

Na primeira fase mede-se

- (A) o alcance, ou seja, quantas pessoas diferentes viram o seu conteúdo.
- (B) quantidade de visitas ao site que foram geradas através de conteúdos compartilhados ou recomendações de outros usuários.
- (C) o número de curtidas em uma postagem indicando quantas pessoas aprovaram o conteúdo.
- (D) a quantidade de leitores que retornaram, por exemplo, ao mesmo site para ler novos conteúdos.
- (E) quantidade de usuários foram impactados o suficiente para deixar uma mensagem.

72

É muito comum recorrer a efemérides para montar previamente um calendário de publicações em perfis institucionais no Instagram.

A Assembleia Legislativa do Estado de Rondônia utilizou esse recurso na postagem intitulada

- (A) “ALERO aprova mais de 13 milhões para proteção ambiental de Rondônia”.
- (B) “ALERO e FGV definem lançamento de edital de concurso”.
- (C) “Vozes do Legislativo – sua voz tem lugar aqui”.
- (D) “É LEI: Rondônia garante apoio psicológico voluntário nas escolas estaduais”.
- (E) “Setembro Amarelo – Conversar pode salvar vidas”.

73

Identifique a peça publicitária corretamente classificada como anúncio *all type*.

SE A SUA MÃE
ESTIVESSE
COM DOR
DE CABEÇA
NAQUELE DIA,
VOCÊ NÃO
EXISTIRIA.

(A)

Homenagem de Aspirina® ao Dia das Mães.
Bayer
ASPIRINA

(B)



(C)



(D)



(E)



74

Leia a definição abaixo, disponível no Glossário de Crise, lançado pelo Observatório Brasileiro de Comunicação e Crise (OBCC).

“*Refere-se ao primeiro momento após o surgimento de uma emergência que afeta a organização, em que uma intervenção de comunicação rápida (dentro dos primeiros 60 minutos) e eficaz é crucial para determinar o desenvolvimento dos eventos. Portanto, é um período crítico para defender a imagem corporativa e reduzir a possibilidade de danos a longo prazo à reputação organizacional.*”

Esse momento é conhecido como

- (A) *Platinum Hour.*
- (B) *Golden Minutes.*
- (C) *Sixty Steps.*
- (D) *Golden Hour.*
- (E) *Silver Minutes.*

75

O presidente da Associação Brasileira de Comunicação Pública (ABCPública), Jorge Duarte, defende que os profissionais da comunicação pública garantam ao cidadão “o acesso à informação de qualidade e estabeleçam pontes, criando espaços de diálogo construtivo, o que envolve promover ações coordenadas para a prevenção, mitigação e preparação para riscos e crises”.

As opções a seguir apresentam alternativas de ações nesse sentido, **à exceção de uma**. Assinale-a.

- (A) Fechamento dos canais de comunicação durante as situações de crise.
- (B) Realização de campanhas de educação e mobilização.
- (C) Oferta de informações claras e acessíveis.
- (D) Adoção de canais inclusivos que alcancem diferentes públicos.
- (E) Fortalecimento da transparência das informações.

76

Leia o fragmento a seguir.

A publicidade é, sobretudo, um grande meio de comunicação com grupos de pessoas (...). Seu discurso deve ser ajustado ao perfil que constitui o grupo consumidor visado pelo anunciante. Esse público é conhecido como _____. Mas outras pessoas que possuem perfis diferentes do objeto da ação de comunicação também podem adquirir o produto anunciado. Quando isso acontece, há o fenômeno denominado _____.

(SANT'ANNA, et.al. 2016:68)

As expressões que completam corretamente o fragmento são, respectivamente,

- (A) *target* primário e demanda marginal.
- (B) demanda prioritária e demanda indesejada.
- (C) *target* marginal e demanda reprimida.
- (D) público-alvo secundário e demanda excessiva.
- (E) demanda irregular e público-alvo insuficiente.

77

O slogan é um dos principais elementos de uma campanha publicitária e os mais famosos têm o poder de permanecer na cultura popular.

Observe os *slogans* a seguir.

1. “Energia que dá gosto”.
2. “O caldo nobre da galinha azul”.
3. “Você conhece, você confia”.

Eles estão associados, respectivamente, a

- (A) Duracell; Sadia; Nestlé.
- (B) Quick; Seara; Tokio Marine.
- (C) Toddy; Knorr; Fiat.
- (D) Nescau; Maggi; Volkswagen.
- (E) Rayovac; Kitano; Porto Seguro.

78

A Lei de Direitos Autorais (Lei nº 9.610/1998) estabelece que

- (A) o prazo de proteção aos direitos patrimoniais sobre obras audiovisuais e fotográficas será de cem anos, a contar de 1º de janeiro do ano subsequente ao de sua divulgação.
- (B) é livre o uso de obras fotográficas e fonográficas por agências de publicidade para realização de produções audiovisuais destinadas à veiculação televisiva.
- (C) é vedada a publicação total ou parcial em diários ou periódicos, de discursos pronunciados em reuniões públicas de qualquer natureza.
- (D) as obras situadas permanentemente em logradouros públicos só podem ser representadas, por meio de fotografias e meios audiovisuais com autorização expressa do autor.
- (E) são livres as paráfrases e paródias que não forem verdadeiras reproduções da obra originária nem lhe implicarem descrédito.

79

No âmbito da Assembleia Legislativa do Estado de Rondônia, de acordo com a regulamentação da Lei Geral de Proteção de Dados Pessoais – LGPD,

- (A) estimula-se a recepção e tratamento de dados pessoais e sensíveis de forma informal, fora dos canais e sistemas institucionais para facilitar o atendimento ao cidadão.
- (B) informa-se que a Ouvidoria será o canal oficial de comunicação entre o Encarregado de Proteção de Dados Pessoais, os titulares dos dados pessoais e a Autoridade Nacional de Proteção de Dados.
- (C) é permitida a transferência de dados pessoais a entidades privadas sempre que elas assim solicitarem.
- (D) a coleta e tratamento de dados pessoais de crianças de até 15 anos necessitam de consentimento específico e destacado, fornecido qualquer um de seus familiares.
- (E) a unidade administrativa que realizar o tratamento de dados pessoais, amparado no consentimento do titular, deverá, dificultar e, se possível, impedir a revogação do consentimento.

80

De acordo com o Organograma da Assembleia Legislativa do Estado de Rondônia, disponível no Portal da Transparência do Poder Legislativo do Estado de Rondônia, a Superintendência de Comunicação Social tem formalmente as seguintes divisões, **à exceção de uma**. Assinale-a.

- (A) Mídia Eletrônica.
- (B) Relações Públicas.
- (C) Redes Sociais.
- (D) Áudio e vídeo.
- (E) Fotografia.

Realização

