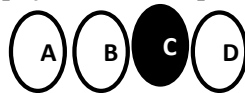


**CARGO**  
**PROFESSOR BII - GEOGRAFIA**

**ATENÇÃO! INSTRUÇÕES PARA A PROVA**

1. **Você receberá do fiscal:** um **CADERNO DE QUESTÕES** e um **CARTÃO DE RESPOSTAS** personalizado.
2. Confira, abaixo, seu nome, inscrição, cargo que você se escreveu, TIPO DE PROVA com número igual ao **CADERNO DE QUESTÕES** e **CARTÃO DE RESPOSTAS**.
3. Verifique se a impressão, a paginação e a numeração das questões estão corretas. Caso observe qualquer erro, notifique o Fiscal.
4. Este Caderno de Provas contém **50(cinquenta)** questões numeradas sequencialmente de **1 a 50**.
5. Leia atentamente cada questão e assinale, no **CARTÃO DE RESPOSTAS**, a opção que mais adequadamente a responde.
6. O candidato deverá permanecer obrigatoriamente em sala por, no mínimo, uma hora após o início das provas.
7. Após concluir a prova, o candidato deverá entregar o caderno de provas e o **CARTÃO DE RESPOSTAS** devidamente assinado.
8. **Observe as seguintes recomendações relativas ao CARTÃO DE RESPOSTAS:**
9. O **CARTÃO DE RESPOSTAS** não deve ser dobrado, amassado, rasurado, manchado ou conter qualquer registro fora dos locais destinados às respostas.
10. A maneira correta de assinalar a opção no **CARTÃO DE RESPOSTAS** é cobrir fortemente, com caneta esferográfica **preta** ou **azul**, o espaço a ela correspondente, conforme o exemplo a seguir:



11. A leitora óptica **NÃO** registrará questões sem marcação, marcação pouco nítida ou com mais de uma opção assinalada.
12. **Você dispõe de 03(três) horas para fazer esta prova e marcar o CARTÃO DE RESPOSTAS.**
13. Nenhum candidato poderá retirar-se da sala antes de decorrida **01(uma)** hora do seu início.
14. Não será permitida a utilização de aparelho celular, qualquer espécie de consulta, nem o uso de máquina calculadora.
15. Os dois últimos candidatos da mesma sala só poderão ser liberados juntos.
16. A **Folha Resposta** abaixo não tem caráter legal, objetiva apenas a conferência do Gabarito do Candidato.



**FOLHA RESPOSTA PARA CONFERÊNCIA DO CANDIDATO**

NOME:													CARGO:																
1	2	3	4	5	6	7	8	9	10	11	12	13	14	15	16	17	18	19	20	21	22	23	24	25					
26	27	28	29	30	31	32	33	34	35	36	37	38	39	40	41	42	43	44	45	46	47	48	49	50					

**CONCURSO PÚBLICO DE PROVAS E TÍTULOS – EDITAL Nº 001/2025**

## LÍNGUA PORTUGUESA

Leia o texto abaixo para responder às questões de 1 a 6.

### Texto I

#### Felicidade Clandestina

**In Felicidade Clandestina. Rio de Janeiro, Rocco, 1998**

Ela era gorda, baixa, sardenta e de cabelos excessivamente crespos, meio arruivados. Tinha um busto enorme, enquanto nós todas ainda éramos achatadas. Como se não bastasse, enchia os dois bolsos da blusa, por cima do busto, com balas. Mas possuía o que qualquer criança devoradora de histórias gostaria de ter: um pai dono de livraria. Pouco aproveitava. E nós menos ainda: até para aniversário, em vez de pelo menos um livrinho barato, ela nos entregava em mãos um cartão-postal da loja do pai. Ainda por cima era de paisagem do Recife mesmo, onde morávamos, com suas pontes mais do que vistas. Atrás escrevia com letra bordadíssima palavras como “data natalícia” e “saudade”. Mas que talento tinha para a crueldade. Ela toda era pura vingança, chupando balas com barulho. Como essa menina devia nos odiar, nós que éramos imperdoavelmente bonitinhas, esguias, altinhas, de cabelos livres. Comigo exerceu com calma ferocidade o seu sadismo. Na minha ânsia de ler, eu nem notava as humilhações a que ela me submetia: continuava a implorar-lhe emprestados os livros que ela não lia. Até que veio para ela o magno dia de começar a exercer sobre mim uma tortura chinesa. Como casualmente, informou-me que possuía *As reinações de Narizinho*, de Monteiro Lobato. Era um livro grosso, meu Deus, era um livro para se ficar vivendo com ele, comendo-o, dormindo-o. E, completamente acima de minhas posses. Disse-me que eu passasse pela sua casa no dia seguinte e que ela o emprestaria. Até o dia seguinte eu me transformei na própria esperança de alegria: eu não vivia, nadava devagar num mar suave, as ondas me levavam e me traziam. No dia seguinte fui à sua casa, literalmente correndo. Ela não

morava num sobrado como eu, e sim numa casa. Não me mandou entrar. Olhando bem para meus olhos, disse-me que havia emprestado o livro a outra menina, e que eu voltasse no dia seguinte para buscá-lo. Boquiaberta, saí devagar, mas em breve a esperança de novo me tomava toda e eu recomeçava na rua a andar pulando, que era o meu modo estranho de andar pelas ruas de Recife. Dessa vez nem caí: guiava-me a promessa do livro, o dia seguinte viria, os dias seguintes seriam mais tarde a minha vida inteira, o amor pelo mundo me esperava, andei pulando pelas ruas como sempre e não caí nenhuma vez. Mas não ficou simplesmente nisso. O plano secreto da filha do dono da livraria era tranquilo e diabólico. No dia seguinte lá estava eu à porta de sua casa, com um sorriso e o coração batendo. Para ouvir a resposta calma: o livro ainda não estava em seu poder, que eu voltasse no dia seguinte. Mal sabia eu como mais tarde, no decorrer da vida, o drama do “dia seguinte” com ela ia se repetir com meu coração batendo. E assim continuou. Quanto tempo? Não sei. Ela sabia que era tempo indefinido, enquanto o fel não escorresse todo de seu corpo grosso. Eu já começara a adivinhar que ela me escolhera para eu sofrer, às vezes adivinho. Mas, adivinhando mesmo, às vezes aceito: como se quem quer me fazer sofrer esteja precisando danadamente que eu sofra. Quanto tempo? Eu ia diariamente à sua casa, sem faltar um dia sequer. Às vezes ela dizia: pois o livro esteve comigo ontem de tarde, mas você só veio de manhã, de modo que o emprestei a outra menina. E eu, que não era dada a olheiras, sentia as olheiras se cavando sob os meus olhos espantados.

Até que um dia, quando eu estava à porta de sua casa, ouvindo humilde e silenciosa a sua recusa, apareceu sua mãe. Ela devia estar estranhando a aparição muda e diária daquela menina à porta de sua casa. Pediu explicações a nós duas. Houve uma confusão silenciosa, entrecortada de palavras pouco elucidativas. A senhora achava cada vez mais estranho o fato de não estar entendendo. Até que essa mãe boa entendeu. Voltou-se para a filha e com enorme surpresa exclamou: mas este livro nunca saiu daqui de casa e você nem quis ler! E o pior para essa mulher não era a descoberta do que acontecia. Devia ser a descoberta horrorizada da filha que tinha. Ela nos espiava em silêncio: a potência de perversidade de sua filha desconhecida e a

menina loura em pé à porta, exausta, ao vento das ruas de Recife. Foi então que, finalmente se refazendo, disse firme e calma para a filha: você vai emprestar o livro agora mesmo. E para mim: “E você fica com o livro por quanto tempo quiser.” Entendem? Valia mais do que me dar o livro: “pelo tempo que eu quisesse” é tudo o que uma pessoa, grande ou pequena, pode ter a ousadia de querer. Como contar o que se seguiu? Eu estava estonteada, e assim recebi o livro na mão. Acho que eu não disse nada. Peguei o livro. Não, não saí pulando como sempre. Saí andando bem devagar. Sei que segurava o livro grosso com as duas mãos, comprimindo-o contra o peito. Quanto tempo levei até chegar em casa, também pouco importa. Meu peito estava quente, meu coração pensativo.

Chegando em casa, não comecei a ler. Fingia que não o tinha, só para depois ter o susto de o ter. Horas depois abri-o, li algumas linhas maravilhosas, fechei-o de novo, fui passear pela casa, adiei ainda mais indo comer pão com manteiga, fingi que não sabia onde guardara o livro, achava-o, abria-o por alguns instantes. Criava as mais falsas dificuldades para aquela coisa clandestina que era a felicidade. A felicidade sempre ia ser clandestina para mim. Parece que eu já pressentia. Como demorei! Eu vivia no ar... Havia orgulho e pudor em mim. Eu era uma rainha delicada. Às vezes sentava-me na rede, balançando-me com o livro aberto no colo, sem tocá-lo, em êxtase puríssimo. Não era mais uma menina com um livro: era uma mulher com o seu amante.

Disponível em:

[https://www.professorjailton.com.br/novo/biblioteca/clarice\\_lispector\\_-\\_felicidade\\_clandestina\\_e\\_outros\\_contos.pdf](https://www.professorjailton.com.br/novo/biblioteca/clarice_lispector_-_felicidade_clandestina_e_outros_contos.pdf)

### QUESTÃO 01

Considerando o trecho:

“Criava as mais falsas dificuldades para aquela coisa clandestina que era a felicidade.”

No contexto do desfecho do conto, a afirmação evidencia que a narradora:

- A. Supera objetivamente a violência simbólica sofrida ao longo da narrativa.
- B. Converte a experiência concreta da leitura em ritual íntimo de fruição e interiorização da felicidade.
- C. Denuncia explicitamente a desigualdade social no acesso ao livro.
- D. Revela indiferença retrospectiva diante da crueldade da antagonista.

### QUESTÃO 02

No trecho:

“Como casualmente, informou-me que possuía As reinações de Narizinho, de Monteiro Lobato.”

A vírgula após “Como casualmente” justifica-se por:

- A. Isolar oração subordinada adjetiva explicativa.
- B. Indicar enumeração de termos coordenados.
- C. Separar adjunto adverbial deslocado intercalado.
- D. Marcar supressão de verbo anteriormente expresso.

### QUESTÃO 03

No período:

“informou-me que possuía As reinações de Narizinho.”

A oração introduzida por “que” classifica-se como:

- A. Subordinada substantiva objetiva direta, exercendo função de complemento verbal.
- B. Subordinada adjetiva restritiva, qualificando termo antecedente implícito.
- C. Subordinada adverbial causal, indicando justificativa do enunciado anterior.
- D. Coordenada sindética explicativa.

### QUESTÃO 04

No trecho do texto *Felicidade Clandestina*:

“Às vezes sentava-me na rede, balançando-me com o livro aberto no colo, sem tocá-lo, em êxtase puríssimo”

O uso do acento grave justifica-se por ocorrer:

- A. Contração da preposição “a” exigida pela locução adverbial com o artigo feminino plural.
- B. Uso facultativo antes de expressão adverbial feminina plural.
- C. Regência nominal obrigatória do verbo “sentar-se”.
- D. Recurso estilístico desvinculado de regra gramatical.

### QUESTÃO 05

Leia os trechos abaixo, atentando para os conectivos em destaque:

- I. “Até que um dia, quando eu estava à porta de sua casa (...), apareceu sua mãe. ”
- II. “Mas este livro nunca saiu daqui de casa...”

Considerando o valor semântico-discursivo dos conectivos sublinhados no contexto narrativo, eles estabelecem, respectivamente, relações de:

- A. Causalidade e retificação discursiva.
- B. Conclusão lógica e adversidade circunstancial.
- C. Condição hipotética e contraste modal.
- D. Ruptura temporal do estado narrativo anterior e oposição argumentativa.

### QUESTÃO 06

Clarice Lispector é um dos grandes nomes da literatura brasileira do século XX, conhecida por sua exploração profunda da subjetividade e da psicologia de seus personagens. O conto *Felicidade Clandestina* apresenta traços marcantes de sua escrita, como a atenção aos detalhes da vida interior e à percepção do mundo pela protagonista.

A obra *Felicidade Clandestina*, de Clarice Lispector, insere-se no contexto:

- A. Do Modernismo brasileiro – terceira geração, caracterizada pela prosa introspectiva e sondagem psicológica.
- B. Do Realismo naturalista do final do século XIX.
- C. Da ficção regionalista de 1930.
- D. Do experimentalismo pós-moderno da década de 1990.

Leia o texto abaixo e responda às questões de 7 à 10.

### TEXTO II

#### A privacidade ou falta dela na era digital: da superexposição à proteção legal

Nada adianta o clamor pela proteção se nas redes sociais esses critérios passam despercebidos pelos administradores dos perfis.

Alfredo Lobo

Quem é o dono da sua privacidade? A resposta parece ser óbvia, mas nem tanto, principalmente, quando o detentor do direito é o primeiro a infringir as normas protetivas da privacidade e intimidade.

Conceitualmente, a intimidade pode ser descrita como direito personalíssimo que possui como característica básica a não exposição de elementos ou informações da vida íntima; direito psíquico da personalidade, segundo o qual toda pessoa pode resguardar aspectos intrínsecos do seu existir.

Já, de acordo com o Dicionário Houaiss da língua portuguesa, a intimidade é o ambiente onde se tem privacidade ou aquilo que é extremamente pessoal, que diz

respeito à vida íntima, aos atos, sentimentos ou pensamentos mais íntimos de alguém.

No entanto, a privacidade e intimidade parecem se esvaír de suas definições na era da informação e da comunicação, a partir da qual uma simples pesquisa no Google é capaz de revelar mais do que gostaríamos sobre qualquer pessoa, tornando-a suscetível, inclusive, a ataques injustificados, banalização de sua imagem, além de ter seus dados utilizados por fraudadores.

O direito à privacidade, no Brasil, é basilar. A Constituição Federal de 1988 já garante aos indivíduos a privacidade, considerada direito fundamental indisponível resguardado de pleno a qualquer indivíduo. Justamente por ser um direito fundamental não comporta renúncia perene, pois, em tese, é irrenunciável.

Em seu artigo 5º, inciso X, a Carta Magna tratou de proteger a privacidade assim assegurando: “são invioláveis a intimidade, a vida privada, a honra e a imagem das pessoas, assegurado o direito a indenização pelo dano material ou moral decorrente de sua violação”.

Apesar de parcela da doutrina moderna admitir que pode ser possível uma renúncia temporária, não me parece ser este o fator aplicado ao excesso de exposição gerado a partir de redes de sociais, nas quais a efêmera disponibilização de status alcança, cada dia mais, seguidores.

Assim, quando a exposição passa a ser em ambiente virtual, as pessoas detentoras de mesmo direito na vida offline parecem não considerar a quebra da privacidade, mesmo com reforçado amparo da legislação nacional. Note-se ainda o disposto no artigo 5º, inciso LX, da Constituição Federal, que determina que “a lei só poderá restringir a publicidade dos atos processuais, quando a defesa da intimidade ou o interesse social o exigirem”.

Em linhas gerais, a Constituição ratifica o interesse social através da publicidade dos atos, no entanto prevê a restrição de tal publicidade sempre que a defesa da intimidade e o interesse social o exigirem. O resguardo via segredo de justiça a dados relativos à intimidade é previsto no artigo 189 do Código de Processo Civil (CPC): “os atos processuais são públicos, todavia tramitam em segredo de justiça os processos em que constem dados protegidos pelo direito constitucional à intimidade”.

Mais recentemente, há ainda a Lei Geral de Proteção de Dados Pessoais (LGPD), que, apesar de sua natureza

PREFEITURA MUNICIPAL DE CAJAZEIRAS  
CONCURSO PÚBLICO DE PROVAS E TÍTULOS – EDITAL Nº 001/2025

distinta, está profundamente vinculada ao direito da privacidade. A Lei 13.709/2018 (LGPD) tem como seu escopo principal amparar a proteção dos dados pessoais, sejam eles os dados pessoais pura e simplesmente ou mesmo os dados pessoais sensíveis frente à inexorável necessidade de amparo contra abusos por parte de entes públicos ou privados. Desta forma, o direito à autodeterminação informativa garante que o titular tenha total controle sobre seus dados pessoais, podendo decidir se os mesmos poderão ser objeto de tratamento, bem como exigir a correção ou exclusão das informações de bancos de dados.

Mas, e quando quem desrespeita a LGPD é o próprio usuário?

Para esses casos, inclusive, a própria LGPD já prevê em seu artigo 43, inciso III que: “os agentes de tratamento só não serão responsabilizados quando provarem que o dano é decorrente de culpa exclusiva do titular dos dados ou de terceiros”.

Assim, exigir lei protetiva e respeito à privacidade e intimidade enquanto o carrossel fotográfico expõe a rotina, os gostos e a vida das pessoas é um enorme contrassenso.

Bom, começemos por aquele reels em que um pai posta o filho pequeno cantando a música que toca na rádio do carro. O vídeo em poucos momentos atinge centenas ou milhares de pessoas, mas será que esse pai tomou os devidos cuidados para não expor, por exemplo, o uniforme da escola em que o filho estuda?

Outro caso concreto está, ao postar, uma foto do fim de semana com os amigos enquanto no registro aparece também a placa do seu carro. E mais recentemente, tão viral quanto a Covid-19, fotos de pessoas recém vacinadas exibindo orgulhosamente seus cartões comprobatórios do recebimento do imunizante.

O que muitos ainda não se atentaram, no entanto, é que todas essas imagens escancaram dados pessoais e podem trazer sensibilidades aos que tiverem a intimidade exposta, mesmo que por sua própria vontade.

Nome completo, nº do CPF, data da vacinação, lote do imunizante, unidade de saúde em que a vacina foi aplicada, data da segunda dose. Esses dados estão disponíveis na internet em inúmeros perfis de redes sociais. Considerados sensíveis, esses dados, em mão erradas, podem trazer transtornos. Além da possibilidade de falsificação do

cartão, os dados expostos podem ser utilizados para a aplicação dos mais variados golpes.

Da mesma forma, pela placa do carro, é possível consultar a regularidade do veículo em sites da internet com o objetivo de cometer delitos a partir dos dados publicados. E é claro que ainda há a questão de segurança, ao expor crianças com uniformes e suas rotinas nas redes sociais, o endereço da residência da família, local de trabalho, programação de viagens.

Há pouco tempo uma influenciadora digital publicou foto em seu perfil em rede social e, em virtude dela, foi vítima de um assalto. Na imagem, é possível ver no pulso da influenciadora um relógio de marca de luxo, que foi exatamente o item alvo do roubo. Segundo a própria vítima, o assaltante armado entrou procurando por ela e, mesmo em um ambiente repleto de outras pessoas, ela foi a única a ser roubada.

Em abordagem, que parece ter se tornado corriqueira, golpistas pedem transferência de dinheiro por aplicativos de mensagens do celular, utilizando, inclusive, a foto da vítima no perfil de identificação do número. Esse golpe vem ficando ainda mais sofisticado, já que os fraudadores conseguem identificar parentes e amigos pelo nome, utilizando referências familiares ou de determinados grupos de amizade. Todos conhecemos alguém que já passou por essa desagradável situação, não é mesmo?

Desta forma, nada adianta o clamor pela proteção e a exigência do controle sobre a decisão de como dar-se-á o tratamento dos dados pessoais, se nas redes sociais esses critérios parecem passar despercebidos pelos administradores dos perfis. Não estamos falando da política dos aplicativos que apresentam termos que poucos efetivamente leem antes de dar o check “Li e aceito”, mas sim dos próprios detentores desta proteção legal, perpassando conscientização do usuário frente a nova era digital.

Disponível em: <https://www.jota.info/opiniao-e-analise/artigos/dados-pessoais-a-privacidade-ou-falta-dela-na-era-digital>

### QUESTÃO 07

No trecho:

“Nada adianta o clamor pela proteção se nas redes sociais esses critérios passam despercebidos...”

O emprego do presente do indicativo em “passam” produz efeito de:

- A. Generalização atemporal, conferindo valor gnômico ao enunciado.
- B. Indicação de ação futura com valor de certeza.
- C. Hipótese eventual dependente de condição implícita.
- D. Ação concluída no momento da enunciação.

#### QUESTÃO 08

No trecho:

“O direito à privacidade, no Brasil, é basilar. A Constituição Federal de 1988 já garante aos indivíduos a privacidade...”

Quanto à classificação e ao valor semântico:

- A. “direito” é adjetivo substantivado; “basilar” é substantivo comum.
- B. “direito” é substantivo concreto; “basilar” é advérbio de modo.
- C. “direito” é substantivo abstrato; “basilar” é adjetivo qualificativo de valor avaliativo.
- D. “direito” é substantivo coletivo; “basilar” é adjetivo relacional.

#### QUESTÃO 09

No trecho:

“Em vez de pelo menos um livrinho barato, ela nos entregava em mãos um cartão-postal da loja do pai.”

A palavra “cartão-postal” constitui exemplo de:

- A. Composição por aglutinação com alteração fonética.
- B. Composição por justaposição, mantendo a integridade fonológica dos radicais.
- C. Derivação imprópria por mudança de classe gramatical.
- D. Parassíntese nominal.

#### QUESTÃO 10

Observe o trecho:

“Eu nem notava as humilhações a que ela me submetia: continuava a implorar-lhe emprestados os livros que ela não lia.”

Na reescrita:

“Ela se submetia às humilhações.”

O pronome “se” exerce função de:

- A. Parte integrante de verbo pronominal, sem função sintática autônoma.
- B. Partícula apassivadora, transformando o verbo em voz passiva sintética.
- C. Índice de indeterminação do sujeito.
- D. Pronome reflexivo com função de objeto direto.

## INFORMÁTICA

#### QUESTÃO 11

Um sistema operacional moderno precisa gerenciar eficientemente múltiplos processos, memória e acesso a arquivos, garantindo desempenho e isolamento entre aplicações. Nesse contexto, analise os itens a seguir:

- I. O escalonamento de processos é responsável por definir a ordem de execução dos processos na CPU, podendo impactar diretamente o desempenho e a responsividade do sistema.
- II. A memória virtual permite que o sistema operacional utilize parte do disco rígido como extensão da memória RAM, possibilitando a execução de programas que excedem a capacidade física disponível.
- III. O sistema de arquivos é responsável exclusivamente pelo armazenamento físico dos dados no disco, não estando relacionado a permissões ou organização lógica.
- IV. A interface do sistema operacional limita-se à interface gráfica (GUI), sendo a linha de comando (CLI) um recurso externo e independente do sistema operacional.

Assinale a opção CORRETA:

- A. Apenas I e II estão corretas.
- B. Apenas I, II e III estão corretas.
- C. Apenas II, III e IV estão corretas.
- D. Apenas I, III e IV estão corretas.

#### QUESTÃO 12

Em relação aos periféricos de um computador, assinale a opção CORRETA:

- A. O scanner é classificado como dispositivo de saída, pois converte informações digitais em imagens físicas.
- B. O monitor e a impressora são dispositivos de entrada e saída, pois permitem interação bidirecional com o usuário.
- C. O teclado e o mouse são dispositivos de entrada, pois permitem a inserção de dados no sistema computacional.
- D. Os dispositivos de armazenamento externo, como pendrives e HDs externos, são exclusivamente dispositivos de saída, pois apenas fornecem dados ao computador.

#### QUESTÃO 13

No contexto das redes de computadores, as tecnologias Ethernet e Wi-Fi apresentam diferenças estruturais e operacionais relevantes. Sobre essas tecnologias, analise as afirmativas a seguir:

PREFEITURA MUNICIPAL DE CAJAZEIRAS  
CONCURSO PÚBLICO DE PROVAS E TÍTULOS – EDITAL Nº 001/2025

- I. Redes Ethernet tendem a apresentar maior estabilidade e menor interferência eletromagnética em comparação às redes Wi-Fi, especialmente em ambientes com alta densidade de dispositivos.
- II. Redes Wi-Fi utilizam meios de transmissão não guiados, estando mais suscetíveis a interferências, obstáculos físicos e variações de sinal.
- III. Redes Ethernet modernas operam exclusivamente em half-duplex, o que pode gerar colisões frequentes durante a transmissão de dados.
- IV. Redes Wi-Fi oferecem maior mobilidade ao usuário, porém, em geral, apresentam maior latência e menor confiabilidade quando comparadas às redes cabeadas.

Assinale a opção CORRETA:

- A. Apenas I, II e III estão corretas.
- B. Apenas I, II e IV estão corretas.
- C. Apenas II e III estão corretas.
- D. Apenas I, III e IV estão corretas.

**QUESTÃO 14**

Sobre o uso corporativo de ferramentas de videoconferência, como o Zoom e o Microsoft Teams, analise os itens a seguir:

- I. O agendamento de reuniões pode ser integrado a calendários corporativos, permitindo envio automático de convites aos participantes.
- II. O recurso de compartilhamento de tela permite que o apresentador exiba sua área de trabalho ou aplicativos específicos aos demais participantes da reunião.
- III. A gravação de reuniões é sempre realizada exclusivamente no dispositivo local do organizador, não sendo possível armazenamento em nuvem.
- IV. O controle de permissões durante a reunião permite ao organizador restringir ações como compartilhamento de tela e ativação de microfones pelos participantes.

Assinale a opção CORRETA:

- A. Apenas II e III estão corretas.
- B. Apenas I, III e IV estão corretas.
- C. Apenas I, II e III estão corretas.
- D. Apenas I, II e IV estão corretas.

**QUESTÃO 15**

Um usuário teve seus arquivos criptografados após clicar em um link suspeito recebido por e-mail. Ao buscar formas de evitar esse tipo de situação no futuro, ele recebeu algumas orientações relacionadas à segurança da informação.

Com base nessas práticas preventivas, assinale a opção CORRETA:

- A. A realização de backups regulares elimina completamente a necessidade de atualização de softwares, uma vez que os dados poderão ser restaurados em caso de ataque.
- B. A manutenção de cópias de segurança (backups) impede totalmente a ocorrência de ataques cibernéticos no sistema.
- C. Clicar em links desconhecidos é seguro desde que o dispositivo possua antivírus instalado e atualizado.
- D. A atualização de softwares é uma medida importante de segurança, pois corrige vulnerabilidades que podem ser exploradas por atacantes.

**QUESTÃO 16**

À luz da Lei Geral de Proteção de Dados Pessoais, os princípios que orientam o tratamento de dados pessoais visam assegurar a proteção dos direitos fundamentais de liberdade e privacidade.

Considerando os princípios da finalidade, adequação, necessidade e livre acesso, assinale a opção CORRETA:

- A. O princípio da necessidade autoriza a coleta irrestrita de dados pessoais, desde que haja consentimento do titular.
- B. O princípio da finalidade determina que os dados pessoais podem ser utilizados para qualquer propósito, desde que posteriormente informado ao titular.
- C. O princípio da adequação dispensa a compatibilidade entre a finalidade informada e o tratamento efetivamente realizado, desde que haja interesse da organização.
- D. O princípio do livre acesso garante ao titular a consulta facilitada e gratuita sobre a forma e a duração do tratamento de seus dados pessoais.

**QUESTÃO 17**

Analise as afirmativas a seguir sobre tipos de licenciamento de software e marque V para VERDADEIRO e F para FALSO:

- ( ) Softwares do tipo freeware são distribuídos gratuitamente, porém não necessariamente possuem código-fonte aberto.
- ( ) Softwares do tipo shareware são disponibilizados gratuitamente por tempo limitado ou com funcionalidades restritas, incentivando a compra da versão completa.
- ( ) Softwares comerciais são sempre gratuitos para uso pessoal, sendo cobrados apenas em ambientes corporativos.
- ( ) Softwares freeware permitem, obrigatoriamente, a modificação do código-fonte por qualquer usuário.

Assinale a sequência CORRETA:

- A. F – V – V – F.
- B. V – V – F – F.
- C. F – V – F – F.
- D. V – F – V – F.

### QUESTÃO 18

A segurança da informação, técnicas de criptografia são amplamente utilizadas para proteger dados em trânsito e em repouso.

Considerando criptografia simétrica e assimétrica, analise os itens a seguir:

- I. A criptografia assimétrica é, em geral, mais rápida e eficiente que a criptografia simétrica, sendo preferida para grandes volumes de dados.
- II. A criptografia assimétrica utiliza um par de chaves (pública e privada), sendo possível utilizar a chave pública para criptografar uma mensagem que apenas a chave privada correspondente poderá descriptografar.
- III. A criptografia simétrica utiliza uma única chave compartilhada entre emissor e receptor, o que pode representar um desafio quanto à segurança na distribuição dessa chave.
- IV. Em sistemas modernos de comunicação segura, é comum a utilização combinada de criptografia assimétrica e simétrica, aproveitando as vantagens de ambas.

Assinale a opção CORRETA:

- A. Apenas I, II e IV estão corretas.
- B. Apenas I e II estão corretas.
- C. Apenas II, III e IV estão corretas.
- D. Apenas I, III e IV estão corretas.

### QUESTÃO 19

Os sistemas computacionais modernos são compostos por diferentes tipos de softwares, cada um com funções específicas, como controle de hardware, execução de tarefas do usuário e suporte ao funcionamento do sistema.

Considerando essa classificação, assinale a opção CORRETA:

- A. Drivers são softwares utilizados exclusivamente para edição de textos e navegação na internet.
- B. Softwares utilitários têm como função principal o gerenciamento direto do hardware do computador.
- C. Sistemas operacionais gerenciam os recursos do hardware e permitem a execução de aplicativos.
- D. Softwares aplicativos são responsáveis pela comunicação entre o sistema operacional e os dispositivos físicos.

### QUESTÃO 20

Os computadores modernos são compostos por diversos componentes internos que atuam de forma integrada para garantir o processamento, armazenamento e fornecimento de energia ao sistema. O correto funcionamento depende da interação entre processador, memórias, dispositivos de armazenamento e demais elementos estruturais.

Considerando esses componentes, assinale a opção CORRETA:

- A. A memória RAM é não volátil e responsável por armazenar permanentemente os dados do sistema, mesmo após o desligamento do computador.
- B. A placa-mãe é responsável por interligar os componentes do computador, permitindo a comunicação entre CPU, memória e dispositivos de armazenamento.
- C. O SSD utiliza partes mecânicas para leitura e gravação de dados, o que o torna mais lento que o HD.
- D. A memória cache é uma memória de baixa velocidade e grande capacidade, utilizada para armazenamento secundário de dados.

## CONHECIMENTOS GERAIS

### QUESTÃO 21

Áreas urbanizadas são áreas com significativa densidade de edificações e vias, incluindo áreas livres de construções e infraestrutura. No município de Cajazeiras, segundo informações do IBGE, em 2019, a área urbanizada foi de

- A. 13,61 km<sup>2</sup>
- B. 14,30 km<sup>2</sup>
- C. 16,98 km<sup>2</sup>
- D. 17,40 km<sup>2</sup>

### QUESTÃO 22

A respeito da história do município de Cajazeiras, analise os itens a seguir:

- I. Desmembrado do município de Sousa em 1863, o nome “Cajazeiras” faz referência a uma fazenda fundada no século XVIII por Francisco Gomes Brito, onde existiam várias cajazeiras.
- II. Padre Inácio de Sousa Rolim, fundador do colégio de salesianos foi quem sugeriu o nome Cajazeiras. Em 1829, o padre Rolim funda a “Escolinha de Serraria”, que tem ligação direta com a fundação de Cajazeiras. Essa pequena escola começou a crescer a partir de 1833, atraindo estudantes do local e de outras regiões.
- III. Em 1843, o padre Rolim muda-se para seu sítio de origem, onde ainda residiam seus pais, e funda um

PREFEITURA MUNICIPAL DE CAJAZEIRAS  
CONCURSO PÚBLICO DE PROVAS E TÍTULOS – EDITAL Nº 001/2025

colégio de salesianos (hoje Colégio Nossa Senhora de Lourdes), que também atraiu vários estudantes e até mesmo personalidades, entre elas o Padre Cícero (vindo de Juazeiro do Norte, Ceará). Além dele, outras personalidades também estudaram lá e passam a residir nas imediações do colégio, sendo, por isso, o motivo pelo qual Cajazeiras é referida como “a terra que ensinou a Paraíba a ler”.

Está (ão) CORRETA (S):

- A. I, III, apenas.
- B. II, apenas.
- C. II, III, apenas.
- D. I, II, III

**QUESTÃO 23**

A respeito dos limites do território do município de Cajazeiras, assinale:

- 1. A Norte
- 2. A Nordeste
- 3. A Leste
- 4. A Sul
- 5. A Oeste
- 6. A Noroeste

- ( ) Nazarezinho.
- ( ) Bom Jesus.
- ( ) Santa Helena.
- ( ) São José de Piranhas.
- ( ) Cachoeira dos Índios.
- ( ) São João do Rio do Peixe.

Assinale a sequência CORRETA:

- A. 4 – 2 – 6 – 5 – 1 – 3
- B. 3 – 6 – 1 – 4 – 5 – 2
- C. 2 – 1 – 3 – 6 – 5 – 4
- D. 5 – 6 – 4 – 2 – 3 – 1

**QUESTÃO 24**

A respeito da natureza jurídica do Distrito Federal (DF), em relação aos outros estados, analise os itens a seguir:

- I. O Distrito Federal (DF), na nova feição constitucional, é uma unidade da Federação, conquanto sofra algumas restrições que lhe não fere absolutamente as características de Estado e de Município, desenhadas pela Carta.
- II. O Distrito Federal é um Estado e também um Município. Daí a natureza singular. É a sede da Capital Federal. Brasília é a Capital do Brasil.
- III. O Distrito Federal, vedada sua divisão em Municípios, reger-se-á por lei orgânica, votada em dois turnos com interstício mínimo de dez dias, e aprovada por dois terços da Câmara Legislativa, que

a promulgará, atendidos os princípios estabelecidos nesta Constituição.

- IV. A Lei Orgânica do Distrito Federal dita que este, no pleno exercício de sua autonomia política, administrativa e financeira, reger-se-á por esse diploma e Brasília é a Capital da República Federativa do Brasil, a sede do Governo do Distrito Federal.

Estão CORRETAS:

- A. II, III, IV, apenas.
- B. I, II, III, apenas.
- C. I, II, IV, apenas.
- D. I, II, III, IV

**QUESTÃO 25**

O mercado de trabalho brasileiro encerrou 2025 com a menor taxa de desemprego desde 2012, segundo o mais recente levantamento do IBGE (Instituto Brasileiro de Geografia e Estatística). Entre os setores responsáveis pelo avanço das contratações, estão:

- I. Comércio.
- II. Serviços
- III. Administração pública.
- IV. Construção cível.

Estão CORRETAS:

- A. I, II, III, apenas.
- B. II, III, apenas.
- C. II, III, IV, apenas.
- D. I, II, III, IV.

**QUESTÃO 26**

Analise o texto a seguir:

*Publicou o livro ‘Brasil Sertanejo’ em 1948 e, cinco anos depois, atuou como consultor do linguajar nortista e compositor no filme ‘O Cangaceiro’, de Lima Barreto (1953) e, ainda sobre a música ‘Mulher Rendeira’ (motivo atribuído a Virgulino Ferreira, o Lampião), ficou mundialmente conhecida após ser incluída no referido filme. Entre suas mais de cem composições, a segunda mais famosa é “Sodade Meu Bem, Sodade” (1953), regravada por vários intérpretes, como Nana Caymmi, Pena Branca e Xavantinho, Socorro Lira, Marcus Lucenna, Xangai e Maria Bethânia.*

O texto faz referência a(o) escritor (a) brasileiro (a):

- A. Jorge Amado.
- B. Carolina Maria de Jesus.
- C. Alfredo Ricardo do Nascimento.

**PREFEITURA MUNICIPAL DE CAJAZEIRAS**  
**CONCURSO PÚBLICO DE PROVAS E TÍTULOS – EDITAL Nº 001/2025**

D. Cecília Meireles.

**QUESTÃO 27**

Assinale a sequência CORRETA a respeito o maior e o menor país do mundo em ocupação populacional:

	PAÍS MAIOR	REGIÃO	PAÍS MENOR	REGIÃO
A.	Estados Unidos	América Setentrional	Mônaco	Europa
B.	China	Ásia	Nauru	Oceania
C.	Indonésia	Ásia	Dominica	América Latina
D.	Índia	Ásia	Santa Fé	Europa

**QUESTÃO 28**

Os instrumentos da política monetária são os mecanismos utilizados pelo Banco Central para controlar a quantidade de dinheiro em circulação, influenciar o crédito e manter a inflação dentro da meta. No Brasil, esses instrumentos afetam diretamente os juros, o consumo, os investimentos e o ritmo da economia.

A respeito da política monetária, assinale:

1. Operações de mercado aberto.
2. Taxa Selic
3. Cambio
4. Depósito Compulsório

- ( ) É o principal instrumento da política monetária brasileira. Ela serve como referência para todas as demais taxas da economia, como empréstimos, financiamentos e aplicações financeiras.
- ( ) Ocorrem quando o Banco Central compra ou vende títulos públicos no mercado. O objetivo é ajustar a liquidez do sistema financeiro, ou seja, a quantidade de dinheiro disponível na economia.
- ( ) É a parcela dos recursos que os bancos são obrigados a manter depositada no Banco Central. Esse mecanismo limita ou amplia a capacidade das instituições
- ( ) É uma operação financeira que consiste em vender, trocar ou comprar valores em moedas de outros países ou papéis que representem moedas de outros países.

Assinale a sequência CORRETA:

- A. 4 – 3 – 2 – 1
- B. 1 – 2 – 3 – 4
- C. 2 – 1 – 4 – 3
- D. 3 – 2 – 1 – 4

**QUESTÃO 29**

O Código Florestal estabelece dois tipos de áreas: a Reserva Legal e a Área de Preservação Permanente (APP).

A respeito dessas áreas julgue os itens a seguir:

- I. A Reserva Legal é a parcela de cada propriedade ou posse rural que deve ser preservada, por abrigar parcela representativa do ambiente natural da região onde está inserida e, por isso, necessária à manutenção da biodiversidade local.
- II. Na Reserva Legal a exploração pelo manejo florestal sustentável se dá nos limites estabelecidos em lei para o bioma em que está a propriedade.
- III. As Áreas de Preservação Permanente têm a função de preservar locais frágeis como beiras de rios, topos de morros e encostas, que não podem ser desmatados para não causar erosões e deslizamentos, além de proteger nascentes, fauna, flora e biodiversidade destas áreas.
- IV. As Áreas de Preservação Permanente são áreas naturais intocáveis, com rígidos limites, onde não é permitido construir, cultivar ou explorar economicamente.

Estão CORRETOS:

- A. I, II, III, IV.
- B. II, III, IV, apenas.
- C. I, II, III, apenas.
- D. I, III, apenas.

**QUESTÃO 30**

De acordo com o Art. 8º da Lei de Crimes Ambientais, as penas restritivas de direito são, entre outra, EXCETO:

- A. Prestação de serviços à comunidade.
- B. Interdição temporária de direitos.
- C. Multa.
- D. Recolhimento domiciliar.

**CONHECIMENTOS ESPECÍFICOS**

**QUESTÃO 31**

De acordo com o Art. 11 da Lei nº 9.394/96 - LDB, os Municípios incumbir-se-ão de:

Assinale a opção CORRETA:

- A. Autorizar, reconhecer, credenciar, supervisionar e avaliar, respectivamente, os cursos das instituições de educação superior e os estabelecimentos do seu sistema de ensino.
- B. Assumir o transporte escolar dos alunos da rede municipal, permitindo aos respectivos professores,

PREFEITURA MUNICIPAL DE CAJAZEIRAS  
CONCURSO PÚBLICO DE PROVAS E TÍTULOS – EDITAL Nº 001/2025

em trechos autorizados, o uso de assentos vagos nos veículos.

- C. Assegurar o ensino fundamental e oferecer, com prioridade, o ensino médio a todos que o demandarem, respeitado o disposto no art. 38 desta Lei.
- D. Elaborar e executar políticas e planos educacionais, em consonância com as diretrizes e planos nacionais de educação, integrando e coordenando as suas ações e as dos Municípios.

### QUESTÃO 32

A respeito do Art. 26 da Lei nº 9.394/96 – LDB, analise as opções e assinale a INCORRETA:

- A. A educação digital, com foco no letramento digital e no ensino de computação, programação, robótica e outras competências digitais, será componente curricular do ensino fundamental e do ensino médio.
- B. A exibição de filmes de produção nacional constituirá componente curricular complementar integrado à proposta pedagógica da escola, sendo a sua exibição obrigatória por, no mínimo, 2 (duas) horas mensais.
- C. A inclusão de novos componentes curriculares de caráter obrigatório na Base Nacional Comum Curricular dependerá de aprovação dos Conselhos Estaduais de Educação e de homologação pelo Governador de cada Estado.
- D. Os currículos a que se refere o *caput* devem abranger, obrigatoriamente, o estudo da língua portuguesa e da matemática, o conhecimento do mundo físico e natural e da realidade social e política, especialmente do Brasil.

### QUESTÃO 33

Se acordo com o Art. 5º da Lei nº 9.795/99 – (Institui a Política Nacional de Educação Ambiental), *são objetivos fundamentais da educação ambiental*, entre outros, EXCETO:

- A. A abordagem articulada das questões ambientais locais, regionais, nacionais e globais.
- B. O desenvolvimento de uma compreensão integrada do meio ambiente em suas múltiplas e complexas relações, envolvendo aspectos ecológicos, psicológicos, legais, políticos, sociais, econômicos, científicos, culturais e éticos.
- C. O estímulo e o fortalecimento de uma consciência crítica sobre a problemática ambiental e social.
- D. O fortalecimento da cidadania, autodeterminação dos povos e solidariedade como fundamentos para o futuro da humanidade.

### QUESTÃO 34

O IDEB é calculado com base no aprendizado dos alunos em português e matemática (Saeb) e no fluxo escolar (taxa de aprovação).

Na Rede Municipal de Cajazeiras, os Resultado do IDEB -2023, nos Anos Iniciais e Finais do Ensino Fundamental, respectivamente, foram:

- A. 5,8 - 4,5
- B. 5,7 - 4,8
- C. 5,9 - 4,9
- D. 5,1 - 4,3

<https://qedu.org.br/municipio/2503704-cajazeiras/ideb>

### QUESTÃO 35

A avaliação diagnóstica constitui-se num momento dialético do processo de avançar no desenvolvimento da ação, do crescimento para a autonomia, do crescimento para a competência. Isso não significa, de forma alguma, menos rigor na sua prática. Ao contrário, ela deve ter o máximo de rigor possível, técnico e científico, no seu encaminhamento. Nesse sentido, o professor deverá:

- I. Coletar, analisar e sintetizar, da forma mais objetiva possível, as manifestações dos alunos, produzindo uma configuração do efetivamente aprendido.
- II. Atribuir uma qualidade a essa configuração da aprendizagem, a partir de um padrão (nível de expectativa) preestabelecido e admitido como válido, dos conteúdos que estejam sendo trabalhados.
- III. Reorganizar o processo de aprendizagem, caso sua qualidade não corresponda ao padrão estabelecido e o conteúdo seja essencial para a formação do aluno.
- IV. Encaminhar o aluno aos próximos passos da aprendizagem quando os resultados correspondem ao padrão estabelecido, reconhecendo que o objetivo da avaliação da aprendizagem não será a aprovação ou reprovação, e sim, o redirecionamento das ações do processo.

Estão CORRETAS:

- A. I, III, apenas.
- B. II, III, apenas.
- C. I, II, III, apenas.
- D. I, II, III, IV.

### QUESTÃO 36

O conceito de ilha de calor urbano refere-se a uma anomalia térmica observada em áreas urbanas, resultante das transformações promovidas pela urbanização e pela modificação das características naturais da superfície. Essas alterações envolvem mudanças no balanço de radiação, nas propriedades térmicas dos materiais utilizados na construção civil e na supressão da vegetação, o que interfere diretamente no comportamento climático das cidades (Monteiro, 2001; Amorim, 2019; Ayoade, 1996).

**PREFEITURA MUNICIPAL DE CAJAZEIRAS**  
**CONCURSO PÚBLICO DE PROVAS E TÍTULOS – EDITAL Nº 001/2025**

Com base nas discussões apresentadas sobre urbanização e clima urbano, analise as os itens a seguir:

- I. A urbanização intensifica as interações entre sociedade e natureza, promovendo intervenções como aterros, represamento de corpos d'água e eliminação de acidentes topográficos, fatores que influenciam o clima urbano.
- II. A produção artificial de calor, decorrente de processos de combustão e das atividades humanas nas cidades, constitui um dos elementos que contribuem para alterações climáticas em áreas urbanas.
- III. A supressão da vegetação e a substituição por materiais utilizados na construção civil podem modificar o balanço de radiação da superfície, favorecendo a formação de ilhas de calor urbano.
- IV. A ocorrência de ilhas de calor urbano está diretamente associada à manutenção das características naturais da superfície, sobretudo pela presença de cobertura vegetal que amplia o albedo e reduz a absorção de radiação solar.

Estão CORRETAS:

- A. I, II, apenas.
- B. I, II, III, apenas.
- C. II, III, IV, apenas.
- D. I, III, IV, apenas.

**QUESTÃO 37**

De acordo com o Relatório Síntese 2023 do Painel Intergovernamental sobre Mudança do Clima (IPCC), o aquecimento global refere-se ao aumento sistemático da temperatura média da superfície da Terra em escala planetária, associado principalmente ao crescimento das concentrações atmosféricas de gases de efeito estufa decorrentes de atividades humanas, como a queima de combustíveis fósseis, as mudanças no uso da terra e determinados padrões de produção e consumo.

Considerando os dados apresentados pelo relatório, analise as os itens a seguir:

- I. Entre 2011 e 2020, a temperatura média da superfície global foi aproximadamente 1,1 °C superior à registrada no período 1850–1900, indicando um aumento significativo da temperatura média do planeta.
- II. O aquecimento observado nas últimas décadas ocorreu de forma homogênea entre oceanos e continentes, apresentando valores térmicos equivalentes nesses dois ambientes.
- III. A emissão global de gases de efeito estufa continuam em crescimento e apresentam contribuições historicamente desiguais entre regiões, países e

indivíduos, associadas a diferentes padrões de produção, consumo e uso da energia.

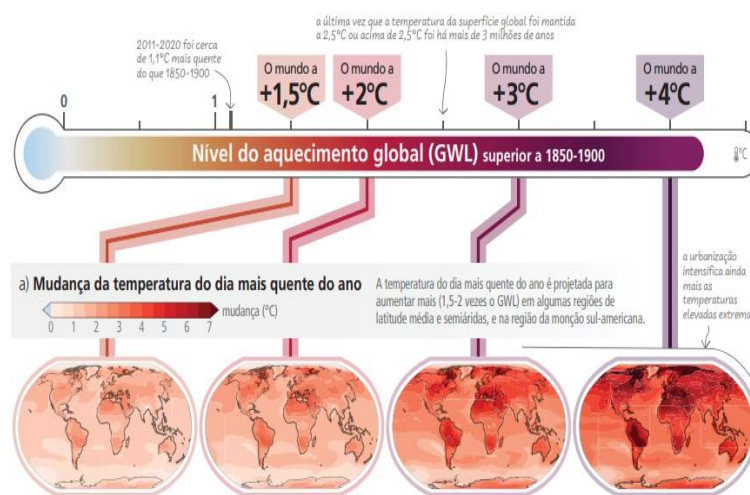
- IV. A maior parcela das emissões globais de gases de efeito estufa está associada aos setores de energia, indústria, transporte e edificações, que, em conjunto, respondem por aproximadamente 79% das emissões globais.

Estão CORRETAS:

- A. I, II, apenas.
- B. I, II, III, apenas.
- C. II, III, IV, apenas.
- D. I, III, IV, apenas.

**QUESTÃO 38**

A figura a seguir, elaborada a partir do Relatório Síntese 2023 do Painel Intergovernamental sobre Mudança do Clima (IPCC), apresenta projeções sobre como o aumento do nível de aquecimento global, em relação ao período de referência 1850–1900, influencia as mudanças regionais no clima médio e nos eventos extremos, especialmente no que se refere à temperatura do dia mais quente do ano.



Fonte: IPCC.  
[https://www.ipcc.ch/report/ar6/syr/downloads/report/IPCC\\_AR6\\_SYR\\_LongerReport\\_PO.pdf](https://www.ipcc.ch/report/ar6/syr/downloads/report/IPCC_AR6_SYR_LongerReport_PO.pdf)

Com base na análise da figura e nas evidências científicas apresentadas pelo IPCC, analise as opções e assinale a INCORRETA:

- A. À medida que o aquecimento global se intensifica, as mudanças climáticas regionais tornam-se mais generalizadas e pronunciadas, aumentando a frequência e a intensidade de eventos extremos de temperatura.
- B. O aumento da temperatura do dia mais quente do ano tende a se intensificar progressivamente conforme o aquecimento global avança, podendo ultrapassar múltiplos do aquecimento médio global em algumas regiões.

PREFEITURA MUNICIPAL DE CAJAZEIRAS  
CONCURSO PÚBLICO DE PROVAS E TÍTULOS – EDITAL Nº 001/2025

- C. O aumento do aquecimento global contribui para a redução das temperaturas extremas, uma vez que o aumento da temperatura média global tende a estabilizar as variações climáticas.
- D. Regiões continentais, especialmente áreas de latitudes médias e zonas semiáridas, apresentam tendência de maior intensificação das temperaturas extremas em cenários de maior aquecimento global.

**QUESTÃO 39**

A Geografia constitui um campo do conhecimento que se desenvolveu ao longo da história a partir de diferentes contextos sociais, políticos, culturais e científicos. Desde as primeiras civilizações, o ser humano buscou compreender o espaço em que vive, inicialmente por meio de narrativas míticas e intuitivas e, posteriormente, por meio de explicações filosóficas e científicas. Ao longo desse processo histórico, diferentes pensadores contribuíram para a consolidação da Geografia como ciência.

Com base nesse processo histórico de formação do pensamento geográfico, analise os itens a seguir e assinale V (VERDADEIRO) ou F (FALSO).

- ( ) Nas primeiras civilizações, a compreensão do espaço estava frequentemente associada a narrativas míticas e cosmológicas, transmitidas por tradições culturais e pela oralidade.
- ( ) No contexto da Grécia Antiga, autores como Heródoto e Eratóstenes contribuíram para o avanço do pensamento geográfico ao descrever territórios, povos e ao aplicar princípios matemáticos para medir a circunferência da Terra.
- ( ) Durante a Idade Média, a Geografia foi completamente abandonada pela tradição intelectual europeia, desaparecendo das discussões científicas até o período do Renascimento.
- ( ) No período medieval, o pensamento geográfico passou a ser influenciado pela visão teocêntrica, na qual o espaço era interpretado como manifestação da criação divina.

A sequência CORRETA é:

- A. V – F – V – V  
B. F – V – F – V  
C. V – V – V – F  
D. V – V – F – V

**QUESTÃO 40**

As categorias geográficas constituem conceitos fundamentais utilizados pela Geografia para analisar e compreender o espaço geográfico e as relações estabelecidas entre sociedade e natureza. Entre essas categorias destacam-se espaço, lugar, paisagem, região e território, que permitem interpretar diferentes dimensões

da organização do espaço e das relações sociais que nele se desenvolvem.

Com base nas definições dessas categorias, analise os itens a seguir.

- I. O espaço geográfico corresponde ao objeto de estudo da Geografia, sendo entendido como resultado das interações entre sociedade e natureza, constituído por elementos materiais e imateriais produzidos socialmente.
- II. A categoria lugar refere-se exclusivamente a uma localização física no espaço, definida apenas por suas coordenadas geográficas, sem considerar aspectos simbólicos, culturais ou identitários.
- III. A paisagem pode ser compreendida como o conjunto de elementos perceptíveis do espaço, associados às formas visíveis e às percepções sensoriais, podendo expressar apenas parcialmente a realidade social que a produz.
- IV. A categoria território está associada às relações de poder, ao controle e à apropriação de uma porção do espaço, podendo envolver disputas e conflitos entre diferentes grupos sociais.

Estão CORRETAS:

- A. I, II, apenas.  
B. I, III, IV, apenas.  
C. II, III, IV, apenas.  
D. I, II, III, IV.

**QUESTÃO 41**

A Climatologia Geográfica no Brasil passou por mudanças significativas a partir da segunda metade do século XX, quando novas abordagens passaram a enfatizar a dinâmica atmosférica e a compreensão da gênese dos tipos de tempo. Essa perspectiva rompeu com o predomínio anterior de estudos estritamente descritivos e estatísticos, ampliando a análise para a relação entre os atributos climáticos, o ritmo climático e as interações entre sociedade e natureza.

Com base nessas discussões sobre a Climatologia Geográfica, analise as opções e assinale a INCORRETA:

- A. A abordagem dinâmica da Climatologia Geográfica busca compreender a sucessão dos tipos de tempo e o ritmo dos atributos climáticos, permitindo interpretar os processos que estruturam o clima de determinada região.
- B. Antes da mudança paradigmática ocorrida na segunda metade do século XX, os estudos climatológicos no Brasil eram predominantemente estatísticos e descritivos, centrados na análise de médias e na observação de elementos climáticos.

- C. A análise climática baseada na compreensão da gênese dos tipos de tempo possibilita a classificação climática, considerando a dinâmica atmosférica e a interação entre fatores geográficos.
- D. A Climatologia Geográfica contemporânea mantém exclusivamente o enfoque estatístico tradicional, baseado apenas na análise de médias climáticas, sem considerar a dinâmica atmosférica ou as interações socioambientais.

**QUESTÃO 42**

A análise da variabilidade pluviométrica é um dos procedimentos fundamentais nos estudos de Climatologia Geográfica, permitindo compreender a dinâmica das precipitações e suas variações interanuais em determinada localidade. O acompanhamento desses dados possibilita identificar anos mais chuvosos ou mais secos, contribuindo para análises climáticas regionais e para o planejamento socioambiental.

Observe o gráfico a seguir, que apresenta a Pluviometria anual observada (mm) no município de Cajazeiras – PB, no período de 2020 a 2025.

Município/Posto	Data	Pluviometria observada (mm)
Cajazeiras	2020	1.776,3
Cajazeiras	2021	1.060,1
Cajazeiras	2022	1.625,8
Cajazeiras	2023	1.219,3
Cajazeiras	2024	1.192,0
Cajazeiras	2025	1.019,1

Fonte: AESA. <https://www.aesa.pb.gov.br/chuvas/>.  
Com base na análise dos dados apresentados no gráfico sobre a Pluviometria anual observada (mm) no município de Cajazeiras – PB, no período de 2020 a 2025.

Analise os itens a seguir.

- I. O ano de 2020 apresentou o maior total pluviométrico do período analisado, com aproximadamente 1.776,3 mm de precipitação.
- II. Entre os anos analisados, 2025 apresentou o menor total pluviométrico, registrando cerca de 1.019,1 mm.
- III. Individualmente, os anos de 2021 e 2024 apresentaram totais pluviométricos superior ao registrado em 2022.
- IV. Observa-se que 2022 registrou um total pluviométrico superior ao observado em 2023.

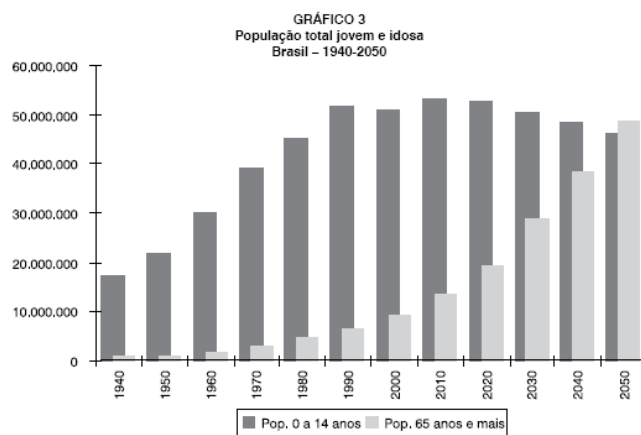
Estão CORRETAS:

- A. I, II, apenas.
- B. II, III, IV, apenas.
- C. I, II, IV, apenas.
- D. I, II, III, IV.

**QUESTÃO 43**

A dinâmica demográfica brasileira apresenta mudanças significativas ao longo do tempo, refletindo transformações sociais, econômicas e sanitárias que influenciam a estrutura etária da população. A redução das taxas de fecundidade e o aumento da expectativa de vida têm contribuído para o processo de envelhecimento populacional observado nas últimas décadas.

Observe o gráfico a seguir, que apresenta a evolução da população jovem (0 a 14 anos) e da população idosa (65 anos ou mais) no Brasil, no período de 1940 a 2050.



Fonte: IBGE/Diretoria de Pesquisas. Coordenação de População e Indicadores Sociais. Gerência de Estudos e Análises da Dinâmica Demográfica. 2004. Censos Demográficos de 1940, 1950, 1960 e 1970.

Com base na análise das informações apresentadas no gráfico, analise os itens a seguir.

- I. Ao longo do período analisado, observa-se uma tendência de redução da população jovem (0 a 14 anos) a partir das últimas décadas do século XX.
- II. A população idosa (65 anos ou mais) apresenta crescimento contínuo ao longo do período representado no gráfico, indicando o avanço do processo de envelhecimento populacional.
- III. As projeções indicam que, por volta de 2050, a população idosa (65 anos ou mais) deverá ultrapassar numericamente a população jovem (0 a 14 anos) no Brasil.
- IV. O gráfico indica que a população jovem apresenta crescimento contínuo durante todo o período analisado, sem redução em nenhuma das décadas representadas.

Assinale a alternativa CORRETA:

- A. I, II, III, apenas.
- B. II, III, IV, apenas.
- C. I, II, IV, apenas.
- D. I, II, III, IV.

**QUESTÃO 44**

Nas últimas décadas, os debates sobre sustentabilidade e meio ambiente passaram a reconhecer que as cidades ocupam posição estratégica nas discussões sobre

PREFEITURA MUNICIPAL DE CAJAZEIRAS  
CONCURSO PÚBLICO DE PROVAS E TÍTULOS – EDITAL Nº 001/2025

mudanças climáticas e perda da biodiversidade. Isso ocorre porque grande parte da população mundial vive em áreas urbanas e muitas das atividades econômicas, sociais e produtivas responsáveis por impactos ambientais estão concentradas nesses espaços. Além disso, as cidades têm se tornado importantes locais de implementação de políticas públicas voltadas à mitigação das emissões de gases de efeito estufa e à adaptação aos eventos climáticos extremos.

Considerando esse contexto sobre a relação entre urbanização, mudanças climáticas e sustentabilidade, analise as os itens a seguir e assinale V (VERDADEIRO) ou F (FALSO).

- ( ) A crescente urbanização mundial tem reforçado a necessidade de políticas urbanas voltadas para adaptação climática, planejamento ambiental e melhoria das condições socioambientais nas cidades.
- ( ) A participação de governos locais e regionais em agendas internacionais de sustentabilidade ganhou maior visibilidade a partir da década de 1990, com conferências globais sobre meio ambiente e desenvolvimento.
- ( ) A concentração populacional e econômica nas cidades contribui para que os espaços urbanos sejam simultaneamente parte dos problemas ambientais e também parte das soluções.
- ( ) As crises ambientais contemporâneas, como a mudança do clima e a perda da biodiversidade, estão totalmente dissociadas da dinâmica urbana, sendo fenômenos restritos às áreas rurais.

A sequência CORRETA é:

- A. V – F – V – V.
- B. F – V – V – F.
- C. V – V – V – F.
- D. V – V – F – V.

**QUESTÃO 45** \_\_\_\_\_

A transição para veículos elétricos constitui um processo tecnológico e socioeconômico associado à busca por alternativas energéticas mais sustentáveis no setor de transportes. No Brasil, esse processo ocorre em um contexto marcado por particularidades estruturais, como a matriz elétrica predominantemente renovável, a disponibilidade de recursos minerais estratégicos e desafios relacionados à infraestrutura e à difusão tecnológica.

Com base nas características da mobilidade elétrica no Brasil, analise os itens a seguir.

- I. O crescimento da frota de veículos elétricos no Brasil tem ocorrido de forma gradual, ainda

representando uma participação relativamente pequena no total da frota nacional.

- II. A matriz elétrica brasileira, com elevada participação de fontes renováveis, constitui um fator potencialmente favorável à expansão da mobilidade elétrica no país.
- III. A ampliação da infraestrutura de recarga constitui um dos desafios para a difusão mais ampla dos veículos elétricos no território brasileiro.
- IV. A expansão da mobilidade elétrica no Brasil ocorre predominantemente em áreas rurais e cidades de pequeno porte, em função da menor demanda energética e da menor densidade urbana.

Estão CORRETAS:

- A. I, II, apenas.
- B. I, II, III, apenas.
- C. II, III, IV, apenas.
- D. I, II, III, IV.

**QUESTÃO 46** \_\_\_\_\_

A mineração de ferro possui papel estratégico na economia brasileira, colocando o país entre os maiores produtores e exportadores mundiais desse recurso mineral. No território nacional, a produção concentra-se principalmente em áreas geologicamente favoráveis, destacando-se grandes províncias minerais associadas a formações ferríferas bandadas e a estruturas geológicas antigas. Essas regiões exercem forte influência na organização da atividade mineradora e na dinâmica econômica regional.

Com base nas características da produção de minério de ferro no Brasil, analise as opções a assinala a INCORRETA:

- A. A região de Carajás, localizada no estado do Pará, destaca-se internacionalmente por abrigar extensas reservas de minério de ferro de alta qualidade associadas a formações ferríferas bandadas.
- B. O Quadrilátero Ferrífero, situado em Minas Gerais, constitui uma importante área histórica de exploração mineral, envolvendo municípios como Itabira, Congonhas e Mariana.
- C. A Mina Pau Branco, localizada no município de Nova Lima (BA) e operada pela Vallourec Tubos do Brasil Ltda, constitui uma das minas ativas relacionadas à exploração de minério de ferro no país.
- D. Entre as empresas que mais contribuem para o faturamento da produção de minério de ferro no Brasil destacam-se grandes grupos mineradores com atuação nos estados do Pará e de Minas Gerais.

**QUESTÃO 47** \_\_\_\_\_

A respeito das principais minas ativas de ouro no Brasil, analise as opções e assinala a INCORRETA:

PREFEITURA MUNICIPAL DE CAJAZEIRAS  
CONCURSO PÚBLICO DE PROVAS E TÍTULOS – EDITAL Nº 001/2025

- A. Mina em Salto de Pirapora (SP) - Votorantim S.a.
- B. Mina de Paracatu, em Paracatu (MG) - Kinross Brasil Mineração S.a.
- C. Mina Cuiabá, Sabará (MG) - AngloGold Ashanti Corrego do Sitio Mineracao S.a.
- D. Mina Jacobina, Jacobina (BA) - Jacobina Mineração e Comercio Ltda.

**QUESTÃO 48** \_\_\_\_\_

De acordo com o Instituto Brasileiro de Geografia e Estatística – IBGE, sobre a Paraíba, analise as opções e assinale a INCORRETA:

- A. Área Territorial (2024) - 56.467,242km<sup>2</sup>.
- B. População no último censo (2022) - 3.974.687pessoas.
- C. Densidade demográfica (2022) - 70,39hab/km<sup>2</sup>.
- D. População estimada (2025) - 5.164.468 pessoas.

**QUESTÃO 49** \_\_\_\_\_

A Caatinga é um dos biomas brasileiros e apresenta características ambientais específicas relacionadas ao clima semiárido, à vegetação adaptada à escassez de água e à biodiversidade particular dessa região. Trata-se de um bioma exclusivamente brasileiro, predominante na região Nordeste e caracterizado por longos períodos de estiagem e vegetação adaptada às condições de aridez.

Com base nas características do bioma Caatinga, analise os itens a seguir.

- I. A vegetação da Caatinga apresenta baixa diversidade biológica, sendo composta majoritariamente por espécies pouco adaptadas às condições de seca prolongada.
- II. A Caatinga é um bioma exclusivamente brasileiro, predominante na região Nordeste e adaptado às condições do clima semiárido.
- III. A vegetação da Caatinga apresenta adaptações à escassez de água, como folhas reduzidas ou transformadas em espinhos, raízes profundas e queda de folhas durante os períodos de seca.
- IV. Apesar de sua aparência árida, a Caatinga apresenta grande diversidade biológica, com várias espécies da fauna e da flora adaptadas às condições climáticas da região.

Estão CORRETAS:

- A. I, II, apenas.
- B. I, II, III, apenas.
- C. II, III, IV, apenas.
- D. I, II, III, IV.

**QUESTÃO 50** \_\_\_\_\_

Os fusos horários são divisões da superfície terrestre estabelecidas para padronizar a contagem do tempo em

diferentes regiões do planeta. Essa divisão está relacionada ao movimento de rotação da Terra e à variação da incidência da luz solar sobre as diferentes longitudes. Em termos gerais, o planeta foi dividido em 24 fusos horários, correspondentes aproximadamente a 15° de longitude cada, tendo como referência o Meridiano de Greenwich (0°).

Com base nas características dos fusos horários, analise os itens a seguir:

- I. A divisão da Terra em fusos horários está relacionada ao movimento de rotação do planeta, responsável pela sucessão de dias e noites.
- II. O Meridiano de Greenwich, localizado a 180° de longitude, constitui o principal referencial utilizado para a definição dos fusos horários no planeta.
- III. Cada fuso horário corresponde, aproximadamente, a 15° de longitude, resultante da divisão dos 360° da circunferência terrestre pelas 24 horas do dia.
- IV. Ao deslocar-se para leste, os horários tendem a adiantar, enquanto ao deslocar-se para oeste, os horários tendem a atrasar em relação ao meridiano de referência.

Estão CORRETAS:

- A. I, II, apenas.
- B. I, II, III, apenas.
- C. I, III, IV, apenas.
- D. I, II, III, IV.

---

RASCUNHO