

Prefeitura Municipal de Ipumirim

Concurso Público – 01/2026

CADERNO DE PROVA

Organizadora:



SERVENTE

LEIA ATENTAMENTE AS INSTRUÇÕES:

- Durante a realização da prova não será permitido ao candidato, sob pena de exclusão do Concurso Público:
 - a) Qualquer espécie de consulta bibliográfica, utilização de livros, manuais ou anotações;
 - b) Comunicação entre candidatos;
 - c) Uso de máquina calculadora;
 - d) Uso de relógio de qualquer tipo;
 - e) Agendas eletrônicas, telefones celulares, smartphones, MP3, notebook, palmtop, tablet, BIP, walkman, gravador ou qualquer outro receptor ou transmissor;
 - f) Uso de óculos escuros, bonés, protetores auriculares e outros acessórios similares;
 - g) Perturbar de qualquer modo a execução dos trabalhos;

- Todas as respostas do Caderno de Prova deverão ser transportadas para o Cartão Resposta;

- Não serão computadas as questões não assinaladas ou que contenham mais de uma resposta, ementa ou rasura;

- O gabarito da letra escolhida deve ser pintado de forma a completar todo o círculo. Exemplo:

Alternativas



- Para a realização da Prova Escrita, o candidato deverá utilizar caneta esferográfica de tubo transparente nas cores azul ou preta;
- Não é permitido ao candidato a permanência no local de prova como também de utilizar os banheiros após a realização da prova, na entrega do caderno de provas e gabarito, o candidato deverá retirar-se do local;

- Ao terminar a prova, o candidato entregará ao fiscal o Caderno de Prova e o Cartão Resposta devidamente preenchido e assinado;
- A Prova escrita terá duração 03h00min (três horas), incluindo o tempo para preenchimento do cartão resposta. A duração mínima para realização da prova é de 01 (uma) hora.
- A Prova será composta por 40 questões de múltipla escolha, sendo cada questão composta de 05 alternativas (a, b, c, d, e), possuindo somente uma alternativa correta;
- Verifique se o Caderno de Provas está completo, sem falhas de impressão e se a quantidade de questões está correta;
- Você deverá transcrever as respostas das questões para o Cartão-Resposta, que será o único documento válido para a correção das provas.
- O preenchimento do Cartão Resposta é de inteira responsabilidade do candidato e não será substituído em caso de erro do candidato.

BOA PROVA!

Língua Portuguesa

O texto seguinte servirá de base para responder às questões de 1 a 5.

Violência Contra a Mulher

Se o Brasil não se comprometer um pouco mais em oferecer segurança às mulheres, as mortes vão continuar chamando atenção de maneira severa. Eu creio que, o Estado já percebeu que "homens violentos não respeitam leis". A atenção ao aumento de pena, as leis de modo geral, é uma atenção negativa! Comportamentos inadequados, promovidos pela impulsividade não é "desculpas" para matar. Mulheres morrem mais do que se estivessem em guerra! A violência não pode ser compensatória para quem a pratica. É necessário valorizar o que as mulheres dizem; melhor dizendo: sofrem. Pois, não priorizar esse fato, é conviver com as consequências.

FREIRE, Marii. Violência contra a mulher. Pensamentos.me, Santarém, PA, 13 fev. 2026. Disponível em: <https://pensamentos.me/2026/02/13/violencia-contra-a-mulher-141/>. Acesso em: 18 fev. 2026.

Questão 01

No trecho "... as mortes vão continuar chamando atenção de maneira severa", a palavra "severa" é classificada como:

- (A) pronome, pois substitui um nome na frase.
- (B) substantivo, pois nomeia uma ação do texto.
- (C) advérbio, pois modifica diretamente o verbo.
- (D) adjetivo, pois caracteriza a maneira como algo acontece.
- (E) verbo, pois indica um acontecimento.

Questão 02

Segundo o texto, o que é necessário para enfrentar a violência contra a mulher?

- (A) Ignorar os casos e esperar que diminuam com o tempo.
- (B) Justificar a violência como resultado da impulsividade.
- (C) Tratar a violência como algo normal na sociedade.
- (D) Valorizar o que as mulheres dizem e oferecer mais segurança.
- (E) Aumentar as penas e criar mais leis rigorosas.

Questão 03

No trecho "Pois, não priorizar esse fato é conviver com as consequências", a palavra "Pois" indica ideia de:

- (A) condição, apresentando uma hipótese futura.
- (B) finalidade, demonstrando a intenção da ação.

- (C) comparação, colocando duas situações em contraste.
- (D) explicação, mostrando o motivo do que foi dito antes.
- (E) tempo, indicando quando algo aconteceu.

Questão 04

No texto sobre violência contra a mulher, aparece a palavra consequências. A divisão correta da palavra "consequências" é:

- (A) con-se-quên-ci-as.
- (B) con-se-quênc-ias.
- (C) con-sequ-ên-cias.
- (D) con-se-quê-nci-as.
- (E) cons-eq-uên-ci-as.

Questão 05

No texto sobre violência contra a mulher, o autor afirma que é necessário oferecer mais segurança às mulheres.

No contexto apresentado, a palavra "segurança" pode ser substituída, sem mudar o sentido da frase, por:

- (A) fraqueza.
- (B) proteção.
- (C) ameaça.
- (D) dúvida.
- (E) descuido.

Raciocínio Lógico

Questão 06

No depósito de um escritório existem 6 caixas que comportam ao todo 180 pastas de documentos. Se o depósito tivesse 10 caixas, todas com a mesma capacidade de armazenamento, quantas pastas poderiam ser organizadas ao todo?

- (A) 270 pastas.
- (B) 240 pastas.
- (C) 60 pastas.
- (D) 300 pastas.
- (E) 210 pastas.

Questão 07

Uma equipe de monitoramento climático registrou que uma intensa tempestade teve duração total de 9.780 segundos. Ao converter esse intervalo para horas e minutos, quanto tempo durou a tempestade?

- (A) 2 horas e 38 minutos.
- (B) 2 horas e 30 minutos.
- (C) 2 horas e 43 minutos.
- (D) 3 horas e 7 minutos.
- (E) 1 hora e 54 minutos.

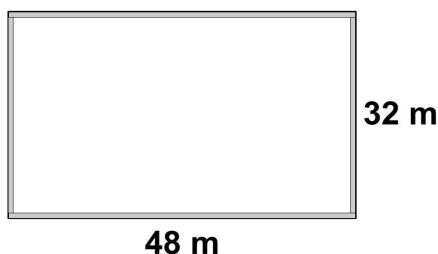
Questão 08

Um curso de confeitaria teve 125 participantes que pagaram R\$48,00 cada e 38 convidados que não precisaram pagar. Considerando o valor total recebido, após o pagamento de todas as despesas, que totalizaram R\$5.620,00, qual foi o valor que restou em caixa?

- (A) Restaram R\$380,00.
- (B) Restaram R\$140,00.
- (C) Restaram R\$620,00.
- (D) Restaram R\$520,00.
- (E) Restaram R\$240,00.

Questão 09

A líder comunitária Joana está elaborando um documento para solicitar à prefeitura a instalação de piso tátil em todo o contorno da praça do seu bairro. A praça é retangular e possui 48 m de comprimento e 32 m de largura, conforme demonstrado na imagem abaixo:



Para que a solicitação seja atendida, ela precisa colocar a medida exata do perímetro da praça. Quanto mede esse perímetro?

- (A) 128 metros.
- (B) 160 metros.
- (C) 176 metros.
- (D) 152 metros.
- (E) 96 metros.

Questão 10

Uma biblioteca adquiriu 800 livros para seu acervo. Após uma triagem inicial, verificou-se que 15% deles precisam de pequenos reparos antes de serem disponibilizados ao público. Quantos livros necessitam desses ajustes?

- (A) 140 livros.
- (B) 100 livros.
- (C) 160 livros.
- (D) 120 livros.
- (E) 180 livros.

Conhecimentos Gerais

Questão 11

Santa Catarina é um estado brasileiro que possui diferentes tipos de paisagens naturais. Em seu território, é possível encontrar áreas próximas ao mar e outras mais elevadas, onde vivem muitas pessoas. Essas características fazem parte do espaço onde a população se organiza.

Qual característica pertence ao espaço geográfico de Santa Catarina?

- (A) Existência apenas de regiões desertas.
- (B) Clima seco durante todo o ano.
- (C) Presença de planaltos e áreas litorâneas no mesmo território.
- (D) Ausência total de rios.
- (E) Relevo totalmente plano em todo o estado.

Questão 12

O município de Ipumirim passou por um processo de ocupação que resultou na criação de áreas de moradia e trabalho. Ao longo desse processo, o espaço foi sendo organizado e novas formas de convivência social se estabeleceram. Esse movimento contribuiu para a construção da identidade local.

Considerando esse contexto, quem foram os principais responsáveis pela colonização local?

- (A) Grandes empresas industriais.
- (B) Grupos que se fixaram apenas em áreas urbanas.
- (C) Exploradores de minérios.
- (D) Populações vindas de outros países sem atividade agrícola.
- (E) Famílias de pequenos agricultores.

Questão 13

As atividades econômicas podem ser organizadas em setores que ajudam a compreender como a sociedade produz bens e serviços. Nos municípios do interior catarinense, esses setores se articulam de acordo com as características locais, como solo, população e infraestrutura. Em Ipumirim, assim como em outros municípios da região, essa divisão auxilia a identificar as principais fontes de renda.

Qual atividade pertence ao setor primário da economia?

- (A) Transporte urbano.
- (B) Agricultura.
- (C) Comércio varejista.
- (D) Atividades administrativas.
- (E) Serviços bancários.

Questão 14

Antes da formação das cidades, o território de Santa

Catarina já era ocupado por grupos humanos. Esses grupos viviam da caça, da pesca, da coleta e da agricultura, mantendo costumes próprios e relação direta com a natureza. A presença desses povos marcou o início da história regional.

Considerando esse contexto, quem foram os primeiros habitantes do território catarinense?

- (A) Missionários religiosos.
- (B) Povos indígenas.
- (C) Bandeirantes paulistas.
- (D) Populações africanas escravizadas.
- (E) Imigrantes europeus.

Questão 15

Os municípios brasileiros possuem símbolos oficiais que representam sua identidade, história e valores coletivos. Esses símbolos são utilizados em documentos, eventos e espaços públicos, reforçando o sentimento de pertencimento da população local. No caso de Ipumirim, assim como em outros municípios, esses elementos seguem normas legais.


Qual dos itens abaixo é considerado um símbolo oficial municipal?

- (A) Posto de saúde.
- (B) Rodovia estadual.
- (C) Escola municipal.
- (D) Bandeira.
- (E) Praça pública.

Conhecimentos Específicos

O texto seguinte servirá de base para responder às questões de 16 a 17.

Observe a imagem a seguir:



Confederação Nacional do Transporte - CNT. Despoluir - Programa Ambiental do Transporte. Lixo faça sua parte. SEST/SENAT. 2007.

Questão 16

A figura ilustra quatro diferentes coletores de resíduos, identificados para papel, metal, vidro e plástico. Embora destinados a materiais distintos, todos apresentam o mesmo símbolo gráfico. Esse símbolo corresponde a:

- (A) Símbolo de risco químico ou produto com toxicidade ambiental.
- (B) Símbolo universal da reciclagem (três setas em ciclo fechado).
- (C) Símbolo de material inflamável.
- (D) Símbolo de descarte de lixo comum (resíduos não tóxicos).
- (E) Símbolo de coleta hospitalar ou resíduo infectante.

Questão 17

A figura apresenta lixeiras destinadas à coleta seletiva de diferentes tipos de resíduos sólidos. Além da indicação textual do material a ser descartado, esses recipientes também seguem um padrão visual que auxilia a identificação rápida pelos usuários. Com base na organização das lixeiras, é possível identificá-las principalmente porque:

- (A) A separação é feita somente após a coleta, não havendo qualquer critério de diferenciação visual entre os coletores.
- (B) Cada lixeira apresenta uma cor diferente, padronizada para determinado tipo de resíduo, facilitando a separação correta dos materiais.
- (C) Todas as lixeiras utilizam a mesma cor, sendo diferenciadas pelo tamanho e textura do recipiente.
- (D) Os recipientes são distinguidos pelo formato, circular ou retangular, sendo cada formato correspondente a um resíduo específico.
- (E) A identificação ocorre por meio do símbolo de reciclagem, que varia o tom de cor, conforme o tipo de material descartado.

Questão 18

A limpeza urbana compreende atividades como varrição de vias públicas, remoção de entulhos, coleta de resíduos e conservação de logradouros, sendo essencial para a manutenção da saúde coletiva, da segurança e da qualidade de vida da população. Esses serviços contribuem para a prevenção de diversas situações indesejáveis no espaço urbano. Nesse contexto, analise os itens a seguir:

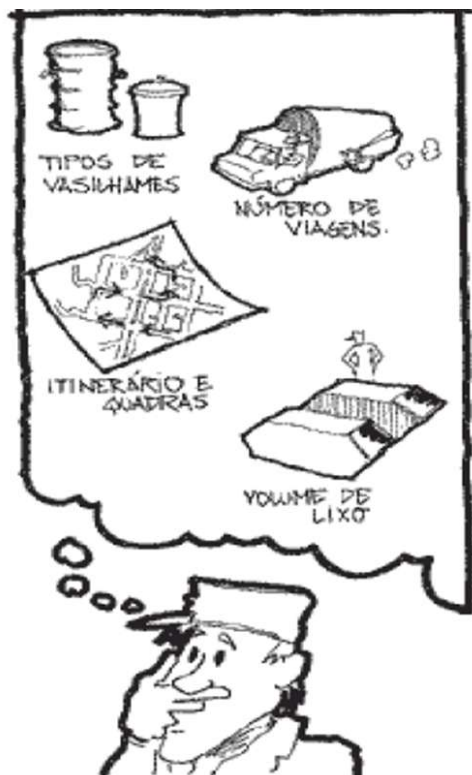
- I. Problemas sanitários para a comunidade.
- II. Inundações de ruas decorrentes do entupimento de bueiros.
- III. Riscos de acidentes para pedestres.

É CORRETO o que se afirma em:

- (A) I e III, apenas.
- (B) III, apenas.
- (C) I e II, apenas.
- (D) I, II e III.
- (E) II, apenas.

Questão 19

Observe a figura:



Fonte: Bahia, S.R. et al. Cartilha de limpeza urbana. Centros de Estudos e Pesquisas Urbanas (CPU). Ministério do Meio Ambiente.

A figura apresenta orientações relacionadas ao planejamento das rotas de coleta de resíduos, destacando cuidados como evitar percursos desnecessários, aproveitar a capacidade máxima do veículo e organizar o itinerário de modo eficiente. Essas medidas têm como principal objetivo:

- (A) Permitir que os caminhões circulem vazios para facilitar o tráfego.
- (B) Aumentar o tempo de circulação dos veículos coletores nas vias urbanas.
- (C) Melhorar a eficiência do serviço, economizar recursos e minimizar impactos ao ambiente urbano.
- (D) Reduzir a frequência da coleta, independentemente da demanda da população.
- (E) Priorizar apenas a velocidade do serviço, sem considerar custos ou desgaste dos equipamentos.

Questão 20

Considere os seguintes materiais e equipamentos: balde, esfregão, mop, água, Equipamentos de Proteção Individual (EPI) e sinalização de segurança.

Esses recursos são empregados, principalmente, na execução de qual atividade? Assinale a alternativa CORRETA.

- (A) Remoção de poeira de móveis.

- (B) Varrição úmida.
- (C) Pintura de paredes.
- (D) Manutenção de redes hidráulicas.
- (E) Varrição seca de áreas externas.

Questão 21

Além dos serviços de limpeza e manutenção realizados pelo poder público em ruas, praças, jardins e logradouros públicos, a colaboração da população é fundamental para a conservação e organização dos espaços urbanos.

Analise as atitudes a seguir:

I. Ao passear com seu animal de estimação, levar sacola plástica para recolher as fezes produzidas.

II. Em praias, levar sacola para recolher o lixo gerado durante sua permanência no local.

III. Em feiras livres, descartar papéis, copos e demais resíduos nos locais apropriados após o consumo de alimentos.

É CORRETO o que se afirma em:

- (A) I, II e III.
- (B) I e III, apenas.
- (C) II, apenas.
- (D) I, apenas.
- (E) I e II, apenas.

Questão 22

As rotinas de trabalho correspondem ao conjunto de tarefas executadas regularmente pelos profissionais da limpeza urbana, sendo organizadas por meio de cronogramas diários, semanais ou mensais, conforme as necessidades do serviço. O cumprimento dessas rotinas contribui para a eficiência, a organização do ambiente e a qualidade do atendimento à população. Manoel é Servente e, em relação à organização de seu trabalho, realiza as condutas abaixo. Assinale a alternativa CORRETA.

- (A) Segue o cronograma diário de atividades conforme as orientações da chefia imediata.
- (B) Deixa de cumprir o cronograma estabelecido, preferindo organizar sua própria rotina.
- (C) Altera o cronograma por conta própria, sempre que surgem demandas diferentes no local.
- (D) Executa apenas as tarefas que considera mais simples, deixando as demais de lado.
- (E) Inicia as atividades sem consultar o planejamento ou as orientações recebidas.

Questão 23

A conservação dos materiais e equipamentos utilizados no ambiente de trabalho é responsabilidade de quem os utiliza, devendo o profissional adotar cuidados que garantam a durabilidade, a segurança e o bom funcionamento dos instrumentos de serviço. No que se

refere às atribuições do profissional Servente, analise os itens a seguir:

I.Finalizadas as atividades, realizar a limpeza e o correto armazenamento dos materiais.

II.Realizar consertos em materiais danificados, inclusive em equipamentos elétricos.

III.Comprar peças para reposição de materiais avariados.

É CORRETO o que se afirma em:

- (A) I e II, apenas.
- (B) I, apenas.
- (C) I, II e III.
- (D) I e III, apenas.
- (E) II, apenas.

Questão 24

As atividades do profissional Servente exigem o uso de Equipamentos de Proteção Individual (EPI) para prevenção de riscos físicos, químicos e biológicos. Alguns podem ser higienizados e reutilizados, enquanto outros são de uso único, conforme o material de fabricação. Assinale o EPI que NÃO deve ser reutilizado.

- (A) Óculos de proteção.
- (B) Avental impermeável.
- (C) Bota de segurança.
- (D) Touca uso único.
- (E) Luvas de borracha.

Questão 25

Os Equipamentos de Proteção Individual (EPI) destinam-se à proteção de partes específicas do corpo, como cabeça, pés, mãos e tronco. No caso da proteção do tronco, existem diversos tipos de equipamentos utilizados conforme o risco envolvido na atividade. Assinale a alternativa que NÃO corresponde a equipamento de proteção do tronco.

- (A) Máscara semifacial.
- (B) Colete à prova de balas.
- (C) Jaqueta impermeável.
- (D) Aventais diversos.
- (E) Colete salva-vidas.

Questão 26

Observe a figura abaixo:



Fonte: PROGARU. Progresso e Desenvolvimento de Guarulhos S. A. Manual de Limpeza Urbana.

Os serviços de manutenção urbana incluem atividades periódicas que visam à conservação dos espaços públicos, à melhoria da sinalização visual e à organização do ambiente urbano. A ação ilustrada na imagem contribui para a visibilidade das vias, a orientação do trânsito e a preservação das guias e sarjetas. A figura refere-se a qual tipo de atividade? Assinale a alternativa CORRETA.

- (A) Pintura de guias.
- (B) Desentupimento de bueiros.
- (C) Limpeza de feiras livres.
- (D) Limpeza de córregos.
- (E) Varrição manual.

Questão 27

A organização dos serviços de coleta de resíduos deve considerar critérios de planejamento que otimizem o uso dos veículos, reduzam desperdícios e preservem o ambiente urbano, evitando trajetos desnecessários, sobrecarga de equipamentos e impactos negativos à circulação pública. Diante do exposto, analise as afirmativas:

I.Utilizar ao máximo a capacidade de carga dos veículos coletores contribui para reduzir o número de viagens e o consumo de combustível.

II.Trajetos improdutivo, nos quais o caminhão circula sem realizar coleta, devem ser evitados para otimizar o tempo de trabalho e os recursos materiais.

III.A entrada de caminhões coletores em ruas estreitas, travessas curtas ou sem saída é recomendada, pois

facilita o acesso direto aos resíduos.

Está CORRETO o que se afirma em:

- (A) I e II, apenas.
- (B) I e III, apenas.
- (C) I, II e III.
- (D) II, apenas.
- (E) I, apenas.

Questão 28

Os (X) devem ser do tipo profissional, com cabos de, no mínimo, 1,60 m de comprimento e base com lâmina de maior extensão (mínimo 0,60 m), permitindo maior alcance da área a ser limpa, maior produtividade e redução do esforço físico do trabalhador. Assinale a alternativa que substitui corretamente o (X) do texto.

- (A) panos de limpeza
- (B) coletores manuais
- (C) escovas manuais
- (D) baldes
- (E) rodos

Questão 29

É essencial que os trabalhadores conheçam com clareza as atividades a serem desempenhadas, os horários e os padrões de qualidade exigidos. A organização eficiente das rotinas depende da comunicação entre supervisores e equipes, bem como do registro de ocorrências que possam interferir na execução das tarefas. Analise os itens a seguir:

I.O cumprimento das orientações da chefia e o conhecimento prévio das tarefas favorecem a organização e a qualidade do serviço.

II.O registro de ocorrências é desnecessário, pois não interfere no planejamento das atividades diárias.

III.A comunicação entre a equipe e a supervisão contribui para a resolução de problemas e para a melhoria contínua das atividades.

Com base na análise dos itens, é possível AFIRMAR que:

- (A) Estão corretos I, II e III.
- (B) Estão corretos I e III, apenas.
- (C) Está correto apenas II.
- (D) Está correto apenas I.
- (E) Estão corretos I e II, apenas.

Questão 30

Andressa é Servente e, antes de iniciar sua jornada de trabalho, separa os materiais necessários para a limpeza e desinfecção de superfícies, transportando-os no carrinho funcional conforme as orientações recebidas. Sobre o transporte do carrinho funcional, assinale a alternativa CORRETA.

- (A) Que o transporte seja feito sem atenção às condições do piso ou obstáculos.
- (B) Que esteja limpo, organizado e com os materiais devidamente acondicionados.
- (C) Que esteja totalmente cheio, mesmo que os objetos fiquem instáveis.
- (D) Que os produtos fiquem soltos para facilitar o acesso durante o trajeto.
- (E) Que seja empurrado rapidamente para reduzir o tempo de deslocamento.

Questão 31

Os resíduos sólidos urbanos podem seguir diferentes rotas de coleta e destinação, de acordo com o tipo de material e as possibilidades de reaproveitamento, reciclagem ou tratamento. Cada rota envolve etapas específicas até a disposição final ambientalmente adequada. Relacione a coluna I às respectivas etapas descritas na coluna II:

Coluna I

- 1.Coleta regular.
- 2.Coleta seletiva com reciclagem.
- 3.Coleta seletiva com compostagem.

Coluna II

- (__)Encaminhamento para unidade de triagem, reciclagem e reuso, destinando os rejeitos ao aterro.
- (__)Transporte direto para aterro sanitário, sem separação prévia dos resíduos.
- (__)Encaminhamento para triagem e usinas de compostagem, com tratamento de resíduos orgânicos antes do envio do rejeito ao aterro.

Assinale a alternativa que apresenta a sequência CORRETA de cima para baixo.

- (A) 1, 3, 2.
- (B) 2, 3, 1.
- (C) 3, 2, 1.
- (D) 1, 2, 3.
- (E) 2, 1, 3.

Questão 32

Atravessar a rua representa um risco, atravessá-la fora da faixa de segurança aumenta esse risco. Com base na ideia expressa na frase acima, assinale a alternativa CORRETA que apresenta o mesmo sentido lógico, relacionado à prevenção de acidentes.

- (A) Trabalhar com produtos químicos é um risco, fazê-lo sem proteção aumenta esse risco.
- (B) Trabalhar de boné é um risco, trabalhar de boné no sol é um perigo.
- (C) Utilizar equipamentos é um risco, deixar de utilizá-los garante total segurança.

- (D) Subir em escada é um risco, utilizar escada em bom estado elimina completamente o risco.
- (E) Trabalhar sozinho é um risco, trabalhar sozinho é permitido por lei.

Questão 33

Observe a figura abaixo:



Fonte: PROGARU. Progresso e Desenvolvimento de Guarulhos S. A. Manual de Limpeza Urbana.

A figura apresenta trabalhadores utilizando vassouras na execução da varrição manual. Durante o uso desse equipamento, alguns cuidados são importantes para garantir ergonomia, eficiência e prevenção de esforço excessivo. Com base na situação ilustrada, assinale a alternativa CORRETA.

- (A) O cabo da vassoura deve ser compatível com a altura do trabalhador.
- (B) O cabo da vassoura deve ser o mais curto possível para aumentar a força aplicada.
- (C) O cabo da vassoura deve ser maior que a altura do trabalhador.
- (D) O cabo da vassoura deve ser flexível para facilitar os movimentos.
- (E) O tamanho do cabo não interfere na execução da varrição.

Questão 34

Vicente utiliza uma enxada para realizar a capina. Durante a execução do serviço, percebe que a lâmina não está cortando o mato com eficiência, exigindo várias passadas no mesmo local, o que compromete a produtividade.

Diante da situação apresentada, qual é o problema identificado?

Assinale a alternativa CORRETA.

- (A) O mato está muito alto.
- (B) O cabo da enxada está muito comprido.
- (C) A enxada está com o cabo frouxo.
- (D) O trabalhador está com baixa resistência física.
- (E) A enxada está cega e necessita ser amolada.

Questão 35

A varrição integra os serviços de limpeza urbana executados rotineiramente em diferentes espaços públicos. Essa atividade pode ser realizada por distintos métodos e com o uso de equipamentos variados, conforme as condições operacionais e as características do local atendido. Com base nessas informações, julgue os itens a seguir como Verdadeiro (V) ou Falso (F):

() A varrição pode auxiliar na redução de riscos sanitários, ao evitar o acúmulo de resíduos em vias e espaços públicos.

() Existem basicamente dois tipos de varrição, manual e mecanizada, sendo que a mecanizada pode substituir a manual em qualquer situação, independentemente das características do local.

() A definição do método de varrição deve considerar fatores como fluxo de pessoas, tipo de via, extensão da área e volume de resíduos gerados.

Assinale a sequência CORRETA de cima para baixo.

- (A) F, V, F.
- (B) V, F, F.
- (C) V, V, F.
- (D) F, V, V.
- (E) V, F, V.

Questão 36

A manutenção de áreas públicas, como ruas, calçadas, praças, parques e espaços de lazer, envolve diferentes métodos e técnicas de limpeza, considerando as características físicas do local, a circulação de pessoas e a preservação do mobiliário urbano. Sobre a varrição nesses ambientes, assinale a alternativa INCORRETA.

- (A) Em praças e parques, a varrição manual é frequentemente utilizada, pois permite maior cuidado próximo a vegetação, bancos e equipamentos públicos.

- (B) O recolhimento periódico de folhas, papéis e pequenos resíduos auxilia na manutenção da segurança, prevenindo escorregões e entupimentos de bueiros.
- (C) A limpeza desses espaços contribui para a conservação do ambiente urbano e para a saúde coletiva, ao reduzir o acúmulo de resíduos.
- (D) O trabalhador deve adaptar a técnica de varrição conforme as características do terreno, evitando danos ao mobiliário urbano e às áreas verdes.
- (E) A varrição mecanizada é indicada para todos os tipos de áreas públicas, inclusive locais com obstáculos, pois substitui integralmente a varrição manual.

Questão 37

O acondicionamento adequado dos resíduos é uma etapa fundamental nos serviços de varrição e coleta urbana, influenciando a segurança dos trabalhadores, a higiene do ambiente e a eficiência do transporte. Com base nas boas práticas relacionadas ao uso de sacos de lixo nesses serviços, julgue os itens a seguir como Verdadeiros (V) ou Falsos (F):

() Os sacos utilizados devem apresentar resistência compatível com o peso dos resíduos coletados, evitando rompimentos durante o manuseio e transporte.

() O volume dos sacos deve ser escolhido de acordo com a quantidade de resíduos gerados na atividade.

() Os sacos de lixo podem ser encaminhados para coleta mesmo permanecendo abertos.

Assinale a alternativa que apresenta a sequência CORRETA.

- (A) F, V, F.
- (B) V, F, V.
- (C) V, V, F.
- (D) F, V, V.
- (E) V, F, F.

Questão 38

Observe a figura:



Fonte: PROGARU. Progresso e Desenvolvimento de Guarulhos S. A.

Manual de Limpeza Urbana.

A figura apresenta duas pessoas descartando resíduos de forma inadequada: uma joga lixo na rua e a outra no rio. Ambas criticam a atitude do outro quanto ao descarte realizado. No que se refere à limpeza e à conservação dos logradouros públicos, assinale a alternativa CORRETA.

- (A) O descarte de resíduos em vias públicas é aceitável quando houver serviço regular de varrição e coleta.
- (B) O lançamento de lixo em logradouros ou rios torna-se permitido quando o volume de resíduos é pequeno.
- (C) Apenas a pessoa que joga lixo no rio está errada, pois o descarte na rua não gera impactos ambientais significativos.
- (D) Apenas a pessoa que joga lixo na rua está errada, pois o descarte em cursos d'água é diluído naturalmente pela correnteza.
- (E) Os dois estão errados, pois descartam resíduos em locais inadequados, gerando poluição e riscos à saúde pública.

Questão 39

O conceito de lixo pode variar conforme aspectos sociais, culturais e individuais, sendo, em geral, compreendido como todo material que perdeu sua utilidade ou valor para quem o descarta. Entretanto, a forma como os resíduos são segregados, acondicionados e destinados exerce influência direta sobre a saúde pública, a limpeza urbana e as possibilidades de reaproveitamento e reciclagem. Sobre a coleta de lixo e o acondicionamento adequado de resíduos, assinale a alternativa CORRETA.

- (A) A separação dos resíduos é desnecessária, pois todo o material coletado recebe o mesmo destino final, independentemente do tipo de descarte realizado.
- (B) Os resíduos devem ser acondicionados em sacos resistentes, bem fechados e, quando possível, separados por tipo, facilitando a coleta e a reciclagem.
- (C) Os resíduos devem ser descartados em qualquer local externo, desde que não permaneçam no interior de residências ou estabelecimentos de trabalho.
- (D) Materiais recicláveis e orgânicos devem ser misturados, a fim de otimizar o espaço nas lixeiras e agilizar o serviço de coleta.
- (E) O acondicionamento adequado dos resíduos não apresenta relação com as condições de higiene urbana nem com a prevenção de riscos à saúde.

Questão 40


Observe a imagem:



Fonte: Bahia, S.R. et al. Cartilha de limpeza urbana. Centros de Estudos e Pesquisas Urbanas (CPU). Ministério do Meio Ambiente.

A separação e comercialização de materiais recicláveis constituem uma importante atividade econômica para muitas pessoas. Entretanto, o contato direto com resíduos pode expor os trabalhadores a riscos físicos, biológicos e químicos, tornando indispensável a adoção de medidas de proteção e segurança durante a execução das tarefas. Considerando as práticas adequadas de segurança no trabalho, assinale a alternativa CORRETA.

- (A) A utilização de luvas, botas e avental reduz o risco de cortes, contaminações e acidentes na triagem de materiais.
- (B) Os resíduos devem ser manuseados diretamente com as mãos, desde que a atividade seja rápida.
- (C) A manipulação de resíduos deve ser realizada sem luvas, para facilitar a agilidade do trabalho manual.
- (D) O uso de equipamentos de proteção individual é dispensável quando os resíduos aparentam estar limpos ou secos.
- (E) A prevenção de acidentes depende apenas da experiência do trabalhador, não sendo necessária a adoção de equipamentos de proteção.



RASCUNHO

1		6		11		16		21		26		31		36	
2		7		12		17		22		27		32		37	
3		8		13		18		23		28		33		38	
4		9		14		19		24		29		34		39	
5		10		15		20		25		30		35		40	



BOA PROVA!