

Domingo de manhã

**GHC – GRUPO HOSPITALAR CONCEIÇÃO/RS  
CONCURSO PÚBLICO Nº 01/2026**

**15 – ENGENHEIRO (SEGURANÇA DO TRABALHO)**

Instruções

Leia atentamente e cumpra rigorosamente as instruções que seguem, pois elas são parte integrante das provas e das normas que regem esse certame.

1. ATENTE-SE AOS AVISOS CONTIDOS NO QUADRO DA SALA E **AGUARDE O 2º SINAL SONORO PARA ABRIR ESTE CADERNO DE QUESTÕES E INICIAR A PROVA.**

2. Seus **pertences deverão estar armazenados dentro do saco plástico fornecido pelo fiscal**, permanecendo em sua posse somente caneta esferográfica de ponta grossa, de material transparente, com tinta preferencialmente preta, lanche e água, se houver. A UTILIZAÇÃO DE QUALQUER MATERIAL NÃO PERMITIDO EM EDITAL É EXPRESSAMENTE PROIBIDA, **ACARRETANDO A SUA IMEDIATA EXCLUSÃO DO CERTAME.**

3. APÓS O 2º SINAL, CERTIFIQUE-SE DE QUE:

- ESTE CADERNO DE QUESTÕES CONTÉM **50** QUESTÕES LEGÍVEIS;
- ESTE CADERNO DE QUESTÕES APRESENTA O **NÚMERO E O CARGO** REFERENTES À INSCRIÇÃO REALIZADA;
- OS FISCALIS INFORMARAM CORRETAMENTE O **TEMPO PARA REALIZAÇÃO DE PROVA DE 03H30MIN.**

4. Cada questão oferece **5 alternativas** de respostas, representadas pelas letras **A, B, C, D e E**, sendo apenas 1 (uma) a resposta correta.

5. O CANDIDATO **DEVE ASSINAR** A(S) SUA(S) FOLHA(S) DEFINITIVA(S) DE RESPOSTA(S), **SOB PENA DE ELIMINAÇÃO.**

6. Será respeitado o tempo para realização da prova conforme previsto em edital, incluindo o preenchimento da grade de respostas.

7. **HAVERÁ O TOQUE DO 3º SINAL SONORO DE ENCERRAMENTO DAS PROVAS**, CONFORME CONTROLE DO QUADRO DE SALA.

8. Os três últimos candidatos deverão retirar-se da sala de prova ao mesmo tempo, devendo assinar a Ata de Prova.

9. **A RESPONSABILIDADE REFERENTE À INTERPRETAÇÃO DOS CONTEÚDOS DAS QUESTÕES É EXCLUSIVA DO CANDIDATO.**

10. No caderno de questões, você poderá rabiscar, riscar e calcular.

11. Os gabaritos preliminares da prova objetiva serão divulgados na data descrita no Cronograma de Execução desse certame.





## No banco dos réus

Por Cláudia Laitano

01 Médicos fumando no consultório, enfermeiras acendendo um cigarrinho para relaxar,  
02 dentistas recomendando sua marca preferida de tabaco: figuras como essas povoavam jornais  
03 e revistas até o início dos anos 1960. Alguns anúncios chegavam a sugerir que fumar ajudava  
04 na digestão, aliviava dores de garganta e garantia aquela dose extra de fôlego indispensável  
05 para enfrentar o dia \_\_\_ dia.

06 O primeiro relatório reunindo estudos que apontavam a ligação entre o cigarro e o câncer  
07 foi publicado em 1964. O piloto da série Mad Men, que se passa em 1960, retrata a ginástica do  
08 publicitário Don Draper para tornar atraente um produto que já começava a soar como cilada.  
09 Em 1998, as quatro maiores empresas de tabaco dos EUA assinaram um acordo para encerrar  
10 dezenas de processos judiciais que tentavam recuperar bilhões de dólares gastos com assistência  
11 médica de fumantes. Ou seja: entre o médico baforando sem culpa no nariz do paciente e a  
12 responsabilização de quem lucrava com uma mercadoria perigosa e altamente viciante,  
13 passaram-se mais ou menos 40 anos.

14 Então, o "momento tabaco" parece estar batendo \_\_\_ porta das big techs em 2026. O  
15 julgamento do primeiro de dois grandes lotes de ações coletivas contra empresas de tecnologia  
16 previstos para este ano começou em Los Angeles na semana passada. Até aqui, empresas como  
17 Meta, Tik Tok, Snapchat e YouTube conseguiram escapar das acusações que envolvem conteúdo  
18 apelando para leis que isentam as plataformas de responsabilidade com relação ao que os  
19 usuários publicam. As novas ações atacam por outro flanco. O que está em jogo agora são as  
20 estratégias usadas por essas plataformas para gerar engajamento a qualquer custo – inclusive  
21 de crianças e adolescentes.

22 A acusação deve seguir duas linhas de argumentação. A primeira é a de que as big techs  
23 formataram suas plataformas para serem viciantes mesmo. "Quanto mais engajamento, mais  
24 publicidade" é o novo "quanto mais fumantes, mais lucro". A segunda busca apoio em estudos  
25 que relacionam o aumento dos casos de depressão e ansiedade em crianças e adolescentes ao  
26 advento das mídias sociais.

27 Ao contrário da montanha de evidências provando que fumar pode causar câncer, os efeitos  
28 das redes sociais sobre a saúde mental dos nossos filhos ainda não estão provados. Ainda assim,  
29 é difícil encontrar um pai ou mãe de adolescente que não esteja preocupado (o fato de que o  
30 livro *Geração Ansiosa* está há mais de 90 semanas na lista de best-sellers do New York Times  
31 dá a dimensão dessa preocupação).

32 \_\_\_ esta altura do campeonato, nem Don Draper conseguiria nos convencer de que está  
33 tudo bem com as crianças.

(Disponível em: <https://gauchazh.clicrbs.com.br/colunistas/claudia-laitano/noticia/2026/02/no-banco-dos-reus-cml3q4kl40086012yz36sq4a4.html> – texto adaptado especialmente para esta prova).

**QUESTÃO 01** – Considerando o exposto pelo texto, analise as assertivas a seguir e assinale V, se verdadeiras, ou F, se falsas.

- ( ) Grandes empresas do ramo dos cigarros deliberaram, em conjunto com aqueles que lhes acionaram judicialmente, uma forma de pôr termo às demandas financeiras destes.
- ( ) No que tange às big techs, uma vez que elas são blindadas legalmente de qualquer responsabilização em relação às ações dos usuários, não se pode falar em culpabilização relacionada à dependência gerada pelas redes sociais.
- ( ) A propaganda teve um papel importante no primeiro caso abordado pelo texto, mas a autora não acredita que possa ter o mesmo sucesso no que se refere ao caso enfrentado pelas big techs.

A ordem correta de preenchimento dos parênteses, de cima para baixo, é:

- A) V – F – F.
- B) V – V – F.
- C) V – F – V.
- D) F – F – V.
- E) F – V – V.

**QUESTÃO 02** – Analise as duas figuras a seguir e as asserções a respeito de sua relação com o texto-base desta prova:



Figura 1

Fonte: www.propagandashistoricas.com.br



Figura 2

Fonte: www.arionaurocartuns.com.br

- I. A Figura 1 apresenta um dos assuntos abordados pelo texto, ilustrando de que forma a propaganda construiu uma imagem positiva de um produto nocivo ao seu consumidor.

### CONTUDO

- II. A Figura 2 apresenta um assunto apenas implícito no texto, uma vez que o vício nas redes sociais não pode ser associado ao vício em tabaco de acordo com as linhas de argumentação estabelecidas pelo texto.

A respeito dessas asserções, assinale a alternativa correta.

- A) As asserções I e II são proposições verdadeiras, e a II é uma ressalva correta da I.  
 B) As asserções I e II são proposições verdadeiras, mas a II não é uma ressalva correta da I.  
 C) A asserção I é uma proposição verdadeira, e a II é uma proposição falsa.  
 D) A asserção I é uma proposição falsa, e a II é uma proposição verdadeira.  
 E) As asserções I e II são proposições falsas.

**QUESTÃO 03** – Considerando o emprego do acento indicativo de crase, analise os trechos abaixo, retirados do texto:

- “dose extra de fôlego indispensável para enfrentar o dia \_\_\_ dia”.
- “o ‘momento tabaco’ parece estar batendo \_\_\_ porta das big techs”.
- “\_\_\_ esta altura do campeonato”.

Assinale a alternativa que preenche, correta e respectivamente, as lacunas dos trechos acima.

- A) a – à – A  
 B) a – à – Â  
 C) à – à – Â  
 D) à – a – Â  
 E) à – a – A

**QUESTÃO 04** – Analise as seguintes propostas de alteração de trechos do texto-base:

1. Em “Médicos fumando no consultório, enfermeiras acendendo um cigarrinho para relaxar, dentistas recomendando sua marca preferida de tabaco (1): figuras como essas povoavam jornais e revistas até o início dos anos 1960 (2)”, caso os trechos 1 e 2 sejam invertidos, o pronome “essas” deve ser substituído por “estas” e o emprego dos dois-pontos deve ser mantido para separar os dois trechos.
2. Em “O primeiro relatório reunindo estudos que apontavam a ligação entre o cigarro e o câncer foi publicado em 1964”, é possível reduzir a oração adjetiva expandida “que apontavam” omitindo-se o pronome relativo e empregando a forma verbal no gerúndio sem causar alterações ao sentido e à correção do trecho.
3. Em “entre o médico baforando sem culpa no nariz do paciente e a responsabilização de quem lucrava com uma mercadoria perigosa e altamente viciante, passaram-se mais ou menos 40 anos”, é possível substituir a forma verbal “passaram-se” por “transcorreram-se” sem causar alterações ao sentido e à correção do trecho.
4. Em “A primeira é a de que as big techs formataram suas plataformas para serem viciantes mesmo”, é possível expandir a oração reduzida “para serem” substituindo-se a preposição “para” pela locução conjuntiva “para que”, o que demandaria a adequação da forma verbal “serem”.

O resultado da somatória dos números correspondentes às afirmações corretas é:

- A) 03.
- B) 04.
- C) 06.
- D) 07.
- E) 10.

**QUESTÃO 05** – Assinale a alternativa que apresenta uma palavra que poderia substituir corretamente a palavra “flanco” em “As novas ações atacam por outro flanco” (l. 19), sem causar alterações significativas ao sentido do trecho a seguir. Desconsidere eventuais necessidades de alteração da estrutura do trecho.

- A) Raiz.
- B) Banda.
- C) Origem.
- D) Elo.
- E) Ligação.

**QUESTÃO 06** – Relacione a Coluna 1 à Coluna 2, associando as preposições destacadas em trechos retirados do texto ao significado que apresentam.

**Coluna 1**

1. Agente.
2. Finalidade.
3. Origem.
4. Limite.

**Coluna 2**

- ( ) “as quatro maiores empresas de tabaco **dos** EUA”.
- ( ) “assinaram um acordo **para** encerrar dezenas de processos judiciais”.
- ( ) “**Até** aqui, empresas como Meta, Tik Tok, Snapchat e YouTube conseguiram escapar”.
- ( ) “as estratégias usadas **por** essas plataformas”.

A ordem correta de preenchimento dos parênteses, de cima para baixo, é:

- A) 4 – 2 – 1 – 3.
- B) 4 – 2 – 3 – 1.
- C) 2 – 1 – 4 – 3.
- D) 1 – 3 – 2 – 4.
- E) 3 – 2 – 4 – 1.

**QUESTÃO 07** – Considerando o emprego e o sentido dos diferentes tipos de pronomes, analise as assertivas a seguir:

- I. Em “garantia aquela dose extra de fôlego indispensável para enfrentar o dia \_\_\_ dia” (l. 04-05), “aquela” é pronome demonstrativo e indica a intensificação de uma ideia.
- II. Em “O que está em jogo agora são as estratégias” (l. 19-20), “O” é pronome demonstrativo e equivale a “aquilo”.
- III. Em “para gerar engajamento a qualquer custo” (l. 20), “qualquer” é pronome demonstrativo e significa “não importa qual”.

Quais estão corretas?

- A) Apenas I.
- B) Apenas II.
- C) Apenas I e II.
- D) Apenas I e III.
- E) Apenas II e III.

**QUESTÃO 08** – Assinale a alternativa que indica corretamente a função sintática do termo “atraente” no trecho a seguir, retirado do texto:

“a ginástica do publicitário Don Draper para tornar atraente um produto”.

- A) Predicativo do objeto.
- B) Predicativo do sujeito.
- C) Objeto direto.
- D) Objeto indireto.
- E) Adjunto adnominal.

**QUESTÃO 09** – Assinale a alternativa que apresenta um trecho no qual há a ocorrência da figura de linguagem hipérbole.

- A) “um produto que já começava a soar como cilada” (l. 08).
- B) “o ‘momento tabaco’ parece estar batendo \_\_\_ porta das big techs” (l. 14).
- C) “A acusação deve seguir duas linhas de argumentação” (l. 22).
- D) “\_\_\_ esta altura do campeonato, nem Don Draper conseguiria nos convencer” (l. 32).
- E) “Ao contrário da montanha de evidências provando que fumar pode causar câncer” (l. 27).

**QUESTÃO 10** – Assinale a alternativa na qual o termo destacado NÃO seja um adjunto adnominal.

- A) “aliviava dores **de garganta**”.
- B) “as quatro maiores empresas **de tabaco**”.
- C) “o primeiro de dois grandes lotes **de ações** coletivas”.
- D) “leis que isentam as plataformas **de responsabilidade**”.
- E) “relacionam o aumento dos casos **de depressão** e ansiedade em crianças”.

**POLÍTICAS PÚBLICAS DE SAÚDE**

**QUESTÃO 11** – No âmbito do Sistema Único de Saúde (SUS), a incorporação de políticas voltadas à equidade tem implicações diretas sobre os processos de gestão, organização do trabalho, planejamento de serviços e condições institucionais que atravessam diferentes áreas profissionais. Nesse contexto, uma diretriz alinhada às iniciativas de promoção da equidade no SUS consiste em:

- A) Estruturar estratégias de equidade centradas em programas específicos, mantendo as demais áreas da gestão e da organização dos serviços regidas por diretrizes gerais de planejamento.
- B) Integrar a perspectiva da equidade aos processos de gestão, planejamento e organização do trabalho em saúde, considerando seus efeitos sobre o acesso, as condições de trabalho e a produção do cuidado.
- C) Desenvolver ações de equidade prioritariamente nos serviços assistenciais, articulando-as de forma complementar às políticas de gestão e planejamento institucional.
- D) Incorporar ações de equidade por meio de iniciativas programáticas vinculadas a áreas técnicas específicas, responsáveis por orientar a implementação dessas estratégias no sistema de saúde.
- E) Promover estratégias de equidade voltadas principalmente à qualificação das práticas profissionais, sem necessariamente alterar os processos institucionais de organização dos serviços.

**QUESTÃO 12** – A transformação digital em saúde tem sido apontada como elemento estratégico para a qualificação do cuidado, da gestão e da produção de informações no SUS. Contudo, sua implementação envolve desafios relacionados à governança de dados, à organização dos serviços e à garantia de direitos dos usuários. Considerando o debate contemporâneo sobre transformação digital em saúde no SUS, assinale a alternativa correta.

- A) A digitalização das informações em saúde favorece a integração entre sistemas e serviços, podendo ampliar a capacidade de planejamento e gestão, desde que associada a mecanismos de governança e proteção de dados.
- B) A incorporação de tecnologias digitais nos serviços de saúde tende a ocorrer de forma predominantemente técnica, sendo os aspectos éticos e regulatórios definidos posteriormente aos processos de implementação.
- C) A adoção de soluções digitais no SUS está vinculada principalmente à modernização de sistemas de registro e armazenamento de informações clínicas.
- D) A implementação de soluções digitais no SUS depende prioritariamente da atuação de fornecedores de tecnologia responsáveis pela gestão e segurança das informações em saúde.
- E) O uso de tecnologias digitais em saúde se orienta principalmente pela ampliação da eficiência administrativa, mantendo relativa autonomia em relação às políticas públicas de saúde.

**QUESTÃO 13** – A relação entre educação e saúde no SUS tem sido compreendida como dimensão estratégica para a qualificação das práticas profissionais e para o fortalecimento da participação social. Nesse contexto, diferentes abordagens pedagógicas orientam os processos formativos em saúde. Assinale a alternativa que indica uma perspectiva coerente com a articulação entre ensino e práticas de saúde no SUS.

- A) A formação em saúde deve estruturar-se prioritariamente em torno da consolidação de conhecimentos técnico-científicos, cabendo às experiências de participação social um papel complementar no processo formativo.
- B) A qualificação da formação em saúde depende principalmente da ampliação de conteúdos especializados e da consolidação de competências clínicas específicas.
- C) As atividades educativas em saúde devem concentrar-se em espaços formais de ensino, nos quais seja possível garantir maior controle sobre os conteúdos e métodos pedagógicos.
- D) Os processos educativos em saúde podem contribuir para a construção de práticas profissionais mais críticas e comprometidas com o território ao promover o diálogo entre diferentes saberes e experiências sociais.
- E) A organização do ensino em saúde orienta-se prioritariamente pela padronização de conteúdos e metodologias, com o objetivo de garantir uniformidade.

**QUESTÃO 14** – A organização da Atenção Especializada no SUS demanda articulação com os demais níveis de atenção e integração com os processos de regulação, gestão do cuidado e organização das redes de atenção à saúde. Nesse contexto, uma diretriz coerente com a organização da atenção especializada no SUS consiste em:

- A) A Atenção Especializada organiza-se prioritariamente em serviços de referência que atuam com relativa autonomia em relação à Atenção Primária, visando maior eficiência na oferta de procedimentos especializados.
- B) A ampliação da oferta de consultas e procedimentos especializados constitui a principal estratégia para qualificar o acesso da população a esse nível de atenção.
- C) A organização da Atenção Especializada orienta-se principalmente pela concentração de tecnologias e profissionais especializados em serviços hospitalares de maior complexidade.
- D) A gestão da Atenção Especializada baseia-se prioritariamente na expansão de serviços especializados, independentemente das dinâmicas regionais de demanda e das estratégias de coordenação do cuidado.
- E) A Atenção Especializada deve integrar-se às redes de atenção à saúde, articulando-se com a Atenção Primária e com mecanismos de regulação que favoreçam a continuidade do cuidado.

**QUESTÃO 15** – A ampliação do uso de sistemas de informação e bases de dados no SUS tem aumentado as possibilidades de análise epidemiológica, planejamento e monitoramento das políticas públicas. Nesse contexto, o uso estratégico das informações em saúde deve:

- A) Priorizar a centralização dos bancos de dados em instituições privadas especializadas em tecnologia da informação.
- B) Restringir o acesso às informações em saúde aos profissionais diretamente responsáveis pelo atendimento clínico.
- C) Favorecer a produção e o compartilhamento qualificado de informações entre gestores, serviços e equipes, respeitando os princípios de governança e proteção de dados.
- D) Concentrar a análise das informações em saúde em áreas técnicas específicas, desvinculando-as dos processos de planejamento e gestão.
- E) Utilizar bases de dados apenas para fins administrativos, evitando sua incorporação em processos de avaliação e planejamento das políticas de saúde.

**QUESTÃO 16** – A Constituição Federal de 1988 instituiu fundamentos que orientam a formulação e a organização das políticas públicas de saúde no Brasil, estabelecendo responsabilidades estatais, diretrizes organizativas e competências do SUS. Considerando o disposto na Constituição Federal, assinale a alternativa correta.

- A) A garantia do direito à saúde ocorre principalmente por meio da oferta de serviços assistenciais pelo Estado, sendo as políticas sociais e econômicas consideradas ações complementares no enfrentamento dos problemas de saúde.
- B) A organização do SUS orienta-se pela descentralização político-administrativa, com direção única na esfera federal e execução compartilhada entre os entes federativos.
- C) A participação da iniciativa privada no SUS ocorre prioritariamente na prestação direta de serviços de saúde, podendo substituir a atuação estatal sempre que houver maior capacidade instalada.
- D) A atuação do SUS concentra-se principalmente na assistência à saúde, cabendo a outras políticas públicas a condução das ações relacionadas à vigilância sanitária e ao saneamento.
- E) As ações e os serviços de saúde constituem atividade de relevância pública, cabendo ao Poder Público regulamentar, fiscalizar e controlar sua execução, ainda que realizada por terceiros.

**QUESTÃO 17** – A Lei nº 8.142/1990 representa um marco na institucionalização da participação social e na regulamentação das transferências intergovernamentais de recursos financeiros no âmbito do SUS. Com base no que dispõe essa Lei, assinale a alternativa correta.

- A) As Conferências de Saúde são instâncias permanentes e deliberativas que atuam na formulação de estratégias e no controle da execução da política de saúde.
- B) Os Conselhos de Saúde são órgãos de caráter consultivo que se reúnem apenas quando convocados pelo gestor do respectivo ente federativo.
- C) A participação da comunidade no SUS ocorre exclusivamente por meio das Conferências de Saúde, que devem ser realizadas anualmente em todos os níveis de governo.
- D) Para que os Estados, os Municípios e o Distrito Federal recebam recursos do Fundo Nacional de Saúde, é obrigatória a existência de Conselho de Saúde com caráter permanente e deliberativo, bem como a elaboração de Plano de Saúde.
- E) As transferências intergovernamentais de recursos financeiros na área da saúde dependem da aprovação prévia das Conferências de Saúde realizadas em nível nacional.

**QUESTÃO 18** – A análise histórica e política do SUS, conforme discutida por Giovanella *et al.* (2012), evidencia que sua constituição ultrapassa uma reforma setorial, configurando-se como parte de um projeto mais amplo de transformação do papel do Estado na garantia de direitos sociais. Considerando esse referencial, assinale a alternativa correta.

- A) O SUS consolidou-se como resultado de um processo tecnocrático de modernização administrativa do setor de saúde, orientado prioritariamente pela racionalização de custos e pela eficiência gerencial.
- B) A Reforma Sanitária Brasileira foi um movimento restrito à reorganização institucional dos serviços de saúde, sem articulação com o processo de redemocratização do país.
- C) A universalização do acesso à saúde no Brasil expressa a transição de um modelo assistencial previdenciário para um modelo baseado na saúde como direito de cidadania.
- D) A descentralização do SUS foi concebida exclusivamente como estratégia de transferência de responsabilidades financeiras aos municípios.
- E) A institucionalização do SUS manteve a lógica de segmentação do sistema de saúde, preservando a centralidade do mercado na provisão do cuidado.

**QUESTÃO 19** – A Portaria GM/MS nº 230/2023 instituiu o Programa Nacional de Equidade de Gênero, Raça e Valorização das Trabalhadoras no SUS, reconhecendo que as desigualdades estruturais presentes na sociedade também atravessam os processos de trabalho em saúde. Considerando os fundamentos e diretrizes do referido Programa, é correto afirmar que ele

- A) orienta a incorporação da perspectiva de equidade de gênero e raça nos processos de gestão do trabalho e nas políticas institucionais do SUS, incluindo ações de formação, monitoramento e enfrentamento de discriminações e violências no ambiente de trabalho.
- B) estrutura-se prioritariamente como estratégia de ampliação da participação de mulheres em posições de liderança na gestão do SUS, considerando que essa dimensão constitui o principal determinante das desigualdades no trabalho em saúde.
- C) organiza suas ações principalmente a partir da criação de instrumentos específicos de gestão de pessoas, voltados à regulação das relações de trabalho nos serviços de saúde.
- D) orienta que as iniciativas voltadas à equidade de gênero e raça sejam conduzidas preferencialmente por áreas técnicas de gestão de pessoas, responsáveis pela implementação das ações no âmbito institucional.
- E) estabelece diretrizes para a formulação de diagnósticos institucionais sobre desigualdades no SUS, com o objetivo de subsidiar futuras iniciativas voltadas à qualificação das políticas de gestão do trabalho.

**QUESTÃO 20** – A Lei nº 10.741/2003 (Estatuto da Pessoa Idosa) estabelece direitos fundamentais voltados à proteção integral da pessoa idosa, incluindo atenção à saúde em diferentes níveis de complexidade e campos profissionais. Considerando as disposições do Estatuto da Pessoa Idosa no que se refere à atenção à saúde e à responsabilidade dos serviços públicos e privados, assinale a alternativa correta.

- A) A organização da atenção à saúde da pessoa idosa orienta-se prioritariamente pela ampliação de serviços especializados destinados a esse grupo populacional, cabendo aos demais níveis de atenção papel complementar no acompanhamento das demandas de saúde.
- B) A atenção à saúde da pessoa idosa deve integrar ações de promoção, prevenção, tratamento e reabilitação, articulando diferentes níveis de atenção e assegurando acesso universal e igualitário aos serviços de saúde.
- C) A adequação das condições de atendimento à pessoa idosa constitui responsabilidade predominante dos serviços especializados, responsáveis pela condução das ações de cuidado destinadas a esse grupo populacional.
- D) A participação da família no cuidado à pessoa idosa constitui diretriz relevante para a organização da atenção à saúde, cabendo ao poder público atuar de forma complementar nas situações em que houver insuficiência desse suporte.
- E) A organização das ações voltadas à saúde da pessoa idosa orienta-se principalmente pela ampliação da oferta de procedimentos assistenciais, considerando o aumento da demanda por cuidados clínicos nesse grupo populacional.

**CONHECIMENTOS ESPECÍFICOS**

**QUESTÃO 21** – De acordo com o “Guia de Informações sobre os Fatores de Riscos Psicossociais Relacionados ao Trabalho” (Ministério do Trabalho e Emprego, 2025), analise a sentença abaixo:

A saúde mental é uma questão fundamental no atual contexto de Segurança e Saúde no Trabalho (SST), ficando evidente a importância de as organizações abordarem os fatores de riscos psicossociais relacionados ao trabalho, com o objetivo de prevenir o adoecimento mental e outras lesões e agravos à saúde do trabalhador (**1ª parte**). A gestão da ergonomia, incluindo os fatores de riscos psicossociais relacionados ao trabalho, deve ser realizada utilizando-se dois métodos previstos na NR-17, obedecendo a seguinte ordem: primeiro, a Análise Ergonômica do Trabalho (AET) e, na sequência, a Avaliação Ergonômica Preliminar (AEP) (**2ª parte**). Ao utilizar uma ferramenta específica, deve-se verificar se ela está cientificamente fundamentada, ou seja, se existe estudo científico ou órgão ou instituição de SST, nacional ou internacional, que lhe dê embasamento e suporte (**3ª parte**).

Quais partes estão corretas?

- A) Apenas a 1ª parte.
- B) Apenas a 2ª parte.
- C) Apenas a 3ª parte.
- D) Apenas a 1ª e 3ª partes.
- E) Todas as partes.

**QUESTÃO 22** – De acordo com a Norma Regulamentadora 01 (NR-01), Portaria SEPRT nº 6.730/2020, assinale a alternativa INCORRETA sobre o tópico de gerenciamento de riscos ocupacionais.

- A) A organização deve implementar, por estabelecimento, o gerenciamento de riscos ocupacionais em suas atividades.
- B) A organização deve adotar as medidas necessárias para melhorar o desempenho em SST.
- C) A critério da organização, a etapa de levantamento preliminar de perigos pode estar contemplada na etapa de identificação de perigos.
- D) Para as medidas de prevenção, deve ser definido cronograma, formas de acompanhamento e aferição de resultados.
- E) As organizações contratadas devem fornecer ao contratante o Inventário de Riscos Ocupacionais, Mapa de Riscos e o Plano de Ação específicos das suas atividades realizadas nas dependências da contratante ou local previamente convencionado em contrato.

**QUESTÃO 23** – De acordo com o tópico de dimensionamento do SESMT da NR-04, Portaria MTP nº 2.318/2022, em atividades econômicas distintas com o mesmo número de trabalhadores, deve ser considerada como preponderante a atividade

- A) com grau de risco 4.
- B) com maior grau de risco.
- C) que possuir a CIPA.
- D) de maior número de acidentes do trabalho.
- E) com Fator Acidentário de Prevenção (FAP) de índice multiplicador 2.

**QUESTÃO 24** – Segundo a NR-05, Portaria MTP nº 422/2021, a quem a organização deve comunicar o início do processo eleitoral, com antecedência, podendo ser por meio eletrônico, e com confirmação de entrega?

- A) Procuradoria do Ministério Público do Trabalho da região.
- B) Unidade descentralizada do Ministério do Trabalho e Emprego.
- C) Centro de Referência em Saúde do Trabalhador do Município.
- D) Sindicato da categoria preponderante.
- E) Conselho de Administração da empresa.

**QUESTÃO 25** – Sobre o Certificado de Aprovação (CA) dos Equipamentos de Proteção Individual (EPI) da NR-06, Portaria MTP nº 2.175/2022, analise as assertivas a seguir:

- I. O EPI, seja de fabricação nacional ou importado, só pode ser posto à venda ou utilizado com a indicação do CA, expedido pelo órgão de âmbito nacional competente em matéria de segurança e saúde no trabalho.
- II. Todo EPI deve apresentar, em caracteres indelévels, legíveis e visíveis, marcações com o nome comercial do fabricante ou do importador, o lote de fabricação e o número do CA.
- III. O CA concedido ao EPI tem validade de 5 anos.

Quais estão corretas?

- A) Apenas I.
- B) Apenas II.
- C) Apenas III.
- D) Apenas I e II.
- E) I, II e III.

**QUESTÃO 26** – No Quadro 1, Anexo I da NR-07 – Monitoração da Exposição Ocupacional a Agentes Químicos, Portaria MTP nº 567/2022, são referidas inúmeras abreviaturas relacionadas ao momento da coleta. Nesse contexto, o que significa a sigla AJFS?

- A) Início da última jornada de trabalho da semana.
- B) Final do último dia de jornada da semana.
- C) Diferença pré e pós-jornada.
- D) Antes da jornada.
- E) Antes da jornada com no mínimo 48 horas sem exposição.

**QUESTÃO 27** – De acordo com o Anexo III da NR-09 – Calor, Portaria MTP nº 426/2021, analise as assertivas abaixo e assinale V, se verdadeiras, ou F, se falsas.

- ( ) A organização deve adotar medidas de prevenção, de modo que a exposição ocupacional ao calor não cause efeitos adversos à saúde do trabalhador.
- ( ) A organização deve orientar os trabalhadores sobre a necessidade de informar ao superior hierárquico ou ao médico a ocorrência de sinais e sintomas relacionados ao calor.
- ( ) A organização deve possuir procedimento de emergência específico para o calor, contemplando informação a todas as pessoas envolvidas nos cenários de emergências.
- ( ) Para atividades de exposição ocupacional ao calor acima do nível de ação, deve ser considerada a aclimatização dos trabalhadores conforme descrita no PCMSO (NR-07).

A ordem correta de preenchimento dos parênteses, de cima para baixo, é:

- A) V – V – V – V.
- B) V – F – V – F.
- C) V – V – F – V.
- D) F – V – F – F.
- E) F – F – V – V.

**QUESTÃO 28** – Conforme o Anexo XII da NR-12 – Equipamentos de Guindar para Elevação de Pessoas e Realização de Trabalho em Altura, Portaria SEPRT nº 916/2019, analise a Figura 1 abaixo.



Figura 1  
Fonte: Palfinger (2026).

O equipamento apresentado na Figura 1 acima é denominado:

- A) Guindaste.
- B) Grua móvel.
- C) Cesto acoplado.
- D) Cesto suspenso.
- E) Plataforma elevatória móvel de trabalho.

**QUESTÃO 29** – Conforme o Quadro nº 1 (Tabela de Limites de Tolerância), Anexo nº 11 – Agentes Químicos cuja Insalubridade é Caracterizada por Limite de Tolerância e Inspeção no Local de Trabalho, da NR-15, Portaria nº 3.214/1978 e suas alterações, analise a sentença abaixo:

Todos os valores fixados no Quadro nº 1 são válidos para absorção apenas por via respiratória (**1ª parte**). Na coluna "VALOR TETO", estão assinalados os agentes químicos cujos limites de tolerância não podem ser ultrapassados em momento algum da jornada de trabalho (**2ª parte**). Na coluna "ABSORÇÃO TAMBÉM PELA PELE", estão assinalados os agentes químicos que podem ser absorvidos, por via cutânea, e, portanto, exigindo, na sua manipulação, o uso de luvas adequadas, além do EPI necessário à proteção de outras partes do corpo (**3ª parte**).

Quais partes estão corretas?

- A) Apenas a 1ª parte.
- B) Apenas a 2ª parte.
- C) Apenas a 3ª parte.
- D) Apenas a 1ª e 3ª partes.
- E) Todas as partes.

**QUESTÃO 30** – Conforme disposto na NR-18, da Portaria SEPRT nº 3.733/2020, as escavações com profundidade superior a \_\_\_\_\_ devem ser protegidas com taludes ou escoramentos definidos em projeto elaborado por profissional legalmente habilitado e devem dispor de escadas ou rampas colocadas próximas aos postos de trabalho, a fim de permitir, em caso de emergência, a saída rápida dos trabalhadores,.

Assinale a alternativa que preenche corretamente a lacuna do trecho acima.

- A) 1 m
- B) 1,25 m
- C) 2 m
- D) 2,5 m
- E) 3 m

**QUESTÃO 31** – Sobre os elementos previstos na rotulagem preventiva da NR-26, Portaria MTP nº 2.770/2022, e da NBR 14725:2023 (Produtos químicos – Informações sobre segurança, saúde e meio ambiente – Aspectos gerais do Sistema Globalmente Harmonizado (GHS), classificação, FDS e rotulagem de produtos químicos), analise a Figura 2, um rótulo de produto químico, e as assertivas a seguir:



Figura 2  
Fonte: Acervo do autor.

- I. O pictograma de perigo no rótulo está em conformidade com a NBR 14725:2023.
- II. As informações dos elementos da rotulagem preventiva não estão em conformidade com a NBR 14725:2023, pois devem estar redigidas na língua oficial do Brasil.
- III. No rótulo, consta palavra de advertência conforme o estabelecido na NBR 14725:2023.

Quais estão corretas?

- A) Apenas I.
- B) Apenas II.
- C) Apenas III.
- D) Apenas II e III.
- E) I, II e III.

**QUESTÃO 32** – A NR-31, Portaria SEPRT nº 22.677/2020, refere que o empregador rural ou equiparado que possua espaço confinado deve avaliar a atmosfera no espaço confinado, antes da entrada de trabalhadores, para verificar se o seu interior é seguro. Nesse contexto, existe um produto químico que é liberado quando o fosfeto de alumínio entra em contato com a umidade do ar ou água e que tem a característica de ser extremamente tóxico e inflamável. É amplamente utilizado como fumigante na agricultura e sua toxicidade é tão alta que paralisa o sentido olfativo rapidamente. O trecho acima refere-se ao produto químico denominado:

- A) Fosfina.
- B) Glifosato.
- C) Paration.
- D) Paraquate.
- E) Sulfeto de hidrogênio.

**QUESTÃO 33** – A NR-38, Portaria MTP nº 4.101/2022, refere que a vacinação, ou sua recusa, deve ser registrada no(a) \_\_\_\_\_ do empregado.

Assinale a alternativa que preenche corretamente a lacuna do trecho acima.

- A) carteira nacional de vacinação
- B) ficha de registro
- C) prontuário clínico individual
- D) atestado de saúde ocupacional
- E) evento S-2220 do eSocial

**QUESTÃO 34** – Conforme a Portaria nº 672/2021, que disciplina os procedimentos, programas e condições de segurança e saúde no trabalho e dá outras providências, assinale a alternativa INCORRETA.

- A) Os auditores-fiscais do trabalho estão autorizados, em todo o território nacional, a ordenar a adoção de medidas de interdições e embargos, e seu consequente levantamento posterior, quando se depararem com uma condição ou situação de risco iminente à vida, à saúde ou à segurança dos trabalhadores.
- B) Os termos e relatórios técnicos relativos a embargo ou interdição deverão descrever exclusivamente as situações de trabalho que possam causar acidente ou doença com lesão grave ao trabalhador.
- C) A gravidade e iminência que ensejam o embargo ou a interdição devem ser caracterizadas a partir de elementos fáticos constatados na inspeção do local de trabalho, com alcance limitado ao local inspecionado, os quais devem ser acompanhados de análise de elementos documentais, entrevistas com trabalhadores e levantamento fotográfico.
- D) Caberá ao empregador requerer o levantamento do embargo ou da interdição a qualquer momento, após adoção das medidas de proteção da segurança e saúde no trabalho indicadas no relatório técnico.
- E) Verificado o descumprimento de embargo ou interdição, o auditor-fiscal do trabalho deverá dar conhecimento à autoridade policial, bem como lavrar os autos de infração correspondentes e encaminhar relatório circunstanciado à autoridade policial, ao Ministério Público Federal e ao Ministério Público do Trabalho.

**QUESTÃO 35** – O Programa de Proteção Respiratória (Fundacentro, 2016) aborda orientações para a seleção dos respiradores. Nesse sentido, analise a Figura 3 abaixo.



Figura 3  
Fonte: 3M (2026).

O respirador presente na figura acima é denominado:

- A) Máscara autônoma de demanda com pressão positiva.
- B) Máscara autônoma de circuito fechado.
- C) Peça um quarto facial.
- D) Peça facial inteira.
- E) Respirador de ar natural com ventoinha manual.

**QUESTÃO 36** – Com base na Agência Internacional para a Investigação do Câncer (IARC), a Portaria Interministerial nº 09/2014 publicou a Lista Nacional de Agentes Cancerígenos para Humanos (LINACH) como referência para formulação de políticas públicas. São classificações de que trata a LINACH:

- I. Grupo 1 – Carcinogênicos para humanos.
- II. Grupo 2A – Provavelmente carcinogênicos para humanos.
- III. Grupo 2B – Possivelmente carcinogênicos para humanos.

Quais estão corretas?

- A) Apenas I.
- B) Apenas II.
- C) Apenas III.
- D) Apenas I e II.
- E) I, II e III.

**QUESTÃO 37** – Segundo a NR-13, quando a caldeira for vendida ou transferida de estabelecimento, os documentos mencionados nas alíneas "a", "d", e "e" do subitem 13.4.1.5 devem acompanhá-la. Quais são os documentos mencionados, respectivamente, nas alíneas "a", "d", e "e" do mencionado subitem?

- A) Prontuário da caldeira – projeto de instalação – relatórios de inspeção de segurança.
- B) Prontuário da caldeira – projeto de alteração ou reparo – relatórios de inspeção de segurança.
- C) Registro de segurança – relatórios de inspeção de segurança – certificados de inspeção e teste dos dispositivos de segurança.
- D) Registro de segurança – projeto de instalação – projeto de alteração ou reparo.
- E) Projeto de alteração ou reparo – certificados de inspeção e teste dos dispositivos de segurança – relatórios de inspeção de segurança.

**QUESTÃO 38** – De acordo com a NBR 16710-1:2020 – Resgate técnico industrial em altura e/ou em espaço confinado – Parte 1: Requisitos para a qualificação do profissional, analise a Figura 4 abaixo, que ilustra um resgate em ambiente confinado.

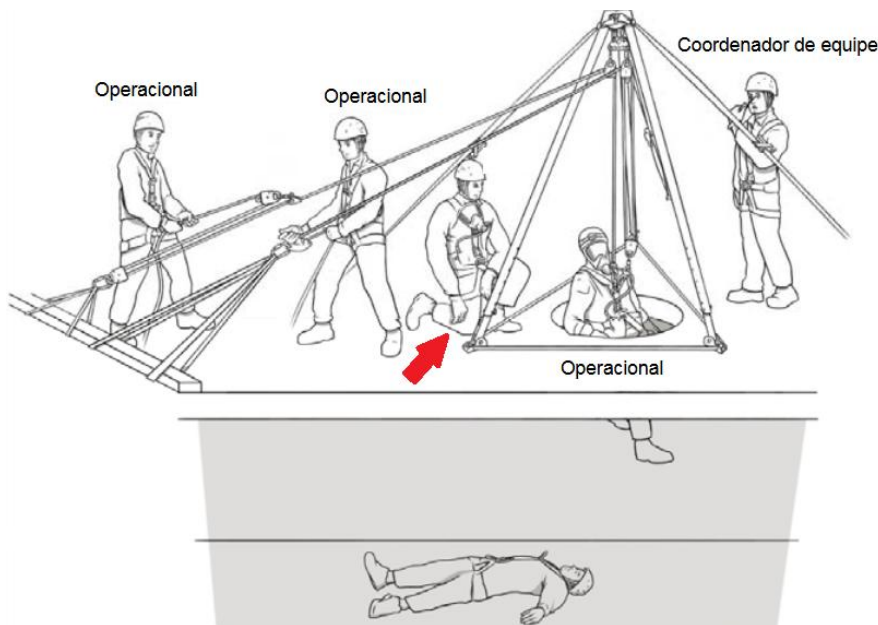


Figura 4  
Fonte: NBR 16710-1:2020.

Conforme a NBR, o profissional indicado com uma seta na Figura 4 acima é o:

- A) Líder.
- B) Vigia.
- C) Observador.
- D) Médico socorrista.
- E) Profissional legalmente habilitado.

Execução: Fundatec

**QUESTÃO 39** – “É caracterizada como metodologia ergonômica específica direcionada para a avaliação de riscos de lesões musculoesqueléticas, com foco principal na movimentação e transferência de pacientes no ambiente hospitalar e utilizada para analisar o trabalho de equipes de enfermagem e cuidadores, visando adaptar as atividades físicas às capacidades humanas. Também avalia o impacto do uso de equipamentos auxiliares (guinchos e lençóis deslizantes) na redução do esforço ergonômico”. O trecho apresentado descreve à metodologia ergonômica denominada:

- A) ABERGO.
- B) ANAMT.
- C) MAPHO.
- D) OCRA.
- E) NIOSH.

**QUESTÃO 40** – Na NBR 16384:2020 – Segurança em eletricidade – Recomendações e orientações para trabalho seguro em serviços com eletricidade, afirma-se que convém proceder à identificação de painéis elétricos por meio de plaquetas/placas, com marcação indelével, informando nível de tensão, \_\_\_\_\_ e distância segura de aproximação para atividades com porta aberta ou tampa removida.

Assinale a alternativa que preenche corretamente a lacuna do trecho acima.

- A) tipo de aterramento
- B) equipamentos de proteção coletiva recomendados
- C) equipamentos de proteção individual recomendados
- D) nível de energia incidente
- E) procedimentos de primeiros socorros

**QUESTÃO 41** – A NBR 15637-1:2023 (versão corrigida de 2024) – Cintas têxteis para elevação de cargas – Parte 1: Cintas planas manufaturadas, com fitas tecidas com fios sintéticos de alta tenacidade formados por multifilamentos, incorpora um aspecto relacionado com a segurança no trabalho, abordando a cor do corpo das cintas, pelo seu modo de uso vertical. Considerando que as cintas devem atender ao padrão internacional de cores, qual é a Carga Máxima de Trabalho (CMT) da cinta verde ilustrada na Figura 5 abaixo?



Figura 5

Fonte: Quality Fix do Brasil (c2026).

- A) 500 kg.
- B) 1.000 kg.
- C) 2.000 kg.
- D) 6.000 kg.
- E) Maior ou igual a 10.000 kg.

**QUESTÃO 42** – A NR-23, Portaria MTP nº 2.769/2022, aborda as normas técnicas oficiais para prevenção contra incêndios nos ambientes de trabalho, e a NBR 14276:2020 aborda a brigada de incêndio e emergência, seus requisitos e procedimentos. De acordo com a Norma, são níveis de brigada de emergência e respectivos EPIs e Equipamentos de Proteção Respiratória Autônomo (EPRA):

- I. Nível 1 – Básico: óculos de proteção e luvas de vaqueta.
- II. Nível 2 – Intermediário: capacete de segurança, balaclava, óculos de proteção, camisa de manga comprida, luvas de vaqueta e calçado de segurança.
- III. Nível 3 – Avançado: capacete de bombeiro com proteção para os olhos, balaclava, jaqueta de bombeiro, calças de bombeiro, luvas de bombeiro, botas de bombeiro e EPRA.

Quais estão corretos?

- A) Apenas I.
- B) Apenas II.
- C) Apenas III.
- D) Apenas I e III.
- E) I, II e III.

**QUESTÃO 43** – Nas disposições relativas a acidente de trabalho previstas na Instrução Normativa PRES/INSS nº 128/2022, que disciplina as regras, procedimentos e rotinas necessárias à efetiva aplicação das normas de direito previdenciário, o acidente do trabalho será caracterizado quando verificado pelo(a) \_\_\_\_\_ o nexó técnico entre o trabalho e o agravo.

Assinale a alternativa que preenche corretamente a lacuna do trecho acima.

- A) Comissão Interna de Prevenção de Acidentes e Assédio
- B) Serviço Especializado em Segurança e em Medicina do Trabalho
- C) Junta Consultiva da Previdência Social
- D) auditor-fiscal do trabalho
- E) perito médico federal

**QUESTÃO 44** – O Manual de Proteção Respiratória (ABHO, 2003) refere que a \_\_\_\_\_ ou a eficiência são os parâmetros por meio dos quais se define o desempenho de um filtro na captura das partículas suspensas no ar. Consiste na relação percentual entre a concentração do aerossol de ensaio, medida na saída e na entrada de um filtro para particulados, ensaiado em condições especificadas.

Assinale a alternativa que preenche corretamente a lacuna do trecho acima.

- A) permeabilidade
- B) penetração
- C) infiltração
- D) osmose
- E) pirólise

**QUESTÃO 45** – Os símbolos para projetos de sistemas de detecção e alarme de incêndio estão definidos na NBR 17240:2010 – Sistemas de detecção e alarme de incêndio – Projeto, instalação, comissionamento e manutenção de sistemas de detecção e alarme de incêndio – Requisitos. Sobre o assunto, analise a Figura 6 abaixo:



Figura 6  
Fonte: NBR 17240:2010.

O símbolo apresentado na Figura 6 acima é utilizado para representar o detector

- A) de bloqueio.
- B) de fumaça.
- C) na parede.
- D) termovelocimétrico.
- E) multissensor.

**QUESTÃO 46** – O captor é uma peça ou dispositivo de sistemas de exaustão especialmente projetado para enclausurar o contaminante e estabelecer uma corrente de ar para o seu interior, pela manutenção da diferença de pressões entre o ar ambiente e o ar existente no interior do captor. Analise a Figura 7 abaixo, que apresenta diferentes tipos de captores.

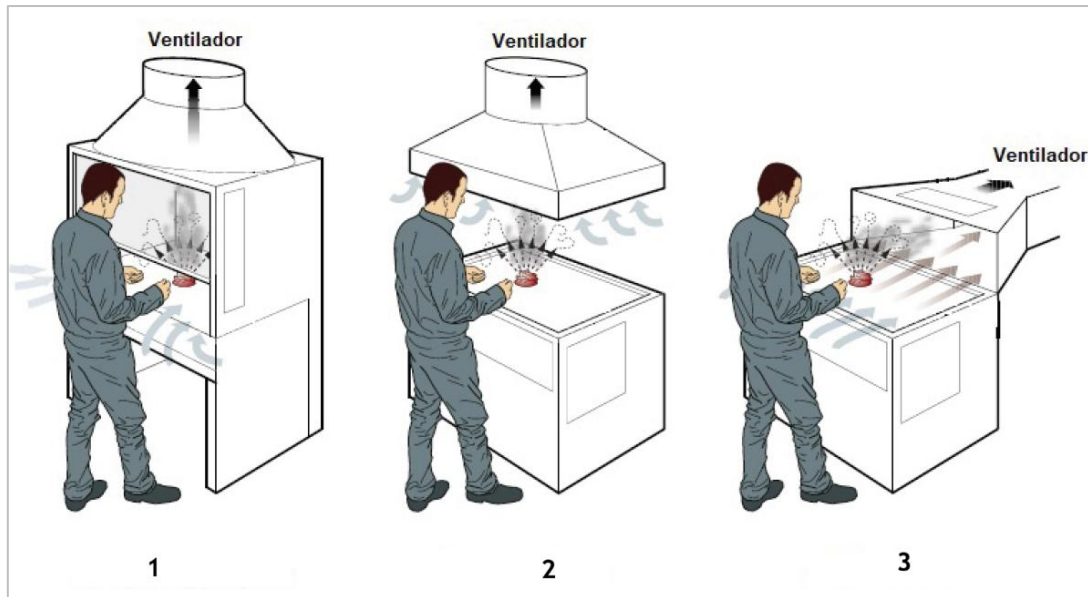


Figura 7

Fonte: Adaptado de Health and Safety Executive (2017).

Assinale alternativa que indica, correta e respectivamente, a denominação dos captores 1, 2 e 3 apresentados acima.

- A) Enclausurante – receptor – lateral.
- B) Enclausurante – *damper* – receptor.
- C) Receptor – *damper* – lateral.
- D) Receptor – enclausurante – *damper*.
- E) *Damper* – receptor – lateral.

**QUESTÃO 47** – Conforme a NBR 12188:2016 – Sistemas centralizados de suprimento de gases medicinais, de gases para dispositivos médicos e de vácuo para uso em serviços de saúde, as redes de distribuição (tubulações) devem ser identificadas com uma cor específica para cada gás. Nesse sentido, analise a Figura 8 abaixo.




Figura 8

Fonte: Gaslin (c2026).

Assinale a alternativa que identifica, correta e respectivamente, o gás 1 e o gás 2.

- A) Ar comprimido medicinal – oxigênio medicinal.
- B) Dióxido de carbono medicinal – oxigênio medicinal.
- C) Oxigênio medicinal – ar comprimido medicinal.
- D) Vácuo clínico – nitrogênio medicinal.
- E) Óxido nitroso medicinal – vácuo clínico.

**QUESTÃO 48** – Por serem utilizados no ambiente hospitalar, na maioria das vezes em pacientes, os gases medicinais recebem tratamento especial. Eles podem gerar riscos ocupacionais e possuem especificações rigorosas de qualidade. Um exemplo desse tipo de gás é o:

- A) Butano.
- B) Metano.
- C) Cicloexano.
- D) Óxido nitroso.
- E) Sulfeto de hidrogênio.

**QUESTÃO 49** – Para prevenção, avaliação e gerenciamento de riscos, são utilizadas técnicas de análise de riscos, que também são aplicadas aos riscos ocupacionais. Nesse contexto, analise a Figura 9 abaixo:

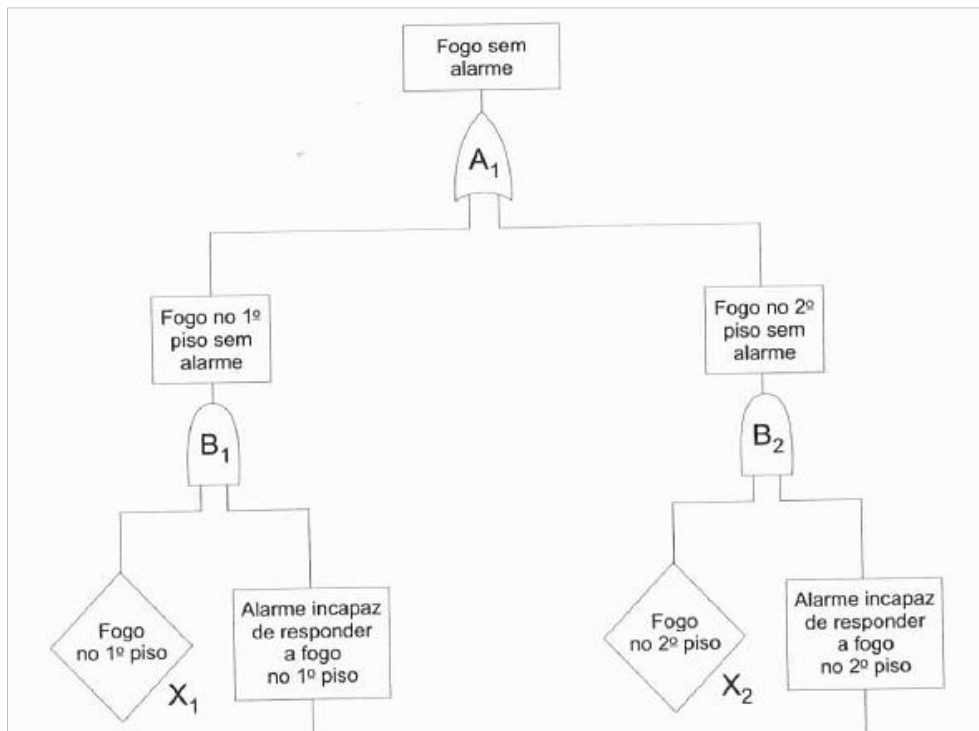


Figura 9  
Fonte: Tavares (1996).

Assinale a alternativa que indica a técnica representada na Figura 9 acima.

- A) Análise de Modos de Falha e Efeitos.
- B) Análise Preliminar de Riscos.
- C) Análise de Árvore de Falhas.
- D) Teoria das Barreiras.
- E) Matriz de Probabilidade.

**QUESTÃO 50** – Analise a Figura 10 abaixo, que ilustra uma situação de risco à saúde e à segurança dos trabalhadores.



Figura 10  
Fonte: Acervo do autor.

De acordo com o arcabouço legal em Segurança e Saúde no Trabalho, qual NR está sendo descumprida na situação apresentada acima?

- A) 02.
- B) 14.
- C) 19.
- D) 27.
- E) 35.