

## CONCURSO PÚBLICO

### EMPRESA GERENCIAL DE PROJETOS NAVAIS - EMGEPRON

EDITAL N.º 01/2026

### ASSISTENTE ADMINISTRATIVO (MATERIAL)

**Duração: 3h (três horas)**  
**Leia atentamente as instruções abaixo:**

**01** Você recebeu do fiscal o seguinte material:

**a)** Este caderno, com **50 (cinquenta)** questões da prova objetiva, sem repetição ou falha, conforme distribuição abaixo:

CONHECIMENTOS BÁSICOS			CONHECIMENTOS ESPECÍFICOS
LÍNGUA PORTUGUESA	MATEMÁTICA	INFORMÁTICA	
1 a 10	11 a 15	16 a 25	26 a 50

**b)** Um cartão de respostas destinado à marcação da alternativa correta.

**02** Verifique se este material está em ordem e se o seu nome, RG, cargo e número de inscrição conferem com os dados que aparecem no cartão de respostas. Caso contrário, notifique imediatamente o fiscal.

**03** Após a conferência, o candidato deverá assinar no espaço próprio do cartão de respostas, com caneta esferográfica de tinta na cor azul ou preta.

**04** No cartão de respostas da prova objetiva, a marcação da alternativa correta deve ser feita cobrindo a letra correspondente ao número da questão e preenchendo todo o espaço interno, com caneta esferográfica de tinta na cor azul ou preta, de forma contínua e densa.

**Exemplo:**



**05** Para cada uma das questões objetivas, são apresentadas **4 (quatro) alternativas** classificadas com as letras (A, B, C e D), mas só uma responde adequadamente à questão proposta. Você só deve assinalar uma alternativa. A marcação em mais de uma alternativa anula a questão, mesmo que uma das respostas esteja correta.

**06** O candidato poderá entregar seu cartão de respostas, seu caderno de questões e retirar-se da sala de prova somente depois de decorrida **1 (uma) hora** do início da prova. O candidato que insistir em sair da sala de prova, descumprindo o aqui disposto, deverá assinar o termo de ocorrência declarando sua desistência do certame, que será lavrado pelo coordenador do local.

**07** Só será permitido ao candidato levar o caderno de questões, a partir de **1 (uma) hora** para o horário de término da prova.

**08** Não será permitida a cópia de gabarito no local de prova. Ao terminar a prova de conhecimentos, o candidato entregará, obrigatoriamente, o seu cartão de respostas. **O candidato que se retirar da sala levando o cartão de respostas estará automaticamente eliminado do certame.**

**09** Reserve os **30 (trinta)** minutos finais para marcar seu cartão de respostas. Os rascunhos e as marcações assinaladas no caderno de questões não serão levados em consideração para a correção.

**10** Os **3 (três)** últimos candidatos permanecerão sentados até que todos concluem a prova ou que termine o tempo de duração da prova, devendo assinar a ata de sala e retirar-se juntos.

**CONHECIMENTOS BÁSICOS****LÍNGUA PORTUGUESA**

Leia o texto a seguir:

**Os mares na bijuteria**

Ilesa Rodrigues

Se existe um setor, além do jeans e da moda praia, em que o Brasil faz tendências de estilo, é o dos balangandãs. Desde a era das descobertas, somos conquistados por espelinhos e colares. Nem passaram muitos anos até começarmos a usar a criatividade inata para inventar nossas próprias bijuterias. Afinal, os cocares e adereços das tribos já eram bonitos.

Depois de algumas décadas acompanhando lançamentos nacionais e internacionais, se ainda existe uma vitrine capaz de me surpreender é a destes acessórios irresistíveis. A prova aconteceu nesta semana, na rotineira passagem pelo shopping da Gávea: no lugar da antiga papelaria estavam cordões coloridos, um deles com olhos gregos penduradinhos, um cavalo marinho como pingente, conchas... Pronto: deixei de lado a discussão com o gerente do banco, esqueci de ver o preço dos mouses na loja em frente. Entrei e conversei com a Ana, vendedora, marketeira de mão cheia, garota simpática, que ama a loja e seus produtos. E contou a história:

Michele Coelho, mais conhecida como Mimi Coelho, criava as bijoux da Farm. A demanda cresceu tanto que virou a Lola, marca independente, sem deixar a Farm. Os preços ficam na faixa dos R\$150. Nos despedimos com a promessa da Ana escrever para o meu site - ela é poeta! Só fui embora porque entrou uma multidão na pequena loja.

Outra marca de balangandãs é a Morana. Uma gigante do ramo, fundada em 2002, com mais de 300 lojas no país, que nunca se acomodou nas peças básicas ou na pretensão a joias

A Fresh Vibes, nova coleção inspirada em referências marítimas e celestes, traz pérolas, conchas e elementos orgânicos, um frescor para este alto-verão.

Fala Nara Dutra, Head de Marketing e E-commerce da Morana:

"Fresh Vibes nasce como um convite para viver o verão com mais espontaneidade e conexão com o momento presente. Pensamos em uma coleção versátil, que dialoga com diferentes estilos e ocasiões, mas sempre com esse frescor e brilho que são a essência da estação e da Morana."

Fonte: <https://www.jb.com.br/colunistas/lesa-rodrigues/2026/01/1058380-os-mares-na-bijuteria.html>. Acesso em 19/01/2026. Excerto

1. No primeiro parágrafo, a referência à "era das descobertas" cumpre a função de:

- A) localizar temporalmente a origem da bijuteria
- B) justificar economicamente o sucesso do setor
- C) criticar, de modo muito irônico, a relação colonial com objetos decorativos
- D) contextualizar historicamente a inclinação brasileira para adornos e ornamentos

2. O uso da primeira pessoa ao longo do texto contribui principalmente para:

- A) subverter a objetividade jornalística
- B) transformar o texto em um relato autobiográfico
- C) criar um efeito de proximidade e credibilidade experiencial
- D) substituir dados objetivos por impressões subjetivas pouco relevantes

3. Considerando o texto como um todo, a autora:

- A) faz uma crítica ao consumismo exagerado
- B) mantém distanciamento analítico em relação às marcas citadas
- C) descreve objetivamente o mercado de bijuterias, em franca ascensão no país
- D) constrói uma narrativa subjetiva que celebra a criatividade e o mercado da bijuteria brasileira

4. No trecho "Só fui embora **porque** entrou uma multidão na pequena loja" (3º parágrafo), o elemento em destaque estabelece uma relação de:

- A) causa
- B) tempo
- C) condição
- D) finalidade

5. No texto, a expressão "uma gigante do ramo" (4º parágrafo), usada para caracterizar a Morana, substitui:

- A) uma loja
- B) uma bijuteria produzida no Brasil
- C) uma marca de acessórios já mencionada
- D) uma coleção de joias muito famosa no país

6. "Afinal, os cocares e adereços das tribos já **eram** bonitos" (1º parágrafo). Nesse trecho, a forma verbal em destaque está flexionada no:

- A) pretérito perfeito do indicativo
- B) pretérito imperfeito do indicativo
- C) pretérito imperfeito do subjuntivo
- D) pretérito mais-que-perfeito do indicativo

7. "somos conquistados por espelinhos e colares" (1º parágrafo). Na voz ativa, essa frase seria corretamente reescrita da seguinte forma:

- A) Espelinhos conquistam colares
- B) Espelinhos e colares conquistam
- C) Espelinhos e colares nos conquistam
- D) Espelinhos e colares conquistam-lhes

8. "A demanda cresceu tanto **que virou a Lola**, marca independente, sem deixar a Farm" (3º parágrafo). O trecho em destaque é classificado corretamente como:

- A) adjunto adverbial
- B) adjunto adnominal
- C) oração subordinada substantiva subjetiva
- D) oração subordinada adverbial consecutiva

9. “Uma gigante do ramo, fundada em 2002, com mais de 300 lojas no país, **que** nunca se acomodou nas peças básicas ou na pretensão a jóias” (4º parágrafo). Nesse trecho, a palavra em destaque classifica-se corretamente como:

- A) preposição
- B) pronome relativo
- C) pronome indefinido
- D) conjunção integrante

10. “[...] no lugar da antiga papelaria estavam cordões coloridos, um deles com olhos gregos penduradinhos, um cavalo marinho como pingente, conchas...” (2º parágrafo). Nesse trecho, o emprego de reticências tem como principal efeito:

- A) sugerir continuidade e abundância dos elementos descritos
- B) substituir informação desconhecida
- C) marcar hesitação do narrador
- D) indicar dúvida do autor

## MATEMÁTICA

11 Um reservatório de água com a forma de um paralelepípedo retângulo e altura interna igual a  $x$  metros tem seu volume dado, em  $m^3$ , pela função  $V(x) = 42x - 6x^2$ . O volume máximo desse reservatório ocorre, em metros, para o seguinte valor de  $x$ :

- A) 2,0
- B) 2,5
- C) 3,0
- D) 3,5

12. Léo colocou, em uma caixa vazia,  $x$  bolas pretas e  $y$  bolas vermelhas. Sabe-se que  $x$  representa 35% do total de bolas colocadas na caixa. Logo, o menor valor possível da diferença ( $y - x$ ) é:

- A) 5
- B) 6
- C) 7
- D) 8

13. Cláudio começou a pintar um muro. Em um determinado momento, a área pintada representava  $5/7$  da área não pintada. Após pintar mais  $520 m^2$ , as duas áreas tornaram-se iguais. A área total do muro, em  $m^2$ , corresponde a:

- A) 6.240
- B) 6.320
- C) 6.440
- D) 6.520

14. Joana preparou uma *playlist* formada por 3 músicas do cantor A e 3 músicas do cantor B. Um aplicativo vai reproduzir apenas essas 6 músicas, todas diferentes entre si, em uma sequência aleatória. O número máximo de sequências diferentes em que a 1ª música é do cantor A e a última é do cantor B corresponde a:

- A) 144
- B) 192
- C) 216
- D) 240

15. As medidas das alturas de 3 cilindros retos, todos de raio igual a 1 dm, formam uma progressão aritmética de razão 2 dm. Se a soma dos volumes dos três cilindros é igual a  $36\pi dm^3$ , a medida da maior das três alturas, em dm, corresponde a:

- A) 10
- B) 12
- C) 14
- D) 16

## INFORMÁTICA

16. Uma equipe de desenvolvedores de sistema confeccionou um sistema de processamento que analisa dados à medida que eles são gerados. Esse sistema garante respostas em milissegundos ou segundos, o que o torna essencial para aplicações que precisam de controle de tempo de forma crítica, como sistema de controle, de detecção de fraude bancária etc. Além disso, o sistema prioriza baixa latência e alta disponibilidade. Esse tipo de sistema de processamento é conhecido como sistema:

- A) offline
- B) de lote
- C) de tempo real
- D) de tempo compartilhado

17. Um usuário de computador deseja adquirir um processador que tenha uma memória temporária eficiente. Essa memória costuma ser localizada na CPU ou próxima a ela, sendo uma memória ultrarrápida, que serve para armazenar os dados e instruções frequentemente acessados pelos processos do sistema e, com isso, acelerar o desempenho do computador. Esse tipo de memória da CPU é chamado de memória:

- A) DDR
- B) ROM
- C) SRAM
- D) CACHE

18. Um usuário do sistema operacional *MS Windows 10 BR* precisa percorrer os aplicativos fixados na barra de tarefas, focando neles um por um, sem utilizar o *mouse*. Para tanto, ele deve utilizar as teclas de atalho:

- A) Alt + m
- B) WIN + t
- C) WIN + s
- D) Ctrl + Tab





19. Um usuário do sistema operacional *Linux* precisa atualizar a data de modificação de um arquivo existente, alterando-a para o dia, mês, ano e hora atuais. Para isso, ele deve utilizar o comando denominado:

- A) touch
- B) locate
- C) chown
- D) passwd

20. Um usuário do pacote *MS Office 2013 BR*, utilizando o *MS Word*, deseja gerenciar a confecção de uma mala direta. Nesse caso, ele deve acessar a guia intitulada:

- A) REVISÃO
- B) PÁGINA INICIAL
- C) LAYOUT DA PÁGINA
- D) CORRESPONDÊNCIAS

21. Ao confeccionar uma apresentação no *MS PowerPoint 2013 BR*, um usuário precisou configurar a transição dos *slides* para o modelo de queda. Para isso, ele precisa, na guia "Transições", clicar no ícone:

- A) 
- B) 
- C) 
- D) 

22. Uma equipe de gerência de rede em nuvem implementou uma estratégia atualizada de segurança na nuvem que foca na proteção das conexões individuais de usuários, ao invés de conceder confiança de forma implícita a todos os membros da rede. Esse modelo de segurança em nuvem, além de assumir que não há confiabilidade padrão para acessos internos ou externos, sempre exigirá uma verificação rigorosa cada vez que um usuário solicitar acesso. Esse tipo de segurança é denominado:

- A) zero trust  
B) testes shift-left  
C) detecção de acesso  
D) redes privadas virtuais

23. Uma empresa de TI deseja implantar uma nova rede social, voltada para estudantes de computação, visando ao compartilhamento de projetos, à integração de atividades e ao *marketing* profissional. Uma das ações a ser considerada é a forma de representação do relacionamento dos entes referenciados, para facilitar sua análise. Isso é feito utilizando uma estrutura de dados do tipo:

- A) listas  
B) pilhas  
C) grafos  
D) vetores

24. Um ambiente de rede precisa acessar uma das portas TCP/IP que trata de tempo, permitindo que clientes dessa rede solicitem e recebam a data e hora atuais de um servidor. Uma das portas para esse controle é a:

- A) 19  
B) 23  
C) 37  
D) 41

25. Um usuário do *browser Google Chrome*, trabalhando em uma máquina com sistema operacional *MS Windows 8.1 BR*, vai imprimir uma página usando teclas de atalho. Para tanto, ele deve utilizar as teclas Ctrl +

- A) h  
B) j  
C) n  
D) p

## CONHECIMENTOS ESPECÍFICOS

26. O conceito de administração remonta à(ao):

- A) indicação de que a organização utiliza produtivamente, ou de maneira econômica seus recursos  
B) conjunto de características que definem organizações e a forma como são administradas  
C) processo de tomar decisões sobre objetivos e utilização de recursos  
D) indicação de que a organização realiza seus objetivos

27. As funções administrativas envolvem os elementos da Administração, isto é, as funções do administrador. Dentre essas funções, aquela que liga, une e harmoniza todos os atos e esforços coletivos é denominada:

- A) prever  
B) controlar  
C) coordenar  
D) comandar

28. As organizações utilizam medição, avaliação e controle de três áreas principais, para medir o desempenho organizacional. Nesse sentido, liga-se ao comportamento ou aos meios instrumentais que se pretende colocar em prática:

- A) a eficiência  
B) os resultados  
C) o desempenho  
D) os fatores críticos de sucesso

29. Existem três tipos de habilidades importantes para o desempenho administrativo bem-sucedido. Aquele em que as habilidades envolvem o uso de conhecimento especializado e a facilidade na execução de técnicas relacionadas com o trabalho e com os procedimentos de realização é conhecido como:

- A) conceitual  
B) cognitiva  
C) humana  
D) técnica

30. Certos autores da administração estabelecem alguns perfis de liderança nas organizações. Um desses perfis é caracterizado por se basear no processo decisório em grupos de trabalho. Esses grupos se comunicam entre si por meio de indivíduos (elos de ligação) que ligam componentes, líderes de equipes ou outros que também fazem parte de um ou mais grupos. Tal perfil é conhecido como:

- A) consultivo  
B) participativo  
C) autoritário explorador  
D) autoritário benevolente

31. No decorrer da história da humanidade, sempre existiram formas, simples ou complexas, de administrar as organizações. Tais formas sofrem influências de várias correntes ideológicas até os tempos atuais. Nesse contexto, o desenvolvimento de ideias e de teorias a respeito da Administração foi muito lento e acelerou-se a partir do século:

- A) XVIII  
B) XIX  
C) XX  
D) XXI

**32.** Tendo como base as eras evolutivas do campo da administração, os estudos sobre o tipo ideal de burocracia surgem no seguinte período:

- A) 1900-1925
- B) 1925-1950
- C) 1950-1975
- D) 1975-2000

**33.** A organização é um sistema humano e complexo, com características próprias típicas da sua cultura e do clima organizacional. Esse conjunto de variáveis deve ser continuamente observado, analisado e aperfeiçoado, para que resulte em motivação e produtividade. Pautado nisso, a capacidade de resolver problemas e de reagir de maneira flexível às exigências mutáveis e inconstantes do meio ambiente é conhecida como:

- A) perspectiva exata do meio ambiente
- B) integração entre os participantes
- C) senso de identidade
- D) adaptabilidade

**34.** A abordagem de equipes torna as organizações mais flexíveis e ágeis ao ambiente global e competitivo. A equipe que é composta por pessoas de vários departamentos funcionais que resolvem problemas mútuos, e cada pessoa, além de reportar-se ao seu departamento funcional, também reporta-se à equipe, é do tipo:

- A) temporária
- B) permanente
- C) funcional cruzada
- D) funcional organizada

**35.** A ética constitui o conjunto de valores ou princípios morais que definem o que é certo ou errado para uma pessoa, grupo ou organização. Quando as organizações são confiáveis quanto à ação ética, a sociedade deixa de pressionar por uma legislação que regule mais intensamente os negócios, o que caracteriza uma prática de:

- A) aumento da produtividade
- B) melhoria da saúde organizacional
- C) minimização da regulamentação corporativa
- D) minimização da regulamentação governamental

**36.** A proposição de modelo de responsabilidade social corporativa que considera que toda organização tem influência sobre a sociedade, e que deve exigir condições que resultam do exercício dessa influência, está ligada à ideia de que:

- A) a responsabilidade social emerge do poder social
- B) as organizações devem operar em um sistema aberto de duas vias
- C) os custos e benefícios sociais de uma ação devem ser calculados e considerados nas decisões a respeito deles
- D) as organizações devem ser envolvidas na responsabilidade em certos problemas sociais em que estão fora de suas áreas normais de operação

**37.** A Teoria Neoclássica enfatiza as funções do administrador, que são planejamento, organização, direção e controle. No seu conjunto, as funções administrativas formam o processo administrativo. Nesse sentido, a organização é definida como a função que:

- A) determina antecipadamente os objetivos e o que deve ser feito para alcançá-los
- B) consiste no agrupamento das atividades necessárias para realizar o que foi planejado
- C) orienta e guia o comportamento das pessoas na direção dos objetivos a serem alcançados
- D) visa a assegurar se o que foi planejado, organizado e dirigido realmente cumpriu os objetivos pretendidos

**38.** A necessidade de um sistema de classificação é primordial para qualquer Departamento de Materiais, pois sua ausência impede o controle eficiente dos estoques, a criação de procedimentos de armazenagem adequados e a correta operacionalização do almoxarifado. Dentre os objetivos da classificação, aquele que reduz a diversidade de um item empregado para o mesmo fim consiste em:

- A) catalogar
- B) simplificar
- C) normalizar
- D) especificar

**39.** Em função de uma boa classificação do material, pode-se partir para a codificação desse mesmo material. Com base nisso, o sistema que consiste em uma combinação de letras e de números, o qual permite um número superior de itens em estoque, é o:

- A) alfanumérico
- B) alfabético
- C) numérico
- D) decimal

**40.** Com relação às técnicas de arranjo físico, utilizam-se os diagramas, que adotam símbolos específicos para representar atividades do processo. A atividade intitulada "operação" é representada por um(a):

- A) letra D maiúscula
- B) circunferência
- C) triângulo
- D) flecha

**41.** Para uma melhor conservação e armazenagem dos materiais em estoque, aplicam-se algumas técnicas comuns. A técnica que é adequada para itens de pequenas dimensões, que a própria empresa constrói ou adquire no mercado em dimensões padronizadas, são os(as):

- A) empilhamentos
- B) prateleiras
- C) caixas
- D) racks

**42.** Dentre os principais equipamentos de armazenagem, aqueles que melhor possibilitam o aproveitamento do espaço vertical nos armazéns são as(os):

- A) contêineres
- B) engradados
- C) prateleiras
- D) pallets

**43.** De acordo com a classificação dos materiais por importância operacional, os materiais de máxima criticidade, não podendo ser substituídos por outros equivalentes em tempo hábil sem acarretar prejuízos significativos, pertencem à classe:

- A) Z
- B) Y
- C) X
- D) W

**44.** Na classificação que utiliza o método da curva ABC, os itens de valor de demanda intermediário correspondem a um percentual de quantidade em estoque de:

- A) 20%
- B) 30%
- C) 50%
- D) 80%

**45.** Na gestão de bens patrimoniais, há alguns conceitos relativos à depreciação de bens. O período de tempo durante o qual a entidade espera obter, de um bem, fluxos de benefícios futuros é chamado de:

- A) vida útil
- B) valor residual
- C) valor depreciável
- D) vida útil econômica

**46.** A respeito da distribuição dos materiais e da natureza dos produtos a transportar, a carga que engloba mais de 3.000 (três mil) itens, estando codificados em nove classes, de acordo com norma internacional, é a:

- A) geral
- B) especial
- C) perigosa
- D) semiespecial

**47.** Há muitas formas existentes de se estruturar a distribuição física dos materiais e que contemplam segmentos da estrutura de distribuição. O segmento no qual ocorre a determinação de roteiros para utilização dos serviços de transporte, da forma mais econômica e eficiente, é o de:

- A) transportes e fretes
- B) movimentação de materiais
- C) embalagem e acondicionamento
- D) depósitos regionais e de mercadorias em trânsito

**48.** A perecibilidade pode aprimorar a classificação e o gerenciamento dos materiais. A partir disso, os materiais que possuem grande afinidade com o vapor de água e podem ser retirados da atmosfera relacionam-se à:

- A) contaminação de partículas sólidas
- B) mudança de temperatura
- C) ação da gravidade
- D) ação higroscópica

**49.** No que se refere ao material perecível em razão do tempo, é necessário dispensar especial atenção quanto aos prazos de vencimento. Em geral, quando compõem estoques, emprega-se uma sistemática de distribuição desses materiais que é conhecida pela sigla:

- A) UEPS
- B) PEPS
- C) MRP
- D) SCM

**50.** A lei de movimentação de materiais que evita a manipulação dos materiais ao longo do ciclo de processamento do material e utiliza o transporte mecânico ou automatizado sempre que possível é a de:

- A) mínima distância
- B) menor custo total
- C) manipulação mínima
- D) obediência ao fluxo das operações

RASCUNHO