

## CONCURSO PÚBLICO

### EMPRESA GERENCIAL DE PROJETOS NAVAIS - EMGEPRON

EDITAL N.º 01/2026

### TÉCNICO DE CONTABILIDADE

**Duração: 3h (três horas)**  
**Leia atentamente as instruções abaixo:**

**01** Você recebeu do fiscal o seguinte material:

**a)** Este caderno, com **50 (cinquenta)** questões da prova objetiva, sem repetição ou falha, conforme distribuição abaixo:

CONHECIMENTOS BÁSICOS			CONHECIMENTOS ESPECÍFICOS
LÍNGUA PORTUGUESA	MATEMÁTICA	INFORMÁTICA	
1 a 10	11 a 15	16 a 25	26 a 50

**b)** Um cartão de respostas destinado à marcação da alternativa correta.

**02** Verifique se este material está em ordem e se o seu nome, RG, cargo e número de inscrição conferem com os dados que aparecem no cartão de respostas. Caso contrário, notifique imediatamente o fiscal.

**03** Após a conferência, o candidato deverá assinar no espaço próprio do cartão de respostas, com caneta esferográfica de tinta na cor azul ou preta.

**04** No cartão de respostas da prova objetiva, a marcação da alternativa correta deve ser feita cobrindo a letra correspondente ao número da questão e preenchendo todo o espaço interno, com caneta esferográfica de tinta na cor azul ou preta, de forma contínua e densa.

**Exemplo:**



**05** Para cada uma das questões objetivas, são apresentadas **4 (quatro) alternativas** classificadas com as letras (A, B, C e D), mas só uma responde adequadamente à questão proposta. Você só deve assinalar uma alternativa. A marcação em mais de uma alternativa anula a questão, mesmo que uma das respostas esteja correta.

**06** O candidato poderá entregar seu cartão de respostas, seu caderno de questões e retirar-se da sala de prova somente depois de decorrida **1 (uma) hora** do início da prova. O candidato que insistir em sair da sala de prova, descumprindo o aqui disposto, deverá assinar o termo de ocorrência declarando sua desistência do certame, que será lavrado pelo coordenador do local.

**07** Só será permitido ao candidato levar o caderno de questões, a partir de **1 (uma) hora** para o horário de término da prova.

**08** Não será permitida a cópia de gabarito no local de prova. Ao terminar a prova de conhecimentos, o candidato entregará, obrigatoriamente, o seu cartão de respostas. **O candidato que se retirar da sala levando o cartão de respostas estará automaticamente eliminado do certame.**

**09** Reserve os **30 (trinta)** minutos finais para marcar seu cartão de respostas. Os rascunhos e as marcações assinaladas no caderno de questões não serão levados em consideração para a correção.

**10** Os **3 (três)** últimos candidatos permanecerão sentados até que todos concluem a prova ou que termine o tempo de duração da prova, devendo assinar a ata de sala e retirar-se juntos.

## CONHECIMENTOS BÁSICOS

## LÍNGUA PORTUGUESA

Leia o texto a seguir:

**Os mares na bijuteria**

Ilesa Rodrigues

Se existe um setor, além do jeans e da moda praia, em que o Brasil faz tendências de estilo, é o dos balangandãs. Desde a era das descobertas, somos conquistados por espelinhos e colares. Nem passaram muitos anos até começarmos a usar a criatividade inata para inventar nossas próprias bijuterias. Afinal, os cocares e adereços das tribos já eram bonitos.

Depois de algumas décadas acompanhando lançamentos nacionais e internacionais, se ainda existe uma vitrine capaz de me surpreender é a destes acessórios irresistíveis. A prova aconteceu nesta semana, na rotineira passagem pelo shopping da Gávea: no lugar da antiga papelaria estavam cordões coloridos, um deles com olhos gregos penduradinhos, um cavalo marinho como pingente, conchas... Pronto: deixei de lado a discussão com o gerente do banco, esqueci de ver o preço dos mouses na loja em frente. Entrei e conversei com a Ana, vendedora, marketeira de mão cheia, garota simpática, que ama a loja e seus produtos. E contou a história:

Michele Coelho, mais conhecida como Mimi Coelho, criava as bijoux da Farm. A demanda cresceu tanto que virou a Lola, marca independente, sem deixar a Farm. Os preços ficam na faixa dos R\$150. Nos despedimos com a promessa da Ana escrever para o meu site - ela é poeta! Só fui embora porque entrou uma multidão na pequena loja.

Outra marca de balangandãs é a Morana. Uma gigante do ramo, fundada em 2002, com mais de 300 lojas no país, que nunca se acomodou nas peças básicas ou na pretensão a joias

A Fresh Vibes, nova coleção inspirada em referências marítimas e celestes, traz pérolas, conchas e elementos orgânicos, um frescor para este alto-verão.

Fala Nara Dutra, Head de Marketing e E-commerce da Morana:

"Fresh Vibes nasce como um convite para viver o verão com mais espontaneidade e conexão com o momento presente. Pensamos em uma coleção versátil, que dialoga com diferentes estilos e ocasiões, mas sempre com esse frescor e brilho que são a essência da estação e da Morana."

Fonte: <https://www.jb.com.br/colunistas/lesa-rodrigues/2026/01/1058380-os-mares-na-bijuteria.html>. Acesso em 19/01/2026. Excerto

1. No primeiro parágrafo, a referência à "era das descobertas" cumpre a função de:

- A) localizar temporalmente a origem da bijuteria
- B) justificar economicamente o sucesso do setor
- C) criticar, de modo muito irônico, a relação colonial com objetos decorativos
- D) contextualizar historicamente a inclinação brasileira para adornos e ornamentos

2. O uso da primeira pessoa ao longo do texto contribui principalmente para:

- A) subverter a objetividade jornalística
- B) transformar o texto em um relato autobiográfico
- C) criar um efeito de proximidade e credibilidade experiencial
- D) substituir dados objetivos por impressões subjetivas pouco relevantes

3. Considerando o texto como um todo, a autora:

- A) faz uma crítica ao consumismo exagerado
- B) mantém distanciamento analítico em relação às marcas citadas
- C) descreve objetivamente o mercado de bijuterias, em franca ascensão no país
- D) constrói uma narrativa subjetiva que celebra a criatividade e o mercado da bijuteria brasileira

4. No trecho "Só fui embora **porque** entrou uma multidão na pequena loja" (3º parágrafo), o elemento em destaque estabelece uma relação de:

- A) causa
- B) tempo
- C) condição
- D) finalidade

5. No texto, a expressão "uma gigante do ramo" (4º parágrafo), usada para caracterizar a Morana, substitui:

- A) uma loja
- B) uma bijuteria produzida no Brasil
- C) uma marca de acessórios já mencionada
- D) uma coleção de joias muito famosa no país

6. "Afinal, os cocares e adereços das tribos já **eram** bonitos" (1º parágrafo). Nesse trecho, a forma verbal em destaque está flexionada no:

- A) pretérito perfeito do indicativo
- B) pretérito imperfeito do indicativo
- C) pretérito imperfeito do subjuntivo
- D) pretérito mais-que-perfeito do indicativo

7. "somos conquistados por espelinhos e colares" (1º parágrafo). Na voz ativa, essa frase seria corretamente reescrita da seguinte forma:

- A) Espelinhos conquistam colares
- B) Espelinhos e colares conquistam
- C) Espelinhos e colares nos conquistam
- D) Espelinhos e colares conquistam-lhes

8. "A demanda cresceu tanto **que virou a Lola**, marca independente, sem deixar a Farm" (3º parágrafo). O trecho em destaque é classificado corretamente como:

- A) adjunto adverbial
- B) adjunto adnominal
- C) oração subordinada substantiva subjetiva
- D) oração subordinada adverbial consecutiva

9. “Uma gigante do ramo, fundada em 2002, com mais de 300 lojas no país, **que** nunca se acomodou nas peças básicas ou na pretensão a jóias” (4º parágrafo). Nesse trecho, a palavra em destaque classifica-se corretamente como:

- A) preposição
- B) pronome relativo
- C) pronome indefinido
- D) conjunção integrante

10. “[...] no lugar da antiga papelaria estavam cordões coloridos, um deles com olhos gregos penduradinhos, um cavalo marinho como pingente, conchas...” (2º parágrafo). Nesse trecho, o emprego de reticências tem como principal efeito:

- A) sugerir continuidade e abundância dos elementos descritos
- B) substituir informação desconhecida
- C) marcar hesitação do narrador
- D) indicar dúvida do autor

## MATEMÁTICA

11 Um reservatório de água com a forma de um paralelepípedo retângulo e altura interna igual a  $x$  metros tem seu volume dado, em  $m^3$ , pela função  $V(x) = 42x - 6x^2$ . O volume máximo desse reservatório ocorre, em metros, para o seguinte valor de  $x$ :

- A) 2,0
- B) 2,5
- C) 3,0
- D) 3,5

12. Léo colocou, em uma caixa vazia,  $x$  bolas pretas e  $y$  bolas vermelhas. Sabe-se que  $x$  representa 35% do total de bolas colocadas na caixa. Logo, o menor valor possível da diferença ( $y - x$ ) é:

- A) 5
- B) 6
- C) 7
- D) 8

13. Cláudio começou a pintar um muro. Em um determinado momento, a área pintada representava  $5/7$  da área não pintada. Após pintar mais  $520 m^2$ , as duas áreas tornaram-se iguais. A área total do muro, em  $m^2$ , corresponde a:

- A) 6.240
- B) 6.320
- C) 6.440
- D) 6.520

14. Joana preparou uma *playlist* formada por 3 músicas do cantor A e 3 músicas do cantor B. Um aplicativo vai reproduzir apenas essas 6 músicas, todas diferentes entre si, em uma sequência aleatória. O número máximo de sequências diferentes em que a 1ª música é do cantor A e a última é do cantor B corresponde a:

- A) 144
- B) 192
- C) 216
- D) 240

15. As medidas das alturas de 3 cilindros retos, todos de raio igual a 1 dm, formam uma progressão aritmética de razão 2 dm. Se a soma dos volumes dos três cilindros é igual a  $36\pi dm^3$ , a medida da maior das três alturas, em dm, corresponde a:

- A) 10
- B) 12
- C) 14
- D) 16

## INFORMÁTICA

16. Uma equipe de desenvolvedores de sistema confeccionou um sistema de processamento que analisa dados à medida que eles são gerados. Esse sistema garante respostas em milissegundos ou segundos, o que o torna essencial para aplicações que precisam de controle de tempo de forma crítica, como sistema de controle, de detecção de fraude bancária etc. Além disso, o sistema prioriza baixa latência e alta disponibilidade. Esse tipo de sistema de processamento é conhecido como sistema:

- A) offline
- B) de lote
- C) de tempo real
- D) de tempo compartilhado

17. Um usuário de computador deseja adquirir um processador que tenha uma memória temporária eficiente. Essa memória costuma ser localizada na CPU ou próxima a ela, sendo uma memória ultrarrápida, que serve para armazenar os dados e instruções frequentemente acessados pelos processos do sistema e, com isso, acelerar o desempenho do computador. Esse tipo de memória da CPU é chamado de memória:

- A) DDR
- B) ROM
- C) SRAM
- D) CACHE

18. Um usuário do sistema operacional *MS Windows 10 BR* precisa percorrer os aplicativos fixados na barra de tarefas, focando neles um por um, sem utilizar o *mouse*. Para tanto, ele deve utilizar as teclas de atalho:

- A) Alt + m
- B) WIN + t
- C) WIN + s
- D) Ctrl + Tab





19. Um usuário do sistema operacional *Linux* precisa atualizar a data de modificação de um arquivo existente, alterando-a para o dia, mês, ano e hora atuais. Para isso, ele deve utilizar o comando denominado:

- A) touch
- B) locate
- C) chown
- D) passwd

20. Um usuário do pacote *MS Office 2013 BR*, utilizando o *MS Word*, deseja gerenciar a confecção de uma mala direta. Nesse caso, ele deve acessar a guia intitulada:

- A) REVISÃO
- B) PÁGINA INICIAL
- C) LAYOUT DA PÁGINA
- D) CORRESPONDÊNCIAS

21. Ao confeccionar uma apresentação no *MS PowerPoint 2013 BR*, um usuário precisou configurar a transição dos *slides* para o modelo de queda. Para isso, ele precisa, na guia "Transições", clicar no ícone:

- A) 
- B) 
- C) 
- D) 

22. Uma equipe de gerência de rede em nuvem implementou uma estratégia atualizada de segurança na nuvem que foca na proteção das conexões individuais de usuários, ao invés de conceder confiança de forma implícita a todos os membros da rede. Esse modelo de segurança em nuvem, além de assumir que não há confiabilidade padrão para acessos internos ou externos, sempre exigirá uma verificação rigorosa cada vez que um usuário solicitar acesso. Esse tipo de segurança é denominado:

- A) zero trust  
B) testes shift-left  
C) detecção de acesso  
D) redes privadas virtuais

23. Uma empresa de TI deseja implantar uma nova rede social, voltada para estudantes de computação, visando ao compartilhamento de projetos, à integração de atividades e ao *marketing* profissional. Uma das ações a ser considerada é a forma de representação do relacionamento dos entes referenciados, para facilitar sua análise. Isso é feito utilizando uma estrutura de dados do tipo:

- A) listas  
B) pilhas  
C) grafos  
D) vetores

24. Um ambiente de rede precisa acessar uma das portas TCP/IP que trata de tempo, permitindo que clientes dessa rede solicitem e recebam a data e hora atuais de um servidor. Uma das portas para esse controle é a:

- A) 19  
B) 23  
C) 37  
D) 41

25. Um usuário do *browser Google Chrome*, trabalhando em uma máquina com sistema operacional *MS Windows 8.1 BR*, vai imprimir uma página usando teclas de atalho. Para tanto, ele deve utilizar as teclas Ctrl +

- A) h  
B) j  
C) n  
D) p

## CONHECIMENTOS ESPECÍFICOS

26. A empresa recebeu do cliente o valor de R\$ 5.000,00 referente à parcela da venda de mercadoria realizada no mês anterior. Nesse caso, a escrituração da operação será realizada mediante registros contábeis seguindo o método:

- A) débito e crédito em contas de ativo  
B) débito de ativo e crédito de passivo  
C) débito de passivo e crédito de ativo  
D) débito e crédito em contas de passivo

27. O lançamento a débito em uma conta contábil provocará aumento do seu saldo se a conta:

- A) representar uma receita  
B) constituir o capital social  
C) integrar um componente do ativo  
D) corresponder a um elemento do passivo

28. A empresa apresentou, ao final do exercício, os saldos de contas indicados na seguinte tabela:

Conta	Saldo (R\$)
Caixa	2.600,00
Mobiliário	4.500,00
Imóveis	6.000,00
Mercadorias	5.000,00
Depreciação acumulada	1.500,00
Fornecedores	4.000,00
Impostos a pagar	3.000,00
Adiantamento de clientes	2.000,00

Diante dessas informações, é possível afirmar que o patrimônio líquido equivale a R\$:

- A) 7.600,00  
B) 10.600,00  
C) 12.400,00  
D) 13.000,00

29. São elementos patrimoniais da empresa que integram o passivo não circulante:

- A) dividendos a pagar  
B) duplicadas a negociar  
C) adiantamentos a fornecedores  
D) receitas diferidas de adiantamentos recebidos de clientes

30. O fato contábil que demanda registro em duas contas que compõem o ativo circulante do balanço patrimonial é:

- A) provisão de salários  
B) compra de bens móveis  
C) recebimento de clientes  
D) pagamento de fornecedores

31. Ações em tesouraria constituem um elemento que integra o balanço patrimonial entre os componentes do:

- A) ativo circulante  
B) patrimônio líquido  
C) passivo circulante  
D) passivo não circulante

**32.** O produto da alienação de partes beneficiárias e bônus de subscrição é registrado em conta classificada como reserva:

- A) financeira
- B) monetária
- C) de capital
- D) patrimonial

**33.** Os impostos incidentes sobre vendas são incluídos, na demonstração do resultado do exercício, no conjunto dos valores relativos às(aos):

- A) despesas tributárias
- B) deduções das vendas
- C) atividades operacionais
- D) gastos administrativos

**34.** Os empréstimos de curto prazo e os dividendos a pagar são considerados, na elaboração da demonstração dos fluxos de caixa, como itens relacionados às atividades:

- A) financeiras
- B) operacionais
- C) de investimentos
- D) de financiamentos

**35.** As informações a respeito do número, das espécies e das classes das ações do capital social devem ser indicadas na peça contábil conhecida como:

- A) avisos contábeis
- B) notas explicativas
- C) dados complementares
- D) informações societárias

**36.** A empresa utiliza os materiais em estoque mais antigos na sua linha de produção, usando os estoques mais novos após acabarem os antigos. Essa prática indica que a empresa avalia os estoques pelo método conhecido como:

- A) LIFO
- B) PEPS
- C) UEPS
- D) MÉDIO

**37.** A perda do valor dos elementos do ativo imobilizado será registrada periodicamente mediante o procedimento conhecido como:

- A) exaustão
- B) amortização
- C) depreciação
- D) desvalorização

**38.** O ajuste a valor presente é o critério de avaliação do ativo que se aplica aos(às):

- A) direitos classificados no intangível
- B) direitos classificados no imobilizado
- C) elementos do ativo decorrentes de operações de longo prazo
- D) aplicações destinadas à negociação ou disponíveis para venda

**39.** A despesa pública segue estágios de execução orçamentária financeira até o efetivo pagamento. Para que o pagamento da despesa seja realizado, é necessário o cumprimento do estágio denominado:

- A) licitação
- B) liquidação
- C) lançamento
- D) provisionamento

**40.** O procedimento do empenho da despesa tem registro em contas da contabilidade pública que integram o sistema de contas conhecido como:

- A) geral
- B) financeiro
- C) patrimonial
- D) orçamentário

**41.** O órgão público realizou os pagamentos de despesas indicados na seguinte tabela:

Despesa	Valor R\$
Aquisição de móveis	2.000,00
Salários	4.000,00
Energia elétrica	1.000,00
Amortização de dívida	3.000,00
Serviços de manutenção	1.500,00
Compra de veículos	2.500,00
Merenda escolar	1.600,00

A partir dos dados da tabela, é possível afirmar que o valor das despesas correntes corresponde a:

- A) 5.000,00
- B) 5.500,00
- C) 7.500,00
- D) 8.100,00

**42.** Os créditos adicionais ao orçamento são abertos por meio de decreto do Poder Executivo e dependem da existência de recursos que os possam suprir. Com base nisso, os recursos que podem ser utilizados para suprir os créditos são os:

- A) provenientes de excesso de arrecadação
- B) obtidos por repasses de outros governos
- C) advindos do superávit orçamentário do ano anterior
- D) apurados pelo cancelamento de obrigações anteriores

**43.** Os restos a pagar relativos a despesas que tiveram o procedimento de liquidação realizado dentro do exercício são classificados como:

- A) especiais
- B) liquidados
- C) processados
- D) não processados

**44.** O resultado patrimonial apurado nos demonstrativos da contabilidade pública corresponde à diferença verificada entre:

- A) o ativo e o passivo
- B) as variações dos fluxos patrimoniais
- C) as receitas e as despesas orçamentárias
- D) as variações patrimoniais aumentativas e diminutivas

**45.** Os valores recebidos sob o título de ingressos extraorçamentários são demonstrados no balanço da contabilidade pública denominado:

- A) financeiro
- B) patrimonial
- C) orçamentário
- D) das mutações financeiras

**46.** A administração pública é submetida aos procedimentos de controles interno e externo exercidos por órgãos criados para esse fim. O órgão público que exerce o controle externo em auxílio ao Poder Legislativo é denominado:

- A) Auditoria geral
- B) Ministério Público
- C) Tribunal de Contas
- D) Controladoria Geral

**47.** A empresa apresentou o índice de liquidez corrente equivalente a 2. A análise que se depreende desse resultado indica que o:

- A) ativo circulante equivale ao dobro do passivo circulante
- B) ativo não circulante equivale ao dobro do passivo circulante
- C) ativo circulante menos os estoques equivale ao dobro do passivo circulante
- D) ativo circulante menos o realizável a curto prazo equivale ao dobro do passivo circulante

**48.** O balanço patrimonial da empresa demonstrou o montante ativo total no valor de R\$ 10.000,00, enquanto o passivo total correspondeu a R\$ 5.000,00. Com base nesses dados, é possível concluir que o índice de:

- A) rotatividade equivale a 50%
- B) liquidez seca equivale a 50%
- C) liquidez geral equivale a 50%
- D) endividamento equivale a 50%

**49.** Uma fábrica de móveis concluiu a produção levantando os custos dos produtos acabados, classificando-os em diretos e indiretos. Dentre os custos diretos, pode-se identificar:

- A) as madeiras aplicadas na produção
- B) os salários dos supervisores da fábrica
- C) a energia elétrica do estande de vendas
- D) o seguro e o aluguel do escritório de vendas

**50.** De acordo com a norma do sistema tributário nacional, os tributos podem ser classificados como:

- A) impostos, taxas e contribuições sociais
- B) impostos, taxas e contribuições de melhoria
- C) impostos, taxas e contribuições econômicas
- D) impostos, taxas e contribuições de bens e serviços

RASCUNHO