



PREFEITURA MUNICIPAL DE NOVA FLORESTA



NÍVEL SUPERIOR

ENFERMEIRO

EXAME GRAFOTÉCNICO:

(Transcreva a frase abaixo no local indicado na sua Folha de Respostas)

**És o símbolo da esperança,
Que ostentas, ó guardião.**

INSTRUÇÕES:

1. Verifique se este caderno de provas contém 40 (quarenta) questões de múltipla escolha, sendo Língua Portuguesa de 01 a 15, Raciocínio Lógico de 16 a 25 e Conhecimentos Específicos de 26 a 40.
2. Observe se há falhas ou imperfeições gráficas que causem dúvidas. Caso existam, comunique imediatamente ao Fiscal de Sala.
3. Confira seus dados na Folha de Respostas com os dados do Cartão de Inscrição.
4. Esta Prova tem duração de 4 (quatro) horas. Não é permitida a saída do candidato antes de transcorridas 2 (duas) horas completas, sob pena de eliminação.
5. É vetado, durante a prova, o intercâmbio ou empréstimo de material de qualquer natureza entre os candidatos, bem como o uso de celulares, calculadoras e/ou qualquer outro tipo de equipamento eletrônico. A fraude, ou tentativa, a indisciplina e o desrespeito às autoridades encarregadas dos trabalhos são faltas que eliminam o candidato.
6. Certifique-se de que assinou a lista de presença e que preencheu adequadamente todos os espaços da Folha de Respostas.
7. Ao finalizar a prova, entregue ao fiscal o Caderno de Prova e a Folha de Respostas, sob pena de eliminação.

PORTUGUÊS

Leia o Texto I e responda às questões de 1 a 11.

Texto I

MEC reprova 1/3 dos cursos de Medicina avaliados; 99 terão sanções

Entre as instituições mal avaliadas, MEC só pode tomar medidas em relação às federais e privadas; entre as sanções estão suspensão de vestibular e do Fies

Cerca de um terço dos cursos de Medicina do país não alcançaram desempenho proficiente no Exame Nacional de Avaliação da Formação Médica (Enamed). Os resultados da prova foram divulgados ontem pelo Ministério da Educação (MEC).

A nota do exame varia de 1 a 5, sendo 1 e 2 consideradas não proficientes. A nota é utilizada para compor o conceito Enade, que avalia a qualidade das graduações. Segundo o MEC, 351 cursos de todo o país participaram do exame, incluindo universidades públicas (federais, estaduais e municipais), privadas com e sem fins lucrativos e especiais (criadas pelo poder público, mas não gratuitas). Conforme os resultados, 7,1% ficaram no conceito 1; 23,6%, no 2; 22,7%, no 3; 33%, no 4; e 13,6%, no 5.

Das 351 universidades avaliadas, 304 estão sob o crivo do MEC – as federais e privadas com e sem fins lucrativos. A pasta não pode supervisionar estaduais e municipais.

Entre os cursos avaliados, 99 sofrerão sanções. Desses, 8 terão vestibular suspenso; 13, redução de 50% das vagas; e 33, redução de 25% das vagas. Além disso, eles terão o Fies suspenso e será avaliada a continuidade de outros programas federais. Os demais 45 cursos serão proibidos de ampliar vagas. As sanções são definidas a partir do percentual de proficiência dos estudantes verificado em cada curso que ficou com nota geral 1 e 2. Dos 39.258 alunos que estão se formando e foram avaliados, 67% têm desempenho desejável.

A Secretaria de Regulação e Supervisão da Educação Superior do MEC vai instaurar processo administrativo de supervisão dessas instituições, que poderão recorrer sobre os resultados e apresentar justificativas à pasta. O MEC avaliará os argumentos. Caso não os aceite, as sanções devem valer até a obtenção de novo conceito no Enamed no ano seguinte.

Sobre a possibilidade de que instituições privadas contestem os resultados na Justiça, o ministro Camilo Santana disse ser um direito recorrer à via judicial, mas destacou a transparência do processo. Disse ainda que as instituições poderão dialogar com o MEC. “Todas terão o direito de se defender e apresentar suas justificativas. Queremos que corrijam o que tem de ser corrigido.”

Considerando o tipo de instituição, o pior desempenho no Enamed foi o de universidades municipais, que não estão sob regulação do MEC. Em seguida, vêm instituições privadas com fins lucrativos, que serão sancionadas pela pasta. Entre as municipais, 87,5% tiveram notas 1 e 2. Das privadas com fins lucrativos, foram 58,4%. As notas mais baixas também apareceram entre as especiais (54,6%), privadas sem fins lucrativos (33,3%), comunitárias/confessionais (5,6%), federais (5,1%), e estaduais (2,6%).

Santana disse que o governo enviará proposta ao Congresso para que o MEC tenha atribuição para supervisionar também as instituições municipais. Segundo ele, há ainda preocupação com o desempenho das privadas com fins lucrativos, que reúnem a maior parte das matrículas na área.

A Associação Nacional das Universidades Particulares (Anup) tentou barrar a divulgação dos resultados na Justiça, mas o pedido foi negado. Para a entidade, a divulgação dos resultados causaria dano reputacional e material às instituições.

Fonte: FERREIRA, Paula. MEC reprova 1/3 dos cursos de Medicina avaliados; 99 terão sanções. *O Estado de S. Paulo*, São Paulo, seção Metrópole, p. A15, 20 Jan. 2026.

1ª QUESTÃO

Analise as assertivas abaixo, consoante às ideias apresentadas no Texto I.

- I- Os dados apresentados no primeiro parágrafo referem-se ao Exame Nacional de Avaliação da Formação Médica (Enamed).
- II- Os dados apresentados no segundo parágrafo referem-se exclusivamente ao Exame Nacional de Desempenho dos Estudantes (Enade).
- III- Ao todo, 351 cursos participaram do exame, mas apenas 304 obtiveram desempenho proficiente.
- IV- Cerca de um terço dos cursos de medicina obtiveram conceito 4.

É CORRETO o que se afirma apenas em:

- a) III e IV.
- b) I.
- c) III.
- d) I e II.
- e) I e IV.

2ª QUESTÃO

Com base no Texto I, assinale a alternativa CORRETA acerca das sanções aplicadas pelo Ministério da Educação (MEC) aos cursos de Medicina com desempenho insatisfatório no Enamed.

- a) A suspensão do Fies ocorre exclusivamente nos cursos que obtiveram nota 1 no exame.
- b) As sanções são aplicadas indistintamente a todas as instituições avaliadas, inclusive estaduais e municipais, por estarem sob supervisão direta do MEC.
- c) As medidas punitivas consideram apenas a nota geral do Enamed, sem relação com o percentual de proficiência dos estudantes.
- d) As penalidades têm caráter definitivo e não admitem recurso administrativo por parte das instituições avaliadas.
- e) As sanções variam conforme o desempenho dos cursos com notas 1 e 2 e podem incluir suspensão de vestibular, redução de vagas e possível prejuízo na continuação de programas federais.

3ª QUESTÃO

De acordo com as ideias apresentadas no Texto I, é CORRETO afirmar que:

- a) a divulgação dos resultados do Enamed foi considerada ilegal pelo judiciário, em razão de possíveis danos às instituições privadas.
- b) as universidades municipais, por apresentarem os piores resultados no Enamed, foram as mais atingidas pelas sanções impostas pelo Ministério da Educação (MEC).
- c) as instituições privadas com fins lucrativos obtiveram desempenho superior ao das universidades federais no exame.
- d) o MEC avalia a possibilidade de ter sua competência legal ampliada para incluir instituições municipais de ensino superior em sua supervisão.
- e) a maioria dos estudantes concluintes avaliados apresentou desempenho não proficiente no exame.

4ª QUESTÃO

Acerca da tipologia textual empregada no Texto I, trata-se de um texto predominantemente:

- a) expositivo, haja vista que apresenta dados, fatos e informações de forma objetiva e impessoal.
- b) argumentativo, haja vista que busca convencer o leitor a concordar com um ponto de vista específico.
- c) descritivo, pois caracteriza minuciosamente as instituições de ensino superior e seus espaços físicos.
- d) narrativo, haja vista que relata acontecimentos em sequência temporal, com presença de personagens e enredo.
- e) injuntivo, haja vista que orienta o leitor na escolha dos cursos de nível superior.

5ª QUESTÃO

No fragmento “Os resultados da prova foram divulgados ontem pelo Ministério da Educação (MEC)” (1º parágrafo), o termo “ontem” funciona como um elemento:

- a) catafórico, pois antecipa uma informação que será explicitada posteriormente no texto.
- b) endofórico, pois retoma uma informação expressa anteriormente no próprio texto, estabelecendo relação entre os termos.
- c) exofórico, pois faz referência a um momento temporal que só pode ser identificado a partir da situação de enunciação.
- d) anafórico, pois retoma um termo já mencionado no enunciado, evitando sua repetição.
- e) metafórico, pois tem sentido figurado, representando um passado indefinido.

6ª QUESTÃO

Leia o fragmento abaixo transcrito e observe as relações coesivas nele estabelecidas:

“Cerca de um terço dos cursos de Medicina do país não alcançaram desempenho proficiente no Exame Nacional de Avaliação da Formação Médica (Enamed). Os resultados da prova foram divulgados ontem pelo Ministério da Educação (MEC). A nota do exame varia de 1 a 5, sendo 1 e 2 consideradas não proficientes.” (1º e 2º parágrafos)

A partir da leitura do excerto, avalie as afirmações a seguir e a relação proposta entre elas.

- I- Os termos “prova” e “exame” formam uma cadeia coesiva por retomada lexical para referir-se à Exame Nacional de Avaliação da Formação Médica.

PORQUE

- II- Retomam o mesmo referente “Exame Nacional de Avaliação da Formação Médica”, evitando repetições e garantindo a continuidade temática do texto.

A respeito dessas asserções, é CORRETO afirmar que:

- a) as asserções I e II são proposições verdadeiras, mas a II não é uma justificativa correta da I.
- b) as asserções I e II são proposições verdadeiras, e a II é uma justificativa correta da I.
- c) a asserção I é uma proposição verdadeira, e a II é uma proposição falsa.
- d) a asserção I é uma proposição falsa, e a II é uma proposição verdadeira.
- e) as asserções I e II são proposições falsas.

7ª QUESTÃO

Observe as relações de sentido estabelecidas nos fragmentos extraídos do Texto I, abaixo transcritos, e assinale a alternativa que apresenta relação de condição.

- a) “Em seguida, vêm instituições privadas com fins lucrativos, que serão sancionadas pela pasta” (7º parágrafo).
- b) “Segundo o MEC, 351 cursos de todo o País participaram do exame, incluindo universidades públicas” (2º parágrafo).
- c) “Caso não os aceite, as sanções devem valer até a obtenção de novo conceito no Enamed no ano seguinte” (5º parágrafo).
- d) “Para a entidade, a divulgação dos resultados causaria dano reputacional e material às instituições” (9º parágrafo).
- e) “Além disso, eles terão o Fies suspenso e será avaliada a continuidade de outros programas federais” (4º parágrafo).

8ª QUESTÃO

Observe o emprego da crase nos fragmentos abaixo apresentados e assinale a alternativa CORRETA:

- I- Em “o ministro Camilo Santana disse ser um direito recorrer à via judicial” (6º parágrafo), o sinal indicativo de crase é facultativo, considerando a dupla regência do verbo “recorrer”.
- II- Em “Para a entidade, a divulgação dos resultados causaria dano reputacional e material às instituições” (9º parágrafo), a crase resulta da contração da preposição exigida pelo verbo “causar” com o artigo que antecede o termo “instituições”.
- III- Em “[...] MEC vai instaurar processo administrativo de supervisão dessas instituições, que poderão recorrer sobre os resultados e apresentar justificativas à pasta” (5º parágrafo), o acento indicativo de crase foi empregado adequadamente para marcar a junção de uma preposição com um artigo feminino.
- IV- Em “As sanções são definidas a partir do porcentual de proficiência dos estudantes verificado em cada curso” (5º parágrafo), deveria haver, obrigatoriamente, o emprego do acento indicativo de crase em “a partir”, pois ocorre a fusão da preposição a com o artigo feminino a.

É CORRETO o que se afirma apenas em:

- a) II.
- b) II e III.
- c) III.
- d) I, II e IV.
- e) I, II e III.

9ª QUESTÃO

Acerca das relações morfossintáticas observadas no fragmento “Considerando o tipo de instituição, o pior desempenho no Enamed foi o de universidades municipais, que não estão sob regulação do MEC” (7º parágrafo), é CORRETO afirmar que em “que não estão sob regulação do MEC” o elemento “que” é:

- a) um pronome relativo, empregado para retomar o termo antecedente.
- b) uma conjunção integrante, empregado para introduzir uma oração subordinada.
- c) uma conjunção explicativa, empregado para introduzir uma oração subordinada.
- d) uma conjunção causal, empregado para retomar o termo antecedente.
- e) um pronome reflexivo, empregado para indicar que a ação se volta para o agente.

10ª QUESTÃO

Analise os fragmentos abaixo e avalie as assertivas acerca das suas relações sintáticas.

A – “O MEC avaliará os argumentos” (5º parágrafo)

B – “Santana disse que o governo enviará proposta ao Congresso” (8º parágrafo)

- I- Em A, temos sujeito, verbo e complemento verbal do tipo objeto direto.
- II- Em B, temos sujeito, verbo e complemento verbal oracional.
- III- Em A, o complemento verbal é do tipo objeto indireto.
- IV- Em B, o complemento verbal é uma oração subordinada substantiva objetiva direta.
- V- Em B, temos uma oração subordinada substantiva completiva nominal.

É CORRETO o que se afirma apenas em:

- a) II, III e IV.
- b) I e IV.
- c) III e IV.
- d) I, II e IV.
- e) I, II e V.

11ª QUESTÃO

Analise as assertivas que seguem a respeito das estratégias de coesão textual empregadas no Texto I.

- I- A repetição do termo “MEC” prejudica a fluidez do texto e a compreensão do Texto I.
- II- O pronome “ele” em “Segundo ele, há ainda preocupação com o desempenho das privadas” (8º parágrafo) retoma o referente “Congresso”.
- III- O pronome “os”, em “Caso não os aceite” (5º parágrafo) retoma “argumentos”.
- IV- O pronome relativo “que”, em “que poderão recorrer sobre os resultados” (5º parágrafo) retoma “dessas instituições”.

É CORRETO o que se afirma apenas em:

- a) IV.
- b) III.
- c) III e IV.
- d) I e II.
- e) I, II e III.

Leia o Texto II e responda às questões de 12 a 15.

Texto II



Fonte: <http://www.willtirando.com.br/anesia-809/>. Acesso em 28 dez. 2025.

12ª QUESTÃO

Considerando os recursos linguísticos verbais e não verbais presentes do Texto II, é CORRETO afirmar que:

- I- o silêncio das pessoas pode ser interpretado como linguagem não verbal desprovida de sentido.
- II- a fala final de Anésia confirma que havia uma expectativa previamente construída, evidenciando a previsibilidade da reação dos interlocutores.
- III- a fala final de Anésia confirma o espírito colaborativo de todos os interlocutores na divisão das tarefas domésticas.
- IV- a pergunta de Anésia “quem vai me ajudar hoje?”, por meio da seleção vocabular “ajudar” evidencia que esta assume para si o papel de principal responsável pela limpeza.

É CORRETO o que se afirma apenas em:

- a) I e II.
- b) II.
- c) IV.
- d) II e IV.
- e) II e III.

13ª QUESTÃO

Consoante o Texto II, o humor da tirinha, organizada em quadros sequenciais, decorre:

- a) da interrupção abrupta do diálogo, que gera ambiguidade semântica para a expressão “a pergunta que não quer calar”.
- b) do uso literal da expressão “calar”, que indica a impossibilidade física de fala dos personagens.
- c) da palavra “calaria”, usada exclusivamente em sentido conotativo.
- d) da inadequação gramatical presente na fala final de Anésia.
- e) do uso da expressão cristalizada “a pergunta que não quer calar” seguida do silêncio dos interlocutores.

14ª QUESTÃO

Assinale a alternativa CORRETA acerca das relações morfológicas observadas na construção textual do Texto II.

- a) Em “Agora a pergunta que não quer calar”, o termo “agora” funciona como conjunção.
- b) Em “Quem vai me ajudar na faxina hoje?” o termo “hoje” funciona como advérbio.
- c) Em “Agora a pergunta que não quer calar”, o termo “não” funciona como adjetivo.
- d) Em “Quem vai me ajudar na faxina hoje?” o termo “me” funciona como pronome pessoal do caso reto.
- e) Em “Quem vai me ajudar na faxina hoje?” o termo “vai” é um verbo intransitivo.

15ª QUESTÃO

Considere os verbos empregados na tirinha, organizada em quadros sequenciais, de Anésia e assinale a alternativa CORRETA quanto ao tempo e ao modo verbal, bem como aos efeitos de sentido produzidos no enunciado.

- a) O verbo “sabia”, em “Eu sabia que a pergunta que não quer calar calaria a todos”, está no pretérito imperfeito do indicativo, tempo verbal que expressa uma ação durativa no passado.
- b) O verbo “vai”, em “Quem vai me ajudar na faxina hoje?”, está flexionado no futuro do pretérito do indicativo, sendo empregado para expressar uma ação hipotética e distante do momento da fala.
- c) O verbo “ficaram”, em “As pessoas ficaram caladas”, encontra-se no pretérito imperfeito do indicativo, indicando uma ação contínua e não delimitada no passado.
- d) O verbo “calar”, em “a pergunta que não quer calar”, encontra-se no modo subjuntivo, exprimindo dúvida ou possibilidade em relação ao fato verbal.
- e) O verbo “calaria”, em “calaria a todos”, está no pretérito perfeito do indicativo, indicando uma ação presente e pontual.

RACIOCÍNIO LÓGICO

16ª QUESTÃO

O Governo da Paraíba divulgou o resultado do Prêmio Escola Referência em Aprendizagem, no âmbito do programa Alfabetiza Mais Paraíba. Na edição considerada, 100 escolas premiadas receberam R\$ 80 mil cada, e 100 escolas apoiadas receberam R\$ 40 mil cada, totalizando R\$ 12 milhões em investimentos.

Fonte: GOVERNO DA PARAÍBA (2026). Governo da Paraíba divulga lista de escolas premiadas e apoiadas no Prêmio Escola Referência em Aprendizagem. Disponível em: <https://paraiba.pb.gov.br/diretas/secretaria-da-educacao/noticias/governo-da-paraiba-divulga-lista-de-escolas-premiadas-e-apoiadas-no-premio-escola-referencia-em-aprendizagem>. Acesso em: 15 mar. 2026.

Suponha que um pesquisador esteja analisando o crescimento do número de escolas premiadas ao longo dos anos e organize os dados em uma sequência lógica. Ele observa que, em um modelo hipotético de expansão do programa, o número de escolas premiadas em cada edição forma a seguinte sequência:

$$20, 40, 80, 160, \dots$$

Enquanto isso, o número de escolas apoiadas segue a sequência:

$$30, 40, 50, 60, \dots$$

Considerando que as cerimônias de premiação ocorrem uma vez por ano, sempre no mês de março, é CORRETO o que se afirma em:

- a) A primeira sequência é uma progressão aritmética e a segunda é uma progressão geométrica; na 6ª edição haverá 120 escolas premiadas e 80 apoiadas.
- b) A primeira sequência é uma progressão geométrica e a segunda é uma progressão aritmética; na 6ª edição haverá 640 escolas premiadas e 80 apoiadas.
- c) Ambas as sequências são progressões aritméticas; na 6ª edição haverá 120 escolas premiadas e 80 apoiadas.
- d) Ambas as sequências são progressões geométricas; na 6ª edição haverá 640 escolas premiadas e 90 apoiadas.
- e) A primeira sequência é uma progressão geométrica e a segunda é uma progressão aritmética; na 6ª edição haverá 320 escolas premiadas e 80 apoiadas.

17ª QUESTÃO

Considere a operação:

$$A3BC \times 2 = 26D4$$

Em que A, B, C e D representam algarismos distintos. Sabendo disso, é CORRETO afirmar que o valor do determinante da matriz

$$M = \begin{pmatrix} A & B \\ C & D \end{pmatrix}$$

Vale:

- a) 30.
- b) 12.
- c) 0.
- d) -12.
- e) -30.

18ª QUESTÃO

Com o avanço recente das tecnologias de Inteligência Artificial (IA), diversos sistemas educacionais passaram a utilizar plataformas inteligentes para acompanhar o desempenho e o engajamento de estudantes em atividades digitais. Em um projeto piloto implementado em escolas públicas, um sistema de IA registrou o número diário de interações realizadas por estudantes em uma plataforma educacional durante uma semana letiva.

Os valores registrados (em número de interações) foram: {14; 22; 18; 22; 17; 25; 18}. Considere que os dados correspondem, respectivamente, aos registros de segunda-feira a domingo.

Com base nessas informações e na análise estatística do conjunto de dados, é CORRETO afirmar que:

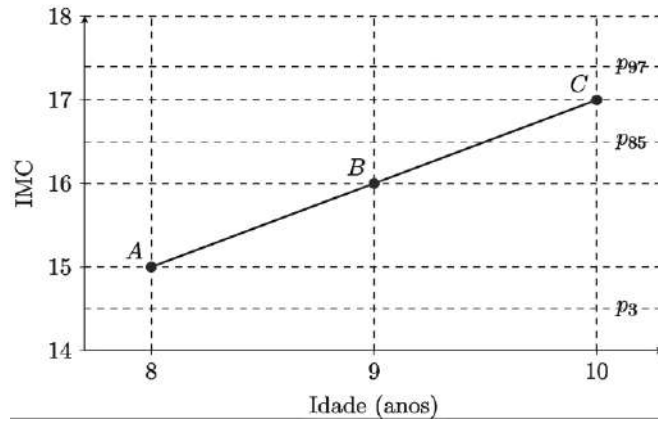
- a) A mediana coincide com a média e não há repetição de valores no conjunto.
- b) A média de interações é igual à mediana e o conjunto possui uma única moda.
- c) A mediana corresponde ao valor observado no quarto dia da semana e a média é inferior a 19.
- d) A moda corresponde ao valor registrado na sexta-feira e a média é superior a 21.
- e) A média de interações é maior que a mediana e o conjunto de dados apresenta duas modas.

19ª QUESTÃO

A Sociedade Brasileira de Pediatria (SBP) disponibiliza curvas de crescimento baseadas em referências da Organização Mundial da Saúde (OMS) para acompanhamento de peso, estatura e Índice de Massa Corporal (IMC) por idade. Materiais de apoio pediátrico também orientam a interpretação clínica por percentis de IMC-para-idade (SBP, 2026; ROTEIROS DE PEDIATRIA, 2026).

Fontes: SOCIEDADE BRASILEIRA DE PEDIATRIA (SBP). Gráficos de Crescimento. Disponível em: <https://www.sbp.com.br/departamentos/endocrinologia/graficos-de-crescimento/>. Acesso em: 15 mar. 2026. ROTEIROS PEDIATRIA. Curvas de Crescimento OMS. Disponível em: <https://www.roteirosdepediaatria.com/c%C3%B3pia-curvas-de-crescimentos>. Acesso em: 15 mar. 2026.

Em acompanhamento ambulatorial, um pediatra registrou três consultas sucessivas de uma criança, representadas pelos pontos A, B e C no gráfico abaixo, no plano (idade, IMC):



Fonte: CPCON 2026

Considere que:

- valores de IMC-para-idade entre p3 e p85 indicam eutrofia;
- valores entre p85 e p97 indicam sobrepeso.

Com base nas informações e no gráfico, é CORRETO o que se afirma em:

- A criança encontrava-se em eutrofia nas consultas representadas pelos pontos A e B, e em sobrepeso na consulta representada pelo ponto C, observando-se aumento de 1 unidade de IMC entre consultas consecutivas.
- A criança encontrava-se em sobrepeso nas consultas representadas pelos pontos B e C, e o aumento do IMC entre A e B foi maior do que o aumento entre B e C.
- A criança permaneceu em eutrofia nas três consultas representadas no gráfico, uma vez que todos os valores de IMC estão acima do percentil p3.
- A criança passou da condição de eutrofia na consulta A para baixo peso na consulta B, atingindo a condição de sobrepeso apenas na consulta C.
- A criança apresentou o mesmo estado nutricional nas três consultas, pois os valores de IMC mantiveram-se sempre abaixo do percentil p97.

20ª QUESTÃO

A etapa de João Pessoa do Circuito Mundial de Vôlei de Praia (*Beach Pro Tour Elite 16*), realizada em março de 2026, seguiu o padrão internacional de pontuação da Federação Internacional de Voleibol (FIVB). Nesse sistema, as partidas são disputadas em melhor de três sets: os dois primeiros sets são jogados até 21 pontos e, em caso de empate em 1–1, o terceiro set (*tie-break*) é disputado até 15 pontos, sempre com diferença mínima de dois pontos (GE, 2026; LAMCE!, 2026; CBV, 2026).

Suponha que durante a análise estatística de três partidas consecutivas da dupla brasileira Duda e Ana Patrícia, um sistema computacional organizou os pontos marcados pela equipe em cada set na matriz

$$M = \begin{pmatrix} 21 & 18 & 15 \\ 21 & 19 & 17 \\ 21 & 20 & X \end{pmatrix}$$

em que cada linha corresponde a uma partida e cada coluna representa, respectivamente, os pontos obtidos no primeiro, segundo e terceiro sets. Observou-se também, que os valores da terceira coluna formam uma progressão aritmética.

Considere ainda as matrizes $A = \begin{pmatrix} 1 & 2 \\ 2 & 3 \end{pmatrix}$ e $B = \begin{pmatrix} 3 & x \\ 1 & 2 \end{pmatrix}$

Definindo $C = A + B$. É CORRETO afirmar que o determinante da matriz C vale:

- 43.
- 43.
- 98.
- 29.
- 29.

21ª QUESTÃO

Em determinada espécie vegetal, o crescimento das folhas ao longo de um ramo segue um padrão observado em estudos de filotaxia, no qual o número de novas folhas que surgem em cada ciclo corresponde ao número total de folhas existentes dois ciclos antes.

Um pesquisador registrou o crescimento inicial da planta como mostra a Tabela 1:

Tabela 1: número de folhas por ciclo.

Ciclo	Número total de folhas
1	1
2	2
3	3
4	5
5	8

Fonte: CPCON (2026)

O padrão de crescimento pode ser interpretado visualmente da seguinte forma: em cada novo ciclo (n) surgem novas folhas iguais ao número de folhas existentes no ciclo imediatamente anterior (n-1), somadas às folhas que surgiram no ciclo anterior ao anterior (n-2).

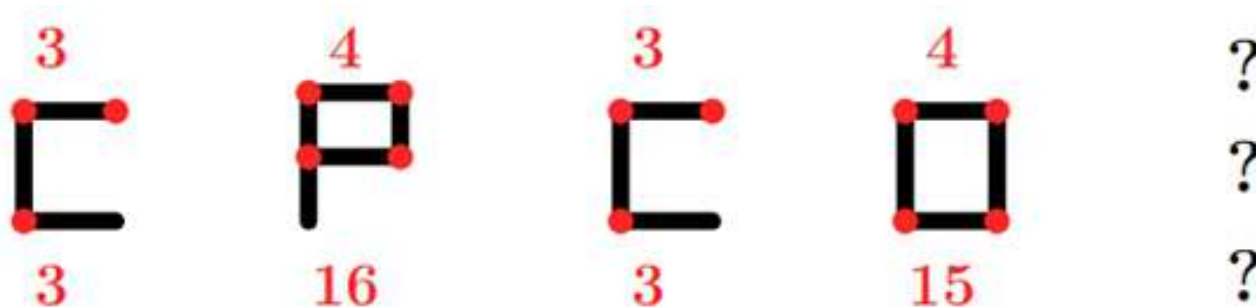
Mantido esse padrão, o número total de folhas existentes no 10º ciclo será:

- a) 233.
- b) 34.
- c) 55.
- d) 144.
- e) 89.

22ª QUESTÃO

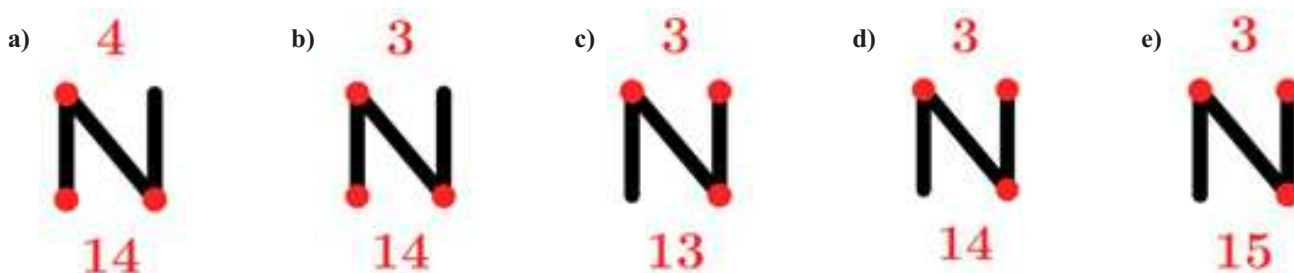
Durante o recreio, um garoto pegou alguns palitos de fósforo e começou a montar letras no chão para brincar com seus colegas. Ele escolheu formar algumas letras utilizando os palitos e, acima e abaixo de cada figura, escreveu alguns números.

Observando a sequência construída pelo garoto:



Curiosos com a brincadeira, os colegas perceberam que existe um padrão lógico que relaciona as letras formadas com os números indicados acima e abaixo de cada figura.

Seguindo exatamente o mesmo padrão estabelecido nas figuras apresentadas, é CORRETO afirmar que a próxima figura da sequência é:



23ª QUESTÃO

Durante uma reunião de família, três gerações conversavam sobre coincidências curiosas envolvendo datas do calendário.

O avô comentou que nasceu em 31 de março de 1972, uma sexta-feira.

Sabe-se que:

- o filho do avô nasceu exatamente 21 anos depois, no mesmo dia e mês;
- o neto nasceu 28 anos após o nascimento do pai, também no dia 31 de março;
- entre o nascimento do pai e o nascimento do neto ocorreram 7 anos bissextos.

Considere que:

- anos bissextos possuem 366 dias;
- anos comuns possuem 365 dias;
- a cada 7 dias o calendário repete o dia da semana;
- os anos múltiplos de 4 são bissextos; entretanto, os anos múltiplos de 100 não são bissextos, a menos que também sejam múltiplos de 400.


Assim, é CORRETO afirmar que, o dia da semana que nasceu o neto foi:

- a) domingo.
- b) segunda-feira.
- c) terça-feira.
- d) quarta-feira.
- e) quinta-feira.

24ª QUESTÃO

Inspiradas nos grafismos rupestres do Parque Nacional da Serra da Capivara, no estado do Piauí, um dos mais importantes complexos arqueológicos das Américas (FUMDHAM, 2026), as figuras abaixo foram organizadas em uma matriz segundo um padrão lógico de construção. Nessas representações, o corpo frequentemente é desenhado por formas ovais ou elípticas e os membros por traços simples.

Na matriz abaixo, cada figura segue um padrão lógico de construção relacionado à posição dos braços e ao símbolo marcado sobre a cabeça.



Fonte: CPCON (2026)

Seguindo o mesmo padrão lógico estabelecido na matriz, é CORRETO afirmar que, a figura que substitui corretamente o ponto de interrogação é:

- a)
- b)
- c)
- d)
- e)

25ª QUESTÃO

Os dados a seguir foram adaptados de indicadores educacionais da Paraíba apresentados no portal QEDU (QEDU, 2026). A tabela mostra, para os anos iniciais e anos finais do ensino fundamental, os valores de Português, Matemática, Aprovação e IDEB.

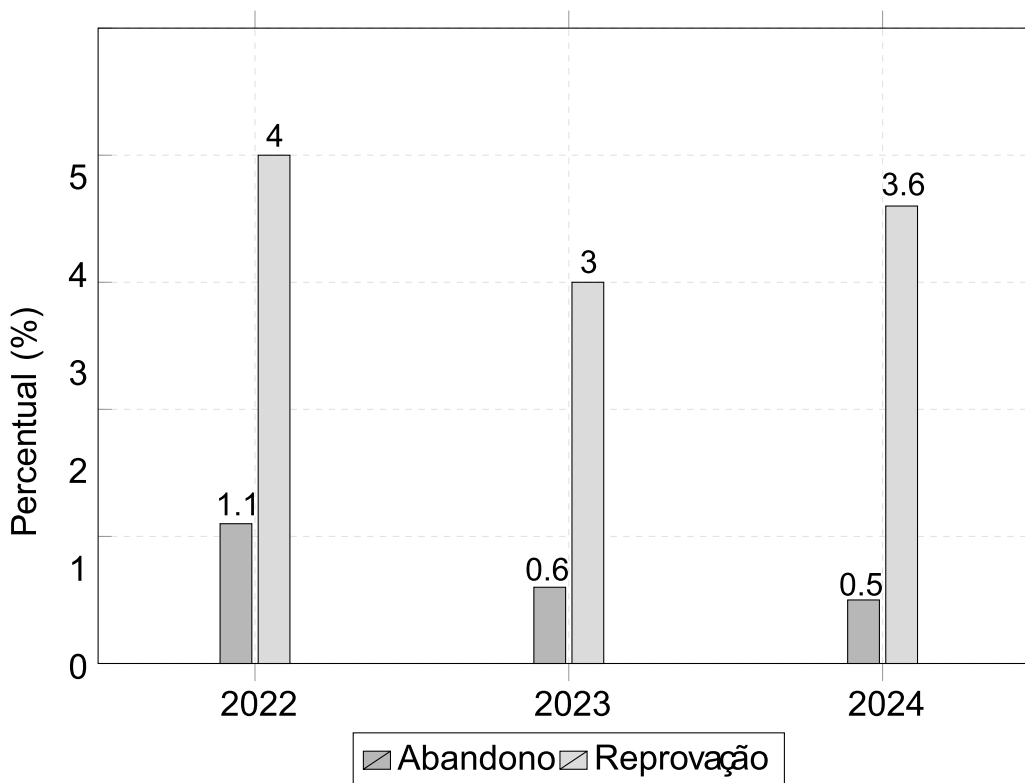
Tabela 2: Indicadores educacionais.

Etapa	Português	Matemática	Aprovação	Ideb
Anos iniciais	5,38	5,62	0,96	5,3
Anos Finais	4,81	4,65	0,88	4,2

Fonte: Adaptado QEDU (2026)

Além disso, o gráfico a seguir apresenta as taxas de abandono e reprovação em três anos consecutivos:

Gráfico 1: Indicadores educacionais 2022 - 2024.



Fonte: Adaptado QEDU (2026)

Com base na Tabela 2 e no Gráfico 1 apresentadas, analise as afirmações a seguir:

- I-** A redução média dos indicadores de Português e Matemática entre os anos iniciais e os anos finais do ensino fundamental foi superior a 0,7 ponto.
- II-** O indicador de Matemática apresentou uma redução maior que o indicador de Português.
- III-** A soma das taxas de abandono e reprovação em 2024 foi menor que em 2022.
- IV-** Considerando apenas os dados do gráfico, a taxa total de não aprovação apresentou redução entre 2022 e 2023, mas voltou a crescer em 2024.

A partir das afirmações é CORRETO afirmar que:

- a) I e II, apenas.
- b) I, II e IV, apenas.
- c) I, II, III e IV.
- d) III e IV, apenas.
- e) II e III, apenas.

CONHECIMENTOS ESPECÍFICOS

26ª QUESTÃO

Com base nas diretrizes do Guia do Pré-Natal (2024) para a solicitação e interpretação de exames complementares na primeira consulta de pré-natal de risco habitual, analise as proposições abaixo.

Fonte: BRASIL. *Guia do Pré-Natal e Puerpério na Atenção Primária à Saúde (APS)*. Rio Grande do Sul: Secretaria de Saúde do Rio Grande do Sul, 2024.

- I- Caso o resultado da eletroforese de hemoglobina indique traço falciforme (HbAS ou HbAC), a gestante deve ser orientada pela equipe da APS sobre a condição genética e o enfermeiro deve solicitar a eletroforese de hemoglobina para o(a) parceiro(a).
- II- Nas pessoas gestantes, o tratamento para sífilis deve ser iniciado com apenas um teste reagente (treponêmico ou não treponêmico), não sendo recomendado aguardar o resultado do segundo exame para o início da terapêutica.
- III- A triagem universal de gestantes assintomáticas para doenças da tireoide (dosagem de TSH) é recomendada na primeira consulta como rotina mínima para garantir a assistência de qualidade.
- IV- Ao identificar traços de proteinúria no exame de urina tipo I, sem a presença de hipertensão ou edema, o enfermeiro deve encaminhar a gestante imediatamente para a emergência obstétrica ou para o Pré-Natal de Alto Risco.

É CORRETO o que se afirma apenas em:

- a) III e IV.
- b) I e II.
- c) I, II e III.
- d) I, III e IV.
- e) II e IV.

27ª QUESTÃO

A Mpox é uma zoonose viral causada pelo *mpox virus* (MPXV), pertencente ao gênero *Orthopoxvirus*. A transmissão ocorre pelo contato direto com lesões cutâneas, fluidos corporais ou gotículas respiratórias de pessoas infectadas, bem como pelo contato com materiais contaminados (fômites) ou animais silvestres infectados. Clinicamente, caracteriza-se por febre, linfonodopatia (ínguas) e erupções cutâneas que evoluem em estágios. Embora geralmente autolimitada, a doença exige vigilância ativa e medidas rigorosas de isolamento para interromper a cadeia de transmissão, especialmente em grupos de maior risco.

Com base nas diretrizes do Ministério da Saúde e no Protocolo de Orientação para Isolamento Domiciliar, é CORRETO afirmar que:

- a) conforme as normas de vigilância epidemiológica vigentes, a Mpox é classificada como uma doença de notificação compulsória semanal, devendo os casos suspeitos ser compilados e informados às autoridades sanitárias em um fluxo de até 7 (sete) dias após o atendimento inicial.
- b) a notificação de casos suspeitos de Mpox é obrigatória e deve ser realizada de forma imediata (em até 24 horas) pelo profissional de saúde; paralelamente, o isolamento dos casos confirmados e prováveis deve ser mantido até que ocorra a queda de todas as crostas e a completa cicatrização da pele, com a formação de uma nova camada íntegra.
- c) no manejo de roupas de cama e vestuário do paciente em isolamento domiciliar, o enfermeiro deve orientar que os itens sejam agitados vigorosamente antes da lavagem para facilitar a remoção mecânica das crostas virais, utilizando preferencialmente água fria para não estabilizar as proteínas do envelope viral.
- d) a estratégia de vacinação pré-exposição no Brasil é definida como universal para todos os profissionais de saúde das redes pública e privada, além de abranger todas as pessoas vivendo com HIV/Aids, independentemente do *status* imunológico (contagem de linfócitos T CD4).
- e) o diagnóstico da Mpox é exclusivamente clínico-epidemiológico, dispensando a confirmação laboratorial para fins de encerramento de caso. Ademais, o protocolo vigente recomenda o uso rotineiro de antivirais específicos para todos os pacientes com sintomas leves, visando a acelerar a queda das crostas.

28ª QUESTÃO

O Índice de Vulnerabilidade Clínico-Funcional (IVCF-20) é uma ferramenta de triagem rápida que auxilia o enfermeiro na identificação da fragilidade na Atenção Primária. De acordo com os critérios de pontuação e os domínios avaliados no IVCF-20, conforme estabelecido na 6ª edição da Caderneta de Saúde da Pessoa Idosa (Brasil, 2025), é CORRETO afirmar que:

Fonte: BRASIL. *Caderneta de Saúde da Pessoa Idosa*. 6. ed. Brasília: Ministério da Saúde, 2025.

- a) no quesito Mobilidade, especificamente sobre o histórico de quedas, o instrumento atribui pontuação ao idoso que relata a ocorrência de pelo menos uma queda nos últimos 12 meses, independentemente da gravidade do evento.
- b) a classificação de “Idoso Frágil” é atribuída àqueles que somam entre 7 e 14 pontos no escore total do IVCF-20, exigindo intervenção imediata da equipe de saúde para evitar o declínio funcional.
- c) no domínio da Nutrição, o enfermeiro pontua positivamente o índice (atribuindo 1 ponto) caso o idoso relate uma perda de peso não planejada de, pelo menos, 4,5 kg ou 5% do seu peso corporal no último ano.
- d) o domínio da Cognição no IVCF-20 é avaliado exclusivamente pelo relato de familiares, não sendo permitida a pontuação baseada na percepção direta do enfermeiro durante a aplicação do teste de declínio de memória.
- e) idosos classificados como “Robustos” (pontuação de 0 a 6) são aqueles que apresentam dependência completa para as Atividades Instrumentais da Vida Diária (AIVD), mas mantêm a autonomia preservada para as atividades básicas.

29ª QUESTÃO

A farmacocinética compreende o estudo do caminho percorrido pelo fármaco no organismo, desde a sua administração até a sua eliminação definitiva. O domínio desses conceitos pelo enfermeiro é crucial para o monitoramento de efeitos terapêuticos e a prevenção de toxicidade. Nesse contexto, analise as proposições abaixo sobre os processos farmacocinéticos.

- I- A biodisponibilidade de um fármaco, que representa a fração da dose que atinge a circulação sistêmica de forma inalterada, é significativamente influenciada pelo efeito de primeira passagem hepática, sendo este especialmente relevante na via de administração oral.
- II- A distribuição de fármacos é um processo uniforme em todos os tecidos corporais, independentemente do débito cardíaco ou da permeabilidade capilar, garantindo que órgãos como o tecido adiposo e o sistema nervoso central recebam concentrações idênticas da substância simultaneamente.
- III- O metabolismo ou biotransformação ocorre predominantemente no fígado e tem como um de seus objetivos principais transformar substâncias lipossolúveis em metabólitos mais hidrossolúveis, facilitando a sua posterior excreção renal.
- IV- A excreção renal de fármacos envolve processos como a filtração glomerular e a secreção tubular ativa; fatores que reduzem a taxa de filtração glomerular, comuns em idosos, podem elevar a meia-vida de eliminação de fármacos nefrotóxicos, aumentando o risco de eventos adversos.

É CORRETO o que se afirma em:

- a) III apenas.
- b) I e II apenas.
- c) II e IV apenas.
- d) I, II, III e IV.
- e) I, III e IV apenas.

30ª QUESTÃO

O gerenciamento em Enfermagem evoluiu de modelos puramente tecnicistas para abordagens que consideram a complexidade das relações humanas e a dinamicidade do ambiente de saúde. Sobre as teorias administrativas e sua aplicação na gestão de serviços de enfermagem, analise as proposições abaixo.

- I- Max Weber desenvolveu a Teoria das Relações Humanas, argumentando que a produtividade em unidades críticas, como a UTI, depende exclusivamente da motivação psicológica e da satisfação do enfermeiro com o ambiente de trabalho, em detrimento de normas e regulamentos escritos.
- II- Henri Fayol propôs a Teoria Clássica, cujo foco recai sobre a estrutura organizacional e as funções do administrador (prever, organizar, comandar, coordenar e controlar), estabelecendo o princípio da unidade de comando, conforme o qual um subordinado deve receber ordens de apenas um superior.
- III- Frederick Taylor, expoente da Administração Científica, defendia que a eficiência operacional deveria ser alcançada através da padronização de ferramentas e do estudo de tempos e movimentos, o que, na Enfermagem, reflete-se na criação e execução rigorosa de manuais de técnicas e procedimentos.
- IV- A Teoria Burocrática, sistematizada por Max Weber, fundamenta-se na racionalidade e na impessoalidade das relações, buscando a previsibilidade das ações por meio de normas estabelecidas, o que justifica a necessidade de registros de enfermagem detalhados e o cumprimento da hierarquia funcional.

É CORRETO o que se afirma em:

- a) I, II, III e IV.
- b) I e III apenas.
- c) I, II e IV apenas.
- d) II, III e IV apenas.
- e) III e IV apenas.

31ª QUESTÃO

A assistência de enfermagem em quimioterapia antineoplásica é uma atividade de alta complexidade que exige rigor técnico, observância aos protocolos de biossegurança e conformidade com as normativas do Conselho Federal de Enfermagem. De acordo com o Regulamento Técnico aprovado pela Resolução COFEN nº 0569/2018, no que tange às competências do enfermeiro nesse serviço, é CORRETO afirmar que:

- a) o enfermeiro deve prescrever e executar as ações de enfermagem; porém, a avaliação de enfermagem e a escolha da via de administração são de competência compartilhada com o técnico de enfermagem, visando à integração da equipe multiprofissional.
- b) compete exclusivamente ao enfermeiro o controle trimestral das doenças ocupacionais dos profissionais da equipe, devendo este realizar o diagnóstico e o tratamento médico dos agravos identificados no protocolo inserido ao Programa de Controle Médico de Saúde Ocupacional (PCMSO).
- c) no âmbito da terapia antineoplásica, a manipulação de quimioterápicos para fins de preparo da dose pode ser delegada pelo enfermeiro ao técnico de enfermagem, desde que sob sua supervisão direta e com o uso de Equipamentos de Proteção Individual (EPI).
- d) é competência privativa do enfermeiro realizar a consulta de enfermagem, avaliar as condições da rede venosa e as condições clínicas do paciente, bem como proceder à administração dos quimioterápicos antineoplásicos e ao controle de efeitos colaterais.
- e) em casos de extravasamento de fármacos vesicantes, a responsabilidade de executar as ações imediatas de primeiros socorros e a aplicação de antídotos é facultada ao auxiliar de enfermagem, cabendo ao enfermeiro apenas o registro posterior no prontuário.

32ª QUESTÃO

Durante a organização de uma nova unidade de saúde, o enfermeiro gestor precisa tomar decisões baseadas nos princípios da bioética para garantir uma assistência equânime e ética. Em uma situação de escassez de determinados insumos de alto custo, o enfermeiro precisa estabelecer critérios técnicos e transparentes para a utilização desses recursos, com vistas ao benefício do maior número possível de usuários. Simultaneamente, orienta sua equipe que nenhum procedimento deve ser realizado sem que o paciente receba informações claras sobre riscos e benefícios. Com base nos Princípios da Bioética (Princípio da Autonomia), analise as proposições abaixo.

- I- O estabelecimento de critérios objetivos para a distribuição de recursos limitados, visando à equidade e à imparcialidade no atendimento às necessidades sociais, é uma aplicação direta do Princípio da Justiça.
- II- O Princípio da Não Maleficência obriga o profissional a maximizar os benefícios e minimizar os riscos, sendo este o único princípio que autoriza o enfermeiro a omitir informações diagnósticas graves do paciente para evitar que ele sofra emocionalmente.
- III- A exigência de que o paciente seja informado sobre os riscos e benefícios de um tratamento, garantindo-lhe a liberdade de escolha sem coações, fundamenta-se no Princípio da Autonomia.

É CORRETO o que se afirma em:

- a) I e III apenas.
- b) I e II apenas.
- c) II e III apenas.
- d) I, II e III.
- e) I apenas.

33ª QUESTÃO

Considerando a assistência de enfermagem na coleta de gasometria arterial, avalie as asserções a seguir e a relação proposta entre elas.

- I- Antes de proceder à punção da artéria radial para coleta de sangue arterial, o enfermeiro deve obrigatoriamente realizar o Teste de Allen no membro selecionado.

PORQUE

- II- A compressão simultânea das artérias radial e ulnar, seguida da liberação da pressão sobre a artéria radial, permite verificar se a artéria ulnar é capaz de manter a perfusão dos tecidos da mão caso ocorra uma oclusão iatrogênica do vaso puncionado.

A respeito dessas asserções, é CORRETO afirmar que:

- a) A asserção I é uma proposição verdadeira e a II é uma proposição falsa.
- b) As asserções I e II são proposições verdadeiras, e a II é uma justificativa correta da I.
- c) As asserções I e II são proposições verdadeiras, mas a II não é uma justificativa correta da I.
- d) A asserção I é uma proposição falsa e a II é uma proposição verdadeira.
- e) As asserções I e II são proposições falsas.

34ª QUESTÃO

No atendimento de enfermagem a crianças e adolescentes, observa-se um aumento expressivo de agravos relacionados ao uso de tecnologias digitais. A Lei nº 15.211/2025 estabelece diretrizes para a proteção desse público no ambiente virtual. Com base no referido Estatuto Digital, analise as proposições abaixo.

- I- O fornecedor de serviços de tecnologia da informação tem o dever de adotar medidas para mitigar riscos ao desenvolvimento biopsicossocial, incluindo a prevenção de danos à saúde mental, como o uso compulsivo e distúrbios de autoimagem, devendo tais riscos serem avaliados e gerenciados periodicamente.
- II- O tratamento de dados pessoais de crianças e adolescentes, incluindo dados sensíveis e biométricos, é permitido de forma irrestrita por plataformas digitais, desde que o serviço seja gratuito e o menor tenha acesso provável ao conteúdo educativo do site.
- III- É dever dos fornecedores de produtos e serviços digitais adotar, por padrão, as configurações mais protetivas à privacidade, à segurança e ao bem-estar de crianças e adolescentes, garantindo que o melhor interesse do menor prevaleça sobre os interesses comerciais da plataforma.

É CORRETO o que se afirma em:

- a) I e II apenas.
- b) I e III apenas.
- c) I, II e III.
- d) II e III apenas.
- e) III apenas.

35ª QUESTÃO

Durante a realização do exame físico neurológico conduzido por um enfermeiro, a avaliação da função motora revelou a necessidade de aplicar testes específicos para identificar alterações de tônus e força muscular. Com base na semiótica proposta por Barros (2016) para o sistema motor, é CORRETO afirmar que:

Fonte: BARROS, Alba Lucia Bottura Leite de. Anamnese e Exame Físico: avaliação diagnóstica de enfermagem no adulto. 3. ed. Porto Alegre: Artmed, 2016.

- a) a manobra de Barré é executada com o paciente em decúbito dorsal e braços estendidos, visando a identificar a queda progressiva dos membros superiores decorrente de lesões cerebelares.
- b) a hipertonia piramidal, também denominada rigidez plástica, caracteriza-se por apresentar uma resistência constante à mobilização, mantendo o membro na posição em que é colocado pelo examinador.
- c) na graduação da força muscular, de acordo com a classificação da *Medical Research Council Scale*, o escore “3” é atribuído quando o paciente apresenta movimento ativo apenas com a eliminação da gravidade, sendo incapaz de realizar o movimento contra a resistência do examinador.
- d) a manobra de Mingazzini para membros inferiores é realizada com o paciente em decúbito dorsal e flexão das coxas, sendo a queda isolada da coxa um indicativo de insuficiência do músculo psoas (flexor da coxa).
- e) o fenômeno conhecido como “sinal do canivete” é uma característica típica da hipertonia extrapiramidal, manifestando-se quando o membro apresenta resistência elástica e retorna à posição inicial após a força do examinador.

36ª QUESTÃO

Caso hipotético: durante a consulta de enfermagem com o Sr. J. B., 52 anos, obeso (IMC 36 kg/m²), hipertenso e sedentário, o paciente relata dificuldades de locomoção e baixa autoestima. O enfermeiro, fundamentado na Teoria das Necessidades Humanas Básicas de Wanda Horta, estruturou sua assistência conforme as novas diretrizes da Resolução COFEN nº 736/2024. Com base nesse cenário e na normativa vigente, analise as proposições abaixo.

- I- A etapa de Implementação de Enfermagem consiste na execução das intervenções planejadas e no registro das ações realizadas. Estas, por sua vez, devem ser estruturadas obrigatoriamente em sistemas de compensação total para pacientes obesos, conforme a teoria de Wanda Horta, visando à substituição completa das atividades de vida diária pelo enfermeiro.
- II- O Diagnóstico de Enfermagem, por ser uma etapa de identificação de necessidades básicas, foi realizado pelo técnico de enfermagem da unidade, que listou “Estilo de vida sedentário” e “Nutrição desequilibrada” no prontuário após a verificação de medidas antropométricas.
- III- Na primeira etapa do Processo de Enfermagem, denominada Avaliação de Enfermagem, o enfermeiro deve realizar a coleta de dados (anamnese e exame físico) para identificar as necessidades psicobiológicas, psicossociais e psicoespirituais do paciente.

É CORRETO o que se afirma em:

- a) I apenas.
- b) II e III apenas.
- c) I, II e III.
- d) I e III apenas.
- e) III apenas.

37ª QUESTÃO

O Plano de Ações Estratégicas para o Enfrentamento das Doenças Crônicas e Agravos Não Transmissíveis no Brasil 2021-2030 define 226 ações estratégicas distribuídas em blocos e eixos para o alcance de metas nacionais. No que tange à organização dessas ações conforme os eixos de Promoção da Saúde, Atenção Integral à Saúde, Vigilância em Saúde e Prevenção de Doenças e Agravos à Saúde, analise as assertivas abaixo.

Fonte: BRASIL. Ministério da Saúde. Secretaria de Vigilância em Saúde. Departamento de Análise em Saúde e Vigilância de Doenças Não Transmissíveis. *Plano de Ações Estratégicas para o Enfrentamento das Doenças Crônicas e Agravos Não transmissíveis (2021 – 2030)*. Brasília: Ministério da Saúde, 2021.

- I- Constitui uma ação do eixo de Atenção Integral à Saúde a implantação de estratégias de avaliação de risco global para Doenças Crônicas Não Transmissíveis (DCNT) e doenças cardiovasculares em usuários vinculados à Atenção Primária em Saúde, visando ao rastreamento e detecção precoce.
- II- A promoção da Agenda dos Objetivos do Desenvolvimento Sustentável (ODS) nos estados, Distrito Federal e municípios, sob a perspectiva de estruturação de processos de planejamento e monitoramento locais, é classificada no Plano como uma ação do eixo de Vigilância em Saúde.
- III- No eixo de Promoção da Saúde, o Plano prevê o estímulo ao desenvolvimento de programas de promoção da saúde e prevenção de doenças crônicas não transmissíveis no setor de saúde suplementar, em articulação com a Agência Nacional de Saúde Suplementar (ANS).
- IV- Faz parte do eixo de Prevenção de Doenças e Agravos à Saúde o fortalecimento do complexo produtivo da saúde para ampliar a produção de insumos farmacêuticos (fármacos) destinados ao enfrentamento das DCNT.

É CORRETO o que se afirma apenas em:

- a) II e III.
- b) I, II e III.
- c) II e IV.
- d) I, III e IV.
- e) I e III.

38ª QUESTÃO

O suporte ventilatório ou ventilação mecânica (VM) é uma intervenção crítica utilizada para promover ventilação e oxigenação adequadas. Diferentemente da ventilação espontânea (VE), a VM gera uma pressão intratorácica positiva durante a entrada dos gases. Considerando as indicações e os parâmetros que sugerem o uso de VM, é CORRETO afirmar que:

- a) o suporte ventilatório é contraindicado em casos de obesidade mórbida e em pós-operatórios de cirurgias torácicas de grande porte, devido ao risco elevado de barotrauma decorrente da pressão intratorácica positiva.
- b) a ventilação mecânica tem como finalidade exclusiva a correção da hipercapnia, não sendo indicada para situações de instabilidade cardiocirculatória severa ou estados de choque, uma vez que a pressão positiva pode prejudicar o débito cardíaco.
- c) segundo os parâmetros ventilatórios de referência, deve-se considerar o uso de VM quando o volume corrente do paciente apresenta-se na faixa de 5 a 8 mL/kg, indicando a necessidade de expansão pulmonar assistida.
- d) na fase inspiratória do ciclo ventilatório mecânico, o ventilador inicia o processo de forma passiva, fechando a válvula de fluxo e abrindo a válvula de exalação para vencer o atrito das vias aéreas.
- e) o uso de suporte ventilatório deve ser considerado quando o paciente apresenta frequência respiratória superior a 35 incursões por minuto (rpm) ou um volume-minuto maior que 10 L/min, indicando sinais de falência respiratória ou fadiga muscular.

39ª QUESTÃO

Com base no Calendário Nacional de Vacinação para Adolescentes (10 a 19 anos) e Jovens (20 a 24 anos), e considerando as recomendações específicas do Ministério da Saúde para este grupo populacional, é CORRETO afirmar que:

- a) em casos de infecção prévia pelo vírus da dengue, o esquema vacinal com a vacina dengue tetravalente deve ser iniciado imediatamente após a remissão dos sintomas, sem necessidade de intervalo de espera.
- b) a vacina tríplice viral (SCR) deve ser administrada em dose única para toda a população de 10 a 24 anos. Para trabalhadores de saúde, o intervalo entre a primeira e a segunda dose deve ser de 30 dias.
- c) para adolescentes de 15 a 19 anos, 11 meses e 29 dias sem histórico vacinal prévio contra o HPV, recomenda-se a realização de uma estratégia de resgate para a aplicação de uma única dose da vacina HPV4.
- d) a vacina meningocócica ACWY é indicada para a faixa etária de 11 a 14 anos em um esquema de duas doses, independentemente do histórico vacinal prévio do adolescente.
- e) o reforço com a vacina dT (difteria e tétano) deve ser realizado rigorosamente a cada 5 anos para toda a população jovem, não havendo previsão de antecipação desse prazo em situações específicas.

40ª QUESTÃO

No que se refere às diretrizes e à organização da Rede de Cuidados à Pessoa com Deficiência (RCPD), conforme as orientações do Manual Instrutivo do Ministério da Saúde, alternativa é CORRETO afirmar que:

- a) o componente de Atenção Hospitalar e de Urgência e Emergência é excluído da estrutura da RCPD, uma vez que o atendimento às pessoas com deficiência deve ser realizado exclusivamente em unidades de reabilitação ambulatorial e centros de convivência.
- b) a Atenção Primária à Saúde atua como um componente secundário na RCPD, devendo encaminhar imediatamente qualquer suspeita de deficiência para os Centros Especializados, sem a responsabilidade de realizar o acompanhamento ou a coordenação do cuidado no território.
- c) o Centro Especializado em Reabilitação (CER) é um ponto de atenção ambulatorial especializada que pode ser organizado em diferentes tipologias, sendo classificado como CER II, CER III ou CER IV, conforme o número de modalidades de reabilitação que o compõem.
- d) os Centros Especializados em Reabilitação (CER) devem obrigatoriamente ofertar, em todas as suas unidades, o atendimento integral e simultâneo das quatro modalidades de reabilitação: auditiva, física, intelectual e visual.
- e) a vinculação da família aos pontos de atenção é considerada uma ação complementar e facultativa, não sendo elencada como um objetivo específico para a garantia da integralidade do cuidado dentro da Rede de Cuidados à Pessoa com Deficiência.