

Conheça o menor bairro de Curitiba, com 442 habitantes e raízes polonesas

Você sabia que o menor bairro de Curitiba possui apenas 442 habitantes? Parte da Regional CIC, o bairro menos populoso da capital paranaense é o Riviera e, de acordo com o Censo do IBGE de 2022, boa parte dos moradores dali são descendentes de poloneses, que foram os primeiros moradores da região.

O morador mais antigo é Vicente Ales, de 77 anos. A casa dele fica ‘escondida’ atrás de uma plantação de milharal, com acesso por uma estradinha de terra que exhibe uma paisagem interiorana que resiste ao tempo e ao ritmo frenético de outros grandes bairros de Curitiba.

A origem do bairro Riviera está ligada a Colônia Riviére fundada em 1876 e emancipada em 1878 às margens da antiga estrada do Mato Grosso. O nome da colônia veio de uma homenagem ao engenheiro Henrique Riviére por causa dos relevantes serviços prestados à colonização da Província.

Como todas as demais comunidades polonesas do Paraná, a Colônia Riviera foi criada pelo imperador dom Pedro II. Em 1880, o imperador, acompanhado da família real em visita ao Paraná aproveitou para conferir como os polacos estavam estabelecidos.

De acordo com relatos históricos da época, em Curitiba, a família real visitou as colônias do Santa Cândida e do Bairro Alto e não passou pela Riviera. Entretanto, toda a gente polonesa, inclusive da Colônia Riviera, foi a pé até a Praça 19 de dezembro para recepcionar o imperador.

Um grupo de 21 moças vestidas de branco segurava cartazes e saudava o casal imperial. Estavam ali as jovens representantes das colônias Riviera, Tomás Coelho, Lamenha, Santo Inácio, Nova Tirol, Murici, Santa Cândida, Abranches, Orleans, Alfredo Chaves, Antônio Rebouças, Dom Augusto, Inspetor Carvalho, Venâncio, Zacarias, Argelina, Dom Pedro, Dantes, São João Batista, Dr. Araújo e Santa Felicidade.

Como a maior parte dos moradores antigos, Vicente Ales nasceu e passou toda a vida no bairro. Ele ganhou o título de decano da região com a morte, há poucos meses, de Antônia Rompa Pepinsky, que alcançou 100 anos. “Eu devo muita oração para ela. A minha mãe contou que quando eu nasci, essa senhora foi a primeira que me pegou no colo. Era minha babá. A minha mãe sempre falava para respeitar essa gente. Então eu fiquei tão sentido com a perda porque ela tinha 100 anos e era lúcida, sabia de tudo, não era esquecida”, lamenta Vicente.

Recordar os velhos tempos é um dos hábitos mais frequentes dele, principalmente da época que cultivava lavouras. Reclama que agora não consegue mais lidar com plantio. Quando mais jovem, a lida na terra era parte do cotidiano, plantava feijão, milho e batata. Apesar das excelentes colheitas, diz que o esforço pouco compensava, a remuneração era muito baixa.

“Deu bem mesmo, colhemos muito, mas o que adiantou? O preço não ajudou. A terra é boa mas agora não planto mais, porque com 77 anos já não tenho mais força, sinto dor nas costas e muita canseira”, relata.

Fonte: <https://www.tribunapr.com.br/noticias/curitiba-regiao/conheca-menor-bairro-curitiba-442-habitantes-raizes-polonesas/>

01) Assinale a alternativa que apresente termo que possa substituir o termo em destaque no período, mantendo as mesmas relações de sentido no texto: Entretanto, toda a gente polonesa, inclusive da Colônia Riviera, foi a pé até a Praça 19 de dezembro para recepcionar o imperador.

- (A) Porque.
- (B) Mas.
- (C) Como.
- (D) Pois.
- (E) Também.

02) Assinale a alternativa que apresente um sinônimo adequado para o termo em destaque no período: O nome da colônia veio de uma homenagem ao engenheiro Henrique Rivière por causa dos relevantes serviços prestados à colonização da Província.

- (A) Reveladores.
- (B) Insignificantes.
- (C) Misteriosos.
- (D) Importantes.
- (E) Cotidianos.

03) Assinale a alternativa que apresente o termo retomado no texto pelo termo em destaque no período: Recordar os velhos tempos é um dos hábitos mais frequentes dele, principalmente da época que cultivava lavouras.

- (A) Bairro.
- (B) Título.
- (C) Vicente.
- (D) Imperador.
- (E) Antônia.

04) Assinale a alternativa na qual as duas palavras possuam quatro sílabas:

- (A) Populoso – Recordar.
- (B) Emancipada – Senhora.
- (C) Curitiba – Estrada.
- (D) Acompanhado- Moradores.
- (E) Poloneses – Habitantes.

05) Assinale a alternativa CORRETA quanto ao número de fonemas das palavras acesso e capital, respectivamente:

- (A) Seis e Sete.
- (B) Seis e Cinco.
- (C) Cinco e Sete.
- (D) Sete e Seis.
- (E) Sete e Cinco.

06) Assinale a alternativa CORRETA quanto à classe gramatical dos termos em destaque no período: De acordo com relatos históricos da época, em Curitiba, a família real visitou as colônias do Santa Cândida e do Bairro Alto e não passou pela Riviera.

- (A) Adjetivo – Substantivo.
- (B) Verbo – Adjetivo.
- (C) Numeral – Verbo.
- (D) Artigo – Numeral.
- (E) Substantivo – Preposição.

07) Assinale a alternativa na qual as duas palavras sejam proparoxítonas:

- (A) Históricos – Paraná.
- (B) Frenético – Época.
- (C) Título – Até.
- (D) Lúcida – Babá.
- (E) Hábitos – Colônia.

08) Uma hamburgueria trabalha somente com delivery e em cada pedido de lanche são enviados molhos e dois guardanapos. A caixa de guardanapos utilizada contém 192 unidades embaladas individualmente. Se em um dia de trabalho a quantidade de lanches vendida foi de 58 e neste dia foi aberta uma caixa de guardanapos com as 192 unidades e considerando que cada pedido foi entregue com duas unidades, ainda restam na caixa o total de:

- (A) 56 guardanapos.
- (B) 66 guardanapos.
- (C) 76 guardanapos.
- (D) 86 guardanapos.
- (E) 96 guardanapos.

09) Em uma confraternização do setor de manutenção as despesas foram de R\$ 917,00. Compareceram na confraternização 28 pessoas e o combinado é que todos vão dividir o valor gasto em partes iguais. Assim, o valor pago por cada um é igual a:

- (A) R\$ 28,50
- (B) R\$ 31,25
- (C) R\$ 31,50
- (D) R\$ 32,50
- (E) R\$ 32,75

10) Uma indústria de alimentos vendia a barra de chocolate ao leite com peso de 200 gramas, mas informou aos clientes que este item terá uma redução de 10% em seu peso. Com base nestas informações, a barra deste chocolate agora é vendida com peso igual a:

- (A) 190 gramas.
- (B) 160 gramas.
- (C) 195 gramas.
- (D) 180 gramas.
- (E) 175 gramas.

11) Uma sequência recorrente é aquela em que seus elementos se repetem de acordo com um padrão lógico. A sequência @#%&@#%&@#%&... é recorrente e desta forma o seu 32º elemento é igual a:

- (A) #.
- (B) @.
- (C) &.
- (D) %.
- (E) \$.

12) Uma pesquisa revelou que $\frac{1}{3}$ dos colaboradores da empresa Alfa residem a menos de um quilometro de distância da empresa. Sabendo que a empresa tem 252 colaboradores, a quantidade que reside a mais de um quilometro da empresa é igual a:

- (A) 168 colaboradores.
- (B) 198 colaboradores.
- (C) 156 colaboradores.
- (D) 158 colaboradores.
- (E) 162 colaboradores.

13) Um estagiário recebe o valor de R\$ 6,80 por hora de trabalho. Se em um determinado mês ele recebeu R\$ 544,00 a quantidade de horas trabalhadas neste mês é igual a:

- (A) 66h.
- (B) 68h.
- (C) 72h.
- (D) 80h.
- (E) 85h.

14) Em uma promoção, o pacote de 800 gramas de peito de frango é vendido por R\$ 13,20. Com base nestes dados, o valor de um quilo de peito de frango nesta promoção é igual a:

- (A) R\$ 15,65.
- (B) R\$ 16,50.
- (C) R\$ 15,85.
- (D) R\$ 16,25.
- (E) R\$ 17,50.

CONHECIMENTOS GERAIS/ATUALIDADES

15) Na região, obras de infraestrutura como o novo Contorno de Palotina estão sendo feitas para melhorar o trânsito de caminhões e o acesso a grandes cooperativas, como a C.Vale. Para que os moradores e a produção de Terra Roxa cheguem até esse polo agrícola, é necessário utilizar uma importante via de ligação. Qual das alternativas abaixo indica CORRETAMENTE o nome da rodovia estadual que liga a cidade de Terra Roxa à cidade de Palotina?

- (A) PR-364.
- (B) PR-444.
- (C) PR-466.
- (D) PR-272.
- (E) PR-486.

16) Esta banda de Guarulhos (SP) fez um enorme sucesso nos anos 90 com roupas coloridas e letras engraçadas, destacando-se com sucessos como “Pelados em Santos” e “Robocop Gay”. Em 2026, completam-se 30 anos do trágico acidente de avião que matou todos os seus integrantes no auge da fama. Qual das alternativas abaixo indica CORRETAMENTE o nome dessa banda?

- (A) Legião Urbana.
- (B) Mamonas Assassinas.
- (C) Titãs.
- (D) Skank.
- (E) Jota Quest.

17) A cidade de Terra Roxa é famosa em todo o Brasil devido às suas diversas fábricas de roupas e enxovais. Graças a essa grande produção e à qualidade de seus produtos, o município recebeu o título oficial de "Capital Nacional da":

- (A) Moda Sertaneja.
- (B) Moda Masculina.
- (C) Moda Bebê.
- (D) Moda Feminina.
- (E) Moda Alta Costura.

18) Muitas famílias indígenas vivem na região de Terra Roxa e participam de processos de demarcação de terras que envolvem a Usina Binacional de Itaipu. Qual das alternativas abaixo indica o nome do povo indígena que faz parte desse contexto histórico e social dessa região?

- (A) Xavante.
- (B) Yanomami.
- (C) Avá-Guarani.
- (D) Kayapó.
- (E) Pataxó.

19) O município de Terra Roxa fica próximo à fronteira com o Paraguai, onde as forças de segurança trabalham para combater a entrada de mercadorias irregulares. Qual das alternativas abaixo apresenta o nome dado aos produtos que são trazidos de outro país para o Brasil de forma escondida, sem autorização e sem o pagamento de impostos?

- (A) Exportação.
- (B) Importação.
- (C) Doação.
- (D) Empréstimo.
- (E) Contrabando.

20) O município de Terra Roxa possui limites territoriais com várias cidades vizinhas. Em qual das alternativas abaixo os dois municípios citados fazem divisa com o território de Terra Roxa?

- (A) Londrina e Umuarama.
- (B) Foz do Iguaçu e Toledo.
- (C) Cascavel e Palotina.
- (D) Guaíra e Palotina.
- (E) Toledo e Guaíra.

<u>CONHECIMENTOS ESPECÍFICOS</u>

21) Diante de uma ordem de serviço não compreendida, o auxiliar de limpeza e copa deve:

- (A) Pedir calmamente e com clareza para que seu encarregado repita a ordem.
- (B) Perguntar para o prefeito o que fazer.
- (C) Ir para a casa se acalmar e voltar no outro dia.
- (D) Fazer do seu jeito.
- (E) Perguntar para o secretário de saúde como fazer.

22) O uso de Equipamentos de Proteção Individual (EPIs) é importante porque:

- (A) Protege o cidadão municipal.
- (B) Se o ministério público fiscalizar pode dar problemas.
- (C) Protege o patrimônio público.
- (D) É fundamental para garantir a integridade física, saúde e vida dos trabalhadores, reduzindo consequências de acidentes e prevenindo doenças ocupacionais.
- (E) Evita conflitos internos com os colegas de trabalho.

23) Uma condição imprescindível para o bom desenvolvimento dos trabalhos na limpeza de um piso que possa oferecer risco de escorregões é:

- (A) Passar um produto antiderrapante no piso.
- (B) Sinalizar o local com placas de (piso escorregadio).
- (C) Dar uns gritos alertando os transeuntes.
- (D) Não precisa sinalizar o local.
- (E) Anunciar no microfone que o piso está molhado.

24) Associe a primeira com a segunda coluna:

- 1 - Álcool 70% ou Álcool Gel.
- 2 - Água sanitária / Alvejante.
- 3 - Detergente neutro.
- 4 - Desinfetante.
- 5 - Saponáceo ou Sabão em pasta.

- () Para remoção de sujeiras difíceis e manchas.
- () Para desinfecção profunda e superfícies brancas.
- () Para desinfetar pisos e banheiros.
- () Para lavar louças e superfícies delicadas.
- () Desinfecção rápida de superfícies e mãos.

No preenchimento das lacunas, a ordem CORRETA de cima para baixo é:

- (A) 1, 2, 3, 4, 5.
- (B) 5, 4, 3, 2, 1.
- (C) 5, 2, 4, 3, 1,
- (D) 1, 3, 4, 2, 5.
- (E) 3, 4, 5, 1, 2.

25) Associe a primeira com a segunda coluna:

- 1 - Limpeza Básica.
- 2 - Detalhes e Cantos.
- 3 - Limpeza de piso.
- 4 - Superfícies e Vidros.
- 5 - Limpeza Pesada/Específica.

- () Detergente neutro, sabão em barra.
- () Vassouras (cerdas macias ou duras), rodos, MOPs (esfregões) e baldes.
- () Panos de microfibra, flanelas, esponjas multiuso, limpador de vidros e rodinhos.
- () Escovas sanitárias, escovas de nylon, espanadores.
- () Desengordurantes, removedores de manchas, limpa-vidros.

No preenchimento das lacunas, a ordem CORRETA de cima para baixo é:

- (A) 1, 2, 3, 4, 5.
- (B) 5, 4, 3, 2, 1.
- (C) 5, 2, 4, 3, 1,
- (D) 1, 3, 4, 2, 5.
- (E) 3, 4, 5, 1, 2.

26) Para limpar móveis, comece tirando o pó com um pano seco ou espanador, depois use um pano úmido com _____ ou uma solução de água e vinagre para sujeiras gerais, sempre torcendo bem o pano para não encharcar a madeira e finalizando com um pano seco para lustrar; para manchas persistentes, uma pasta de bicarbonato de sódio e água pode ajudar, e evite produtos abrasivos, pois cada acabamento de móvel (verniz, cera, laqueado) requer cuidados específicos. Escolha a opção que preenche a lacuna:

- (A) Detergente Ácido.
- (B) Detergente Alcalino.
- (C) Detergente Clorado.
- (D) Detergente Clorificado.
- (E) Detergente Neutro.

27) A limpeza de paredes envolve remover o pó com espanador ou pano seco, seguido de uma mistura de água morna, detergente neutro e, para manchas, vinagre de álcool ou:

- (A) Acético.
- (B) Herboménico.
- (C) Picamó.
- (D) Sulfúrico.
- (E) Bicarbonato.

28) Para limpar portas:

- (A) Limpe de cima para baixo, remova o excesso e seque bem, adaptando o método ao material (madeira, PVC, vidro) e evitando produtos abrasivos para manter o brilho e a durabilidade, com manutenção de ferragens com pano úmido e lubrificação periódica.
- (B) Limpe de baixo para cima, remova o excesso e seque bem, adaptando o método ao material (madeira, PVC, vidro) e evitando produtos abrasivos para manter o brilho e a durabilidade, com manutenção de ferragens com pano úmido e lubrificação periódica.
- (C) Limpe de cima para baixo, remova o excesso e seque bem, adaptando o método ao material (madeira, PVC, vidro) e procurando usar produtos abrasivos para manter o brilho e a durabilidade, com manutenção de ferragens com pano úmido e lubrificação periódica.
- (D) Limpe de baixo para cima, remova o excesso e seque bem, adaptando o método ao material (madeira, PVC, vidro) e procurando usar produtos abrasivos para manter o brilho e a durabilidade, com manutenção de ferragens com pano úmido e lubrificação periódica.
- (E) Nenhuma das alternativas anteriores.

29) O pano de _____ é ideal para limpar vidros, pois não solta fiapos e ajuda a remover a sujeira de forma eficaz. Ele absorve bem os produtos de limpeza e garante que o vidro seque de forma uniforme, sem deixar marcas. Escolha a opção que preenche a lacuna:

- (A) Linho.
- (B) Microfibra.
- (C) Lycra.
- (D) Lã.
- (E) Seda.

30) Analise os itens e assinale a alternativa CORRETA. Quais itens a seguir são indicados para limpeza de persianas?

I - Aspirador de pó com bico de escova.

II - Água morna.

III - Vinagre branco (diluído em água).

Estão CORRETAS:

(A) I e II.

(B) I e III.

(C) II e III.

(D) I, II e III.

(E) Nenhuma das Anteriores.

31) Como efetuar uma limpeza rotineira de tapete?

(A) Polvilhe bicarbonato de sódio sobre todo o tapete, deixe agir por algumas horas (ou durante a noite) para eliminar odores e depois aspire.

(B) Passe o aspirador de pó pelo menos 1 a 2 vezes por semana para evitar o acúmulo de poeira e ácaros.

(C) Misture em um borrifador: 1 litro de água morna, 1/4 de xícara de vinagre branco e 1 colher de sopa de detergente neutro. Aplique sobre o tapete, escove suavemente e remova com pano úmido.

(D) Depois de espalhar sabão em pó, esfregue um rodo com bastante força.

(E) Passe a escovinha com bastante sabão de soda.

32) Para limpar pisos de porcelanato o CORRETO é:

(A) Usar produtos abrasivos (saponáceos, palha de aço).

(B) Usar ácidos (água sanitária, cloro, limpa-alumínio).

(C) Usar ceras.

(D) Usar sabão em pó.

(E) Usar apenas detergente neutro e água.

33) Analise o passo a passo na limpeza de uma escada de mármore:

I - Use apenas um pano macio ou esfregão umedecido em solução de água morna e detergente neutro.

II - Use produtos ácidos como vinagre, limão ou removedores.

III - Varra com vassoura macia ou passe um aspirador com ponteira de escova para evitar riscos.

IV - Encharque bem a pedra para facilitar a limpeza.

Estão CORRETAS:

(A) I e II.

(B) II e IV.

(C) I e III.

(D) II, III e IV.

(E) I, II, III e IV.


34) Durante a realização das atividades de limpeza, é fundamental que o auxiliar utilize os EPIs, pois eles:

- (A) Servem apenas para cumprir exigência formal da instituição.
- (B) Substituem totalmente os cuidados pessoais no trabalho.
- (C) Ajudam a prevenir acidentes e proteger a saúde do trabalhador.
- (D) São necessários apenas em atividades de risco.
- (E) Devem ser usados somente em situações de emergência.

35) A higiene pessoal de um servidor público (auxiliar de limpeza e copa) é crucial, pois é associada a limpeza do local. Essa higiene deve incluir cabelos presos/arrumados, unhas limpas e curtas, uso de desodorante, uniforme limpo/passado e:

- (A) Banho diário.
- (B) Banho semanal.
- (C) Banho quinzenal.
- (D) Banho mensal.
- (E) Banho semestral.

36) Quando na limpeza pesada de um pátio, qual dos utensílios a seguir se faz necessário?




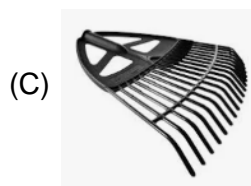
37) Qual cor de recipiente é usada para acondicionar o lixo orgânico?

- (A) Azul.
- (B) Verde.
- (C) Marrom.
- (D) Amarelo.
- (E) Vermelho.

38) É um item crucial na segurança de um auxiliar de limpeza e copa, EXCETO:

- (A) Botas.
- (B) Luvas.
- (C) Máscaras.
- (D) Capacete.
- (E) Todas as anteriores.

39) Qual das seguintes ferramentas é usada na capinagem de jardins?



40) São medidas importantes para a segurança do auxiliar de limpeza no exercício de suas funções, EXCETO:

- (A) Utilizar Equipamentos de Proteção Individual (EPIs).
- (B) Manter os produtos de limpeza devidamente identificados.
- (C) Informar a chefia sobre situações de risco no ambiente.
- (D) Misturar produtos químicos para aumentar a eficiência da limpeza.
- (E) Sinalizar áreas molhadas para evitar quedas.