


## CONTROLADOR INTERNO




**Município de Rolador/RS**  
Concurso Público 01/2026


### PROVA TEÓRICO-OBJETIVA

 3 horas

 40 questões

 4 alternativas

 Saída permitida somente após  
1 hora de prova

 O candidato só poderá levar este  
Caderno após 2 horas de prova

### INSTRUÇÕES



Confira se esse Caderno de Prova contém a quantidade de questões indicadas. A substituição deste Caderno de Prova ocorre apenas antes de iniciar a prova.

- ▣ O tempo de prova inclui o preenchimento do Cartão-Resposta.
- ▣ Nenhuma informação acerca do conteúdo das questões será fornecida pelo Fiscal de Sala, pois é parte integrante da prova.
- ▣ Antes de sair da Sala de Prova, entregue o Cartão-Resposta ao Fiscal de Sala, **devidamente assinado**, e, após, se desloque imediatamente para a saída do local de prova.
- ▣ Ao final da prova, os 03 (três) últimos candidatos deverão permanecer na Sala de Prova até que o último termine a sua prova, devendo ambos testemunhar a devolução e o lacre dos documentos.
- ▣ A divulgação do gabarito preliminar se dará conforme Cronograma de Execução do certame.

TODOS OS DIREITOS RESERVADOS AO INSTITUTO LEGALLE. PROIBIDO REPRODUÇÃO.

### RASCUNHO PARA GABARITO

01	06	11	16	21	26	31	36
02	07	12	17	22	27	32	37
03	08	13	18	23	28	33	38
04	09	14	19	24	29	34	39
05	10	15	20	25	30	35	40

Para responder às questões 01 a 10, leia o texto abaixo.

### Da renda à ciência, desigualdade racial segue moldando o Brasil

Olhar para a desigualdade no Brasil é, inevitavelmente, olhar para o que persiste. Não apenas nos indicadores, mas nas estruturas que atravessam o tempo e organizam silenciosamente a vida social.

Os dados mais recentes do Ipea não deixam espaço para dúvida: mesmo diante de avanços importantes nas políticas públicas, a desigualdade racial permanece como uma presença constante. Ela não se limita a um campo específico — infiltra-se na renda, atravessa o acesso a serviços, delimita trajetórias e chega, inclusive, à forma como o país produz e organiza seus próprios dados.

Mais do que um desvio ou uma exceção, trata-se de um padrão que se repete. Uma engrenagem que se ajusta ao tempo, mas não se desfaz, e que segue desafiando tanto a ação do Estado quanto a capacidade de compreender, em profundidade, o Brasil que se constrói todos os dias.

O estudo *Desigualdade de raça e gênero e impactos distributivos dos gastos públicos com saúde e educação no Brasil* mostra que as políticas públicas têm, sim, potência transformadora. Ao incorporar serviços de saúde e educação ao cálculo da renda ampliada, a desigualdade diminui de forma expressiva — o índice de Theil (medida estatística de desigualdade econômica e concentração de renda) recua de 0,62 para 0,38, sinalizando o efeito redistributivo do Estado.

Mas há camadas que resistem. Entre 11% e 12% da desigualdade total ainda se explica por fatores como raça e gênero, revelando que essas dimensões continuam a organizar o acesso a oportunidades. Mesmo quando o Estado atua, as marcas da desigualdade não desaparecem por completo — elas se reconfiguram.

Essa distância se amplia quando se observa o gasto privado: entre as famílias de maior renda no país, por exemplo, as chefiadas por homens brancos chegam a investir em saúde até 150% do que é gasto por famílias negras. Em um mesmo país, convivem realidades profundamente distintas, separadas por barreiras que nem sempre são visíveis, mas são persistentemente eficazes.

E quando raça e gênero se cruzam, o cenário se torna ainda mais complexo. As desigualdades não apenas se somam — elas se aprofundam, revelando um tecido social onde as diferenças se entrelaçam e se reforçam mutuamente.

A desigualdade racial também se inscreve nos espaços onde o conhecimento é produzido. O estudo *Fronteras desiguais: um exame crítico da participação negra interseccionada com sexo na liderança científica brasileira* revela um dado que vai além da representatividade: ele diz respeito à própria construção do saber.

Pessoas negras — especialmente mulheres negras — permanecem sub-representadas em posições de liderança na pesquisa científica. E isso não é apenas uma questão de presença, mas de perspectiva.

Quando determinados grupos ficam à margem, determinadas perguntas deixam de ser feitas. Certas experiências deixam de ser consideradas. E, pouco a pouco, o conhecimento produzido passa a refletir apenas uma parte da realidade — nunca o todo. Assim, a desigualdade não apenas limita trajetórias individuais. Ela também molda aquilo que o país escolhe, ou deixa de escolher, compreender sobre si mesmo.

Quando reunidos, os estudos apontam para uma mesma direção: a desigualdade racial no Brasil não é episódica. Não é um resíduo do passado. É uma presença ativa, que se reorganiza e se mantém ao longo do tempo.

Ela atravessa a renda, o acesso a serviços, os espaços de poder e até os instrumentos que deveriam revelá-la. Está nas trajetórias individuais, mas também nas estruturas que as condicionam. E é justamente essa persistência que torna o desafio mais complexo — e mais urgente.

**Fonte:** <https://www.ipea.gov.br/portal/categorias/45-todas-as-noticias/noticias/16302-da-renda-a-ciencia-desigualdade-racial-segue-moldando-o-brasil> (adaptado).

**Questão 01.** Considerando a organização argumentativa e a progressão temática do texto, assinale a alternativa que MELHOR SINTETIZA a tese central defendida no texto.

- (A) As desigualdades sociais no Brasil são determinadas predominantemente por fatores econômicos, sendo a dimensão racial secundária nesse processo.
- (B) A limitação na produção e organização de dados estatísticos constitui o principal obstáculo para o enfrentamento das desigualdades no país.
- (C) A desigualdade racial no Brasil configura-se como um fenômeno estrutural e persistente, que se mantém mesmo diante de avanços institucionais.
- (D) A atuação recente do Estado brasileiro tem sido suficiente para eliminar todas as formas de desigualdades raciais historicamente construídas.

**Questão 02.** No terceiro parágrafo, ao caracterizar a desigualdade racial como uma **engrenagem que se ajusta ao tempo, mas não se desfaz**, o texto recorre a um recurso expressivo para construir seu argumento. Diante disso, assinale a alternativa que identifica CORRETAMENTE a figura de linguagem predominante nesse trecho.

- (A) Metáfora.
- (B) Eufemismo.
- (C) Comparação.
- (D) Hipérbole.

**Questão 03.** No trecho **Quando determinados grupos ficam à margem, determinadas perguntas deixam de ser feitas**, o texto explicita uma consequência da sub-representação social na produção do conhecimento. A partir desse fragmento, assinale a alternativa que MELHOR TRADUZ a implicação sugerida pelo texto.

- (A) A atividade científica, embora orientada por critérios de objetividade, encontra limites metodológicos que explicam a ausência de determinadas abordagens.
- (B) A exclusão de grupos sociais dos espaços de produção do saber compromete a definição dos problemas investigados e restringe o alcance interpretativo do conhecimento produzido.
- (C) A produção do conhecimento científico mantém-se abrangente e representativa, independentemente da diversidade dos sujeitos que a realizam.
- (D) A dependência de financiamento público constitui o principal fator responsável pela limitação temática das pesquisas científicas.

**Questão 04.** Com base nas ideias, nos argumentos e nas informações explicitadas no texto, analise as partes abaixo:

*(1ª parte): A abordagem do cruzamento entre raça e gênero indica que as desigualdades se intensificam mutuamente, produzindo efeitos mais complexos.*

*(2ª parte): O texto reconhece que políticas públicas, especialmente nas áreas de infraestrutura e transporte, possuem potencial para reduzir desigualdades.*

*(3ª parte): A menção à redução do índice de Theil cumpre, no texto, a função de evidenciar a superioridade dos métodos estatísticos sobre análises sociais.*

Pode-se afirmar que:

- (A) Apenas a 1ª parte está correta.
- (B) Apenas a 1ª e a 2ª partes estão corretas.
- (C) Apenas a 1ª e a 3ª partes estão corretas.
- (D) Todas as partes estão incorretas.

**Questão 05.** No penúltimo parágrafo do texto, o trecho **a desigualdade racial no Brasil não é episódica. Não é um resíduo do passado** desempenha papel argumentativo relevante ao refutar uma determinada leitura sobre a desigualdade racial. Diante disso, assinale a alternativa que explicita CORRETAMENTE a posição implicitamente contrariada pelo texto.

- (A) A concepção de que a desigualdade racial constitui um fenômeno estrutural e permanente na sociedade.
- (B) A abordagem que privilegia fatores econômicos como eixo central de explicação das desigualdades sociais.
- (C) A perspectiva de que a desigualdade racial tende a desaparecer com o desenvolvimento econômico.
- (D) A interpretação de que a desigualdade racial se restringe a ocorrências pontuais ou a heranças históricas já superadas.

**Questão 06.** Considerando a tipologia, a organização argumentativa e a progressão temática do texto, analise as assertivas a seguir:

- I. O texto apresenta estrutura descritiva, com predomínio de caracterizações estáticas da realidade social.
- II. Os estudos mencionados desempenham função argumentativa ao fornecer evidências empíricas que corroboram e legitimam a tese central do texto.
- III. O texto apresenta progressão em espiral, na medida em que retoma a tese sob diferentes ângulos ao longo do desenvolvimento.

Está CORRETO o que se afirma em:

- (A) II, apenas.
- (B) II e III, apenas.
- (C) I e III, apenas.
- (D) I, II e III.

**Questão 07.** Considerando aspectos sintáticos, semânticos e de pontuação empregados no primeiro parágrafo do texto, analise as assertivas que seguem, julgando-as V, se Verdadeiras, ou F, se Falsas:

- ( ) A conjunção **e** estabelece relação de coordenação conclusiva entre dois verbos de mesmo sujeito.
- ( ) O uso da vírgula antes de **mas** decorre da necessidade de separar o sujeito do predicado.
- ( ) A retirada do advérbio de modo **silenciosamente** não compromete a estrutura sintática da oração, mas altera seu efeito de sentido.

Qual alternativa preenche, CORRETAMENTE, de cima para baixo, os parênteses acima?

- (A) V – V – F.
- (B) F – F – F.
- (C) F – F – V.
- (D) V – F – V.

**Questão 08.** No trecho **Mesmo quando o Estado atua, as marcas da desigualdade não desaparecem por completo — elas se reconfiguram**, a expressão **Mesmo quando** introduz uma relação específica entre as ideias do período. Diante disso, assinale a alternativa que analisa CORRETAMENTE seu valor semântico e sua função no contexto.

- (A) Expressa condição, indicando que a atuação do Estado determina o desaparecimento parcial da desigualdade.
- (B) Marca consequência, evidenciando que a desigualdade se reconfigura como resultado direto da ação do Estado.
- (C) Introduce causa, sugerindo que a atuação estatal é responsável pela reconfiguração das desigualdades.
- (D) Estabelece concessão, ao indicar que, embora haja atuação estatal, a desigualdade persiste sob novas formas.

**Questão 09.** Considerando a frase **Ela atravessa a renda**, bem como seus aspectos sintáticos e semânticos no contexto em que se insere, assinale a alternativa INCORRETA.

- (A) O pronome **Ela** exerce função de sujeito simples, retomando um referente previamente estabelecido.
- (B) O predicado é classificado como nominal, uma vez que o verbo expressa estado atribuído ao sujeito.
- (C) O sintagma **a renda** desempenha função de objeto direto, constituindo o complemento do verbo.
- (D) A ordem sintática observada corresponde ao padrão canônico da língua portuguesa (Sujeito + Verbo + Complemento).

**Questão 10.** Considerando as regras de acentuação gráfica da Língua Portuguesa, assinale a alternativa em que ambas as palavras, retiradas do texto, são acentuadas em virtude da mesma regra.

- (A) cálculo – gênero.
- (B) estatística – visíveis.
- (C) trajetórias – também.
- (D) episódica – revelá-la.

### MATEMÁTICA

**Questão 11.** Uma área de lazer será cercada por um muro de 2 metros de altura. O formato da área é um paralelogramo, em que a base mede 20 metros e a altura relativa a essa base mede 15 metros. Além disso, o lado inclinado desse paralelogramo mede 17 metros. Precisa-se calcular o perímetro total dessa área de lazer para estimar a quantidade de tijolos que serão usados na construção do muro externo. Assim, qual é a medida total, em metros, do perímetro dessa área?

- (A) 150 metros.
- (B) 74 metros.
- (C) 37 metros.
- (D) 70 metros.

**Questão 12.** Um projeto de saneamento prevê que a quantidade de resíduos processados por uma estação aumente mensalmente em uma progressão geométrica. No primeiro mês, foram processadas 50 toneladas. No terceiro mês, a capacidade saltou para 200 toneladas de resíduos. Mantendo-se a mesma razão de crescimento, o diretor técnico deseja saber qual será a capacidade de processamento, em toneladas, esperada para o quinto mês de operação ininterrupta desta nova estação de tratamento. Considerando isso, assinale a alternativa CORRETA.

- (A) 800.
- (B) 750.
- (C) 600.
- (D) 1.000.

**Questão 13.** Um objeto de decoração, em formato de prisma hexagonal regular, possui uma área de base igual a 20 centímetros quadrados e uma altura de 15 centímetros. O gestor do almoxarifado precisa calcular o volume total desse objeto para providenciar a embalagem adequada para o transporte entre unidades. Considerando que o objeto é maciço e as medidas fornecidas representam as dimensões externas finais, qual é o volume total, em centímetros cúbicos, que esse objeto ocupa?

- (A) 250 cm<sup>3</sup>.
- (B) 150 cm<sup>3</sup>.
- (C) 450 cm<sup>3</sup>.
- (D) 300 cm<sup>3</sup>.

**Questão 14.** Um contrato de prestação de serviços previa um pagamento mensal que seguia uma progressão aritmética. No sexto mês, o valor pago foi de R\$ 1.200, e no décimo mês, o valor subiu para R\$ 2.000. O gestor do contrato precisa saber qual era o valor exato do pagamento realizado no primeiro mês de vigência deste acordo para fins de auditoria retroativa. Considerando que a razão de aumento se manteve constante, qual foi o valor, em reais, pago no início do contrato?

- (A) R\$ 600,00.
- (B) R\$ 400,00.
- (C) R\$ 200,00.
- (D) R\$ 300,00.

**Questão 15.** Uma esfera metálica de raio igual a 3 centímetros será derretida para a fabricação de pequenos parafusos. O mestre de produção precisa calcular o volume total de metal disponível nesta esfera para dimensionar a quantidade de matéria-prima. Utilizando a aproximação de 3 para o valor de  $\pi$ , qual é o volume total, em centímetros cúbicos, de metal contido na esfera, de acordo com a fórmula geométrica do volume para sólidos esféricos, considerando o raio informado no projeto?

- (A) 108 cm<sup>3</sup>.
- (B) 324 cm<sup>3</sup>.
- (C) 36 cm<sup>3</sup>.
- (D) 27 cm<sup>3</sup>.

UTILIZE ESTE ESPAÇO PARA CÁLCULOS

INFORMÁTICA

**Questão 16.** A imagem abaixo representa a barra de endereços (Omnibox) do navegador Google Chrome, que integra funções de navegação, pesquisa e acesso a recursos inteligentes do navegador:



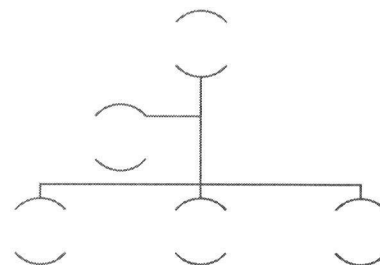
Com base nas funcionalidades e no comportamento desse recurso, analise as assertivas que seguem:

- I. A integração com ferramentas de reconhecimento visual permite a realização de buscas a partir de imagens, ampliando o escopo tradicional de consultas textuais.
- II. A opção de pesquisa por voz depende de permissões do sistema para processamento da entrada falada.
- III. As sugestões apresentadas pela barra de endereços são geradas aleatoriamente, sem relação com dados do usuário ou tendências de pesquisa.

Está CORRETO o que se afirma em:

- (A) I, apenas.
- (B) I e II, apenas.
- (C) II e III, apenas.
- (D) I, II e III.

**Questão 17.** O esquema a seguir apresenta um **SmartArt** do tipo **Organograma de Semicírculos**, inserido em um documento do Microsoft Word 365. Nesse tipo de representação, os elementos são distribuídos em diferentes níveis dentro da estrutura. Com base na interpretação do recurso, essa organização tem por finalidade:



- (A) Estruturar os elementos de forma comparativa, destacando diferenças entre categorias equivalentes.
- (B) Representar a progressão sequencial de informações, indicando a ordem em que devem ser executadas.
- (C) Distribuir os elementos de modo equilibrado no layout, priorizando a estética e a simetria visual.
- (D) Evidenciar a estrutura hierárquica entre os elementos, indicando relações de subordinação.

**Questão 18.** No Microsoft Word 365, a guia **Exibir** disponibiliza recursos de visualização que auxiliam na organização e no alinhamento de elementos no documento. Considerando o recurso **Linhas de Grade**, analise as partes a seguir:

*(1ª parte): As **Linhas de Grade** são exibidas apenas dentro da área delimitada pelas margens do documento.*

*(2ª parte): As **Linhas de Grade** não alteram propriedades de formatação de parágrafo, caractere ou página.*

*(3ª parte): As **Linhas de Grade** são exportadas juntamente com o conteúdo do documento em arquivos PDF, permanecendo visíveis na versão final gerada.*

Pode-se afirmar que:

- (A) Apenas a 1ª parte está correta.
- (B) Apenas a 1ª e a 2ª partes estão corretas.
- (C) Apenas a 2ª e a 3ª partes estão corretas.
- (D) Todas as partes estão corretas.

**Questão 19.** No sistema operacional Windows 11, o **Explorador de Arquivos** oferece diversos atalhos de teclado que permitem otimizar a navegação, a organização e a visualização de pastas e arquivos, dispensando o uso do mouse em diversas ações. Considerando esses recursos, assinale a alternativa que indica CORRETAMENTE a função do atalho **Ctrl + Shift + E**.

- (A) Altera o modo de exibição dos itens na área principal do **Explorador de Arquivos**, alternando entre visualização em ícones e exibição em lista detalhada.
- (B) Atualiza o conteúdo da pasta atual, recarregando a lista de arquivos e pastas exibidas na área principal.
- (C) Expande a estrutura de pastas no painel de navegação, exibindo as subpastas associadas ao diretório.
- (D) Abre uma nova janela do **Explorador de Arquivos**, iniciando uma instância independente da atual.

**Questão 20.** No contexto de navegação na web, o navegador Google Chrome utiliza recursos como cookies e extensões para diferentes finalidades relacionadas ao funcionamento, personalização e controle da experiência do usuário. Com base nisso, analise as assertivas que seguem, julgando-as V, se Verdadeiras, ou F, se Falsas:

- ( ) Cookies são compartilhados automaticamente entre diferentes navegadores instalados no mesmo dispositivo.
- ( ) O Chrome possibilita ao usuário bloquear cookies de terceiros por meio de suas configurações de privacidade, ampliando o controle sobre o rastreamento durante a navegação.
- ( ) Cookies e extensões desempenham a mesma função no navegador, sendo tecnicamente equivalentes, pois ambos têm como objetivo armazenar e processar dados de navegação do usuário.

Qual alternativa preenche, CORRETAMENTE, de cima para baixo, os parênteses acima?

- (A) F – V – F.
- (B) F – F – V.
- (C) V – V – F.
- (D) V – V – V.

### LEGISLAÇÃO

**Questão 21.** Sabe-se que a Administração Municipal é constituída dos órgãos integrados na estrutura administrativa da Prefeitura e de entidades dotadas de personalidade jurídica própria. Nesse sentido, conforme a Lei Orgânica, quantos dos seguintes itens apresentam exemplos de tipos de entidades dotadas de personalidade jurídica própria que compõem a administração indireta do Município? **I.** Sociedade de economia mista; **II.** Agência de regulação geral; **III.** Autarquia.

- (A) Nenhum deles.
- (B) Apenas 1 deles.
- (C) Apenas 2 deles.
- (D) Todos os 3.

**Questão 22.** Assim como a regulamentação interna dos órgãos que forem criados na Administração Municipal, tem-se que a abertura de créditos especiais e suplementares, até o limite autorizado por lei, bem como de créditos extraordinários, a declaração de utilidade pública ou necessidade social, para fins de desapropriação ou de servidão administrativa e a aprovação de regulamento ou de regimento das entidades que compõem a Administração Municipal, devem ter seus atos administrativos competentes ao Prefeito publicados na forma de, conforme Lei Orgânica:

- (A) Portaria.
- (B) Declaração.
- (C) Regulamento.
- (D) Decreto.

**Questão 23.** A Câmara de Vereadores poderá eleger, dentre a maioria de seus membros e em votação nominal, uma Comissão Representativa ao término de cada sessão legislativa, que funcionará nos interregnos das sessões legislativas ordinárias (recesso parlamentar), responsável por, conforme Lei Orgânica:

- I.** Zelar pela observância da Lei Orgânica e dos direitos e garantias individuais.
- II.** Convocar extraordinariamente a Câmara em caso de urgência ou interesse público ou privado relevante.
- III.** Reunir-se extraordinariamente sempre que convocada pelo Presidente.

Estão CORRETAS:

- (A) Apenas I e II.
- (B) Apenas I e III.
- (C) Apenas II e III.
- (D) I, II e III.

**Questão 24.** Analise o texto que segue, de acordo com a Lei Orgânica:

*A iniciativa das leis complementares e ordinárias cabe a qualquer Vereador, Comissão Permanente da Câmara, ao Prefeito e ao eleitorado que a exercerá sobre a forma de moção articulada subscrita, no mínimo, por cinco por cento do total do número de eleitores do Município.*

Acerca do texto, pode-se afirmar que ele está:

- (A) Plenamente adequado, visto que observa a legislação municipal vigente.
- (B) Parcialmente adequado, visto que a subscrição mínima é de dez por cento do total do número de eleitores do Município.
- (C) Plenamente inadequado, visto que em nada observa a legislação municipal vigente.
- (D) Parcialmente adequado, visto que não cabe ao Prefeito a iniciativa das leis complementares, somente as ordinárias.

**Questão 25.** Por meio do Regime Jurídico dos Servidores Públicos do Município, fica determinado que a autoridade competente poderá estabelecer a suspensão preventiva do servidor, até certo prazo, prorrogável por mais outro prazo se, fundamentadamente, houver necessidade de seu afastamento para apuração de falta a ele imputada. Diante disso, qual das alternativas apresenta a soma do prazo de suspensão preventiva, considerando prorrogação, em que ambos os prazos estão em seus máximos possíveis?

- (A) Sessenta dias.
- (B) Noventa dias.
- (C) Cento e vinte dias.
- (D) Cento e oitenta dias.

**Questão 26.** Analise as partes que seguem, com base na Lei Orgânica: Poderão ser cedidos a particulares, para serviços transitórios, máquinas e operadores da Prefeitura, desde que não haja prejuízos para os trabalhos do Município (**1ª parte**) e o interessado recolha, previamente, o preço público fixado em Lei e assine termo de responsabilidade pela conservação e devolução dos bens cedidos (**2ª parte**).

Acerca das partes, pode-se afirmar que:

- (A) Assim como a 1ª parte está correta, tem-se que a 2ª parte também está.
- (B) Enquanto a 1ª parte está correta, sabe-se que a 2ª parte não está.
- (C) Assim como a 1ª parte está incorreta, tem-se que a 2ª parte também está.
- (D) Enquanto a 1ª parte está incorreta, sabe-se que a 2ª parte não está.

**Questão 27.** O Regime Jurídico dos Servidores Públicos do Município traz que é proibido ao servidor qualquer ação ou omissão capaz de comprometer a dignidade e o decoro da função pública, ferir a disciplina e a hierarquia, prejudicar a eficiência do serviço ou causar dano à Administração Pública, especialmente por, EXCETO:

- (A) Promover manifestação de apreço ou despreço no recinto da repartição.
- (B) Exercer quaisquer atividades que sejam incompatíveis com o exercício do cargo ou função e com o horário de trabalho.
- (C) Aceitar comissão, emprego ou pensão de Estado estrangeiro, sem licença prévia nos termos da lei.
- (D) Opor resistência justificada ao andamento de documento e processo, ou execução de serviço.

**Questão 28.** Acerca de sindicância e de processo administrativo disciplinar, analise o texto a seguir:

*Na hipótese de o relatório da sindicância concluir pela prática de crime, a autoridade competente oficiará ao Ministério Público, e remeterá cópia dos autos, independente da imediata instauração do processo administrativo disciplinar.*

Acerca do texto, pode-se afirmar que ele está, conforme o Regime Jurídico dos Servidores Públicos do Município:

- (A) Plenamente adequado, visto que observa a legislação municipal vigente.
- (B) Plenamente inadequado, visto que em nada observa a legislação municipal vigente.
- (C) Parcialmente adequado, visto que não se conclui prática de crime através de sindicância.
- (D) Parcialmente adequado, visto que não se oficia o Ministério Público em sindicância, pois se trata de processo interno à Prefeitura Municipal.

**Questão 29.** O Regime Jurídico dos Servidores Públicos do Município determina que será cassada a aposentadoria e a disponibilidade se ficar provado que o inativo, quando na atividade:

- I. Aceitou ilegalmente cargo ou função pública.
- II. Praticou falta punível com a pena de suspensão.
- III. Praticou usura, em qualquer das suas formas.

Estão CORRETAS:

- (A) Apenas I e II.
- (B) Apenas I e III.
- (C) Apenas II e III.
- (D) I, II e III.

**Questão 30.** A ação disciplinar prescreve, por exemplo, em cinco anos, quanto às infrações puníveis com demissão, cassação de aposentadoria e disponibilidade, ou destituição de função de confiança, de acordo com o Regime Jurídico dos Servidores Públicos do Município. A partir disso, analise as alternativas que seguem e assinale a que apresenta uma informação que pode ser considerada como INCORRETA.

- (A) O prazo de prescrição começará a correr da data em que a autoridade tomar conhecimento da existência da falta.
- (B) Em caso possível de interrupção de prazo prescricional, ele começará a correr novamente, no dia imediato ao da interrupção.
- (C) A falta também prevista na lei penal como crime prescreverá juntamente com este.
- (D) A abertura de sindicância ou a instauração de processo disciplinar não interrompe a prescrição.

#### CONHECIMENTOS ESPECÍFICOS

**Questão 31.** O controle interno é realizado no âmbito de cada poder ou órgão, de forma contínua e integrada, com vistas à orientação da atuação administrativa, à prevenção de irregularidades e ao aprimoramento da gestão pública. De acordo com a Constituição Federal de 1988, assinale a alternativa que NÃO corresponde à finalidade do sistema de controle interno.

- (A) Avaliar o cumprimento das metas previstas no Plano Plurianual, bem como a execução dos programas de governo e dos orçamentos.
- (B) Comprovar a legalidade e avaliar os resultados, quanto à eficácia e à eficiência, da gestão orçamentária, financeira e patrimonial.
- (C) Exercer o controle das operações de crédito, avais e garantias, bem como dos direitos e haveres.
- (D) Representar ao poder competente acerca de irregularidades ou abusos apurados.

**Questão 32.** Um auditor governamental federal realizou auditoria operacional em um programa de habitação popular em pequenos municípios. Ao visitar unidades entregues há um ano, constatou qualidade física superior à registrada nos relatórios. Entretanto, questionários aplicados aos beneficiários indicaram alta insatisfação com a localização dos imóveis, pois eram distantes de serviços essenciais. Em um grupo focal, surgiram relatos de abandono das moradias por dificuldade de acesso ao trabalho, informação essa que não foi captada nos questionários. Diante dessas diferentes percepções, qual procedimento o auditor deve adotar para consolidar conclusões MAIS consistentes, assegurando MAIOR confiabilidade e validade?

- (A) Desconsiderar os dados do grupo focal, por seu caráter subjetivo.
- (B) Reaplicar os questionários com amostra ampliada, substituindo as evidências anteriores.
- (C) Aplicar a triangulação, confrontando sistematicamente as diferentes fontes de evidência.
- (D) Basear o relatório exclusivamente nas evidências documentais, por sua maior confiabilidade.

**Questão 33.** Considere que um contribuinte adquiriu um imóvel urbano pelo valor de R\$ 400.000, situado no município de Rolador (RS). Para viabilizar a operação, utilizou R\$ 200.000 de recursos próprios e financiou os R\$ 200.000 restantes por meio do Sistema Financeiro da Habitação (SFH). Com base nas disposições constantes do Código Tributário do Município de Rolador (RS), qual é o montante devido a título de Imposto sobre a Transmissão "Inter Vivos" de Bens Imóveis (ITBI) nessa operação?

- (A) R\$ 9.000.
- (B) R\$ 8.000.
- (C) R\$ 5.000.
- (D) R\$ 4.000.

**Questão 34.** De acordo com a Lei de Responsabilidade Fiscal (LRF), julgue os itens a seguir:

- I. A Lei Orçamentária Anual estabelecerá normas relacionadas ao controle de custos e à avaliação dos resultados dos programas financiados com recursos oriundos dos orçamentos.
- II. A Lei de Diretrizes Orçamentárias deverá estabelecer o valor e as condições para a utilização da reserva de contingência.
- III. O anexo de metas fiscais deverá apresentar a evolução do patrimônio líquido nos últimos três exercícios, destacando a origem e a aplicação dos recursos provenientes da alienação de ativos.

Estão CORRETOS:

- (A) I, II e III.
- (B) Apenas os itens I e II.
- (C) Apenas os itens I e III.
- (D) Apenas os itens II e III.

**Questão 35.** Com base na Estrutura Conceitual da Contabilidade, analise as assertivas abaixo e julgue-as em Verdadeiras (V) ou Falsas (F):

- ( ) Os relatórios financeiros de propósito geral têm por objetivo evidenciar o valor econômico da entidade que reporta.
- ( ) A informação financeira é considerada útil quando possui capacidade de influenciar decisões, seja por seu valor preditivo, confirmatório ou ambos.
- ( ) A comparabilidade das informações financeiras é aprimorada quando eventos ou fenômenos distintos são apresentados de forma similar.

Qual alternativa preenche, CORRETAMENTE, de cima para baixo, os parênteses acima?

- (A) F – V – F.
- (B) F – V – V.
- (C) V – F – V.
- (D) V – V – F.

**Questão 36.** Considere que um Município celebrou um contrato administrativo com empresa especializada para a execução de serviços de reforma e conservação em sua sede administrativa, pelo valor global de R\$ 220.000,00. A ordem de início dos serviços foi expedida em 22/10/2025, e a execução foi concluída em 22/12/2025, data em que também foi emitida a respectiva nota fiscal. Entretanto, o atesto da efetiva execução dos serviços pelo Município ocorreu apenas em 08/01/2026. O pagamento, por sua vez, foi realizado em 06/01/2026, portanto, em momento anterior ao atesto formal da despesa. Diante desse contexto, em 31/12/2025, é CORRETO afirmar que essa despesa foi inscrita em restos a pagar:

- (A) Não processados em liquidação.
- (B) Processados a liquidar.
- (C) Não processados a liquidar.
- (D) Processados em liquidação.

**Questão 37.** Com base no Manual de Demonstrativos Fiscais, a gestão de riscos fiscais é composta por seis funções necessárias. O Anexo de Riscos Fiscais, especificamente, dá transparência a apenas algumas dessas funções, enquanto as demais podem ser tratadas em audiências públicas. Diante disso, assinale a alternativa que identifica CORRETAMENTE as funções contempladas por esse Anexo.

- (A) Mensuração da exposição ao risco, implementação de mecanismos de controle e monitoramento contínuo.
- (B) Identificação do tipo de risco e da exposição, mensuração ou quantificação dessa exposição e decisão estratégica sobre as opções para enfrentar o risco.
- (C) Identificação do tipo de risco, estimativa do grau de tolerância das contas públicas e monitoramento contínuo da exposição.
- (D) Implementação de condutas de mitigação, monitoramento contínuo e decisão estratégica sobre as opções para enfrentar o risco.

**Questão 38.** Com fundamento na Lei Federal nº 13.019/2014, que estabelece o regime jurídico das parcerias entre a Administração Pública e as Organizações da Sociedade Civil, assinale a alternativa que indica CORRETAMENTE o instrumento jurídico utilizado para formalizar parcerias destinadas à consecução de finalidades de interesse público e recíproco, sem a transferência de recursos financeiros.

- (A) Acordo de cooperação.
- (B) Termo de colaboração.
- (C) Convênio.
- (D) Termo de fomento.

---

**Questão 39.** Uma entidade reconheceu, em sua escrituração contábil, um lançamento no valor de R\$ 350.000,00, debitando uma conta do Ativo Imobilizado e creditando uma conta do Patrimônio Líquido. De acordo com as normas contábeis e o Método das Partidas Dobradas, tal registro indica que a entidade:

- (A) Integralizou capital social mediante a incorporação de bens do ativo imobilizado.
- (B) Adquiriu máquinas e equipamentos com pagamento à vista.
- (C) Reconheceu uma obrigação futura decorrente da aquisição de ativos.
- (D) Integralizou capital social mediante aporte em numerário.

---

**Questão 40.** De acordo com a Constituição Federal de 1988, com as alterações introduzidas pela Emenda Constitucional nº 132/2023, assinale a alternativa CORRETA no que se refere à uniformidade das alíquotas do Imposto sobre Bens e Serviços (IBS).

- (A) O IBS terá alíquotas livremente diferenciadas entre bens e serviços, conforme definição em lei complementar nacional, em razão do princípio da seletividade.
- (B) Cada ente federativo fixará sua alíquota própria, a qual poderá variar conforme o tipo de operação com bens ou serviços, independentemente de previsão constitucional específica.
- (C) A alíquota fixada por cada ente federativo será aplicada de forma uniforme a todas as operações com bens e serviços, admitidas apenas as exceções previstas na Constituição Federal.
- (D) O IBS terá alíquota única nacional fixada por lei complementar, vedada a instituição de alíquotas próprias pelos Estados, Distrito Federal e Municípios.