



CÂMARA MUNICIPAL DA ESTÂNCIA TURÍSTICA DE SÃO ROQUE

ESTADO DE SÃO PAULO

CONCURSO PÚBLICO

007. PROVA OBJETIVA

OFICIAL LEGISLATIVO

- ◆ Você recebeu sua folha de respostas e este caderno contendo 50 questões objetivas.
- ◆ Confira seus dados impressos na capa deste caderno e na folha de respostas.
- ◆ Quando for permitido abrir o caderno, verifique se está completo ou se apresenta imperfeições. Caso haja algum problema, informe ao fiscal da sala para a devida substituição deste caderno.
- ◆ Leia cuidadosamente todas as questões e escolha a resposta que você considera correta.
- ◆ Marque, na folha de respostas, com caneta de tinta preta, a letra correspondente à alternativa que você escolheu.
- ◆ A duração da prova é de 3 horas, já incluído o tempo para o preenchimento da folha de respostas.
- ◆ Só será permitida a saída definitiva da sala e do prédio após transcorridos 2 horas do tempo de duração da prova.
- ◆ Deverão permanecer em cada uma das salas de prova os 3 últimos candidatos, até que o último deles entregue sua prova, assinando termo respectivo.
- ◆ Ao sair, você entregará ao fiscal a folha de respostas e este caderno.
- ◆ Até que você saia do prédio, todas as proibições e orientações continuam válidas.

AGUARDE A ORDEM DO FISCAL PARA ABRIR ESTE CADERNO.

Nome do candidato _____

RG _____

Inscrição _____

Prédio _____

Sala _____

Carteira _____

CONHECIMENTOS GERAIS

LÍNGUA PORTUGUESA

Leia o texto a seguir para responder às questões de **01** a **07**:

A escalada de feminicídios e casos de violência contra a mulher no Brasil coloca em evidência a centralidade da misoginia na organização da vida social e a forma como a internet tem servido como catalisadora de discursos e práticas antifemininas. Esses episódios não são exceções, mas expressões de uma estrutura que articula cultura, política, redes sociais e relações cotidianas, produzindo condições para que a violência de gênero se reproduza e se intensifique.

O movimento *redpill** não é apenas um conjunto de opiniões controversas sobre relações amorosas; ele constitui um aparato ideológico estruturado. Estes grupos funcionam como ambientes de radicalização afetiva e cognitiva, nos quais homens são incentivados a interpretar mulheres como manipuladoras, interesseiras ou inimigas em potencial. Nesse contexto, influenciadores *redpill* não apenas consomem esse discurso — eles o propagam, performam e monetizam. Essa posição de referência dentro da comunidade exige que reafirmem continuamente valores como autoridade masculina, desprezo por mulheres “independentes” e defesa da disciplina emocional pela via da frieza ou da intimidação.

O movimento sustenta que os homens foram supostamente ‘despojados’ de sua posição natural de poder na sociedade. Essa narrativa produz a masculinidade ressentida: homens que transformam frustração, insegurança e perda de controle em hostilidade direcionada às mulheres. A socióloga brasileira Eva Blay, pioneira nos estudos sobre feminicídio, sublinha que o assassinato de mulheres não decorre de explosões súbitas, mas de trajetórias de controle e disciplinamento dos corpos femininos. A internet amplifica essas trajetórias ao estruturar comunidades que reforçam narrativas de posse, ciúme e vigilância. Assim, o ambiente digital funciona como terreno de incubação, enquanto o mundo físico se torna o espaço em que essas violências são executadas.

(Bruna Camilo. “Redpill, ressentimento e feminicídio”, 08.12.2025. Disponível em: <https://www.cartacapital.com.br/opiniao>. Adaptado)

*movimento *redpill*: ideologia online, predominantemente masculina, que surgiu nos Estados Unidos e ganhou força no Brasil, disseminando discursos misóginos, machistas e de ódio contra mulheres.

01. Conforme as informações do texto, pode-se afirmar que o movimento *redpill*

- (A) estimula um comportamento de desprezo em relação às mulheres.
- (B) orienta explicitamente como devem ser praticados feminicídios.
- (C) refuta a possibilidade de que homens voltem a ter voz na sociedade.
- (D) responsabiliza as mulheres pelos casos de violência dos quais são vítimas.
- (E) objetiva construir uma narrativa de igualdade entre homens e mulheres.

02. No texto, defende-se a ideia de que a internet

- (A) deveria ser regulamentada para que discursos e práticas de violência contra as mulheres sejam controlados e excluídos das redes sociais.
- (B) é inconveniente ao preconceito contra as mulheres, uma vez que valoriza discursos feministas que enaltecem a trajetória de mulheres independentes.
- (C) é um ambiente que estimula um discurso de superioridade masculina e favorece a reprodução da misoginia e da violência de gênero.
- (D) tem papel central no combate contra a violência de gênero, por ser um ambiente profícuo também para construção de narrativas feministas.
- (E) constitui um ambiente democrático no qual influenciadores podem ser confrontados por opiniões divergentes daquelas que defendem.

03. Analise os seguintes trechos:

- “O movimento *redpill* não é apenas um conjunto de opiniões **controversas** sobre relações amorosas...” (2º parágrafo)
- “... o assassinato de mulheres não decorre de explosões **súbitas**...” (3º parágrafo)

Considerando o contexto em que estão inseridos, os termos sublinhados significam, respectivamente:

- (A) autênticas; prováveis.
- (B) polêmicas, repentinas.
- (C) categóricas; imprevistas.
- (D) questionáveis; esperadas.
- (E) indiscutíveis; inesperadas.

04. Assinale a alternativa em que o termo destacado está empregado em sentido figurado.

- (A) “... coloca em evidência a **centralidade** da misoginia na organização da vida social...” (1º parágrafo)
- (B) “Estes grupos funcionam como ambientes de **radicalização** afetiva...” (2º parágrafo)
- (C) “... exige que reafirmem continuamente valores como **autoridade** masculina...” (2º parágrafo)
- (D) “... homens que transformam frustração, insegurança e perda de controle em **hostilidade**...” (3º parágrafo)
- (E) “Assim, o ambiente digital funciona como terreno de **incubação**...” (3º parágrafo)

05. No trecho do 2º parágrafo “Nesse contexto, influenciadores *redpill* não apenas consomem esse discurso — eles o propagam, performam e monetizam”, o travessão e o pronome “eles” podem ser substituídos, sem prejuízo de sentido, pela conjunção
- (A) mas.
 (B) quando.
 (C) embora.
 (D) assim que.
 (E) contanto que.
06. No 3º parágrafo, os dois-pontos foram empregados para anunciar uma
- (A) citação.
 (B) enumeração.
 (C) explicação.
 (D) correção.
 (E) dúvida.
07. No trecho “O movimento sustenta que os homens foram **supostamente** ‘despojados’ de sua posição natural de poder na sociedade.” (3º parágrafo), o termo destacado indica uma
- (A) negação.
 (B) certeza.
 (C) hipótese.
 (D) intensidade.
 (E) afirmação.

Leia a tirinha a seguir para responder às questões 08 e 09:



(Disponível em: <https://www.tumblr.com/tirasarmandinho>)

08. De acordo com a tirinha, machismo e feminismo são conceitos
- (A) contrários, mas não indispensáveis.
 (B) controversos, mas não relevantes.
 (C) conciliáveis, mas não compatíveis.
 (D) divergentes, mas não antagônicos.
 (E) necessários, mas não excludentes.
09. Assinale a alternativa que está em conformidade com as normas de concordância e colocação pronominal.
- (A) Erroneamente associam-se o feminismo ao machismo, o qual defende que homens são superiores às mulheres.
 (B) O feminismo, que constitui-se a partir da igualdade entre homens e mulheres, são refutadas pelo machismo.
 (C) Ainda que se defenda a igualdade entre homens e mulheres, são opostas ao machismo o feminismo.
 (D) No machismo, acredita-se que os homens sejam superiores às mulheres, diferentemente do feminismo.
 (E) Não se pode afirmar que o machismo e o feminismo seja conceitualmente oposto.
10. Leia o texto a seguir:

Juliana Vargas, professora do Departamento de Estudos Especializados da Universidade Federal do Rio Grande do Sul (UFRGS), afirma que, com o aumento de notícias de violências _____ mulheres, o papel da educação é essencial no combate _____ violência de gênero, devendo _____ escola problematizar violências mínimas e trazer mais discussões _____ igualdade de gênero tanto para a formação dos alunos quanto para os professores.

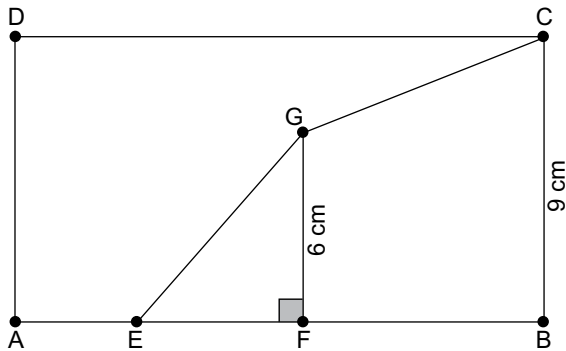
(Maria Clara Pinheiro. “Por que 8 de março é o Dia Internacional da Mulher? Conheça a origem da data”, 08.03.2026. Disponível em: <https://valor.globo.com>. Adaptado)

Em conformidade com o sentido do texto e a norma padrão, as lacunas devem ser preenchidas, respectivamente, com

- (A) das ... a ... a ... sob
 (B) com as ... à ... à ... sob
 (C) pelas ... à ... à ... sobre
 (D) perante as a ... a ... sobre
 (E) contra as... à ... a ... sobre

11. Durante certo dia, em um posto de pedágio, para cada 36 veículos que passaram no sentido interior, outros 55 veículos seguiram no sentido capital. Se, nesse dia, 45.210 veículos passaram nesse pedágio indo para a capital, o número de veículos que se deslocaram indo para o interior foi
- (A) 26.304.
 - (B) 27.948.
 - (C) 29.592.
 - (D) 31.236.
 - (E) 32.880.
12. Considere que, em uma central de atendimento ao cliente, cada operador recebe um mesmo número de chamadas por hora. Certo dia, nessa central, 15 operadores trabalharam juntos ininterruptamente, por um período de 3 horas, e atenderam 315 clientes no total. Para o dia seguinte, é previsto que 1.260 clientes sejam atendidos, em um período de 4 horas. Para tanto, o número de operadores disponíveis para atendimento, neste período, deverá ser, no mínimo, igual a
- (A) 35.
 - (B) 36.
 - (C) 42.
 - (D) 45.
 - (E) 60.
13. Uma gincana foi disputada em três fases, contando com a participação de equipes formadas por 3 pessoas e de equipes formadas por 8 pessoas. Na primeira fase da gincana, foram eliminadas 16 equipes, num total de 108 pessoas. Na segunda fase da gincana, o número de equipes eliminadas compostas por 3 pessoas foi o dobro do número de equipes eliminadas compostas por 8 pessoas, de maneira que, após as duas primeiras fases, o total de equipes eliminadas que eram formadas por 8 pessoas excedeu em 2 o total de equipes eliminadas que eram formadas por 3 pessoas.
- Sabendo que, nessa gincana, o total de participantes que chegaram à terceira fase foi um quinto do número inicial de pessoas, o total de participantes que iniciaram a disputa foi
- (A) 240.
 - (B) 300.
 - (C) 360.
 - (D) 420.
 - (E) 480.

14. Os pontos E e F estão sobre o lado AB do retângulo ABCD, de maneira que o comprimento do segmento FB excede o comprimento do segmento EF em 1 cm, e o comprimento do segmento EF excede o comprimento do segmento AE em 1 cm, conforme mostra a figura a seguir:



fora de escala

Sabendo que a área do trapézio retângulo BCGF excede a área do triângulo retângulo EFG em 30 cm^2 , a área do pentágono AEGCD é

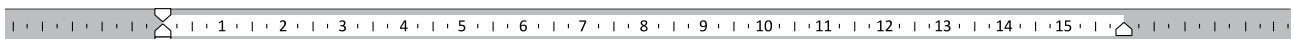
- (A) 55 cm^2 .
 (B) 60 cm^2 .
 (C) 65 cm^2 .
 (D) 70 cm^2 .
 (E) 75 cm^2 .
15. José vendeu um carro para um amigo em 3 parcelas, sendo que o valor da primeira foi o triplo do valor da segunda, enquanto que o valor da terceira foi R\$ 8.700,00 a mais do que o valor da segunda parcela e a média aritmética dos valores dessas três parcelas é igual a R\$ 9.100,00. O valor da menor dessas parcelas é igual a

- (A) R\$ 3.600,00.
 (B) R\$ 3.720,00.
 (C) R\$ 3.840,00.
 (D) R\$ 3.900,00.
 (E) R\$ 3.960,00.

16. O MS-Windows 11 possui um acessório chamado ferramenta de captura que permite recortar, editar e salvar prints de tela facilmente. Por padrão, quando o usuário deseja salvar o print coletado, essa ferramenta salva o print como um arquivo na seguinte biblioteca do computador:

- (A) Documentos.
- (B) Imagens.
- (C) Músicas.
- (D) Desktop.
- (E) Downloads.

17. Observe o texto digitado no MS-Word 2024, em sua configuração original, exibido a seguir:



Em 2015, alterações na legislação aplicável e nas normas do INSS passaram a permitir uma margem consignável de 5% em benefícios previdenciários exclusivamente para cartões de crédito consignado utilizados por aposentados e pensionistas do INSS e, em 2016, o Sistema Integrado de Administração de Recursos Humanos (SIAPE), publicou uma resolução que estabeleceu uma margem consignável exclusiva para seus funcionários que usassem cartões de crédito consignado. Tais medidas criaram um enorme potencial de crescimento.

Assinale a alternativa correta quanto à disposição aplicada no texto do parágrafo. O texto foi

- (A) alinhado à margem esquerda.
- (B) centralizado na página.
- (C) alinhado à margem direita.
- (D) distribuído uniformemente entre as margens.
- (E) distribuído uniformemente entre o cabeçalho e rodapé da página.

18. Observe a planilha do MS-Excel 2024 a seguir, em sua configuração original, que mostra os salários (em R\$ mil) de determinados cargos da prefeitura:

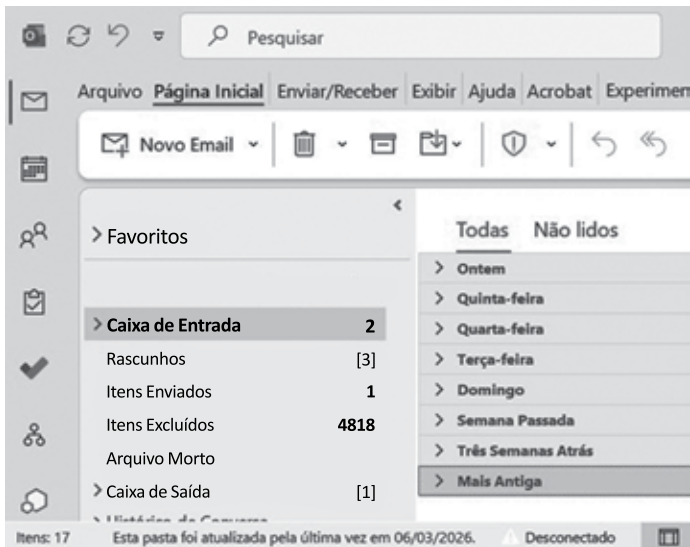
	A	B	C
1	Cargos	Horas	Salários (R\$ mil)
2	Analista de Contratos	160	R\$ 8,00
3	Assistente de Licitações	120	R\$ 6,00
4	Comprador	200	R\$ 10,00
5	Analista Operacional	40	R\$ 4,00
6	Assistente Administrativo	80	R\$ 2,00

Considerando a planilha apresentada, assinale a alternativa que contém o cargo cujo salário foi determinado pela fórmula:

$=SE(MÉDIA(B2:B6)<120;SOMA(B2;B6)*100+3000;SOMA(B2:B6)*10-2000)$

- (A) Analista de Contratos.
- (B) Assistente de Licitações.
- (C) Comprador.
- (D) Analista Operacional.
- (E) Assistente Administrativo.

19. Observe a figura a seguir:



Considerando o MS-Outlook 2024, em sua configuração original, apresentado parcialmente na figura, assinale a alternativa correta.

- (A) A caixa de entrada possui 2 tarefas no total.
- (B) A caixa de entrada possui 2 mensagens no total.
- (C) A caixa de saída mostra uma mensagem ainda não enviada.
- (D) A caixa de saída mostra uma mensagem recém recebida.
- (E) A pasta rascunhos possui 3 mensagens compartilhadas com destinatários externos.

20. O Microsoft Teams permite distribuir os chats em seções, que podem ser criadas, renomeadas e excluídas pelo próprio usuário para auxiliar na organização e na pesquisa dos diversos chats abertos por ele.

Assinale a alternativa que contém a seção criada pelo próprio Microsoft Teams e disponível para uso em sua configuração original.

- (A) Canais.
- (B) Equipes.
- (C) Grupos.
- (D) Atividades.
- (E) Favoritos.

LEGISLAÇÃO

21. Na hipótese de a Câmara Municipal pretender adquirir um imóvel para instalação de uma determinada repartição municipal e um automóvel de passeio, nos termos do que dispõe a Lei Orgânica do Município (Lei nº 1.801, de 05 de abril de 1990), é correto afirmar que

- (A) a aquisição do imóvel pode ser feita por compra ou permuta, mas dependerá de prévia avaliação e autorização legislativa, enquanto a aquisição de veículos de passeio não é permitida.
- (B) ambas aquisições devem ser efetivadas por compra, vedada permuta, e dependem de prévia avaliação e autorização legislativa, mas a aquisição do automóvel dependerá de justificativa específica.
- (C) a aquisição do imóvel pode ser feita por compra ou permuta e dependerá de prévia avaliação e autorização legislativa, enquanto a aquisição do automóvel deve ser devidamente justificada e, também, dependerá de prévia autorização legislativa.
- (D) ambas aquisições podem ser efetivadas por compra ou permuta e dependem de prévia avaliação e autorização legislativa, mas a aquisição do automóvel dependerá de justificativa específica.
- (E) a aquisição do imóvel dependerá de prévia avaliação e autorização legislativa, podendo ser efetivada por compra ou permuta, enquanto a compra do automóvel dispensa avaliação e a autorização legislativa.

- 22.** Suponha que a Prefeitura Municipal de São Roque pretenda outorgar a terceiros a permissão de um serviço público a título precário. Nessa situação hipotética, segundo o que dispõe a Lei Orgânica Municipal, é correto afirmar que essa permissão
- (A) será outorgada por decreto do prefeito, após edital de chamamento de interessados para escolha do melhor pretendente.
 - (B) é vedada pela lei orgânica, uma vez que todo e qualquer serviço público somente pode ser executado pelo Município.
 - (C) poderá ser outorgada por decreto do prefeito, após o devido processo de licitação, por meio da modalidade de diálogo competitivo.
 - (D) deverá autorizar a outorga por meio de lei ordinária a ser votada e aprovada pela Câmara Municipal.
 - (E) somente poderá ser concedida a título definitivo, não precário, por meio do diálogo competitivo entre os interessados.
- 23.** Tradicional equipe esportiva, não profissional, mas de alto rendimento, sediada no Município de São Roque, objetivando participação de competições representando o Município, pretende buscar patrocínio de pessoas físicas e jurídicas, para posterior recebimento por essas de incentivos fiscais do Poder Executivo Municipal. Segundo o que dispõe a Lei Orgânica Municipal, essa pretensão da equipe esportiva
- (A) poderá ser obtida mediante requerimento ao prefeito que, por decreto, poderá reembolsar os respectivos patrocinadores por meio de desconto nos tributos devidos.
 - (B) não poderá ser viabilizada por meio de recursos públicos, sob pena de responsabilidade das autoridades envolvidas, devendo o patrocínio ser exclusivamente privado.
 - (C) poderá ser viabilizada, desde que haja lei municipal, de iniciativa do Poder Executivo, mediante o devido processo regulamentar aprovado pelos órgãos competentes.
 - (D) não poderá ser concretizada por meio de incentivos fiscais municipais, uma vez que esse benefício somente pode ser concedido a equipes esportivas profissionais.
 - (E) somente poderá ser efetivada, por decreto do Prefeito, por meio de incentivos fiscais a pessoas jurídicas, não sendo permitido, porém, incentivos fiscais a pessoas físicas.
- 24.** Segundo o disposto no Regimento Interno da Câmara Municipal (Resolução nº 13/1991), assinale a alternativa correta a respeito das funções da Câmara Municipal.
- (A) A Câmara tem funções legislativas e é órgão auxiliar do Tribunal de Contas do Estado nas atribuições de fiscalização externa dos atos do Poder Executivo.
 - (B) A função legislativa consiste em deliberar por meio de leis e emendas sobre todas as matérias constantes de atos normativos municipais e estaduais que interessem ao cidadão.
 - (C) A função de assessoramento consiste em propor projetos de leis e atos normativos de interesse público ao Executivo, mediante autorização expressa dos vereadores.
 - (D) A função administrativa é restrita à sua organização interna, à regulamentação de seu funcionalismo e à estruturação e direção de seus serviços auxiliares.
 - (E) A função de controle, de caráter político-administrativo, se exerce sobre o prefeito, secretários, vereadores e os agentes administrativos sujeitos à ação hierárquica.
- 25.** Nos termos do Regimento Interno da Câmara Municipal (Resolução nº 13, de 30 de outubro 1991), durante o trâmite de um processo legislativo, se este for distribuído a mais de uma Comissão, cada qual dará seu parecer separadamente, mas deverá ser ouvida em primeiro lugar a
- (A) Comissão Permanente da Presidência da Casa Legislativa.
 - (B) Assessoria Jurídica da Câmara Municipal.
 - (C) Comissão de Orçamento e Finanças e Contabilidade.
 - (D) Comissão que recebeu primeiro o processo.
 - (E) Comissão de Constituição, Justiça e Redação.

CONHECIMENTOS ESPECÍFICOS

- 26.** A administração pública direta comumente é composta por espécies distintas de órgãos públicos, a exemplo do que pode ser observado na estrutura organizacional do município de São Roque. Um exemplo de órgão público independente diz respeito
- (A) à Câmara Municipal.
 - (B) à Procuradoria Geral do Município.
 - (C) à Secretaria Municipal de Finanças.
 - (D) ao Departamento Municipal de Administração.
 - (E) à Ouvidoria Municipal.
- 27.** As autarquias – a exemplo do São Roque Prev, Regime Próprio de Previdência Social (RPPS) dos servidores públicos municipais – possuem como característica comum
- (A) configurar-se como pessoas jurídicas de direito privado.
 - (B) realizar contratação de servidores públicos por meio do regime celetista.
 - (C) ser formadas por capital público e privado.
 - (D) ter autonomia financeira, contratando sem licitação como regra.
 - (E) estar vinculadas, não subordinadas, a órgãos da administração direta.
- 28.** A entidade estadual responsável pela fiscalização dos serviços de saneamento básico (água e esgoto) prestados pela Sabesp no Município de São Roque é a Agência Reguladora de Serviços Públicos do Estado de São Paulo (Arsp). As agências reguladoras, diferentemente das agências executivas,
- (A) têm um plano estratégico de reestruturação e de desenvolvimento institucional em andamento.
 - (B) celebram contrato de gestão com a respectiva secretaria a quem estão subordinadas.
 - (C) possuem dirigentes com mandatos fixos e estabilidade.
 - (D) são comumente espécies de empresas públicas.
 - (E) recebem essa qualificação, por meio de lei, após preencher os requisitos necessários.
- 29.** A Estância Turística de São Roque possui serviços públicos concedidos à iniciativa privada, a exemplo do serviço de transporte coletivo e do serviço funerário. Uma das características das concessões de serviços públicos, que as diferenciam das permissões de serviços públicos, diz respeito
- (A) a quem pode ser contratado, processo no qual pessoas físicas ou jurídicas podem habilitar-se.
 - (B) à modalidade da licitação, que ocorre por meio de concorrência ou diálogo competitivo.
 - (C) ao instrumento da contratação, utilizando-se o contrato de adesão.
 - (D) à natureza da contratação, que é precária, ou seja, pode ser revogada unilateralmente.
 - (E) à forma de prestação de serviço, devendo ser adequada ao pleno atendimento dos usuários.
- 30.** Um serviço público municipal foi interrompido. Na Administração Pública brasileira, atenta-se contra o princípio da continuidade desse serviço público o seu interrompimento
- (A) em situações de emergência, independentemente de aviso prévio.
 - (B) por razões de ordem técnica, após aviso prévio.
 - (C) por razões de segurança das instalações, após aviso prévio.
 - (D) em razão de interrupção da totalidade do serviço público essencial, após aviso prévio.
 - (E) por inadimplemento do usuário, após aviso prévio e em data legalmente permitida.
- 31.** Na hipótese de um ato administrativo, inicialmente lícito e válido, tornar-se contrário ao direito devido à norma subsequente substituir a norma anterior, ocorre a extinção desse ato administrativo em razão da denominada “ilegalidade superveniente”.
- A título de exemplo, uma nova lei municipal de zoneamento, ao proibir um tipo de atividade em determinado local, extingue o ato administrativo por
- (A) caducidade.
 - (B) contraposição.
 - (C) cassação.
 - (D) anulação.
 - (E) revogação.

- 32.** Valendo-se da Lei de Acesso à Informação (LAI), Diana, por meio do portal eletrônico de uma Câmara Municipal, apresentou pedido de acesso à informação, identificando-se e especificando a informação requerida. O órgão, por não ter a informação disponível de forma imediata, comunicou à Diana a data, o local e o modo para se realizar a consulta em prazo não superior a
- (A) 10 dias.
 - (B) 15 dias.
 - (C) 20 dias.
 - (D) 25 dias.
 - (E) 30 dias.
- 33.** Henrique, servidor público da administração direta e com destacada atuação social, foi convidado por um partido político para filiar-se e candidatar-se a vereador nas próximas eleições municipais. Caso Henrique filie-se, candidate-se e seja eleito,
- (A) não havendo compatibilidade de horários, seu tempo de serviço público será interrompido.
 - (B) não havendo compatibilidade de horários, poderá optar por sua remuneração de servidor público ou de vereador.
 - (C) não havendo compatibilidade de horários, deverá mudar de regime de previdência social.
 - (D) mesmo havendo compatibilidade de horários, ficará afastado de seu cargo público.
 - (E) havendo compatibilidade de horários, receberá exclusivamente a remuneração de maior valor.
- 34.** Para a eleição de vereadores, o Brasil adota, para todos os municípios, o sistema eleitoral
- (A) majoritário absoluto.
 - (B) majoritário simples ou relativo.
 - (C) distrital misto.
 - (D) proporcional de lista fechada.
 - (E) proporcional de lista aberta.
- 35.** Contados a partir da ocorrência do fato ou, no caso de infrações permanentes, do dia em que cessou a permanência, a ação para a aplicação das sanções previstas na Lei de Improbidade Administrativa (LIA), que passou por significativas modificações no ano de 2021, prescreve em
- (A) três anos.
 - (B) cinco anos.
 - (C) sete anos.
 - (D) oito anos.
 - (E) dez anos.
- 36.** Entre as condições de elegibilidade de vereadores para as câmaras municipais brasileiras, encontra-se a necessidade de idade mínima de
- (A) 16 anos.
 - (B) 18 anos.
 - (C) 19 anos.
 - (D) 20 anos.
 - (E) 21 anos.
- 37.** Em uma câmara municipal, a espécie normativa que formaliza decisões exclusivas do poder Legislativo, com efeitos externos e sem precisar da sanção do prefeito – a exemplo da aprovação das contas do chefe do Poder Executivo municipal –, diz respeito a
- (A) resoluções.
 - (B) leis complementares.
 - (C) decretos legislativos.
 - (D) leis ordinárias.
 - (E) leis delegadas.
- 38.** Entre as comissões legislativas, encontram-se as Comissões Parlamentares de Inquérito (CPIs), que podem ser criadas pelas câmaras municipais para apuração, em prazo certo, de determinado fato da Administração Pública municipal, comumente mediante requerimento de
- (A) maioria absoluta dos vereadores.
 - (B) maioria simples dos vereadores.
 - (C) 2/3 dos vereadores.
 - (D) 1/3 dos vereadores.
 - (E) 3/5 dos vereadores.

- 39.** Por determinação constitucional, para projetos de lei de iniciativa popular, de interesse especificamente municipal, a manifestação mínima deve corresponder a
- (A) 3% do eleitorado local.
 - (B) 5% do eleitorado local.
 - (C) 7% do eleitorado local.
 - (D) 9% do eleitorado local.
 - (E) 10% do eleitorado local.
- 40.** No poder Legislativo brasileiro, seja ele federal, estadual ou municipal, uma sessão legislativa ordinária equivale ao período de
- (A) quatro anos.
 - (B) dois anos.
 - (C) um dia.
 - (D) um semestre.
 - (E) um ano.
- 41.** O contribuinte, ator social com importante papel na fiscalização dos municípios, tem anualmente à disposição para exame e apreciação as contas municipais, o qual poderá questionar a legitimidade delas, com base na Constituição Federal brasileira de 1988 e nos termos da lei, durante
- (A) 30 dias.
 - (B) 40 dias.
 - (C) 50 dias.
 - (D) 60 dias.
 - (E) 90 dias.
- 42.** Em municípios com população de até 100.000 habitantes – a exemplo do Município de São Roque, que possui 79.484 habitantes de acordo com o Censo 2022 –, o total da despesa do poder Legislativo não poderá ultrapassar o seguinte percentual, relativo ao somatório da receita tributária e das transferências previstas constitucionalmente, efetivamente realizado no exercício anterior:
- (A) 3,5%
 - (B) 4,5%
 - (C) 5%
 - (D) 6%
 - (E) 7%
- 43.** Para a composição das câmaras municipais em municípios com mais de 50.000 habitantes e de até 80.000 habitantes – a exemplo do Município de São Roque, que possui 79.484 habitantes de acordo com o Censo 2022 –, será observado o limite máximo de
- (A) 11 vereadores.
 - (B) 13 vereadores.
 - (C) 15 vereadores.
 - (D) 17 vereadores.
 - (E) 19 vereadores.
- 44.** O subsídio dos vereadores é fixado pelas respectivas câmaras municipais em cada legislatura para a subsequente, observando-se, entre outros critérios, o limite máximo definido na Constituição Federal brasileira de 1988. Para municípios de cinquenta mil e um a cem mil habitantes – a exemplo do Município de São Roque, que possui 79.484 habitantes de acordo com o Censo 2022 –, o subsídio máximo dos vereadores corresponde a
- (A) 30% do subsídio dos deputados estaduais.
 - (B) 40% do subsídio dos deputados estaduais.
 - (C) 45% do subsídio dos deputados estaduais.
 - (D) 50% do subsídio dos deputados estaduais.
 - (E) 55% do subsídio dos deputados estaduais.
- 45.** Da receita pública de cada um dos municípios brasileiros, o total da despesa com a remuneração dos vereadores não pode ultrapassar o montante de
- (A) 5%
 - (B) 7%
 - (C) 9%
 - (D) 10%
 - (E) 15%

Considere o *Manual de Redação da Presidência da República* para responder às questões de 46 a 50.

Leia o texto:

São Roque, 15 de março de 2023.

[NOME]

Prefeito do Município de São Roque

Senhor Prefeito,

Cumprimentando-o cordialmente, informo a _____ que a Secretaria Municipal de Educação pretende promover, no próximo mês, a “Semana Municipal de Incentivo à Leitura”, iniciativa voltada ao estímulo de práticas de leitura nas escolas da rede pública municipal.

Considerando a relevância da iniciativa, solicito o apoio institucional dessa Prefeitura, especialmente quanto à disponibilização de espaço público para a cerimônia de abertura do evento e ao suporte logístico necessário à participação das unidades escolares.

_____,

[NOME]

Secretária Municipal de Educação

46. Considerando que o texto é trecho de um documento no padrão ofício, assinale a alternativa que preenche corretamente as lacunas.

- (A) A Sua Excelência o Senhor ... V. Exa. ... Respeitosamente
- (B) A Vossa Excelência o Senhor ... S. Excia. ... Atenciosamente
- (C) Excelentíssimo Senhor ... V. Sa. ... Cordialmente
- (D) Prezado Senhor ... V. Ex^a. ... Atenciosamente
- (E) Ao Senhor ... V. Excia. ... Cordialmente

47. Considerando as recomendações sobre o formato do assunto de um ofício, assinale a alternativa correta.

- (A) **Assunto – pedido de apoio para evento educacional**
- (B) Assunto: apoio institucional para evento educacional no município de São Vicente
- (C) Assunto: **Solicita-se apoio a evento educacional.**
- (D) Assunto: Solicitamos apoio para realizar a semana municipal de leitura nas escolas públicas.
- (E) **Assunto: Solicitação de apoio institucional a evento.**

48. Assinale a alternativa em que se verifica o mecanismo de coesão da elipse.

- (A) Embora a Secretaria Municipal de Educação enfrente limitações orçamentárias, este órgão promoverá a Semana Municipal de Incentivo à Leitura nas escolas da rede municipal.
- (B) A Secretaria Municipal de Educação organizará oficinas de leitura nas escolas; as bibliotecas públicas, encontros com autores locais.
- (C) As escolas da rede municipal sediarão oficinas de leitura; as bibliotecas públicas receberão encontros com autores.
- (D) Durante a Semana Municipal de Incentivo à Leitura, ocorrerão atividades voltadas à formação de leitores nas escolas municipais.
- (E) Estudantes da rede municipal participarão de oficinas e encontros literários durante a Semana Municipal de Incentivo à Leitura.

49. Assinale a alternativa correta no que se refere ao atributo da impessoalidade na redação oficial.

- (A) A impessoalidade consiste em evitar referências ao destinatário da comunicação, de modo que os expedientes administrativos não mencionem pessoas ou instituições específicas.
- (B) A impessoalidade exige que as comunicações administrativas sejam redigidas de forma genérica, sem identificação detalhada do assunto sobre o qual versam.
- (C) A impessoalidade decorre da ausência de impressões individuais de quem comunica, da forma impessoal como se concebe o destinatário e do caráter público do assunto tratado.
- (D) A impessoalidade impede que servidores públicos assinem documentos oficiais, pois os atos administrativos devem ser atribuídos exclusivamente ao Estado.
- (E) A redação oficial admite impressões pessoais do autor, desde que o documento trate de assunto de interesse público.

50. Considerando as recomendações do Manual de Redação da Presidência da República quanto ao emprego adequado de determinadas expressões na redação oficial, assinale a alternativa correta.

- (A) Chamei a secretária para a reunião, mas a mesma não compareceu.
- (B) O projeto foi revisto na medida em que surgiram novas demandas educacionais.
- (C) O relatório foi encaminhado junto ao Ministério da Educação para análise técnica.
- (D) A lei onde se estabelece o programa de leitura foi publicada no Diário Oficial do Município.
- (E) Os secretários não analisaram o projeto, nem tampouco apresentaram sugestões de alteração.

RASCUNHO

RASCUNHO

