

AVANÇASP



PREFEITURA MUNICIPAL DA ESTÂNCIA
CLIMÁTICA DE CUNHA/SP

PROCESSO SELETIVO
01/2025

DENTISTA

Leia atentamente as instruções abaixo

1. PROVA E FOLHA DE RESPOSTAS

- Além deste Caderno de Prova, contendo 50 (cinquenta) questões objetivas, você receberá do Fiscal de Sala:
- 01 (uma) Folha de Respostas destinada às respostas das questões objetivas. Confira se seus dados estão corretos.

2. TEMPO

- 03 (três) horas é o tempo disponível para realização da prova, já incluído o tempo para marcação da Folha de Respostas da prova objetiva;
- **01 (uma) hora** após o início da prova é possível, retirar-se da sala levando o caderno de prova;

3. INFORMAÇÕES GERAIS

- As questões objetivas têm 05 (cinco) alternativas de resposta (A, B, C, D, E) e somente **uma** delas está correta;
- Verifique se seu caderno está completo, sem repetição de questões ou falhas. Caso contrário, informe imediatamente o Fiscal da Sala, para que sejam tomadas as devidas providências;
- Confira seus dados pessoais na Folha de Respostas, especialmente nome, número de inscrição e documento de identidade e leia atentamente as instruções para preenchimento;
- O preenchimento das respostas da prova objetiva é de sua responsabilidade e não será permitida a troca de Folha de Respostas em caso de erro de marcação pelo candidato;

- Marque, na folha de respostas, com caneta de tinta azul ou preta, a letra correspondente à alternativa que você escolheu.

- Reserve tempo suficiente para o preenchimento de suas respostas. Para fins de avaliação, serão levadas em consideração apenas as marcações realizadas na Folha de Respostas da prova objetiva, não sendo permitido anotar informações relativas às respostas em qualquer outro meio que não seja o caderno de prova;

- Ao se retirar, entregue a Folha de Respostas preenchida e assinada ao Fiscal de Sala.

SERÁ ELIMINADO do presente certame o candidato que:

- a) for surpreendido, durante as provas, em qualquer tipo de comunicação com outro candidato;
- b) portar ou usar, qualquer tipo de aparelho eletrônico (calculadoras, bips/pagers, câmeras fotográficas, filmadoras, telefones celulares, smartphones, tablets, relógios, walkmans, MP3 players, fones de ouvido, agendas eletrônicas, notebooks, palmtops ou qualquer outro tipo de computador portátil, receptores ou gravadores) seja na sala de prova, sanitários, pátios ou qualquer outra dependência do local de prova;
- c) se ausentar da sala em que se realizam as provas levando consigo o Caderno de Questões e/ou a Folha de Respostas;
- d) se recusar a entregar a Folha de Respostas, quando terminar o tempo estabelecido;
- e) não assinar a Lista de Presença e/ou a Folha de Respostas.

LÍNGUA PORTUGUESA**TEXTO**

Leia o texto a seguir para responder às questões de 01 a 03.

Um apólogo

Era uma vez uma agulha, que disse a um novelo de linha:

— Por que está você com esse ar, toda cheia de si, toda enrolada, para fingir que vale alguma coisa neste mundo?

— Deixe-me, senhora.

— Que a deixe? Que a deixe, por quê? Porque lhe digo que está com um ar insuportável? Repito que sim, e falarei sempre que me der na cabeça.

— Que cabeça, senhora? A senhora não é alfinete, é agulha. Agulha não tem cabeça. Que lhe importa o meu ar? Cada qual tem o ar que Deus lhe deu. Importe-se com a sua vida e deixe a dos outros.

— Mas você é orgulhosa.

— Decerto que sou.

— Mas por quê?

— É boa! Porque coso. Então os vestidos e enfeites de nossa ama, quem é que os cose, senão eu?

— Você? Esta agora é melhor. Você é que os cose? Você ignora que quem os cose sou eu, e muito eu?

— Você fura o pano, nada mais; eu é que coso, prendo um pedaço ao outro, dou feição aos babados...

— Sim, mas que vale isso? Eu é que furo o pano, vou adiante, puxando por você, que vem atrás, obedecendo ao que eu faço e mando...

— Também os batedores vão adiante do imperador.

— Você é imperador?

— Não digo isso. Mas a verdade é que você faz um papel subalterno, indo adiante; vai só mostrando o caminho, vai fazendo o trabalho obscuro e ínfimo. Eu é que prendo, ligo, ajunto... (...)

Veio a noite do baile, e a baronesa vestiu-se. A costureira, que a ajudou a vestir-se, levava a agulha espetada no corpinho, para dar algum ponto necessário. E quando compunha o vestido da bela dama, e puxava a um lado ou outro, arregaçava daqui ou dali, alisando, abotoando, acolchetando, a linha, para mofar da agulha, perguntou-lhe:

— Ora agora, diga-me quem é que vai ao baile, no corpo da baronesa, fazendo parte do vestido e da elegância? Quem é que vai dançar com ministros e diplomatas, enquanto você volta para a caixinha da costureira, antes de ir para o balaio das mucamas? Vamos, diga lá. (...)

ASSIS, Machado de. Um apólogo. *Contos consagrados*. Disponível em <<https://www.biblio.com.br/conteudo/MachadodeAssis/umapologo.htm>>.

QUESTÃO 01

Assinale a alternativa cujas características se aplicam corretamente ao texto “Um apólogo”.

- (A) Presença de diálogo descrevendo as funções da costureira, sendo esta a personagem principal; emprego predominante do discurso direto.
- (B) Narrativa predominantemente dialogada, em discurso indireto, com a linha e a agulha como os personagens principais e presença de lição de moral.
- (C) Narrativa predominantemente dialogada, em discurso direto, com a linha e a agulha como os personagens principais e presença de lição de moral.
- (D) Presença de diálogo descrevendo as funções da costureira, sendo esta a personagem principal; emprego predominante do discurso indireto.
- (E) Diálogo entre a linha, como personagem principal, e a agulha, como personagem secundário; presença de discurso indireto e de lição de moral.

QUESTÃO 02

No texto “Um apólogo”, a atribuição de características humanas a personagens originalmente inanimados corresponde à seguinte figura de linguagem:

- (A) metonímia.
- (B) prosopopeia.
- (C) pleonasma.
- (D) hipérbole.
- (E) catacrese.

QUESTÃO 03

Assinale a alternativa em que a expressão destacada no trecho do texto não possui nenhuma outra função a não ser a de realçar o sentido de uma parte da sentença.

- (A) “Mas a verdade **é que** você faz um papel subalterno, indo adiante”
- (B) “**Por que** está você com esse ar, toda cheia de si (...)?”
- (C) “Repito que sim, e falarei sempre que **me der** na cabeça.”
- (D) “eu **é que** coso, prendo um pedaço ao outro, dou feição aos babados...”
- (E) “A senhora não **é** alfinete, **é** agulha.”

QUESTÃO 04

Assinale a alternativa em que a forma proposta entre parênteses substitui adequadamente o verbo destacado na frase, de acordo com as normas de concordância.

- (A) Qual de nós **será** o escolhido para o monitoramento? (seremos)
- (B) Eu e você **iremos** juntos na viagem. (irão)
- (C) A indústria de artefatos caseiros **está** recebendo currículos. (estão)
- (D) **Couberam** na mala todas as roupas e acessórios. (coube)
- (E) A maioria dos problemas **apresenta** fácil solução. (apresentam)

QUESTÃO 05

“Um amigo é aquele que nos faz fazer aquilo que podemos fazer.” (Ralph W. Emerson)

Em relação à estrutura do período acima, é correto afirmar que:

- (A) Os termos “aquele” e “aquilo”, de natureza demonstrativa, são seguidos de orações adjetivas, que os qualificam.
- (B) O termo “Um amigo” completa o sentido de uma das formas do verbo “fazer”, funcionando como um objeto direto.
- (C) A forma verbal “é” funciona como um verbo intransitivo, uma vez que não é acompanhada de nenhum complemento.
- (D) A expressão “faz fazer” refere-se a uma única ação de um único sujeito, correspondendo então a uma única oração.
- (E) A expressão “podemos fazer” refere-se a duas ações distintas, com dois sujeitos diferentes, correspondendo então a duas orações.

QUESTÃO 06

Assinale o número de frases abaixo que se apresentam corretas em relação à ocorrência ou não de crase nas palavras destacadas, de acordo com a norma-padrão.

- Nós demoramos muito à chegar ontem.
- Ele é muito chegado à pessoas ilustres.
- Segundo a lei, devemos fazer silêncio em certos lugares.
- Você chegou à casa dos quarenta anos muito bem conservado.
- O medicamento deve ser bem ministrado, gota à gota, para fazer o efeito desejado.

- (A) 1
(B) 2
(C) 3
(D) 4
(E) 5

QUESTÃO 07

Assinale a alternativa cujas formas verbais preenchem corretamente as lacunas nas frases abaixo, na mesma ordem:

- Quando você _____ aqui, _____-me e eu atenderei imediatamente.
- Se você _____ o desentendimento entre eles, será gratificado.
- Isso somente acontecerá se eu não me _____ a vocês e se eu não _____ aquilo que já havia sido mencionado antes.

- (A) vir – avisa – desfazer – opuser – contradisser
(B) vier – avisa – desfazer – opor – contradisser
(C) vier – avise – desfizer – opuser – contradisser
(D) vier – avise – desfazer – opor – contradizer
(E) vir – avisa – desfazer – opor – contradizer

QUESTÃO 08



Disponível em <<https://educador.com.br/cartaz-sobre-o-meio-ambiente-para-imprimir/>>.

É correto afirmar, em relação à grafia oficial das palavras relacionadas ao cartaz acima, que:

- (A) mantendo o tom imperativo, a forma verbal “proteja”, referindo-se a “nós”, seria escrita como “protegemos”.
- (B) mantendo o tom imperativo, a forma verbal “proteja”, referindo-se a “vocês”, seria escrita como “protegem”.
- (C) a forma verbal “possam” refere-se a uma situação no tempo presente do modo indicativo.
- (D) a expressão “para que” pode ser substituída adequadamente por “afim de que”.
- (E) a expressão “para que” pode ser substituída adequadamente por “a fim de que”.

QUESTÃO 09

Assinale a alternativa cuja frase se encontra totalmente correta em relação ao emprego das palavras de acordo com a redação técnica oficial.

- (A) Gostaria de salientar que Vossa Excelência não deu continuidade ao planejamento apresentado pelos seus assessores, conforme os autos do processo judicial.
- (B) Quero alertar para que Vossa Senhoria, juntamente com os vossos colaboradores, não sejam contraditórios nas falas elaboradas por vós próprios.
- (C) Nós, abaixo-assinados, requeremos que Suas Excelências atendais aos desejos elencados neste documento com a máxima brevidade possível.
- (D) Senhor Presidente da Câmara Municipal, espero que sejais digno de ouvir o apelo dos vossos concidadãos.
- (E) Envio anexo as cópias dos relatórios solicitadas por Vossa Senhoria no e-mail anterior.

QUESTÃO 10

Em relação à documentação técnica oficial, preencha os parênteses com C ou E conforme a afirmativa correspondente esteja respectivamente certa ou errada. A seguir, assinale a sequência correta obtida.

O contrato é um acordo estabelecido entre partes, podendo tratar de compra, venda, prestação de serviços e outros.

A declaração é um documento que não pode ser nem elaborado e nem assinado por pessoa física.

A ata é o registro formal de acontecimentos e decisões de uma reunião, assembleia ou sessão.

O requerimento é um documento específico para realizar solicitações de diversas naturezas.

O ofício é o documento exclusivo para uma pessoa física ou jurídica outorgar poderes para terceiros.

- (A) E – C – E – C – E
- (B) C – C – E – E – E
- (C) C – E – E – E – C
- (D) C – E – C – C – E
- (E) E – C – E – E – C

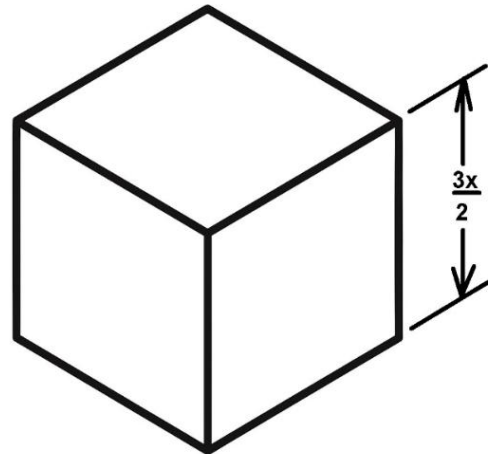
MATEMÁTICA E RACIOCÍNIO LÓGICO
QUESTÃO 11

Dona Rosane fabrica pacotes de biscoitos mineiros e vende cada unidade por R\$ 4,00. O custo de produção de cada pacote é de R\$ 2,50. Se a empresa vendeu 1.200 pacotes em um mês, qual é a razão entre o lucro total obtido e o custo total de produção?

- (A) 1:2
- (B) 3:5
- (C) 6:5
- (D) 7:6
- (E) 9:10

QUESTÃO 12

Considere o seguinte cubo:



Calcule e assinale a alternativa que apresenta a expressão correta do volume do cubo.

- (A) $V = \frac{9}{6} \cdot x^3$
- (B) $V = \frac{9}{2} \cdot x^3$
- (C) $V = \frac{8}{27} \cdot x^3$
- (D) $V = \frac{27}{8} \cdot x^3$
- (E) $V = \frac{27}{6} \cdot x^3$

QUESTÃO 13

Com relação a operações com números reais, considere a seguinte operação:

$$\sqrt{1.048.576} = x^n$$

Analisar a operação acima e assinale a alternativa correta:

- (A) O expoente n é igual a três, quando x for exatamente igual a 10,07 para que o resultado seja igual a $\sqrt{1.048.576}$.
- (B) 32 é a raiz quadrada de 1024 e o quadrado de 1.048.576.
- (C) A expressão acima, tem como $x = 32$ e o expoente $n = 2$, que é exatamente igual a $\sqrt{1.048.576}$.
- (D) 1024 é a raiz quadrada de 1.048.576 e o quadrado de 32.
- (E) 1024 é o resultado de $\sqrt{1.048.576}$ e o quadrado de 32 elevado a 3 é igual a $\sqrt{1.048.576}$.

QUESTÃO 14

Analise os itens a seguir sobre o tema mínimo múltiplo comum e máximo divisor comum, e assinale a alternativa correta:

I. O mínimo múltiplo comum entre dois números naturais é sempre igual ao menor deles.

II. O máximo divisor comum entre dois números naturais é o maior número que divide ambos sem deixar resto.

(A) A asserção I é uma proposição falsa e a II é uma proposição verdadeira.

(B) A asserção I é uma proposição verdadeira e a II é uma proposição falsa.

(C) As asserções I e II são proposições verdadeiras, e a II é um complemento da I.

(D) As asserções I e II são proposições verdadeiras, mas a II não é um complemento da I.

(E) As asserções I e II são proposições falsas.

QUESTÃO 15

Se em São Paulo a variação de temperatura foi de 12 °C em 5 dias, e em Curitiba foi de 7,2 °C em 3 dias, qual seria a variação esperada em Florianópolis em 6 dias, considerando que a variação é diretamente proporcional ao número de dias e inversamente proporcional à estabilidade climática da cidade?

Considere que Florianópolis tem estabilidade climática 3, São Paulo tem estabilidade 1, e Curitiba tem estabilidade 2,6. Quanto maior o número de estabilidade, mais estável é o clima — ou seja, menos variação de temperatura. Resumindo, tem-se:

Cidade	Dias observado	Variação temperatura (°C)	Estabilidade Climática
São Paulo	5	12	1
Curitiba	3	7,2	2,6
Florianópolis	6	??	3

Assinale a alternativa correta:

(A) 4,8 °C

(B) 43,2 °C

(C) 0,4 °C

(D) 3,3 °C

(E) 14,4 °C

QUESTÃO 16

Durante o ano de 2024, a empresa Tabajara S.A, registrou o número de atendimentos mensais realizados por sua equipe de suporte técnico. Os dados, em ordem de janeiro a dezembro, foram:

120, 135, 128, 142, 150, 160, 164, 148, 140, 130, 125, 138

Com base nesses dados, assinale a alternativa que apresenta corretamente a média mensal de atendimentos realizados pela equipe ao longo do ano:

(A) 138

(B) 140

(C) 135

(D) 145

(E) 132

QUESTÃO 17

Na última pesquisa realizada em 2025 para apurar as maiores torcidas de futebol no Brasil, um determinado instituto de pesquisa apurou:

- O percentual de torcedores do time A é 21,4%;
- O percentual de torcedores do time B é 14,3%.
- O percentual de torcedores do time C é 10,0%.
- O percentual de torcedores que torcem para outros times, além dos times A, B e C é de 22,3%.
- O percentual de torcedores que não torcem para nenhum time é 32,0%.

Considerando uma população de 210 milhões de pessoas, assinale a alternativa INCORRETA a respeito dos dados:

(A) 30 milhões torcem para o time B.

(B) 21 milhões torcem para o time C.

(C) 45 milhões torcem para o time A.

(D) 60 milhões não torcem para nenhum time.

(E) A diferença de torcedores do time A e do time B é de 15 milhões.

QUESTÃO 18

Dona Joaquina fez uma horta em seu quintal, que mede 7 metros por 15 metros, e algum tempo depois, decidiu aumentar o comprimento de forma que a área aumenta para:

$$A = 7 \cdot (15 + x)$$

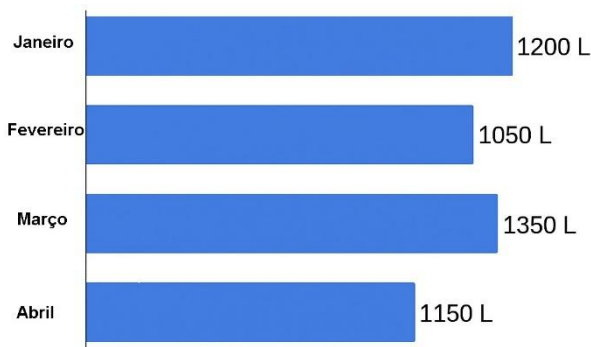
Considerando a expressão acima, analise e assinale qual alternativa representa a área da nova horta de Dona Joaquina:

- (A) $x = 1$ metro e $A = 115\text{m}^2$.
- (B) $x = 2$ metros e $A = 120\text{m}^2$.
- (C) $x = 3$ metros e $A = 125\text{m}^2$.
- (D) $x = 5$ metros e $A = 140\text{m}^2$.
- (E) $x = 4$ metros e $A = 132\text{m}^2$.

QUESTÃO 19

O gráfico abaixo mostra a quantidade de água utilizada por uma família, em litros, durante os quatro primeiros meses do ano.

Consumo mensal de água
(em litros)

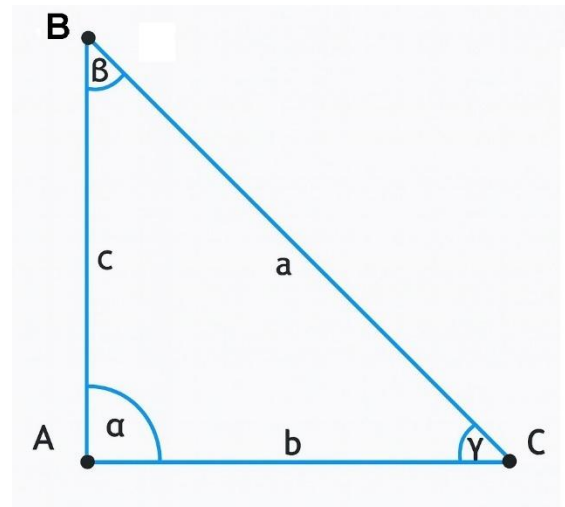


Sabendo que 1 metro cúbico (m^3) equivale a 1.000 litros, assinale a alternativa CORRETA sobre o consumo total da família nesse período:

- (A) O consumo total foi de $4,75 \text{ m}^3$.
- (B) O consumo total foi de $47,5 \text{ m}^3$.
- (C) O mês de menor consumo foi abril.
- (D) O consumo médio mensal foi de 1.200 litros.
- (E) O consumo total foi inferior a 4 m^3 .

QUESTÃO 20

Considere o triângulo retângulo com ângulo reto em A abaixo:



Analise as afirmativas a seguir e, em seguida, assinale a alternativa correta:

- I. No triângulo, o lado \overline{BC} , que é oposto ao ângulo reto, é chamado de hipotenusa. E se $\gamma = 32,5^\circ$, então, $\beta = 57,5^\circ$.
- II. Os lados \overline{AB} e \overline{AC} , adjacentes ao ângulo reto, são chamados de catetos. E considerando que a hipotenusa for igual a 15 ($\overline{BC} = 15$) e o cateto adjacente ao ângulo β for igual a 7, então, pelo teorema de Pitágoras o cateto oposto ao ângulo β será igual a 12.
- III. Se os catetos adjacentes ao ângulo reto α , forem iguais a $\overline{AB} = 3$ e $\overline{AC} = 4$, então, a hipotenusa $\overline{BC} = 5$.
- IV. Se os catetos adjacentes ao ângulo reto α , forem iguais a $\overline{AB} = 5$ e $\overline{AC} = 4$, então, a hipotenusa $\overline{BC} = 3$.

- (A) I, II, III e IV estão corretas.
- (B) Apenas I, II e III estão corretas.
- (C) Apenas II e III estão corretas.
- (D) Apenas I e III estão corretas.
- (E) Apenas I e IV estão corretas.

NOÇÕES DE INFORMÁTICA
QUESTÃO 21

Em atividades do dia a dia, profissionais de diversas áreas podem precisar usar o computador para acessar ordens de serviço, consultar arquivos ou ajustar informações. No sistema Windows 11, a área de trabalho é considerada o ponto inicial para essas ações.

Com base nessas informações, é CORRETO afirmar que:

- (A) A área de trabalho do Windows 11 não pode ser alterada, pois mantém sempre a mesma imagem de fundo.
- (B) O papel de parede é a imagem ou cor que aparece ao fundo da área de trabalho e pode ser modificado nas configurações.
- (C) A área de trabalho do Windows 11 é usada exclusivamente para armazenar documentos e não permite acessar programas.
- (D) O papel de parede é um recurso que não faz parte da área de trabalho do Windows 11.
- (E) O Windows 11 não possui área de trabalho, apenas pastas para acesso direto a arquivos.

QUESTÃO 22

Podemos utilizar o computador para acessar ferramentas como calculadora ou bloco de notas, a fim de calcular orçamentos ou anotar medidas. Para isso, é necessário saber como abrir programas no Windows.

Sobre as formas de acessar um programa, analise os itens abaixo:

- I. É possível abrir um programa pelo Menu Iniciar, clicando no ícone correspondente e localizando o aplicativo desejado.
- II. Outra forma de abrir um programa é pela Barra de Pesquisa, digitando o nome do aplicativo e clicando no resultado exibido.
- III. A única maneira de abrir um programa no Windows é utilizando atalhos criados na área de trabalho.

Está(ão) CORRETO(S):

- (A) Somente o item I.
- (B) Somente o item II.
- (C) Somente os itens I e II.
- (D) Somente os itens I e III.
- (E) Todos os itens.

QUESTÃO 23

Durante atividades profissionais é possível utilizar o computador para elaborar relatórios simples ou fazer anotações de serviços no Microsoft Word. Nesse programa, o Menu “Fonte” oferece recursos importantes de edição de textos.

Considerando essas informações, é CORRETO afirmar que:

- (A) O Menu “Fonte” serve apenas para alterar o alinhamento do texto, como centralizar ou justificar.
- (B) O Menu “Fonte” permite ajustar tamanho, tipo e cor das letras, além de aplicar estilos como Negrito e Itálico.
- (C) O Menu “Fonte” é utilizado somente para inserir imagens e tabelas em documentos.
- (D) O Menu “Fonte” possibilita alterar margens e espaçamentos da página.
- (E) O Menu “Fonte” permite salvar o arquivo diretamente em pastas do computador.

QUESTÃO 24

Em algumas atividades, como o controle de materiais utilizados em obras, é comum que profissionais utilizem planilhas eletrônicas para organizar cálculos e informações. O Microsoft Excel é um programa desse tipo, oferecendo recursos variados, como fórmulas e atualização automática de resultados.

Considerando essas informações, é CORRETO afirmar que no Microsoft Excel:

- (A) As linhas de uma planilha são representadas por letras e se movimentam com as setas direita e esquerda.
- (B) As linhas de uma planilha indicam o local exato onde se inserem as fórmulas, sendo sempre fixas.
- (C) As linhas de uma planilha são responsáveis apenas pela criação de gráficos em 3D.
- (D) As linhas de uma planilha correspondem ao conjunto de células na posição horizontal, identificadas por números.
- (E) As linhas de uma planilha permitem apenas a inserção de imagens, não possuindo relação com cálculos.

QUESTÃO 25

Muitas vezes é necessário consultar informações técnicas ou acompanhar projetos pela Internet. Cada página disponível nesse ambiente possui um endereço específico.

A respeito desse tema, marque C para as afirmativas corretas, E para as erradas e, em seguida, assinale a alternativa que apresenta a sequência CORRETA:

() Cada página da Internet é identificada por um endereço denominado URL.

() A Internet é formada pela conexão de várias redes de diferentes portes.

() O URL é o nome dado a computadores que não estão conectados à Internet.

(A) C – C – C

(B) E – C – C

(C) C – E – E

(D) E – E – C

(E) C – C – E

CONHECIMENTOS ESPECÍFICOS**QUESTÃO 26**

Em relação as técnicas anestésicas em odontologia, analise os itens abaixo e assinale a alternativa correta.

I – Anestesia dos ramos alveolares superiores posteriores, em vista lateral. A agulha deve localizar-se o mais próximo possível da face posterior da maxila.

II – Anestesia dos ramos alveolares superiores posteriores, em vista anterior. A agulha é introduzida atrás da crista infrazigomática e em ângulo de 90° com o plano mediano da face.

(A) A asserção I é uma proposição falsa, e a II é uma proposição verdadeira.

(B) As asserções I e II são proposições verdadeiras, e a II é um complemento da I.

(C) A asserção I é uma proposição verdadeira, e a II é uma proposição falsa.

(D) As asserções I e II são proposições falsas.

(E) As asserções I e II são proposições verdadeiras, mas a II não é um complemento da I.

QUESTÃO 27

Sobre os tecidos mineralizados presentes no organismo humano, analise as afirmativas a seguir e assinale a alternativa correta:

(A) A dentina é o tecido mais mineralizado do organismo humano, superando inclusive o esmalte dental.

(B) O cimento é responsável pela formação da polpa dentária e é o principal componente da coroa clínica.

(C) Os tecidos mineralizados do organismo incluem osso, dentina, cimento e esmalte, sendo o esmalte e a dentina os mais mineralizados.

(D) A polpa dentária é considerada um tecido mineralizado por estar envolta por dentina e esmalte.

(E) O osso possui maior concentração mineral do que o esmalte e, por isso, é o tecido mais duro do corpo humano.

QUESTÃO 28

A cavidade oral é delimitada por algumas paredes essenciais para sua estrutura anatômica. Sobre essas paredes, assinale a alternativa correta:

(A) Uma parede anterior ou lábios, duas paredes laterais ou bochechas, uma parede superior ou palato, uma parede posterior ou palatino e uma parede inferior ou pelo lábio.

(B) Uma parede anterior ou gengiva, duas paredes laterais formadas pela língua, uma parede superior ou úvula, uma parede posterior ou palato duro e uma parede inferior formada pelos dentes.

(C) Uma parede anterior ou dentes, duas paredes laterais ou lábios, uma parede superior ou véu palatino, uma parede posterior formada pela língua e uma parede inferior ou pelo palato mole.

(D) Uma parede anterior formada pelo palato mole, duas paredes laterais formadas pelas gengivas, uma parede superior formada pelos lábios, uma parede posterior formada pelo assoalho e uma parede inferior formada pela úvula.

(E) Uma parede anterior ou bochecha, duas paredes laterais ou lábios, uma parede superior ou língua, uma parede posterior ou palato duro e uma parede inferior ou véu palatino.

QUESTÃO 29

A respeito da composição mineral do esmalte dentário, assinale a alternativa correta:

- (A) A principal substância mineral presente no esmalte é o colágeno tipo I, responsável pela sua resistência.
- (B) A hidroxiapatita é o principal componente mineral do esmalte.
- (C) A dentina é o tecido mais mineralizado do dente, composta por carbonato de cálcio.
- (D) O esmalte é constituído principalmente por fibras colágenas e cálcio livre.
- (E) O esmalte é composto predominantemente por tecido conjuntivo especializado e fibras colágenas.

QUESTÃO 30

Para a realização de uma anestesia local eficiente na prática odontológica, é fundamental que o profissional considere determinados aspectos anatômicos relacionados à maxila e à mandíbula. Assinale a alternativa que apresenta um desses aspectos corretamente:

- (A) A quantidade de tecido conjuntivo nas regiões apicais dos dentes molares é o principal fator determinante da eficácia anestésica.
- (B) A espessura da gengiva ceratinizada é o fator mais relevante para determinar o sucesso da anestesia infiltrativa.
- (C) A localização dos nervos cranianos é irrelevante, uma vez que a anestesia local não interfere diretamente na condução nervosa.
- (D) A disposição dos dentes nos arcos e as relações das raízes e dos alvéolos com estruturas vizinhas, são fatores importantes a serem avaliados para uma anestesia eficiente.
- (E) O formato da língua e a extensão do palato mole são os principais parâmetros anatômicos a serem considerados para a infiltração anestésica.

QUESTÃO 31

A doença cárie é causada pelo desequilíbrio entre o biofilme oral e a superfície mineral do dente. Sobre esse processo, assinale a alternativa correta:

- (A) A cárie ocorre devido a um biofilme sem ácido, que aumenta o pH e promove a mineralização do esmalte.
- (B) A presença de um biofilme cariogênico, ou seja, com presença de ácidos produzidos pelas bactérias ali presentes, baixa o pH e causa uma desmineralização da superfície do esmalte.
- (C) O biofilme cariogênico protege o esmalte do dente impedindo a ação das bactérias cariogênicas.
- (D) O pH do biofilme oral permanece estável durante o processo de cárie devido à ação do fluoreto.
- (E) A desmineralização do esmalte ocorre apenas quando o biofilme está ausente.

QUESTÃO 32

Sobre as características dos arcos dentários, assinale a alternativa correta:

- (A) O arco superior apresenta menor diâmetro longitudinal e menor diâmetro transversal em relação ao arco inferior, o que favorece o encaixe perfeito entre ambos.
- (B) O arco inferior é mais largo que o superior em todos os sentidos, por isso se sobrepõe na oclusão dentária.
- (C) O arco inferior é menor que o arco superior no diâmetro longitudinal, mas maior no transversal, o que resulta em sobreposição inferior.
- (D) O arco inferior é maior que o superior no diâmetro longitudinal. Enquanto isso, no diâmetro transversal o superior é maior que o inferior. Assim, o arco superior se sobrepõe ao inferior.
- (E) Ambos os arcos possuem exatamente as mesmas dimensões nos eixos longitudinal e transversal, permitindo oclusão sem sobreposição.

QUESTÃO 33

A respeito da doença periodontal, assinale a alternativa correta:

- (A) Trata-se de uma condição exclusivamente genética, sem relação com fatores externos como higiene bucal.
- (B) A doença periodontal é provocada por traumatismos oclusais e não envolve resposta imunológica.
- (C) É um processo degenerativo natural, comum ao envelhecimento, sem envolvimento de microrganismos.
- (D) Consiste em um distúrbio autoimune sem qualquer influência da presença de biofilme bacteriano.
- (E) É uma doença infectoinflamatória causada pela interação entre os microrganismos do biofilme e a resposta imunológica e inflamatória do indivíduo.

QUESTÃO 34

A _____ é a parte do dente que fica implantada nos alvéolos da maxila e da mandíbula, sendo, portanto, em geral, não visível na cavidade bucal. Ela é revestida pelo cimento, o que lhe confere uma coloração amarelada e uma textura mais rugosa.

- (A) coroa dentária
- (B) polpa dentária
- (C) raiz dentária
- (D) gengiva
- (E) esmalte

QUESTÃO 35

Em relação aos requisitos básicos que o mocho odontológico deve apresentar para garantir o posicionamento correto do profissional e do auxiliar, analise os itens abaixo:

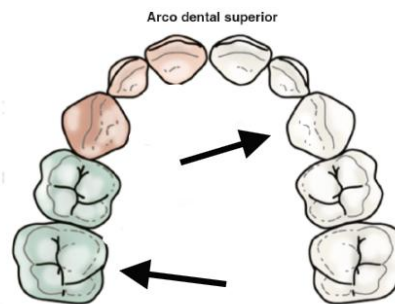
- I. Deve possuir base com cinco rodízios, garantindo estabilidade e fácil deslocamento ao redor da cadeira odontológica.
- II. O assento deve ter altura regulável, com sistema de regulação podendo ser a gás ou mecânico.
- III. O encosto deve oferecer apoio à região lombar, com possibilidade de ajuste de altura e profundidade conforme o biotipo do profissional.

Assinale a alternativa correta:

- (A) Apenas o item I está correto.
- (B) Apenas os itens I e III estão corretos.
- (C) Apenas os itens II e III estão corretos.
- (D) Todos os itens estão corretos.
- (E) Apenas o item II está correto.

QUESTÃO 36

Observe a imagem a seguir.



Fonte: Adaptado de REHER, Pedro. Anatomia Aplicada à Odontologia.

Considerando apenas as opções apresentadas e observando exclusivamente as setas indicadas na imagem do **arco dental superior**, assinale a alternativa que identifica corretamente os tipos de dentes.

- (A) Incisivo e siso
- (B) Canino e molar
- (C) Pré-molar e siso
- (D) Incisivo e canino
- (E) Molar e incisivo

QUESTÃO 37

Assinale a alternativa que completa corretamente a lacuna abaixo:

A partir do momento em que as lesões cariosas se formam como resultado de acontecimentos metabólicos na placa dental, um bom controle de placa precisa ser o alicerce do tratamento preventivo e não operatório em todos os pacientes. Os dentes devem ser escovados regularmente com pasta de dente contendo _____.

- (A) magnésio
- (B) benzocaína
- (C) fluoreto
- (D) óxido de zinco
- (E) gluconato de cálcio

QUESTÃO 38

A periodontite é uma doença inflamatória que compromete os tecidos de sustentação do dente, provocando alterações clínicas características. Assinale a alternativa que apresenta corretamente uma dessas manifestações.

- (A) Formação de cálculos supragengivais sem inflamação gengival associada.
- (B) Aumento do volume gengival sem presença de placa bacteriana.
- (C) Sangramento à sondagem, perda de inserção e possível mobilidade dentária.
- (D) Espessamento da mucosa mastigatória sem alteração óssea.
- (E) Pigmentação gengival transitória sem comprometimento periodontal.

QUESTÃO 39

A cirurgia oral abrange diversos tipos de procedimentos realizados na cavidade bucal. Considerando essa área, assinale a alternativa que descreve corretamente uma característica da cirurgia oral menor.

- (A) Envolve procedimentos complexos realizados exclusivamente em ambiente hospitalar sob anestesia geral.
- (B) Corresponde a intervenções de pequeno porte, realizadas no consultório odontológico, como extrações e correções ósseas limitadas.
- (C) Inclui obrigatoriamente técnicas reconstrutivas extensas e transplantes ósseos.
- (D) É restrita a tratamentos estéticos que não envolvem tecidos ósseos ou dentários.
- (E) Abrange unicamente cirurgias com finalidade ortodôntica, sob sedação profunda.

QUESTÃO 40

Maria, 60 anos, encontra-se em situação de vulnerabilidade social após perder o emprego e enfrentar problemas de saúde que a impedem de voltar ao mercado de trabalho. Ao procurar o serviço de assistência no seu município, foi orientada sobre os direitos garantidos no âmbito da seguridade social. De acordo com a Constituição Federal, a seguridade social compreende um conjunto integrado de ações de iniciativa dos Poderes Públicos e da sociedade, destinadas a:

- (A) garantir o direito exclusivo à assistência médica de urgência.
- (B) assegurar o acesso à educação, à cultura e ao transporte gratuito.
- (C) promover a inclusão digital, o trabalho e a renda mínima universal.
- (D) atender unicamente às demandas da previdência social urbana.
- (E) assegurar os direitos relativos à saúde, à previdência e à assistência social.

QUESTÃO 41

Durante a leitura da Lei nº 8.142/1990, Marlene destacou que o Conselho Nacional de Secretários de Saúde (Conass) e o Conselho Nacional de Secretários Municipais de Saúde (Conasems) terão representação no Conselho Nacional de Saúde. Considerando o texto legal, assinale a alternativa correta:

- (A) Marlene está incorreta, pois apenas representantes do Ministério da Saúde compõem o Conselho Nacional de Saúde.
- (B) Marlene está correta, já que tanto o Conass quanto o Conasems têm representação no Conselho Nacional de Saúde.
- (C) Marlene está incorreta, pois apenas municípios compõem o Conselho Nacional de Saúde.
- (D) Marlene está incorreta, pois o Conasems participa apenas das conferências e não do conselho.
- (E) Marlene está incorreta, pois o Conass participa apenas das conferências e não do conselho.

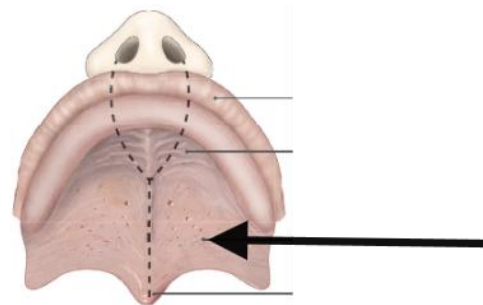
QUESTÃO 42

O Sistema Único de Saúde (SUS) é constituído pela conjugação das ações e serviços de promoção, proteção e recuperação da saúde. Sobre sua constituição e forma de organização, assinale a alternativa correta.

- (A) É composto exclusivamente por serviços federais, sendo vedada a participação de estados e municípios.
- (B) Organiza-se de maneira regionalizada e hierarquizada, executados pelos entes federativos, de forma direta ou indireta, mediante a participação complementar da iniciativa privada.
- (C) Funciona apenas por meio de convênios firmados com a iniciativa privada, sem execução direta de serviços públicos.
- (D) É um sistema centralizado, no qual as decisões e execuções cabem unicamente ao Ministério da Saúde.
- (E) Atua de forma isolada, sem integração entre os níveis municipal, estadual e federal.

QUESTÃO 43

Observe a imagem a seguir.



Fonte: Adaptado de REHER, Pedro. *Anatomia Aplicada à Odontologia*.

Considerando apenas as opções apresentadas e observando exclusivamente a seta maior indicada na imagem, assinale a alternativa que corresponde ao nome da estrutura anatômica apontada.

- (A) Lábio
- (B) Palato mole
- (C) Úvula
- (D) Papila incisiva
- (E) Veia palatina maior

QUESTÃO 44

Assinale a alternativa que corresponde a um dos **objetivos** do Sistema Único de Saúde (SUS), conforme disposto na Lei nº 8.080/1990:

- (A) A preservação da autonomia das pessoas na defesa de sua integridade física e moral.
- (B) A igualdade da assistência à saúde, sem preconceitos ou privilégios de qualquer espécie.
- (C) O direito à informação, às pessoas assistidas, sobre sua saúde.
- (D) A identificação e divulgação dos fatores condicionantes e determinantes da saúde.
- (E) A cobrança de coparticipação obrigatória do usuário em serviços ambulatoriais de baixa complexidade.

QUESTÃO 45

De acordo com o Decreto Federal nº 7.508/2011, assinale a alternativa que corresponde corretamente ao conceito de **Rede de Atenção à Saúde**.

- (A) Serviços de atendimento inicial à saúde do usuário no SUS.
- (B) Conjunto de serviços privados contratados para atender demandas locais emergenciais de saúde.
- (C) Estrutura administrativa voltada para a regulação do financiamento das unidades de saúde estaduais.
- (D) Conjunto de ações e serviços de saúde articulados em níveis de complexidade crescente, com a finalidade de garantir a integralidade da assistência à saúde.
- (E) Modelo de gestão hospitalar voltado à promoção da eficiência financeira dos serviços de urgência e emergência.

QUESTÃO 46

Amanda está se preparando para um concurso público e, durante os estudos sobre a Lei nº 8.142/1990, anotou em seu caderno que a Conferência de Saúde reunir-se-á a cada dois anos com a representação dos vários segmentos sociais, para avaliar a situação de saúde e propor as diretrizes para a formulação da política de saúde nos níveis correspondentes. Com base nisso, assinale a alternativa correta sobre a anotação feita por Amanda.

- (A) A anotação está correta, pois a Conferência de Saúde ocorre a cada dois anos, conforme previsto em lei.
- (B) A anotação está incorreta, pois a Conferência de Saúde ocorre somente em anos eleitorais.
- (C) A anotação está correta, pois a Conferência de Saúde pode se reunir anualmente ou a cada dois anos, conforme a decisão do município.
- (D) A anotação está incorreta, pois a Conferência de Saúde deve reunir-se a cada quatro anos.
- (E) A anotação está correta, pois a Conferência de Saúde ocorre a cada cinco anos, conforme previsto em lei.

QUESTÃO 47

Assinale a alternativa que completa corretamente a lacuna abaixo:

A _____ é caracterizada pelo processo inflamatório restrito à área marginal. Clinicamente, ela apresenta vermelhidão na gengiva (decorrente do aumento no suporte sanguíneo), edema interferindo no contorno marginal e sangramento da margem gengival, seja ele espontâneo ou durante o exame.

- (A) cárie dentária
- (B) gengivite
- (C) periodontite avançada
- (D) hiperplasia gengival
- (E) abscesso periodontal

QUESTÃO 48

Assinale a alternativa que descreve corretamente **três objetivos** da seguridade social, conforme Constituição Federal:

- (A) Dignidade da pessoa humana, centralização dos serviços nas capitais e uniformização da renda familiar.
- (B) Universalidade da cobertura e do atendimento; uniformidade e equivalência dos benefícios e serviços às populações urbanas e rurais; seletividade e distributividade na prestação dos benefícios e serviços.
- (C) Atendimento preferencial a idosos, pluralismo político e a garantia de uma sociedade livre, justa e solidária
- (D) Autodeterminação dos povos; unificação da saúde e previdência em um único órgão gestor; repúdio ao terrorismo e ao racismo.
- (E) Centralização da seguridade social na iniciativa privada; exclusão da população rural; uniformização da tributação previdenciária.

QUESTÃO 49

Durante a reunião de equipe multiprofissional, o cirurgião-dentista de uma unidade básica de saúde ressaltou a importância da atuação odontológica para além do atendimento clínico individual, reforçando que as ações devem estar inseridas no contexto da integralidade da atenção à saúde. Considerando a **definição de saúde bucal**, qual alternativa expressa corretamente essa concepção?

- (A) Saúde bucal consiste na execução de procedimentos odontológicos básicos, voltados exclusivamente à prevenção de cárie dentária.
- (B) A atenção odontológica no SUS deve priorizar grupos vulneráveis, restringindo-se à demanda espontânea da população.
- (C) Saúde bucal é o conjunto articulado de ações, em todos os níveis de complexidade, que visem a garantir promoção, prevenção, recuperação e reabilitação odontológica, individual e coletiva.
- (D) O conceito de saúde bucal se restringe ao atendimento de urgência e à reabilitação funcional com próteses dentárias.
- (E) A promoção da saúde bucal deve ocorrer apenas em ambientes escolares, devido ao seu caráter educativo.

QUESTÃO 50

Com relação à técnica de anestesia paraperióstica na região anterior da maxila, assinale a alternativa correta:

- (A) A agulha é inserida no fundo de saco do vestíbulo, em direção à região apical do dente sem, no entanto, tocar o perióstio.
- (B) O perióstio deve ser tocado para garantir que o anestésico se difunda por todas as camadas ósseas.
- (C) A introdução da agulha deve ocorrer na gengiva inserida, acima da linha mucogengival, para bloquear nervos lingual e bucal.
- (D) A agulha deve ser introduzida diretamente no forame incisivo, com o objetivo de anestésiar os nervos palatinos.
- (E) Esta técnica é exclusiva para dentes posteriores da mandíbula, sendo contraindicada na região anterior da maxila.

