

AVANÇASP



PREFEITURA MUNICIPAL DA ESTÂNCIA  
CLIMÁTICA DE CUNHA/SP

PROCESSO SELETIVO  
01/2025

## ENFERMEIRO

### Leia atentamente as instruções abaixo

#### 1. PROVA E FOLHA DE RESPOSTAS

• Além deste Caderno de Prova, contendo 50 (cinquenta) questões objetivas, você receberá do Fiscal de Sala:

• 01 (uma) Folha de Respostas destinada às respostas das questões objetivas. Confira se seus dados estão corretos.

#### 2. TEMPO

• 03 (três) horas é o tempo disponível para realização da prova, já incluído o tempo para marcação da Folha de Respostas da prova objetiva;

• **01 (uma) hora** após o início da prova é possível, retirar-se da sala levando o caderno de prova;

#### 3. INFORMAÇÕES GERAIS

• As questões objetivas têm 05 (cinco) alternativas de resposta (A, B, C, D, E) e somente **uma** delas está correta;

• Verifique se seu caderno está completo, sem repetição de questões ou falhas. Caso contrário, informe imediatamente o Fiscal da Sala, para que sejam tomadas as devidas providências;

• Confira seus dados pessoais na Folha de Respostas, especialmente nome, número de inscrição e documento de identidade e leia atentamente as instruções para preenchimento;

• O preenchimento das respostas da prova objetiva é de sua responsabilidade e não será permitida a troca de Folha de Respostas em caso de erro de marcação pelo candidato;

• Marque, na folha de respostas, com caneta de tinta azul ou preta, a letra correspondente à alternativa que você escolheu.

• Reserve tempo suficiente para o preenchimento de suas respostas. Para fins de avaliação, serão levadas em consideração apenas as marcações realizadas na Folha de Respostas da prova objetiva, não sendo permitido anotar informações relativas às respostas em qualquer outro meio que não seja o caderno de prova;

• Ao se retirar, entregue a Folha de Respostas preenchida e assinada ao Fiscal de Sala.

**SERÁ ELIMINADO do presente certame o candidato que:**

a) for surpreendido, durante as provas, em qualquer tipo de comunicação com outro candidato;

b) portar ou usar, qualquer tipo de aparelho eletrônico (calculadoras, bips/pagers, câmeras fotográficas, filmadoras, telefones celulares, smartphones, tablets, relógios, walkmans, MP3 players, fones de ouvido, agendas eletrônicas, notebooks, palmtops ou qualquer outro tipo de computador portátil, receptores ou gravadores) seja na sala de prova, sanitários, pátios ou qualquer outra dependência do local de prova;

c) se ausentar da sala em que se realizam as provas levando consigo o Caderno de Questões e/ou a Folha de Respostas;

d) se recusar a entregar a Folha de Respostas, quando terminar o tempo estabelecido;

e) não assinar a Lista de Presença e/ou a Folha de Respostas.

---

**LÍNGUA PORTUGUESA****TEXTO**

---

**Leia o texto a seguir para responder às questões de 01 a 03.**

**Um apólogo**

Era uma vez uma agulha, que disse a um novelo de linha:

— Por que está você com esse ar, toda cheia de si, toda enrolada, para fingir que vale alguma coisa neste mundo?

— Deixe-me, senhora.

— Que a deixe? Que a deixe, por quê? Porque lhe digo que está com um ar insuportável? Repito que sim, e falarei sempre que me der na cabeça.

— Que cabeça, senhora? A senhora não é alfinete, é agulha. Agulha não tem cabeça. Que lhe importa o meu ar? Cada qual tem o ar que Deus lhe deu. Importe-se com a sua vida e deixe a dos outros.

— Mas você é orgulhosa.

— Decerto que sou.

— Mas por quê?

— É boa! Porque coso. Então os vestidos e enfeites de nossa ama, quem é que os cose, senão eu?

— Você? Esta agora é melhor. Você é que os cose? Você ignora que quem os cose sou eu, e muito eu?

— Você fura o pano, nada mais; eu é que coso, prendo um pedaço ao outro, dou feição aos babados...

— Sim, mas que vale isso? Eu é que furo o pano, vou adiante, puxando por você, que vem atrás, obedecendo ao que eu faço e mando...

— Também os batedores vão adiante do imperador.

— Você é imperador?

— Não digo isso. Mas a verdade é que você faz um papel subalterno, indo adiante; vai só mostrando o caminho, vai fazendo o trabalho obscuro e ínfimo. Eu é que prendo, ligo, ajunto... (...)

Veio a noite do baile, e a baronesa vestiu-se. A costureira, que a ajudou a vestir-se, levava a agulha espetada no corpinho, para dar algum ponto necessário. E quando compunha o vestido da bela dama, e puxava a um lado ou outro, arregaçava daqui ou dali, alisando, abotoando, acolchetando, a linha, para mofar da agulha, perguntou-lhe:

— Ora agora, diga-me quem é que vai ao baile, no corpo da baronesa, fazendo parte do vestido e da elegância? Quem é que vai dançar com ministros e diplomatas, enquanto você volta para a caixinha da costureira, antes de ir para o balaio das mucamas? Vamos, diga lá. (...)

ASSIS, Machado de. Um apólogo. *Contos consagrados*. Disponível em <<https://www.biblio.com.br/conteudo/MachadodeAssis/umapologo.htm>>.

---

**QUESTÃO 01**

---

Assinale a alternativa cujas características se aplicam corretamente ao texto “Um apólogo”.

- (A) Presença de diálogo descrevendo as funções da costureira, sendo esta a personagem principal; emprego predominante do discurso direto.
- (B) Narrativa predominantemente dialogada, em discurso indireto, com a linha e a agulha como os personagens principais e presença de lição de moral.
- (C) Narrativa predominantemente dialogada, em discurso direto, com a linha e a agulha como os personagens principais e presença de lição de moral.
- (D) Presença de diálogo descrevendo as funções da costureira, sendo esta a personagem principal; emprego predominante do discurso indireto.
- (E) Diálogo entre a linha, como personagem principal, e a agulha, como personagem secundário; presença de discurso indireto e de lição de moral.

---

**QUESTÃO 02**

---

No texto “Um apólogo”, a atribuição de características humanas a personagens originalmente inanimados corresponde à seguinte figura de linguagem:

- (A) metonímia.
- (B) prosopopeia.
- (C) pleonasma.
- (D) hipérbole.
- (E) catacrese.

---

**QUESTÃO 03**

---

Assinale a alternativa em que a expressão destacada no trecho do texto não possui nenhuma outra função a não ser a de realçar o sentido de uma parte da sentença.

- (A) “Mas a verdade **é que** você faz um papel subalterno, indo adiante”
- (B) “**Por que** está você com esse ar, toda cheia de si (...)?”
- (C) “Repito que sim, e falarei sempre que **me der** na cabeça.”
- (D) “eu **é que** coso, prendo um pedaço ao outro, dou feição aos babados...”
- (E) “A senhora não **é** alfinete, **é** agulha.”

---

**QUESTÃO 04**

---

Assinale a alternativa em que a forma proposta entre parênteses substitui adequadamente o verbo destacado na frase, de acordo com as normas de concordância.

- (A) Qual de nós **será** o escolhido para o monitoramento? (seremos)
- (B) Eu e você **iremos** juntos na viagem. (irão)
- (C) A indústria de artefatos caseiros **está** recebendo currículos. (estão)
- (D) **Couberam** na mala todas as roupas e acessórios. (coube)
- (E) A maioria dos problemas **apresenta** fácil solução. (apresentam)

---

**QUESTÃO 05**

---

“Um amigo é aquele que nos faz fazer aquilo que podemos fazer.” (Ralph W. Emerson)

Em relação à estrutura do período acima, é correto afirmar que:

- (A) Os termos “aquele” e “aquilo”, de natureza demonstrativa, são seguidos de orações adjetivas, que os qualificam.
- (B) O termo “Um amigo” completa o sentido de uma das formas do verbo “fazer”, funcionando como um objeto direto.
- (C) A forma verbal “é” funciona como um verbo intransitivo, uma vez que não é acompanhada de nenhum complemento.
- (D) A expressão “faz fazer” refere-se a uma única ação de um único sujeito, correspondendo então a uma única oração.
- (E) A expressão “podemos fazer” refere-se a duas ações distintas, com dois sujeitos diferentes, correspondendo então a duas orações.

---

**QUESTÃO 06**

---

Assinale o número de frases abaixo que se apresentam corretas em relação à ocorrência ou não de crase nas palavras destacadas, de acordo com a norma-padrão.

- Nós demoramos muito à chegar ontem.
- Ele é muito chegado à pessoas ilustres.
- Segundo a lei, devemos fazer silêncio em certos lugares.
- Você chegou à casa dos quarenta anos muito bem conservado.
- O medicamento deve ser bem ministrado, gota à gota, para fazer o efeito desejado.

- (A) 1
- (B) 2
- (C) 3
- (D) 4
- (E) 5

---

**QUESTÃO 07**

---

Assinale a alternativa cujas formas verbais preenchem corretamente as lacunas nas frases abaixo, na mesma ordem:

- Quando você \_\_\_\_\_ aqui, \_\_\_\_\_-me e eu atenderei imediatamente.
- Se você \_\_\_\_\_ o desentendimento entre eles, será gratificado.
- Isso somente acontecerá se eu não me \_\_\_\_\_ a vocês e se eu não \_\_\_\_\_ aquilo que já havia sido mencionado antes.

- (A) vir – avisa – desfazer – opuser – contradisser
- (B) vier – avisa – desfazer – opor – contradisser
- (C) vier – avise – desfizer – opuser – contradisser
- (D) vier – avise – desfazer – opor – contradizer
- (E) vir – avisa – desfazer – opor – contradizer

---

**QUESTÃO 08**

---



Disponível em <<https://educador.com.br/cartaz-sobre-o-meio-ambiente-para-imprimir/>>.

É correto afirmar, em relação à grafia oficial das palavras relacionadas ao cartaz acima, que:

- (A) mantendo o tom imperativo, a forma verbal “proteja”, referindo-se a “nós”, seria escrita como “protegemos”.
- (B) mantendo o tom imperativo, a forma verbal “proteja”, referindo-se a “vocês”, seria escrita como “protegem”.
- (C) a forma verbal “possam” refere-se a uma situação no tempo presente do modo indicativo.
- (D) a expressão “para que” pode ser substituída adequadamente por “afim de que”.
- (E) a expressão “para que” pode ser substituída adequadamente por “a fim de que”.

---

**QUESTÃO 09**

---

Assinale a alternativa cuja frase se encontra totalmente correta em relação ao emprego das palavras de acordo com a redação técnica oficial.

- (A) Gostaria de salientar que Vossa Excelência não deu continuidade ao planejamento apresentado pelos seus assessores, conforme os autos do processo judicial.
- (B) Quero alertar para que Vossa Senhoria, juntamente com os vossos colaboradores, não sejam contraditórios nas falas elaboradas por vós próprios.
- (C) Nós, abaixo-assinados, requeremos que Suas Excelências atendais aos desejos elencados neste documento com a máxima brevidade possível.
- (D) Senhor Presidente da Câmara Municipal, espero que sejais digno de ouvir o apelo dos vossos concidadãos.
- (E) Envio anexo as cópias dos relatórios solicitadas por Vossa Senhoria no e-mail anterior.

**QUESTÃO 10**

Em relação à documentação técnica oficial, preencha os parênteses com C ou E conforme a afirmativa correspondente esteja respectivamente certa ou errada. A seguir, assinale a sequência correta obtida.

- ( ) O contrato é um acordo estabelecido entre partes, podendo tratar de compra, venda, prestação de serviços e outros.
  - ( ) A declaração é um documento que não pode ser nem elaborado e nem assinado por pessoa física.
  - ( ) A ata é o registro formal de acontecimentos e decisões de uma reunião, assembleia ou sessão.
  - ( ) O requerimento é um documento específico para realizar solicitações de diversas naturezas.
  - ( ) O ofício é o documento exclusivo para uma pessoa física ou jurídica outorgar poderes para terceiros.
- (A) E – C – E – C – E  
 (B) C – C – E – E – E  
 (C) C – E – E – E – C  
 (D) C – E – C – C – E  
 (E) E – C – E – E – C

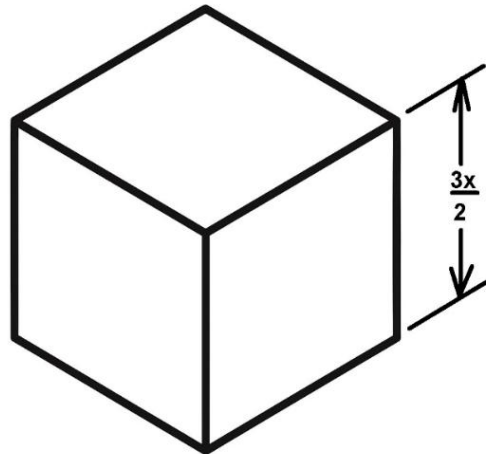
**MATEMÁTICA E RACIOCÍNIO LÓGICO**  
**QUESTÃO 11**

Dona Rosane fabrica pacotes de biscoitos mineiros e vende cada unidade por R\$ 4,00. O custo de produção de cada pacote é de R\$ 2,50. Se a empresa vendeu 1.200 pacotes em um mês, qual é a razão entre o lucro total obtido e o custo total de produção?

- (A) 1:2
- (B) 3:5
- (C) 6:5
- (D) 7:6
- (E) 9:10

**QUESTÃO 12**

Considere o seguinte cubo:



Calcule e assinale a alternativa que apresenta a expressão correta do volume do cubo.

- (A)  $V = \frac{9}{6} \cdot x^3$
- (B)  $V = \frac{9}{2} \cdot x^3$
- (C)  $V = \frac{8}{27} \cdot x^3$
- (D)  $V = \frac{27}{8} \cdot x^3$
- (E)  $V = \frac{27}{6} \cdot x^3$

**QUESTÃO 13**

Com relação a operações com números reais, considere a seguinte operação:

$$\sqrt{1.048.576} = x^n$$

Analise a operação acima e assinale a alternativa correta:

- (A) O expoente  $n$  é igual a três, quando  $x$  for exatamente igual a 10,07 para que o resultado seja igual a  $\sqrt{1.048.576}$ .
- (B) 32 é a raiz quadrada de 1024 e o quadrado de 1.048.576.
- (C) A expressão acima, tem como  $x = 32$  e o expoente  $n = 2$ , que é exatamente igual a  $\sqrt{1.048.576}$ .
- (D) 1024 é a raiz quadrada de 1.048.576 e o quadrado de 32.
- (E) 1024 é o resultado de  $\sqrt{1.048.576}$  e o quadrado de 32 elevado a 3 é igual a  $\sqrt{1.048.576}$ .

**QUESTÃO 14**

Analise os itens a seguir sobre o tema mínimo múltiplo comum e máximo divisor comum, e assinale a alternativa correta:

I. O mínimo múltiplo comum entre dois números naturais é sempre igual ao menor deles.

II. O máximo divisor comum entre dois números naturais é o maior número que divide ambos sem deixar resto.

(A) A asserção I é uma proposição falsa e a II é uma proposição verdadeira.

(B) A asserção I é uma proposição verdadeira e a II é uma proposição falsa.

(C) As asserções I e II são proposições verdadeiras, e a II é um complemento da I.

(D) As asserções I e II são proposições verdadeiras, mas a II não é um complemento da I.

(E) As asserções I e II são proposições falsas.

**QUESTÃO 15**

Se em São Paulo a variação de temperatura foi de 12 °C em 5 dias, e em Curitiba foi de 7,2 °C em 3 dias, qual seria a variação esperada em Florianópolis em 6 dias, considerando que a variação é diretamente proporcional ao número de dias e inversamente proporcional à estabilidade climática da cidade?

Considere que Florianópolis tem estabilidade climática 3, São Paulo tem estabilidade 1, e Curitiba tem estabilidade 2,6. Quanto maior o número de estabilidade, mais estável é o clima — ou seja, menos variação de temperatura. Resumindo, tem-se:

Cidade	Dias observado	Variação temperatura (°C)	Estabilidade Climática
São Paulo	5	12	1
Curitiba	3	7,2	2,6
Florianópolis	6	??	3

Assinale a alternativa correta:

(A) 4,8 °C

(B) 43,2 °C

(C) 0,4 °C

(D) 3,3 °C

(E) 14,4 °C

**QUESTÃO 16**

Durante o ano de 2024, a empresa Tabajara S.A, registrou o número de atendimentos mensais realizados por sua equipe de suporte técnico. Os dados, em ordem de janeiro a dezembro, foram:

120, 135, 128, 142, 150, 160, 164, 148, 140, 130, 125, 138

Com base nesses dados, assinale a alternativa que apresenta corretamente a média mensal de atendimentos realizados pela equipe ao longo do ano:

(A) 138

(B) 140

(C) 135

(D) 145

(E) 132

**QUESTÃO 17**

Na última pesquisa realizada em 2025 para apurar as maiores torcidas de futebol no Brasil, um determinado instituto de pesquisa apurou:

- O percentual de torcedores do time A é 21,4%;
- O percentual de torcedores do time B é 14,3%.
- O percentual de torcedores do time C é 10,0%.
- O percentual de torcedores que torcem para outros times, além dos times A, B e C é de 22,3%.
- O percentual de torcedores que não torcem para nenhum time é 32,0%.

Considerando uma população de 210 milhões de pessoas, assinale a alternativa INCORRETA a respeito dos dados:

(A) 30 milhões torcem para o time B.

(B) 21 milhões torcem para o time C.

(C) 45 milhões torcem para o time A.

(D) 60 milhões não torcem para nenhum time.

(E) A diferença de torcedores do time A e do time B é de 15 milhões.

**QUESTÃO 18**

Dona Joaquina fez uma horta em seu quintal, que mede 7 metros por 15 metros, e algum tempo depois, decidiu aumentar o comprimento de forma que a área aumenta para:

$$A = 7 \cdot (15 + x)$$

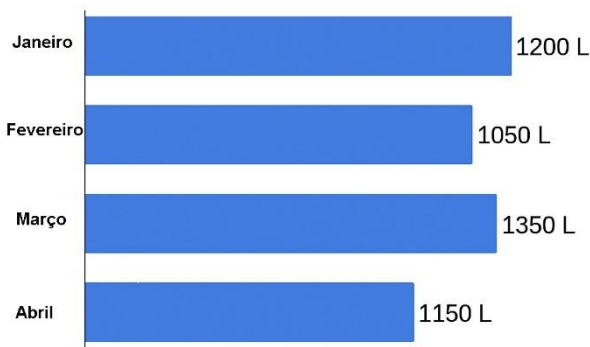
Considerando a expressão acima, analise e assinale qual alternativa representa a área da nova horta de Dona Joaquina:

- (A)  $x = 1$  metro e  $A = 115\text{m}^2$ .
- (B)  $x = 2$  metros e  $A = 120\text{m}^2$ .
- (C)  $x = 3$  metros e  $A = 125\text{m}^2$ .
- (D)  $x = 5$  metros e  $A = 140\text{m}^2$ .
- (E)  $x = 4$  metros e  $A = 132\text{m}^2$ .

**QUESTÃO 19**

O gráfico abaixo mostra a quantidade de água utilizada por uma família, em litros, durante os quatro primeiros meses do ano.

**Consumo mensal de água**  
(em litros)

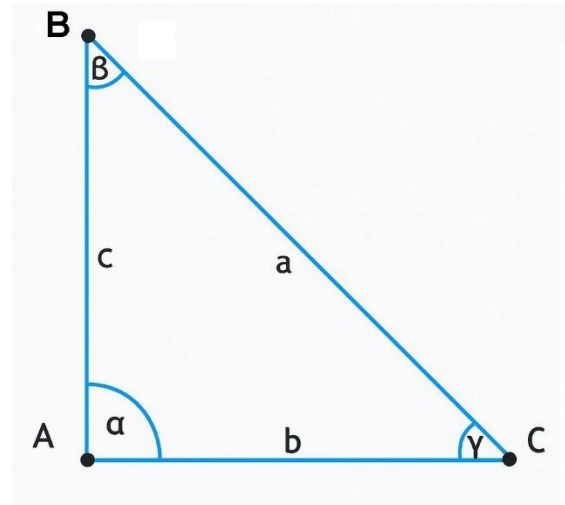


Sabendo que 1 metro cúbico ( $\text{m}^3$ ) equivale a 1.000 litros, assinale a alternativa CORRETA sobre o consumo total da família nesse período:

- (A) O consumo total foi de  $4,75 \text{ m}^3$ .
- (B) O consumo total foi de  $47,5 \text{ m}^3$ .
- (C) O mês de menor consumo foi abril.
- (D) O consumo médio mensal foi de 1.200 litros.
- (E) O consumo total foi inferior a  $4 \text{ m}^3$ .

**QUESTÃO 20**

Considere o triângulo retângulo com ângulo reto em A abaixo:



Analise as afirmativas a seguir e, em seguida, assinale a alternativa correta:

- I. No triângulo, o lado  $\overline{BC}$ , que é oposto ao ângulo reto, é chamado de hipotenusa. E se  $\gamma = 32,5^\circ$ , então,  $\beta = 57,5^\circ$ .
- II. Os lados  $\overline{AB}$  e  $\overline{AC}$ , adjacentes ao ângulo reto, são chamados de catetos. E considerando que a hipotenusa for igual a 15 ( $\overline{BC} = 15$ ) e o cateto adjacente ao ângulo  $\beta$  for igual a 7, então, pelo teorema de Pitágoras o cateto oposto ao ângulo  $\beta$  será igual a 12.
- III. Se os catetos adjacentes ao ângulo reto  $\alpha$ , forem iguais a  $\overline{AB} = 3$  e  $\overline{AC} = 4$ , então, a hipotenusa  $\overline{BC} = 5$ .
- IV. Se os catetos adjacentes ao ângulo reto  $\alpha$ , forem iguais a  $\overline{AB} = 5$  e  $\overline{AC} = 4$ , então, a hipotenusa  $\overline{BC} = 3$ .

- (A) I, II, III e IV estão corretas.
- (B) Apenas I, II e III estão corretas.
- (C) Apenas II e III estão corretas.
- (D) Apenas I e III estão corretas.
- (E) Apenas I e IV estão corretas.

---

**NOÇÕES DE INFORMÁTICA**  
**QUESTÃO 21**

---

Em atividades do dia a dia, profissionais de diversas áreas podem precisar usar o computador para acessar ordens de serviço, consultar arquivos ou ajustar informações. No sistema Windows 11, a área de trabalho é considerada o ponto inicial para essas ações.

Com base nessas informações, é CORRETO afirmar que:

- (A) A área de trabalho do Windows 11 não pode ser alterada, pois mantém sempre a mesma imagem de fundo.
- (B) O papel de parede é a imagem ou cor que aparece ao fundo da área de trabalho e pode ser modificado nas configurações.
- (C) A área de trabalho do Windows 11 é usada exclusivamente para armazenar documentos e não permite acessar programas.
- (D) O papel de parede é um recurso que não faz parte da área de trabalho do Windows 11.
- (E) O Windows 11 não possui área de trabalho, apenas pastas para acesso direto a arquivos.

---

**QUESTÃO 22**

---

Podemos utilizar o computador para acessar ferramentas como calculadora ou bloco de notas, a fim de calcular orçamentos ou anotar medidas. Para isso, é necessário saber como abrir programas no Windows.

Sobre as formas de acessar um programa, analise os itens abaixo:

- I. É possível abrir um programa pelo Menu Iniciar, clicando no ícone correspondente e localizando o aplicativo desejado.
- II. Outra forma de abrir um programa é pela Barra de Pesquisa, digitando o nome do aplicativo e clicando no resultado exibido.
- III. A única maneira de abrir um programa no Windows é utilizando atalhos criados na área de trabalho.

Está(ão) CORRETO(S):

- (A) Somente o item I.
- (B) Somente o item II.
- (C) Somente os itens I e II.
- (D) Somente os itens I e III.
- (E) Todos os itens.

---

**QUESTÃO 23**

---

Durante atividades profissionais é possível utilizar o computador para elaborar relatórios simples ou fazer anotações de serviços no Microsoft Word. Nesse programa, o Menu “Fonte” oferece recursos importantes de edição de textos.

Considerando essas informações, é CORRETO afirmar que:

- (A) O Menu “Fonte” serve apenas para alterar o alinhamento do texto, como centralizar ou justificar.
- (B) O Menu “Fonte” permite ajustar tamanho, tipo e cor das letras, além de aplicar estilos como Negrito e Itálico.
- (C) O Menu “Fonte” é utilizado somente para inserir imagens e tabelas em documentos.
- (D) O Menu “Fonte” possibilita alterar margens e espaçamentos da página.
- (E) O Menu “Fonte” permite salvar o arquivo diretamente em pastas do computador.

---

**QUESTÃO 24**

---

Em algumas atividades, como o controle de materiais utilizados em obras, é comum que profissionais utilizem planilhas eletrônicas para organizar cálculos e informações. O Microsoft Excel é um programa desse tipo, oferecendo recursos variados, como fórmulas e atualização automática de resultados.

Considerando essas informações, é CORRETO afirmar que no Microsoft Excel:

- (A) As linhas de uma planilha são representadas por letras e se movimentam com as setas direita e esquerda.
- (B) As linhas de uma planilha indicam o local exato onde se inserem as fórmulas, sendo sempre fixas.
- (C) As linhas de uma planilha são responsáveis apenas pela criação de gráficos em 3D.
- (D) As linhas de uma planilha correspondem ao conjunto de células na posição horizontal, identificadas por números.
- (E) As linhas de uma planilha permitem apenas a inserção de imagens, não possuindo relação com cálculos.

**QUESTÃO 25**

Muitas vezes é necessário consultar informações técnicas ou acompanhar projetos pela Internet. Cada página disponível nesse ambiente possui um endereço específico.

A respeito desse tema, marque C para as afirmativas corretas, E para as erradas e, em seguida, assinale a alternativa que apresenta a sequência CORRETA:

( ) Cada página da Internet é identificada por um endereço denominado URL.

( ) A Internet é formada pela conexão de várias redes de diferentes portes.

( ) O URL é o nome dado a computadores que não estão conectados à Internet.

(A) C – C – C

(B) E – C – C

(C) C – E – E

(D) E – E – C

(E) C – C – E

**CONHECIMENTOS ESPECÍFICOS****QUESTÃO 26**

Com relação ao Código de Ética de Enfermagem, é incorreto afirmar que:

(A) O profissional deve respeitar a vida, a dignidade e os direitos humanos em todas as suas dimensões.

(B) Ter acesso às informações relacionadas à pessoa, família e coletividade, necessárias ao exercício profissional.

(C) O enfermeiro tem o dever de abster-se de revelar informações confidenciais de que tenha conhecimento em razão de seu exercício profissional.

(D) O profissional deve atuar com responsabilidade, honestidade e justiça em sua prática.

(E) O profissional pode utilizar a sua função para obter vantagens pessoais em detrimento do paciente.

**QUESTÃO 27**

Durante a aferição da pressão arterial, a largura da bolsa de borracha do manguito deve corresponder a aproximadamente:

(A) 20% da circunferência do braço.

(B) 30% da circunferência do braço.

(C) 40% da circunferência do braço.

(D) 50% da circunferência do braço.

(E) 60% da circunferência do braço.

**QUESTÃO 28**

Assinale a alternativa que preenche CORRETAMENTE a lacuna do texto:

A reanimação cardiopulmonar (RCP) em adultos deve ser iniciada com a relação de compressões torácicas e ventilações de \_\_\_\_\_.

(A) 15:2

(B) 20:2

(C) 30:2

(D) 10:1

(E) 50:5

**QUESTÃO 29**

A respeito do aleitamento materno, correlacione a COLUNA I com a COLUNA II.

COLUNA I

1. Aleitamento materno exclusivo.

2. Aleitamento materno predominante.

3. Aleitamento materno complementado.

COLUNA II

( ) Quando a criança recebe apenas leite materno, direto da mama ou ordenhado.

( ) Quando a criança recebe leite materno e também água, chás ou sucos.

( ) Quando a criança recebe leite materno e também outros alimentos sólidos ou semissólidos.

Assinale a alternativa que apresenta a sequência correta:

(A) 1 – 3 – 2

(B) 2 – 1 – 3

(C) 3 – 2 – 1

(D) 1 – 2 – 3

(E) 2 – 3 – 1

**QUESTÃO 30**

Considere as afirmativas sobre os deveres do enfermeiro:

- I. Fundamentar suas relações no direito, na prudência, no respeito, na solidariedade e na diversidade de opinião e posição ideológica.
- II. Exercer a profissão com justiça, competência, responsabilidade e honestidade.
- III. Utilizar sua posição para obter vantagens pessoais em detrimento da assistência ao paciente.

Está(ão) correta(s) a(s) afirmativa(s):

- (A) Apenas I.
- (B) I e II.
- (C) Apenas II.
- (D) II e III.
- (E) I, II e III.

**QUESTÃO 31**

Um paciente necessita receber 750 mg de um antibiótico. O frasco-ampola contém 1 g em 10 mL. Qual o volume a ser administrado?

- (A) 5 ml.
- (B) 6,5 ml.
- (C) 7,5 ml.
- (D) 8,0 ml.
- (E) 10 ml.

**QUESTÃO 32**

A respeito dos marcos do desenvolvimento infantil, correlacione a COLUNA I com a COLUNA II.

COLUNA I

1. Senta sem apoio.
2. Anda com apoio.
3. Inicia primeiras palavras.

COLUNA II

- ( ) Em torno de 12 meses.
- ( ) Em torno de 9 meses.
- ( ) Em torno de 6 meses.

Assinale a alternativa que apresenta a sequência correta:

- (A) 1 – 2 – 3
- (B) 2 – 3 – 1
- (C) 3 – 1 – 2
- (D) 1 – 3 – 2
- (E) 3 – 2 – 1

**QUESTÃO 33**

Sobre a higienização das mãos em serviços de saúde, assinale a alternativa correta.

- (A) A higienização simples deve ser realizada por pelo menos 10 segundos.
- (B) A fricção antisséptica com preparação alcoólica deve durar de 20 a 30 segundos.
- (C) O uso de luvas substitui a necessidade de higienização das mãos.
- (D) A lavagem cirúrgica das mãos deve durar menos de 1 minuto.
- (E) A higienização é recomendada apenas antes do contato com o paciente.

**QUESTÃO 34**

Sobre acidentes com serpentes, analise as afirmativas abaixo, considerando V para verdadeiro e F para falso:  
( ) O soro antiveneno deve ser administrado o mais precocemente possível, conforme classificação clínica.

( ) É recomendado realizar torniquete no membro afetado para reduzir a circulação do veneno.

( ) A vítima deve ser mantida em repouso e encaminhada imediatamente a um serviço de saúde.

A sequência correta é:

- (A) V, F, V
- (B) V, V, F
- (C) F, V, V
- (D) F, F, V
- (E) V, V, V

**QUESTÃO 35**

Assinale a alternativa que preenche corretamente a lacuna do texto:

A vacina BCG deve ser aplicada, preferencialmente, nas primeiras \_\_\_\_\_ de vida da criança, sendo indicada para prevenção das formas graves de tuberculose.

- (A) 12 horas.
- (B) 24 horas.
- (C) 48 horas.
- (D) 4 semanas.
- (E) 6 semanas.

**QUESTÃO 36**

Sobre as precauções básicas para prevenção de infecção no centro cirúrgico, assinale a alternativa correta.

- (A) A equipe cirúrgica deve usar máscara apenas em cirurgias de grande porte.
- (B) O uso de gorro é opcional, desde que o cabelo esteja preso.
- (C) A degermação das mãos deve ser feita antes de cada procedimento cirúrgico.
- (D) A circulação de pessoas na sala cirúrgica não interfere na contaminação ambiental.
- (E) O uso de campos estéreis é desnecessário quando se utilizam luvas cirúrgicas.

**QUESTÃO 37**

Assinale a alternativa que preenche corretamente a lacuna do texto:

O choque \_\_\_\_\_ ocorre em decorrência de perda súbita e significativa de volume circulante, como em hemorragias e desidratação grave.

- (A) séptico.
- (B) cardiogênico.
- (C) neurogênico.
- (D) anafilático.
- (E) hipovolêmico.

**QUESTÃO 38**

Sobre a avaliação da superfície corporal queimada (SCQ) em adultos pela Regra dos 9 de Wallace, assinale a alternativa correta.

- (A) Cada membro inferior corresponde a 9% da SCQ.
- (B) A região anterior do tronco corresponde a 18% da SCQ.
- (C) A cabeça e o pescoço correspondem a 12% da SCQ.
- (D) Cada membro superior corresponde a 12% da SCQ.
- (E) A região posterior do tronco corresponde a 27% da SCQ.

**QUESTÃO 39**

No sistema de alojamento conjunto, assinale a alternativa correta.

- (A) O recém-nascido deve permanecer isolado em berçário até completar 48 horas de vida.
- (B) O alojamento conjunto favorece a amamentação precoce e o vínculo mãe-bebê.
- (C) É restrito a recém-nascidos com peso inferior a 2.000 g.
- (D) É contraindicado em mães submetidas a parto cesáreo.
- (E) É prática opcional, sem recomendação do Ministério da Saúde.

**QUESTÃO 40**

Sobre as definições presentes na legislação referente à notificação compulsória no âmbito da vigilância em saúde, analise as afirmativas:

I. Agravado: qualquer dano à integridade física ou mental do indivíduo, provocado por circunstâncias nocivas, tais como acidentes, intoxicações por substâncias químicas, abuso de drogas ou lesões decorrentes de violências interpessoais e autoprovocadas.

II. Autoridades de saúde: o Ministério da Saúde e as Secretarias de Saúde dos Estados, Distrito Federal e Municípios, responsáveis pela vigilância em saúde em cada esfera de gestão do SUS.

III. Doença: enfermidade ou estado clínico, independente de origem ou fonte, que represente ou possa representar um dano significativo para os seres humanos.

Está(ão) correta(s):

- (A) Apenas I.
- (B) Apenas II.
- (C) Apenas III.
- (D) I, II e III.
- (E) Apenas I e III.

**QUESTÃO 41**

Para a coleta de exame de urina tipo I (EAS), recomenda-se que o paciente:

- (A) Utilize recipiente de vidro previamente lavado em casa.
- (B) Recolha o jato inicial da urina diretamente no frasco.
- (C) Despreze o primeiro jato urinário e colete o jato médio.
- (D) Mantenha o frasco aberto por 30 minutos antes da coleta.
- (E) Misture urina de diferentes micções ao longo do dia.

**QUESTÃO 42**

A classificação de gravidade do afogamento é essencial para orientar o atendimento inicial. Sobre essa classificação, assinale a alternativa correta.

- (A) O Grau 2 apresenta paciente consciente, com estertores leves a moderados.
- (B) O Grau 5 caracteriza-se por paciente consciente, com edema agudo de pulmão e hipotensão.
- (C) O Grau 3 corresponde a paciente inconsciente, em parada respiratória.
- (D) O Grau 6 é definido como paciente inconsciente, em parada respiratória isolada.
- (E) O Grau 1 corresponde a paciente inconsciente, mas com tosse presente.

**QUESTÃO 43**

A sífilis é uma Infecção Sexualmente Transmissível causada por:

- (A) *Neisseria gonorrhoeae*.
- (B) *Treponema pallidum*.
- (C) *Trichomonas vaginalis*.
- (D) *Papilomavírus humano (HPV)*.
- (E) *Haemophilus ducreyi*.

**QUESTÃO 44**

Considere as afirmativas sobre o atendimento inicial ao politraumatizado:

- I. Deve-se garantir, em primeiro lugar, a permeabilidade das vias aéreas.
- II. O controle de hemorragias externas faz parte da avaliação primária.
- III. O exame neurológico detalhado é realizado ainda na avaliação primária.

Está(ão) correta(s):

- (A) Apenas I.
- (B) Apenas II.
- (C) I e II.
- (D) II e III.
- (E) I, II e III.

**QUESTÃO 45**

Assinale a alternativa que preenche corretamente a lacuna do texto:

O rastreamento do câncer de colo do útero no Brasil é realizado por meio do exame citopatológico (Papanicolau), recomendado para mulheres de \_\_\_\_\_ anos, com vida sexual ativa.

- (A) 15 a 49.
- (B) 20 a 64.
- (C) 25 a 64.
- (D) 30 a 70.
- (E) 18 a 59.

**QUESTÃO 46**

Sobre o esquema de vacinação contra hepatite B, assinale a alternativa correta:

- (A) O esquema vacinal padrão é composto por duas doses, com intervalos de 60 dias entre elas.
- (B) A primeira dose deve ser administrada exclusivamente após o primeiro mês de vida.
- (C) O esquema geral é composto por três doses, aplicadas nos intervalos de 0, 1 e 6 meses.
- (D) A vacina pentavalente substitui a vacina de hepatite B monovalente em recém-nascidos.
- (E) A vacina contra hepatite B é aplicada por via oral, preferencialmente após 30 dias de vida.

**QUESTÃO 47**

Segundo a Lei nº 7.498/1986, é privativo do enfermeiro:

- (A) Executar curativos simples em pacientes estáveis.
- (B) Planejamento, organização, coordenação, execução e avaliação dos serviços da assistência de enfermagem.
- (C) Administrar medicamentos apenas por via oral.
- (D) Realizar punção venosa periférica em qualquer situação.
- (E) Executar coleta de exames laboratoriais.

**QUESTÃO 48**

Assinale a alternativa que apresenta conduta correta em relação à criança hospitalizada.

- (A) Separar a criança do acompanhante para evitar interferência no cuidado.
- (B) Estimular a presença dos pais ou responsáveis durante a internação.
- (C) Restringir visitas de familiares, mesmo quando não há risco de infecção.
- (D) Evitar a participação dos cuidadores em atividades de higiene.
- (E) Contraindicar o alojamento conjunto por aumentar ansiedade materna.

**QUESTÃO 49**

Considere as afirmativas:

I. O HPV é um vírus associado ao câncer de colo do útero.

II. A vacina contra o HPV é oferecida no SUS para meninas e meninos de 9 a 14 anos.

III. O HPV causa exclusivamente lesões malignas, não havendo formas benignas.

Está(ão) correta(s):

- (A) Apenas I.
- (B) Apenas II.
- (C) I e II.
- (D) II e III.
- (E) I, II e III.

**QUESTÃO 50**

Assinale a alternativa que preenche corretamente a lacuna do texto:

Segundo o Ministério da Saúde, a amamentação deve ser exclusiva até os \_\_\_\_\_ meses de idade, sendo recomendada a manutenção do aleitamento até os dois anos ou mais.

- (A) 2
- (B) 4
- (C) 6
- (D) 8
- (E) 12

