



Município de Quevedos/RS
Concurso Público 001/2026

CADERNO DE PROVA


TÉCNICO EM CONTABILIDADE


INSTRUÇÕES




Confira se esse Caderno de Prova contém a quantidade de questões indicadas. A substituição deste Caderno de Prova ocorre apenas antes de iniciar a prova.


PROVA TEÓRICO-OBJETIVA

 3 horas

 40 questões

 4 alternativas

 Saída permitida somente após 1 hora de prova

 O candidato só poderá levar este Caderno após 2 horas de prova

- ⊗ O tempo de prova inclui o preenchimento do Cartão-Resposta.
- ⊗ Nenhuma informação acerca do conteúdo das questões será fornecida pelo Fiscal de Sala, pois é parte integrante da prova.
- ⊗ Antes de sair da Sala de Prova, entregue o Cartão-Resposta ao Fiscal de Sala, **devidamente assinado**, e, após, se desloque imediatamente para a saída do local de prova.
- ⊗ Ao final da prova, os 03 (três) últimos candidatos deverão permanecer na Sala de Prova até que o último termine a sua prova, devendo ambos testemunhar a devolução e o lacre dos documentos.
- ⊗ A divulgação do gabarito preliminar se dará conforme Cronograma de Execução do certame.

TODOS OS DIREITOS RESERVADOS À LEGALLE CONCURSOS. PROIBIDO REPRODUÇÃO.

RASCUNHO PARA GABARITO

| | | | | | | | | | | | | | | | |
|----|--|----|--|----|--|----|--|----|--|----|--|----|--|----|--|
| 01 | | 06 | | 11 | | 16 | | 21 | | 26 | | 31 | | 36 | |
| 02 | | 07 | | 12 | | 17 | | 22 | | 27 | | 32 | | 37 | |
| 03 | | 08 | | 13 | | 18 | | 23 | | 28 | | 33 | | 38 | |
| 04 | | 09 | | 14 | | 19 | | 24 | | 29 | | 34 | | 39 | |
| 05 | | 10 | | 15 | | 20 | | 25 | | 30 | | 35 | | 40 | |

Para responder às questões 01 a 06, leia o texto abaixo.

Custo para universalizar água e esgoto nos municípios mais eficientes do país varia de R\$ 301 a R\$ 394 por pessoa

O Instituto de Pesquisa Econômica Aplicada (Ipea) identificou custos operacionais para universalizar os serviços de água e esgoto a partir da experiência dos 367 municípios brasileiros mais eficientes em custos e mais efetivos na prestação do serviço. A ideia é que os valores possam servir de referência na estruturação de contratos de concessão para processos competitivos de seleção de fornecedores, uma exigência do Novo Marco do Saneamento (Lei Federal nº 14.026/2020) para municípios que queiram apoio financeiro do governo federal, mas também em programas de universalização baseados em prestação direta.

“As estimativas de investimentos e custos são essenciais para se auferir em quanto os usuários e contribuintes serão onerados para se universalizar os serviços. Neste trabalho, indicamos benchmarks de custos operacionais que possam ser úteis aos gestores, que irão escolher aqueles mais alinhados à realidade do município”, explicou o técnico de planejamento e pesquisa do Ipea Fabiano Pompermayer, que assina o estudo.

Para a análise, feita a partir da técnica chamada de Análise Envolvória de Dados, foram considerados dados disponíveis no Sistema Nacional de Informação sobre Saneamento (SNIS), o nível de cobertura e o de eficiência técnica dos prestadores. Apesar da maior concentração de municípios que atendiam aos critérios estabelecidos nos estados de São Paulo e Paraná, há municípios das cinco regiões do país nos grupos de benchmarks.

Para municípios de até 10 mil habitantes, os valores de referência obtidos foram de R\$ 313,05 e R\$ 331,23 ao ano por pessoa atendida, a depender dos critérios considerados. Naqueles de 10 a 50 mil habitantes, foram de R\$ 300,89 e R\$ 328,16. Já nas cidades de 50 a 250 mil habitantes, os custos operacionais foram de R\$ 313,92 e R\$ 332,47 ao ano por pessoa atendida enquanto nas que têm mais de 250 mil habitantes foram de R\$ 386,21 e R\$ 393,93 anuais, por pessoa.

O Plano Nacional de Saneamento Básico (Plansab) traçou a meta de 99% dos domicílios brasileiros com abastecimento de água e 92% com coleta e destinação adequada de esgoto em 2033. Os valores ainda são distantes da realidade do país, que tinha, em 2022, 95,6% das residências abastecidas com água e 77,4% servidas por rede coletora de esgoto ou fossa séptica, de acordo com os índices apurados pelo próprio Plansab.

A baixa qualidade dos serviços também gera externalidades ambientais preocupantes. Conforme o SNIS, em 2022, 37,8% da água potável disponibilizada foi perdida na distribuição e apenas 52,2% do esgoto coletado foi tratado adequadamente.

Fonte: <https://www.ipea.gov.br/portal/categorias/45-todas-as-noticias/noticias/16109-custo-para-universalizar-agua-e-esgoto-nos-municipios-mais-eficientes-do-pais-varia-de-r-301-a-r-394-por-pessoa> (adaptado)

Questão 01. A conversão das vozes verbais exige conhecimento das relações morfossintáticas. Considere o trecho retirado do texto: **O Instituto de Pesquisa Econômica Aplicada (Ipea) identificou custos operacionais.** Diante disso, assinale a alternativa que apresenta a conversão CORRETA dessa oração da voz ativa para a voz passiva analítica, mantendo-se o tempo verbal original.

- (A) Custos operacionais identificavam o Instituto de Pesquisa Econômica Aplicada (Ipea).
- (B) Custos operacionais são identificados pelo Instituto de Pesquisa Econômica Aplicada (Ipea).
- (C) Custos operacionais foram identificados pelo Instituto de Pesquisa Econômica Aplicada (Ipea).
- (D) Identificaram-se custos operacionais pelo Instituto de Pesquisa Econômica Aplicada (Ipea).

Questão 02. Os sinais de pontuação não apenas organizam as frases, mas carregam implicações de sentido. No segundo parágrafo, o uso das aspas no trecho **“As estimativas de investimentos e custos são essenciais para se auferir em quanto os usuários e contribuintes serão onerados para se universalizar os serviços. [...]”** tem a finalidade CORRETA de:

- (A) Destacar um estrangeirismo recém-incorporado ao vocabulário técnico da área de saneamento.
- (B) Demarcar a citação direta da fala de uma autoridade, recurso de argumentação utilizado para conferir credibilidade ao que está sendo abordado.
- (C) Sinalizar uma expressão irônica e metafórica do autor do texto sobre os investimentos do governo federal.
- (D) Separar um trecho que apresenta intencionalmente marcas de oralidade informal para criar proximidade com o leitor.

Questão 03. No quarto parágrafo, encontra-se o trecho: **[...] nas cidades de 50 a 250 mil habitantes, os custos operacionais foram de R\$ 313,92 e R\$ 332,47 ao ano por pessoa atendida enquanto nas que têm mais de 250 mil habitantes foram de R\$ 386,21 e R\$ 393,93 anuais, por pessoa.** A palavra sublinhada estabelece entre as orações uma relação que exprime de forma CORRETA:

- (A) Causa e consequência, justificando detalhadamente por que as metrópoles exigem investimentos orçamentários maiores.
- (B) Condição estrita, sugerindo que os valores estipulados para os municípios menores dependem exclusivamente do tamanho geográfico da cidade.
- (C) Tempo atrelado a um valor de contraste, traçando um paralelo comparativo entre as diferentes faixas populacionais analisadas.
- (D) Finalidade, demonstrando o objetivo do instituto de confrontar a pobreza das pequenas cidades com a riqueza dos grandes centros.

Questão 04. No terceiro parágrafo, lê-se: **Apesar da maior concentração de municípios que atendiam aos critérios estabelecidos nos estados de São Paulo e Paraná, há municípios das cinco regiões do país nos grupos de benchmarks.** Diante disso, a expressão sublinhada estabelece uma relação CORRETA de:

- (A) Consequência, demonstrando o resultado lógico e direto da concentração de municípios em São Paulo e no Paraná.
- (B) Condição, indicando o requisito estrito e necessário para que haja municípios nas cinco regiões do país.
- (C) Adição, somando a nova informação de que existem mais municípios no Sul e no Sudeste do que nas outras regiões.
- (D) Concessão, introduzindo um fato que contrasta com a expectativa criada pela oração principal, mas não impede a sua realização.

Questão 05. No trecho **Os valores ainda são distantes da realidade do país, que tinha, em 2022, 95,6% das residências abastecidas...**, o termo sublinhado é um pronome relativo. Diante disso, assinale a alternativa que indica a sua classificação sintática e o seu referente CORRETOS nesse período.

- (A) Exerce função de sujeito simples e retoma o substantivo **país**.
- (B) Exerce função de objeto direto e retoma o substantivo **realidade**.
- (C) Exerce função de sujeito e retoma a expressão **Os valores**.
- (D) Exerce função de adjunto adnominal e retoma cronologicamente o termo **2022**.

Questão 06. O título da notícia menciona o **Custo para universalizar água e esgoto**. O verbo sublinhado é constituído pelo processo CORRETO de:

- (A) Derivação prefixal, mediante o acréscimo isolado do afixo **uni-** à base do vocábulo.
- (B) Derivação sufixal, a partir da junção do sufixo verbalizador **-izar** ao adjetivo base **universal**.
- (C) Composição por aglutinação, fundindo as palavras primitivas **universo** e **alisar** com perda fonética.
- (D) Derivação parassintética, ocorrendo pela adição simultânea e obrigatória de prefixo e sufixo.

MATEMÁTICA

Questão 07. Em um concurso, as notas de um candidato em três blocos de matérias tiveram pesos diferentes: Conhecimentos Específicos (peso 3), Língua Portuguesa (peso 2) e Raciocínio Lógico (peso 1). Se o candidato obteve notas 8, 7 e 9, respectivamente, qual foi a sua média aritmética ponderada final aproximada?

- (A) 7,83.
- (B) 8,12.
- (C) 7,50.
- (D) 7,95.

Questão 08. O número de processos autuados em uma repartição dobrou a cada mês durante o primeiro quadrimestre do ano. Se no mês de janeiro foram autuados 40 processos, qual foi o total acumulado de processos que deram entrada nessa unidade ao final dos quatro primeiros meses, considerando que o crescimento seguiu rigorosamente uma progressão geométrica?

- (A) 640.
- (B) 580.
- (C) 620.
- (D) 600.

Questão 09. Em um processo de digitalização de documentos, um servidor consegue processar uma quantidade de pastas que segue a lei $P(t) = 4t - 14$, sendo t o tempo em horas de trabalho efetivo. No entanto, para que o sistema de gerenciamento de arquivos considere o lote como "iniciado", a função deve resultar em um valor positivo. Determine após quanto tempo de trabalho, em horas e minutos, o servidor terá digitalizado exatamente 18 pastas, considerando que o ritmo de execução é perfeitamente linear conforme a função e assinale a alternativa CORRETA.

- (A) 7h30min.
- (B) 8h00min.
- (C) 8h45min.
- (D) 9h15min.

Questão 10. Um pátio de manobras tem o formato de um trapézio isósceles, cujas bases medem 45 metros e 25 metros. A altura desse trapézio, que corresponde à distância perpendicular entre as duas bases paralelas, é de 15 metros. A administração pretende pintar toda a superfície desse pátio com uma tinta sinalizadora. Qual é a medida da área total que será coberta pela pintura, levando em conta as dimensões fornecidas para o cálculo da superfície plana desse local de movimentação de veículos?

- (A) 515 m².
- (B) 500 m².
- (C) 525 m².
- (D) 535 m².

Questão 11. Um contrato de prestação de serviços prevê um reajuste anual baseado em um índice de preços. No primeiro ano, o valor do contrato era de R\$ 8.000,00 mensais. Para o segundo ano, houve um aumento de 10% e, para o terceiro ano, um novo reajuste de 5% sobre o valor já atualizado do segundo ano. Qual passou a ser o valor mensal do contrato no terceiro ano de vigência, após a aplicação sucessiva dessas duas taxas de correção previstas no documento oficial?

- (A) R\$ 9.240,00.
- (B) R\$ 9.200,00.
- (C) R\$ 9.180,00.
- (D) R\$ 9.280,00.

Questão 12. Um departamento operacional possui 5 servidores ativos com as seguintes idades registradas no sistema de recursos humanos: 28, 35, 42, 50 e 55 anos. No início deste mês, um novo servidor de exatos 30 anos foi transferido para compor a força de trabalho deste departamento. Com a inclusão deste novo integrante na equipe, a gerência administrativa precisa atualizar o indicador que representa o valor médio de idade de todo o grupo de colaboradores lotados no setor. Qual é o novo valor encontrado?

- (A) 38 anos.
- (B) 42 anos.
- (C) 40 anos.
- (D) 45 anos.

UTILIZE ESTE ESPAÇO PARA CÁLCULOS

INFORMÁTICA

Questão 13. Um servidor está finalizando um relatório técnico no Microsoft Word 365 que deverá ser impresso em frente e verso e posteriormente encadernado. Para atender às normas institucionais de publicação, ele precisa garantir que as páginas pares e ímpares se ajustem dinamicamente, mantendo a margem interna sempre alinhada e diferente da margem externa. Considerando os recursos de configuração de página do Word 365, assinale a alternativa CORRETA.

- (A) O recurso de orientação de página em **Paisagem** é o único que permite configurar páginas pares e ímpares.
- (B) A opção **Normal** atende essa exigência para documentos impressos em frente e verso.
- (C) A configuração de margens espelhadas deve ser utilizada para esse tipo de documento.
- (D) O Word não permite a diferenciação entre margens internas e externas, operando apenas com margens fixas à esquerda e à direita.

Questão 14. Um servidor público está elaborando um documento no Microsoft Word 365 e seleciona um parágrafo específico para destacar uma informação importante. Em seguida, acessa a guia **Página Inicial** → **Bordas** e escolhe a opção **Bordas Externas**. Considerando o comportamento padrão do Word, assinale a alternativa que descreve CORRETAMENTE o efeito dessa ação.

- (A) O Word aplica um contorno individual ao redor de cada uma das palavras que compõem o parágrafo.
- (B) O Word aplica uma borda apenas nas laterais esquerda e direita do parágrafo, mantendo as extremidades superior e inferior sem formatação.
- (C) O Word insere uma borda completa ao redor do parágrafo selecionado, formando um contorno nas quatro extremidades do bloco de texto.
- (D) O Word converte automaticamente o parágrafo em uma estrutura de tabela com uma única célula para viabilizar a aplicação das bordas.

Questão 15. Considerando os recursos nativos do sistema operacional Windows 11 relacionados à manipulação e visualização de arquivos, analise as assertivas a seguir:

- I. O **Bloco de Notas** é o editor de texto nativo do Windows 11 projetado para converter e modificar a estrutura de arquivos .pdf mantendo sua formatação visual original.
- II. No Explorador de Arquivos, o usuário pode visualizar o conteúdo de um arquivo .pdf sem abri-lo, desde que o **Painel de Visualização** esteja ativado.

Acerca das assertivas, pode-se afirmar que:

- (A) I e II estão corretas.
- (B) Apenas I está correta.
- (C) Apenas II está correta.
- (D) I e II estão incorretas.

Questão 16. Durante a edição de um relatório técnico no Microsoft Word, em um computador configurado com o Windows 11, um servidor público executa um comando para abrir um hiperlink (link de internet) inserido no texto. Sabendo que o computador possui o Microsoft Edge, o Mozilla Firefox e o Google Chrome instalados, mas o Google Chrome está configurado como o navegador padrão do sistema, qual será o comportamento imediato do sistema operacional diante dessa ação?

- (A) O Microsoft Word abrirá o link em seu próprio navegador interno, sem acionar softwares externos.
- (B) O link será bloqueado pelo Firewall do Windows, pois o sistema operacional não reconhece o Google Chrome como um protocolo de hipertexto seguro.
- (C) O Windows 11 exibirá uma janela pop-up forçando o usuário a escolher, de forma manual, qual navegador quer usar para aquele clique específico.
- (D) O link será aberto automaticamente em uma nova janela ou guia do Google Chrome.

Questão 17. Durante a navegação na internet utilizando o Google Chrome, um usuário deseja abrir exatamente a mesma página web que está visualizando no momento em uma nova guia, com o objetivo de comparar informações de diferentes partes desse mesmo site. Para realizar essa tarefa de forma rápida e direta, ele deve clicar com o botão direito do mouse sobre a guia atual e, no menu de contexto que é exibido, selecionar o comando:

- (A) Duplicar.
- (B) Copiar e Colar.
- (C) Recarregar Página.
- (D) Abrir Nova Guia.

Questão 18. No sistema operacional Windows 11, o usuário pode automatizar tarefas de manutenção preventiva para otimizar o espaço em disco. Caso ele deseje programar o sistema para esvaziar a Lixeira automaticamente após um período determinado de dias em que os arquivos permaneçam nela (como 1, 14, 30 ou 60 dias), qual recurso nativo, localizado nas Configurações > Sistema, deve ser ativado e configurado?

- (A) Otimização de arquivos.
- (B) Sensor de armazenamento.
- (C) Recomendações de limpeza.
- (D) Limpeza de disco histórica.

ATUALIDADES

Questão 19. Perto do fim da Guerra dos Farrapos, ocorreu um episódio trágico que marcou as negociações de paz em novembro de 1844. Considerando isso, em que consistiu o chamado Massacre de Porongos?

- (A) No extermínio surpresa da cavalaria uruguaia que apoiava os conservadores no norte da província.
- (B) No cerco e no assassinato de mais de cem lanceiros negros, com apontamentos de historiadores sobre a traição e colaboração dos próprios líderes farroupilhas.
- (C) Na execução sumária em praça pública de todos os estancieros que aderiram ao separatismo republicano catarinense.
- (D) Na invasão imperial à capital farrapa de Piratini, com a morte instantânea de Bento Gonçalves e sua família.

Questão 20. A Guerra dos Farrapos contou com personagens que lideraram tropas pelos pampas, como Giuseppe Garibaldi. Assim, qual feito esse capitão italiano protagonizou durante o conflito para não ser cercado e capturado pela marinha imperial brasileira?

- (A) Inundou os campos do sul, escavando à mão um grande rio navegável conectando o interior ao mar.
- (B) Construiu um forte submarino de madeira e couro e viajou sem ser notado por todo o litoral de Laguna.
- (C) Atravessou as terras secas dos pampas por via terrestre levando os seus barcos puxados através da força de juntas de boi.
- (D) Rendeu-se provisoriamente, fingindo integrar as tropas do Barão de Caxias e liderando o próprio império.

Questão 21. Embora tenha se popularizado intensamente, a expressão pré-sal requer conhecimentos sobre a historiografia dessa fonte econômica brasileira. Sob essa ótica, por que essa reserva recebeu o nome específico de pré-sal?

- (A) Porque foi identificada uma quantidade de minério salino inédito dentro do corpo principal de carbono.
- (B) Devido ao seu grande potencial elétrico capaz de dessalinizar e clarear a água oceânica.
- (C) O nome deve-se ao fato de a rocha geradora do óleo ter se formado em um período geológico anterior à deposição e acúmulo da camada salina posicionada imediatamente acima dela.
- (D) Pois trata-se do subproduto rejeitado e filtrado de pântanos ricos em calcário, não aproveitado pelo sal de cozinha comercial no antigo continente de Gondwana.

Questão 22. Em Brumadinho (MG), relatórios e investigações das forças policiais avaliaram o local de uma das maiores tragédias ambientais da história do Brasil, para identificar o que derrubou e rompeu a barragem. Segundo laudo da Polícia Federal de 2021, qual foi o estopim técnico apontado como gatilho da liquefação que destruiu a estrutura de Córrego do Feijão?

- (A) Um tremor de grau elevado na escala Richter medido na noite anterior.
- (B) Perfurações verticais realizadas na represa poucos dias antes, que aumentaram a pressão exercida sobre a estrutura já frágil.
- (C) Cargas de dinamite detonadas nas pedreiras clandestinas que operavam abaixo da montanha e secaram o rio.
- (D) Uma tromba d'água excepcional não registrada pela meteorologia que varreu de jusante para montante as instalações civis.

Questão 23. A história do território da localidade gaúcha de Quevedos conta com um legado deixado por seu colonizador primitivo a partir de 1802. Na evolução do vilarejo e na infraestrutura dos mais velhos habitantes, como surgiu historicamente o chamado Cemitério Velho?

- (A) Surgiu como local de enterramento dos farrapos mortos pela marinha imperial nas margens da costa do Toropi em 1835.
- (B) O cemitério começou como um campo de batalha utilizado pelos combatentes de São Borja logo após as Missões Jesuíticas.
- (C) Desenvolveu-se a partir do quadro, originalmente cercado de taipa de pedra, pertencente à primeira e rústica capela de madeira que ruiu e consumiu-se com o tempo, onde o fundador Quevedo pediu para ser sepultado.
- (D) Foi erguido pelo governo provincial como marco da passagem de Dom Pedro II no pampa missioneiro.

Questão 24. A área oceânica onde as jazidas gigantes de petróleo se encontram não está disposta em apenas um aglomerado contínuo. A imensa formação de 149.000 km² das rochas do pré-sal distribui-se ativamente no subsolo e repousa sobre quais três bacias sedimentares brasileiras?

- (A) Bacia do Paraná, Bacia do Recôncavo Baiano e Bacia de Pelotas.
- (B) Bacia de Santos, Bacia de Campos e Bacia do Espírito Santo.
- (C) Bacia do Parnaíba, Bacia do Solimões e Bacia Potiguar.
- (D) Bacia da Foz do Amazonas, Bacia de Tucano e Bacia do Jacuí.

LEGISLAÇÃO

Questão 25. Tem-se que os Vereadores, o Prefeito e o Vice-Prefeito serão remunerados por subsídio fixado por lei, em data antes das eleições, observado o disposto na Constituição Federal, na Constituição Estadual e na Lei Orgânica. Nesse sentido, analise as assertivas:

- I. A lei fixará critérios de indenização de despesas de viagem do Prefeito, Vice-Prefeito e dos Vereadores, sendo considerada, também, como remuneração.
- II. No caso da não fixação da remuneração prevalecerá a remuneração do mês de dezembro do último ano da legislatura, sendo este valor atualizado monetariamente pelo índice oficial.

Acerca das assertivas, pode-se afirmar que:

- (A) Apenas I está correta.
- (B) I e II estão corretas.
- (C) Apenas I está incorreta.
- (D) I e II estão incorretas.

Questão 26. Analise o texto a seguir, acerca dos Vereadores, com base na Lei Orgânica:

Os Vereadores gozam de inviolabilidade por suas opiniões, palavras e votos no exercício do mandato e na circunscrição do Estado, sendo que é incompatível com o decoro parlamentar, além dos casos previstos no Regimento Interno, o abuso das prerrogativas asseguradas aos Vereadores, ou a percepção, por estes, de vantagens indevidas.

Acerca do texto, pode-se afirmar que ele está:

- (A) Plenamente adequado, visto que observa a legislação municipal vigente.
- (B) Plenamente inadequado, visto que em nada observa a legislação municipal vigente.
- (C) Parcialmente adequado, visto que são os Secretários que gozam de inviolabilidade.
- (D) Parcialmente adequado, visto que a circunscrição da inviolabilidade citada é do Município.

Questão 27. O Poder Executivo, conforme traz a Lei Orgânica, é exercido pelo Prefeito, com funções políticas, executivas e administrativas, auxiliado pelos Secretários Municipais. Nesse sentido, analise o que é apresentado nas alternativas a seguir e assinale a única que apresenta somente informações as quais podem ser consideradas CORRETAS.

- (A) O Vice-Prefeito exercerá as funções do Prefeito nos casos de impedimento do titular, mas não lhe sucederá em caso de vacância.
- (B) O Vice-Prefeito poderá assumir, a critério do Prefeito, a função de Secretário Municipal, seja qual for a Secretaria podendo optar pelo subsídio.
- (C) Se até o dia 31 de Janeiro o Prefeito, salvo por motivo de força maior devidamente comprovado e aceito pela Câmara Municipal, não tiver assumido o cargo, este será declarado vago.
- (D) O afastamento do Prefeito do Estado ou do País exige a transmissão do cargo ao Presidente da Câmara Municipal, registrando-se o ato em livro próprio.

Questão 28. Quantos dos seguintes itens apresentam informações CORRETAS acerca da estabilidade, de acordo com o que traz o Regime Jurídico dos Servidores Públicos do Município? **I.** Somente o afastamento decorrente do gozo de férias legais não prejudica a avaliação do trimestre e o implemento do triênio; **II.** Em todo o processo de avaliação, o servidor terá vistas de cada boletim de estágio, podendo se manifestar sobre os itens avaliados pela(s) respectiva(s) chefia(s), devendo apor sua assinatura; **III.** O servidor que não preencher alguns dos requisitos do estágio probatório deverá receber orientação adequada para que possa corrigir as deficiências.

- (A) Nenhum deles.
- (B) Apenas 1 deles.
- (C) Apenas 2 deles.
- (D) Todos os 3.

Questão 29. Analise as partes que seguem, conforme o Regime Jurídico dos Servidores Públicos do Município: Nos casos de cometimento de falta disciplinar, salvo durante o primeiro e o último trimestre do estágio probatório, o estagiário terá a sua responsabilidade apurada através de sindicância ou processo administrativo disciplinar (**1ª parte**), observadas as normas estatutárias, independente da continuidade da apuração do estágio probatório pela Comissão Especial (**2ª parte**).

Acerca das partes, pode-se afirmar que:

- (A) Assim como a 1ª parte está correta, tem-se que a 2ª parte também está.
- (B) Enquanto a 1ª parte está correta, sabe-se que a 2ª parte não está.
- (C) Assim como a 1ª parte está incorreta, tem-se que a 2ª parte também está.
- (D) Enquanto a 1ª parte está incorreta, sabe-se que a 2ª parte não está.

Questão 30. Pode-se afirmar que é a investidura do servidor efetivo em cargo de atribuições, responsabilidades, habilitação e nível de escolaridade compatíveis com a limitação que tenha sofrido em sua capacidade física ou mental, verificada em inspeção médica oficial, aquela designada pelo Chefe do Poder Executivo ou Legislativo e integrada por no mínimo três profissionais médicos, sendo ao menos um deles Médico do Trabalho, conforme Regime Jurídico dos Servidores Públicos do Município:

- (A) Readaptação.
- (B) Recondução.
- (C) Reversão.
- (D) Revisão.

CONHECIMENTOS ESPECÍFICOS

Questão 31. Com base na Lei Federal nº 14.133/2021, que dispõe sobre as licitações e contratos administrativos, analise as assertivas e julgue V, para as Verdadeiras, ou F, para as Falsas:

- () Bens e serviços comuns são aqueles cujos padrões de desempenho e qualidade podem ser objetivamente definidos pelo edital, por meio de especificações usuais de mercado.
- () O pregão é a modalidade de licitação obrigatória para a contratação de quaisquer bens e serviços pela Administração Pública, podendo adotar como critério de julgamento o de melhor técnica ou técnica e preço.
- () O procedimento seletivo prévio à licitação, convocado por meio de edital, destinado à análise das condições de habilitação, total ou parcial, dos interessados ou do objeto, denomina-se credenciamento.

Qual alternativa preenche, CORRETAMENTE, os parênteses, na ordem em que aparecem?

- (A) V – V – F.
- (B) V – F – F.
- (C) F – F – V.
- (D) F – V – F.

Questão 32. A Lei de Responsabilidade Fiscal (LRF) estabelece limites para as despesas com pessoal, vinculando-os à Receita Corrente Líquida (RCL) de cada ente federativo. No caso dos Municípios, o limite máximo global para tais despesas corresponde a:

- (A) 50% da Receita Corrente Líquida.
- (B) 60% da Receita Corrente Líquida.
- (C) 54% da Receita Corrente Líquida.
- (D) 49% da Receita Corrente Líquida.

Questão 33. De acordo com a Lei nº 4.320/1964, que estabelece normas gerais de direito financeiro para a elaboração e o controle dos orçamentos e balanços da União, dos Estados, dos Municípios e do Distrito Federal, as despesas públicas são classificadas em categorias econômicas e detalhadas por elementos de despesa. Considerando a categoria econômica das Despesas de Capital, assinale a alternativa que apresenta um elemento pertencente às dotações de Inversões Financeiras:

- (A) Equipamentos e instalações.
- (B) Obras públicas.
- (C) Concessão de empréstimos.
- (D) Subvenções sociais.

Questão 34. De acordo com o Manual de Contabilidade Aplicada ao Setor Público (MCASP), a importância recebida para a assunção de uma obrigação corresponde ao montante de caixa ou equivalentes de caixa, ou ao valor de outra contraprestação recebida no momento em que a entidade reconhece o passivo. Essa base de mensuração de passivo denomina-se:

- (A) Valor presente.
- (B) Custo de cumprimento da obrigação.
- (C) Valor de mercado.
- (D) Custo histórico.

Questão 35. Considere que um ente da Federação tenha realizado procedimento licitatório para a aquisição de uma máquina, no valor de R\$ 80.000, destinada ao atendimento de suas atividades administrativas, com pagamento previsto em parcela única. De acordo com as normas que regem a execução da despesa pública, especialmente no que se refere à classificação do empenho, assinale a alternativa que indica CORRETAMENTE o tipo de empenho aplicável a essa despesa.

- (A) Ordinário.
- (B) Estimativo.
- (C) Global.
- (D) Originário.

Questão 36. Essa técnica orçamentária consiste na elaboração do orçamento a partir da base do exercício anterior, mediante ajustes marginais nas receitas e despesas, usualmente atualizados por índices inflacionários. Nesse modelo, preserva-se a estrutura orçamentária preexistente, com limitada reavaliação das prioridades e alternativas de alocação de recursos. Nesse contexto, assinale a alternativa que identifica CORRETAMENTE essa técnica orçamentária.

- (A) Orçamento por resultados.
- (B) Orçamento por desempenho.
- (C) Orçamento-programa.
- (D) Orçamento incremental.

Questão 37. Com base na Lei Complementar nº 214, de 16 de janeiro de 2025, que institui o Imposto sobre Bens e Serviços (IBS), analise as assertivas e julgue V, para as Verdadeiras, ou F, para as Falsas:

- () São imunes ao IBS os fornecimentos realizados pela União, pelos Estados, pelo Distrito Federal e pelos Municípios.
- () Considera-se ocorrido o fato gerador do IBS no momento do fornecimento nas operações com bens ou serviços, ainda que de execução continuada ou fracionada.
- () A base de cálculo do IBS corresponde ao valor da operação, salvo disposição em contrário prevista em lei específica.

Qual alternativa preenche, CORRETAMENTE, os parênteses, na ordem em que aparecem?

- (A) V – V – F.
- (B) V – F – V.
- (C) F – F – V.
- (D) F – V – F.

Questão 38. Determinado Município realizou operação de crédito no valor de R\$ 2.000.000, com a finalidade de antecipar receita de tributos cujo fato gerador já havia ocorrido. Com base nas normas de contabilidade aplicada ao setor público e da legislação orçamentária e financeira, é CORRETO afirmar que a entrada de recursos decorrente dessa operação deve ser classificada como:

- (A) Receita de operações de crédito.
- (B) Ingresso extraorçamentário.
- (C) Receita orçamentária de natureza tributária.
- (D) Receita de capital vinculada à arrecadação tributária.

Questão 39. Nos termos da Constituição Federal de 1988, é vedada a transposição, o remanejamento ou a transferência de recursos de uma categoria de programação para outra ou de um órgão para outro, sem prévia autorização legislativa. Todavia, admite-se exceção a essa regra em hipótese expressamente prevista no texto constitucional. Nesse sentido, a transposição, o remanejamento ou a transferência de recursos poderão ser realizados, mediante ato do Poder Executivo e independentemente de autorização legislativa prévia, no âmbito das atividades de:

- (A) Ciência, tecnologia e inovação.
- (B) Saúde pública, para enfrentamento de situações emergenciais.
- (C) Educação básica, para cumprimento de metas do plano nacional de educação.
- (D) Segurança pública, para garantia da ordem pública.

Questão 40. Considere que determinado município apresente, em seu Balanço Patrimonial, um veículo registrado pelo valor contábil de R\$ 150.000. Ao submeter esse ativo ao teste de recuperabilidade, o setor responsável apurou que o valor justo líquido de despesas de venda corresponde a R\$ 140.000. Adicionalmente, estimou-se que o valor presente do potencial de serviços remanescente do ativo é de R\$ 130.000. Com base nessas informações, é CORRETO afirmar que a contabilidade do município deverá reconhecer uma variação patrimonial diminutiva de:

- (A) R\$ 10.000, referente à perda por redução ao valor recuperável.
- (B) R\$ 20.000, em razão de reavaliação negativa do ativo.
- (C) R\$ 20.000, referente à perda por redução ao valor recuperável.
- (D) Nenhuma variação patrimonial, pois o valor contábil do ativo já reflete sua recuperabilidade.