



UNIVERSIDADE FEDERAL DE LAVRAS  
Câmpus Universitário – Caixa Postal 3037  
37203-202 – Lavras (MG)

## CONCURSO PÚBLICO – UFLA EDITAL Nº 60/2025

# PROVAS PARA O CARGO DE NÍVEL E MÉDICO VETERINÁRIO/CLÍNICA MÉDICA E CIRURGIA DE GRANDES ANIMAIS

DIA: 30/11/2025

ESTE CADERNO CONTÉM PROVAS DE:

LÍNGUA PORTUGUESA	QUESTÕES 1 A 10
MATEMÁTICA	QUESTÕES 11 A 20
LEGISLAÇÃO	QUESTÕES 21 A 35
CONHECIMENTO ESPECÍFICO	QUESTÕES 36 A 70

### INSTRUÇÕES:

Após a autorização do(a) aplicador(a), abra o caderno e confira-o, conforme as instruções abaixo:  
Cada questão contém 4 (quatro) alternativas de resposta. Apenas 1 (uma) alternativa responde à questão.

- O formulário de respostas deverá ser preenchido conforme as instruções contidas no próprio formulário e assinado apenas no espaço reservado para esse fim.
- Não será permitido o empréstimo de qualquer tipo de material entre os(as) candidatos(as), durante a realização da prova. Caso haja necessidade, o(a) candidato(a) deverá chamar o(a) fiscal.

### ATENÇÃO!

- O não cumprimento das instruções poderá acarretar a eliminação do candidato.
- O tempo de duração da prova é de 4h (quatro horas) e INCLUI o preenchimento do formulário de respostas.
- A interpretação das questões faz parte da prova.
- Este caderno será **obrigatoriamente** devolvido ao fiscal ao final da prova. O(a) candidato(a) poderá destacar a contracapa, na qual se encontra o rascunho do gabarito, **que não poderá ter nenhuma anotação extra.**
- A devolução do formulário de respostas e do caderno de prova é de inteira responsabilidade do candidato.
- Qualquer irregularidade deverá ser comunicada ao fiscal.



**LÍNGUA PORTUGUESA (QUESTÕES 1 A 10)****INSTRUÇÕES:** Leia o Texto 1 para responder às questões 1 a 4**TEXTO 1****Sociedade do espetáculo**

Maria Rita Kehl

*A frenética busca por “15 minutos de fama” nas plataformas digitais tornou-se uma perigosa armadilha, ainda mais cruel quando envolve crianças e adolescentes*

1 Esta coluna toma emprestado o título de um dos livros mais conhecidos do filósofo e teórico  
2 marxista francês Guy Debord (1931–1994). Passados mais de 30 anos de sua morte, o tema  
3 mostra-se cada vez mais atual. Para o autor, a sociedade capitalista, em seu estágio avançado,  
4 transformou as relações sociais em um grande espetáculo, no qual imagens e aparências se  
5 sobrepõem à vida real e às experiências autênticas. Nesse contexto, os sujeitos buscam sempre  
6 apresentar-se em sua melhor performance: felizes, endinheirados, desfrutando de viagens  
7 interessantes, festas incríveis etc.

8 Os “15 minutos de fama” que todos deveriam experimentar uma vez na vida, na visão idílica  
9 de Andy Warhol, tornaram-se insuficientes para quem vive neste mundo hiperconectado do  
10 século XXI. É preciso exibir-se constantemente, sempre na melhor pose possível. Não basta  
11 estar, eventualmente, feliz e desfrutando férias, jantando em um bistrô em Paris ou viajando em  
12 um cruzeiro de luxo. É necessário que muita gente saiba disso – e, de preferência, inveje tal  
13 privilégio. O espetáculo, escreve Debord, é uma relação social mediada por imagens que, por sua  
14 circulação, acabam por “dominar a vida”. A qualidade da inserção social do sujeito passa a ser  
15 medida pelas imagens que ele consegue produzir e divulgar.

16 Hoje, para o viajante, talvez importe menos o prazer de conhecer lugares novos do que o  
17 gostinho de provocar inveja nos amigos. Daí a sanha de registrar, em fotografias e vídeos,  
18 momentos supostamente maravilhosos e divulgá-los rapidamente nas redes sociais, ou enviá-  
19 los para incontáveis grupos de *WhatsApp*. Debord não poderia prever o que viria a ser o poder dos  
20 telefones celulares nas novas configurações da sociedade do espetáculo. Com um singelo  
21 aparelho de comunicação em mãos, as pessoas criam autoficções que lhes conferem prestígio  
22 diante dos outros.

23 Podemos supor, além disso, uma relação entre a predominância da imagem sobre o  
24 pensamento e o declínio das narrativas – tão caras ao meu filósofo favorito, Walter Benjamin.  
25 Quem ainda quer ouvir relatos interessantes, se estes podem ser substituídos por fotos e vídeos?  
26 Penso que o interesse genuíno em adquirir novos conhecimentos ao viajar, ou mesmo em ampliar  
27 a compreensão do mundo em que vivemos, tem sido facilmente substituído pelos efeitos  
28 fetichistas de divulgar, o máximo possível, imagens de lugares paradisíacos, restaurantes  
29 caríssimos, festas de arromba.

30 Outro aspecto que Debord não teria como prever é que essa hiperexposição de cenas banais  
31 do cotidiano se transformaria em um grande negócio, à medida que as plataformas digitais  
32 passaram a monetizar as publicações dos usuários com maior alcance. Hoje, grande parte dos

33 jovens nutre a ilusão de alcançar fama e fortuna por meio desse espetáculo. E não tardaram a  
34 surgir empresários inescrupulosos, dispostos a explorar a imagem de crianças e adolescentes  
35 nas redes sociais. Como denunciou recentemente o *youtuber* Felipe Bressanim Pereira,  
36 conhecido como Felca, há de tudo um pouco nesse terreno pantanoso: de programas de  
37 entrevistas conduzidos por versões mirins de *coaches* de empreendedorismo a *reality shows*  
38 protagonizados por menores, nos quais eles participam de festas com bebidas alcoólicas, usam  
39 roupas provocativas e executam danças sensuais – um prato cheio para os pedófilos e  
40 predadores sexuais.

41 Nesse cenário, alguns pais talvez não se deem conta de que, ao buscar seus 15 minutos de  
42 fama e alguns *likes*, acabam expondo seus bebês fofinhos a adultos perversos que habitam os  
43 ambientes digitais. Outros, como denunciou Felca, parecem não se importar em ganhar alguns  
44 trocados com a exposição dos próprios filhos – mesmo em contextos que violam a dignidade de  
45 crianças e adolescentes.

46 Observem o paradoxo: justamente ali, nas situações em que a vida parece, aos olhos dos  
47 outros, mais vibrante e interessante, é onde ela acaba por ser mais aviltada. Sim, aviltada. Pois é  
48 quando o contato com o mundo deixa de ser uma fonte de experiência e passa a ser apenas uma  
49 oportunidade de exibicionismo. Perde-se, na acepção de Walter Benjamin, um elemento  
50 precioso em nossa tarefa de criar sentidos para a vida. Perde-se a capacidade de transformar o  
51 fato em narrativa e a vivência em experiência. O vazio que advém da sanha por vivências que não  
52 se convertem em experiência talvez ajude a explicar a violência que constantemente ameaça o  
53 laço social.

Fonte: publicado na edição nº 1377 de Carta Capital, em 03 de setembro de 2025.

## QUESTÃO 1

Leia as proposições extraídas do texto:

- I. “Os “15 minutos de fama” que todos deveriam experimentar uma vez na vida, na visão idílica de Andy Warhol, tornaram-se insuficientes para quem vive neste mundo hiperconectado do século XXI” (linhas 8 a 10).
- II. “Observem o paradoxo: justamente ali, nas situações em que a vida parece, aos olhos dos outros, mais vibrante e interessante, é onde ela acaba por ser mais aviltada” (linhas 46 e 47).
- III. “O vazio que advém da sanha por vivências que não se convertem em experiência talvez ajude a explicar a violência que constantemente ameaça o laço social” (linhas 51 a 53).

Todas as alternativas apresentam termos que substituem os vocábulos destacados, nas proposições I, II e III, respectivamente, sem prejuízo de sentido, considerando o contexto em que aparecem, **EXCETO**:

- (A) Idealizada - humilhada - loucura.
- (B) Utópica - depreciada - paixão.
- (C) Bucólica - negociada - raiva.
- (D) Fantasiosa - desmoralizada - compulsão.

**QUESTÃO 2**

No texto “A sociedade do espetáculo”, a autora apresenta o seu posicionamento sobre o tema dos usos das redes sociais. Estão de acordo com o texto, **EXCETO**:

- (A) A autora responsabiliza as plataformas digitais pela superexposição de crianças, pois, ao estimularem a monetização, contribuem para a vulnerabilização de menores nas mídias.
- (B) A autora alinha-se ao pensamento de Debord, o qual critica o comportamento atual dos jovens nas redes sociais, em busca de engajamento e enriquecimento.
- (C) A autora critica a superexposição e argumenta que as mídias sociais possibilitam a criação de autoficções ilusórias.
- (D) A autora converge com o pensamento de Felipe Bressanim Pereira, que sinaliza os riscos da hiperexposição de crianças e adolescentes com vistas a se alcançar vantagem monetária.

**QUESTÃO 3**

“Observem o paradoxo: justamente ali, nas situações em que a vida parece, aos olhos dos outros, mais vibrante e interessante, é onde ela acaba por ser mais aviltada” (linhas 46 e 47). O paradoxo apresentado pela autora pode ser observado em todas as alternativas, **EXCETO**:

- (A) A alienação daqueles que postam imagens irreais em contraposição ao poder aquisitivo real.
- (B) A exposição de menores em mídias digitais em contraposição à necessidade de protegê-los.
- (C) A exibição exacerbada de fatos vividos em contraposição à vivência efetiva dessas experiências.
- (D) A sanha exibicionista de usuários das redes sociais em contraposição ao vazio individual.

**QUESTÃO 4**

Em um texto de opinião, o autor utiliza procedimentos/recursos argumentativos para convencer o leitor sobre o tema/assunto tratado. Um dos recursos utilizados é a intertextualidade – diálogo entre textos.

Leia as afirmações a seguir sobre as relações intertextuais estabelecidas e assinale a que **NÃO** encontra respaldo no texto:

- (A) Ao citar o texto de Guy Debord, a autora constrói a base para argumentar que alguns usuários priorizam a construção da imagem nas mídias sociais como autopromoção.
- (B) Ao apresentar o pensamento de Andy Warhol sobre os 15 minutos de fama, a autora evidencia que a internet e a conexão contínua já parametrizam de forma diferente esse tempo de fama.
- (C) Ao mencionar o *youtuber* Felipe Bressanim Pereira, a autora problematiza o comportamento dos pais que, sob diferentes motivações, expõem os filhos nas mídias sociais.
- (D) Ao trazer o filósofo Walter Benjamin, a autora argumenta sobre a relevância de registrar e de divulgar experiências de vida nas mídias sociais, como uma forma de criar sentido para a vida.

**INSTRUÇÕES:** Leia o Texto 2 para responder às questões 5 a 8**TEXTO 2****Vidas secas, vidas apagadas**

Sergio Andrade

1 Pobreza energética, expressa na dependência de lenha e carvão para cozinhar, não é  
2 apenas questão de renda, mas de falta de acesso à saúde e à dignidade.

3 "Ainda na véspera eram seis viventes, contando com o papagaio. Resistiram à fraqueza,  
4 afastaram-se envergonhados, sem ânimo de afrontar de novo a luz dura." A imagem de Graciliano  
5 Ramos em "Vidas Secas" descreve mais do que uma estiagem física. Fala da escassez que seca  
6 por dentro: o tempo, o futuro, a esperança.

7 É essa mesma luz dura que enfrentam milhões de brasileiros que ainda cozinham com  
8 lenha ou carvão. Segundo a pesquisa "Pobreza energética e transição justa - Usos de carvão e  
9 lenha para cocção no Brasil", organizada pela Plataforma de Transição Justa e pela Agenda  
10 Pública, mais de 12 milhões de domicílios usam biomassa como alternativa ou sua única fonte  
11 de energia para cozinhar.

12 Isso afeta, sobretudo, mulheres - na cidade, no campo, em ocupações diversas, em  
13 jornadas longas. São elas que mantêm o fogo aceso, por necessidade, quase sempre sem  
14 alternativa.

15 A pesquisa, construída a partir da compilação de bancos de dados públicos, entrevistas  
16 com especialistas e escutas com usuárias de lenha, revela vidas marcadas por escolhas difíceis:  
17 Dona Maria, 62, caminha com os netos para recolher lenha três vezes por semana.

18 Jéssica, mãe solo na Amazônia, improvisa um fogão de barro para economizar gás. Sueli,  
19 marisqueira, divide o tempo entre o trabalho e o cuidado com a mãe doente, recorrendo à lenha  
20 como pode. São relatos que evidenciam uma pobreza que não se mede só pela renda, mas por  
21 tudo o que falta: saúde, tempo, acesso, voz.

22 Há programas públicos importantes. [...] Mas, como mostra a pesquisa, o desenho dessas  
23 políticas nem sempre considera o peso do gás de cozinha no orçamento das famílias.

24 Muitas mulheres relatam a necessidade de escolher entre comprar um botijão ou garantir  
25 material escolar, comida ou internet para os filhos. A política existe, mas quando o recurso não  
26 cobre o custo real do preparo dos alimentos, o resultado é um sofrimento evitável.

27 É nesse contexto que o conceito de transição justa ganha relevância. Ele nos convida a  
28 pensar a mudança energética como oportunidade de inclusão - e não apenas de substituição de  
29 fontes. Se bem desenhada, a transição pode ampliar o acesso à energia limpa e segura, aliviar a  
30 sobrecarga feminina, reduzir desigualdades regionais e valorizar soluções descentralizadas,  
31 simples, eficazes.

32 A chamada "cocção limpa", promovida internacionalmente, é uma dessas metas: fogões  
33 eficientes, eletrificação de qualidade, gás acessível.

34 Cozinhar deveria ser um gesto cotidiano, tranquilo, sem fumaça, sem culpa. Para milhões,  
35 é um cálculo permanente. Reduzir essa tensão exige um olhar mais atento ao desenho das  
36 políticas e à realidade de quem, literalmente, enfrenta intempéries para acender o fogo de todos  
37 os dias. Daí a importância da focalização dos programas sociais em quem mais precisa, [...] ou  
38 das diretrizes de inclusão e combate à pobreza energética [...].

39 Do universo de "Vidas Secas", ainda hoje sobressaem vidas apagadas pelo esforço de  
40 existir em silêncio, uma linha tênue entre a espera e o desalento. Mas não há destino inevitável.

41 Quando as políticas acertam o foco, o fogo muda de natureza: deixa de consumir e passa a  
42 nutrir. A transição energética de que o país precisa começa, literalmente, pelo fogão.

Fonte: <https://www1.folha.uol.com.br/colunas/papo-de-resposta/2025/08/vidas-secas-vidas-apagadas.shtml>.  
(Adaptado). Acesso em: 25 ago. 2025.

**QUESTÃO 5**

Assinale a alternativa que explicita adequadamente o objetivo comunicativo do texto lido:

- (A) Destacar a resiliência de mulheres que utilizam fogão à lenha para o preparo dos alimentos, evocando a necessidade de políticas públicas para combater a pobreza energética que afeta populações vulneráveis.
- (B) Evidenciar a necessidade de direcionamento das políticas públicas voltadas à transição energética, com foco especial na população de baixa renda que ainda depende de lenha ou carvão para o preparo dos alimentos, promovendo inclusão e justiça social.
- (C) Apresentar dados estatísticos e análises técnicas sobre a situação da seca no Brasil, enfatizando que as condições enfrentadas pelas populações vulneráveis se assemelham às dificuldades retratadas na obra “Vidas Secas”.
- (D) Defender políticas agrárias inovadoras como solução eficaz frente à estiagem, suprimindo o uso de biomassa como alternativa ou fonte única de energia para o preparo da alimentação.

**QUESTÃO 6**

O título do texto “Vidas secas, vidas apagadas” cumpre papel fundamental na orientação da leitura e no processo de produção de sentidos. Esse título

- (A) faz alusão à situação pelos personagens da obra literária *Vidas Secas*, evidenciando que a estiagem física sofrida pelo povo do sertão nordestino está associada ao abandono institucional, histórico e social, resultando em invisibilidade e exclusão.
- (B) explicita as condições precárias de mulheres que utilizam lenha e carvão para preparar os alimentos, demonstrando que elas são ignoradas por parte das políticas públicas governamentais.
- (C) estabelece uma comparação entre a seca retratada na obra literária “Vidas Secas” e a situação atual de milhões de brasileiros, explicitando que a falta de políticas públicas relacionadas à questão energética afeta a qualidade de vida.
- (D) indica que o apagamento social das populações é um tema que está intrinsecamente relacionado às questões de gênero, denotando que a transição energética pode mudar vidas.

**QUESTÃO 7**

Leia o excerto retirado do texto: “Quando as políticas acertam o foco, o fogo muda de natureza: deixa de consumir e passa a nutrir. A transição energética de que o país precisa começa, literalmente, pelo fogão.” (linhas 41 e 42). Assinale a alternativa, cuja análise permite realizar uma inferência adequada à proposta de sentido do texto:


- (A) A eficácia das políticas públicas voltadas para a transição energética está relacionada ao atendimento pleno das famílias de baixa renda que vivem em contextos de seca, principalmente, das regiões do sertão nordestino.
- (B) O foco no fogão como símbolo da transição energética indica que a aquisição de fogões, por parte dos governos, é suficiente para resolver plenamente os problemas das mulheres que utilizam lenha e carvão para o preparo dos alimentos.
- (C) A existência de políticas públicas voltadas para a transição energética adequadas pode transformar uma realidade social, marcada pela escassez e pela insuficiência energética, em um contexto de cuidado, saúde e inclusão social, se considerar os desafios vividos por grupos historicamente invisibilizados.
- (D) O uso da expressão “literalmente, pelo fogão” nega qualquer possibilidade de sentido figurado ou ampliado, limitando as consequências da transição energética apenas ao ambiente doméstico e à economia privada.

**QUESTÃO 8**

Leia atentamente o excerto: “Do universo de ‘Vidas Secas’, ainda hoje sobressaem vidas apagadas pelo esforço de existir em silêncio, uma linha tênue entre a espera e o desalento. Mas não há destino inevitável.” (linhas 39 e 40). A partir desse excerto, infere-se que:

- (A) A articulação da obra “Vidas Secas” com a realidade atual evidencia a persistência do sofrimento e da invisibilidade social, ressaltando a necessidade de um deslocamento da ideia de fatalismo para a busca de transformação social.
- (B) O texto enfatiza o caráter determinista da existência de um determinado grupo social, sugerindo que o silêncio e o desalento são consequências inevitáveis das condições históricas e sociais.
- (C) O uso da expressão “vidas apagadas” estabelece uma referência literal às personagens da obra de Graciliano Ramos, destacando a falta de voz dessas figuras no contexto literário do passado.
- (D) O contraponto entre esperança e desânimo reforça que, em função das condições adversas, as populações afetadas possuem baixa escolarização, dificultando a reivindicação dos direitos que garantem o acesso às políticas públicas.

**INSTRUÇÕES:** Leia o Texto 3 para responder às questões 9 e 10

**TEXTO 3**

Fonte: <https://blogdoaftm.com.br/charge-inteligencia-artificial-pode-extinguir-diversas-profissoes/>. (Adaptado). Acesso em: 25 ago. 2025.

**QUESTÃO 9**

Considere o excerto: “Inteligência artificial pode extinguir diversas profissões no futuro...” e analise as assertivas:

I - A ausência de artigo definido confere estilo mais direto e uma generalização em relação ao agente da ação (qualquer inteligência artificial e não um tipo específico), alinhando-se ao padrão utilizado em títulos e manchetes de textos jornalísticos.

II - O uso do modalizador “pode” confere um tom de possibilidade em relação à transformação tecnológica aludida, evitando uma responsabilização por parte do locutor perante a afirmação dada como um fato que será efetivamente consumado.

III - O emprego das reticências serve ao propósito de aproximar o texto de um estilo coloquial, denotando uma ideia de dúvida por parte do locutor em relação ao enunciado apresentado.

IV - A escolha lexical pela locução verbal “pode extinguir” reforça a ideia de desaparecimento radical e definitivo de diversas profissões, gerando uma incoerência entre a radicalidade do enunciado (verbo “extinguir”) e a incerteza inerente à modalização (verbo “poder”).

Assinale a alternativa **CORRETA**:

- (A) Apenas as assertivas I e II estão corretas.
- (B) Apenas as assertivas II e III estão corretas.
- (C) Apenas as assertivas III e IV estão corretas.
- (D) Apenas as assertivas I e IV estão corretas.

**QUESTÃO 10**

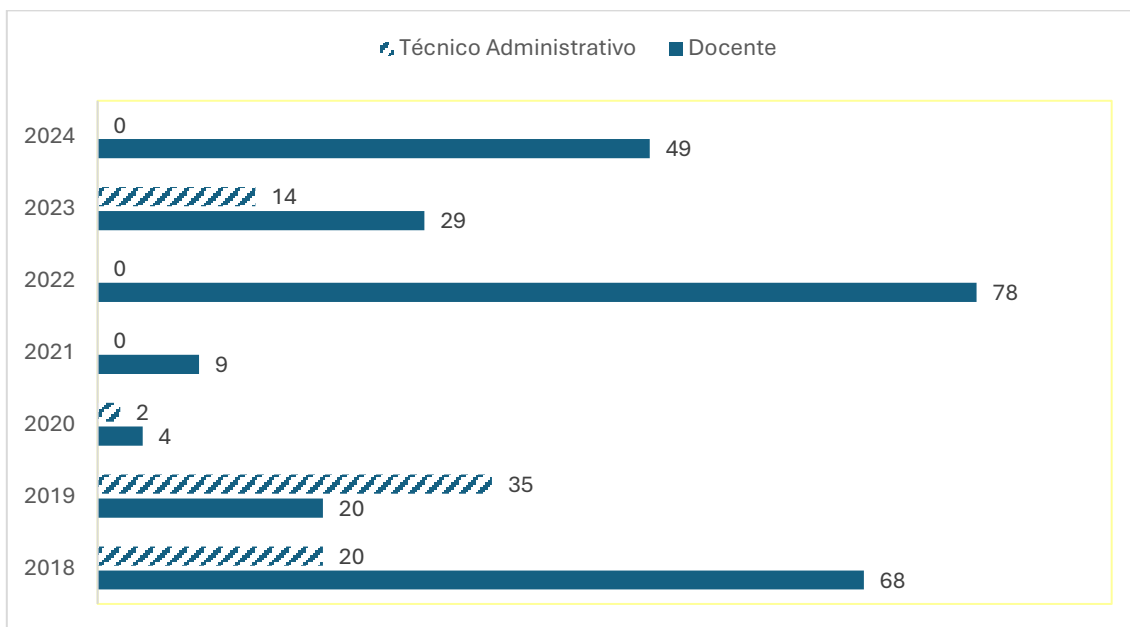
Sobre os potenciais efeitos de sentido construídos pelos elementos visuais e verbais na charge, assinale a alternativa **CORRETA**:

- (A) A reação das personagens humanas, de apatia e indiferença, indica que o impacto da inteligência artificial é benéfico para a evolução da sociedade.
- (B) A comparação entre dinossauros e humanos diante do meteorito sugere que a inteligência artificial é vista como um avanço inerente à evolução da humanidade.
- (C) O meteorito com a sigla "IA" simboliza um elemento externo disruptivo, sugerindo que a inteligência artificial pode representar uma ameaça de extinção semelhante à ocorrida com os dinossauros.
- (D) A charge reforça um discurso alarmista e irresponsável, pautado na especulação de que profissões humanas deixarão de existir devido à IA, sem base científica ou estudo técnico.

## MATEMÁTICA (QUESTÕES 11 A 20)

### QUESTÃO 11

O gráfico a seguir apresenta o quantitativo de vagas em concursos da UFLA para provimento efetivo nos cargos de docente e de técnico administrativo no período de 2018 a 2024.



Considerando o total de vagas em ambos os cargos, nesse período, a porcentagem de vagas para técnicos administrativos foi

- (A) entre 20% e 30%
- (B) entre 34% e 44%
- (C) entre 40% e 50%
- (D) entre 45% e 55%

### QUESTÃO 12

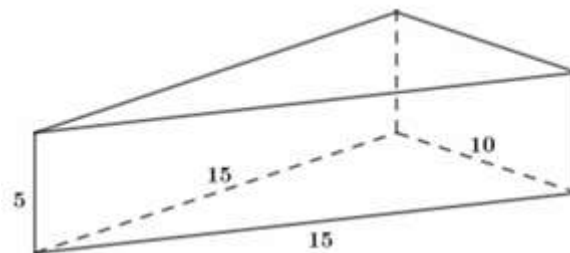
A função preço é uma função afim  $p(x) = ax + b$ , em que  $x$  indica o número de produtos vendidos e  $p(x)$  o preço de cada unidade. A função receita é dada por  $R(x) = xp(x)$ . Uma loja vende, semanalmente, 50 unidades de certo aparelho eletrônico por R\$ 200,00 cada. Uma pesquisa de mercado mostrou que, para cada R\$ 10,00 de desconto no preço de venda do aparelho, o número de aparelhos vendidos por semana aumenta em 10 unidades.

Calcule o preço de venda desse aparelho eletrônico para que a receita seja máxima. Marque a alternativa **CORRETA**:

- (A) R\$ 95,00
- (B) R\$ 105,00
- (C) R\$ 115,00
- (D) R\$ 125,00

**QUESTÃO 13**

Uma embalagem feita de papelão tem o formato de um prisma reto de base triangular, cujas medidas estão apresentadas na figura, a seguir:



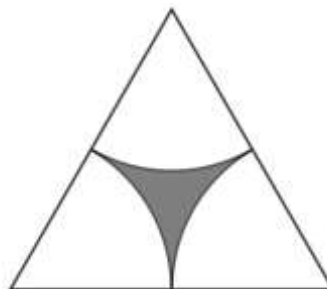
Considerando que as abas adicionais necessárias para a colagem e fechamento da embalagem não estão representadas na figura e que será necessário um acréscimo de 10% da área total do prisma de papelão para esses recortes, calcule o total de papelão necessário para cada embalagem, utilizando a aproximação  $\sqrt{2} \cong 1,4$ .

Assinale a alternativa **CORRETA**:

- (A)  $340 \text{ cm}^2$
- (B)  $354 \text{ cm}^2$
- (C)  $374 \text{ cm}^2$
- (D)  $390 \text{ cm}^2$

**QUESTÃO 14**

A figura, a seguir, foi desenhada usando um triângulo equilátero de lado  $x$  e três setores circulares idênticos cujo raio é a metade de  $x$  e os centros são os vértices do triângulo.

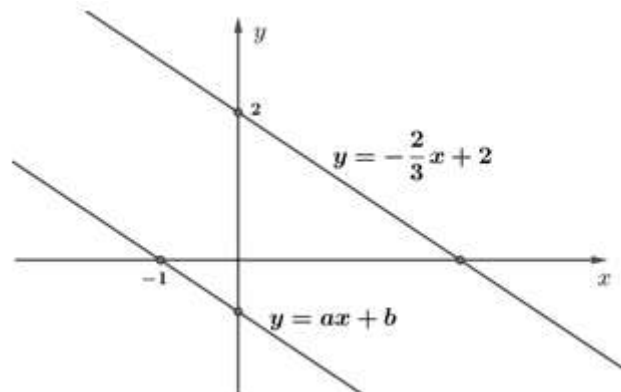


A medida da área da região cinza, em função de  $x$ , é:

- (A)  $\frac{(\pi - \sqrt{3})x^2}{4}$
- (B)  $\frac{(2\sqrt{3} - \pi)x^2}{4}$
- (C)  $\frac{(\pi - \sqrt{3})x^2}{8}$
- (D)  $\frac{(2\sqrt{3} - \pi)x^2}{8}$

**QUESTÃO 15**

As equações  $y = -\frac{2}{3}x + 2$  e  $y = ax + b$  representam as retas paralelas da figura, a seguir:



A razão entre os números  $a$  e  $b$  é:

- (A) -1
- (B) 1
- (C) -1/3
- (D) 2/3

**QUESTÃO 16**

A Universidade Federal de Lavras (UFLA) receberá 120 novos estudantes nos cursos de Agronomia, Biologia e Ciência da Computação.

- Se somarmos o total de estudantes de Agronomia com o dobro do total de estudantes da Biologia e subtrairmos o total de estudantes da Ciência da Computação, teremos um total de 100 estudantes.
- Se somarmos o total de estudantes da Agronomia com o triplo do total de estudantes da Ciência da Computação e subtrairmos o total de estudantes da Biologia, teremos um total de 80 estudantes.

A multiplicação do total de estudantes ingressantes nos três cursos é igual a:

- (A) 48.000
- (B) 64.000
- (C) 96.000
- (D) 112.000

**QUESTÃO 17**

Jurandir decidiu comprar uma impressora, cujo preço estava sendo anunciado por R\$ 1.300,00. Para pagamento por PIX, a loja dava um desconto de 7%, e por isso Jurandir decidiu pagar usando o PIX. Após dois meses de uso, ele resolveu vender a impressora para seu amigo Pedro, por 90% do valor pago.

É **CORRETO** afirmar que Pedro pagou pela impressora

- (A) R\$ 1.079,30
- (B) R\$ 1.088,10
- (C) R\$ 1.170,00
- (D) R\$ 1.261,20

**QUESTÃO 18**

Em uma certa manhã, no posto de saúde PSF1, foram realizados quatro tipos de procedimentos e cada procedimento foi realizado, no máximo, uma vez em cada pessoa. A tabela, a seguir, apresenta os procedimentos e o número de pessoas que realizaram cada procedimento:

Procedimentos	Número de pessoas
I: Aferição de temperatura	9
II: Aferição do nível de oxigenação	4
III: Aferição de pressão arterial	11
IV: Vacinação	X

Sabendo que:

- pessoas que vacinaram não fizeram nenhum outro procedimento;
- 3 pessoas passaram pelos procedimentos I, II e III;
- 4 pessoas passaram por I e II;
- 5 pessoas passaram por I e III;
- 20 pessoas passaram pelo PSF1, e todas realizaram, pelo menos, um procedimento.

Com base nas informações, o valor de X, mencionado na tabela, é:

- (A) 4
- (B) 5
- (C) 6
- (D) 7

**QUESTÃO 19**

Sabendo que  $x$  é um número natural que satisfaz às seguintes condições:

- $x$  é divisível por 5
- $\text{mdc}(x, 42) = 3$
- $\text{mmc}(x, 30) = 90$

É **CORRETO** afirmar que:

- (A) 7 divide  $x$
- (B) 2 divide  $x$
- (C)  $30 \leq x \leq 42$
- (D)  $x \geq 42$

<b>QUESTÃO 20</b>
-------------------

Manuela irá fazer um curso na UFLA, que terá início às 13h e terminará às 17h. Saindo do Jardim Glória, bairro em que Manuela mora, há duas formas de chegar à UFLA, por meio do transporte público:

- Trajeto único: Jardim Glória – UFLA
- Trajeto duplo: Jardim Glória – Centro; e Centro – UFLA.

Considere que os trajetos Jardim Glória – Centro e Centro - UFLA duram 15 minutos cada, e o trajeto Jardim Glória – UFLA dura 25 minutos. Considere, ainda, os horários do transporte público disponibilizados na tabela

HORÁRIO	JARDIM GLÓRIA - CENTRO	CENTRO - UFLA	JARDIM GLÓRIA - UFLA
7h	X	X	
8h		X	X
9h		X	
10h	X	X	
11h		X	X
12h		X	
13h	X	X	X
14h		X	
15h	X	X	
16h		X	
17h	X	X	

Calcule o número de maneiras possíveis de Manuela usar o transporte público para ir do Jardim Glória para UFLA para participar do curso e marque a alternativa **CORRETA**:

- (A) 2  
 (B) 9  
 (C) 10  
 (D) 14

## LEGISLAÇÃO (QUESTÕES 21 A 35)

### QUESTÃO 21

Sobre o tratamento de dados pessoais sensíveis, regulado pela Lei Geral de Proteção de Dados (Lei n. 13.709, de 2018), assinale a alternativa **CORRETA**:

- (A) Os dados pessoais sensíveis consistem em informações vinculadas a pessoa física ou jurídica, cujo tratamento possa acarretar prejuízos patrimoniais ao titular.
- (B) O consentimento do titular para tratamento de dados pessoais sensíveis pode ser dado de qualquer forma, desde que inequívoco, podendo se destinar a finalidades específicas ou genéricas.
- (C) O tratamento de dados pessoais sensíveis poderá ocorrer independentemente do fornecimento de consentimento do titular quando indispensável para a realização de estudos por órgãos de pesquisa, garantida, sempre que possível, a sua anonimização.
- (D) O tratamento de dados pessoais sensíveis pela administração pública, para a execução de políticas públicas previstas em lei ou regulamento, depende de consentimento do titular.

### QUESTÃO 22

A Lei Geral de Proteção de Dados - LGPD (Lei n. 13.709, de 2018) traz um rol de princípios a serem observados nas atividades de tratamento de dados pessoais. Associe os princípios listados na Coluna I com suas respectivas definições, listadas na Coluna II:

#### COLUNA I

1. Finalidade
2. Prevenção
3. Segurança
4. Necessidade
5. Adequação

#### COLUNA II

- ( ) limitação do tratamento ao mínimo necessário para a realização de suas finalidades, com abrangência dos dados pertinentes, proporcionais e não excessivos em relação às finalidades do tratamento de dados.
- ( ) realização do tratamento para propósitos legítimos, específicos, explícitos e informados ao titular, sem possibilidade de tratamento posterior de forma incompatível com tais propósitos.
- ( ) compatibilidade do tratamento com as finalidades informadas ao titular, de acordo com o contexto do tratamento.
- ( ) utilização de medidas técnicas e administrativas aptas a proteger os dados pessoais de acessos não autorizados e de situações acidentais ou ilícitas de destruição, perda, alteração, comunicação ou difusão.
- ( ) adoção de medidas para evitar a ocorrência de danos em virtude do tratamento de dados pessoais.

Assinale, a seguir, a alternativa que corresponde à adequada correlação do princípio com sua definição legal:

- (A) 2, 3, 1, 5, 4.
- (B) 3, 2, 1, 5, 4.
- (C) 5, 4, 3, 2, 1.
- (D) 4, 1, 5, 3, 2.

**QUESTÃO 23**

Conforme a organização da educação nacional, prevista na Lei de Diretrizes e Bases da Educação Nacional (Lei n. 9.394, de 1996), assinale a alternativa correspondente a uma das atribuições da União:

- (A) Baixar normas gerais sobre cursos de graduação e pós-graduação.
- (B) Assegurar o ensino fundamental e oferecer, com prioridade, o ensino médio.
- (C) Oferecer a educação infantil em creches e pré-escolas e, com prioridade, o ensino fundamental.
- (D) Assumir o transporte escolar de alunos dos sistemas estadual e municipal.

**QUESTÃO 24**

A Lei de Diretrizes e Bases da Educação Nacional (Lei n. 9.394, de 1996) traz em sua redação os princípios com base nos quais o ensino será ministrado em todo o território nacional. Avalie as assertivas a seguir:

1. Liberdade de aprender e ensinar.
2. Gratuidade do ensino público em estabelecimentos oficiais.
3. Matrícula obrigatória na disciplina ensino religioso em escolas públicas.

Assinale a alternativa que retrata as assertivas que correspondem a princípios previstos na Lei de Diretrizes e Bases da Educação Nacional:

- (A) 1 e 3.
- (B) 1 e 2.
- (C) 2 e 3.
- (D) 1, 2 e 3.

**QUESTÃO 25**

De acordo com o Decreto nº 1.171/1994, que aprovou o Código de Ética Profissional do Servidor Público Civil do Poder Executivo Federal, são vedadas as seguintes condutas ao servidor público, **EXCETO**:

- (A) Deixar de utilizar os avanços técnicos e científicos ao seu alcance para atendimento do seu mister.
- (B) Representar contra qualquer comprometimento indevido da estrutura em que se funda o Poder Estatal, em desrespeito à hierarquia funcional.
- (C) Retirar da repartição pública, sem estar legalmente autorizado, livro pertencente ao patrimônio público.
- (D) Apresentar-se habitualmente embriagado, mesmo que apenas fora do serviço.

**QUESTÃO 26**

Considerando os aspectos técnicos da matéria, a Lei de Acesso à Informação, Lei n. 12.527, de 2011, traz em suas disposições normativas, definições legais de termos relevantes para operacionalizar a sua aplicação. Associe corretamente os termos listados na Coluna I às respectivas definições legais, listadas da Coluna II:

**COLUNA I**

1. Autenticidade
2. Primariedade
3. Disponibilidade
4. Integridade

**COLUNA II**

- ( ) qualidade da informação que pode ser conhecida e utilizada por indivíduos, equipamentos ou sistemas autorizados.
- ( ) qualidade da informação que tenha sido produzida, expedida, recebida ou modificada por determinado indivíduo, equipamento ou sistema.
- ( ) qualidade da informação não modificada, inclusive quanto à origem, trânsito e destino.
- ( ) qualidade da informação coletada na fonte, com o máximo de detalhamento possível, sem modificações.

Assinale a alternativa que apresenta a sequência **CORRETA**:

- (A) 2, 1, 3 e 4.
- (B) 3, 4, 2 e 1.
- (C) 2, 1, 4 e 3.
- (D) 3, 1, 4 e 2.

**QUESTÃO 27**

O processo administrativo federal possui as seguintes fases: instauração, instrução, relatório, defesa e decisão. Com relação ao trâmite processual, assinale a alternativa **CORRETA**:

- (A) Ao administrado cabe o dever de produzir todas as provas necessárias ao convencimento da autoridade, sendo vedada à Administração a iniciativa de determinar diligências probatórias.
- (B) Atos administrativos que dispensem ou declarem a inexigibilidade de processos licitatórios prescindem de motivação.
- (C) O órgão competente para decidir o recurso poderá confirmar, modificar, anular ou revogar a decisão recorrida.
- (D) Os atos que apresentem defeitos sanáveis não poderão ser convalidados, ainda que em decisão administrativa em que se evidencie a ausência de lesão ao interesse público e a ausência de prejuízo a terceiros.

**QUESTÃO 28**

Analise as situações hipotéticas, a seguir descritas, considerando a Lei n. 9.784, de 1999.

- I. Ao conferir o conteúdo de um requerimento feito por um discente à Pró-Reitoria de Pesquisa, o servidor responsável recusou o seu recebimento por ausência de alguns dados. Nesse caso, a atuação foi equivocada, vez que é vedado à administração a recusa imotivada do documento, cabendo ao servidor orientar o discente a corrigir as falhas.
- II. Ao receber de um discente uma solicitação oral de uma Bolsa Institucional uma servidora lotada na Pró-Reitoria de Apoio à Permanência Estudantil inadmitiu o requerimento. Nesse caso, a servidora agiu corretamente, vez que o requerimento inicial do interessado deve ser formulado por escrito, salvo os casos em que for aceita solicitação oral, o que a norma da Pró-Reitoria não previa.
- III. Ao analisar uma situação que necessitava de providências imediatas, um servidor que atua na Pró-Reitoria de Graduação decide instaurar processo administrativo de ofício. Nesse caso, sua atuação foi incorreta, pois a instauração de processos administrativos deve ocorrer mediante requerimento do interessado, sendo proibida a atuação espontânea da administração.

Assinale a alternativa **CORRETA**:

- (A) As situações hipotéticas I, II e III estão corretas.
- (B) As situações hipotéticas I e II estão corretas.
- (C) As situações hipotéticas I e III estão corretas.
- (D) As situações hipotéticas II e III estão corretas.

**QUESTÃO 29**

Além do vencimento, poderão ser pagas ao servidor vantagens pecuniárias, como indenizações, gratificações e adicionais. Sobre tais vantagens, analise as afirmativas abaixo considerando a Lei n. 8.112, de 1990.

- I. As indenizações incorporam-se ao vencimento ou provento para qualquer efeito.
- II. As gratificações incorporam-se ao vencimento ou provento, nos casos e condições indicados em lei.
- III. Os adicionais não se incorporam ao vencimento ou provento para qualquer efeito.
- IV. As vantagens pecuniárias serão computadas e acumuladas, para efeito de concessão de outros acréscimos pecuniários posteriores sob o mesmo título.

Assinale a alternativa **CORRETA**:

- (A) Está correta apenas a afirmativa III.
- (B) Estão corretas apenas as afirmativas I e IV.
- (C) Estão corretas apenas as afirmativas I e II.
- (D) Está correta apenas a afirmativa II.

**QUESTÃO 30**

Sobre os atos que estão sujeitos à Lei de Improbidade Administrativa (Lei n. 8.429, de 1992) e sua aplicação, assinale a alternativa **CORRETA**.

- (A) O servidor público, que dispensar indevidamente processo licitatório, responderá por improbidade administrativa, caso a conduta dolosa e a perda patrimonial sejam comprovadas.
- (B) Os atos de improbidade que atentem contra princípios, para serem sancionados, dependem do reconhecimento da produção de dano ao erário e de enriquecimento ilícito dos agentes públicos.
- (C) A lei de improbidade administrativa tem sua aplicação limitada aos agentes públicos, não alcançando terceiros que concorram na conduta improba.
- (D) Ainda que a inobservância de formalidades legais ou regulamentares não implique perda patrimonial efetiva, haverá a necessidade de imposição de ressarcimento.

**QUESTÃO 31**

A Lei n 14.133, de 2021 prevê as hipóteses de contratação direta pela administração pública. Segundo essa lei, são casos de dispensa de licitação, **EXCETO**.

- (A) A manutenção de um dos ônibus da UFLA no valor de R\$10.000,00 (dez mil reais).
- (B) A restauração de um objeto histórico, que faz parte da coleção principal do Museu Bi Moreira da UFLA.
- (C) A compra de insumos para os laboratórios de Química da UFLA, que são fornecidos por produtor exclusivo.
- (D) A compra de hortifrutigranjeiros, para o restaurante universitário da UFLA, no período necessário para a realização de procedimentos licitatórios correspondentes, hipótese em que a contratação será realizada diretamente pelo preço do dia.

**QUESTÃO 32**

Acerca da Administração direta, indireta e descentralizada, assinale a alternativa **CORRETA**.

- (A) A descentralização consiste na repartição de competências entre órgãos da administração pública.
- (B) A administração indireta é supervisionada pelo Ministro de Estado competente.
- (C) A administração pública indireta não engloba as autarquias e fundações públicas.
- (D) As entidades da administração pública indireta não possuem personalidade jurídica própria.

**QUESTÃO 33**

O artigo 5º da Constituição da República Federativa do Brasil de 1988 estabelece que todos são iguais perante a lei, sem distinção de qualquer natureza, garantindo-se aos brasileiros e aos estrangeiros residentes no País a inviolabilidade do direito à vida, à liberdade, à igualdade, à segurança e à propriedade. Sobre os direitos previstos nesse dispositivo constitucional, assinale a alternativa **CORRETA**.

- (A) O mandado de segurança pode ser impetrado para assegurar o conhecimento de informações relativas à pessoa do impetrante, constantes de registros de entidades governamentais.
- (B) Todos têm direito a receber dos órgãos públicos informações de seu interesse particular, ressalvadas aquelas, cujo sigilo seja imprescindível à segurança da sociedade e do Estado.
- (C) Todos podem reunir-se pacificamente, sem armas, em locais abertos ao público, desde que autorizado previamente por autoridade competente.
- (D) A expressão da atividade intelectual, artística, científica e de comunicação é livre, respeitadas as qualificações, censuras e licenças que a lei estabelecer.

**QUESTÃO 34**

A Constituição da República Federativa do Brasil de 1988 determina que a administração pública direta e indireta de quaisquer dos Poderes da União, dos Estados, do Distrito Federal e dos Municípios obedecerá aos princípios de legalidade, impessoalidade, moralidade, publicidade e eficiência. Sobre as disposições constitucionais relativas à administração pública, analise as afirmativas a seguir.

- I. A publicidade dos atos, obras e serviços dos órgãos públicos deverá ter caráter educativo, informativo ou de orientação social, dela não podendo constar nomes ou imagens que caracterizem promoção pessoal de autoridades ou servidores públicos.
- II. A investidura em cargo em comissão depende de aprovação prévia em concurso público de provas ou de provas e títulos, sendo inconstitucionais declarações em lei de livre nomeação e exoneração para tais cargos.
- III. A acumulação remunerada de cargos públicos de professor com outro técnico ou científico, ou de dois cargos de professor é permitida, contanto que respeite o teto constitucional remuneratório e haja compatibilidade de horários e de regimes.
- IV. Ressalvados os casos especificados na legislação, as obras, os serviços, as compras e as alienações serão contratados mediante decisão discricionária da autoridade competente, considerando os interesses econômicos do órgão ou repartição.

Assinale a alternativa **CORRETA**:

- (A) Estão corretas apenas as afirmativas I e III.
- (B) Estão corretas apenas as afirmativas II e III.
- (C) Estão corretas apenas as afirmativas I e IV.
- (D) Estão corretas apenas as afirmativas II e IV.

**QUESTÃO 35**

Analise a seguinte situação hipotética:

Roberto, servidor nomeado para cargo de provimento efetivo em virtude de concurso público, há dois anos, ouviu dizer por colegas que perderia seu cargo, pois a direção de seu órgão estava insatisfeita com seu desempenho e, ademais, o cargo que ocupava seria extinto. Indignado com as suposições dos colegas, Roberto afirmou que, de acordo com a Constituição da República Federativa do Brasil de 1988:

- I- por ser servidor nomeado, em razão de aprovação em concurso público e ter passado por avaliação especial de desempenho, ele gozava de estabilidade em seu cargo;
- II- o servidor público estável só perde o cargo em virtude de sentença judicial transitada em julgado, não havendo processo administrativo que culminasse na perda de seu cargo;
- III- se extinto o cargo, o servidor estável deveria ficar em disponibilidade, com remuneração proporcional ao tempo de serviço, até seu adequado aproveitamento em outro cargo;
- IV- o servidor público estável pode buscar a invalidação de sua demissão por sentença judicial, o que levaria, em caso de êxito, à reintegração do servidor.

Considerando as afirmações feitas por Roberto e as prescrições constitucionais, assinale a alternativa **CORRETA**:

- (A) Estão corretas as afirmações I e II.
- (B) Estão corretas as afirmações II e IV.
- (C) Estão corretas as afirmações I e III.
- (D) Estão corretas as afirmações III e IV.

**QUESTÕES ESPECÍFICAS (QUESTÕES 36 A 70)****QUESTÃO 36**

No exame físico de grandes animais, o termo semiológico utilizado para descrever a falta de coordenação de movimentos musculares voluntários, frequentemente manifestada por incoordenação do trem posterior, e que indica disfunção do sistema nervoso central ou periférico é

- (A) ataxia.
- (B) paralisia.
- (C) paresia.
- (D) hiperestesia.

**QUESTÃO 37**

O controle de infecções em cirurgia veterinária exige o domínio dos princípios de inibição microbiana. O termo que se refere à aplicação de agentes químicos sobre o tecido vivo para inibir ou destruir microrganismos, e o critério fundamental, que distingue esse processo daquele utilizado em objetos inanimados, são:

- (A) Antissepsia: distingue-se por empregar produtos antimicrobianos que devem ser atóxicos aos tecidos corporais, ao contrário dos agentes químicos de alta toxicidade para uso no ambiente.
- (B) Desinfecção: distingue-se por utilizar compostos químicos de espectro restrito que eliminam a maioria dos microrganismos, com exceção notável dos esporos bacterianos.
- (C) Esterilização: distingue-se por ter como objetivo apenas a redução da população microbiana para níveis aceitáveis, sem garantia de eliminação total de esporos e vírus.
- (D) Assepsia: distingue-se por ser uma prática de prevenção de contaminação que engloba o campo cirúrgico, em vez de focar na eliminação direta e ativa dos microrganismos.

**QUESTÃO 38**

Considere a seguinte situação hipotética: Um equino Puro Sangue Inglês, estabulado em confinamento e com acesso limitado a exercícios, apresenta desidratação e quadro de cólica leve a moderada, mas de progressão lenta e persistente ao longo de 48 horas. A palpação retal revela uma massa firme e lisa no quadrante inferior direito e a ausculta abdominal revela motilidade reduzida. O diagnóstico mais provável para essa condição obstrutiva, que frequentemente exige fluidoterapia intensiva e laxantes orais, é

- (A) impactação de ceco.
- (B) *entrapment* nefroesplênico.
- (C) torção de intestino delgado.
- (D) deslocamento dorsal de cólon esquerdo (DDCE).

**QUESTÃO 39**

Considere a seguinte situação hipotética: Uma vaca Holandesa de alta produção, entre 3 a 6 semanas pós-parto, apresenta quadro de anorexia seletiva (rejeição a ração concentrada e silagem de milho), perda de condição corporal e redução da produção de leite. O exame clínico laboratorial revela aumento da concentração de ácidos graxos não esterificados e de corpos cetônicos nos fluidos corporais. Esse quadro clínico é resultado primário de um desequilíbrio metabólico, geralmente associado ao balanço energético negativo. Assinale a alternativa **CORRETA** que indica a enfermidade descrita:

- (A) Cetose bovina (Tipo I, primária).
- (B) Acidose ruminal aguda.
- (C) Hipomagnesemia aguda.
- (D) Hipocalcemia puerperal (febre do leite).

**QUESTÃO 40**

Analise a seguinte situação hipotética: Um potro neonato, com 24 horas de vida, apresenta sinais de letargia, dificuldade de sucção e concentração sérica de IgG de 300 mg/dL. Considerando a concentração sérica de IgG, a conduta terapêutica de escolha no manejo imediato desse paciente, antes que ocorra uma septicemia generalizada é

- (A) transfusão intravenosa de plasma hiperimune ou soro.
- (B) administração oral imediata de colostro.
- (C) administração de glicocorticoides para estimular a medula óssea.
- (D) administração de antibióticos sistêmicos e espera pela produção de IgG própria.

**QUESTÃO 41**

Considere a seguinte situação hipotética: Um equino adulto, mantido em cocheira com pouca ventilação e feno de baixa qualidade, apresenta um quadro respiratório progressivo. Os sinais incluem tosse frequente, descarga nasal serosa e, mais notavelmente, a presença de uma proeminente hipertrofia do músculo oblíquo abdominal externo, resultado do esforço crônico para expirar (linha de Heaves). Essa manifestação clínica é classificada como

- (A) asma equina recorrente.
- (B) síndrome de sangramento pulmonar induzido por exercício.
- (C) pneumonia intersticial aguda.
- (D) laringite crônica obstrutiva (*Roaring*).

**QUESTÃO 42**

Considere a seguinte situação hipotética: Um equino diagnosticado com enterite proximal de refluxo está em choque e desidratado. A condição é caracterizada pela inflamação intestinal e refluxo gástrico abundante na sondagem nasogástrica, o que resulta em alcalose metabólica grave. Nessa condição clínica, a reposição volêmica imediata deve ser feita com uma solução que não agrave o desequilíbrio ácido-base do paciente. Marque a alternativa **CORRETA** para a opção de primeira linha:

- (A) Solução salina isotônica (0,9%)
- (B) Solução de glicose a 5%
- (C) Solução de ringer lactato
- (D) Coloides sintéticos

**QUESTÃO 43**

Considere a seguinte situação hipotética: Uma vaca múltipara apresenta prolapso uterino total poucas horas após o parto. Após o reposicionamento do útero, é necessária uma sutura de retenção vulvar temporária para prevenir a recidiva e proteger o órgão. A alternativa que corresponde à técnica de sutura temporária mais amplamente empregada é

- (A) sutura com um fio forte em um padrão circular subcutâneo ao redor da vulva, não atravessando a mucosa, para fechar a rima vulvar parcialmente, mas permitindo a micção ventral.
- (B) sutura permanente da cérvix ao tendão pré-púbico, sendo realizada por via laparoscópica antes do reposicionamento.
- (C) sutura com pontos profundos que atravessam completamente os lábios vulvares, devendo ser removida 48 horas após o procedimento.
- (D) sutura com múltiplos pontos de colchoeiro vertical na pele dos flancos e na porção superior da vulva, usando protetores plásticos para distribuir a tensão.

**QUESTÃO 44**

Considere a seguinte situação hipotética: Um rebanho bovino, no qual vários bezerros apresentam lesões alopecias, circulares, com formação de crostas cinzentas e espessas, predominantemente na face e pescoço. O exame microscópico de raspados de pele tratados com hidróxido de potássio revela a presença de hifas septadas e artroconídios em associação aos pelos.

Considerando a apresentação clínica clássica de *Tinea corporis* em grandes animais e os achados microscópicos, o agente etiológico fúngico mais frequentemente isolado e responsável por essa dermatofitose pertence ao gênero

- (A) *Trichophyton*.
- (B) *Malassezia*.
- (C) *Epidermophyton*.
- (D) *Microsporum*.

**QUESTÃO 45**

Considere a seguinte situação hipotética: Um equino submetido a uma laparotomia exploratória está estável no pós-operatório (48 horas). Para a manutenção da analgesia e anti-inflamação por vários dias, o clínico precisa escolher um anti-inflamatório não esteroidal (AINE) que apresente menor risco de toxicidade renal e gastrointestinal no uso prolongado, em comparação com o flunixin meglumine e a fenilbutazona. O AINE, classificado como inibidor preferencial da COX-2, mais recomendado para a analgesia de manutenção, conforme Reed *et al.* (2021) é

- (A) Firocoxib.
- (B) Cetoprofeno.
- (C) Meloxicam.
- (D) Dipirona.

**QUESTÃO 46**

A toxemia da gestação em ovelhas, uma condição observada no terço final da gestação, especialmente em ovelhas obesas e com gestações gemelares, leva à mobilização intensa de reservas de tecido adiposo. O influxo maciço de ácidos graxos não esterificados (AGNE) no fígado excede sua capacidade de oxidação completa. Em relação aos achados clínicos que podem ser observados, todas as alternativas estão corretas, **EXCETO**:

- (A) Aumento da concentração de amônia e de glicose no sangue.
- (B) Aumento de corpos cetônicos no sangue e na urina.
- (C) Acidose metabólica.
- (D) Aumento da concentração sérica de cortisol.

**QUESTÃO 47**

A artrite é uma manifestação clínica comum tanto na artrite encefalite caprina (AEC), causada por um Lentivirus, quanto na artrite por *Mycoplasma spp.* O achado patológico específico do líquido sinovial, diagnosticado por artroscopia, que permite a diferenciação clínica entre a forma crônica da AEC e a micoplasmose é

- (A) a micoplasmose cursa com líquido esbranquiçado e grânulos brancos livres observados na artroscopia.
- (B) a artrite por *Mycoplasma spp.* apresenta um quadro celular do tipo inflamatório neutrofílico e líquido com maior densidade e odor.
- (C) a AEC é caracterizada por líquido sinovial mais amarelado e presença de células sinoviais com formato de "ovo-frito".
- (D) ambas as formas (AEC e *Mycoplasma spp.*) produzem líquidos sinoviais com o aspecto de "grão de arroz" e coloração avermelhada.

**QUESTÃO 48**

Considere a seguinte situação hipotética: Um equino adulto apresenta sinais neurológicos multifocais. O exame revela incoordenação assimétrica, paresia no trem posterior e acentuada hipometria (déficit de propriocepção e elevação inadequada dos membros). Esse conjunto de sinais clínicos é o mais característico da mieloencefalopatia protozoária equina (MPE). Assinale a alternativa que, diferente da MPE, corresponde à mieloencefalopatia que causa déficits bilaterais e simétricos dos membros posteriores.

- (A) Mieloencefalopatia estenótica cervical (Síndrome de Wobbler).
- (B) Tétano (*Clostridium tetani*).
- (C) Mieloencefalopatia degenerativa equina (EDM).
- (D) Encefalite pelo vírus do Oeste do Nilo (WNV).

**QUESTÃO 49**

Na síndrome da disgalaxia pós-parto (SDPP) em porcas, a forma tóxica da agalaxia (febre > 39,4°C e inapetência) é frequentemente associada à mastite ou metrite por bactérias gram-negativas. O quadro é gravemente complicado pela endotoxemia, que causa supressão da prolactina e comprometimento hemodinâmico. Diante de uma porca gravemente afetada, as prioridades de primeira linha são a correção imediata do estado de choque e a neutralização dos efeitos sistêmicos das endotoxinas.

Assinale a alternativa que apresenta a combinação terapêutica que, em conjunto, reverte o desequilíbrio hemodinâmico e a cascata inflamatória aguda:

- (A) Terapia de suporte volêmico (fluidoterapia IV) e glicocorticoides em alta dose.
- (B) Oxitocina e antibiótico sistêmico de amplo espectro.
- (C) Antagonista dopaminérgico (Ex: sulpiride/metergolina) e antibióticos bactericidas.
- (D) Anti-inflamatório não esteroide (AINE - ex: flunixin meglumine) e dextrose 50% IV.

**QUESTÃO 50**

No manejo cirúrgico do deslocamento de abomaso à esquerda (DAE), diversas técnicas de fixação (pexia) são empregadas no flanco direito (ex: omentopexia ou abomasopexia). Embora os riscos de anestesia e custo sejam fatores decisivos, a principal vantagem clínica conferida por essas técnicas de fixação do abomaso à parede abdominal, que garante a resolução a longo prazo do problema é

- (A) prevenção da recidiva ou redeslocamento do abomaso.
- (B) diminuição do risco de desenvolvimento de úlcera abomasal no pós-operatório.
- (C) maior facilidade na realização da descompressão abomasal pré-cirúrgica.
- (D) acesso visual total para a correção de aderências ou necrose.

**QUESTÃO 51**

A urolitíase obstrutiva em carneiros, especialmente em rebanhos confinados, é uma emergência comum. O manejo nutricional primário que está classicamente associado ao risco aumentado de formação de cálculos de estruvita ou fosfato, exigindo correção na dieta desses animais é

- (A) dieta com baixa relação cálcio:fósforo (Ca:P).
- (B) dieta com baixo teor de cálcio (Ca) e alta concentração de proteínas.
- (C) dieta rica em pastagem e baixa em concentrado.
- (D) suplementação excessiva de vitamina D.

**QUESTÃO 52**

A erradicação da brucelose bovina (*Brucella abortus*) é desafiadora devido à sua característica como patógeno intracelular facultativo. No tratamento, o principal mecanismo patogênico, que permite o agente infeccioso evadir o sistema imune do hospedeiro e persistir nos linfonodos e órgãos reprodutores, sendo a chave para a cronicidade da infecção e para a falha nos testes sorológicos em fase de latência é

- (A) inibição da fusão do fagossomo com o lisossomo dentro do macrófago.
- (B) produção de exotoxinas que paralisam os macrófagos.
- (C) rápida replicação extracelular no sangue periférico.
- (D) formação de biofilmes extracelulares nos vasos sanguíneos.

**QUESTÃO 53**

Em equinos, a uveíte recorrente equina (URE - *Moon Blindness*), frequentemente associada à infecção por *Leptospira spp.*, é uma patologia inflamatória crônica. A principal manifestação clínica da URE, caracterizada por um ciclo de inflamação e quiescência, que a diferencia de outras doenças oculares agudas é

- (A) episódios recorrentes de inflamação intraocular, miose e blefaroespasma.
- (B) conjuntivite folicular aguda (inflamação da pálpebra e conjuntiva).
- (C) úlcera de córnea profunda (ruptura da membrana de Descemet).
- (D) queratopatia bolhosa (edema de córnea difuso).

**QUESTÃO 54**

Em equinos, o tratamento de fraturas intra-articulares ou de ossos submetidos a altas forças rotacionais (ex: falanges, úmero) requer um método de fixação interna que promova a compressão interfragmentária e neutralize as forças de tensão. A técnica de osteossíntese que tem como princípio biomecânico fundamental a fixação por compressão é

- (A) placamento com parafusos de compressão (*Lag Screws*).
- (B) fixação externa (uso de aparelhos externos).
- (C) pinamento intramedular (*Pinning*).
- (D) cerclagem (uso de fios ou cabos ao redor do osso).

**QUESTÃO 55**

A acidose ruminal aguda é desencadeada pela ingestão excessiva de carboidratos rapidamente fermentáveis. Esse quadro clínico é caracterizado por uma rápida queda do pH ruminal para valores abaixo de 5,0, devido à proliferação exponencial de uma bactéria gram-positiva. O principal microrganismo responsável pela conversão maciça de glicose em ácido lático, é

- (A) *Streptococcus bovis*.
- (B) *Bacteroides fragilis*.
- (C) *Clostridium perfringens*.
- (D) *Megasphaera elsdeni*.

**QUESTÃO 56**

Em vacas leiteiras de alta produção, a claudicação é um grave problema de bem-estar e que impacta de forma negativa o desempenho produtivo. A patologia do sistema podal, que representa a causa mais comum de manqueira, sendo frequentemente associada a fatores ambientais como pisos abrasivos é

- (A) pododermatite (úlceras de sola e abscesso de sola).
- (B) dermatite interdigital (*Foot Rot*).
- (C) artrite séptica da articulação interfalangeana.
- (D) doença da linha branca (*White Line Disease*).

**QUESTÃO 57**

Em um bovino adulto com suspeita de reticulopericardite traumática (RPT), o exame semiológico visa identificar sinais de insuficiência cardíaca congestiva ou inflamação pericárdica. O achado de sons cardíacos abafados ou atrito pericárdico é um indicador crítico dessa condição. A localização anatômica precisa para a ausculta do coração no lado esquerdo, onde esses sons patológicos serão mais proeminentes é

- (A) entre o 3º e o 5º espaço intercostal, na região ventral da articulação úmero-radial.
- (B) entre o 6º e o 8º espaço intercostal, ao nível da articulação escapuloumeral.
- (C) entre o 4º e o 6º espaço intercostal, na região mais alta, próximo à coluna vertebral.
- (D) na 7ª costela, ao longo da articulação umerorradial.

**QUESTÃO 58**

Em um potro com uroperitônio, a hipercalemia severa ( $K^+ > 6.5$  mEq/L) está associada ao risco de parada cardíaca. O protocolo terapêutico de emergência utiliza infusão intravenosa de gluconato de cálcio 10% e glicose com insulina regular. O mecanismo fisiológico de ação combinada desses agentes é

- (A) o cálcio estabiliza a membrana miocárdica e a glicose/insulina ativam a bomba  $Na^+/K^+/ATPase$ , deslocando o  $K^+$  para dentro da célula.
- (B) o cálcio age como diurético osmótico, e a insulina potencializa o co-transporte de  $Na^+/K^+/Cl^-$  no rim, restaurando o volume plasmático.
- (C) o gluconato de cálcio atua como quelante do potássio sérico, e a insulina promove a excreção renal forçada de  $K^+$ , corrigindo a acidose.
- (D) o cálcio neutraliza a acidose metabólica por efeito tampão, e a glicose/insulina aumentam o débito cardíaco, corrigindo a hipovolemia.

**QUESTÃO 59**

Após a correção cirúrgica de um deslocamento dorsal de cólon esquerdo em equinos, o risco de recidiva é uma preocupação crítica, pois o cólon pode realojar-se no espaço entre o baço e o ligamento nefroesplênico (LNE). De acordo com Auer e Stick (2011), assinale a alternativa que apresenta o **procedimento** cirúrgico que é considerado a técnica de escolha para eliminar preventivamente o espaço de aprisionamento do cólon e o principal **risco** tardio associado a essa intervenção profilática:

- (A) **Procedimento:** ablação (resseção) do LNE; **risco:** formação de aderências fibrosas do cólon ao local da ablação.
- (B) **Procedimento:** cecostomia temporária; **risco:** peritonite pós-operatória.
- (C) **Procedimento:** enterotomia exploratória; **risco:** laminite pós-operatória por endotoxemia.
- (D) **Procedimento:** gastropexia de flanco; **risco:** distensão gástrica recorrente.

**QUESTÃO 60**

Em um bezerro com diarreia hipersecretora, a desidratação (> 10), letargia e acidose metabólica severa (pH < 7,20) são indicações de terapia intravenosa de emergência. Assinale a alternativa que indica qual é o principal componente que deve ser adicionado ao fluido de reposição inicial (isotônico/salino), e qual é a sua função primária nessa fase crítica.

- (A) Bicarbonato de sódio, administrado para neutralizar o pH sanguíneo e corrigir o déficit de base.
- (B) Solução de glicose 50%, fornecida para corrigir a hipoglicemia severa e aumentar o volume plasmático.
- (C) Solução polieletrólítica (ex: ringer lactato), administrada para promover rápida reposição de sódio e ação vasoconstritora.
- (D) Suplementação de potássio (K+), fornecida para restaurar o equilíbrio eletrolítico e a função cardíaca.

**QUESTÃO 61**

Na cirurgia de grandes animais (ex: orquiectomia), a hemostasia de grandes pedículos vasculares é realizada por pinças de esmagamento. O instrumental ideal deve ser capaz de aplicar uma força de compressão máxima para a oclusão permanente dos vasos. A pinça mais adequada para uso nesse caso é

- (A) Pinça de Rochester Carmalt
- (B) Pinça mosquito
- (C) Pinça Allis
- (D) Pinça de Pozzi

**QUESTÃO 62**

O carcinoma de células escamosas (CCE) é a neoplasia ocular mais comum em bovinos e frequentemente requer a enucleação do globo ocular. Uma vaca Hereford, de 7 anos, é diagnosticada com CCE avançado, envolvendo a conjuntiva límbica e com extensão para a margem palpebral.

Considerando o princípio de biossegurança cirúrgica e controle oncológico, assinale a alternativa que apresenta a abordagem de enucleação mais indicada para esse caso específico e qual é a principal vantagem oncológica dessa técnica:

- (A) Abordagem transpalpebral: é a abordagem de escolha, pois permite a excisão do globo com o saco conjuntival fechado, prevenindo a contaminação da órbita.
- (B) Exenteração orbital: é a única opção aceitável, pois a natureza localmente invasiva exige a remoção de todo o tecido orbital, incluindo periósteo.
- (C) Abordagem transconjuntival: é a técnica preferida em bovinos, pois minimiza o sangramento intraoperatório, um fator crítico na cirurgia de grandes animais.
- (D) Abordagem transconjuntival: é a mais indicada, pois proporciona um campo visual superior para a remoção exata da massa tumoral.

**QUESTÃO 63**

Um carneiro da raça Texel, de 5 anos, é diagnosticado com uma hérnia inguinal indireta crônica e não estrangulada, que confere o formato de "ampulheta" (*hourglass*) ao escroto. O cirurgião opta pela abordagem inguinal. Após a incisão da pele e do tecido subcutâneo e a identificação da túnica vaginal parietal, duas etapas se seguem: a redução do conteúdo herniário e o reparo do anel inguinal. Considerando que o procedimento deve ser o mais conservador possível:

- 1) Qual é a manobra de redução do conteúdo intestinal que se deve tentar inicialmente, sem incisar a túnica vaginal?
- 2) Qual é o fator patológico/anatômico que, se presente, impede a redução do conteúdo por essa manobra e obriga o cirurgião a abrir a túnica vaginal (herniorrafia aberta) para liberar o intestino?

Assinale a alternativa **CORRETA**:

- (A) Manobra de torção do testículo e cordão espermático para reintroduzir o intestino no abdômen, que é inviabilizada pela presença de aderências fibrosas do intestino à face interna da túnica vaginal.
- (B) Redução por tração per-retal das alças intestinais, que é inviabilizada pelo diagnóstico pré-operatório de anastomose vascular entre o mesentério e a túnica vaginal.
- (C) Sutura do anel inguinal externo com pontos absorvíveis, que é inviabilizada pela necessidade de remover o cordão espermático devido a suspeita de trauma ou inflamação crônica.
- (D) Tentativa de redução manual por manobra de elevação do membro, que é inviabilizada pela presença de tecido gorduroso subperitoneal ("pseudo-hérnia") aderido ao anel inguinal interno.

**QUESTÃO 64**

Um cavalo, com dor abdominal moderada refratária a sedativos e taquicardia (68 batimentos por minuto), é suspeito de obstrução estranguladora do intestino delgado. A avaliação inicial revela 4 L de refluxo nasogástrico, hematócrito de 62%, e proteína total de 5.0 g/dL. O diagnóstico exige uma decisão cirúrgica imediata. O parâmetro, conforme o consenso sobre diagnóstico de abdômen agudo equino, que possui a maior sensibilidade para confirmar a isquemia e a necessidade de laparotomia exploratória é

- (A) o lactato no fluido peritoneal quando comparado ao lactato plasmático, que é o indicador mais sensível de lesão intestinal estranguladora.
- (B) a persistência da taquicardia em 68 batimentos por minuto e refratária aos sedativos, indicando dor visceral profunda e difícil controle farmacológico.
- (C) o hematócrito venoso acima de 60%, combinado a proteína total sérica baixa, que reflete desidratação grave e proteinopenia por perda para a cavidade abdominal.
- (D) o volume de refluxo nasogástrico de 4 litros com aspecto serosanguinolento, representando acúmulo de fluido e intensa diapedese de eritrócitos.

**QUESTÃO 65**

A listeriose encefálica em bovinos é uma emergência neurológica frequentemente associada ao consumo de silagem de pH elevado, sendo a *Listeria monocytogenes* o agente causal. O tratamento de escolha é a penicilina, que exerce um efeito bacteriostático, com relatos de resistência *in vitro* em 40% das cepas bacterianas isoladas. Diante do desafio de garantir a eficácia contra um patógeno intracelular e parcialmente resistente no sistema nervoso central, a justificativa farmacocinética e terapêutica mais precisa para a recomendação de se iniciar o tratamento com uma dose de ataque intravenosa (IV) de 200.000 IU/kg de penicilina solúvel é

- (A) a dose de ataque IV é necessária para garantir que o pico de concentração plasmática eleve e maximize o gradiente de difusão através da barreira hematoencefálica, alcançando a maior concentração inibitória mínima possível no líquido céfalo-raquidiano para um antibiótico tempo-dependente.
- (B) a dose de ataque IV é necessária para neutralizar a resistência enzimática (beta-lactamase) da *Listeria monocytogenes*, forçando uma concentração superior à concentração inibitória mínima.
- (C) a dose de ataque IV é necessária para saturar as PBPs (*Penicillin-Binding Proteins*) listeriais imediatamente, convertendo o efeito da penicilina de bacteriostático para bactericida no líquido céfalo-raquidiano, garantindo uma morte mais rápida do patógeno.
- (D) a dose de ataque IV é necessária para atingir rapidamente a concentração inibitória mínima, visto que administração intramuscular de penicilina resulta em alta taxa de *clearance* renal e baixo efeito bacteriostático.

**QUESTÃO 66**

A lágrima uretral idiopática em equinos é uma lesão linear, que ocorre na superfície convexa da uretra ao nível do arco isquiático, comunicando o lúmen uretral com o corpo esponjoso do pênis (CSP). Apesar de a lesão ser anatomicamente idêntica em garanhões e machos castrados, a manifestação clínica difere: hemospermia em garanhões e hematúria terminal em machos castrados. Com base na teoria mais aceita da patofisiologia da hemorragia e na diferença hemodinâmica específica durante os atos de ejaculação versus micção, julgue as afirmativas a seguir como verdadeiras ou falsas:

- 1) A hematúria em machos castrados ocorre porque o final da micção envolve a contração do músculo bulbosponjoso e do esfíncter uretral, o que aumenta abruptamente a pressão vascular do CSP e inverte o gradiente (do CSP para o lúmen), forçando a saída de sangue.
- 2) A ausência de hormônios sexuais em machos castrados causa uma vasoconstrição crônica no CSP, elevando a pressão vascular basal e garantindo um fluxo de sangue contínuo da lesão para o lúmen uretral durante toda a micção.
- 3) A hemospermia em garanhões é explicada pelo maior desenvolvimento do corpo esponjoso e da túnica albugínea, causando hemorragia dentro do CSP, mas impede que o sangue se misture ao sêmen durante o ato ejaculatório.
- 4) Em garanhões, o volume e a pressão do ejaculado são inferiores à pressão vascular do CSP (pressão arterial), o que permite o fluxo de sangue através da lesão para dentro do lúmen uretral, misturando-o ao sêmen e causando a hemospermia.

Assinale a alternativa que apresenta a sequência **CORRETA**:

- (A) V, F, F, V.
- (B) F, V, V, F.
- (C) V, V, F, F.
- (D) F, F, V, V.

**QUESTÃO 67**

A laminite equina é classificada em síndromes, sendo a laminite do membro de suporte (LMS) uma forma de etiologia puramente biomecânica, resultante do peso ininterrupto no membro contralateral a uma lesão primária grave. O apoio constante induz isquemia por compressão e fadiga das lamelas, culminando em rotação e afundamento da terceira falange (P3). Considerando a patofisiologia primária da LMS e o objetivo de correção biomecânica, a terapia mais indicada para neutralizar o estressor mecânico e descarregar as lamelas comprometidas é

- (A) transferência de carga para sola e ranilha: implementação de dispositivos de apoio com contato primário nestas estruturas, objetivando desengajar a muralha do estresse compressivo axial.
- (B) tenotomia do TFDP (tendão flexor digital profundo) e elevação do talão: procedimentos que visam à redução imediata da força de tração rotacional exercida pelo TFDP sobre P3.
- (C) vasodilatação sistêmica (ex: pentoxifilina e DMSO): terapia focada em ação anti-isquêmica e anti-inflamatória, sendo a principal medida de emergência para etiologias sistêmicas (sepse e endocrinopática).
- (D) apoio no talão com cunhas: uso de dispositivos que aumentam o ângulo podal para reduzir a tensão sobre as lamelas dorsais, sem o objetivo de desviar a carga axial para a sola.

**QUESTÃO 68**

Considere a seguinte situação hipotética: Uma vaca da raça Jersey, de 450 kg, com deslocamento de abomaso à direita, uma condição que cursa com alcalose metabólica hipoclorêmica e hipocalêmica, apresenta sinais de desidratação moderada. O exame bioquímico inicial mostra uma concentração sérica de cloreto ( $\text{Cl}^-$ ) de 65 mEq/L. Considerando um valor de referência normal de  $\text{Cl}^-$  de 100 mEq/L e assumindo que o espaço do fluido extracelular em ruminantes adultos é de 30% do peso corporal, assinale a alternativa que indica qual é o déficit total de  $\text{Cl}^-$  (em mEq) e a estratégia de fluidoterapia mais indicada para corrigir o desequilíbrio ácido-base:

- (A) 4725 mEq de  $\text{Cl}^-$ : a terapia de reposição deve focar em fluidos acidificantes ricos em cloreto e potássio, como uma mistura de solução salina isotônica e KCl.
- (B) 4250 mEq de  $\text{Cl}^-$ : o tratamento primário deve incluir a rápida infusão de bicarbonato de sódio isotônico (1,3%  $\text{NaHCO}_3$ ) para evitar a acidemia paradoxal.
- (C) 5000 mEq de  $\text{Cl}^-$ : o manejo é prioritariamente feito com ringer acetato (SID = 27 mEq/L), por ser uma solução poliônica balanceada e levemente alcalinizante.
- (D) 5275 mEq de  $\text{Cl}^-$ : a terapia inicial deve ser com dextrose 5% ou ringer lactato (SID < 14 mEq/L), por serem as soluções padrões indicadas para o paciente.

**QUESTÃO 69**

A correção de laceração traumática em um ovino adulto, em uma área de tensão moderada e risco elevado de autotraumatismo, exige que a sutura suporte a tensão e previna a remoção acidental do fio. Nesse contexto de cirurgia a campo em animais de produção, a afirmativa que indica o padrão de sutura que não é aconselhado para a correção do problema, e que avalia corretamente o balanço entre as propriedades mecânicas e o risco de complicação das suturas é

- (A) a sutura contínua subcutânea é desaconselhada, pois sua baixa força de tensão e a dificuldade em manter a coaptação perfeita sob movimento a tornam inadequada em áreas de alta tensão e em cirurgias a campo.
- (B) a sutura simples interrompida é desaconselhada, pois o risco de deiscência é inaceitável em áreas de tensão, sendo a única sutura a falhar completamente em caso de ruptura de um ponto.
- (C) a sutura de colchoeiro vertical é desaconselhada, pois a forte eversão que esse tipo de sutura provoca impede a rápida migração de queratinócitos e a reepitelização, aumentando o tempo de cicatrização.
- (D) a sutura de colchoeiro horizontal é desaconselhada, pois, a tensão excessiva ocasionada por esse tipo de sutura pode causar estrangulamento e necrose da borda da ferida.

**QUESTÃO 70**

O período de transição (3 semanas pré- a 3 semanas pós-parto) em vacas leiteiras é o momento em que o sistema imune se encontra comprometido e há maior risco de doenças, como a metrite. A metrite puerperal é a consequência direta da falha em eliminar a contaminação bacteriana uterina. A afirmativa que descreve o principal mecanismo fisiopatológico pelo qual as alterações metabólicas e/ou hormonais do periparto imediato comprometem a defesa uterina, criando a predisposição para a metrite é

- (A) diminuição da atividade neutrofílica: o estresse oxidativo e o balanço energético negativo, agravado pela hipocalcemia, inibem a função fagocitária e a capacidade de migração dos neutrófilos.
- (B) aumento da progesterona uterina: alta concentração sanguínea de progesterona durante toda a gestação suprime a resposta inflamatória local do endométrio e diminui a produção de citocinas protetoras.
- (C) acidose metabólica subclínica: a acidose causada pela cetose subclínica associada ao balanço energético negativo reduz o pH do lúmen uterino, criando um ambiente de baixa oxigenação e proliferação de microrganismos anaeróbios.
- (D) disfunção do endotélio uterino: alta concentração sanguínea de cortisol por ocasião do parto causa vasodilatação excessiva na circulação uterina, aumentando a permeabilidade vascular e permitindo o escape maciço de lipopolissacarídeos para a circulação sistêmica.



# GABARITO RASCUNHO

Questões 01 a 14	Questões 15 a 28	Questões 29 a 42	Questões 43 a 56	Questões 57 a 70
01 <input type="radio"/> A <input type="radio"/> B <input type="radio"/> C <input type="radio"/> D	15 <input type="radio"/> A <input type="radio"/> B <input type="radio"/> C <input type="radio"/> D	29 <input type="radio"/> A <input type="radio"/> B <input type="radio"/> C <input type="radio"/> D	43 <input type="radio"/> A <input type="radio"/> B <input type="radio"/> C <input type="radio"/> D	57 <input type="radio"/> A <input type="radio"/> B <input type="radio"/> C <input type="radio"/> D
02 <input type="radio"/> A <input type="radio"/> B <input type="radio"/> C <input type="radio"/> D	16 <input type="radio"/> A <input type="radio"/> B <input type="radio"/> C <input type="radio"/> D	30 <input type="radio"/> A <input type="radio"/> B <input type="radio"/> C <input type="radio"/> D	44 <input type="radio"/> A <input type="radio"/> B <input type="radio"/> C <input type="radio"/> D	58 <input type="radio"/> A <input type="radio"/> B <input type="radio"/> C <input type="radio"/> D
03 <input type="radio"/> A <input type="radio"/> B <input type="radio"/> C <input type="radio"/> D	17 <input type="radio"/> A <input type="radio"/> B <input type="radio"/> C <input type="radio"/> D	31 <input type="radio"/> A <input type="radio"/> B <input type="radio"/> C <input type="radio"/> D	45 <input type="radio"/> A <input type="radio"/> B <input type="radio"/> C <input type="radio"/> D	59 <input type="radio"/> A <input type="radio"/> B <input type="radio"/> C <input type="radio"/> D
04 <input type="radio"/> A <input type="radio"/> B <input type="radio"/> C <input type="radio"/> D	18 <input type="radio"/> A <input type="radio"/> B <input type="radio"/> C <input type="radio"/> D	32 <input type="radio"/> A <input type="radio"/> B <input type="radio"/> C <input type="radio"/> D	46 <input type="radio"/> A <input type="radio"/> B <input type="radio"/> C <input type="radio"/> D	60 <input type="radio"/> A <input type="radio"/> B <input type="radio"/> C <input type="radio"/> D
05 <input type="radio"/> A <input type="radio"/> B <input type="radio"/> C <input type="radio"/> D	19 <input type="radio"/> A <input type="radio"/> B <input type="radio"/> C <input type="radio"/> D	33 <input type="radio"/> A <input type="radio"/> B <input type="radio"/> C <input type="radio"/> D	47 <input type="radio"/> A <input type="radio"/> B <input type="radio"/> C <input type="radio"/> D	61 <input type="radio"/> A <input type="radio"/> B <input type="radio"/> C <input type="radio"/> D
06 <input type="radio"/> A <input type="radio"/> B <input type="radio"/> C <input type="radio"/> D	20 <input type="radio"/> A <input type="radio"/> B <input type="radio"/> C <input type="radio"/> D	34 <input type="radio"/> A <input type="radio"/> B <input type="radio"/> C <input type="radio"/> D	48 <input type="radio"/> A <input type="radio"/> B <input type="radio"/> C <input type="radio"/> D	62 <input type="radio"/> A <input type="radio"/> B <input type="radio"/> C <input type="radio"/> D
07 <input type="radio"/> A <input type="radio"/> B <input type="radio"/> C <input type="radio"/> D	21 <input type="radio"/> A <input type="radio"/> B <input type="radio"/> C <input type="radio"/> D	35 <input type="radio"/> A <input type="radio"/> B <input type="radio"/> C <input type="radio"/> D	49 <input type="radio"/> A <input type="radio"/> B <input type="radio"/> C <input type="radio"/> D	63 <input type="radio"/> A <input type="radio"/> B <input type="radio"/> C <input type="radio"/> D
08 <input type="radio"/> A <input type="radio"/> B <input type="radio"/> C <input type="radio"/> D	22 <input type="radio"/> A <input type="radio"/> B <input type="radio"/> C <input type="radio"/> D	36 <input type="radio"/> A <input type="radio"/> B <input type="radio"/> C <input type="radio"/> D	50 <input type="radio"/> A <input type="radio"/> B <input type="radio"/> C <input type="radio"/> D	64 <input type="radio"/> A <input type="radio"/> B <input type="radio"/> C <input type="radio"/> D
09 <input type="radio"/> A <input type="radio"/> B <input type="radio"/> C <input type="radio"/> D	23 <input type="radio"/> A <input type="radio"/> B <input type="radio"/> C <input type="radio"/> D	37 <input type="radio"/> A <input type="radio"/> B <input type="radio"/> C <input type="radio"/> D	51 <input type="radio"/> A <input type="radio"/> B <input type="radio"/> C <input type="radio"/> D	65 <input type="radio"/> A <input type="radio"/> B <input type="radio"/> C <input type="radio"/> D
10 <input type="radio"/> A <input type="radio"/> B <input type="radio"/> C <input type="radio"/> D	24 <input type="radio"/> A <input type="radio"/> B <input type="radio"/> C <input type="radio"/> D	38 <input type="radio"/> A <input type="radio"/> B <input type="radio"/> C <input type="radio"/> D	52 <input type="radio"/> A <input type="radio"/> B <input type="radio"/> C <input type="radio"/> D	66 <input type="radio"/> A <input type="radio"/> B <input type="radio"/> C <input type="radio"/> D
11 <input type="radio"/> A <input type="radio"/> B <input type="radio"/> C <input type="radio"/> D	25 <input type="radio"/> A <input type="radio"/> B <input type="radio"/> C <input type="radio"/> D	39 <input type="radio"/> A <input type="radio"/> B <input type="radio"/> C <input type="radio"/> D	53 <input type="radio"/> A <input type="radio"/> B <input type="radio"/> C <input type="radio"/> D	67 <input type="radio"/> A <input type="radio"/> B <input type="radio"/> C <input type="radio"/> D
12 <input type="radio"/> A <input type="radio"/> B <input type="radio"/> C <input type="radio"/> D	26 <input type="radio"/> A <input type="radio"/> B <input type="radio"/> C <input type="radio"/> D	40 <input type="radio"/> A <input type="radio"/> B <input type="radio"/> C <input type="radio"/> D	54 <input type="radio"/> A <input type="radio"/> B <input type="radio"/> C <input type="radio"/> D	68 <input type="radio"/> A <input type="radio"/> B <input type="radio"/> C <input type="radio"/> D
13 <input type="radio"/> A <input type="radio"/> B <input type="radio"/> C <input type="radio"/> D	27 <input type="radio"/> A <input type="radio"/> B <input type="radio"/> C <input type="radio"/> D	41 <input type="radio"/> A <input type="radio"/> B <input type="radio"/> C <input type="radio"/> D	55 <input type="radio"/> A <input type="radio"/> B <input type="radio"/> C <input type="radio"/> D	69 <input type="radio"/> A <input type="radio"/> B <input type="radio"/> C <input type="radio"/> D
14 <input type="radio"/> A <input type="radio"/> B <input type="radio"/> C <input type="radio"/> D	28 <input type="radio"/> A <input type="radio"/> B <input type="radio"/> C <input type="radio"/> D	42 <input type="radio"/> A <input type="radio"/> B <input type="radio"/> C <input type="radio"/> D	56 <input type="radio"/> A <input type="radio"/> B <input type="radio"/> C <input type="radio"/> D	70 <input type="radio"/> A <input type="radio"/> B <input type="radio"/> C <input type="radio"/> D

**ATENÇÃO!**

**ESTA PÁGINA PODERÁ SER DESTACADA E LEVADA PELO (A) CANDIDATO (A) SOMENTE SE NÃO CONTIVER NENHUMA ANOTAÇÃO ALÉM DAS MARCAÇÕES DO GABARITO-RASCUNHO.**

**UNIVERSIDADE FEDERAL DE LAVRAS – UFLA  
CONCURSO PÚBLICO TÉCNICO ADMINISTRATIVO / UFLA (EDITAL 60/25)**

