



Concurso Público
para provimento de vagas e formação de cadastro de reserva no
cargo de Assistente de Gestão Administrativa da Universidade
Estadual de Goiás – UEG – 2022

Domingo, 06 de novembro de 2022.

CADERNO DA PROVA OBJETIVA

TÉCNICO EM AGROPECUÁRIA

Instruções ao Candidato

1. Este caderno de provas é composto de 80 (**oitenta**) questões objetivas (conhecimentos básicos e específicos).
2. Confira todas suas páginas e solicite a sua substituição caso apresente falha de impressão ou esteja incompleto. Verifique, ainda, se seu nome, seu número de inscrição e do documento de identidade estão grafados corretamente abaixo da linha. Se houver algum erro, comunique ao fiscal de sala.
3. Durante a prova, o candidato **não** poderá levantar-se sem autorização prévia ou comunicar-se com outros candidatos.
4. As respostas da prova objetiva deverão ser transcritas com caneta esferográfica de corpo transparente e de tinta **preta ou azul** no cartão de resposta. O candidato que descumprir este item arcará com eventual prejuízo da ausência de leitura óptica de suas marcações.
5. O candidato poderá utilizar os espaços de rascunho e o rascunho de gabarito deste caderno de provas para resoluções das questões, se necessário, e as alternativas escolhidas.
6. Somente 1 (uma) hora antes do horário determinado para o término da prova, o candidato poderá sair da sala portando este caderno de provas.
7. O candidato deverá transcrever a frase que está nesta capa de prova para o cartão de respostas.
8. **Aguarde autorização do fiscal de sala para iniciar a prova.**

OBSERVAÇÃO: • Os fiscais não estão autorizados a fornecer informações acerca desta prova.

ATENÇÃO

O candidato deverá conferir os seus dados no CARTÃO DE RESPOSTAS e, assim que autorizado pelo fiscal de sala, copiar no local indicado, com sua caligrafia usual, a seguinte frase.

“Você é maior que o obstáculo!”

Rascunho do Gabarito

Questão	Alternativas				
1	a	b	c	d	e
2	a	b	c	d	e
3	a	b	c	d	e
4	a	b	c	d	e
5	a	b	c	d	e
6	a	b	c	d	e
7	a	b	c	d	e
8	a	b	c	d	e
9	a	b	c	d	e
10	a	b	c	d	e
11	a	b	c	d	e
12	a	b	c	d	e
13	a	b	c	d	e
14	a	b	c	d	e
15	a	b	c	d	e
16	a	b	c	d	e
17	a	b	c	d	e
18	a	b	c	d	e
19	a	b	c	d	e
20	a	b	c	d	e
21	a	b	c	d	e
22	a	b	c	d	e
23	a	b	c	d	e
24	a	b	c	d	e
25	a	b	c	d	e
26	a	b	c	d	e
27	a	b	c	d	e
28	a	b	c	d	e
29	a	b	c	d	e
30	a	b	c	d	e
31	a	b	c	d	e
32	a	b	c	d	e
33	a	b	c	d	e
34	a	b	c	d	e
35	a	b	c	d	e
36	a	b	c	d	e
37	a	b	c	d	e
38	a	b	c	d	e
39	a	b	c	d	e
40	a	b	c	d	e

Questão	Alternativas				
41	a	b	c	d	e
42	a	b	c	d	e
43	a	b	c	d	e
44	a	b	c	d	e
45	a	b	c	d	e
46	a	b	c	d	e
47	a	b	c	d	e
48	a	b	c	d	e
49	a	b	c	d	e
50	a	b	c	d	e
51	a	b	c	d	e
52	a	b	c	d	e
53	a	b	c	d	e
54	a	b	c	d	e
55	a	b	c	d	e
56	a	b	c	d	e
57	a	b	c	d	e
58	a	b	c	d	e
59	a	b	c	d	e
60	a	b	c	d	e
61	a	b	c	d	e
62	a	b	c	d	e
63	a	b	c	d	e
64	a	b	c	d	e
65	a	b	c	d	e
66	a	b	c	d	e
67	a	b	c	d	e
68	a	b	c	d	e
69	a	b	c	d	e
70	a	b	c	d	e
71	a	b	c	d	e
72	a	b	c	d	e
73	a	b	c	d	e
74	a	b	c	d	e
75	a	b	c	d	e
76	a	b	c	d	e
77	a	b	c	d	e
78	a	b	c	d	e
79	a	b	c	d	e
80	a	b	c	d	e

Língua Portuguesa

Leia os textos a seguir para responder às questões de 1 a 15.

Texto 1

Aprovada PEC da Economia Solidária; texto vai à Câmara.

1 O Senado aprovou, nesta terça-feira, em segundo turno, a Proposta de Emenda à Constituição
2 (PEC 69/2019), que inclui a economia solidária entre os princípios da ordem econômica nacional. O texto,
3 que teve como primeiro signatário o senador Jaques Wagner, será encaminhado à apreciação da Câmara
4 dos Deputados.

5 A proposição acrescenta o inciso X ao artigo 170 da Constituição Federal como forma de incluir a
6 economia solidária entre os princípios da ordem econômica.

7 Atualmente, a redação do dispositivo constitucional estabelece que “a ordem econômica, fundada
8 na valorização do trabalho humano e na livre iniciativa, tem por fim assegurar a todos existência digna,
9 conforme os ditames da justiça social, observados os seguintes princípios: soberania nacional;
10 propriedade privada; função social da propriedade; livre concorrência; defesa do consumidor; defesa do
11 meio ambiente, inclusive mediante tratamento diferenciado conforme o impacto ambiental dos produtos e
12 serviços e de seus processos de elaboração e prestação; redução das desigualdades regionais e sociais;
13 busca do pleno emprego; e tratamento favorecido para as empresas de pequeno porte constituídas sob as
14 leis brasileiras e que tenham sua sede e administração no País”.

15 Na justificativa da proposta, Jaques Wagner observa que a economia solidária é incipiente na
16 ordem econômica real, apesar de sua importância social e de estar inscrita entre os objetivos
17 fundamentais da República, previstos no artigo 3º da Constituição.

18 Em seu relatório, Alessandro Vieira destaca que a economia solidária é uma alternativa inovadora
19 na geração de trabalho e na inclusão social, na forma de uma corrente que integra quem produz, quem
20 vende, quem troca e quem compra. Seus princípios são autogestão, democracia, solidariedade,
21 cooperação, respeito à natureza, comércio justo e consumo solidário.

22 Inicialmente, destaca o relator, o movimento da economia solidária teve o objetivo de combater a
23 miséria e o desemprego gerados pela crise econômica que atingiu o Brasil na década de 1980. Com o
24 passar do tempo, o movimento da economia solidária se transformou em um modelo de desenvolvimento
25 que promove não só a inclusão social, mas também constitui uma alternativa ao individualismo
26 exacerbado.

27 Autor da matéria, Jaques Wagner, disse que a PEC da Economia Solidária vem fazer justiça a um
28 sem número de iniciativas que surgiram a partir das dificuldades decorrentes das mudanças econômicas
29 no Brasil e no mundo. O senador explicou que a proposta tem caráter declaratório, ao incluir a economia
30 solidária na Constituição, no sentido de que seja reconhecida como parte da economia brasileira, como
31 ocorre em todos os países do mundo.

32 Apesar de o nome sugerir outra coisa, a economia solidária é uma atividade produtiva: são
33 cooperativas, são até empresas cuja gestão é compartilhada. Em alguns casos de falências dessas
34 empresas, a solução dos funcionários é tomá-las legalmente e fazê-las voltar a produzir para não
35 perderem os postos de trabalho. As cooperativas de catadores de papel e de lixo reciclável enquadram-se
36 na categoria economia solidária, pelo fato de que há junção de interessados para uma solução.

37 Na avaliação do senador Nelsinho Trad, a inclusão da economia solidária entre os princípios da
38 ordem econômica nacional irá facilitar a prática de políticas públicas valorizando o ser humano,
39 estimulando a economia e a distribuição de riqueza.

Disponível em: www12.senado.leg.br/noticias/materias/2022/05/03. Acesso em: 16 ago. 2022. (Adaptado).



Texto 2**O que é economia solidária?**

1 Basicamente, Economia Solidária é o nome dado ao conjunto de atividades econômicas, seja de
2 produção, distribuição, consumo, poupança e crédito organizadas sob a forma de autogestão (forma de
3 organização em que a administração da empresa é feita pelos seus participantes, com democracia direta,
4 sem a figura do “patrão” e com igualdade entre seus membros).

5 Os historiadores e estudiosos dizem que o termo surgiu na Grã-Bretanha, durante a Primeira
6 Revolução Industrial. Foi uma reação dos artesãos que perderam seus empregos para as máquinas a
7 vapor e na passagem do século XVIII para o século XIX surgiram os primeiros sindicatos e as primeiras
8 cooperativas (símbolo da economia solidária).

9 Porém, podemos dizer que a economia solidária já existia e acontecia muito antes dessa data.
10 Partindo da visão intercultural, e baseando-se no conceito de movimentos econômicos fundados na
11 solidariedade, foram reconhecidas práticas solidárias milenares no campo econômico muito antes da
12 Revolução Industrial.

13 A Economia Solidária, por definição, tem a pretensão de diminuir a desigualdade na sociedade,
14 logo, é uma forma de economia colaborativa ao invés de competitiva. Só pode ser concretizada se houver
15 plena igualdade entre todos que se unem para produzir, consumir, comerciar ou trocar. Pensando nisso, a
16 Economia Solidária visa à união entre iguais em vez do contrato entre os desiguais.

17 Neste sentido, não existe competição entre os sócios, caso a cooperativa precise de diretores,
18 estes são votados diretamente e, se a cooperativa conseguir acumular capital, a divisão do lucro é igual
19 entre todos os participantes.

20 Por fim, as decisões importantes sempre são tomadas em assembleias pelos sócios, utilizando o
21 princípio de que “cada cabeça é um voto”, não importando o cargo ou posição que o sócio ocupa na
22 organização.

Disponível em: <https://aventuradeconstruir.org.br/o-que-e-economia-solidaria/>. Acesso em: 16 ago. 2022.
(Adaptado).

Questão 1

É ideia presente no texto 1:

- a) a economia solidária nasceu a partir da organização dos industriais, sendo depois adotada pelos trabalhadores rurais e urbanos.
- b) o Brasil precisa criar incentivos para empreendimentos de economia solidária, já que inexitem, no país, iniciativas desse tipo de relação econômica.
- c) um dos princípios básicos da economia solidária é a centralização da gestão, por meio da qual um pequeno grupo de trabalhadores toma todas as decisões.
- d) a principal característica dos empreendimentos de economia solidária é o incentivo à competição entre os trabalhadores, para alcançarem cargos e salários melhores.
- e) a economia solidária, embora já presente no Brasil, ainda é incipiente e deve ser incluída entre os princípios da ordem econômica que constam na Constituição Federal.

Questão 2

É uma estratégia argumentativa que predomina no texto 1:

- a) o uso de metáforas e metonímias para a apresentação de conceitos complexos.
- b) o estabelecimento de relações intertextuais com outros textos sobre o assunto tratado.
- c) a menção de dados quantitativos de economia, com base em pesquisas acadêmicas recentes.
- d) a discussão sobre os vários princípios da ordem econômica, presentes na Constituição Federal.
- e) a citação de profissionais que trabalham diretamente com economia solidária e que teorizam sobre ela.

Espaço para rascunho



Questão 3

No texto 1, as palavras “desemprego” (linha 23) e “individualismo” (linha 25) são formadas, respectivamente, pelos mesmos processos morfológicos que

- a) abalo e debate
- b) girassol e filosofia
- c) prever e suavidade
- d) abençoado e disposição
- e) escolarização e amanhecer

Questão 4

Observe o trecho a seguir, presente no texto 1.

“Com o passar do tempo, o movimento da economia solidária se transformou em um modelo de desenvolvimento que promove não só a inclusão social, mas também constitui uma alternativa ao individualismo exacerbado.” (linhas 23-26).

Nesse trecho, as expressões “não só” e “mas também” indicam, no contexto, uma relação sintático-semântica de

- a) adição de ideias apresentadas.
- b) alternância entre diferentes opções.
- c) oposição de argumentos mencionados.
- d) intensificação de uma posição teórica.
- e) negação de pontos de vista.

Questão 5

Observe o trecho a seguir, presente no texto 1.

“Jaques Wagner observa que a economia solidária é incipiente na ordem econômica real” (linhas 15-16).

A palavra “incipiente” pode ser substituída, sem prejuízo de sentido, por

- a) duvidosa
- b) completa
- c) confiável
- d) discutível
- e) embrionária

Espaço para rascunho

Questão 6

Na frase "... na forma de uma corrente que integra quem produz, quem vende, quem troca e quem compra...", se as formas verbais "produz", "vende", "troca" e "compra" fossem alteradas para o pretérito imperfeito do subjuntivo, o resultado seria

- a) produzisse, vendesse, trocasse, comprasse.
- b) produzirá, venderá, trocará, comprará.
- c) produzir, vender, trocar, comprar.
- d) produzira, vendera, trocara, comprara.
- e) produziria, venderia, trocaria, compraria.

Questão 7

No texto 1, a expressão "Apesar de" (linha 32), introduz uma oração com valor

- a) causal
- b) explicativo
- c) condicional
- d) concessivo
- e) adversativo

Questão 8

Na frase "Os historiadores e estudiosos dizem que o termo surgiu na Grã-Bretanha" (linha 5, texto 2), a oração subordinada exerce a mesma função sintática que a expressão:

- a) "atividade produtiva", em "a economia solidária é uma atividade produtiva" (linha 32, texto 1).
- b) "de diretores", em "caso a cooperativa precise de diretores, estes são votados diretamente" (linhas 17-18, texto 2).
- c) "o movimento", em "o movimento da economia solidária se transformou em um modelo de desenvolvimento" (linha 24, texto 1).
- d) "a prática de políticas públicas", em "a inclusão da economia solidária entre os princípios da ordem econômica nacional irá facilitar a prática de políticas públicas" (linhas 37- 38, texto 1).
- e) "o relator", em "Inicialmente, destaca o relator, o movimento da economia solidária teve o objetivo de combater a miséria e o desemprego" (linhas 22-23, texto 1).

Espaço para rascunho


Questão 9

No trecho “A Economia Solidária, por definição, tem a pretensão de diminuir a desigualdade na sociedade” (linha 13, texto 2), a expressão “a pretensão” indica, no contexto:

- a exigência de um direito líquido e certo.
- uma aspiração a ser alcançada.
- a introdução de uma certeza.
- uma postura de desinteresse.
- uma vaidade exagerada.

Questão 10

Observe os quadrinhos a seguir.



Disponível em: <http://www.malvados.com.br/index1706.html>. Acesso em: 31 ago. 2022.

Considerando-se as ideias apresentadas nos textos 1 e 2, verifica-se que os conteúdos veiculados pelos quadrinhos

- apresentam semelhanças com o princípio geral da economia solidária, embora a fala da personagem no último quadrinho indique outro ponto de vista.
- referem-se a características ausentes na economia solidária, no segundo quadrinho, o que é confirmado na fala da personagem no último quadrinho.
- apontam um exemplo perfeito de economia competitiva na natureza, cuja fala final da tirinha sugere que os seres humanos devem imitar.
- exemplificam as contradições entre economia de mercado e economia solidária, presentes até no instinto dos animais que vivem em grupo.
- indicam exemplos, na natureza, de competição pela liderança, em que o indivíduo mais forte e rápido comanda o grupo, assim como nos empreendimentos de economia solidária.

Espaço para rascunho

Questão 11

No trecho “O senador explicou que a proposta tem caráter declaratório, ao incluir a economia solidária na Constituição, no sentido de que seja reconhecida como parte da economia brasileira, como ocorre em todos os países do mundo” (linhas 29-31, texto 1), a expressão “seja reconhecida” aciona o seguinte pressuposto linguístico à frase em que ocorre:

- a) a economia solidária passará a existir como parte da economia do país, a partir da aprovação e sanção da lei.
- b) a economia solidária deixará de fazer parte da informalidade com sua inclusão na Constituição.
- c) a economia solidária não era reconhecida oficialmente como parte da economia do país.
- d) a economia solidária brasileira, com a nova lei, será exemplo para os demais países do mundo.
- e) a economia solidária passará a existir apenas na lei, mas continuará ausente das práticas econômicas reais.

Questão 12

Predomina no quarto parágrafo do texto 2 (linhas 13-16) uma organização retórico-argumentativa que

- a) apresenta ideias antagônicas, para enfatizar as características da economia solidária.
- b) contém exemplos concretos, a partir dos quais o leitor deve depreender o que é economia solidária.
- c) faz analogia entre economia solidária e economia de mercado, para indicar as vantagens de cada uma.
- d) expõe características de economia solidária, para apontar suas semelhanças com economia de mercado.
- e) cita uma definição de economia solidária, explicando-a com conceitos do campo das ciências econômicas.

Questão 13

Na frase “Basicamente, Economia Solidária é o nome dado ao conjunto de atividades econômicas, seja de produção, distribuição, consumo, poupança e crédito organizadas sob a forma de autogestão” (linhas 1-2 , texto 2), o termo “basicamente” indica, para o trecho que introduz, uma

- a) paráfrase do parágrafo seguinte, cujo sentido global é apenas uma reformulação.
- b) intensificação dos conceitos apresentados no parágrafo sobre a economia solidária.
- c) busca de precisão da definição apresentada, situando-a numa área específica da economia.
- d) analogia, tendo em vista que se comparam diferentes percepções do que é economia solidária.
- e) modalização, por meio da qual se estabelece uma definição aproximada do conceito em questão.

Espaço para rascunho

Questão 14

Na frase “não existe competição entre os sócios, caso a cooperativa precise de diretores, estes são votados diretamente e, se a cooperativa conseguir acumular capital, a divisão do lucro é igual entre todos os participantes” (linha 17-19, texto 2), o vocábulo “estes” retoma

- a) capital
- b) sócios
- c) diretores
- d) cooperativa
- e) participantes

Questão 15

No trecho “Foi uma reação dos artesãos que perderam seus empregos para as máquinas a vapor...” (linhas 6-7, texto 2), se fosse acrescentada uma vírgula depois da palavra “artesãos”, verificaríamos que a frase

- a) mudaria de sentido e seria uma construção incoerente do ponto de vista sintático.
- b) manteria o sentido e continuaria em conformidade com a norma padrão da língua.
- c) manteria o sentido, mas ficaria em desconformidade com a norma padrão da língua.
- d) mudaria de sentido, mas continuaria em conformidade com a norma padrão da língua.
- e) manteria o sentido, mas seria uma construção incoerente do ponto de vista semântico.

Espaço para rascunho

Realidade étnica, social, histórica, geográfica, cultural, política e econômica do Estado de Goiás e do Brasil (lei n.º 14.911/2004)**Questão 16**

Leia o texto a seguir.

É considerada uma importante formação savânica. Ocorre em áreas de afloramento do lençol freático. Contribui para a manutenção da fauna aquática e terrestre em virtude de abrigar várias espécies vegetais, dentre elas o buriti. O texto se refere à seguinte fitofisionomia do Cerrado:

- a) cerrado
- b) veredas
- c) mata ciliar
- d) mata galeria
- e) campos sujos

Questão 17

Leia o texto a seguir.

A Região Metropolitana de Goiânia, criada pela Lei Complementar nº 149 de 15 de maio de 2019, foi instituída para integrar a organização, o planejamento e a execução de funções de interesse comum de Goiânia e outros vinte municípios, alguns deles conurbados à capital. Fazem parte desta Região Metropolitana, além de Goiânia, os seguintes municípios:

- a) Bonfinópolis, Bela Vista, Goianópolis e Itauçu.
- b) Trindade, Anápolis, Senador Canedo e Aragoiânia.
- c) Nerópolis, Senador Canedo, Aragoiânia e Trindade.
- d) Terezópolis, Aparecida de Goiânia, Trindade e Anápolis.
- e) Goianira, Santo Antônio de Goiás, Senador Canedo e Itaberaí.

Questão 18

Leia o texto a seguir.

O governo Mauro Borges foi o primeiro a propor, como diretriz de ação, um “plano de desenvolvimento Econômico de Goiás” (1961 – 1965) abrangendo todas as áreas: agricultura e pecuária, transportes e comunicações, energia elétrica, educação e cultura, saúde e assistência social (...). Outro empreendimento importante que nasceu no governo Mauro Borges foi a tentativa de reforma agrária através de uma experiência-piloto: o combinado Agro-urbano de Arraias.

PALACÍN, Luís; MORAES, Maria Augusta de Sant’Anna. *História de Goiás (1722 – 1972)*. Goiânia: Editora da PUC, 2001. p. 121 – 123.

Essa experiência foi fortemente inspirada no modelo de socialismo cooperativista

- a) dos Kibuts israelenses.
- b) das Comunas de Paris.
- c) dos Guetos de Varsóvia.
- d) dos Gulags da União Soviética.
- e) das Comunidades Eclesiais de Base propostas pela Teologia da Libertação.

Espaço para rascunho

Questão 19

O revigoramento da ocupação e povoamento do sul de Goiás, no início do século XX, deu-se com a:

- a) construção de Goiânia e de Brasília.
- b) extração de ouro em vilas como Meia Ponte e Vila Boa.
- c) formação de grandes fazendas de criação extensiva de bois.
- d) implantação de infraestrutura de transporte ferroviário.
- e) produção de grãos para exportação.

Questão 20

A produção agrícola comercial implementada em Goiás, a partir da década de 1970, foi possível graças à

- a) utilização de mão de obra familiar abundante nas regiões noroeste e sudoeste do estado.
- b) ocupação de extensas áreas de topografia plana localizadas na região nordeste do estado.
- c) concessão de financiamentos para atividades agrícolas voltadas ao abastecimento do mercado local.
- d) expansão da quantidade de grandes fazendas destinadas às atividades agropecuárias de subsistência.
- e) inserção, no circuito da produção nacional e internacional, dos solos ácidos em áreas de topografia plana.

Espaço para rascunho

Raciocínio Lógico e Matemático

Questão 21

Dado os conjuntos $A = \{ 1, 2, 3, 4 \}$, $B = \{ 2, 3, 4, 5 \}$ e $C = \{ 3, 4, 5, 6 \}$, verifica-se que a operação $A \cup (B \cap C)$ é o conjunto

- a) $\{ 1, 2, 3, 4, 5, 6 \}$
- b) $\{ 1, 2, 3, 4, 5 \}$
- c) $\{ 2, 3, 4, 5, 6 \}$
- d) $\{ 2, 4, 6 \}$
- e) $\{ 3, 4 \}$

Questão 22

Em suas caminhadas matinais, certo homem, mantendo velocidade constante, consegue andar 60 metros a cada minuto. Sabendo-se que suas caminhadas duram 1 hora e 10 minutos, verifica-se que a distância total percorrida é de

- a) 3 km
- b) 3,5 km
- c) 4 km
- d) 4,2 km
- e) 5 km

Questão 23

Dados retirados do site do Ministério da Saúde do Estado de Goiás, relacionados à Campanha de Vacinação contra a COVID-19 em 2022, foram organizados em uma tabela tal que nas linhas estão representados os municípios e nas colunas o total de doses aplicadas (A), o total de doses distribuídas (B), o percentual de doses utilizadas (C) e a população geral (D), respectivamente, como mostrado a seguir.

Considerando-se os dados apresentados, verifica-se que o município com o maior número de doses utilizadas foi

MUNICÍPIO	A	B	C	D
ABADIÂNIA	31.760	42.308	75,07	19.729
ALEXÂNIA	55.399	57.382	96,54	27.677
ANÁPOLIS	778.266	862.562	90,23	387.553
GOIANÁPOLIS	24.178	26.323	91,85	11.125
PIRENÓPOLIS	52.670	55.292	95,26	25.274
TEREZÓPOLIS DE GOIÁS	15.486	19.334	80,1	7.978

- a) Alexânia
- b) Anápolis
- c) Abadiânia
- d) Pirenópolis
- e) Goianápolis

Espaço para rascunho

Questão 24

Observe as sentenças I e II, apresentadas a seguir

- I) $x + 3 < 1$
- II) Não rabisque as carteiras.

Considerando-se essas sentenças, verifica-se que

- a) somente II é uma sentença fechada.
- b) somente II é uma sentença aberta.
- c) somente I é uma sentença aberta.
- d) I e II são sentenças fechadas.
- e) I e II são sentenças abertas.

Questão 25

Para um certo curso de graduação, foi doada uma inscrição para se participar de um evento internacional. Sabendo-se que a inscrição deve ser sorteada entre as turmas de 1º, 2º e 3º período, que possuem 40, 30 e 30 alunos, respectivamente, e que nenhum aluno está matriculado em mais de um período ao mesmo tempo, verifica-se que a probabilidade de o aluno sorteado ser do 1º ou 3º período é de

- a) 75%
- b) 45%
- c) 70%
- d) 50%
- e) 60%

Questão 26

O resultado de uma pesquisa eleitoral foi a seguinte afirmação: Nenhum candidato do partido A e B será eleito. Após uma melhor apuração, a empresa responsável pela pesquisa se retratou, negando a afirmação realizada. Assim, a sentença que melhor representa o novo resultado é

- a) Todo candidato do partido A e B será eleito.
- b) Pelos menos um candidato do partido A e B será eleito.
- c) Algum candidato do partido A ou nenhum candidato do partido B será eleito.
- d) Algum candidato do partido A ou B será eleito.
- e) Todo candidato do partido A ou B será eleito.

Espaço para rascunho

Questão 27

Considere as duas sentenças a seguir.

- As questões de raciocínio lógico estão fáceis.
- As questões de raciocínio lógico eu sei resolver.

A frase que representa a disjunção das duas sentenças é

- a) As questões de raciocínio lógico estão fáceis e eu sei resolver.
- b) As questões de raciocínio lógico estão fáceis ou eu sei resolver.
- c) Nenhuma questão de raciocínio lógico está fácil ou eu sei resolver.
- d) Algumas questões de raciocínio lógico estão fáceis ou eu sei resolver.
- e) As questões de raciocínio lógico não estão fáceis e eu não sei resolver.

Questão 28

Uma senha é formada por quatro algarismos distintos. Quantas sequências de números podem ser formadas?

- a) 10.000
- b) 5.040
- c) 4.536
- d) 2.400
- e) 1.000

Questão 29

Dada a sentença lógica “Se a prova do concurso é hoje, então hoje é domingo”, tem-se a seguinte disjunção:

- a) a prova do concurso é hoje e hoje é domingo.
- b) se hoje é domingo então a prova do concurso é hoje.
- c) se a prova do concurso não é hoje então hoje não é domingo.
- d) a prova do concurso não é hoje ou hoje é domingo.
- e) a prova do concurso é hoje ou hoje é domingo.

Espaço para rascunho

Questão 30

A tabela-verdade representada a seguir está incompleta. A sequência que completa corretamente a tabela-verdade dada é

p	q	$p \vee \sim q$
V	V	
V	F	
F		F
F	F	

- a) VVFF
- b) FVFF
- c) VVVV
- d) VVFF
- e) FFVV

Questão 31

Em uma pesquisa sobre o consumo das frutas pera, maçã e goiaba, a fruta mais consumida foi maçã, mencionada por 300 pessoas, e a pera a menos consumida, já que apenas 239 pessoas afirmaram consumi-la. Nenhum entrevistado consumia apenas goiaba. Consumiam as três frutas 120 pessoas, apenas maçã e pera 80 pessoas e consumiam somente pera, 7 pessoas. Quantas pessoas consumiam pera e goiaba?

- a) 133
- b) 93
- c) 40
- d) 37
- e) 32

Espaço para rascunho

Questão 32

O álbum Copa do Mundo de 2022 é composto por figurinhas representando estádios, mascotes, escudos e jogadores das 32 seleções participantes, com 20 figurinhas de cada seleção, inclusive da Seleção Brasileira de Futebol. Ao todo são 670 figurinhas diferentes, além das extras, e são vendidas em pacotes com 5 unidades cada. Suponha que as figurinhas sejam vendidas avulsas (uma unidade), ao adquirir uma figurinha avulsa, qual a probabilidade de uma pessoa sair com uma figurinha que não seja da Seleção Brasileira de Futebol?

- a) Aproximadamente 97%
- b) Aproximadamente 30%
- c) Aproximadamente 28%
- d) Aproximadamente 63%
- e) Aproximadamente 38%

Questão 33

Um terreno de 25 m de comprimento por 16 m de largura foi dividido em 3 lotes retangulares, de forma que dois deles têm o mesmo tamanho, cuja soma das áreas é 272 m^2 . As medidas do lote de menor tamanho são

- a) 9 m x 15 m
- b) 5 m x 9 m
- c) 8 m x 16 m
- d) 8 m x 17 m
- e) 16 m x 17 m

Espaço para rascunho


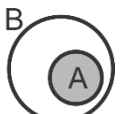

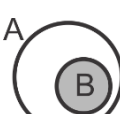

Questão 34

Sentenças declarativas que podem ser classificadas como verdadeiras ou falsas, e associadas a apenas um valor lógico, são chamadas de

- a) falácia
- b) negação
- c) premissa
- d) proposição
- e) argumento

Questão 35

Considerando-se as proposições A e B , o diagrama que representa $A \subset B$ é

- a) 
- b) 
- c) 
- d) 
- e) 

Espaço para rascunho

Legislação e Ética

Questão 36

Nos termos do Estatuto do Servidor Público estadual (Lei estadual n.º 20.756/2020), no caso de adoção uniparental ou obtenção de guarda judicial para fins de adoção, quando o servidor homem for o único responsável pela criança ou adolescente, mediante apresentação de documento oficial comprobatório da adoção ou guarda, expedido pela autoridade judiciária competente, a licença-paternidade será de

- a) 5 dias.
- b) 20 dias.
- c) 90 dias.
- d) 120 dias.
- e) 180 dias.

Questão 37

Dentre os Conselhos Superiores da Universidade Estadual de Goiás (UEG), os servidores técnico-administrativos participam como membros

- a) do Conselho de Gestão, com 4 representantes.
- b) do Conselho Universitário, com 4 representantes.
- c) do Conselho Universitário, com 1 representante, e no Conselho de Gestão, com 1 representante.
- d) do Conselho Universitário, com 4 representantes, e no Conselho de Gestão, com 1 representante.
- e) do Conselho Universitário, com 4 representantes, e no Conselho de Gestão, com 2 representantes.

Questão 38

A Lei estadual n.º 18.971, de 23 de julho 2015, dispõe sobre a autonomia da Universidade Estadual de Goiás. Essa lei dispõe que

- a) cabe à UEG autorizar, na forma da lei, a participação de servidores em cursos e/ou eventos estaduais, nacionais e/ou internacionais; entretanto a liberação de ajuda de custo e auxílio financeiro para a participação nesses eventos, é ato da secretaria de finança.
- b) a execução orçamentária, financeira, patrimonial e contábil da UEG será realizada de acordo com as normas da administração privada.
- c) a UEG está autorizada a alienar bens, na forma legal, inclusive imóvel, independente da autorização legislativa específica.
- d) a formação, qualificação e capacitação de seus servidores é um exemplo do campo de atuação em que se fixam as competências da UEG.
- e) cabe ao Conselho Universitário da UEG a decisão de criar novos cursos na Universidade, por meio de Resolução *Ad Referendum*.

Espaço para rascunho

Questão 39

Nos termos do Código de Ética e Conduta Profissional do Servidor e da Alta Administração da administração pública direta, autárquica e fundacional do Poder Executivo (Decreto estadual n.º 9.837/2021), é um comportamento esperado do servidor público estadual:

- a) dispensar cuidado especial às pessoas com mais dificuldades.
- b) privilegiar o interesse particular em detrimento do interesse público.
- c) encerrar o atendimento ao cidadão sem resolver o problema ou sem esclarecer.
- d) apresentar-se ao trabalho com vestimentas inadequadas ao exercício da função pública.
- e) dispensar tratamentos diferenciados no atendimento aos cidadãos (posses, aparência, amizade, ideologia).

Questão 40

Pedro é servidor da Universidade Estadual de Goiás efetivo e estável com direito a progressão entre níveis na carreira a cada 24 meses de efetivo exercício. Pedro havia acabado de receber uma progressão na carreira quando a sua esposa recebeu uma proposta de trabalho no exterior e, para acompanhar a esposa, pediu licença para interesse particular, que foi concedida pelo período de 1 ano. Pedro permaneceu na licença para interesse particular pelo tempo concedido. Passado mais de 1 ano após o seu retorno da licença para tratar de interesse particular, Pedro requereu a concessão de nova progressão entre níveis, sob o argumento de que já haviam se passado mais de 24 meses de efetivo exercício no cargo.

Diante do caso hipotético apresentado, Pedro

- a) possui direito a progressão entre níveis, uma vez que completou mais de 24 meses de efetivo exercício no cargo.
- b) possui direito a progressão entre níveis, desde que se comprometa a permanecer no cargo pelo mesmo período que ficou afastado para interesse particular.
- c) não possui direito a progressão entre níveis, uma vez que o tempo em licença para interesse particular não é contabilizado como efetivo exercício no cargo.
- d) não possui direito a progressão entre níveis, uma vez que, ao usufruir licença para interesse particular, a contagem do tempo de efetivo exercício é interrompida.
- e) possui direito a progressão entre níveis, desde que tenha exercido outra atividade pública ou particular durante o período de afastamento para interesse particular.

Espaço para rascunho

Conhecimentos Específicos – Técnico em Agropecuária**Questão 41**

A regulagem e a calibração de pulverizadores são feitas para que o produto seja aplicado na dose recomendada e de maneira uniforme. Em uma calibração de pulverizador costal foi marcada uma área de 10 m por 10 m e nessa área aplicado um volume de 1 litro de calda de pulverização. Qual a quantidade de calda foi aplicada em um hectare?

- a) 1000 l/ha
- b) 200 l/ha
- c) 100 l/ha
- d) 50 l/ha
- e) 10 l/ha

Questão 42

Acidentes de trabalho na agricultura envolvendo máquinas são graves e podem levar a óbito. O conhecimento e as orientações sobre os procedimentos para utilização segura do conjunto mecanizado reduzem a ocorrência de acidentes. Atos inseguros e condições inseguras contribuem para o aumento de acidentes no campo com trator agrícola. Qual das alternativas abaixo é uma condição insegura?

- a) Operar trator com roupas largas.
- b) Operar trator com calçados abertos.
- c) Operar trator com uma mão no volante.
- d) Operar trator sem cabine e sem o protetor auricular.
- e) Operar trator sem estrutura de proteção contra capotamento.

Questão 43

A soja é classificada como planta de dia curto (PDC), pois é sensível ao fotoperíodo. Qual o Grupo de Maturação Relativa (GMR) a que pertence as cultivares indicadas para a região sudoeste de Goiás?

- a) 9
- b) 7-8
- c) 4-5
- d) 5-6
- e) 10

Questão 44

Qual o nome comum do inseto vetor da doença mosaico-dourado da cultura do feijão-comum?

- a) Percevejo dos-grãos
- b) Cigarrinha-verde
- c) Mosca-branca
- d) Minadora
- e) Tripes

Espaço para rascunho



Questão 45

A deriva é a principal causa de poluição por agrotóxicos, razão pela qual a pulverização deve ser realizada nas horas de menos ventos, com temperatura amena e umidade relativa elevada. Além disso, o posicionamento da barra deve ser o mais baixo possível. Nessas condições de aplicação, a ponta mais indicada para aplicação de um produto de contato é a ponta

- a) tipo cone
- b) tipo leque
- c) tipo impacto
- d) tipo leque com indução de ar
- e) tipo cone com indução de ar

Questão 46

O mofo branco é uma doença chave de várias culturas graníferas como feijão, soja, girassol, além das hortaliças como tomate, batata, alface. Infelizmente não existe procedimento único de controle deste patógeno. Baseado nesse pressuposto, quais os procedimentos mais indicados para o controle dessa doença?

- a) Aplicação de produtos químicos, emprego de poda mecânica e uso da capina manual.
- b) Emprego de poda mecânica, aumento do espaçamento entre as linhas e uso da capina manual.
- c) Uso da técnica de termoterapia, diminuição da frequência de irrigação e aplicação de produtos químicos.
- d) Aumento do espaçamento entre as linhas, uso da técnica de termoterapia e aplicação de produtos químicos.
- e) Diminuição da frequência de irrigação, aumento do espaçamento entre as linhas e aplicação de produtos químicos.

Questão 47

A qualidade da aplicação de agrotóxico é avaliada por meio do espectro de gotas de uma ponta de pulverização. Uma ponta de pulverização que apresenta um DMV (diâmetro da mediana volumétrica) de 500 micras tem um elevado potencial de

- a) deriva
- b) cobertura
- c) escorrimento
- d) controle da praga
- e) deposição do agrotóxico

Questão 48

Grande parte das áreas de cultivo com culturas graníferas na região do cerrado encontra-se sob plantio direto. Dentre aquelas indicadas a seguir, quais as duas opções de gramíneas forrageiras mais indicadas para produção de palhada nesse sistema?

- a) *Brachiaria brizantha* e *Brachiaria humidicula*
- b) *Brachiaria humidicula* e *Panicum maximum*
- c) *Brachiaria ruziziensis* e *Brachiaria brizantha*
- d) *Brachiaria brizantha* e *Brachiaria decumbens*
- e) *Brachiaria ruziziensis* e *Brachiaria decumbens*

Espaço para rascunho

Questão 49

A norma regulamentadora (NR) que tem por objetivo estabelecer os preceitos a serem observados na organização e no ambiente do trabalhador nas atividades da agricultura, pecuária, silvicultura, exploração florestal e aquicultura é a seguinte:

- a) NR-29
- b) NR-31
- c) NR-32
- d) NR-13
- e) NR-30

Questão 50

O espaçamento recomendado para a cultura de feijão comum é de 0,5 m entre linhas e densidade de 12 plantas por metro linear. Baseado nesse pressuposto, qual a população ideal de plantas por hectare(ha)?

- a) 720.000 plantas/ha
- b) 480.000 plantas/ha
- c) 180.000 plantas/ha
- d) 240.000 plantas/ha
- e) 120.000 plantas/ha

Questão 51

A função da roda guia de um arado de discos acoplado ao sistema de levante hidráulico do trator é regular:

- a) a profundidade do arado.
- b) o ângulo vertical do disco.
- c) o ângulo horizontal do disco.
- d) a velocidade do conjunto trator implemento.
- e) a estabilidade do conjunto trator e implemento.

Questão 52

O risco de um trabalhador se intoxicar com agrotóxicos depende da toxicidade e da quantidade do produto que atinge seu corpo. A toxicidade dos produtos está especificada no rótulo em faixas coloridas, na seguinte ordem crescente de toxicidade:

- a) verde, amarela, azul e vermelho
- b) azul, verde, amarelo e vermelho
- c) vermelho, azul, verde e amarelo
- d) verde, azul, amarelo e vermelho
- e) vermelho, azul, amarelo e verde

Questão 53

As operações de preparo periódico do solo são aquelas que visam à mobilização total da área a ser cultivada. O preparo periódico, quando se faz a inversão completa da leiva, é feita com

- a) subsolador
- b) grade aradora
- c) arado de disco
- d) arado de aiveca
- e) enxada rotativa

Espaço para rascunho



Questão 54

Conforme as normas de segurança do trabalho são deveres do trabalhador:

- a) cumprir e obrigar o uso das disposições legais sobre segurança e saúde no trabalho, garantindo adequadas condições de trabalho, higiene e conforto.
- b) comunicar a seu superior se alguma ferramenta, máquina ou equipamento for danificado ou perder a função.
- c) disponibilizar à inspeção de trabalho todas as informações relativas à segurança e à saúde no trabalho.
- d) adotar os procedimentos necessários sobre ocorrência de acidentes e doenças no trabalho.
- e) informar os resultados das avaliações ambientais realizadas no local de trabalho.

Questão 55

O ministério do trabalho classifica os riscos ocupacionais em cinco tipos. O esforço físico do trabalhador é classificado como risco

- a) físico
- b) químico
- c) biológico
- d) acidental
- e) ergonômico

Questão 56

Dependendo das condições locais de solo e da cultura a ser irrigada, um método de irrigação pode ser de mais fácil manejo que outro. Para culturas que requerem irrigações mais frequentes ou solos com menor capacidade de armazenamento de água, é mais viável utilizar a irrigação por

- a) aspersão e gotejamento.
- b) microaspersão e sulcos.
- c) inundação e aspersão.
- d) gotejamento e sulcos.
- e) sulcos e inundação.

Questão 57

Micronutrientes benéficos são aqueles que não atendem aos três critérios de essencialidade no ciclo da cultura. Baseado nisso, qual micronutriente benéfico é absorvido em grande quantidade pelas culturas graníferas do arroz e do milho?

- a) Selênio
- b) Cloro
- c) Silício
- d) Sódio
- e) Cobalto

Questão 58

Qual nutriente abaixo é utilizado em maior quantidade nas adubações das culturas graníferas?

- a) Cálcio
- b) Fósforo
- c) Potássio
- d) Magnésio
- e) Nitrogênio

Espaço para rascunho



Questão 59

Para o sucesso do sistema de plantio direto, alguns requisitos básicos devem ser atendidos, dentre os quais se destacam:

- a) fazer correção do solo, eliminar plantas daninhas de difícil controle e fazer queimada da palha após a colheita.
- b) eliminar problema de compactação do solo, fazer queimada da palha após a colheita e desligar o picador de palha da colhedora.
- c) eliminar problema de compactação do solo, utilizar máquinas com pneu radial e desligar o picador de palha da colhedora.
- d) fazer correção do solo, eliminar problema de compactação do solo e utilizar máquinas com pneu radial.
- e) fazer queimada da palha após a colheita, desligar o picador de palha da colhedora e usar sementes piratas.

Questão 60

São raças de galinhas poedeiras:

- a) Leghorn, Andaluzia e Duroc
- b) Rhode Sland Red, Leghorn e Duroc
- c) Rhode Sland Red, Leghorn e Andaluzia
- d) Rhode Sland Red, Duroc e Nelore
- e) Duroc, Nelore, Landrace

Questão 61

A adubação com micronutrientes propicia diferencial da produtividade nas culturas agrícolas, contudo existe um micronutriente que possui o mais estreito limite entre deficiência e toxidez. Qual é ele?

- a) Boro
- b) Ferro
- c) Zinco
- d) Cobre
- e) Molibdênio

Questão 62

Conforme as normas de segurança do trabalho, são considerados riscos físicos:

- a) ruído, poeiras, esforço físico.
- b) vibrações, postura inadequada, fungos.
- c) vibrações, umidade, postura inadequada.
- d) pressões anormais, calor, iluminação inadequada.
- e) ruídos, temperaturas extremas e radiações ionizantes.

Questão 63

As sementes de culturas graníferas são classificadas de acordo com o Ministério da Agricultura, Pecuária e Abastecimento (MAPA) em categorias. Quais são as categorias de sementes produzidas dentro do sistema de certificação?

- a) S1 e C1
- b) C1 e C2
- c) S2 e C2
- d) Semente salva e S1
- e) Semente pirata e C1

Questão 64

O clima do cerrado é bem definido, com predominância de estação chuvosa na primavera-verão e seca principalmente no inverno. Isso faz com que o produtor de grãos não consiga fazer um esquema de rotação de cultura adequado ao longo do ano, adotando, em razão disso, a sucessão de culturas, com poucas opções, infelizmente. Nesse sentido, qual o esquema de sucessão de cultura mais adequado para conservação do solo e água para a região do cerrado, considerando aspectos relacionados à morfofisiologia da planta, exigência nutricional e tolerância/resistência às pragas e doenças?

- a) Sorgo na safra + sorgo na safrinha
- b) Milho na safra + sorgo na safrinha
- c) Milho na safra + milho na safrinha
- d) Soja na safra + milho na safrinha
- e) Soja na safra + soja na safrinha

Questão 65

A compactação do solo pode ser gerada pelo uso incorreto de implementos agrícolas. Qual o implemento agrícola que, se usado frequentemente no preparo de solo, contribui para o agravamento da camada compacta em subsuperfície, visto apresentar pouca variação na camada de corte do solo?

- a) Subsolador
- b) Arado de disco
- c) Grade aradora
- d) Arado de aiveca
- e) Grade niveladora

Questão 66

As edificações destinadas ao armazenamento de agrotóxicos, aditivos, adjuvantes e produtos afins devem conter:

- a) ter afixados placas ou cartazes com símbolo de perigo, possibilitar a limpeza e contaminação do ambiente.
- b) estar distantes de cursos naturais de água e próximo ao estoque de mercadorias, moradias e medicamentos para animais.
- c) possuir ventilação comunicando-se com o exterior, permitir acesso aos animais, ter afixados placas ou cartazes com símbolo de perigo.
- d) acesso restrito aos trabalhadores devidamente capacitados a manusear os referidos produtos, possuir ventilação comunicando-se com o exterior e permitir acesso aos animais.
- e) acesso restrito aos trabalhadores devidamente capacitados a manusear os referidos produtos, ter afixados placas ou cartazes com símbolo de perigo, possibilitar a limpeza e descontaminação.

Questão 67

Os equipamentos de proteção individual (EPI) e os dispositivos de proteção pessoal devem ser adequados aos riscos ocupacionais, mantidos e conservados em condições de uso. Sobre o uso e manutenção dos EPI's cabe ao empregador:

- a) comunicar qualquer alteração que os tornem impróprios para uso.
- b) utilizá-los apenas para a finalidade que se destinam.
- c) responsabilizar-se pela guarda e conservação.
- d) cumprir determinações para uso correto.
- e) orientar sobre o uso de forma correta.

Questão 68

São consideradas pragas-chave no armazenamento de grãos:

- a) caruncho e traça
- b) lagarta falsa-medideira e traça
- c) lagarta falsa-medideira e caruncho
- d) lagarta elasmó e bicudo
- e) bicudo e caruncho

Questão 69

Qual subproduto originado do processamento da cana-de-açúcar para obtenção do etanol é aplicado na adubação do canavial por meio de irrigação por aspersão?

- a) Torta de filtro
- b) Vinhaça
- c) Bagaço
- d) Bituca
- e) Palha

Questão 70

As fases de maior exigência de água para as diferentes culturas graníferas são:

- a) maturação e colheita
- b) florescimento e maturação
- c) germinação e enchimento de grãos
- d) florescimento e enchimento de grãos
- e) germinação e crescimento vegetativo

Questão 71

O feijoeiro comum é pouco responsivo à fixação biológica de N₂ atmosférico (FBN) como fonte de nitrogênio. Quais são os fatores responsáveis por isso?

- a) Planta de baixo porte, arquitetura da planta prostrada e diferentes tipos de grãos.
- b) Bactérias selecionadas pouco eficientes, planta de baixo porte e ciclo curto da planta.
- c) Presença de bactérias nativas nodulantes no solo, ciclo curto da planta e planta de baixo porte.
- d) Ciclo curto da planta, bactérias selecionadas pouco eficientes e arquitetura da planta prostrada.
- e) Presença de bactérias nativas nodulantes no solo, ciclo curto da planta e bactérias selecionadas pouco eficientes.

Questão 72

Qual a raça bovina de corte, originária da Índia, que constitui 80% do rebanho nacional?

- a) Tabapuã
- b) Senepol
- c) Nelore
- d) Guzerá
- e) Angus

Espaço para rascunho



Questão 73

Na adubação da cultura do milho são utilizados vários nutrientes. Qual nutriente tem perdas por lixiviação e volatilização?

- a) Nitrogênio
- b) Fósforo
- c) Cálcio
- d) Ferro
- e) Zinco

Questão 74

Os solos de cerrados são reconhecidamente pobres em nutrientes, e apresentam elevados teores de alumínio tóxico. Todavia, a pesquisa brasileira gerou tecnologias que tornaram a região celeiro de grãos. Quais tecnologias permitem corrigir o solo, eliminando o efeito tóxico do alumínio, além de adicionar os nutrientes cálcio, magnésio e enxofre?

- a) Compostagem e fosfatagem
- b) Gessagem e compostagem
- c) Potassagem e gessagem
- d) Fosfatagem e calagem
- e) Calagem e gessagem

Questão 75

Os materiais genéticos transgênicos são cultivados predominantemente nos campos brasileiros de soja. Qual o produto transgênico a seguir agrega as características de resistência à insetos Lepidóptera e tolerância ao herbicida glifosato?

- a) Roundup Ready
- b) Intacta IPRO RR
- c) Liberty Link
- d) Cultivance
- e) CV 127

Questão 76

Cotesia flavipes é o nome científico de uma vespa que faz o controle biológico da principal praga que ataca diretamente o colmo da cana-de-açúcar. Qual o nome dessa praga?

- a) Broca
- b) Cigarrinha das raízes
- c) Cigarrinha das folhas
- d) Lagarta elasmô
- e) Migdolus

Espaço para rascunho

Questão 77

Para proporcionar uma boa sanidade animal, o criador precisa tomar diversas medidas que envolvem trabalhos de prevenção, planejamento e cuidados. Entre os principais estão:

- a) manter o animal estressado, deixar que passem fome e sede, adotar práticas de conforto.
- b) garantir o animal bem alimentado e com água disponível, manter o animal com medo e estresse, adotar práticas de conforto.
- c) garantir o animal bem alimentado e com água disponível, manter animal com medo e estresse, deixar de vacinar o rebanho.
- d) manter o animal livre de medo e estresse, garantir o animal bem alimentado e com água disponível, manter boas práticas de vacinação.
- e) manter o animal livre de medo e estresse, adotar práticas de conforto e bem estar animal, deixar de vacinar o rebanho.

Questão 78

É objetivo da debicagem realizada nos pintainhos ao nascerem:

- a) reduzir o desempenho reprodutivo
- b) reduzir canibalismo
- c) aumentar conversão alimentar
- d) aumentar efeito do alojamento
- e) aumentar a bicagem de penas

Questão 79

Plantas de fisiologia C4 são consideradas sequestradoras de CO₂, contribuindo conseqüentemente para a diminuição dos problemas relacionados ao aquecimento global, como também a geração de riquezas. Baseado nisso, qual a principal cultura sequestradora de CO₂ no Brasil e que faz parte do programa de Crédito de Descarbonização (CBIO)?

- a) Cana-de-açúcar
- b) Milho
- c) Sorgo
- d) Trigo
- e) Soja

Questão 80

O pequeno produtor de grãos tem o hábito de guardar as suas próprias sementes para plantio. Qual recipiente se caracteriza por ser de baixo custo, facilmente disponível no mercado e que não permite troca com o ambiente?

- a) Saco de aniagem
- b) Saco aluminizado
- c) Garrafa pet
- d) Saco kraft
- e) Lata

Espaço para rascunho

