


FISCAL SANITÁRIO E DO MEIO AMBIENTE




Município de Nova Roma do Sul/RS
Concurso Público 01/2026


PROVA TEÓRICO-OBJETIVA

 3 horas

40 questões

 4 alternativas

 Saída permitida somente após 1 hora de prova

 O candidato só poderá levar este Caderno após 2 horas de prova

INSTRUÇÕES



Confira se esse Caderno de Prova contém a quantidade de questões indicadas. A substituição deste Caderno de Prova ocorre apenas antes de iniciar a prova.

- ▮ O tempo de prova inclui o preenchimento do Cartão-Resposta.
- ▮ Nenhuma informação acerca do conteúdo das questões será fornecida pelo Fiscal de Sala, pois é parte integrante da prova.
- ▮ Antes de sair da Sala de Prova, entregue o Cartão-Resposta ao Fiscal de Sala, **devidamente assinado**, e, após, se desloque imediatamente para a saída do local de prova.
- ▮ Ao final da prova, os 03 (três) últimos candidatos deverão permanecer na Sala de Prova até que o último termine a sua prova, devendo ambos testemunhar a devolução e o lacre dos documentos.
- ▮ A divulgação do gabarito preliminar se dará conforme Cronograma de Execução do certame.

TODOS OS DIREITOS RESERVADOS AO INSTITUTO LEGALLE. PROIBIDO REPRODUÇÃO.

RASCUNHO PARA GABARITO

01	06	11	16	21	26	31	36
02	07	12	17	22	27	32	37
03	08	13	18	23	28	33	38
04	09	14	19	24	29	34	39
05	10	15	20	25	30	35	40

Para responder às questões 01 a 06, leia o texto abaixo.

Plataformas passam a exigir autorização para remunerar menores

Crianças e adolescentes agora precisam de autorização judicial em casos de exposição comercial nas redes sociais, tanto em rede própria quanto em canais de adultos. A determinação já está prevista no Estatuto Digital da Criança e do Adolescente.

A norma determina que, caso os chamados influenciadores mirins não tenham o alvará, os conteúdos devem ser suspensos imediatamente pelas plataformas digitais, enquanto a situação não for regularizada. Além disso, as redes digitais, como YouTube, Instagram, Facebook, TikTok, Twitch e Kwai, não podem monetizar (pagar por visualizações/anúncios) ou impulsionar conteúdos que explorem, de forma habitual, a imagem ou a rotina de crianças e adolescentes sem autorização judicial.

Apesar de o ECA Digital estar em vigor desde março, a legislação deu três meses para estas normas relacionadas às plataformas digitais começarem a valer.

O ECA digital também proíbe que os serviços de tecnologia da informação veiculem, monetizem ou impulsionem conteúdos que exponham crianças ou adolescentes a situações violadoras, erotizadas, vexatórias, degradantes ou publicidade vedada.

O Ministério da Justiça e Segurança Pública (MJSP) já tinha encaminhado um ofício às principais plataformas digitais com recomendações para adequação à nova legislação, na parte que trata das atividades artísticas online de crianças e adolescentes. Entre as recomendações, está a de que as plataformas notifiquem todos os perfis sobre a obrigatoriedade de autorização judicial para conteúdos remunerados e adotem meios de verificação dos que já possuem alvará para atividade artística de crianças e adolescentes.

Porém, nos primeiros meses de vigência da norma, admite-se, temporariamente, o comprovante de protocolo do requerimento para justificar a regularização em curso.

Fonte: <https://agenciabrasil.etc.com.br/justica/noticia/2026-06/plataformas-passam-exigir-autorizacao-para-remunerar-menores> (adaptado)

Questão 01. No trecho ...conteúdos que exponham crianças ou adolescentes a situações violadoras, erotizadas, vexatórias, degradantes ou publicidade vedada, as palavras sublinhadas podem ser substituídas, sem alteração de sentido e em respeito à norma culta, respectivamente, por:

- (A) humilhantes, edificantes e proibida.
- (B) vergonhosas, aviltantes e proibida.
- (C) ultrajantes, honoríficas e permitida.
- (D) embaraçosas, estimulantes e autorizada.

Questão 02. No terceiro parágrafo, afirma-se: Apesar de o ECA Digital estar em vigor desde março, a legislação deu três meses para estas normas [...] começarem a valer. Sob a perspectiva das relações lógico-semânticas do texto, a locução sublinhada estabelece uma relação de:

- (A) Causa, justificando o atraso na fiscalização governamental sobre os canais digitais gerenciados por responsáveis legais.
- (B) Explicação, esclarecendo o motivo de as principais redes sociais já possuírem sistemas de triagem estrategicamente programados.
- (C) Concessão, introduzindo uma circunstância que contrasta com o vigor da lei sem invalidar a aplicação posterior de suas normas sobre as plataformas.
- (D) Condição, determinando os requisitos jurídicos que as plataformas precisam cumprir para evitar penalidades financeiras.

Questão 03. No fragmento do terceiro parágrafo, ...a legislação deu três meses para estas normas relacionadas às plataformas digitais começarem a valer, o termo sublinhado cumpre um papel de coesão referencial para retomar:

- (A) A autorização judicial exigida para a circulação de campanhas de caráter artístico em canais infantis.
- (B) As proibições de monetização e impulsionamento de rotinas de menores sem o devido alvará, além da suspensão de conteúdos irregulares.
- (C) As recomendações enviadas pelo Ministério da Justiça para notificar os perfis de influenciadores mirins em atividade nas redes.
- (D) As punições impostas às empresas de tecnologia que veiculam anúncios comerciais durante a exibição de vídeos em canais de adultos.

Questão 04. No trecho ...os conteúdos devem ser suspensos imediatamente, a locução verbal sublinhada indica, no contexto normativo do Estatuto Digital, um valor discursivo de:

- (A) Possibilidade eventual, sugerindo que as plataformas avaliem a conveniência de manter os vídeos ativos até a manifestação dos responsáveis.
- (B) Hipótese condicional, condicionando a aplicação das medidas de segurança ao envio de notificações formais por parte dos juizados de menores.
- (C) Predição futura, estimando o tempo médio que as empresas de tecnologia levarão para remover as contas comerciais ativas.
- (D) Obrigatoriedade imediata, expressando uma imposição legal de caráter deontológico que vincula a ação das redes sociais à vigência da norma.

Questão 05. No segundo parágrafo, as redes sociais mencionadas são listadas entre vírgulas: **...as redes digitais, como YouTube, Instagram, Facebook, TikTok, Twitch e Kwai, não podem monetizar.** O uso dessas vírgulas justifica-se para isolar uma:

- (A) Oração subordinada adjetiva restritiva que especifica quais provedores de internet possuem responsabilidade civil solidária.
- (B) Estrutura explicativa de caráter exemplificativo que esclarece quais plataformas estão sujeitas às proibições de remuneração.
- (C) Adjunto adverbial de meio que indica os canais recomendados para o envio dos alvarás judiciais obtidos pelos pais.
- (D) Oração coordenada sindética explicativa que justifica a necessidade de notificação prévia dos perfis ativos de menores.

Questão 06. Na frase **...os conteúdos devem ser suspensos imediatamente pelas plataformas digitais, enquanto a situação não for regularizada,** a conjunção sublinhada estabelece entre as orações uma relação lógico-semântica de:

- (A) Proporção, demonstrando que a suspensão dos vídeos ocorrerá de forma gradativa à medida que as notificações forem emitidas.
- (B) Tempo com valor de limite, determinando a duração da suspensão até que ocorra a devida regularização jurídica.
- (C) Condição, estabelecendo uma hipótese na qual as empresas de tecnologia ficam isentas de fiscalização durante os primeiros meses.
- (D) Concessão, assinalando um obstáculo que impede o cumprimento imediato das regras de monetização pelas redes digitais.

MATEMÁTICA

Questão 07. Um censo interno analisou o tempo de serviço, em anos completos, de 5 servidores em um setor administrativo, obtendo os seguintes registros: 2, 4, 5, 8 e 11 anos. Após uma reestruturação, um novo servidor com 12 anos de tempo de serviço foi transferido para esse mesmo setor. Para atualizar os indicadores de recursos humanos da Prefeitura, o gestor precisa calcular o impacto dessa mudança.

Com isso, qual era a mediana original e qual passou a ser a nova mediana do grupo?

- (A) 5 anos e 6,5 anos.
- (B) 5 anos e 8 anos.
- (C) 4 anos e 5,5 anos.
- (D) 5 anos e 5 anos.

Questão 08. A numeração das salas de atendimento ao público em um novo bloco administrativo foi planejada obedecendo a uma progressão aritmética crescente. A sala de triagem inicial recebeu o número 104 e a quinta sala desse mesmo corredor recebeu o número 120. Mantendo esse mesmo critério de acréscimo constante na padronização da comunicação visual interna da Prefeitura, qual deverá ser o número de identificação afixado na porta da décima sala do corredor?

- (A) 136.
- (B) 132.
- (C) 140.
- (D) 144.

Questão 09. Um arquivo municipal adota um sistema de codificação digital de documentos que expande a capacidade de armazenamento seguindo uma progressão geométrica. No primeiro nível de teste, o sistema processou 3 documentos; no segundo nível, processou 6; e no terceiro nível, arquivou 12 documentos. Mantendo esse comportamento geométrico multiplicativo de expansão de dados, qual será o volume específico de documentos processados apenas no oitavo nível?

- (A) 24 documentos.
- (B) 384 documentos.
- (C) 192 documentos.
- (D) 768 documentos.

Questão 10. Um setor de compras municipais abriu uma requisição de serviço e recebeu o cadastro de 7 empresas prestadoras de engenharia interessadas no contrato. A comissão de licitação deve selecionar um grupo de 4 dessas empresas para realizar vistorias técnicas preliminares nos locais das obras. Como as atribuições e o peso das visitas são iguais para todas as concorrentes, de quantas maneiras distintas essa lista de vistoria poderá ser composta?

- (A) 840 maneiras.
- (B) 28 maneiras.
- (C) 210 maneiras.
- (D) 35 maneiras.

Questão 11. Um fornecedor recebeu um pagamento com atraso por parte de uma autarquia municipal. O boleto bancário original possuía o valor nominal de R\$ 5.000,00, mas o banco cobrou uma taxa de juros simples de 3% ao mês em decorrência do período de inadimplência da tesouraria pública. Sabendo que o valor extra pago exclusivamente a título de juros foi de R\$ 450,00, por quantos dias esse pagamento permaneceu em atraso no caixa do Município?

- (A) 120 dias.
- (B) 60 dias.
- (C) 90 dias.
- (D) 45 dias.

Questão 12. Um setor de engenharia municipal analisou o mapa de uma região e identificou um terreno público com o formato geométrico de um quadrado perfeito, cuja área total mede exatamente 400 metros quadrados. A Administração decidiu ampliar o cercamento desse local, estendendo apenas duas laterais paralelas em mais 5 metros, transformando a configuração original do lote em um retângulo. Com base no novo desenho do projeto, qual será o valor do perímetro total, em metros, desse terreno modificado?

- (A) 90 metros.
- (B) 85 metros.
- (C) 100 metros.
- (D) 500 metros.

UTILIZE ESTE ESPAÇO PARA CÁLCULOS

INFORMÁTICA

Questão 13. Um servidor administrativo está editando um memorando de apenas uma página no Microsoft Word 365, em sua configuração padrão de instalação (modo **Layout de Impressão**). O programa está sendo executado com a janela maximizada. Se o servidor reduzir continuamente o nível do zoom desse documento (por exemplo, aplicando um recuo de 100% para 40%), qual será o comportamento visual observado na tela?

- (A) O Word ativará o modo **Lado a Lado**, duplicando a folha do documento para preencher o espaço da tela.
- (B) O recurso será bloqueado ao atingir o limite mínimo de 75%, exibindo um alerta de que reduções maiores exigem um documento com múltiplas páginas.
- (C) O texto e as margens da página se expandirão horizontalmente de forma automática para forçar o preenchimento de toda a largura do monitor.
- (D) A página permanecerá centralizada na tela, tornando-se progressivamente menor e ampliando a área vazia ao seu redor.

Questão 14. Uma servidora da Vigilância Epidemiológica inseriu o logotipo da Prefeitura em um cartaz de campanha de vacinação no Microsoft Word 365. No entanto, a imagem original está muito escura e prejudica a leitura das informações. Sem utilizar programas externos de edição de foto, qual é o caminho **CORRETO** dentro do Word 365 para que a servidora possa ajustar a nitidez, o brilho e o contraste da imagem inserida?

- (A) Acessar a guia **Design**, grupo **Plano de Fundo da Página** e selecionar **Efeitos de Preenchimento**.
- (B) Selecionar a imagem, acessar a guia **Página Inicial** e clicar no botão **Estilos de Imagem**.
- (C) Selecionar a imagem, acessar a guia **Formato de Imagem** e clicar em **Correções**.
- (D) Clicar com o botão direito do mouse na imagem e selecionar **Alterar Imagem**.

Questão 15. Um servidor técnico-administrativo utiliza o Google Chrome para acessar e gerenciar os sistemas institucionais. Com o objetivo de organizar melhor seu ambiente de trabalho, ele costuma utilizar o recurso **Fixar**, que mantém determinadas guias compactadas e posicionadas no lado esquerdo da barra de abas. Ao encerrar suas atividades, o servidor clica com o botão direito do mouse sobre uma dessas guias fixadas e seleciona a opção **Liberar guia**. Após a execução desse comando, o que acontece com a guia liberada em relação à sua posição e à forma como é exibida na barra de abas?

- (A) Ela é desmembrada da janela atual e reaberta em uma nova janela exclusiva do Google Chrome.
- (B) Ela é fechada imediatamente e enviada para o histórico de guias recentemente fechadas.
- (C) Ela retorna ao seu tamanho original, mas permanece na mesma posição em que estava quando fixada, no canto esquerdo da barra de abas.
- (D) Ela permanece na mesma janela e na mesma barra de abas, mas deixa o canto esquerdo, recuperando seu tamanho normal.

Questão 16. As janelas dos aplicativos no sistema operacional Windows 11 possuem um conjunto de botões de controle localizados em seu canto superior direito. Diante disso, analise as partes que seguem sobre o comportamento e a funcionalidade desses botões:

(1ª parte): Quando uma janela está **Maximizada**, ou seja, ocupando a tela inteira, o botão central de maximizar é substituído visualmente pelo botão **Fechar**.

(2ª parte): O botão **Minimizar** oculta a janela ativa, mas mantém o aplicativo em execução, exibindo seu ícone ativo na **Barra de Tarefas**.

Pode-se afirmar que:

- (A) Apenas a 1ª parte está correta.
- (B) Apenas a 2ª parte está correta.
- (C) Ambas as partes estão corretas.
- (D) Ambas as partes estão incorretas.

Questão 17. Um servidor passou a manhã baixando diversas certidões negativas de débitos e editais de licitação através do navegador Google Chrome. No final do expediente, ele precisa localizar um desses arquivos PDF baixados para anexar a um e-mail institucional, mas não se lembra em qual pasta do computador o salvou. No entanto, o navegador ainda está aberto. Para abrir rapidamente a aba interna de histórico de downloads do Google Chrome utilizando apenas um atalho de teclado, o servidor deve pressionar a combinação de teclas:

- (A) Ctrl + J.
- (B) Ctrl + D.
- (C) Ctrl + H.
- (D) Ctrl + N.

Questão 18. Durante a organização do arquivo digital de uma escola, um servidor encontrou uma pasta com as mídias da última festa de encerramento do ano letivo. Ele recebeu a tarefa de separar as fotos do evento (imagens estáticas) que serão publicadas no mural da escola, dos arquivos de música e discursos gravados (áudios/sons) que serão utilizados na rádio interna. Sabendo que o Windows 11 possui suporte nativo para abrir tais formatos de mídia, assinale a alternativa que apresenta, CORRETA e respectivamente, uma extensão de imagem e uma de áudio que o servidor encontrará nessa pasta.

- (A) .gif e .xlsx
- (B) .png e .avi
- (C) .jpg e .mp3
- (D) .mp4 e .wav

ATUALIDADES

Questão 19. A colonização pioneira das terras de Nova Roma do Sul ocorreu a partir do ano de 1880, reunindo diferentes etnias antes da vinda em massa de imigrantes italianos. Assim, quais foram as três nacionalidades originais que iniciaram o povoamento da região?

- (A) Italianos, alemães e portugueses.
- (B) Poloneses, suecos e russos.
- (C) Espanhóis, franceses e japoneses.
- (D) Holandeses, suíços e belgas.

Questão 20. Antes de se consolidar como sede da administração local, a demarcação das linhas de colonização em Nova Roma do Sul provocou intensas rivalidades entre duas comunidades que disputavam o controle do território. Quais povoados lideraram essa disputa a partir de 1894?

- (A) Castro Alves e Nova Treviso.
- (B) Linha Carlos Leopoldo e Linha das Antas.
- (C) Antônio Prado e Linha do Rio da Prata.
- (D) Linha Blessmann e Linha São Pedro.

Questão 21. A conquista da emancipação política de Nova Roma do Sul ocorreu no final do século XX, desmembrando-se de sua cidade-mãe. Em qual data exata o município conseguiu sua emancipação e quando iniciou sua primeira Administração Municipal?

- (A) Emancipação em 19 de janeiro de 1923 e primeira Administração Municipal em 30 de novembro de 1960.
- (B) Emancipação em 06 de janeiro de 1914 e primeira Administração Municipal em 19 de janeiro de 1923.
- (C) Emancipação em 30 de novembro de 1987 e primeira Administração Municipal em 1º de janeiro de 1989.
- (D) Emancipação em 15 de novembro de 1889 e primeira Administração Municipal em 30 de novembro de 1987.

Questão 22. O Brasão oficial de Nova Roma do Sul, regulamentado pela Lei Municipal nº 060/89, reúne elementos gráficos que carregam significados específicos sobre a geografia e a fauna regional. Conforme a lei, o que representa a faixa dentada verde (sinople) e o desenho de uma anta no escudo?

- (A) A parreira como fonte de progresso econômico e o rio que banha o povoado vizinho.
- (B) A serra onde o município está localizado e o Rio das Antas, servindo como um chamado à preservação ambiental.
- (C) O início da colonização por imigrantes europeus e a primeira capela rústica de madeira construída na Vila.
- (D) A fé cristã representada pela Basílica de São Pedro e o desenvolvimento da pesca de dourado.

Questão 23. A sanção da primeira Lei de Diretrizes e Bases da Educação Nacional (LDB - Lei nº 4.024), ocorrida em 20 de dezembro de 1961, é amplamente reconhecida como uma das grandes mudanças regulatórias do sistema de ensino no país. Do ponto de vista administrativo e didático, qual foi o impacto imediato provocado por essa legislação em relação à centralização e ao funcionamento das instituições escolares?

- (A) Centralizou todas as tomadas de decisões pedagógicas nos órgãos do Governo Federal, extinguindo as secretarias municipais.
- (B) Acabou com a autonomia didática das universidades federais e transferiu a gestão financeira das escolas profissionais para as forças armadas.
- (C) Diminuiu a centralização histórica exercida pelo Ministério da Educação (MEC), garantindo que os órgãos estaduais e municipais ganhassem autonomia e assegurando autonomia às universidades autárquicas ou fundações.
- (D) Proibiu as universidades públicas de aprovarem os seus próprios estatutos internos e determinou a extinção do Conselho Federal de Educação.

Questão 24. A história das transmissões públicas de rádio e TV com fins pedagógicos registrou grandes conquistas no Brasil na década de 1970. Qual foi a atração de estreia da TV Educativa em 5 de novembro de 1975, consistente em um curso supletivo em formato de novela baseada em conteúdos pedagógicos e que recebeu reconhecimento internacional através do Prêmio Japão?

- (A) Salto para o Futuro.
- (B) Conta Pra Mim.
- (C) João da Silva.
- (D) Telecurso 2000.

LEGISLAÇÃO

Questão 25. Sabe-se, conforme a Lei Orgânica, que a convocação extraordinária da Câmara cabe ao Prefeito, ao Presidente da Câmara de Vereadores ou à maioria absoluta de seus membros. A partir disso, analise as assertivas:

- I. Na sessão legislativa extraordinária, a Câmara de Vereadores deliberará exclusivamente sobre matéria da convocação.
- II. A convocação extraordinária será levada ao conhecimento dos vereadores através de convocação pessoal, desde que escrita.

Acerca das assertivas, pode-se afirmar que:

- (A) Apenas I está correta.
- (B) I e II estão corretas.
- (C) Apenas I está incorreta.
- (D) I e II estão incorretas.

Questão 26. Compete à Mesa Diretora, dentre outras atribuições, promulgar a Lei Orgânica e suas emendas, do mesmo modo procedendo com o Regimento Interno, assim como o previsto em quantos dos seguintes itens? **I.** Promulgar resoluções e decretos legislativos; **II.** Tomar todas as medidas necessárias à regularidade dos trabalhos legislativos; **III.** Deliberar sobre questões de ordem levantadas pelos Vereadores durante a sessão da Câmara.

- (A) Nenhum deles.
- (B) Apenas 1 deles.
- (C) Apenas 2 deles.
- (D) Todos os 3.

Questão 27. Entre outras determinações, a Lei Orgânica traz que cabe à Câmara conceder título de cidadão honorário a pessoas que reconhecidamente tenham prestado serviços ao Município, mediante decreto legislativo, aprovado pelo voto de, no mínimo, ____ de seus membros.

Preenche, CORRETAMENTE, a lacuna:

- (A) maioria simples.
- (B) a unanimidade.
- (C) maioria absoluta.
- (D) apenas um.

Questão 28. A função de confiança a ser exercida exclusivamente por servidor público efetivo, poderá ocorrer sob a forma de função gratificada. A partir disso, com base no Regime Jurídico dos Servidores Públicos do Município, analise as alternativas que seguem e assinale a que apresenta informação que pode ser considerada INCORRETA.

- (A) O valor da função gratificada será percebido cumulativamente com o vencimento do cargo de provimento efetivo.
- (B) A função de confiança é instituída por lei para atender atribuições de direção, chefia e assessoramento, que não justifiquem o provimento por cargo em comissão.
- (C) A designação para o exercício da função gratificada, que pode ser cumulativa com o cargo em comissão, será feita por ato expresso da autoridade competente.
- (D) Será tornada sem efeito a designação do servidor que não entrar no exercício da função gratificada no prazo de dois dias a contar da publicação do ato de investidura.

Questão 29. Analise as partes que seguem, conforme traz o Regime Jurídico dos Servidores Públicos do Município: O servidor perderá a remuneração dos dias que faltar ao serviço, bem como dos dias de repouso da respectiva semana, sem prejuízo da penalidade disciplinar cabível (**1ª parte**), assim como a parcela da remuneração diária, proporcional aos atrasos, ausências e saídas antecipadas, iguais ou superiores a quinze minutos, sem prejuízo da penalidade disciplinar cabível (**2ª parte**).

Acerca das partes, pode-se afirmar que:

- (A) Assim como a 1ª parte está correta, tem-se que a 2ª parte também está.
- (B) Assim como a 1ª parte está incorreta, tem-se que a 2ª parte também está.
- (C) Enquanto a 1ª parte está correta, sabe-se que a 2ª parte não está.
- (D) Enquanto a 1ª parte está incorreta, sabe-se que a 2ª parte não está.

Questão 30. Analise o texto a seguir, com base no Regime Jurídico dos Servidores Públicos do Município:

Aos servidores municipais que, por determinação da autoridade competente, se deslocarem eventualmente ou transitoriamente do Município, no desempenho de suas atribuições ou em missão ou estudo de interesse da Administração, serão concedidas, além do transporte, ajuda de custo para cobrir as despesas de alimentação, pousada e locomoção urbana, sempre devendo haver comprovação das despesas por documentos fiscais idôneos e de participação em cursos por certificado.

Acerca do texto, pode-se afirmar que ele está:

- (A) Parcialmente adequado, visto que não há necessidade de comprovação das despesas de alimentação, pousada e locomoção urbana.
- (B) Parcialmente adequado, visto que são diárias para cobrir as despesas citadas, e não ajuda de custo.
- (C) Plenamente adequado, visto que observa a legislação municipal vigente.
- (D) Plenamente inadequado, visto que em nada observa a legislação municipal vigente.

CONHECIMENTOS ESPECÍFICOS

Questão 31. O licenciamento ambiental é um dos instrumentos mais importantes da Política Nacional do Meio Ambiente (PNMA), em que o órgão ambiental competente licencia a localização, instalação, ampliação e a operação de empreendimentos e atividades utilizadoras de recursos ambientais, consideradas efetiva ou potencialmente poluidoras. No exercício de suas funções de campo e auditoria legal, o Fiscal Sanitário e do Meio Ambiente deve compreender conceitos e competências dos licenciamentos emitidos com a real situação das atividades vistoriadas. Sobre o licenciamento, analise as assertivas abaixo e julgue V, para as Verdadeiras, ou F, para as Falsas:

- () O licenciamento ambiental é um ato administrativo discricionário, podendo o órgão ambiental negá-lo sem motivação técnica.
- () A licença ambiental engloba outras autorizações necessárias, como outorga de água ou alvarás municipais, eximindo, assim, o empreendedor de solicitá-las posteriormente.
- () A competência para o licenciamento de atividades que causem impacto ambiental direto em mais de um Estado é do IBAMA.
- () Municípios podem licenciar atividades de impacto local, desde que possuam conselho de meio ambiente e órgão técnico capacitado.

Qual alternativa preenche, CORRETAMENTE, de cima para baixo, os parênteses acima?

- (A) F – F – V – V.
- (B) V – F – V – F.
- (C) V – V – F – F.
- (D) F – V – F – V.

Questão 32. No exercício de suas atribuições de polícia administrativa, ao constatar a ocorrência de uma infração, o Fiscal Sanitário e do Meio Ambiente deve lavrar o auto de infração e aplicar as sanções cabíveis. Para a fixação da penalidade de multa, a autoridade fiscalizadora deve observar a gravidade do fato, os antecedentes do infrator, suas condições econômicas e a presença de circunstâncias que possam atenuar ou agravar a sanção. O Código Municipal de Meio de Ambiente, regido pela Lei nº 658/2003, dispõe sobre o regime administrativo e penal aplicável às infrações no âmbito do município, estabelecendo situações que aumentam a gravidade da conduta. São circunstâncias agravantes previstas na Lei, EXCETO:

- (A) Ter o agente cometido a infração para obter vantagem pecuniária.
- (B) Ter o infrator agido com dolo, ainda que eventual.
- (C) A ocorrência de efeitos sobre a propriedade alheia.
- (D) A infração ter ocorrido no domingo ou feriado.

Questão 33. Analise as partes que seguem: Um Fiscal Sanitário e do Meio Ambiente foi a um açougue para uma fiscalização de rotina. Nessa visita, a Portaria nº 763/2021 foi usada de base, pois é o regulamento técnico para as boas práticas na manipulação e comercialização de alimentos em açougues e fiambrierias no Estado. Nessa atividade, foram observadas algumas situações: o açougue realiza fracionamento, embalagem e rotulagem de produtos de origem animal na ausência do cliente para comercialização em balcões de autosserviço, tendo uma sala própria para a realização da manipulação desses produtos (**1ª parte**). A sala de manipulação dos produtos está climatizada, com temperatura de 20 °C (**2ª parte**). Quando houver processamento de carne moída, a sala de manipulação dos produtos é climatizada a uma temperatura menor, com máxima de 10 °C (**3ª parte**).

Das partes, pode-se afirmar que atende(m) a Portaria nº 763/2021:

- (A) Somente a 2ª e a 3ª partes.
- (B) Somente a 1ª e a 3ª partes.
- (C) Somente a 2ª parte.
- (D) Somente a 1ª parte.

Questão 34. No âmbito do manejo de fauna silvestre, os projetos de manejo populacional para conservação recorrem a intervenções ecológicas visando o restabelecimento de populações viáveis em ambiente natural. Durante a análise técnica de um plano de manejo de fauna apresentado para o licenciamento de uma área de reserva, o Fiscal Sanitário e do Meio Ambiente deve avaliar o correto emprego dos conceitos de manejo, monitoramento e manejo genético, aplicados à conservação biológica. Considerando os conceitos técnicos e conceituais que distinguem as ações de Reintrodução e Translocação no manejo de populações silvestres, assinale a alternativa INCORRETA.

- (A) A reintrodução consiste no movimento intencional de um organismo para dentro de uma área que fez parte de sua distribuição histórica, mas de onde foi extirpado ou extinto.
- (B) A substituição ecológica caracteriza-se por ser uma translocação intencional de indivíduos de uma determinada espécie para uma área fora de sua distribuição geográfica, com o objetivo de fundar uma população para restaurar uma função ou processo ecológico que antes era promovido na área-alvo por uma espécie nativa atualmente extinta.
- (C) A translocação de manejo foca exclusivamente na liberação de animais criados em cativeiro (*ex-situ*), sendo vedado o uso de indivíduos capturados diretamente de populações de vida livre (*in-situ*).
- (D) O reforço (ou suplementação) consiste na liberação de indivíduos em uma população existente de com o objetivo de aumentar a densidade populacional ou a diversidade genética.

Questão 35. As cianotoxinas são toxinas produzidas por cianobactérias também conhecidas como algas azuis. Elas representam um dos temas mais críticos na interface entre a vigilância sanitária, o licenciamento ambiental e o controle da potabilidade da água. O surgimento dessas toxinas está diretamente ligado ao excesso de nutrientes como fósforo e nitrogênio na água, geralmente vindos de esgotos ou fertilizantes agrícolas, fenômeno chamado de eutrofização, o que provoca a proliferação descontrolada dessas bactérias. Para minimizar os riscos de contaminação da água para consumo humano com cianotoxinas, os responsáveis pelo sistema de abastecimento de água para consumo humano com captação em mananciais superficiais devem realizar monitoramento para identificação e contagem de células de cianobactérias. Acerca do monitoramento de cianobactérias previsto na Portaria nº 888/2021, analise as assertivas:

- I. Quando a contagem de células de cianobactérias for superior a 10.000 células/mL, a frequência de monitoramento de cianobactérias em mananciais superficiais de abastecimento de água deve ser mensal.
- II. Em complementação ao monitoramento de cianobactérias, deve ser realizada análise de clorofila-a no manancial, com frequência mensal, como indicador de potencial aumento da contagem de cianobactérias.
- III. Quando a contagem de células de cianobactérias exceder 30.000 células/mL, deve-se realizar análise das cianotoxinas microcistinas, saxitoxinas e cilindrospermopsinas no ponto de captação com frequência mínima diária.

Está(ão) CORRETA(S):

- (A) Apenas I e III.
- (B) Apenas II.
- (C) Apenas I e II.
- (D) Apenas II e III.

Questão 36. Para o planejamento e fiscalização sanitária de salas de atividades para crianças de 0 a 2 anos (geralmente inseridas em creches ou instituições de educação infantil), as normas técnicas como a Portaria nº 940/2022 estabelecem parâmetros rigorosos de área e infraestrutura para garantir a segurança e o desenvolvimento pedagógico. Sobre a sala de atividades para crianças de 0 a 2 anos, é CORRETO afirmar que:

- (A) Pode ser utilizada para as refeições das crianças.
- (B) É compartimento obrigatório apenas para as instituições de educação infantil de médio e grande porte.
- (C) Pode acomodar no máximo 30 crianças em um mesmo compartimento.
- (D) Quando a sala for utilizada para repouso das crianças, devem ser previstos 1,20 m² por criança atendida, por turno.

Questão 37. Durante uma ação de fiscalização ambiental em um pátio de compostagem de resíduos orgânicos agroindustriais, o Fiscal constatou exalação excessiva de odor amoniacal (cheiro forte de amônia) e geração de lixiviado com alta carga poluidora. Ao analisar o relatório laboratorial da caracterização química elementar da massa de resíduos que deu início ao processo, o Fiscal identificou que a relação Carbono/Nitrogênio (C/N) estava desequilibrada. Considerando os fundamentos biológicos e químicos que regem a relação C/N na biodegradação e na compostagem de resíduos sólidos, assinale a alternativa INCORRETA.

- (A) Uma relação C/N inicial considerada ideal para o desenvolvimento equilibrado dos microrganismos e para a eficiência do processo de compostagem é de 30/1.
- (B) Se a relação C/N inicial for muito baixa (excesso de Nitrogênio), os microrganismos consomem o Carbono rapidamente e o Nitrogênio excedente é volatilizado na forma de gás amônia (NH₃), causando mau odor.
- (C) Valores de relação C/N muito elevados (excesso de Carbono) aceleram drasticamente a taxa de decomposição térmica da matéria orgânica, fazendo com que a fase termofílica ocorra em poucos dias e esgote o oxigênio do meio.
- (D) O Carbono atua essencialmente como fonte de energia para o metabolismo celular dos microrganismos decompositores, enquanto o Nitrogênio é o elemento fundamental para a síntese de proteínas e ácidos nucleicos das novas células.

Questão 38. Reserva da Biosfera (RB) é um modelo, adotado internacionalmente, de gestão integrada, participativa e sustentável dos recursos naturais. Essas áreas devem ser locais de aprendizagem para trabalhos de pesquisa, experimentação e demonstração de enfoques para conservação e desenvolvimento sustentável na escala regional. As Reservas da Biosfera no Brasil são trazidas na Lei nº 9.985/2000, que institui o Sistema Nacional de Unidades de Conservação da Natureza (SNUC), a qual estabelece alguns conceitos, orientando sua constituição e gestão. Sobre as reservas da biosfera, é CORRETO afirmar:

- (A) A Reserva da Biosfera é constituída por áreas de domínio público, sendo que as áreas particulares incluídas em seus limites serão desapropriadas.
- (B) A Reserva da Biosfera não pode ser integrada por unidades de conservação já criadas pelo Poder Público.
- (C) A Reserva da Biosfera é gerida por um Conselho Executivo formado excepcionalmente por representantes de instituições públicas.
- (D) A Reserva da Biosfera é reconhecida pelo Programa Intergovernamental "O Homem e a Biosfera – MAB", estabelecido pela Unesco, organização da qual o Brasil é membro.

Questão 39. Durante uma inspeção de rotina em um restaurante, um Fiscal Sanitário e do Meio Ambiente aplicou o roteiro de verificação das Boas Práticas para Serviços de Alimentação. Ao avaliar as condições, os hábitos e o comportamento dos manipuladores de alimentos no setor de produção, o Fiscal registrou diversas observações em seu relatório técnico. Com base nas exigências federais vigentes estabelecidas pela Resolução RDC nº 216/2004 da Anvisa, analise as assertivas abaixo e julgue-as em Verdadeiras (V) ou Falsas (F):

- () Os manipuladores devem usar cabelos presos e protegidos por redes, toucas ou outro acessório apropriado para esse fim, sendo vedado o uso de barba. Os uniformes devem ser trocados diariamente e utilizados somente nas dependências internas do estabelecimento.
- () É permitida a manipulação de alimentos por funcionários que apresentem lesões cutâneas leves ou sintomas de infecções respiratórias nas mãos, desde que utilizem luvas descartáveis de borracha ou nitrilo durante todo o turno de trabalho.
- () Os manipuladores devem higienizar as mãos ao chegar ao trabalho, antes e após manipular alimentos, após tocar em materiais contaminados, após usar os sanitários e sempre que se fizer necessário. Cartazes de orientação sobre a correta lavagem das mãos devem ser afixados em pontos estratégicos.
- () Durante a manipulação, é permitido aos funcionários o uso de adornos simples, como alianças de casamento lisas e brincos pequenos, uma vez que esses itens apresentam baixo risco de desprendimento físico na comida.

Qual alternativa preenche, CORRETAMENTE, de cima para baixo, os parênteses acima?

- (A) V – F – V – F.
- (B) V – V – F – F.
- (C) F – V – F – V.
- (D) F – V – V – F.

Questão 40. A mineração é uma das principais causas de contaminação do solo por metais pesados (como chumbo, cádmio, mercúrio e arsênio). Essas atividades liberam rejeitos e particulados que poluem o solo, a água e o ar, com sérios riscos à saúde humana e ao meio ambiente, persistindo por longos períodos. O acúmulo de metais pesados no solo é preocupante, pois eles não são _____ e podem sofrer _____ ao longo da cadeia trófica.

Preenche, CORRETA e respectivamente, as lacunas:

- (A) reativos / adsorção.
- (B) biodegradáveis / biomagnificação.
- (C) voláteis / precipitação.
- (D) solúveis / lixiviação.