



CIRURGIÃO-DENTISTA




Município de Nova Roma do Sul/RS
Concurso Público 01/2026


PROVA TEÓRICO-OBJETIVA

 3 horas

 40 questões

 4 alternativas

 Saída permitida somente após 1 hora de prova

 O candidato só poderá levar este Caderno após 2 horas de prova

INSTRUÇÕES



Confira se esse Caderno de Prova contém a quantidade de questões indicadas. A substituição deste Caderno de Prova ocorre apenas antes de iniciar a prova.

- O tempo de prova inclui o preenchimento do Cartão-Resposta.
- Nenhuma informação acerca do conteúdo das questões será fornecida pelo Fiscal de Sala, pois é parte integrante da prova.
- Antes de sair da Sala de Prova, entregue o Cartão-Resposta ao Fiscal de Sala, **devidamente assinado**, e, após, se desloque imediatamente para a saída do local de prova.
- Ao final da prova, os 03 (três) últimos candidatos deverão permanecer na Sala de Prova até que o último termine a sua prova, devendo ambos testemunhar a devolução e o lacre dos documentos.
- A divulgação do gabarito preliminar se dará conforme Cronograma de Execução do certame.

TODOS OS DIREITOS RESERVADOS AO INSTITUTO LEGALLE. PROIBIDO REPRODUÇÃO.

RASCUNHO PARA GABARITO

01	06	11	16	21	26	31	36
02	07	12	17	22	27	32	37
03	08	13	18	23	28	33	38
04	09	14	19	24	29	34	39
05	10	15	20	25	30	35	40

Para responder às questões 01 a 08, leia os textos abaixo.

TEXTO I

Trabalho precário

O trabalho precário é uma realidade do mundo laboral e, contrariamente ao que pode ser imaginado, não está presente apenas em regiões geográficas descritas como economicamente mais vulneráveis, fato que explica a recorrência de estudos oriundos de países como Estados Unidos, Canadá e Espanha, ou ainda de regiões diversas da América Latina, ou Ásia.

O objetivo número oito da agenda 2030 da ONU propõe promover o crescimento econômico de maneira inclusiva e sustentável, aliado ao trabalho decente, que deve ser inclusivo e produtivo. Isso mostra uma preocupação institucionalizada com as condições em que os trabalhadores desempenham as suas atividades. O cenário laboral atual, entretanto, é caracterizado pelo incremento da precariedade, o que revela uma contradição, e mostra a necessidade de estudar as condições atuais de trabalho e os seus diversos atributos.

Apesar do interesse pelo tema, autores alertam sobre a falta de clareza conceitual do trabalho precário, fato que dificulta o avanço de discussões baseadas em resultados empíricos sistemáticos. Destacam, por exemplo, que a concepção pode ser diferente se analisado no nível individual (pessoas que laboram sob essas condições), daquela tida ao estudar grupos sociais (grupos que vivem em situações econômicas e sociais desvantajosas), ou da adotada nos estudos realizados no nível macro (perfil de precariedade em uma localização geográfica).

Essas ponderações tornam evidente a necessidade de uma clara definição e descrição do que seja o trabalho precário para alicerçar adequadamente o seu estudo.

Adaptado de: PUENTE-PALACIOS, K.; FRAUSTO, C. I. G. Trabalho precário: dos atributos teóricos à proposta de um instrumento de medida. *Ciência & Saúde Coletiva*, v. 31, n. 2, p. 1-10, 2026.

TEXTO II

VOCÊ NÃO DORME MELHOR SABENDO
QUE É SEU PRÓPRIO PATRÃO?



Questão 01. O fenômeno do trabalho precário pode ser analisado tanto sob uma perspectiva teórica e acadêmica quanto por meio de manifestações artísticas e críticas da realidade social. Considerando as reflexões propostas no **Texto I** e a representação visual e discursiva da charge no **Texto II**, analise as assertivas que seguem:

- I. O **Texto II** comprova que os trabalhadores que são seus "próprios patrões" conseguiram atingir o objetivo número oito da agenda 2030 da ONU citado no **Texto I**.
- II. A partir da leitura do **Texto I**, conclui-se que a realidade dos entregadores de aplicativo mostrada no **Texto II** é um problema exclusivo da América Latina e da Ásia, não afetando países desenvolvidos.

Acerca das assertivas, pode-se afirmar que:

- (A) Apenas I está incorreta.
- (B) Apenas II está incorreta.
- (C) I e II estão incorretas.
- (D) I e II estão corretas.

Questão 02. A análise do segundo parágrafo do **Texto I** permite identificar um paradoxo no mundo do trabalho contemporâneo. Esse paradoxo consiste no fato de que:

- (A) O cumprimento das metas estabelecidas pela agenda internacional da ONU gerou, de forma não planejada, a desestruturação dos atributos teóricos do trabalho.
- (B) A busca por um modelo de crescimento inclusivo e sustentável por parte dos estudiosos da área inviabiliza as metas econômicas produtivas globais.
- (C) O interesse acadêmico em mapear as atividades produtivas impede que as organizações internacionais implementem melhorias práticas no ambiente laboral.
- (D) O cenário contemporâneo apresenta uma expansão da precariedade laboral no exato momento em que há uma preocupação institucional formal com o trabalho decente.

Questão 03. Com base no terceiro parágrafo do **Texto I**, a dificuldade de fazer avançar as discussões sobre o trabalho precário a partir de **resultados empíricos sistemáticos** decorre principalmente da:

- (A) Disparidade econômica entre os grupos sociais estudados, o que impede a coleta homogênea de dados estatísticos na América Latina e na Ásia.
- (B) Ausência de metodologias e instrumentos quantitativos capazes de mensurar a precariedade no âmbito das localizações macroeconômicas.
- (C) Inconsistência conceitual em torno do termo, cuja definição varia significativamente conforme o nível de análise adotado pelo investigador.
- (D) Incompatibilidade entre as vivências financeiras das pessoas afetadas e os modelos teóricos propostos pelos autores clássicos.

Questão 04. Considere a relação dialógica estabelecida entre a pergunta feita pelo primeiro personagem e a resposta dada pelo segundo no **Texto II**. É CORRETO afirmar que a resposta do segundo entregador:

- (A) Demonstra a falta de companheirismo entre trabalhadores que disputam o mesmo mercado de entregas.
- (B) Desconstrói a ilusão de privilégio contida na pergunta, revelando que a suposta liberdade se traduz em uma jornada de trabalho desumana.
- (C) Valida o argumento do primeiro, demonstrando que o cansaço é um preço justo a se pagar pela liberdade e pela flexibilização de horários.
- (D) Apresenta uma reclamação de cunho estritamente individual, que não reflete a condição geral daquela categoria profissional.

Questão 05. A charge apresentada no **Texto II** utiliza a interrelação entre as linguagens verbal e não verbal para construir uma crítica sobre as transformações no mundo do trabalho contemporâneo. Diante disso, analise as três partes abaixo sobre as ideias e elementos que compõem essa imagem:

(1ª parte): O objetivo principal da charge é incentivar o uso de bicicletas como um meio de transporte sustentável e saudável para fugir do trânsito das grandes cidades.

(2ª parte): A charge defende a tese de que o modelo de trabalho sem a figura de um chefe tradicional é a solução ideal para resolver os problemas de desemprego.

(3ª parte): Os elementos não verbais da charge contextualizam socialmente a crítica no universo do ecossistema de delivery (uberização).

Pode-se afirmar que:

- (A) Apenas a 3ª parte está correta.
- (B) Apenas a 2ª e a 3ª partes estão corretas.
- (C) Apenas a 1ª e a 3ª partes estão corretas.
- (D) Todas as partes estão incorretas.

Questão 06. No **Texto II**, a fala **Eu não durmo** carrega um forte impacto semântico para a ironia da charge. Do ponto de vista da análise sintática e morfológica, assinale a alternativa que apresenta uma afirmação CORRETA sobre a estrutura dessa oração.

- (A) O sujeito é classificado como oculto ou elíptico, uma vez que a desinência número-pessoal do verbo é suficiente para indicar a primeira pessoa do singular.
- (B) O termo **não** modifica o sentido do verbo e funciona sintaticamente como um adjunto adnominal.
- (C) O verbo **durmo** é intransitivo, pois possui sentido completo e não exige complemento nominal ou verbal para fazer sentido no contexto.
- (D) O enunciado constitui-se como um período composto por coordenação, formado por duas orações unidas sem conectivo.

Questão 07. O **Texto I** discute a complexidade teórica e prática que envolve o fenômeno do trabalho precário na contemporaneidade, destacando as metas globais de desenvolvimento e os desafios metodológicos enfrentados pelos pesquisadores da área. Com base nisso, analise as assertivas que seguem, julgando-as V, se Verdadeiras, ou F, se Falsas:

- () O objetivo número oito da Agenda 2030 estabelece uma indissociabilidade entre o desenvolvimento econômico e a garantia de condições dignas de trabalho.
- () A análise no nível macro da precariedade consiste em acompanhar as trajetórias e as histórias de vida das pessoas que laboram sob condições desvantajosas.
- () Segundo o texto, os pesquisadores da área já desenvolveram um instrumento de medida universal que resolveu definitivamente o problema da falta de clareza conceitual do tema.

Qual alternativa preenche, CORRETAMENTE, de cima para baixo, os parênteses acima?

- (A) V – F – F.
- (B) V – V – F.
- (C) F – F – V.
- (D) F – V – F.

Questão 08. No último parágrafo do **Texto I**, lê-se: **Essas ponderações tornam evidente a necessidade de uma clara definição e descrição do que seja o trabalho precário**. Considerando a organização argumentativa do texto e a semântica do termo sublinhado no contexto em que se insere, verifica-se que ele sintetiza as considerações teóricas expostas anteriormente. Desse modo, sem prejuízo para o sentido original e para a correção gramatical do trecho, a palavra **ponderações** pode ser adequadamente substituída por:

- (A) reflexões.
- (B) suposições.
- (C) contestações.
- (D) especulações.

MATEMÁTICA

Questão 09. Para a recepção de uma comitiva, o setor de patrimônio comprou mesas e cadeiras para o auditório. Sabe-se que duas mesas combinadas com cinco cadeiras custaram ao todo R\$ 1.100,00 na loja parceira. No mesmo pedido e com os mesmos preços unitários, quatro mesas combinadas com três cadeiras totalizaram R\$ 1.500,00 na nota fiscal emitida. Diante das condições de preço fixadas, qual é o valor individual em dinheiro de cada mesa adquirida pelo setor?

- (A) R\$ 100,00.
- (B) R\$ 250,00.
- (C) R\$ 300,00.
- (D) R\$ 350,00.

Questão 10. Para o estoque do laboratório municipal de análises, comprou-se uma caixa térmica com o formato de um paralelepípedo retângulo. As especificações técnicas indicam que as dimensões internas do reservatório medem 60 centímetros de comprimento, 40 centímetros de largura e 30 centímetros de altura vertical. Assim, qual é a capacidade volumétrica máxima desse equipamento expressa em litros inteiros?

- (A) 36 litros.
- (B) 72 litros.
- (C) 130 litros.
- (D) 144 litros.

Questão 11. Para readequar as contas públicas, um comitê municipal conseguiu renegociar um contrato de prestação de serviços continuados de vigilância patrimonial. O valor mensal original faturado pela empresa parceira era de R\$ 80.000,00. Com a nova pactuação baseada em otimização de postos de trabalho, o setor de finanças obteve um desconto linear fixado em exatamente 8% sobre o valor original. Diante disso, qual passou a ser o custo mensal, em reais, desse serviço após o reajuste?

- (A) R\$ 73.600,00.
- (B) R\$ 74.200,00.
- (C) R\$ 72.000,00.
- (D) R\$ 64.000,00.

Questão 12. A tesouraria municipal quitou um boleto de insumos com atraso de dois meses. O valor nominal em carteira era de R\$ 20.000,00. O contrato previa a aplicação de juros compostos de 5% ao mês sobre o saldo devedor acumulado em caso de inadimplência operacional. Sabendo que a liquidação ocorreu em parcela única ao final do segundo mês de atraso, qual foi o valor total absoluto pago exclusivamente a título de juros por essa operação financeira?

- (A) R\$ 22.000,00.
- (B) R\$ 2.050,00.
- (C) R\$ 2.000,00.
- (D) R\$ 22.050,00.

Questão 13. Um plano de expansão na pavimentação de vias públicas foi estruturado de forma que a extensão de asfalto executada a cada mês segue uma progressão aritmética crescente. No 3º mês de vigência do programa, as equipes pavimentaram exatamente 14 quilômetros de ruas. No 7º mês, a produção atingiu a marca de 26 quilômetros. Mantendo esse ritmo constante de evolução linear nas obras, quantos quilômetros serão pavimentados isoladamente no decorrer do 12º mês?

- (A) 41 km.
- (B) 35 km.
- (C) 44 km.
- (D) 38 km.

Questão 14. O sistema de atendimento digital de uma Prefeitura registrou 10 chamados técnicos no primeiro dia útil do ano. A equipe de suporte projetou um crescimento de acessos estruturado na forma de uma progressão geométrica estável, em que o volume de chamados diários deve dobrar a cada dia subsequente de operação em relação ao dia anterior. Seguindo essa estimativa exponencial de multiplicação, qual será a quantidade isolada de chamados registrados no 6º dia?

- (A) 640 chamados.
- (B) 60 chamados.
- (C) 320 chamados.
- (D) 160 chamados.

Questão 15. Para a sinalização visual de segurança em uma praça, a equipe técnica desenhou um triângulo retângulo no piso pavimentado. O topógrafo informou que o menor dos catetos desse triângulo mede exatamente 9 metros lineares e que a hipotenusa que fecha a figura possui 15 metros de comprimento. Visando a compra de tinta especial antiderrapante, o setor de suprimentos precisa calcular a área total, em metros quadrados, delimitada por essa marcação. Diante do exposto, assinale a alternativa CORRETA.

- (A) 135 m².
- (B) 54 m².
- (C) 67 m².
- (D) 108 m².

UTILIZE ESTE ESPAÇO PARA CÁLCULOS

INFORMÁTICA

Questão 16. Um servidor da Secretaria de Saúde está padronizando o Plano Municipal de Saúde, um documento oficial extenso e detalhado. Ele precisa aplicar exatamente a mesma formatação de um trecho padrão em vários parágrafos diferentes e distantes ao longo do arquivo. Para otimizar o trabalho e evitar ter que clicar no botão do **Pincel de Formatação** a cada novo parágrafo encontrado, o servidor decide utilizar um comportamento nativo da interface do Microsoft Word 365. Para fazer com que o **Pincel de Formatação** permaneça ativo por tempo indeterminado, permitindo que o servidor formate múltiplos trechos de texto consecutivamente, ele deve:

- (A) Manter o botão direito do mouse pressionado enquanto arrasta o **Pincel** até o parágrafo padrão.
- (B) Dar um duplo clique com o botão esquerdo do mouse sobre o botão do **Pincel de Formatação**.
- (C) Manter a tecla **Alt** pressionada enquanto clica uma vez no botão do **Pincel de Formatação**.
- (D) Clicar no botão do **Pincel** com o botão direito do mouse e selecionar **Modo Contínuo**.

Questão 17. O setor de regulação de uma Secretaria Municipal de Saúde monitora o tempo de espera (em dias) de pacientes na fila para a realização de exames de alta complexidade. Na planilha do Microsoft Excel 365, um bloco de células na coluna E (intervalo de E2 até E20) registra os prazos de espera dos últimos pacientes monitorados. O diretor do setor precisa identificar rapidamente qual foi o tempo de espera mais longo para priorizar a auditoria do fluxo. Assim, qual fórmula deve ser inserida na célula de resumo para descobrir o MAIOR valor desse intervalo de células?

- (A) =TETO(E2:E20)
- (B) =MAIOR(E2:E20)
- (C) =MÁXIMO(E2:E20)
- (D) =VALOR.MÁXIMO(E2:E20)

Questão 18. Um servidor administrativo de uma Unidade Básica de Saúde está organizando a planilha de controle de consultas agendadas e acolhimentos do dia no Microsoft Excel 365. Para facilitar a identificação visual rápida pela equipe de enfermagem, ele deseja pintar o fundo das células conforme a situação do atendimento: verde para "Paciente Atendido", vermelho para "Falta/Cancelado" e amarelo para "Em Espera". Em vez de escolher as cores manualmente no balde de tinta, o servidor decide usar os padrões visuais profissionais do próprio programa. Para isso, ele deve selecionar as células correspondentes e, na guia **Página Inicial**, clicar em **Estilos de Célula**, escolhendo as opções contidas na categoria:

- (A) Bom, Ruim e Neutro.
- (B) Dados e Modelagem.
- (C) Estilos Temáticos de Ênfase.
- (D) Triagem de Dados e Status.

Questão 19. Analise a seguinte afirmação a respeito das funcionalidades do navegador Google Chrome:

A barra de endereços do Google Chrome (também conhecida como Omnibox) funciona de forma híbrida: se o usuário digitar um termo comum ou uma frase (como "orçamento público"), o navegador realiza uma busca na internet utilizando o mecanismo de pesquisa padrão. Por outro lado, se o usuário digitar uma URL ou um endereço web válido (como www.gov.br), o navegador realiza a navegação direta para o site correspondente.

Essa afirmação está:

- (A) Incorreta, pois a barra de endereços serve apenas para digitar URLs completas, sendo necessário acessar a página do Google para realizar pesquisas.
- (B) Parcialmente correta, pois o Chrome exige que o usuário selecione previamente se deseja "buscar" ou "navegar" antes de digitar o conteúdo.
- (C) Correta, pois a barra de endereços unifica as funções de busca e de navegação direta, identificando o tipo de entrada digitada pelo usuário.
- (D) Correta em partes, pois o comportamento híbrido só funciona se o usuário digitar o protocolo https:// antes de qualquer termo.

Questão 20. Um servidor notou que o navegador Google Chrome estava apresentando lentidão e falhas de autenticação ao tentar acessar o sistema de folha de pagamento da instituição. Para solucionar o problema, o servidor abriu a ferramenta **Excluir dados** nas configurações de **Privacidade e segurança** do navegador. A respeito das ações executadas por essa ferramenta e o respectivo comportamento do Google Chrome, analise as partes que seguem:

(1ª parte): Ao limpar os **Cookies e outros dados do site**, o Google Chrome encerra as sessões ativas na maioria dos sites, exigindo que o usuário insira novamente suas credenciais (login e senha) no próximo acesso.

(2ª parte): A limpeza de **Imagens e arquivos em cache** apaga imagens pessoais que o usuário salvou dentro da pasta local "Imagens" do sistema operacional.

(3ª parte): A exclusão do **Histórico de navegação** remove os endereços das páginas visitadas, fazendo com que a barra de endereços deixe de exibir sugestões preditivas baseadas nesses acessos anteriores.

Pode-se afirmar que:

- (A) Apenas a 1ª parte está correta.
- (B) Apenas a 1ª e a 3ª partes estão corretas.
- (C) Apenas a 2ª e a 3ª partes estão corretas.
- (D) Todas as partes estão corretas.

Questão 21. Analise as seguintes afirmativas sobre o comportamento, o layout e os recursos associados ao modo de exibição **Ícones extra grandes** no Explorador de Arquivos do Windows 11:

- I. Ao ativar o modo **Ícones extra grandes**, o layout da pasta passa a exibir detalhes textuais imediatos e colunas com os metadados dos arquivos, tais como a data de modificação e o tamanho em disco.
- II. Para arquivos de imagem (como .jpg ou .png), o modo **Ícones extra grandes** substitui o logotipo genérico do visualizador de fotos por uma miniatura detalhada do próprio conteúdo da imagem.
- III. É possível alternar o tamanho dos ícones de uma pasta para o modo **Ícones extra grandes** utilizando o teclado: basta manter pressionadas as teclas **Ctrl + Shift** e, em seguida, pressionar o número **1** (no teclado alfanumérico superior).

Está CORRETO o que se afirma em:

- (A) I, II e III.
- (B) I e II, apenas.
- (C) II e III, apenas.
- (D) I e III, apenas.

Questão 22. Um servidor da Secretaria de Saúde tentou nomear uma nova pasta no Explorador de Arquivos do Windows 11 utilizando a seguinte nomenclatura para organizar o arquivo digital do setor:

01.Controle_de_Endemias&Zoonoses![2025.26]

Ao pressionar a tecla **Enter** para confirmar o nome, o comportamento esperado do sistema operacional será:

- (A) Rejeitar o nome, pois o caractere **!** é usado estritamente para comandos de script do sistema.
- (B) Aceitar e aplicar o nome digitado normalmente, visto que nenhum dos caracteres utilizados faz parte da lista de caracteres proibidos pelo sistema.
- (C) Renomear automaticamente a pasta para "Nova Pasta", apagando todo o texto inserido pelo usuário por ultrapassar o limite padrão de 15 caracteres.
- (D) Aceitar parcialmente o nome, mas converter o caractere **&** na palavra **E**, visto que o sistema remove símbolos especiais por questões de compatibilidade com servidores em nuvem.

LEGISLAÇÃO

Questão 23. Tem-se, de acordo com a Lei Orgânica, que o Prefeito Municipal poderá solicitar que a Câmara de Vereadores aprecie em regime de urgência os projetos de sua iniciativa, quando a matéria for de relevante interesse público. Recebida a solicitação, a Câmara terá até quanto tempo para apreciação do projeto de que trata o pedido?

- (A) 7 dias.
- (B) 14 dias.
- (C) 21 dias.
- (D) 28 dias.

Questão 24. A Lei Orgânica cita que são de iniciativa privativa do Prefeito as leis que disponham sobre, por exemplo:

- I. Servidores públicos do Município, seu regime jurídico, provimento de cargos, estabilidade e aposentadoria.
- II. Organização administrativa, matéria orçamentária, serviços públicos e a que autoriza abertura de créditos ou conceda auxílios, prêmios e subvenções.

Acerca das assertivas, pode-se afirmar que:

- (A) Apenas I está correta.
- (B) I e II estão corretas.
- (C) Apenas I está incorreta.
- (D) I e II estão incorretas.

Questão 25. Conforme a Lei Orgânica, analise as partes: O Prefeito e o Vice-Prefeito tomam posse em sessão da Prefeitura Municipal de Vereadores, no dia 1º de janeiro do ano subsequente ao da eleição (**1ª parte**), prestando o compromisso de manter, defender e cumprir as Constituições Federal, Estadual e a Lei Orgânica do Município, observando as leis e promovendo o bem geral dos municípios (**2ª parte**).

Acerca das partes, pode-se afirmar que:

- (A) Assim como a 1ª parte está correta, tem-se que a 2ª parte também está.
- (B) Enquanto a 1ª parte está correta, sabe-se que a 2ª parte não está.
- (C) Assim como a 1ª parte está incorreta, tem-se que a 2ª parte também está.
- (D) Enquanto a 1ª parte está incorreta, sabe-se que a 2ª parte não está.

Questão 26. O Regime Jurídico dos Servidores Públicos do Município determina que pode ser concedida licença ao servidor ocupante de cargo efetivo, para diversas finalidades, e com as respectivas particularidades. Nesse sentido, analise as alternativas que seguem e assinale a que apresenta informação considerada INCORRETA.

- (A) A critério da Administração, poderá ser concedida ao servidor estável licença para tratar de assuntos particulares, pelo prazo de até dois anos consecutivos, sem remuneração.
- (B) Ao servidor ocupante de cargo efetivo que for convocado para o serviço militar ou outros encargos de segurança nacional, será concedida licença sem remuneração.
- (C) É assegurado ao servidor o direito à licença para desempenho de mandato em confederação, federação ou sindicato representativo da categoria, sem remuneração.
- (D) O servidor ocupante de cargo efetivo que concorrer a mandato eletivo federal, estadual, distrital ou municipal, fará jus à licença não remunerada.

Questão 27. Acerca do tempo de serviço, e com base no que é determinado pelo Regime Jurídico dos Servidores Públicos do Município, analise as assertivas que seguem:

- I.** A apuração do tempo de serviço será feita em dias, os quais serão convertidos em anos, considerados estes como períodos de trezentos e sessenta e cinco dias.
- II.** Os dias de efetivo exercício serão computados à vista dos comprovantes de pagamento ou dos registros funcionais.

Acerca das assertivas, pode-se afirmar que:

- (A) Apenas I está correta.
- (B) I e II estão corretas.
- (C) Apenas I está incorreta.
- (D) I e II estão incorretas.

Questão 28. Analise o texto a seguir, com base no Regime Jurídico dos Servidores Públicos do Município:

O direito ao adicional de penosidade, insalubridade ou periculosidade cessará com a eliminação das condições ou dos riscos que deram causa a sua concessão, sendo sua concessão ou eliminação precedidas de laudo pericial, realizado exclusivamente por Médico do Trabalho.

Acerca do texto, pode-se afirmar que ele está:

- (A) Parcialmente adequado, visto que o laudo também pode se dar por Engenheiro do Trabalho.
- (B) Plenamente adequado, visto que observa a legislação municipal vigente.
- (C) Plenamente inadequado, visto que em nada observa a legislação municipal vigente.
- (D) Parcialmente adequado, visto que o adicional de periculosidade não segue as mesmas regras citadas.

Questão 29. As férias somente podem ser suspensas por motivo de calamidade pública, comoção interna ou por motivo de superior interesse público, por ato devidamente motivado, devendo o período restante ser gozado em _____, respeitando-se o fato de que é obrigatória a concessão e gozo das férias nos dez meses subsequentes à data em que o servidor tiver adquirido o direito, podendo se dar em dois períodos nunca inferiores a _____ dias cada período, a serem definidos pelo Município.

Preenche, CORRETA e respectivamente, as lacunas, conforme Regime Jurídico dos Servidores Públicos do Município:

- (A) até duas vezes; quinze.
- (B) até duas vezes; dez.
- (C) uma só vez; dez.
- (D) uma só vez; quinze.

Questão 30. Os atos administrativos de competência do Prefeito devem ser expedidos com observância de algumas normas, conforme Lei Orgânica. Quantos dos seguintes itens apresentam situações que devem ser objeto de portaria? **I.** Autorização de uso de bens e serviços municipais; **II.** Provimento e vacância dos cargos públicos e demais atos de efeitos individuais; **III.** Medidas executórias do Plano Diretor de Desenvolvimento Integrado do Município.

- (A) Nenhum deles.
- (B) Apenas 1 deles.
- (C) Apenas 2 deles.
- (D) Todos os 3.

CONHECIMENTOS ESPECÍFICOS

Questão 31. Sobre a técnica de incisão em procedimentos cirúrgicos bucomaxilofaciais, assinale a alternativa CORRETA.

- (A) Incisões em superfícies epiteliais que serão reaproximadas devem ser realizadas com a lâmina em posição perpendicular, pois isso resultará em bordas quadradas que facilitam a reorientação e diminuem a suscetibilidade à necrose por isquemia.
- (B) O uso de incisões curtas e intermitentes é o método preferencial, pois a realização de cortes longos e contínuos aumenta significativamente a quantidade de dano tecidual e o sangramento na ferida cirúrgica.
- (C) A resistência dos tecidos influencia diretamente a manutenção do fio de corte, sendo a mucosa bucal o tipo de tecido que causa o desgaste mais rápido da lâmina em comparação ao osso e tecidos ligamentares.
- (D) É recomendado que incisões sejam posicionadas preferencialmente sobre proeminências anatômicas, como a eminência canina, visto que a pressão exercida nessas áreas favorece a cicatrização da ferida fechada.

Questão 32. Um paciente de 52 anos, tabagista crônico, comparece à Unidade Básica de Saúde relatando desconforto em borda lateral de língua há mais de um mês. Ao exame clínico, observa-se placa esbranquiçada, não removível à raspagem, de superfície levemente rugosa e limites relativamente definidos. O paciente refere ausência de dor significativa e nega episódios traumáticos recentes na região. Considerando o quadro clínico apresentado, assinale a alternativa CORRETA.

- (A) A remoção da placa à raspagem é um critério essencial para confirmação clínica de leucoplasia oral.
- (B) Lesões leucoplásicas estão frequentemente associadas ao tabagismo e devem ser avaliadas quanto ao potencial de transformação maligna.
- (C) A ausência de dor e ulceração exclui risco de displasia epitelial ou malignização da lesão.
- (D) O aspecto esbranquiçado da lesão indica acúmulo superficial de biofilme, sendo desnecessária investigação complementar quando não há sintomatologia.

Questão 33. As lesões cervicais não cariosas apresentam etiologias distintas que determinam seu padrão clínico. Diante disso, relacione as patologias apresentadas na Coluna A com seus respectivos mecanismos etiológicos na Coluna B:

Coluna A:

- (1) Abrasão.
- (2) Abfração.
- (3) Erosão.

Coluna B:

- () Perda de tecido dentário por processo químico (ácido), sem participação de microrganismos.
- () Perda de tecido por desgaste mecânico provocado por um agente externo (hábito ou objeto).
- () Perda de tecido na região cervical devido a forças oclusais que causam flexão e fadiga do esmalte e da dentina.

Qual alternativa preenche, CORRETAMENTE, de cima para baixo, os parênteses acima?

- (A) 1 – 2 – 3.
- (B) 2 – 3 – 1.
- (C) 3 – 2 – 1.
- (D) 3 – 1 – 2.

Questão 34. Um Cirurgião-Dentista planeja realizar a exodontia de um elemento dentário com processo inflamatório agudo (hiperemia local). Ao escolher o sal anestésico, ele considera a propriedade de vasodilatação intrínseca dos fármacos. Considerando as propriedades farmacocinéticas dos anestésicos locais injetáveis, assinale a alternativa que descreve CORRETAMENTE a relação entre a escolha do anestésico, a perfusão local e a eficácia do bloqueio.

- (A) A escolha por um anestésico com maior grau de vasodilatação é indicada em áreas hiperemiadas, pois o aumento da perfusão local acelera a dispersão do fármaco, potencializando a profundidade anestésica.
- (B) O aumento da perfusão local causado por anestésicos como a procaína eleva a taxa de redistribuição do fármaco pelo sistema cardiovascular, reduzindo o tempo de latência e garantindo uma duração de efeito superior à da mepivacaína.
- (C) Anestésicos com menor grau de vasodilatação, como a mepivacaína e a prilocaína, tendem a proporcionar uma duração de efeito mais prolongada no tecido porque sofrem uma remoção mais lenta.
- (D) A vasodilatação provocada pelos anestésicos locais é um mecanismo secundário que, em tecidos inflamados, torna-se irrelevante para a profundidade anestésica, uma vez que o pH ácido do meio já é o único fator determinante para a falha do bloqueio.

Questão 35. Analise as seguintes frases:

A odontodisplasia regional é uma anomalia rara do desenvolvimento dentário caracterizada por alterações na formação de esmalte e dentina, produzindo dentes hipoplásicos e hipocalcificados, geralmente descritos radiograficamente como "dentes fantasmas", sendo classificada como uma condição não hereditária.

PORQUE

A teoria mais aceita para sua etiologia envolve alterações locais no suprimento vascular durante o período de odontogênese.

Pode-se afirmar que:

- (A) A primeira frase é verdadeira, e a segunda é falsa.
- (B) A primeira frase é falsa, e a segunda é verdadeira.
- (C) Ambas as frases são verdadeiras, e a segunda justifica a primeira.
- (D) Ambas as frases são verdadeiras, mas a segunda não justifica a primeira.

Questão 36. A Portaria nº 2.436/2017, que trata da Política Nacional de Atenção Básica (PNAB), e os Cadernos de Atenção Básica de Saúde Bucal estabelecem as diretrizes operacionais para a inserção das equipes de Saúde Bucal (eSB) na Estratégia de Saúde da Família (ESF), bem como os fluxos de coleta de dados pelo e-SUS APS. Considerando as regras de organização, competências e o planejamento das ações baseadas nesses documentos, assinale a alternativa CORRETA.

- (A) Para fins de planejamento local e diagnóstico epidemiológico no território, a eSB deve priorizar o uso do e-SUS APS focado na identificação do CPO-D individual por ciclo de vida, visto que o sistema substituiu os levantamentos de base territorial por amostragem sistemática.
- (B) A PNAB estabelece que a eSB pode ser organizada em duas modalidades; contudo, a presença do Técnico em Saúde Bucal (TSB) é obrigatória em ambas as configurações, variando apenas a carga horária semanal dedicada às ações de prevenção coletiva fora do ambiente ambulatorial.
- (C) O planejamento das ações de saúde bucal na Atenção Básica deve prever a articulação entre as atividades clínicas e as ações coletivas na comunidade, utilizando dados epidemiológicos locais e registros do e-SUS APS para a identificação e a priorização das famílias e indivíduos vulneráveis.
- (D) O e-SUS APS adota como diretriz a centralização dos dados de produção ambulatorial das eSB através do registro consolidado mensal, eliminando a necessidade de individualização dos procedimentos odontológicos por Cartão Nacional de Saúde (CNS) para otimizar o tempo de atendimento clínico.

Questão 37. A pulpíte hiperplásica crônica (pólipo pulpar) é uma condição que acomete preferencialmente crianças e adultos jovens. Sobre suas características clínicas e fisiopatológicas, assinale a alternativa CORRETA.

- (A) É uma lesão geralmente dolorosa, caracterizada pela necrose total da polpa dental devido à compressão venosa imediata causada pela exposição pulpar.
- (B) Ocorre predominantemente em dentes com grandes exposições pulpares e ápices abertos, o que permite que o tecido de granulação hiperplásico se projete para fora da câmara pulpar sem sofrer necrose por compressão venosa.
- (C) A condição é causada pelo fechamento precoce do ápice radicular, o que aumenta a pressão interna na câmara pulpar e favorece a proliferação bacteriana acelerada.
- (D) O tratamento indicado para a pulpíte hiperplásica crônica é a observação clínica, uma vez que a lesão tende a regredir espontaneamente assim que o teto dentinário for reconstruído com restauração direta.

Questão 38. A prática odontológica exige a identificação precoce de manifestações orais que podem indicar patologias sistêmicas de origem viral. Diante disso, relacione corretamente o agente etiológico da Coluna A ao seu correspondente achado clínico, disposto na Coluna B:

Coluna A:

- (1) Vírus Coxsackie.
- (2) Herpes Simplex (HSV-1).
- (3) Vírus Epstein-Barr.
- (4) Vírus da Varicela-Zoster.

Coluna B:

- () Vesículas seguindo o trajeto de um nervo sensitivo (dermatomo), respeitando a linha média.
- () Lesões vesiculares disseminadas na mucosa oral, com febre e linfadenopatia (primoinfecção).
- () Pequenas vesículas ou úlceras na orofaringe, pilares amigdalíneos e palato mole, com início súbito.
- () Placas brancas, indolores e geralmente bilaterais nas bordas laterais da língua, de aspecto estriado ou rugoso.

Qual alternativa preenche, CORRETAMENTE, de cima para baixo, os parênteses acima?

- (A) 4 – 2 – 1 – 3.
- (B) 1 – 2 – 3 – 4.
- (C) 4 – 1 – 2 – 3.
- (D) 2 – 4 – 1 – 3.

Questão 39. Um paciente hipertenso, controlado por medicação, comparece à UBS para exodontia de um segundo molar. Ao analisar a escolha do vasoconstritor, considerando a segurança do paciente e o controle da pressão arterial, assinale a alternativa CORRETA.

- (A) Deve-se utilizar obrigatoriamente anestésico sem vasoconstritor para garantir que não haja qualquer elevação na pressão arterial durante o procedimento.
- (B) O uso de epinefrina na concentração 1:100.000 é contraindicado para pacientes hipertensos controlados, visto que o limite máximo absoluto de vasoconstritor por sessão para esses pacientes é de 0,02 mg.
- (C) Em pacientes hipertensos controlados, o uso de anestésicos com epinefrina é considerado seguro desde que respeitado o limite máximo de 0,04 mg de vasoconstritor por sessão, garantindo o controle da dor com baixo risco de alterações hemodinâmicas significativas.
- (D) O uso de anestésicos locais com epinefrina deve ser evitado, pois o pico de liberação hormonal causado pelo estresse da dor é irrelevante frente ao efeito sistêmico do anestésico.

Questão 40. Uma criança de 8 anos comparece à Unidade Básica de Saúde (UBS) com avulsão de um incisivo central superior permanente ocorrida há 45 minutos. O dente foi armazenado em leite durante o transporte. Sobre o protocolo clínico de urgência para esse caso, assinale a alternativa CORRETA.

- (A) O reimplante deve ser realizado imediatamente, seguido pela aplicação de uma contenção rígida por um período de 8 semanas, visando garantir a imobilização absoluta e o reparo do ligamento periodontal.
- (B) A superfície radicular deve ser desinfetada com clorexidina 2% ou hipoclorito de sódio antes do reimplante, a fim de eliminar qualquer contaminação bacteriana e prevenir a reabsorção inflamatória externa.
- (C) Devido ao tempo extra-alveolar ser inferior a 60 minutos, o reimplante está indicado; entretanto, a contenção deve ser do tipo flexível e mantida por um período de 2 semanas para permitir a reparação fisiológica do ligamento periodontal.
- (D) Por se tratar de um dente com rizogênese incompleta, a pulpectomia deve ser realizada preventivamente no ato do reimplante.