


## MOTORISTA




**Município de Progresso/RS**  
Concurso Público 01/2026


### PROVA TEÓRICO-OBJETIVA

 3 horas

 20 questões

 4 alternativas

 Saída permitida somente após  
1 hora de prova

 O candidato só poderá levar  
este Caderno após 2 horas de  
prova

### INSTRUÇÕES



Confira se esse Caderno de Prova contém a quantidade de questões indicadas. A substituição deste Caderno de Prova ocorre apenas antes de iniciar a prova.

- ▣ O tempo de prova inclui o preenchimento do Cartão-Resposta.
- ▣ Nenhuma informação acerca do conteúdo das questões será fornecida pelo Fiscal de Sala, pois é parte integrante da prova.
- ▣ Antes de sair da Sala de Prova, entregue o Cartão-Resposta ao Fiscal de Sala, **devidamente assinado**, e, após, se desloque imediatamente para a saída do local de prova.
- ▣ Ao final da prova, os 03 (três) últimos candidatos deverão permanecer na Sala de Prova até que o último termine a sua prova, devendo ambos testemunhar a devolução e o lacre dos documentos.
- ▣ A divulgação do gabarito preliminar se dará conforme Cronograma de Execução do certame.

TODOS OS DIREITOS RESERVADOS AO INSTITUTO LEGALLE. PROIBIDO REPRODUÇÃO.

### RASCUNHO PARA GABARITO

01		06		11		16	
02		07		12		17	
03		08		13		18	
04		09		14		19	
05		10		15		20	

## LÍNGUA PORTUGUESA

Para responder às questões 01 a 04, leia a charge abaixo.

EDUCAÇÃO...



Fonte: Cazo.

**Questão 01.** Na charge, o aluno pede para a professora contar **outra história** porque ele percebeu que a notícia lida por ela:

- (A) Fala sobre um livro infantil muito antigo que ele já conhece muito bem.
- (B) Traz uma informação ruim e preocupante sobre o aprendizado dos estudantes.
- (C) Ensina uma brincadeira muito difícil de matemática que ele não quer jogar.
- (D) Avisa que as aulas daquela escola seriam canceladas no dia seguinte.

**Questão 02.** A palavra **português**, dita pela professora na charge, recebe acento gráfico. Quanto à posição da sílaba tônica (a sílaba pronunciada com mais força), essa palavra é classificada como:

- (A) Oxítona, pois a última sílaba é a pronunciada com mais força.
- (B) Paroxítona, pois a penúltima sílaba é a pronunciada com mais força.
- (C) Proparoxítona, pois a antepenúltima sílaba é a pronunciada com mais força.
- (D) Monossílabo tônico, por possuir apenas uma sílaba em sua escrita.

**Questão 03.** No balão de fala do menino, ele usa o ponto de interrogação no final de sua pergunta. Nesse contexto, a função desse sinal de pontuação é:

- (A) Demonstrar uma forte surpresa ou susto com a notícia.
- (B) Dar uma ordem direta e obrigatória para a professora fechar o livro.
- (C) Indicar uma dúvida ou questionamento que ele está fazendo à professora.
- (D) Finalizar uma frase declarativa comum e sem emoção.

**Questão 04.** Assinale a alternativa que apresenta a CORRETA separação de sílabas da palavra **aprendizagem**, que aparece escrita no balão de fala da professora.

- (A) a-pre-ndi-za-gem.
- (B) a-pren-di-za-gem.
- (C) ap-ren-di-za-gem.
- (D) a-pren-di-za-g-em.

## MATEMÁTICA

**Questão 05.** Um servidor executou uma atividade em três etapas cronometradas. Na primeira etapa, ele gastou exatamente 2 horas e 45 minutos. Na segunda etapa, ele foi mais rápido e gastou 35 minutos a menos do que o tempo gasto na primeira etapa. Na terceira e última etapa, o tempo gasto foi igual à soma das duas primeiras etapas juntas. Diante disso, determine o tempo total absoluto, em minutos, que o servidor utilizou para concluir a execução de toda a atividade e assinale a alternativa com a resposta CORRETA.

- (A) 625 minutos.
- (B) 590 minutos.
- (C) 295 minutos.
- (D) 480 minutos.

**Questão 06.** Um projeto institucional tinha uma verba inicial específica. No primeiro trimestre, foi gasto um quarto do total dessa verba. No segundo trimestre, foram gastos mais R\$ 15.000,00. No terceiro trimestre, a equipe utilizou exatamente a metade do valor que ainda havia restado em caixa após os gastos dos dois primeiros trimestres. Sabendo que, após essas etapas, a verba final restante na conta do projeto era de R\$ 18.000,00, determine o valor total da verba inicial e assinale a alternativa com a resposta CORRETA.

- (A) R\$ 60.000,00.
- (B) R\$ 72.000,00.
- (C) R\$ 80.000,00.
- (D) R\$ 68.000,00.

**Questão 07.** Um assistente técnico recebeu a tarefa de digitalizar três relatórios extensos. O relatório "A" possui 140 páginas, o relatório "B" possui 210 páginas e o relatório "C" possui 350 páginas. Ele planeja dividir cada relatório em partes com o mesmo número exato de páginas, de modo que cada parte seja a maior possível e nenhuma página fique de fora dessa divisão. Diante disso, determine a quantidade total de partes estruturadas que o assistente obterá juntando os três relatórios e assinale a alternativa com a resposta CORRETA.

- (A) 14 partes.
- (B) 70 partes.
- (C) 10 partes.
- (D) 12 partes.

## UTILIZE ESTE ESPAÇO PARA CÁLCULOS

### ATUALIDADES

**Questão 08.** Qual é o nome do importante arroio que banha o município de Progresso, batizado em homenagem a Francisco Mariano da Silva, considerado o fundador e pioneiro da terra?

- (A) Arroio Gramado.
- (B) Arroio Chico Mariano.
- (C) Arroio São Francisco.
- (D) Arroio Constantino.

**Questão 09.** Antes de adotar o nome oficial de Progresso, a localidade que hoje constitui o núcleo urbano principal era conhecida de outra forma pelos primeiros moradores, devido a uma pastagem aberta. Como essa área original era chamada?

- (A) Vila Lajeado.
- (B) Posata Taliana.
- (C) Campo Branco.
- (D) Gramado São Francisco.

**Questão 10.** O hino municipal é um dos símbolos oficiais da cidade que traduzem o orgulho e o sentimento de pertencimento da população por sua terra. Diante disso, quem foi o autor do hino da cidade de Progresso, cuja composição foi publicada no ano de 1989?

- (A) Jandyra Ignez Zenatti Cavallin.
- (B) Florisbelo França.
- (C) Guido Arnaldo Lermen.
- (D) Frei Constantino Van Ryn.

### LEGISLAÇÃO

**Questão 11.** A Lei Orgânica traz que o Município pode celebrar convênios com a União, com o Estado e com outros Municípios, mediante autorização da Câmara Municipal, para a execução de suas leis, serviços, obras e decisões, bem como executar encargos análogos a essas esferas. Ainda, os convênios podem visar à realização de obras ou a exploração de serviços públicos de interesse:

- (A) Político.
- (B) Privado.
- (C) Especial.
- (D) Comum.

**Questão 12.** Observe a frase a seguir: "Prometo manter, defender e cumprir a Constituição, observar as leis e administrar o Município visando ao bem geral dos munícipes". A partir disso, utilizando como base o que prevê a Lei Orgânica, assinale a alternativa que apresenta o que é a frase acima mencionada.

- (A) É a primeira frase que consta do hino oficial do Município.
- (B) Trata-se do compromisso que o Prefeito e o Vice-Prefeito prestam na posse.
- (C) É a frase representativa do objetivo do Município como um todo.
- (D) Trata-se da frase que é encontrada no pórtico do Município.

**Questão 13.** O Regime Jurídico Único dos Servidores Públicos do Município determina que à empossada que estiver no período compreendido pela licença à gestante, nos termos constitucionais, será dado o exercício ficto mediante apresentação de certidão de nascimento ou atestado médico, devendo iniciar de fato suas atividades no primeiro dia seguinte ao término da licença à gestante. Ainda, acerca da remuneração nessa situação, pode-se afirmar que a empossada ficará:

- (A) Sem remuneração.
- (B) Com remuneração opcional.
- (C) Com remuneração parcial.
- (D) Com remuneração integral.

**Questão 14.** Analise as assertivas que seguem, conforme o Regime Jurídico Único dos Servidores Públicos do Município:

- I. Todos os afastamentos, exceto o gozo de férias legais, suspendem a avaliação do estágio probatório.
- II. Durante o processo de avaliação, o servidor não pode ter vista de cada boletim de estágio, para não interferir no seu desempenho.

Acerca das assertivas, pode-se afirmar que:

- (A) Apenas I está correta.
- (B) I e II estão corretas.
- (C) Apenas I está incorreta.
- (D) I e II estão incorretas.

### CONHECIMENTOS ESPECÍFICOS

**Questão 15.** Ao realizar o transporte de passageiros com o veículo do Município, o Motorista precisa conhecer as normas de circulação. De acordo com o Código de Trânsito Brasileiro (CTB), a imobilização do veículo pelo tempo estritamente necessário para efetuar o embarque ou desembarque rápido de pessoas é definida como:

- (A) Estacionamento.
- (B) Parada.
- (C) Retenção.
- (D) Cruzamento.

**Questão 16.** A direção defensiva ensina que o Motorista deve guiar de forma a evitar acidentes. Para dirigir com segurança veículos ou caminhões nas ruas da cidade, o condutor deve guardar uma distância segura:

- (A) Apenas do veículo que vem logo atrás de seu automóvel.
- (B) Lateral e frontal entre o seu veículo e os demais, além do bordo da pista.
- (C) Fixa de exatamente cinquenta metros de distância de todos os carros.
- (D) Somente quando estiver chovendo forte ou com neblina na pista.

**Questão 17.** As linhas pintadas no chão (sinalização horizontal) servem para organizar o fluxo de veículos e orientar o Motorista sobre as regras de trânsito. Sobre as cores dessas marcas no asfalto, assinale a alternativa que traz a regra CORRETA.

- (A) A linha branca contínua no meio da pista separa fluxos de sentidos opostos (mão dupla).
- (B) A linha amarela contínua no meio da pista separa fluxos de sentidos opostos e proíbe a ultrapassagem.
- (C) A cor amarela serve apenas para pintar as faixas de pedestres de todas as cidades.
- (D) A cor preta é utilizada para pintar as linhas que dividem os carros em movimento.

**Questão 18.** Ao circular pelas avenidas do município com um veículo oficial, o Motorista encontra cruzamentos com semáforos. De acordo com as regras de trânsito, quando o semáforo apresenta a luz amarela piscando de forma alternada, isso indica ao condutor:

- (A) Permissão livre para acelerar o carro e cruzar a via sem olhar.
- (B) Parada obrigatória de todos os carros antes da faixa de pedestres.
- (C) Advertência sobre a existência de situação perigosa ou obstáculo à frente.
- (D) Que o sinal está com defeito grave e o motorista deve abandonar o veículo.

**Questão 19.** Durante a condução diária de uma máquina rodoviária da Prefeitura, o Motorista monitora o painel de instrumentos para manter as condições corretas de funcionamento do motor. No sistema de arrefecimento, a peça responsável por controlar a circulação da água entre o motor e o radiador é a:

- (A) Válvula termostática.
- (B) Bomba de óleo.
- (C) Bomba de combustível.
- (D) Vela de ignição.

**Questão 20.** Ao iniciar o expediente, o Motorista entra em um veículo do Município e gira a chave de ignição para dar a partida. O componente do sistema elétrico que dá o primeiro impulso para que o motor comece a funcionar é o:

- (A) Alternador.
- (B) Distribuidor.
- (C) Cabo de vela.
- (D) Motor de partida.