


## OPERADOR DE MÁQUINAS




**Município de Progresso/RS**  
Concurso Público 01/2026


### PROVA TEÓRICO-OBJETIVA

 3 horas

 20 questões

 4 alternativas

 Saída permitida somente após  
1 hora de prova

 O candidato só poderá levar  
este Caderno após 2 horas de  
prova

### INSTRUÇÕES



Confira se esse Caderno de Prova contém a quantidade de questões indicadas. A substituição deste Caderno de Prova ocorre apenas antes de iniciar a prova.

- ▣ O tempo de prova inclui o preenchimento do Cartão-Resposta.
- ▣ Nenhuma informação acerca do conteúdo das questões será fornecida pelo Fiscal de Sala, pois é parte integrante da prova.
- ▣ Antes de sair da Sala de Prova, entregue o Cartão-Resposta ao Fiscal de Sala, **devidamente assinado**, e, após, se desloque imediatamente para a saída do local de prova.
- ▣ Ao final da prova, os 03 (três) últimos candidatos deverão permanecer na Sala de Prova até que o último termine a sua prova, devendo ambos testemunhar a devolução e o lacre dos documentos.
- ▣ A divulgação do gabarito preliminar se dará conforme Cronograma de Execução do certame.

TODOS OS DIREITOS RESERVADOS AO INSTITUTO LEGALLE. PROIBIDO REPRODUÇÃO.

### RASCUNHO PARA GABARITO

01		06		11		16	
02		07		12		17	
03		08		13		18	
04		09		14		19	
05		10		15		20	

## LÍNGUA PORTUGUESA

Para responder às questões 01 a 04, leia a charge abaixo.

**43% DAS ESCOLAS NÃO TÊM LUGAR PARA ALUNOS LAVAREM AS MÃOS...**



Fonte: Cazo.

**Questão 01.** A graça e a crítica da charge surgem do fato de o menino:

- (A) Ter faltado à aula no dia em que a professora ensinou a lavar as mãos.
- (B) Preferir brincar na lama a lanchar com sua família na cozinha.
- (C) Ter aprendido a lavar as mãos apenas na teoria, por falta de pias na escola.
- (D) Não gostar de usar água e sabão por achar que a sujeira protege a pele.

**Questão 02.** A palavra **escolas**, presente no título da charge, possui uma sílaba tônica (a sílaba pronunciada com mais força). Quanto à posição dessa sílaba, a palavra **escolas** é classificada como:

- (A) Oxítona.
- (B) Paroxítona.
- (C) Proparoxítona.
- (D) Monossílabo tônico.

**Questão 03.** Assinale a alternativa que apresenta a CORRETA separação de sílabas da palavra **corretamente**, dita pelo menino na charge.

- (A) co-rre-ta-men-te.
- (B) cor-re-ta-me-nte.
- (C) cor-re-ta-men-te.
- (D) corr-e-ta-men-te.

**Questão 04.** Na palavra **professora**, presente na fala do menino, o grupo de letras **ss** representa um único som na pronúncia. Esse grupo de duas letras que representa apenas um som é chamado de:

- (A) Encontro consonantal.
- (B) Dígrafo.
- (C) Ditongo.
- (D) Hiato.

## MATEMÁTICA

**Questão 05.** Para uma auditoria, um servidor distribuiu um lote de processos entre três salas. A primeira sala recebeu o dobro de processos da segunda sala. A terceira sala recebeu o triplo de processos da primeira sala. Sabendo que a diferença entre a quantidade de processos recebidos pela terceira sala e pela segunda sala é de exatamente 105 processos, determine o total de processos administrativos que foram inicialmente distribuídos pelo servidor entre as três salas disponíveis e assinale a alternativa com a resposta CORRETA.

- (A) 189.
- (B) 147.
- (C) 126.
- (D) 210.

**Questão 06.** Um almoxarifado recebeu pacotes contendo resumos normativos. O número total de livretos recebidos é maior do que 340 e menor do que 390. Ao tentar organizar esses livretos em blocos de 12 unidades, sobram exatamente 5 livretos. Ao tentar organizá-los em blocos de 15 unidades, também sobram exatamente 5 livretos. Diante dessa situação de armazenamento, determine a soma dos algarismos que formam o número exato de livretos contidos nesse lote do almoxarifado e assinale a alternativa com a resposta CORRETA.

- (A) 8.
- (B) 10.
- (C) 5.
- (D) 14.

**Questão 07.** Um setor de compras adquiriu um lote contendo apenas cadeiras e mesas para os novos servidores. Cada cadeira custou exatamente R\$ 200,00 e cada mesa custou exatamente R\$ 500,00. Sabendo que o setor comprou um total de 30 móveis e desembolsou a quantia exata de R\$ 9.000,00 por toda a compra, determine a diferença positiva entre a quantidade de cadeiras e a quantidade de mesas que foram adquiridas pela administração nesse lote, e assinale a alternativa com a resposta CORRETA.

- (A) 20.
- (B) 15.
- (C) 10.
- (D) 5.

**UTILIZE ESTE ESPAÇO PARA CÁLCULOS**

## UTILIZE ESTE ESPAÇO PARA CÁLCULOS

### ATUALIDADES

**Questão 08.** Como são chamados oficialmente os cidadãos que nascem no município de Progresso, conforme os dados de registro demográfico do IBGE?

- (A) Progressistas.
- (B) Progressanos.
- (C) Progressenses.
- (D) Progressinos.

**Questão 09.** Segundo o levantamento de dados ambientais divulgado pelo Instituto Brasileiro de Geografia e Estatística (IBGE), qual é o bioma predominante que recobre o território do município de Progresso?

- (A) Cerrado.
- (B) Pampa.
- (C) Mata Atlântica.
- (D) Caatinga.

**Questão 10.** A economia local de Progresso é historicamente sustentada pela força do trabalho rural. Conforme os registros da Prefeitura, quais são os dois principais produtos cultivados que servem como a base financeira do município?

- (A) Milho e fumo.
- (B) Café e soja.
- (C) Trigo e algodão.
- (D) Arroz e cana-de-açúcar.

### LEGISLAÇÃO

**Questão 11.** Sabe-se que o território do Município pode ser dividido em Distritos, criados, organizados e suprimidos por Lei Municipal, observada a Legislação Estadual e a Lei Orgânica. Além disso, as circunstâncias urbanas classificam-se, na forma da legislação pertinente, em centro, bairros, distritos e/ou:

- (A) Vilas.
- (B) Vilarejos.
- (C) Comunidades.
- (D) Linhas.

**Questão 12.** Pode-se afirmar, de acordo com o que é determinado na Lei Orgânica, que são competências do Município, no exercício da sua autonomia, disciplinar os serviços de cargas e descargas e a fixação de tonelage máxima permitida a veículos que circulam no município, assim como manter a cooperação técnica e financeira da União e do Estado em programas de:

- (A) Educação infantil e de ensino fundamental.
- (B) Ensino fundamental e de ensino médio.
- (C) Educação infantil e de educação para jovens e adultos.
- (D) Educação infantil, de ensino fundamental e de ensino médio.

**Questão 13.** A investidura em cargo público depende de aprovação prévia em \_\_\_\_\_ de provas ou de provas e títulos, de acordo com a natureza e a complexidade do cargo, na forma prevista em Lei, ressalvadas as nomeações para cargo em comissão declarado em lei de livre nomeação e exoneração.

Com base no Regime Jurídico Único dos Servidores Públicos do Município, preenche CORRETAMENTE a lacuna:

- (A) sorteio público.
- (B) concurso público.
- (C) consórcio público.
- (D) rateio público.

**Questão 14.** O Regime Jurídico Único dos Servidores Públicos do Município traz que são requisitos básicos para investidura em cargo público ser brasileiro, nato ou naturalizado, ou estrangeiro, na forma da lei, além de ter idade mínima de dezoito anos e máxima nos termos estabelecidos para cada cargo de acordo com a complexidade, assim como o previsto em quantos dos seguintes itens? **I.** Gozar dos direitos políticos; **II.** Ter o nível de escolaridade exigido para o exercício do cargo; **III.** Estar quite com as obrigações militares e eleitorais.

- (A) Nenhum deles.
- (B) Apenas 1 deles.
- (C) Apenas 2 deles.
- (D) Todos os 3.

### CONHECIMENTOS ESPECÍFICOS

**Questão 15.** Um Operador precisa conduzir um trator carregado descendo uma ladeira íngreme no canteiro de obras do Município. Para garantir a segurança operacional e evitar acidentes com o maquinário, assinale a alternativa que apresenta a ação CORRETA.

- (A) Descer com a transmissão em ponto morto para economizar combustível.
- (B) Desacoplar a embreagem durante toda a descida para aliviar o esforço do motor.
- (C) Utilizar uma marcha mais rápida do que a que seria necessária para subir o declive.
- (D) Conduzir o trator sempre engrenado, utilizando a mesma marcha que usaria para subir.

**Questão 16.** Ao final da jornada de trabalho, o Operador deve pôr em prática as medidas de segurança recomendadas para o estacionamento de máquinas autopropelidas. Com base nos procedimentos operacionais seguros, assinale a alternativa CORRETA.

- (A) Estacionar a máquina em taludes íngremes e manter o motor funcionando continuamente na rotação de marcha lenta.
- (B) Desligar o motor mantendo a caçamba ou a lâmina erguida a um metro do solo para facilitar a manutenção no dia seguinte.
- (C) Baixar a caçamba ou a lâmina completamente até o solo, acionar o freio de estacionamento, desligar o motor e retirar a chave.
- (D) Apoiar e manter o peso do chassi da máquina sustentado de forma a ficar suspenso sob a força dos braços hidráulicos.

**Questão 17.** Um Operador de retroscavadeira precisa realizar um ligeiro reparo na parte inferior de sua máquina no canteiro de obras. De acordo com as normas de segurança da NR-18, durante essa atividade de manutenção, é expressamente proibido:

- (A) Posicionar o trator em superfície plana e horizontal antes de iniciar o conserto.
- (B) Manter a máquina sustentada e suspensa apenas por seus braços ou cilindros hidráulicos.
- (C) Desligar o motor a combustão e retirar a chave de ignição da cabine do trator.
- (D) Utilizar cavaletes ou calços mecânicos rígidos para apoiar a estrutura do chassi.

**Questão 18.** O sistema de combustível do motor diesel é altamente sensível à água e às impurezas. Para evitar danos sérios à bomba injetora e aos bicos, qual procedimento diário o Operador deve realizar?

- (A) A drenagem do copo sedimentador para eliminar a água acumulada por decantação.
- (B) A limpeza sob pressão do coletor de admissão de ar para evaporar a umidade.
- (C) A lavagem com óleo diesel do elemento filtrante de feltro secundário de segurança.
- (D) A substituição total do óleo lubrificante do cárter de manivelas do motor.

**Questão 19.** Para que a verificação diária do nível de óleo lubrificante do motor diesel por meio da vareta seja feita de forma CORRETA e sem leituras falsas, o Operador deve posicionar a máquina sobre uma superfície:

- (A) Inclinação, com o motor funcionando em marcha lenta para facilitar o escoamento.
- (B) Plana e horizontal, com o motor acelerado na rotação máxima de trabalho.
- (C) Plana e horizontal, com o motor desligado e frio.
- (D) De terra fofa, com o motor ligado na marcha neutra.

**Questão 20.** O sistema de transmissão do trator transfere o movimento do motor para as rodas. Acerca do uso correto do bloqueio do diferencial nessa transmissão, assinale a alternativa CORRETA.

- (A) O bloqueio deve ser mantido permanentemente acionado nos traslados rápidos em asfalto.
- (B) O dispositivo serve para igualar as rotações das rodas traseiras quando o trator faz curvas.
- (C) O bloqueio do diferencial deve ser aplicado estritamente quando o trator se desloca em linha reta.
- (D) A sua alavanca destina-se a desacoplar o motor para facilitar a troca de marchas.