



OPERÁRIO




Município de Progresso/RS
Concurso Público 01/2026


PROVA TEÓRICO-OBJETIVA

 3 horas

20 questões

 4 alternativas

 Saída permitida somente após
1 hora de prova

 O candidato só poderá levar
este Caderno após 2 horas de
prova

INSTRUÇÕES



Confira se esse Caderno de Prova contém a quantidade de questões indicadas. A substituição deste Caderno de Prova ocorre apenas antes de iniciar a prova.

- ▣ O tempo de prova inclui o preenchimento do Cartão-Resposta.
- ▣ Nenhuma informação acerca do conteúdo das questões será fornecida pelo Fiscal de Sala, pois é parte integrante da prova.
- ▣ Antes de sair da Sala de Prova, entregue o Cartão-Resposta ao Fiscal de Sala, **devidamente assinado**, e, após, se desloque imediatamente para a saída do local de prova.
- ▣ Ao final da prova, os 03 (três) últimos candidatos deverão permanecer na Sala de Prova até que o último termine a sua prova, devendo ambos testemunhar a devolução e o lacre dos documentos.
- ▣ A divulgação do gabarito preliminar se dará conforme Cronograma de Execução do certame.

TODOS OS DIREITOS RESERVADOS AO INSTITUTO LEGALLE. PROIBIDO REPRODUÇÃO.

RASCUNHO PARA GABARITO

01		06		11		16	
02		07		12		17	
03		08		13		18	
04		09		14		19	
05		10		15		20	

LÍNGUA PORTUGUESA

Para responder às questões 01 a 04, leia a charge abaixo.

43% DAS ESCOLAS NÃO TÊM LUGAR PARA ALUNOS LAVAREM AS MÃOS...



Fonte: Cazo.

Questão 01. A graça e a crítica da charge surgem do fato de o menino:

- (A) Ter faltado à aula no dia em que a professora ensinou a lavar as mãos.
- (B) Preferir brincar na lama a lanchar com sua família na cozinha.
- (C) Ter aprendido a lavar as mãos apenas na teoria, por falta de pias na escola.
- (D) Não gostar de usar água e sabão por achar que a sujeira protege a pele.

Questão 02. A palavra **escolas**, presente no título da charge, possui uma sílaba tônica (a sílaba pronunciada com mais força). Quanto à posição dessa sílaba, a palavra **escolas** é classificada como:

- (A) Oxítona.
- (B) Paroxítona.
- (C) Proparoxítona.
- (D) Monossílaboônico.

Questão 03. Assinale a alternativa que apresenta a CORRETA separação de sílabas da palavra **corretamente**, dita pelo menino na charge.

- (A) co-rre-ta-men-te.
- (B) cor-re-ta-me-nte.
- (C) cor-re-ta-men-te.
- (D) corr-e-ta-men-te.

Questão 04. Na palavra **professora**, presente na fala do menino, o grupo de letras **ss** representa um único som na pronúncia. Esse grupo de duas letras que representa apenas um som é chamado de:

- (A) Encontro consonantal.
- (B) Dígrafo.
- (C) Ditongo.
- (D) Hiato.

MATEMÁTICA

Questão 05. Para uma auditoria, um servidor distribuiu um lote de processos entre três salas. A primeira sala recebeu o dobro de processos da segunda sala. A terceira sala recebeu o triplo de processos da primeira sala. Sabendo que a diferença entre a quantidade de processos recebidos pela terceira sala e pela segunda sala é exatamente 105 processos, determine o total de processos administrativos que foram inicialmente distribuídos pelo servidor entre as três salas disponíveis e assinale a alternativa com a resposta CORRETA.

- (A) 189.
- (B) 147.
- (C) 126.
- (D) 210.

Questão 06. Um almoxarifado recebeu pacotes contendo resumos normativos. O número total de livretos recebidos é maior do que 340 e menor do que 390. Ao tentar organizar esses livretos em blocos de 12 unidades, sobram exatamente 5 livretos. Ao tentar organizá-los em blocos de 15 unidades, também sobram exatamente 5 livretos. Diante dessa situação de armazenamento, determine a soma dos algarismos que formam o número exato de livretos contidos nesse lote do almoxarifado e assinale a alternativa com a resposta CORRETA.

- (A) 8.
- (B) 10.
- (C) 5.
- (D) 14.

Questão 07. Um setor de compras adquiriu um lote contendo apenas cadeiras e mesas para os novos servidores. Cada cadeira custou exatamente R\$ 200,00 e cada mesa custou exatamente R\$ 500,00. Sabendo que o setor comprou um total de 30 móveis e desembolsou a quantia exata de R\$ 9.000,00 por toda a compra, determine a diferença positiva entre a quantidade de cadeiras e a quantidade de mesas que foram adquiridas pela administração nesse lote, e assinale a alternativa com a resposta CORRETA.

- (A) 20.
- (B) 15.
- (C) 10.
- (D) 5.

UTILIZE ESTE ESPAÇO PARA CÁLCULOS

UTILIZE ESTE ESPAÇO PARA CÁLCULOS

ATUALIDADES

Questão 08. Como são chamados oficialmente os cidadãos que nascem no município de Progresso, conforme os dados de registro demográfico do IBGE?

- (A) Progressistas.
- (B) Progressanos.
- (C) Progressenses.
- (D) Progressinos.

Questão 09. Segundo o levantamento de dados ambientais divulgado pelo Instituto Brasileiro de Geografia e Estatística (IBGE), qual é o bioma predominante que recobre o território do município de Progresso?

- (A) Cerrado.
- (B) Pampa.
- (C) Mata Atlântica.
- (D) Caatinga.

Questão 10. A economia local de Progresso é historicamente sustentada pela força do trabalho rural. Conforme os registros da Prefeitura, quais são os dois principais produtos cultivados que servem como a base financeira do município?

- (A) Milho e fumo.
- (B) Café e soja.
- (C) Trigo e algodão.
- (D) Arroz e cana-de-açúcar.

LEGISLAÇÃO

Questão 11. Sabe-se que o território do Município pode ser dividido em Distritos, criados, organizados e suprimidos por Lei Municipal, observada a Legislação Estadual e a Lei Orgânica. Além disso, as circunstâncias urbanas classificam-se, na forma da legislação pertinente, em centro, bairros, distritos e/ou:

- (A) Vilas.
- (B) Vilarejos.
- (C) Comunidades.
- (D) Linhas.

Questão 12. Pode-se afirmar, de acordo com o que é determinado na Lei Orgânica, que são competências do Município, no exercício da sua autonomia, disciplinar os serviços de cargas e descargas e a fixação de tonelage máxima permitida a veículos que circulam no município, assim como manter a cooperação técnica e financeira da União e do Estado em programas de:

- (A) Educação infantil e de ensino fundamental.
- (B) Ensino fundamental e de ensino médio.
- (C) Educação infantil e de educação para jovens e adultos.
- (D) Educação infantil, de ensino fundamental e de ensino médio.

Questão 13. A investidura em cargo público depende de aprovação prévia em _____ de provas ou de provas e títulos, de acordo com a natureza e a complexidade do cargo, na forma prevista em Lei, ressalvadas as nomeações para cargo em comissão declarado em lei de livre nomeação e exoneração.

Com base no Regime Jurídico Único dos Servidores Públicos do Município, preenche CORRETAMENTE a lacuna:

- (A) sorteio público.
- (B) concurso público.
- (C) consórcio público.
- (D) rateio público.

Questão 14. O Regime Jurídico Único dos Servidores Públicos do Município traz que são requisitos básicos para investidura em cargo público ser brasileiro, nato ou naturalizado, ou estrangeiro, na forma da lei, além de ter idade mínima de dezoito anos e máxima nos termos estabelecidos para cada cargo de acordo com a complexidade, assim como o previsto em quantos dos seguintes itens? **I.** Gozar dos direitos políticos; **II.** Ter o nível de escolaridade exigido para o exercício do cargo; **III.** Estar quite com as obrigações militares e eleitorais.

- (A) Nenhum deles.
- (B) Apenas 1 deles.
- (C) Apenas 2 deles.
- (D) Todos os 3.

CONHECIMENTOS ESPECÍFICOS

Questão 15. No canteiro de obras públicas da Prefeitura, o Operário desenvolve atividades de apoio ao pedreiro, misturando materiais de construção para calçamento e pavimentação. O concreto é o material resultante da mistura de cimento, _____, brita e água, enquanto a argamassa comum é a mistura de cimento, _____ e água (com ou sem cal).

Preenche, CORRETA e respectivamente, as lacunas:

- (A) arenoso - pedra de mão.
- (B) areia - areia.
- (C) cal - arenoso.
- (D) gesso - brita.

Questão 16. O Operário foi escalado para realizar as tarefas diárias de zeladoria e higienização dos banheiros públicos localizados na Prefeitura Municipal. Diante disso, analise os seguintes procedimentos de limpeza:

- I. A lavagem do banheiro deve ser realizada iniciando-se pela entrada da porta em direção ao fundo, sendo a limpeza do vaso sanitário a primeira etapa a ser concluída.
- II. A mistura de diferentes produtos químicos de limpeza (como cloro e desinfetante) dentro de um mesmo balde é proibida, pois pode gerar gases altamente tóxicos.
- III. O uso de Equipamentos de Proteção Individual (EPIs), como luvas grossas de borracha e botas impermeáveis, é obrigatório para evitar o contágio biológico e químico.

Está CORRETO o que se afirma em:

- (A) Apenas I.
- (B) Apenas II.
- (C) Apenas II e III.
- (D) I, II e III.

Questão 17. No recolhimento de resíduos volumosos e entulhos de obras descartados de forma irregular nas praças públicas, o Operário lida diariamente com materiais pesados e perigosos. Acerca disso, assinale a alternativa CORRETA.

- (A) O uso de luvas de segurança e calçados fechados de borracha com biqueira é obrigatório para evitar ferimentos graves com materiais perfurocortantes.
- (B) Os Equipamentos de Proteção Individual (EPIs) podem ser dispensados se o Operário realizar a coleta de entulho apenas em terrenos de terra fofa.
- (C) O capacete de segurança é o equipamento projetado especificamente para proteger os dedos e as mãos do Operário contra cortes e abrasão.
- (D) O Operário deve carregar sacos plásticos contendo restos de vidros e ferros encostando-os diretamente contra o seu peito para diminuir o esforço nas costas.

Questão 18. Ao realizar a limpeza urbana de um terreno baldio do Município, o Operário precisa retirar o mato que está crescendo desordenadamente junto às cercas e meios-fios. A capinação manual com destoca é a técnica em que o Operário realiza a retirada _____ da planta invasora, garantindo que as _____ também sejam removidas do solo para evitar que o mato cresça de novo.

Preenche, CORRETA e respectivamente, as lacunas:

- (A) parcial - folhas.
- (B) química - sementes.
- (C) total - raízes.
- (D) superficial - flores.

Questão 19. As atividades rotineiras de limpeza urbana mantêm as vias públicas organizadas e seguras contra alagamentos causados pelo acúmulo de detritos nos bueiros e bocas de lobo. Diante disso, analise as condutas relativas a essa atividade:

- I. A limpeza das bocas de lobo e bueiros garante o perfeito escoamento das águas pluviais, impedindo que materiais sólidos fiquem retidos e obstruam as galerias de drenagem da rua.
- II. O Operário deve colocar todo o lixo recolhido nas calçadas diretamente para o interior dos ralos de chuva, pois esse procedimento acelera o serviço e economiza sacos plásticos.
- III. A desobstrução e a remoção de terra acumulada em bueiros e ralos devem ser executadas com maior frequência nos períodos chuvosos e após temporais.

Está CORRETO o que se afirma em:

- (A) Apenas I.
- (B) Apenas II.
- (C) Apenas I e III.
- (D) I, II e III.

Questão 20. O descarte de resíduos vegetais gerados pelas atividades de capina, roçada e podas de árvores nas ruas da cidade deve ser planejado para evitar danos à natureza. Os restos de capim e folhas recolhidos devem ser encaminhados para pontos apropriados, onde serão reaproveitados para adubação por meio do processo de _____. Por outro lado, o lixo vegetal deixado em montes nas encostas provoca o _____ de canais e rios, o que causa alagamentos em períodos de fortes chuvas.

Preenche, CORRETA e respectivamente, as lacunas:

- (A) incineração - vazamento químico.
- (B) compostagem - assoreamento.
- (C) quarteamento - aterro industrial.
- (D) calagem - deslizamento seco.